

تم تحميل هذا الملف من موقع المناهج الكويتية



التوجيه الفني العام

الملف نموذج اختبار تقويمي مرفق بالإجابة (نموذج 2)

[موقع المناهج](#) ← [المناهج الكويتية](#) ← [الصف الثاني](#) ← [رياضيات](#) ← [الفصل الأول](#)

روابط مواقع التواصل الاجتماعي بحسب الصف الثاني



روابط مواد الصف الثاني على تلغرام

[الرياضيات](#)

[اللغة الانجليزية](#)

[اللغة العربية](#)

[التربية الاسلامية](#)

المزيد من الملفات بحسب الصف الثاني والمادة رياضيات في الفصل الأول

[التقريب الى اقرب عشرة في مادة الرياضيات](#)

1

[التقريب الى اقرب عشرة في مادة الرياضيات 4](#)

2

[ورقة عمل في مادة الرياضيات](#)

3

[ورقة عمل المكعبات في مادة الرياضيات](#)

4

[ورقة عمل مقارنة في مادة الرياضيات](#)

5



نموذج (١)
الاختبار التقويمي (٢)
للصف الثاني في مادة الرياضيات
الفصل الدراسي الأول للعام الدراسي ٢٠٢٤ / ٢٠٢٥ م



السؤال الأول :

رتب الأعداد التالية (من الأكبر إلى الأصغر) .

٩٠

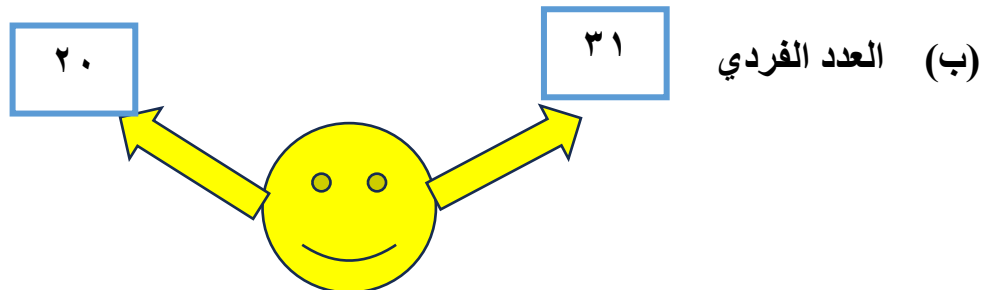
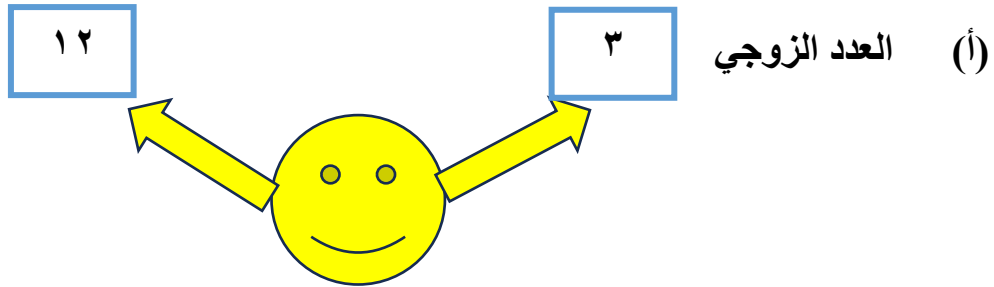
٤٨

٨٩

| | | |
|--|--|--|
| | | |
|--|--|--|

السؤال الثاني :

حوظ .



انتهت الأسئلة،،،



إجابة نموذج (١)
الاختبار التقويمي (٢)
للصف الثاني في مادة الرياضيات
الفصل الدراسي الأول للعام الدراسي ٢٠٢٤ / ٢٠٢٥ م



السؤال الأول :

رتب الأعداد التالية (من الأكبر إلى الأصغر) .

٩٠

٤٨


٨٩

٤٨ ٨٩ ٩٠




السؤال الثاني :

حوظ .



(أ) العدد الزوجي



(ب) العدد الفردي

انتهت الأسئلة,,,,,,




نموذج (٢)
الاختبار التقويمي (٢)
للفصل الثاني في مادة الرياضيات
الفصل الدراسي الأول للعام الدراسي ٢٠٢٤ / ٢٠٢٥ م



السؤال الأول :

اكتب القيمة المكانية للرقم الذي وضع تحته خط .



موقع
المنهج الكويتية
almanahj.com/kw

السؤال الثاني : لون الإجابة الصحيحة .

(أ) رمز العدد **سبعون**

٨٠

٧٠

٧

(ب) العدد الزوجي هو

١٠

٤٥

٩

انتهت الأسئلة،،،



إجابة نموذج (٢)
الاختبار التقويمي (٢)
للمصف الثاني في مادة الرياضيات
الفصل الدراسي الأول للعام الدراسي ٢٠٢٤ / ٢٠٢٥ م



السؤال الأول :

اكتب القيمة المكانية للرقم الذي وضع تحته خط .



موقع
المنهج الكويتية
almanahi.com/kw

السؤال الثاني : لون الإجابة الصحيحة .



(أ) رمز العدد



(ب) العدد الزوجي هو



انتهت الأسئلة،،،