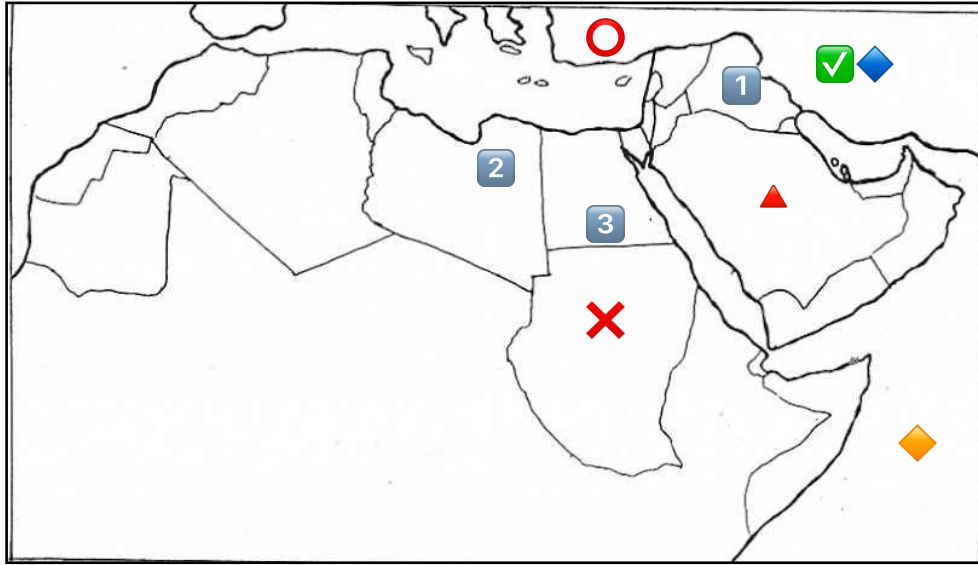
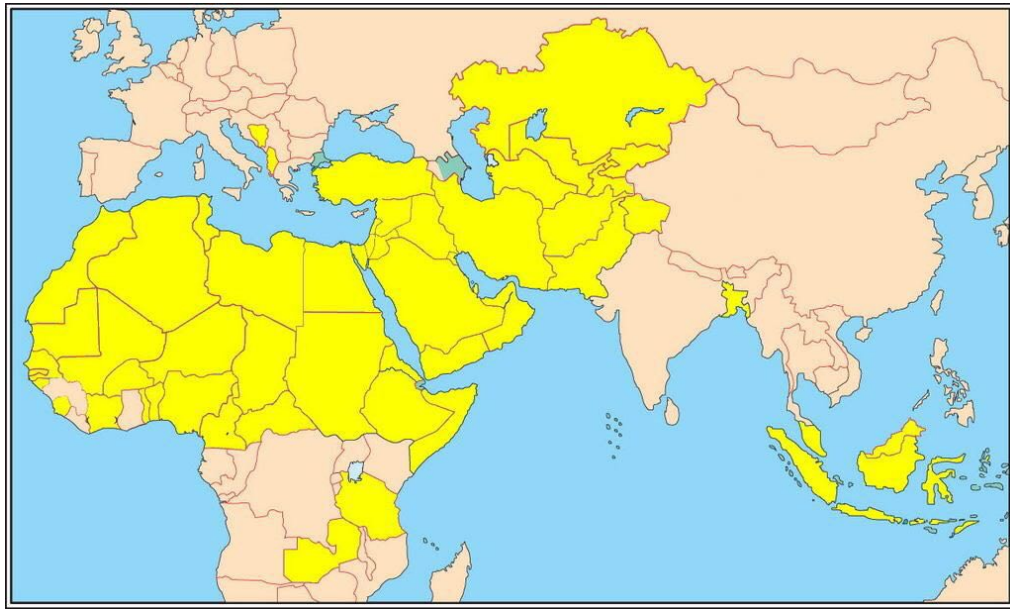


## تدريب على خرائط الصف الثامن



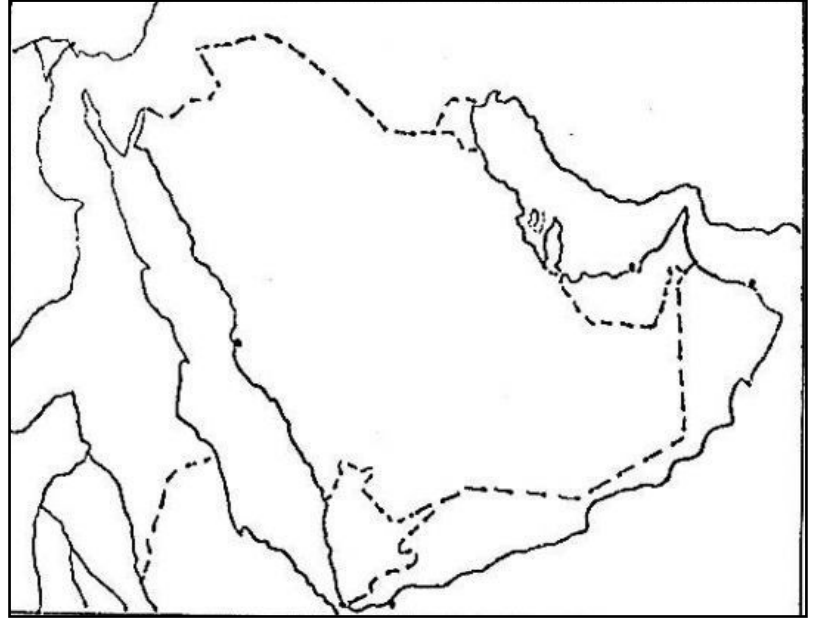
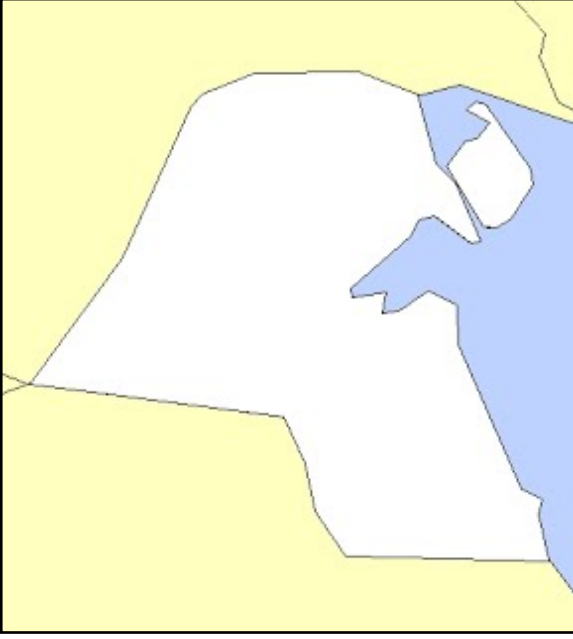
أكمل الفراغات التالية بما يناسبها مستعينة بخريطة العالم الاسلامي الصماء :

- ١- يمثل الرمز مسطح مائي يسمى .....
- ٢- يمثل الرمز دولة مشهورة في انتاج .....
- ٣- يمثل الرمز هضبة تسمى .....
- ٤- يمثل الرمز سهل يسمى .....
- ٥- يمثل الرمز جبل يسمى .....
- ٦- يمثل الرمز سهل يسمى .....
- ٧- يمثل الرمز جبل يسمى .....
- ٨- يمثل الرمز هضبة تسمى .....
- ٩- يمثل الرمز جبل يسمى .....
- ١٠- ارسمي خط الاستواء



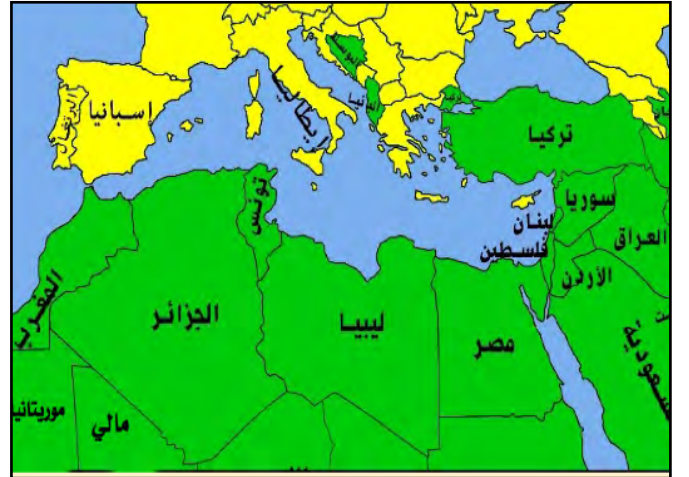
أكمل الفراغات التالية بما يناسبها مستعينة بخريطة العالم الاسلامي الصماء :

- ١- الرمز الذي يمثل أكبر الدولة الإسلامية مساحة هو .....
- ٢- الرمز الذي يمثل الدولة الأولى في انتاج معدن الذهب هو .....
- ٣- الرمز الذي يمثل الدولة التي حصلت على المركز الثاني في الانتاج البحري هو .....
- نفذي المطلوب منك :
- ١- حددي موقع البحر الأسود بالرمز
- ٢- حددي موقع بحر قزوين بالرمز
- ٣- حددي موقع بحر آرال بالرمز
- ٤- حددي موقع جزر الموقع بالرمز
- ٥- حددي موقع المرصد الفلكي بالرمز
- ٦- حددي موقع بيت الحكمة بالرمز
- ٧- ارسمي (خط الاستواء - مدار السرطان - مدار الجدي)



حددي على خريطة دولة الكويت  
مايلي:  
-اسم المسطحات المائية التي تطل  
عليها  
-أسماء التلال الموجودة في دولة  
الكويت  
-أسم الدول المجاورة

حددي على خريطة شبه الجزيرة العربية قديما  
مايلي:  
-موقع المدينة المنورة بالشكل ●  
-أسماء الحضارات المجاورة للحضارة  
الإسلامية  
-أسماء المسطحات المائية التي تطل عليها



حددي مراكز إشعاع الحضارة الإسلامية  
على خريطة العالم القديمة :  
١- صقلية بالرمز ●  
٢- الأندلس ●  
٣- بلاد الشام ●

حددي مراكز إشعاع الحضارة الإسلامية  
على خريطة العالم الحديثة :  
١- صقلية بالرمز ●  
٢- الأندلس ●  
٣- بلاد الشام ●

[WWW.KweduFiles.Com](http://WWW.KweduFiles.Com)