



وزارة التربية
MINISTRY OF EDUCATION



دليل الاجتماعيات الإلكترونية

للمرحلة المتوسطة

إعداد

الصف السادس

أ. إيمان فهد العجمي
أ. أسامة عبدالله بكري
أ. أسرار محمد الشمري
أ. أسارة مبارك المعصب
أ. حصة ناصر المطيرات
أ. مريم فهد المطيري
أ. مها خالد البيدان
أ. موضي سعد العتيبي
أ. نورة عماد العنزي
أ. وديان عبدالله المطيري

الصف السابع

أ. غدير ناصر العازمي
أ. فاطمة مخلف المويزي
أ. مساعد رذن المطيري
أ. أنوار الرشيد
أ. جلال عبد الحافظ
أ. زينب علي الأشوك
أ. شهد علي النومس
أ. وضحة الروقي

تحت إشراف

الموجه الفني الأول للاجتماعيات

أ. دلال محمد الأنصاري

إشراف ومراجعة

الصف السابع

الموجه الفني: أ. حمد إبراهيم البحوه
الموجه الفني: أ. عبد الرحمن العنزي
الموجه الفني: أ. نوير سعد الخالدي
المعلمة: أ. غدير ناصر العازمي

الصف السادس

الموجه الفني: أ. شريفة خلف عويد الطواله الشمري
الموجه الفني: أ. عهود لافي المطيري
الموجه الفني: أ. أميمة محمد عبدالعزيز
المعلمة: أ. غدير ناصر العازمي

طباعة وتنسيق

أ. زينب علي الأشوك



الاقتراحات والملاحظات

ssfarkuwait@gmail.com

جميع الحقوق محفوظة



Fr_Social

الوحدة الاولى

اولا : الخصائص الطبيعية لمنطقة الخليج العربية

ثانيا : الخصائص البشرية لمنطقة الخليج العربية

قديمًا

السؤال الأول : أملئ العبارات التالية بما يناسبها فيما درست:-

- ١- تقع منطقة الخليج العربية في موقع جغرافي مهم في الجهة **الجنوبية الغربية**. من قارة آسيا. ص ١٩
- ٢- تكمن أهمية منطقة الخليج كونها تقع في وسط العالم وتتحكم بأهم طرق **التجارة العالمية**. ص ١٩
- ٣- الذراع المائي لبحر لعرب يمتد من خليج عمان جنوبا حتى شط العرب شمالا يسمى **الخليج العربي**.. ص ١٩
- ٤- الموقع بالنسبة لخطوط الطول ودوائر العرض يسمى **الموقع الفلكي**. ص ٢٠
- ٥- الموقع بالنسبة للماء واليابس يسمى **الموقع النسبي**. ص ٢٠
- ٦- خطوط وهمية تقسم الكرة الأرضية الى قسمين شمالي وجنوبي عددها ١٨٠ **دوائر العرض** ص ٢١
- ٧- خطوط وهمية تقسم الكرة الأرضية الى قسمين شرقي وغربي عددها ٣٦٠ **خطوط الطول**.. ص ٢١
- ٨- ارض مرتفعة سطحها مستوي وتمتد مساحة كبيرة تسمى **الهضبة**... ص ٢٣
- ٩- هضبة تقع في وسط الجزيرة العربية تسمى **هضبة نجد**..... ص ٢٣
- ١٠- كل ما هو مرتفع له قمة لا يقل ارتفاعه عن ١٠٠٠ متر تقريبا يسمى **الجبل**. ص ٢٣
- ١١- أجزاء فسيحة من سطح الأرض تتميز باستوائها وقلة ارتفاعها تسمى **السهول** ... ص ٢٣
- ١٢- يتصف مناخ دول الخليج العربية بأنه **صحراوي قاري**.. ص ٢٥
- ١٣- تهب على منطقة الخليج العربي ثلاثة أنواع من الرياح هي الرياح الشمالية و **الزوابع** و **الكوس** ص ٢٥
- ١٤- من النباتات الطبيعية بدول الخليج العربية النبات المعمر و **النبات الحولي** ... ص ٢٦
- ١٥- المياه التي توجد في باطن الأرض تسمى **المياه الجوفية** ص ٢٨
- ١٦- تبلغ درجة الحرارة في دول الخليج بالصيف اكثر من **٤٠** درجة مئوية ص ٢٥
- ١٧- تسقط الأمطار بفصل الصيف علي سلطنة عمان بمنطقة **الجبل الاخضر** .. ص ٢٥
- ١٨- تقع شبه الجزيرة العربية بالنسبة لمسطح الخليج العربي بالجهة **الغربية** ... ص ٢٢
- ١٩- تنخفض درجة الحرارة في دول الخليج العربية في الشتاء إلي اقل من **٤** درجات مئوية ص ٢٥

- ٢٠- حالة الجو في مكان ما خلال فترات زمنية طويلة تسمى **المناخ** .. ص ٢٥
- ٢١- نباتات متوفرة طوال العام تتحمل الجفاف وارتفاع درجة الحرارة تسمى **النبات المعمر**.. ص ٢٦
- ٢٢- نباتات يرتبط وجودها بموسم سقوط الامطار تسمى **النبات الحولي** ... ص ٢٦
- ٢٣- من أمثلة الحيوانات المستأنسة في منطقة الخليج العربي الابل والاعنام/ الماعز ص ٢٦
- ٢٤- تعتبر الزواحف والضب والثعبان والسحلية من أمثلة الحيوانات **غير مستأنسة** .. ص ٢٦
- ٢٥- تتصف حياة السكان في البيئة الصحراوية بأنها قاسية و **خشنة** ص ٢٧
- ٢٦- من أهم البضائع التي تستوردها دول الخليج العربية قديما الشاي و الأرز و السكر و **التوابل** ص ٣٤
- ٢٧- أشهر السفن في دول الخليج العربية قديما البوم و البغلة و السنبوك و الجالبوت و **الشوعي** ص ٣٣
- ٢٨- الحرفة التي تعتمد على ما ينمو من نباتات و حشائش بعد سقوط المطر تسمى **الرعي** ص ٢٨
- ٢٩- أهم الحرف اليدوية التي مارسها سكان دول الخليج العربية خياطة البشوت و صناعة الخوص و **حياكة السدو** ص ٣٠
- ٣٠- بداية موسم الغوص على اللؤلؤ في دول الخليج العربية تسمى **الدشة** ونهايته تسمى **القفال** ص ٣٢
- ٣١- يطلق على صانع السفينة اسم **القلاب** ص ٣٣
- ٣٢- أفضل أنواع السفن المستعملة في رحلة السفر تسمى **سفينة البغلة** ص ٣٤
- ٣٣- من أنواع الغلات الزراعية في دول الخليج العربية **التمور** و **الخضروات الورقية** ص ٢٨
- ٣٤- أشهر الحرف التي مارسها أبناء منطقة الخليج العربية تسمى **الغوص على اللؤلؤ** ص ٣١
- ٣٥- من وسائل صيد الأسماك في دول الخليج العربي قديما **الخطرة** و **الميدار** و **القرقور** ص ٣١
- ٣٦- يبدأ موسم الغوص على اللؤلؤ في شهر **يونيو** و ينتهي في شهر **سبتمبر** ص ٣٢
- ٣٧- يستمر موسم الغوص على اللؤلؤ في دول الخليج العربية لمدة **٤ أشهر** ص ٣٢
- ٣٨- الحرفة التي تعتبر أساسية و مكملة للأنشطة البحرية تسمى **صناعة السفن** ص ٣٣
- ٣٩- من أهم البضائع التي تصدرها دول الخليج العربية قديما تسمى **التمور** ص ٣٤

السؤال الثاني : ضع خطا تحت الخيار الصحيح من بين الخيارات التي تلى كل عبارة :

١-مسطح مائي يحد شبة الجزيرة العربية شرقا : ص ١٩

(البحر الأحمر - بحر العرب - **الخليج العربي** - المحيط الهادي)

٢-سهل يوجد علي ساحل الخليج العربي :ص ٢٣

(الباطن - الإحساء - **الدببة** - الفرات)

٣- تقع شبة الجزيرة العربية بالنسبة لقارة آسيا في الجهة: ص ٢٢

(الشمالية الغربية - **الجنوبية الغربية** - الشمالية الشرقية - الجنوبية الشرقية).

٤- موقع الدولة بالنسبة لخطوط الطول ودوائر العرض هو: ص ٢٠

(الموقع النسبي - الموقع المكاني - **الموقع الفلكي** - الموقع التجاري).

٥- موقع الدولة بالنسبة للماء واليابس هو: ص ٢٠

(**الموقع الفلكي** - **الموقع النسبي** - **الموقع التجاري** - **الموقع المكاني**)

٦- تقسم خطوط الطول الكرة الأرضية الى قسمين : ص ٢١

(شمالي وشرقي- جنوبي وشمالي - **شرقي وغربي** - جنوبي وغربي)

٧- تقسم دوائر العرض الكرة الأرضية الى قسمين: ص ٢١

(شمالي وشرقي- **جنوبي وشمالي** - شرقي وغربي - جنوبي وغربي)

٨- أرض مرتفعة سطحها مستوي وتمتد مساحة كبيرة هي : ص ٢٣

(الجبل - **الهضبة** - السهل - التل)

٩- أجزاء فسيحة من سطح الأرض تتميز باستوائها وقلة ارتفاعها : ص ٢٣

(الهضبة - الجبل - **السهل** - التل)

١٠- يتميز مناخ منطقة الخليج العربية بأنه : ص ٢٥

(بارد شتاء بارد صيفا - بارد صيفا حار شتاء - معتدل صيفا معتدل شتاء - **حار صيفا دافئ شتاء**)

١١- من أنواع النباتات المعمرة: ص ٢٦

(الخبيزة - العنصيل - الحويذان - العرفج)

١٢- من أنواع النباتات الحولية : ص ٢٦

(الصبار - العرفج - الثندا - العنصيل)

١٣- من الحيوانات المستأنسة في منطقة الخليج العربية : ص ٢٦

(الزواحف - الضب - الذناب - الماعز)

١٤- من الحيوانات البرية في منطقة الخليج العربية : ص ٢٦

(الضب - الابل - الغزلان - الثعبان)

١٣- الحرفة التي تعتمد على ما ينمو من نباتات و حشائش بعد سقوط الأمطار : ص ٢٨

أ- الزراعة ب- الرعي ج- الحرف اليدوية د- التجارة

١٤- من أنواع الغلات الزراعية في دول الخليج العربية : ص ٢٨

أ- التمور والخضروات الورقية ب- الأرز ج- السكر د- التوابل

١٥- من وسائل الصيد القديمة في دول الخليج العربية : ص ٣١

أ- السنبوك ب- النهام ج- الميدار د- الشوعي

١٦- من الحرف اليدوية القديمة التي مارسها أبناء منطقة الخليج العربية : ص ٢٩

أ- التجارة ب- صناعة الخوص ج- صيد الأسماك د- صناعة السفن

١٧- يطلق على صانع السفينة قديما : ص ٣٣

أ- النوخدة ب- الطواش ج- السيب د- القلاف

١٨- الفترة الزمنية التي يستمر فيها موسم الغوص على اللؤلؤ : ص ٣٢

أ- ٣ أشهر ب- ٤ أشهر ج- ٥ أشهر د- ٦ أشهر

- ١٩- أفضل أنواع السفن المستعملة في رحلة السفر : ص ٣٤
أ- البغلة ب- السنبوك ج- الجالبوت د- البوم
- ٢٠- الأنشطة البرية التي مارسها سكان منطقة الخليج العربية : ص ٢٨
أ- صيد الاسماك ب- البضائع المستوردة ج- الزراعة د- صناعة السفن
- ٢١- يبدأ موسم الغوص على اللؤلؤ في شهر : ص ٣٢
أ- مايو ب- يونيو ج- يوليو د- اغسطس
- ٢٢- الحرفة التي تعتبر مكملة و أساسية للأنشطة البحرية : ص ٣٣
أ- صيد الاسماك ب- صناعة السفن ج- الغوص على اللؤلؤ د- التجارة البحرية
- ٢٣- أهم البضائع التي تستوردها دول الخليج العربية قديما : ص ٣٤
أ- السكر ب- التمور ج- الخضروات د- اللؤلؤ
- ٢٤- الأنشطة البحرية التي مارسها أبناء منطقة الخليج العربية : ص ٣٣
أ- الرعي ب- الحرف اليدوية ج- صناعة السفن د- الزراعة
- ٢٥- ينتهي موسم الغوص على اللؤلؤ في شهر : ص ٣٢
أ- اغسطس ب- سبتمبر ج- اكتوبر د- نوفمبر
- ٢٦- أشهر الحرف التي مارسها أبناء منطقة الخليج العربية قديما : ص ٣١
أ- التجارة البحرية ب- التجارة البرية ج- الغوص على اللؤلؤ د- الزراعة

السؤال الثالث : أكتب المفاهيم او المصطلحات الدالة على العبارات التالية :

المفهوم	العبرة
الخليج العربي	الذراع المائي لبحر لعرب يمتد من خليج عمان جنوبا حتى شط العرب شمالا ص ١٩
الموقع الفلكي	الموقع بالنسبة لخطوط الطول ودوائر العرض ص ٢٠
موقع النسبي	الموقع بالنسبة لليابسة والماء . ص ٢٠
دوائر العرض	خطوط وهمية تقسم الكرة الأرضية الى قسمين شمالي وجنوبي عددها ١٨٠ خطا. ص ٢١
خطوط الطول	خطوط وهمية تقسم الكرة الأرضية الى قسمين شرقي وغربي عددها ٣٦٠ خطا. ص ٢١
الهضبة	ارض مرتفعة سطحها مستوي وتمتد مساحة كبيرة ص ٢٣
الجبل	كل ما هو مرتفع له قمة لا يقل ارتفاعه عن ١٠٠٠ متر تقريبا ص ٢٣
السهول	أجزاء فسيحة من سطح الأرض تتميز باستوائها وقلة ارتفاعها ص ٢٣
المناخ	حالة الجو في مكان من خلال فترات زمنية طويلة . ص ٢٥
النبات المعمر	نباتات متوفرة طوال العام تتحمل الجفاف وارتفاع درجات الحرارة. ص ٢٦
النبات الحولي	نباتات يرتبط وجودها بموسم سقوط الامطار ص ٢٦
الواحة	منطقة تقع في الصحراء فيها مياه عذبة صالحة للزراعة . ص ٢٩
المسطحات المائية	أشكال المياه على سطح الأرض من بحار و محيطات و خلجان و بحيرات و انهار . ص ٣٤
المياه الجوفية	المياه التي توجد في باطن الأرض . ص ٢٨
الدشة	بداية موسم الغوص على اللؤلؤ . ص ٣٢
القفال	نهاية موسم الغوص على اللؤلؤ . ص ٣٢

السؤال الرابع : صوب ما تحته خط في العبارات التالية :

التصويب	العبرة
يونيو ص ٣٢	يبدأ موسم الغوص على اللؤلؤ في شهر <u>ابريل</u>
صناعة الخوص / حياكة السدو / خياطة البشوت ص ٢٩	من الحرف اليدوية التي مارسها سكان منطقة الخليج العربية <u>صيد الأسماك</u>
٤ اشهر ص ٣٢	يستمر موسم الغوص على اللؤلؤ لمدة <u>٦ أشهر</u>
التمور ص ٣٤	أهم البضائع التي تصدرها دول الخليج العربية قديما هي <u>السكر</u>
الدشة ص ٣٢	بداية موسم الغوص على اللؤلؤ تسمى <u>القفال</u>
سبتمبر ص ٣٢	ينتهي موسم الغوص على اللؤلؤ في شهر <u>نوفمبر</u>
البغلة ص ٣٤	أفضل أنواع السفن المستعملة في رحلة السفر هي <u>اليوم</u>
التمور ص ٣٤	أهم البضائع التي تصدرها دول الخليج العربية قديما هي <u>التوابل</u>
القفال ص ٣٢	نهاية موسم الغوص على اللؤلؤ تسمى <u>الدشة</u>
صناعة السفن ص ٣٣	الحرفة التي تعتبر مكملة و أساسية للأنشطة البحرية هي <u>التجارة البحرية</u>
الحظرة / الميدار / القرقور ص ٣١	من وسائل صيد الأسماك القديمة في دول الخليج العربية هي <u>السنبوك</u>
القلاف ص ٣٣	يطلق على صانع السفينة قديما اسم <u>الطواش</u>
الغوص على اللؤلؤ ص ٣١	أشهر الحرف التي مارسها سكان منطقة الخليج العربية هي <u>التجارة البرية</u>
الرعي ص ٢٨	الحرفة التي تعتمد على ما ينمو من نباتات بعد سقوط المطر هي <u>الزراعة</u>



السؤال الخامس : استنتج الرابط المشترك للعناصر التالية :

- ١- (الرعي - الزراعة - الحرف اليدوية - التجارة البرية) (الأنشطة البرية) ص ٢٨
- ٢- (النوخة - السيب - المجدمي - النهام) (أفراد طاقم السفينة) ص ٣٢
- ٣- (صيد الأسماك - الغوص على اللؤلؤ - التجارة البحرية) (الأنشطة البحرية) ص ٣١
- ٤- (حياكة السدو - صناعة الخوص - خياطة البشوت) (الحرف اليدوية) ص ٢٩
- ٥- (الحظره - الميدار - القرقور) (وسائل صيد الأسماك قديما) ص ٣١

السؤال السادس: من أكون؟: ص ٣٢

اعمل تاجرا للؤلؤ؟

الطواش

أنا مطرب السفينة؟

النهام

أغوص في أعماق البحر
بحثا عن اللؤلؤ؟

الغواص

أنا ربان السفينة؟

النوخذة

أنا اعمل صانع للسفن؟

القلاف ص ٣٣



السؤال السادس: صنف الكلمات التالية الى مكانها المناسب في الجدول:-

(أ) أهم مظاهر السطح في دول الخليج العربية ص ٢٣

((الحجاز – عسير – نجد – تهامة – جال الزور – الإحساء – الربع الخالي – الجبل الاخضر))

جبال	تلال	هضاب	سهول	صحراء
عسير الجبل الاخضر الحجاز	جال الزور	نجد	الاحساء- تهامة	الربع الخالي

(ب) الحياة النباتية في منطقة الخليج العربية ص ٢٦

((الصبار- العنصيل – الثندا – الخبيزه – الرمث – الحويذان – العرفج))

نباتات حولي	نباتات معمر
الخبيزة – الحويذان - العنصيل	الصبار-الثندا- الرمث - العرفج

قارن بين كل من : WWW.KweduFiles.Com

خطوط الطول	دوائر العرض	وجه المقارنة
٣٦٠	١٨٠	العدد
خط جرينتش	خط الاستواء	خط الأساس

ص ٢٥

الشتاء	الصيف	وجه المقارنة
فصل يمتاز بالدفء	فصل حار جاف ورطب في المناطق الساحلية	حالة الجو لقة الخليج العربية

المقارنة	نبات معمر ص ٢٦	نبات حولي
المفهوم	نباتات متوفرة طول العام لأنها تتحمل الجفاف وارتفاع درجة الحرارة	نباتات يرتبط وجودها بموسم سقوط المطر
الأمثلة	الصبار – العرفج- الثندا -الرمث	الخبيزة – الحويذان – العنصيل

السؤال السابع: صنف الكلمات التالية حسب مكانها الصحيح في الجداول التالية :

(صيد الأسماك – الزراعة – الغوص على اللؤلؤ – الرعي – صناعة السفن – الحرف اليدوية – التجارة البرية – التجارة البحرية) ص ٢٨ - ٣١

الأنشطة البرية	الأنشطة البحرية
الزراعة الرعي الحرف اليدوية التجارة البرية	صيد الاسماك الغوص على اللؤلؤ صناعة السفن التجارة البحرية

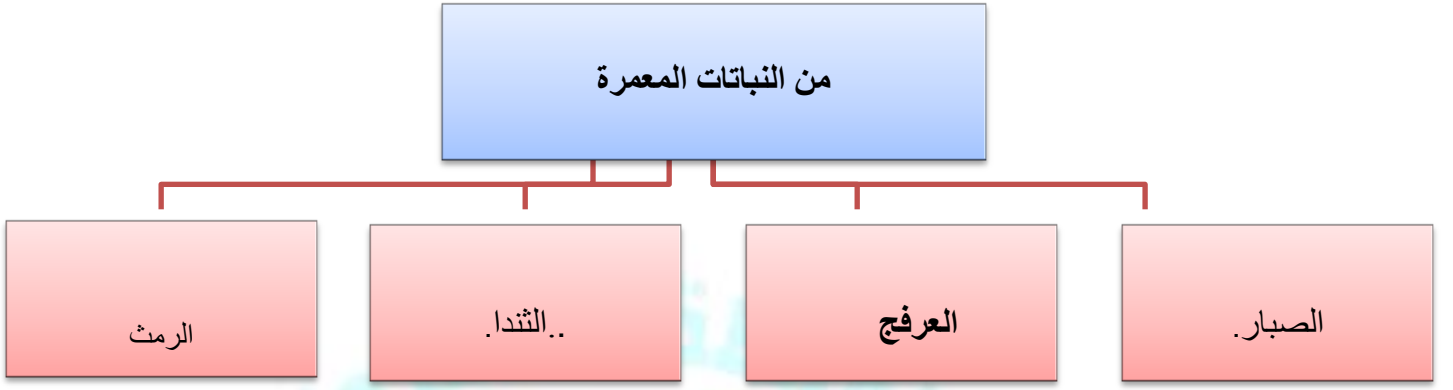
WWW.KweduFiles.Com

(المجدمي – النهام – السيب – النوخدة – الغواص) ص ٣٢

السيب	النهام	المجدمي	الغواص	النوخذة
يسحب الغاصة من أعماق البحر	مطرب السفينة	رئيس البحرية	يغوص في أعماق البحر بحثا عن اللؤلؤ	ربان السفينة

(السكر – التمور –التوابل – الشاي – الأرز) ص ٣٤

البضائع الواردة الى منطقة الخليج العربية	البضائع الصادرة من منطقة الخليج العربية
السكر الشاي التوابل الأرز	التمور



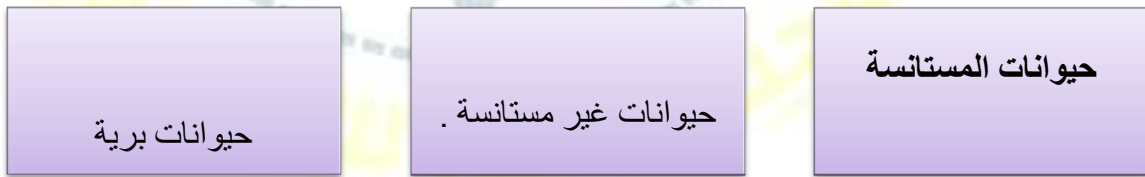
أنواع الرياح التي تهب على دول الخليج العربية

ص ٢٥




الحيوانات التي تعيش في دول الخليج العربية

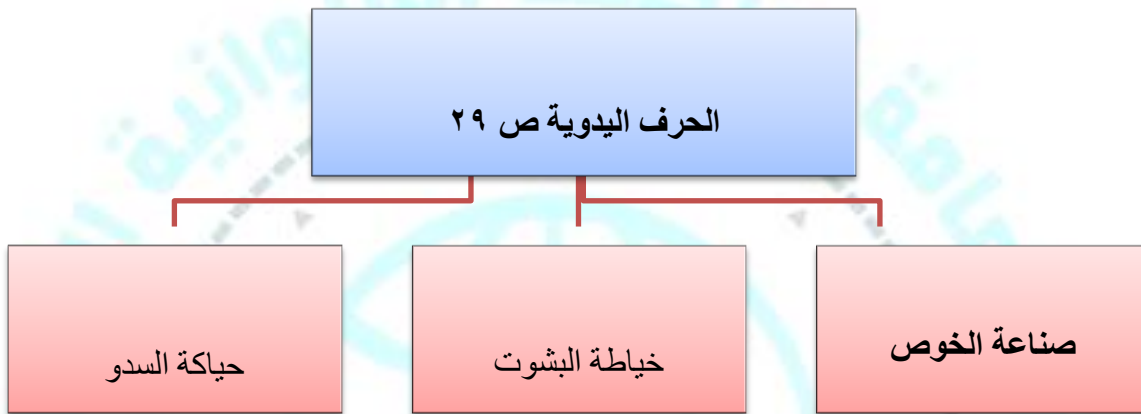
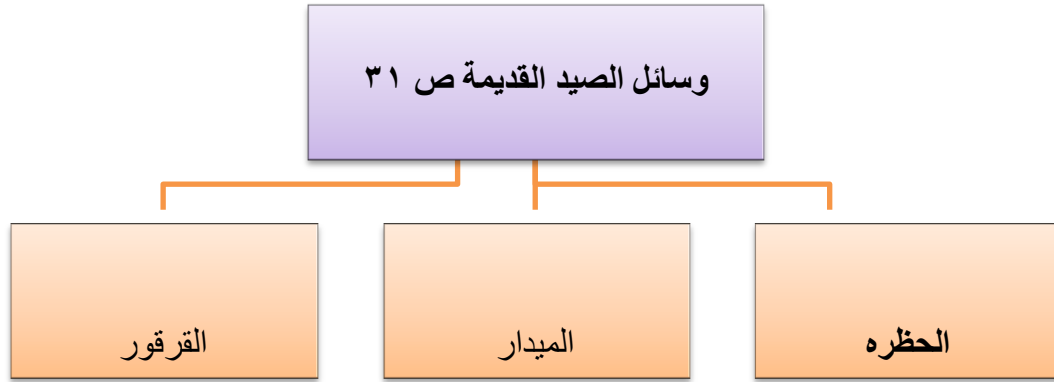
ص ٢٦



تطل دول الخليج العربية على مسطحات مائية هامة

ص ٢٣





الأنشطة البحرية التي مارسها أبناء
دول الخليج العربية

ص ٣١

التجارة البحرية

صناعة السفن

الغوص على اللؤلؤ

صيد الاسماك

أنواع السفن في دول الخليج العربية

ص ٣٣

البغلة

السنبوك

الشوعي

الجالبوت

البوم

WWW.KweduFiles.Com

أفراد طاقم السفينة

ص ٣٢

التباب

النهام

الطواش

الرضيف

السيب

المجدمي

الغواص

النوخدة

البضائع المستوردة في دول
الخليج العربية قديما



السؤال التاسع : أختَر من المجموعة (أ) ما يرتبط بها من المجموعة (ب) : ص ٣٢

المجموعة (أ)	الرقم	المجموعة (ب)
١ النوخة	٢	يسحب الغاصة من أعماق البحر
٢ السيب	٣	صانع السفينة
٣ القلاف	-	تاجر اللؤلؤ
٤ النهام	٥	رئيس البحرية
٥ المجدمي	١	ربان السفينة
٦	٤	مطرب السفينة

النباتات : ١- نبات معمر (الصبار – الثندا)

٢- نبات حولي (الخبيزة والعنصيل)

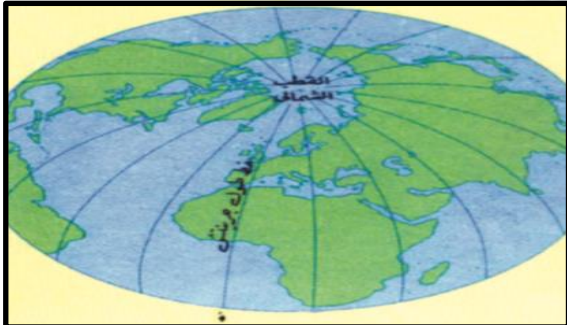
الحيوانات :

١- مستأنسة (الابل)

٢- غير مستأنسة (الزواحف)

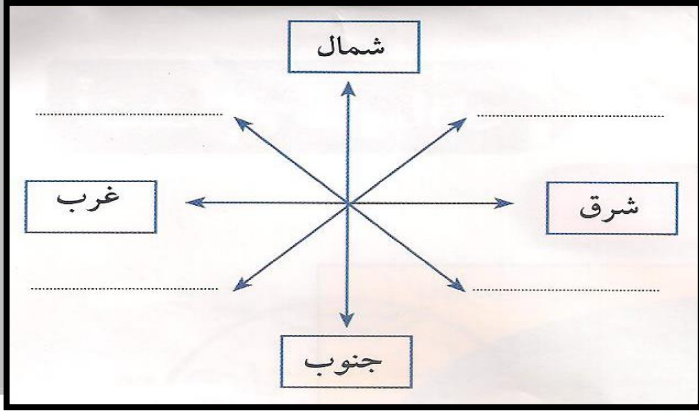
٣- برية (الغزلان)

WWW.KweduFiles.Com



(ب) من الصورة التالية اكمل العبارات التالية :

١. دوائر العرض يبلغ عددها ١٨٠
٢. خطوط الطول يبلغ عددها ٣٦٠
٣. دائرة العرض الرئيسية ورقمها صفر تسمى خط الاستواء
٤. خط الطول الرئيسي ورقمه صفر يسمى خط جرينتش



(ج) على الشكل المقابل حدد ثم أكتب: ص ٢٢

الجهات الأصلية: ١- شمال ٢- جنوب ٣- شرق ٤- غرب

الجهات الفرعية ١- الشمال الشرقي ٢- الشمال الغربي

٣- الجنوب الغربي ٤- الجنوب الغربي

(د) أعد تنظيم الأحرف للوصول إلى أسماء الظواهر التضاريسية التالية: ص ٢٣

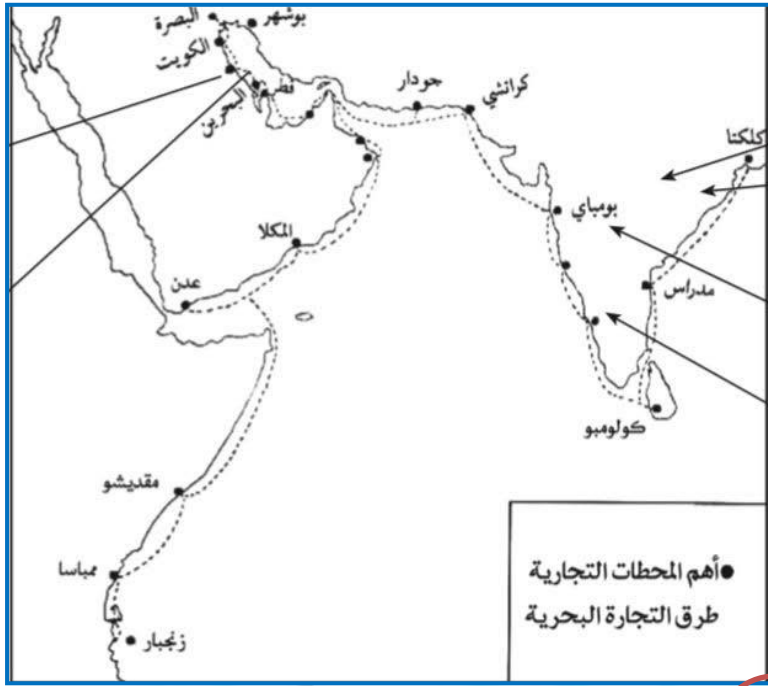
ل-ب-خ-ا-ع-ر-ي-ل-ا صحراء الربع الخالي

خ-ر-أ-ض-ل-ا الجبل الاخضر

ع-ا-س-ا-ل-ح سهل الاحساء

ط-ا-ب-ل-ا-ن وادي الباطن

السؤال العاشر : لاحظ خريطة طرق التجارة البحرية التي امامك ثم اجب عن الأسئلة التي تليها :



١- ما هي واردات دول الخليج ؟ ص ٣٤

السكر / الشاي / الأرز / التوابل

٢- عدد صادرات دول الخليج ؟

التمور

٣- اذكر المدن التي وصل إليها التجار قديما ؟

شبة القارة الهندية : مومباي / مدراس / كلكتا / كولومبو / كراتشي / جردار

افريقيا : زنجبار / مقديشو / ممباسا



خياطة البشوت ص ٢٩



استخراج اللؤلؤ من المحار ص ٣٦



صناعة الخوص ص ٢٩



تاجر اللؤلؤ ص ٣١



حياكة السدو ص ٢٩

السؤال الثاني عشر : لاحظ الخريطة التي أمامك ثم اجب عن الأسئلة التي تليها :



مدلولات الأرقام التالية : ص ٢٣

١- الرقم (١) يمثل مسطح مائي يسمى **البحر الأحمر**

٢- الرقم (٢) يمثل مسطح مائي يسمى **العرب**

ب- عين على الخريطة باستخدام الرموز التالية:

١- خليج عمان باستخدام الرمز

٢- ظل الخليج العربي باستخدام الرمز



ثانيا الاسئلة المقالية : WWW.KweduFiles.Com

(السؤال الاول): فرقي بين الدشة و القفال من حيث المفهوم : ص ٣٢

الدشة

بداية موسم الغوص على اللؤلؤ

القفال

نهاية موسم الغوص على اللؤلؤ

السؤال الثاني : عرف المفاهيم التالية :

- ١- الواحة : منطقة تقع في الصحراء فيها مياه عذبة صالحة للزراعة ص ٢٩
- ٢- المياه الجوفية : المياه التي توجد في باطن الأرض ص ٢٨
- ٣- الدشة : بداية موسم الغوص على اللؤلؤ ص ٣٢
- ٤- القفال : نهاية موسم الغوص على اللؤلؤ ص ٣٢
- ٥- المسطحات المائية : جميع اشكال المياه على سطح الأرض من بحار و محيطات و خلجان و بحيرات و أنهار ص ٣٤

السؤال الثالث : علل لما يأتي :

- ١- تتوفر النباتات المعمرة طوال العام ؟ ص ٢٦
أ- لأنها تتحمل الجفاف وارتفاع درجة الحرارة بسبب جذورها الطويلة وقلة أوراقها وكثرة الأشواك فيها
ب - قدرتها العالية على تخزين المياه
- ٢- تشابه الأعمال التي يقوم بها السكان بدول الخليج العربية ؟
أ- لتشابه الظروف الجغرافية والبيئية والمناخية ص ٢٧
٣- تسمية النباتات الحولية بهذا الاسم؟ ص ٢٦
أ- لأنها ترتبط بموسم سقوط المطر ...
٤- أهمية موقع منطقة الخليج العربية ؟ ص ١٩
أ- لأنه يقع في وسط العالم
ب- يتحكم باهم طرق التجارة العالمية
- ٥- كانت حياة السكان في دول الخليج العربية قديما قاسية و خشنة . ص ٢٧
أ- لفقر البيئة
ب - لقلة الموارد في البيئة
- ٦- انصراف سكان دول الخليج العربية عن حرفة الغوص على اللؤلؤ . ص ٣١
أ- بسبب ظهور اللؤلؤ الصناعي
ب - بسبب اكتشاف النفط
- ٧- تعتبر سفينة البغلة من أفضل أنواع السفن المستعملة في رحلة السفر ص ٣٤.
أ - لمتانتها و قدرتها على نقل الحمولة الكبيرة ب - قلة تعرضها للأخطار البحرية
- ٨- كانت حرفة الغوص على اللؤلؤ من أشهر الحرف التي مارسها أبناء دول الخليج العربية ص ٣١.
أ - لأن الاقتصاد يعتمد عليها اعتماد رئيسي

السؤال الرابع : اجب عن الأسئلة التالية :

١- الحرف اليدوية التي مارسها أبناء دول الخليج العربية . ص ٢٩

أ- صناعة الخوص – حياكة السدو – خياطة البشوت

٣- وسائل صيد الأسماك قديما ص ٣١

الخطرة – الميدار – القرقور

٤- الغلات الزراعية في دول الخليج العربية ص ٢٨.

التمور – الخضروات الورقية

٥- الأنشطة البحرية التي مارسها أبناء دول الخليج العربية ص ٢٨.

صيد الاسماك – الغوص على اللؤلؤ – التجارة البحرية – صناعة السفن

٦- أنواع السفن في دول الخليج العربية . ص ص ٣٤

البوم – البغلة – السنوك – الجالبوت – الشوعي

٧- اذكر بعض اسماء المنتجات الزراعية في منطقة الخليج العربية . ص ٢٩

الخيار – الخس – الفراولة – الخس

WWW.KweduFiles.Com

٨- أنواع الرياح في منطقة الخليج العربية . ص ٢٥

أ- الرياح الشمالية ب- الرياح الجنوبية شرقية ج- العواصف الترابية

٩- تعتبر حرفة الغوص على اللؤلؤ من الحرف الشاقة والمتعبة . ص ٣١

أ- الاخطار التي تواجه الغواصين من غرق واسماك القرش

ب- ظروف مناخية قاسية

الوحدة الثانية

WWW.KweduFiles.Com

دول الخليج العربية تتطور حضاريا وسياسيا

السؤال الأول : أملئ العبارات التالية بما يناسبها فيما درست :-

- ١- تقاس الأحداث بالسنين والقرون وان القرن يساوي ١٠٠ سنة . ص ٤٥
- ٢- ابداع الانسان الخليجي و اسهاماته في تطور و تقدم ورقي مجتمعه في جميع نواحي الحياه و حل مشاكله يسمى الحضارة ص ٤٦
- ٣- عرف الخليج العربي قديما باسم بحر شروق الشمس / البحر الادنى . (ص ٤٧)
- ٤- ظهر الاسلام في القرن ٧م (ص ٥٣)
- ٥- الحضارة التي اشتهرت بأفران صهر المعادن تسمى مجان . (ص ٤٨)
- ٦- اشتهرت حضارة مجان بمعدن يسمى النحاس (ص ٤٨)
- ٧- شهدت منطقة الخليج العربي المنافسة الاستعمارية منذ القرن ١٥م (ص ٦٠)
- ٨- أول دولة اوربية استعمارية وصلت للخليج العربي و احتلت أجزاء مهمة منه لفترة من الزمن تسمى البرتغال ص ٦٠
- ٩- الشيخ الذي وقع اتفاقية الحماية مع بريطانيا يسمى مبارك الصباح (ص ٦٢)
- ١٠- عقدت اتفاقية الحماية مع بريطانيا في عام ١٨٩٩م (ص ٦٢)
- ١١- الدولة الخليجية التي عقدت اتفاقية الحماية مع بريطانيا في عام ١٨٩٩م تسمى الكويت (ص ٦٢)
- ١٢- أحكم الاوربيون سيطرتهم على دول الخليج العربي عن طريق المعاهدات و الاتفاقيات . (ص ٦٠)
- ١٣- القرن الذي تحررت دول الخليج العربية من التبعية البريطانية هو (النصف الثاني من القرن العشرين) ص ٦٣
- ١٤- الحاكم الذي نالت دولة الكويت استقلالها في عهده يسمى (الشيخ عبدالله السالم الصباح) ص ٦٣
- ١٥- استقلت دولة الكويت في تاريخ (١٩ - يونيو - ١٩٦١) ص ٦٣
- ١٦- تحرر الدولة من المستعمر الأجنبي و ادارتها لشؤونها الداخلية والخارجية يسمى (الاستقلال) ص ٣٦
- ١٧- الطرف الأجنبي الذي وقع اتفاقية استقلال دولة الكويت هو (بريطانيا) ص ٦٣
- ١٨- تم اصدار وثيقة الدستور الكويتي في عام (١٩٦٢) ص ٦٤
- ١٩- حكم الشعب لنفسه تعني (الديمقراطية) ص ٦٤
- ٢٠- تم الإعلان العالمي لحقوق الانسان في عام (١٩٤٨) ص ٦٤
- ٢١- الحاكم الذي لقب بقائد الإنسانية يسمى (الشيخ صباح الأحمد الصباح) ص ٦٤

٢٢- استقلت مملكة البحرين في عام (١٩٧١) ص ٦٥

٢٣- استقلت دولة قطر في عام (١٩٧١) ص ٦٥

٢٤- استقلت سلطنة عمان (١٩٧١) ص ٦٥

٢٥- تم اعلان قيام المملكة العربية السعودية عام (١٩٣٢) ص ٦٥

٢٦- الدولة الخليجية التي لم تخضع للاستعمار هي (المملكة العربية السعودية) ص ٦٥

٢٧- اعلن قيام مجلس التعاون لدول الخليج العربية في عام ٢٥/مايو/١٩٨١ ص ٧٠

٢٨- المقر الدائم لمنظمة مجلس التعاون لدول الخليج العربية في مدينة ..الرياض. ص ٧٠

٢٩- تم الإعلان عن مجلس التعاون لدول الخليج العربية في مدينة ابوظبي. ص ٧٠

٣٠- عدد الدول الأعضاء في مجلس التعاون لدول الخليج العربية ..٦ ص ٧٠

٣١- يتكون المجلس الأعلى من قادة الدول الاعضاء. ص ٧٠

٣٢- يتكون المجلس الوزاري من وزراء الخارجية أو من ينوب عنهم. ص ٧٠

٣٣- صاحب فكرة منظمة مجلس التعاون لدول الخليج العربية هو (الشيخ جابر الأحمد الصباح) ص ٧٤

٣٤- العام الذي وجه فيه الشيخ جابر الأحمد دعوة لإنشاء مجلس التعاون هو (١٩٧٦ م) ص ٧٤

٣٥- سميت القمة السابعة والعشرون التي عقدت بالرياض بمقمة (قمة الشيخ جابر) ص ٧٤

٣٦- عقدت قمة السابع والعشرون في مدينة تسمى بـ (الرياض) ص ٧٤

٣٧- عقدت القمة السابعة والعشرون في الرياض في عام (٢٠٠٦ / ١٢ / ١٠ م) ص ٧٤

٣٨- انطلاق السوق الخليجي المشترك في يناير ٢٠٠٧ ص ٧٧

السؤال الثاني: ضع خطاً تحت الخيار الصحيح من بين الخيارات التي تلي كل عبارة :

١- الحضارة التي اشتهرت بأفران صهر المعادن : (ص ٤٨)

(دلمون - مجان - الهلينستية)

٢- شهدت منطقة الخليج العربي المنافسة الاستعمارية منذ القرن : (ص ٦٠)

(١٤ - ١٥ - ١٦ - ١٧)

٣- القرن الذي تخلصت دول الخليج العربية من التبعية البريطانية : ص ٦٣

د. ٢٢

ج. ٢١

ب. ٢٠

أ. ١٩

٤- نالت دولة الكويت استقلالها في عهد الشيخ: ص ٦٣

د. مبارك الصباح

ج. عبدالله السالم الصباح

أ. احمد الجابر الصباح ب. جابر الأحمد الصباح

٥- استقلت دولة الكويت في تاريخ : ص ٦٣

ب. ١٩ يونيو

ج. ٣١ ديسمبر

ب. ٢١ مايو

أ. ٢٥ فبراير

٦- تحرر الدولة من المستعمر الأجنبي وادارتها لشؤونها الداخلية والخارجية : ص ٦٣

د. معاهدة حماية

ج. الديمقراطية

ب. الاستعمار

أ. الاستقلال

٧- الطرف الأجنبي الذي وقع اتفاقية استقلال الكويت : ص ٦٣

د. هولندا

ج. بريطانيا

ب. البرتغال

أ. أمريكا

٨- أصدرت وثيقة الدستور الكويتي عام : ص ٦٤

د. ١٩٦٢

ج. ١٩٦١

ب. ١٩٦٠

أ. ١٩٥٩

٩- حكم الشعب لنفسه تعني : ص ٦٤

د. الحرية

ج. الديمقراطية

ب. العدل

أ. المساواة

١٠- تم الإعلان العالمي لحقوق الانسان في عام : ص ٦٤

د. ١٩٥١

ج. ١٩٥٠

ب. ١٩٤٩

أ. ١٩٤٨

١١- الحاكم الذي لقب بقائد الإنسانية : ص ٦٤

أ. جابر الأحمد ب. صباح الأحمد ج. عبدالله السالم د. احمد الجابر

١٢ - تم اعلان قيام المملكة العربية السعودية عام : ص ٦٥

أ. ١٩٢٩م ب. ١٩٣٠م ج. ١٩٣١م د. ١٩٣٢م

١٣ - استقلت سلطنة عمان في عام : ص ٦٥

أ. ١٩٧١م ب. ١٩٧٢م ج. ١٩٧٣م د. ١٩٧٤م

١٤ - الدولة الخليجية التي لم تخضع للاستعمار: ص ٦٥

أ. الكويت ب. السعودية ج. قطر د. البحرين

WWW.KweduFiles.Com

١٥- اعلن قيام مجلس التعاون لدول الخليج العربية في عام : ص ٧٠

أ. ١٩٨٠م ب. ١٩٨١م ج. ١٩٨٣م د. ١٩٨٤م

١٦- المقر الدائم لمنظمة مجلس التعاون لدول الخليج العربية في مدينة : ص ٧٠

أ. الكويت ب. ابوظبي ج. مسقط د. الرياض

١٧- تم الإعلان عن مجلس التعاون لدول الخليج العربية في مدينة : ص ٧٠

أ. المنامة ب. الكويت ج. ابوظبي د. الدوحة

١٨- عدد الدول الأعضاء في مجلس التعاون لدول الخليج العربية : ص ٧٠

أ. ٤ دول ب. ٥ دول ج. ٦ دول د. ٧ دول

١٩- يتكون المجلس الأعلى من : ص ٧٠

أ. الأمين العام ب. وزراء الخارجية ج. السكرتارية د. قادة الدول الأعضاء

٢٠- يتكون المجلس الوزاري : ص ٧٠

أ. الأمين العام ب. وزراء الخارجية ج. السكرتارية د. قادة الدول الأعضاء

٢١- صاحب فكرة منظمة مجلس التعاون لدول الخليج العربية : ص ٧٤

أ. الملك فهد ب. الشيخ زايد ال نهيان ج. الشيخ جابر الأحمد د. الملك عيسى ال خليفة

٢٢- العام الذي وجه فيه الشيخ جابر الأحمد دعوة لإنشاء مجلس التعاون : ص ٧٤

أ. ١٩٧٦م ب. ١٩٧٧م ج. ١٩٧٨م د. ١٩٧٩م

WWW.KweduFiles.Com

٢٣- سميت القمة السابعة والعشرون التي عقدت بالرياض بقمة : ص ٧٣

أ. قمة الملك فهد ب. قمة الشيخ زايد ج. قمة الشيخ جابر د. قمة الشيخ حمد

٢٤- عقدت قمة السابع والعشرون في مدينة : ص ٧٠

أ. الرياض ب. ابوظبي ج. المنامة د. مسقط

٢٥- عقدت القمة السابعة والعشرون في الرياض في عام : ص ٧٤

أ. ٢٠٠٦م ب. ٢٠٠٧م ج. ٢٠٠٨م د. ٢٠٠٩م

٢٦- ظهور الاسلام في القرن : (ص ٥٣)

(م٦ - م٧ - م٨ - م٩)

أول دولة أوروبية استعمارية وصلت للخليج العربي : (ص ٦٠)

(هولندا - البرتغال - إنجلترا - فرنسا)

السؤال الثالث : صوب ما تحته خط في العبارات التالية :

- ١- الدولة العربية الخليجية التي ظهرت فيها حضارة دلمون هي الكويت ... البحرين.... (ص ٤٨)
- ٢- الدولة العربية الخليجية التي ظهرت فيها الحضارة الهلينستية هي البحرين ... الكويت (ص ٤٩)
- ٣- الحضارة التي اشتهرت بأفران صهر المعادن هي دلمون ... مجان.... (ص ٤٨)
- ٤- حضارة مجان ظهرت في دولة عربية خليجية تسمى قطر ... عمان.... (ص ٤٨)
- ٥- ساهم سكان منطقة الخليج العربية في نشر الاسلام في جنوب شرق أفريقيا .. اسيا.. (ص ٥٣)
- ٦- شهدت منطقة الخليج العربي المنافسة الاستعمارية منذ القرن الرابع عشر... الخامس عشر... (ص ٦٠)
- ٧- وقعت دولة الكويت اتفاقية الحماية مع بريطانيا في عهد الشيخ عبدالله السالم... مبارك الصباح.... (ص ٦٢)
- ٨- كان الخليج العربي ملتقى الحضارات الكبرى في الغرب ... الشرق... (ص ٤٧)
- ٩- تحررت دول الخليج العربية من التبعية البريطانية في منتصف القرن الثاني والعشرين (العشرين) ص ٦٣
- ١٠- استقلت دولة الكويت استقلالها في عهد الشيخ جابر الأحمد الصباح ص ٦٣ (عبدالله السالم الصباح)
- ١١- استقلت دولة الكويت في تاريخ ١٩٦٦ م ص ٦٣ (١٩ - يونيو - ١٩٦١)
- ١٢- تحرر الدولة من المستعمر الأجنبي وادارتها لشؤونها الداخلية والخارجية يسمى الاستعمار (الاستقلال) ص ٦٣
- ١٣- وقعت دولة الكويت اتفاقية الاستقلال مع هولندا (بريطانيا) ص ٦٣
- ١٤- تم اصدار وثيقة الدستور الكويتي في عام ١٩٦١ م (١٩٦٢) ص ٦٤
- ١٥- حكم الشعب لنفسه تعني الحرية (الديمقراطية) ص ٦٤
- ١٦- تم الإعلان العالمي لحقوق الانسان في عام ١٩٥٨ م (١٩٤٨) ص ٦٤
- ١٧- الحاكم الذي لقب بقائد الإنسانية هو الشيخ جابر الأحمد . (الشيخ صباح الأحمد الصباح) ص ٦٤
- ١٨- استقلت مملكة البحرين في عام ١٩٧٢ م (١٩٧١) ص ٦٥

- ١٩- استقلت دولة قطر في عام ١٨٧٣م (١٩٧١) ص ٦٥
- ٢٠- استقلت سلطنة عمان ١٩٧٣ (١٩٧١) ص ٦٥
- ٢١- تم اعلان قيام المملكة العربية السعودية عام ١٩٣٤م (١٩٣٢) ص ٦٥
- ٢٢- الدولة الخليجية التي لم تخضع للاستعمار هي عمان (السعودية) ص ٦٥
- ٢٣- اعلن قيام مجلس التعاون لدول الخليج العربية في عام ١٩٨٣ م (١٩٨١ م) ص ٧٠
- ٢٤- المقر الدائم لمنظمة مجلس التعاون لدول الخليج العربية في مدينة المنامة (الرياض) ص ٧٠
- ٢٥- تم الإعلان عن مجلس التعاون لدول الخليج العربية في مدينة الكويت (ابوظبي) ص ٧٠
- ٢٦- عدد الدول الأعضاء في مجلس التعاون لدول الخليج العربية ٨ دول (٦ دول) ص ٧٠
- ٢٧- يتكون المجلس الأعلى من الأمانة العامة (قادة الدول) ص ٧٠
- ٢٨- يتكون المجلس الوزاري من السكرتارية (وزراء الخارجية) ص ٧٠
- ٢٩- صاحب فكرة مجلس التعاون لدول الخليج العربية هو الملك فهد ال سعود (الشيخ جابر الأحمد) ص ٧٤
- ٣٠- العام الذي وجه فيه الشيخ جابر الأحمد دعوة لإنشاء مجلس التعاون هو ١٩٧٧م (١٩٧٦م) ص ٧٤
- ٣١- سميت القمة السابعة والعشرون التي عقدت بالرياض بمقمة الشيخ زايد (قمة الشيخ جابر) ص ٧٤
- ٣٢- عقدت قمة السابع والعشرون في مدينة تسمى بالمنامة (الرياض) ص ٧٤
- ٣٣- عقدت القمة السابعة والعشرون في الرياض في عام ٢٠٠٨ (٢٠٠٦ م) ص ٧٤

السؤال الرابع : اكتب المفاهيم و المصطلحات الدال على العبارات التالية :

- ١- (الحضارة) ابداع الانسان الخليجي و اسهاماته في تطور و تقدم و رقي مجتمعه في جميع نواحي الحياه و حل مشاكله. (ص ٤٦)
- ٢- (الجليب) : يطلق على البئر عند سكان منطقة الخليج العربية . (ص ٥١)
- ٣- تحرر الدولة من المستعمر الأجنبي وقيامها بإدارة شؤونها الداخلية والخارجية ص ٦٣ (الاستقلال)
- ٤- حكم الشعب لنفسه ص ٦٤ (الديمقراطية)
- ٥- منظمة سياسية اقتصادية إقليمية تضم ست دول عربية خليجية ص ٧٠ (مجلس التعاون لدول الخليج العربية)
- ٦- ان تسيطر دولة قوية على دولة ضعيفة بهدف استغلال موقعها ومواردها ص ٦١ (الاستعمار)

السؤال الخامس : اسئلة الترتيب:

١- اعد ترتيب الحضارات التي ظهرت في منطقة الخليج حسب موقعها الجغرافي على الخريطة من الشمال الى الجنوب . (ص ٥٠)

١..... الهيلينستية	٢... دلمون	٣... مجان
--------------------------	------------------	-----------------

٢- رتب الدول الاستعمارية الاوربية تصاعديا حسب وصولها لمنطقة الخليج العربي . (ص ٦١)

١ - ... البرتغال	٢ - ... هولندا	٣ - ... بريطانيا ...
------------------------	----------------------	----------------------

س ٢: صنف إنجازات مجلس التعاون لدول الخليج العربية حسب مكانها في الجدول الاتي

إقامة الاتحاد الجمركي / انطلاق السوق لخليجية المشتركة / التنسيق في المجال السياسي / وثيقة التطوير الشامل للتعليم / اتفاقية الدفاع المشترك ص ٧٧

الإنجازات الاقتصادية	الإنجازات الثقافية	الإنجازات السياسية	الإنجازات العسكرية
إقامة الاتحاد الجمركي السوق الخليجية المشترك في يناير ٢٠٠٨	وثيقة التطوير الشامل للتعليم	التنسيق في المجال السياسي في المحافل لكل القضايا التي تهم المجلس	اتفاقية الدفاع المشتركة واستمرار تعزيز قوة درع الجزيرة

س ٤: صنف مظاهر الحضارة الاسلامية في الجدول التالي :

الصناعة	الفن	العمران
صناعة الحلي و السيوف والاواني	النقوش الاسلامية	الفن المعماري

السؤال السادس : أسئلة المزاوجة :

- ١- اختر من المجموعة (أ) ما يرتبط بها في المجموعة (ب) بوضع الرقم المناسب : (ص ٥٧)

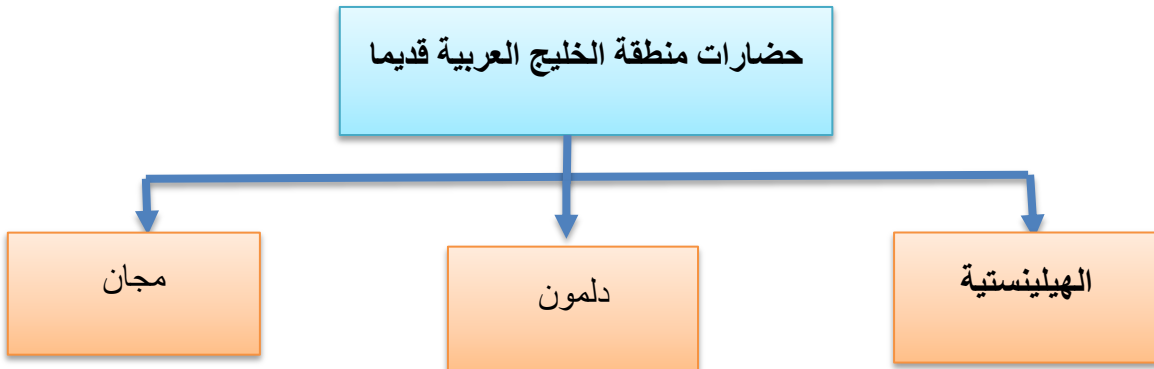
م	المجموعة (أ)	الرقم المناسب	المجموعة (ب)
١	ال صباح	..٤..	عمان
٢	ال خليفة	..٦..	أبوظبي
٣	المعاصيد	..١..	الكويت
٤	اليعاربة	..٢..	البحرين
٥	القواسم	..٥..	رأس الخيمة
٦	بني ياس	..٣..	قطر

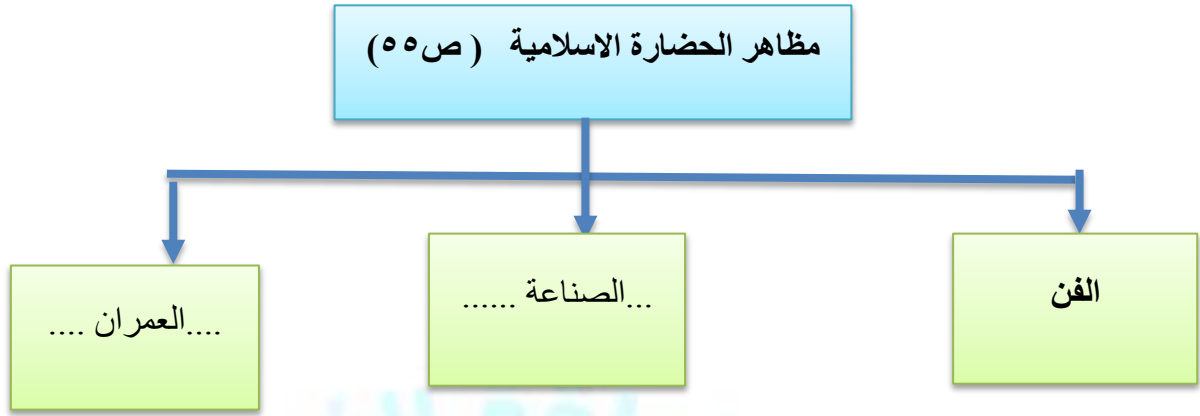
السؤال السابع : أكمل المخططات السهمية التالية :

- أكمل المخطط السهمي التالي : (ص ٤٧)



- اكتب عنوان مناسباً للمخطط السهمي التالي : (ص ٤٧)

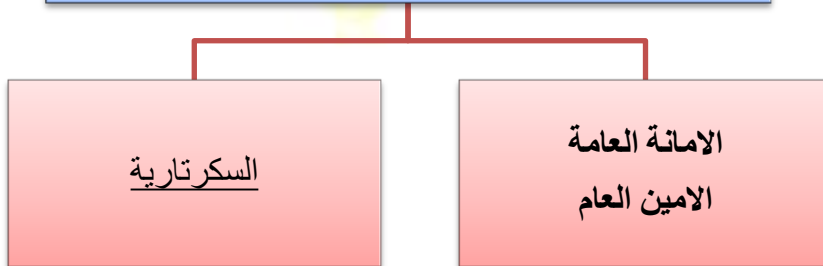




يتكون الهيكل التنظيمي لمجلس التعاون لدول الخليج العربية من : ص ٧٠



تتكون الامانة العامة لمجلس التعاون لدول الخليج العربية
ص ٧٠



السؤال الثامن : لاحظ الصور التالية :

١- اكمل بيانات الوثيقة الآتية ص ٦٣:



١- ماذا تمثل هذه الصور؟

توقيع استقلال الكويت

٢- تاريخ الصور؟

١٩ - يونيو ١٩٦١م

٣- اسم حاكم الكويت في هذه الفترة؟

الشيخ عبدالله السالم الصباح

٢: اكمل البيانات المطلوبة لتنظيم الموضح في الصورة. ص ٧٣



١- ماذا يمثل هذا الشعار؟

شعار مجلس التعاون لدول الخليج العربية


٢- في أي عام تم إعلانه؟

١٩٨١م

٣- ماهي العناصر الأساسية التي يتكون منها؟

خريطة دول الخليج العربية - البسمة - عنوان المنظمة

٣- صل الصورة بما يناسبها من عبارات: ص ٥٣



WWW.KweduFiles.Com

متحف القرآن في مملكة
البحرين

دار الاثار الاسلامية

متحف الشارقة للحضارة
الاسلامية

٤- صل الصورة بما يناسبها من عبارات : ص ٤٧ - ٤٨

حضارة دلمون



الحضارة الهلنستية



حضارة مجان



WWW.KweduFiles.Com



السؤال التاسع : لاحظ الخريطة التي أمامك ثم اجب عن الأسئلة التي تليها :

١- أمامك خريطة دول الخليج العربية نفذ المطلوب عليها : (ص ٤٩)



- الحضارة الهيلينية تمثل على الخريطة الرقم ٢... ص ٤٩
- الحضارة مجان تمثل على الخريطة الرقم ٤... ص ٤٩
- الحضارة دلمون تمثل على الخريطة الرقم ٣... ص ٤٩
- الخليج العربي يمثل على الخريطة الرقم ١... ص ١٩

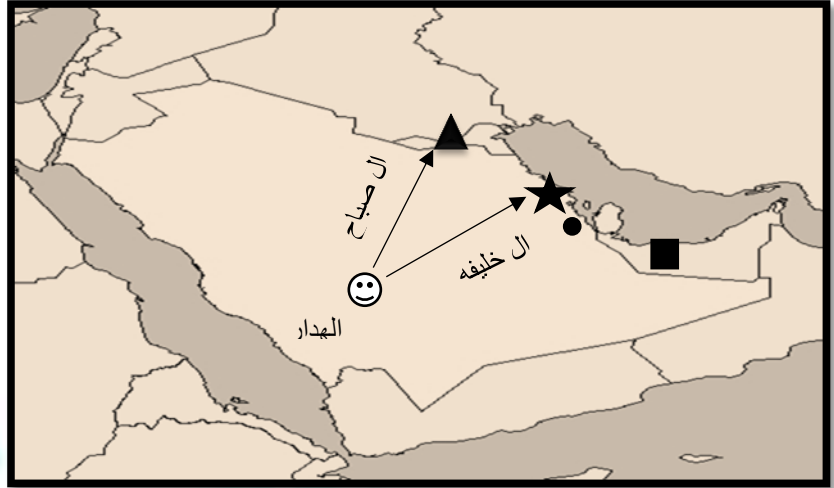
WWW.KweduFiles.Com

٢- أمامك خريطة دول الخليج العربية نفذ المطلوب عليها : (ص ٥٧)



- هجرة ال الصباح تمثل على الخريطة الحرف (أ)
- هجرة ال خليفة تمثل على الخريطة الحرف (ج)
- هجرة المعاضيد تمثل على الخريطة الحرف (هـ)
- هجرة ال البوسعيد واليعاربة تمثل على الخريطة الحرف (و)
- هجرة بني ياس و القواسم تمثل على الخريطة الحرف (د)

٣- أمامك خريطة دول الخليج العربية نفذ المطلوب عليها : (ص ٥٩)



- هاجر ال صباح الى دولة تمثل رمز ▲
- هاجر ال خليفة الى دولة تمثل رمز ★
- هاجر ال اليعاربة و ال بوسعيد الى دولة تمثل رمز ■
- هاجر المعاضيد الى دولة تمثل رمز ●
- حدد على الخريطة خط سير هجرة العنوب من الهدار الى منطقة الخليج العربي باستخدام الاسهم

السؤال الاول : عرف المفاهيم التالية :

١- الحضارة : ابداع الانسان الخليجي و اسهاماته في تطور و تقدم ورقي مجتمعه في جميع نواحي الحياه و حل مشاكله . ص

٤٥

٢- القليب (الجليب) : يطلق على البئر عند سكان منطقة الخليج العربية . (ص ٥١)

٣- الاستعمار: هو أن تسيطر دولة قوية على دولة ضعيفة بهدف استغلال مواردها (خيراتها) (ص ٦١)

٤- مجلس التعاون : هي منظمة إقليمية سياسية اقتصادية تضم ٦ دول خليجية عربية ص ٧٠

- السؤال الثاني : اقرأ الفقرة التالية ثم أجب عما يليها من أسئلة : (ص ٤٥)

WWW.KweduFiles.Com

تزرخ منطقة الخليج العربية بالعديد من المعالم الاثرية التي تروي قصة حضارات تمتد جذورها الى أربعين قرنا من الزمان ظهر فيها واضحا ابداع الانسان الخليجي و اسهاماته في تطور و تقدم ورقي مجتمعه في جميع نواحي الحياه و حل مشاكله .

استخرج من الفقرة التالية :

١- تعريفا للحضارة :

ابداع الانسان الخليجي و اسهاماته في تطور و تقدم ورقي مجتمعه في جميع نواحي الحياه و حل مشاكله .

٢- استخرج عدد القرون التي امتدت خلالها حضارة منطقة الخليج العربية :

أربعين قرنا .



السؤال الثالث : علل لما يلي :

١- لعب الخليج العربي دورا كبيرا في التاريخ القديم ؟ (ص ٤٧)

● لأنه ملتقى الحضارات الكبرى في الشرق مما جعل المنطقة مصدرا لجذب السكان.

● عثر على الكثير من المواقع الاثرية فيها التي تشهد على نشاط السكان في مجالات عديدة .

٢- ازدهار مدن الخليج العربية ؟ (ص ٥٣)

● حيث لعب الخليج العربي دور الوسيط التجاري و أسهم هذا النشاط في نمو تجارة المنطقة و ازدهار المدن .

٣- للخليج العربي أهمية كبيرة ؟ (ص ٥٧)

● بسبب موقعه المتميز في قلب العالم القديم كطريق تجاري و ممر مائي عالمي .

● ساهم في ظهور الوحدات السياسية التي تشكلت منها دول الخليج العربية .

٤- جذب الهجرات لمنطقة الخليج العربي؟ (ص ٥٧)

● بسبب موقعه المتميز في قلب العالم القديم كطريق تجاري و ممر مائي عالمي حيث قام سكانه بممارسه أنشطة بحرية

متنوعة كصيد الاسماك و صناعه السفن و الغوص على اللؤلؤ و التجارة البحرية .

٥- تنافس الدول الاوربية على منطقة الخليج العربي ؟ (ص ٦٠)

● لاستغلال الموقع وادراكا منها لأهميته .

٦- قيام الشيخ مبارك الصباح بتوقيع اتفاقية الحماية مع بريطانيا في عام ١٨٩٩م ؟ (ص ٦٢)

● لحماية دولة الكويت من الاطماع الخارجية

٧- اذكر أهم الدول الاستعمارية الاوربية التي توالت على منطقة الخليج العربية . (ص ٦٠)

● البرتغال – هولندا – انجلترا (بريطانيا)

٨- اذكر الاساليب التي اتبعتها الاستعمار للسيطرة على دول الخليج العربي . (ص ٦٢)

● معاهدات

● اتفاقيات

٩- اذكر اثنين من شروط اتفاقية الحماية ١٨٩٩م بين الكويت و بريطانيا . (ص ٦٢)

• الا يتنازل أو يبيع أو يؤجر أي جزء من أرضية لدولة أجنبية دون موافقه مسبقه من الحكومة البريطانية .

• الا يستقبل هو او خلفاؤه من بعده ممثله أي دولة اجنبية دون إذن من السلطات البريطانية مقابل حماية بريطانيا لإمارة

الكويت أي خطر خارجي .

١٠- الصفات المشتركة بين دول مجلس التعاون لدول الخليج العربية . ص ٧١

- وحدة الدين

- وحدة التراث

- وحدة الانتماء

- المصالح المشتركة

١١- الحاجة الى انشاء وحدة خليجية . ص ٧٤

- تحقيق التعاون في جميع المجالات

- إيجاد نوع من الاتحاد على أسس سليمة

- للمحافظة على استقرار شعوب المنطقة

١٢- تسمية القمة السابعة والعشرون بقمة جابر . ص ٧٤

- لأنه صاحب فكرة انشاء منظمة مجلس التعاون لدول الخليج العربية

• السؤال الرابع : دال على صحة العبارة التالية : (ص ٥٣)

١- لعب الخليج العربي دورا كبيرا في ازدهار المدن الخليجية .

• حيث لعب دور الوسيط التجاري و أسهم ها النشاط في نمو تجارة المنطقة و ازدهار المدن

٢- استمرار اهتمام أبناء منطقة الخليج العربية بالحضارة الاسلامية في الوقت الحالي .

• ذلك عن طريق اعداد المتاحف المتخصصة في التراث الاسلامي في دول الخليج العربية ص ٥٤

السؤال الخامس : اكتب ما تعرفه عن :

١- اهداف مجلس التعاون لدول الخليج العربية . ص ٧٦

- تحقيق التعاون بين الدول الأعضاء في جميع المجالات

- تحقيق الترابط والصلات بين دول مجلس التعاون

- العمل على تقدم دول مجلس التعاون في المجال العلمي

٢- إنجازات مجلس التعاون لدول الخليج العربية . ص ٧٧

- إقامة الاتحاد الجمركي

- انطلاق السوق الخليجية المشتركة عام ٢٠٠٨

- التنسيق في المجال السياسي في المحاف الدولية لكل القضايا التي تهم المجلس

- وثيقة التطوير الشامل للتعليم

- اتفاقية الدفاع المشترك واستمرار تعزيز قوة درع الجزيرة .

WWW.KweduFiles.Com

الوحدة الثالثة

الموارد الاقتصادية لدول الخليج العربية

WWW.KweduFiles.Com



اولا : الاسئلة الموضوعية:

السؤال الأول : أملئ العبارات التالية بما يناسبها :

- ١ . بدأ التنقيب عن النفط في دولة الكويت عام ١٩٣٤ م. ص ٨٧
- ٢ . بدأ التنقيب عن النفط في دولة الكويت عام ١٩٣٤ في الحقول الشمالية في حقل بحره ص ٨٧
- ٣ . أول الحقول التي تم اكتشافها في دولة الكويت حقل نفطي يسمى بحرة ص ٨٧
- ٤ . اكتشاف كميات ضخمة من النفط في دولة الكويت في الحقول الجنوبية في حقل نفطي يسمى بركان ص ٨٧
- ٥ . أكبر حقل نفط يوجد بدولة الكويت يسمى بركان ص ٨٧
- ٦ . كميات النفط التي يتم استخراجها للاستفادة منها يسمى إنتاج النفط ص ٨٨
- ٧ . كميات النفط المخزونة في باطن الأرض يسمى احتياطي النفط ص ٨٨
- ١٠ . أكثر دول الخليج العربية إنتاجاً للنفط تسمى المملكة العربية السعودية ص ٨٨
- ١١ . النسبة التي حققتها كل من دولتي الكويت والإمارات في إنتاج النفط في عام ٢٠٠٨ م تبلغ حوالي ٨% ص ٨٨
- ١٢ . النسبة التي حققتها المملكة العربية السعودية في إنتاج النفط في عام ٢٠٠٨ م تبلغ حوالي ٢٩% ص ٨٨
- ١٣ . أعلى نسبة إنتاج النفط لشهر أغسطس عام ٢٠٠٨ م لدولة تسمى السعودية ص ٨٨
- ١٤ . النسبة التي حققتها قطر في إنتاج النفط في عام ٢٠٠٨ م تبلغ حوالي ٦% ص ٨٨
- ١٥ . الدولة الخليجية التي تحتل المركز الرابع في إنتاج النفط لعام ٢٠٠٨ م تسمى قطر ص ٨٨
- ١٦ . صدرت أول شحنة للنفط في دولة الكويت عام ١٩٤٦ م. ص ٩٠
- ١٧ . صدرت أول شحنة نفط في دولة الكويت في عهد الشيخ أحمد الجابر ص ٩٠
- ١٨ . يقع حقل دخان النفطي في دولة خليجية تسمى قطر ص ٩١
- ١٩ . يقع حقل عوالي النفطي في دولة خليجية تسمى البحرين ص ٩١
- ٢٠ . الدولة الخليجية التي يوجد بها ميناء رأس تنورة تسمى السعودية. ص ٩١
- ٢١ . الدولة الخليجية التي يوجد بها حقل بابل تسمى عمان. ص ٩١
- ٢٢ . ميناء نفط يوجد في مملكة البحرين يسمى سترة. ص ٩١

٢٣. أكبر حقل نفط يوجد بدولة الكويت يسمى **برقان**. ص ٩١

٢٤. أهم الدول المستوردة للنفط هي الولايات المتحدة الأمريكية وهولندا و **اليابان**. ص ٩٠

٢٥. يوجد حقل الغوار النفطي في دولة خليجية تسمى **السعودية**. ص ٩١

٢٦. ميناء الأحمدى النفطي يوجد في دولة تسمى **الكويت**. ص ٩١

٢٧. الدولة الخليجية التي لها تجربة رائدة في إنتاج القمح تسمى **المملكة العربية السعودية**. ص ٩٢

٢٨. نجحت المملكة العربية السعودية في إنتاج محصول يسمى **القمح**. ص ٩٢

٢٩. تقع منطقة سهل الباطنة في دولة خليجية تسمى **عمان**. ص ٩٢

٣٠. توجد منطقة سهل تهامة الزراعية في دولة تسمى **السعودية**. ص ٩٢

٣١. زراعة تتم في بيئة مائية أو رملية أو حصى أو نشارة خشب تسمى **الزراعة بدون تربة**. ص ٩٤

٣٢. **بيوت** يزرع فيها الخضروات في غير مواسمها وتقوم بحماية المحاصيل من تقلبات الطقس تسمى **بيوت بلاستيكية**. ص ٩٤

٣٣. توجد منطقة ليوا الزراعية في دولة تسمى **الإمارات**. ص ٩٢

٣٤. تحويل المواد الخام إلى مواد مصنعة يمكن الاستفادة منها تسمى **الصناعة**. ص ٩٥

٣٥. مجموع الدخول التي تحصل عليها الدولة خلال عام تسمى **الدخل القومي**. ص ٩٥

٣٦. تتركز صناعة النحاس بسلطنة عمان في منطقة تسمى **صحار**. ص ٩٦

٣٧. **مورد اقتصادي** أثر اكتشافه و تصديره على نمو الصناعة و زيادة الدخل القومي بدول الخليج العربية يسمى **النفط**. ص ٩٥

٣٨. أهم منطقة صناعية في مملكة البحرين تسمى **شمال سترة**. ص ٩٦

٣٩. منطقة صناعية في قطر تسمى **إمسعيد**. ص ٩٦

٤٠. منطقة صناعية في دولة الكويت تسمى **الشعبية**. ص ٩٦

٤١. إعادة تصدير البضائع المستوردة تسمى **ترانزيت**. ص ٩٩

٤٢. السلع والمنتجات التي تبيعها دولنا في الخارج تسمى **الصادرات**. ص ٩٩

٤٣. البضائع والسلع التي تشتريها دولنا من الخارج تسمى **الواردات**. ص ٩٩

السؤال الثاني : صوب ما تحته خط في العبارات التالية :

- ١ . بداية التنقيب عن النفط في دولة الكويت كانت عام ١٩٣٢م. (١٩٣٤ م) ص ٨٧
- ٢ . بدأ التنقيب عن النفط في دولة الكويت عام ١٩٣٤م في حقل برقان. (بحرة) ص ٨٧
- ٣ . اكتشاف كميات ضخمة من النفط في دولة الكويت في الحقول الجنوبية في حقل بحرة. (برقان) ص ٨٧
- ٤ . أول حقل نفط تم اكتشافه بدولة الكويت حقل برقان. (بحرة) ص ٨٧
- ٥ . أعلى دولة خليجية إنتاج للنفط عام ٢٠٠٨م الكويت. (السعودية) ص ٨٨
- ٦ . النسبة التي حققتها كل من دولتي الكويت و الامارات في إنتاج النفط عام ٢٠٠٨م تبلغ حوالي ٢٩%. (٨%) ص ٨٨
- ٧ . الدولة الخليجية التي تحتل المركز الرابع في إنتاج النفط لعام ٢٠٠٨م هي البحرين. (قطر) ص ٨٨
- ٨ . صدرت أول شحنة نفط في دولة الكويت عام ١٩٤٢م. (١٩٤٦ م) ص ٩٠
- ٩ . يوجد حقل دخان النفطي في دولة البحرين. (قطر) ص ٩١
- ١٠ . يوجد ميناء الأحمد في دولة الإمارات. (الكويت) ص ٩١
- ١١ . تم تصدير أول شحنة نفط عام ١٩٤٦م في عهد الشيخ جابر الأحمد. (أحمد الجابر) ص ٩٠
- ١٢ . للمملكة العربية السعودية تجربة رائدة في إنتاج محصول يسمى القطن. (القمح) ص ٩٢
- ١٣ . الدولة الخليجية التي لها تجربة رائدة في إنتاج القمح هي الكويت. (السعودية) ص ٩٢
- ١٤ . الزراعة التي تتم في بيئة مائية أو رملية أو حصى أو نشارة خشب تعرف باسم البيوت البلاستيكية. (الزراعة بدون تربة) ص ٩٤
- ١٥ . يزرع فيها الخضروات في غير مواسمها (أوقاتها) وتقوم بحماية المحاصيل تسمى الزراعة بدون تربة. (بيوت بلاستيكية) ص ٩٤
- ١٦ . يوجد سهل الباطنة في دولة الإمارات. (عمان) ص ٩٢
- ١٧ . توجد منطقة ليوا الزراعية في دولة قطر. (الإمارات) ص ٩٢

١٨. توجد منطقة الوفرة الزراعية في دولة البحرين. (الكويت) ص ٩٢

٢٠. مجموع الدخول التي تحصل عليها الدولة خلال عام تسمى التجارة. (الدخل القومي) ص ٩٥

٢١. مورد اقتصادي أثر اكتشافه وتصديره على زيادة الدخل القومي بدول الخليج العربية يسمى الصناعة. (النفط) ص ٩٥

٢٢. منطقة صناعية في مملكة البحرين تسمى إمّسعيد. (شمال سترة) ص ٩٦

٢٣. تحويل مواد الخام إلى مواد مصنعة يمكن الاستفادة منها تسمى التجارة. (الصناعة) ص ٩٥

٢٤. تتركز صناعة النحاس بسلطنة عمان في منطقة صناعية تسمى الرويس. (صحار) ص ٩٦

٢٥. إعادة تصدير البضائع المستوردة تسمى واردات. (ترانزيت) ص ٩٩

٢٦. البضائع والسلع التي تشتريها دولنا من الخارج تسمى صادرات. (الواردات) ص ٩٩

٢٧. السلع والمنتجات التي تبيعها دولنا في الخارج تسمى ترانزيت. (الصادرات) ص ٩٩

www.kwedufiles.com

السؤال الثالث : ضع خطأً تحت الخيار الصحيح من بين الخيارات التي تلى كل عبارة :

١- بدأ التنقيب عن النفط بدولة الكويت عام :

١٩٤٦م - ١٩٤٣م - ١٩٣٤م - ١٩٦٤م ص ٨٧

٢- أولى حقول النفط الكويتية اكتشافاً حقل :

برقان - بحرة - روضتين - الوفرة ص ٨٧

٣- أكبر حقل نفط يوجد بدولة الكويت :

روضتين - الوفرة - بحرة - برقان ص ٨٧

٤- تم اكتشاف كميات ضخمة من النفط بدولة الكويت في حقل :

- بحرة - الوفرة - برقان - الروضتين ص ٨٧

٥- أعلى دولة خليجية نسبة لإنتاج النفط لشهر أغسطس عام ٢٠٠٨ م :

- الكويت - الإمارات - السعودية - قطر ص ٨٨

٦- كميات النفط التي يتم استخراجها للاستفادة منها:

- احتياط النفط - إنتاج النفط - تصدير النفط - استيراد النفط ص ٨٨

٧- النسبة التي حققتها كل من دولتي الكويت والإمارات في إنتاج النفط في عام ٢٠٠٨ م تبلغ حوالي :

- ٨% - ٢٩% - ٦% - ٣٠% ص ٨٨

٨- أول شحنة نفط تم تصديرها في دولة الكويت عام :

WWW.KweduFiles.Com

- ١٩٤٤ م - ١٩٤٦ م - ١٩٤٢ م - ١٩٤٠ م ص ٩٠

٩- أهم الدول المستوردة للنفط الكويتي الولايات المتحدة الأمريكية و هولندا و :

- روسيا - الهند - فنزويلا - اليابان ص ٩٠

١٠- يقع حقل عوالي النفطي في دولة :

- الكويت - البحرين - قطر - عمان ص ٩١

١١- ميناء نفط يوجد في مملكة البحرين :

- ميناء الأحمدى - فحل - سترة - رأس تنورة ص ٩١

١٢- الدولة الخليجية التي لها تجربة رائدة في إنتاج القمح :

- الكويت - قطر - عمان - السعودية ص ٩٢

١٣- نجحت المملكة العربية السعودية في إنتاج محصول:

- القطن - الأرز - القمح - الذرة ص ٩٢

١٤- توجد منطقة ليوا الزراعية في دولة تسمى :

- البحرين - الإمارات - قطر - عمان ص ٩٢

١٥- يوجد سهل الباطنة في دولة خليجية :

- الإمارات - البحرين - الكويت - عمان ص ٩٢

١٦- مجموع الدخول التي تحصل عليها الدولة خلال عام :

- الصناعة - التجارة - الدخل القومي - الزراعة ص ٩٥

١٧- منطقة صناعية في مملكة البحرين :

إمسعيد - الفحل - شمال ستره - صحار ص ٩٦

١٨- تحويل مواد الخام إلى مواد مصنعة يمكن الاستفادة منها :

- الزراعة - الصناعة - التجارة - الدخل القومي ص ٩٥

١٩- تتركز صناعة النحاس بسلطنة عمان في منطقة صناعية :

- الرويس - الجبيل - صحار - إمسعيد ص ٩٦

السؤال الرابع : صنف الكلمات التالية حسب مكانها الصحيح في الجداول التالية :

أ. صنف الموائئ النفطية التالية إلى مكانها المناسب في الجدول التالي :

(جبل الظنة – الفحل – الأحمدى – سترة – إمسيعد – رأس تنورة) ص ٩٠

البحرين	قطر	الكويت	الإمارات	عمان	السعودية
سترة	إمسيعد	الأحمدى	جبل الظنة	الفحل	رأس تنورة

ب. صنف حقول النفط إلى مكانها المناسب في الجدول التالي :

(الروضتين - عوالي - دخان - بوحصا - خريص - ناطح - الغوار - فهود - برقان - مريان) ص ٩١

البحرين	قطر	الكويت	عمان	الإمارات	السعودية
عوالي	دخان	برقان	ناطح	بو حصا	خريص
		الروضتين	فهود	مريان	الغوار

د - صنف المناطق الزراعية حسب مكانها المناسب في الجدول التالي : ص ٩٢

(الوفرة - العين - العبدلى - سهل الباطنة - صلاحة - سهل تهامة - ليوا - سهل الأحساء)

الكويت	الإمارات	عمان	السعودية
الوفرة	العين	صلاحة	سهل تهامة
العبدلى	ليوا	سهل الباطنة	سهل الأحساء

ج. صنف المناطق الصناعية التالية حسب الدول التي تقع بها في الجدول التالي : ص ٩٦

(جبيل - صحار - شمال سترة - ينبع - إمسييد - جبل علي - الفحل - الرويس - الشعبية)

الكويت	الإمارات	السعودية	عمان	قطر	بحرين
الشعبية	جبل علي	جبيل	صحار	إمسييد	شمال سترة
	الرويس	ينبع	الفحل		

ص ٩٧

السؤال السادس : أكمل المخططات السهمية التالية :



السؤال السابع : حددي على خريطة شبه الجزيرة العربية أمامك باستخدام الرموز التالية :



- (١) أكبر حقل نفطي في دولة الكويت باستخدام الرقم (١) ص ٩١
- (٢) الدولة الخليجية الأولى في إنتاج النفط باستخدام الرقم (٢) ص ٨٨
- (٣) أشهر منطقة زراعية في الإمارات باستخدام الرقم (٣) ص ٩٢
- (٤) أهم منطقة صناعية في الكويت باستخدام الرقم (٤) ص ٩٧
- (٥) الدولة الخليجية التي تشتهر بصناعة النحاس باستخدام الرقم (٥) ص ٩٧
- (٦) أكبر حقل نفطي في السعودية باستخدام الرقم (٦) ص ٩١



السؤال الاول : فرق بين كل مما يلي من حيث التعريف:

احتياط النفط	إنتاج النفط ص ٨٨
كميات النفط المخزونة في باطن الأرض	كميات النفط التي يتم استخراجها للاستفادة منها

بيوت بلاستيكية	الزراعة بدون تربة ص ٩٤
يزرع فيها الخضروات في غير مواسمها (أوقاتها) وتقوم بحماية المحاصيل من تقلبات الطقس.	هي الزراعة التي تتم في بيئة مائية أو رملية أو حصى أو نشارة خشب تصاف إليها المحاليل الغذائية ص ٩٤

واردات	صادرات ص ٩٩
البضائع والسلع التي تشتريها دولنا من الخارج	السلع والمنتجات التي تبيعها دولنا في الخارج ص ٩٩

السؤال الثاني : عرف المفاهيم التالية :

١. إنتاج النفط : كميات النفط التي يتم استخراجها للاستفادة منها ص ٨٨
٢. احتياط النفط : كميات النفط المخزونة في باطن الأرض. ص ٨٨
٣. زراعة بدون تربة : الزراعة التي تتم في بيئة مائية أو رملية أو حصى أو نشارة خشب تضاف إليها المحاصيل الغذائية. ص ٩٤
٤. بيوت بلاستيكية : يزرع فيها الخضروات في غير مواسمها (أوقاتها) وتقوم بحماية المحاصيل من تقلبات الطقس. ص ٩٤
٥. الصناعة : تحويل مواد الخام إلى مواد يمكن الاستفادة منها. ص ٩٥
٦. الدخل القومي : هو مجموعة الدخل التي تحصل عليها الدولة خلال عام. ص ٩٥
٧. صادرات : السلع و المنتجات التي تبيعها دولنا في الخارج. ص ٩٩
٨. واردات : البضائع والسلع التي تشتريها دولنا من الخارج. ص ٩٩
٩. ترانزيت : إعادة تصدير البضائع المستوردة. ص ٩٩

WWW.KweduFiles.Com

السؤال الثالث : علل لما يلي :

١. اتجاه عمليات التنقيب عن النفط من الحقول الشمالية إلى الحقول الجنوبية ؟
بسبب اكتشاف كميات من النفط ضخمة في الحقول الجنوبية. ص ٨٧
٢. ظهور الحاجة إلى إقامة العديد من الموانئ النفطية في دول الخليج العربية ؟ ص ٩٠
 ١. تزايد الإنتاج الخليجي للنفط .
 ٢. تزايد الطلب العالمي عليه.
 ٣. ازدهار الصناعة و نمو الدخل القومي في دول الخليج العربية ؟
بسبب اكتشاف النفط و تصديره في دول الخليج العربية. ص ٩٥

٤. انتعاش الموانئ التجارية بدول الخليج العربية ؟

بسبب ارتباط دول الخليج العربية بعلاقات تجارية مع دول العالم متمثلة بالصادرات و الواردات و تجارة الترانزيت. ص ٩٩

٥. ترتبط دول الخليج العربية بعلاقات تجارية مع دول العالم ؟

بسبب انتعاش الموانئ التجارية بدول الخليج العربية. ص ٩٩

٦. توسع دول الخليج العربية في صناعة التكرير ؟

لزيادة الكميات المصدرة. ص ٩٥

السؤال الرابع : أجب عما يلي :

١. أهم الدول المستوردة النفط الكويتي ؟ ص ٩٠

أ. الولايات المتحدة الأمريكية.

ب. هولندا.

ت. اليابان.

٢. أنواع الصناعات القائمة على النفط في دول الخليج العربية ؟ ص ٩٥

أ. بتروكيماويات

ب. الغاز

ت. تكرير النفط

٣. عدد أنواع المحاصيل الزراعية في دول الخليج العربية ؟ ص ٩٣

أ. الخضروات

ب. الأرز ، القمح

٤. الجهود التي تتبعها حكومات مجلس التعاون لزيادة إنتاج المحاصيل الزراعية ؟ ص ٩٣

زراعة بدون تربة ، بيوت بلاستيكية ، توفر الأيدي العاملة ، الآلات الحديثة ، مبيدات حشرية.

٥. الحلول المناسبة للتغلب على صعوبات الزراعة ؟ ص ٩٣

توفر الأيدي العاملة ، بيوت بلاستيكية ، زراعة بدون تربة ، الأسمدة الكيماوية ، الآلات الحديثة، مبيدات حشرية.

٦. أسباب استخدام البيوت البلاستيكية ؟ ص ٩٤

زراعة النباتات في غير مواسمها ، تزيد الإنتاج ، حماية النباتات من تقلبات الطقس.

٧. الصعوبات التي تواجه مجال الزراعة ؟ ص ٩٢

فقر التربة ، المناخ الصحراوي ، قلة المياه (الأمطار)



السؤال الخامس : لاحظ الصور التالية ثم ضع عنوان مناسباً :

WWW.KweduFiles.Com



عملية تكرير النفط ص ٩٦




عملية التنقيب عن النفط ص ٨٧



تصدير أول شحنة للنفط الخام
الكويتي ص ٩٠



الزراعة في البيوت البلاستيكية في
دولة الكويت ص ٩٤



الزراعة بدون تربة ص ٩٤
٥٥



الصناعات في دول الخليج العربي
ص ٩٦



الوحدة الرابعة

أ- السكان في المنطقة العربية

ب- التشابه الثقافي بين سكان دول الخليج العربية



اولا : الاسئلة الموضوعية:

السؤال الأول : أكمل العبارات التالية بما يناسبها :

١. ترجع أصول السلالات السكانية في منطقة الخليج العربي إلى جنس البحر المتوسط ص ١٠٥
٢. تعتبر شبه الجزيرة العربية ملتقى الهجرات الخارجية القادمة من آسيا و أفريقيا ص ١٠٧
٣. تنقسم الهجرات إلى قسمين هجرات داخلية وهجرات خارجية ص ١٠٨
٤. يربط الخليج العربي بين قارات العالم القديم ص ١٠٨
٥. أستقبل الخليج العربي أصولا سكانية من كل المناطق المجاورة بحكم موقعه الجغرافي المهم ص ١٠٨
٦. الدولة الخليجية التي يفوق فيها نسبة المواطنين عن الوافدين هي السعودية ص ١١٢
٧. الدولة الخليجية التي تقل فيها نسبة المواطنين عن الوافدين هي الإمارات ص ١١٢
٨. أعلى نسبة للوافدين في دولة خليجية تسمى الإمارات ص ١١٢
٩. الكثافة السكانية في منطقة الخليج العربي كثافة منخفضة ص ١١٣
١٠. أكبر دولة خليجية من حيث المساحة دولة تسمى السعودية ص ١١٤
١١. أقل دولة خليجية من حيث المساحة دولة تسمى البحرين ص ١١٤
١٢. دولة خليجية تحتل المركز الأول في عدد السكان هي السعودية ص ١١٤
١٣. دولة خليجية تحتل المركز الرابع في عدد السكان خليجيا هي الكويت ص ١١٤
١٤. أعلى دوله خليجية من حيث الكثافة السكانية هي البحرين ص ١١٤
١٥. عدد السكان في دول الخليج العربية تزايد بسبب عاملين هما الزيادة الطبيعية والزيادة غير الطبيعية ص ١١٠
١٦. يتساوى عدد الوافدين بعدد المواطنين في دولتين خليجيتين هما البحرين وقطر ص ١١٢
١٧. البعثة التي كشفت الاثار الحضارية لمنطقة الخليج العربية تسمى البعثة الدنماركية ص ١٠٥

السؤال الثاني : صوب ما تحته خط في العبارات التالية :

- أصول السلالات في الخليج العربي ترجع إلى شمال آسيا البحر المتوسط وشرق أفريقيا ص ١٠٥
- ٢٩- وجدت آثار هيلي في دولة عمان الإمارات ص ١٠٥
- ٣٠- تعتبر شبه الجزيرة العربية ملتقى الهجرات الداخلية الخارجية ص ١٠٧
- ٣١- هاجر آل الصباح إلى البحرين الكويت ص ١٠٨
- ٣٢- تحتل دولة الكويت من حيث عدد السكان بالنسبة للدول الخليجية المركز الخامس الرابع ص ١١٤
- ٣٣- أكثر دولة خليجية من حيث الكثافة السكانية تسمى قطر البحرين ص ١١٤

السؤال الثالث : ضع خطأ تحت الخيار الصحيح من بين الخيارات التي تلى كل عبارة :

www.kwedufiles.com

- ١- معظم الاصول السكانية بدول الخليج العربية من : ص ١١٧
- شبة الجزيرة العربية - شرق افريقيا - أوروبا - شرق آسيا
- ٢- مجموعة من العادات و التقاليد و القيم في مجتمع من المجتمعات : ص ١١٨
- الحضارة - المجتمع - الثقافة - الروابط المشتركة
- ٣- من العادات و التقاليد التي جمعت ما بين دول الخليج العربية : ص ١١٨
- حرب تحرير الكويت - الدين الاسلامي - اللغة العربية - القريعيان
- ٤- يدين ابناء دول الخليج العربي بديانة : ص ١١٩
- الإسلامية - المسيحية - الوثنية - اليهودية
- ٥- الدولة الخليجية الوحيدة التي لم تتعرض للاستعمار الأجنبي : ص ١٢٠
- الكويت - البحرين - قطر - السعودية

٦- تقع قلعة البرتغال في دولة خليجية : ص ١٢٠

- الكويت - البحرين - الإمارات - عمان

٧- تحتفل دولة الكويت بعيد تحريرها من الغزو العراقي بتاريخ : ص ١٢٣

- ٢٣/فبراير - ٢٤/فبراير - ٢٥/فبراير - ٢٦/فبراير

٨- استقلت دولة الكويت من الاستعمار البريطاني بتاريخ : ص ١٢٣

- ٢٥/فبراير - ٢٦/فبراير - ٢٧/فبراير - ٢٨/فبراير

٩- عالم فلك كويتي قدم الكثير لعلم الفلك بتقديمه هذا العلم للعرب والمسلمين : ص ١٢٢

- محمد العجيري - عبدالله العجيري - احمد العجيري - صالح العجيري

WWW.KweduFiles.Com

السؤال الرابع : اكتب المفاهيم أو المصطلحات الدالة على العبارات التالية :

المفهوم	العبرة
(الثقافة)	- مجموعة من العادات و التقاليد و القيم في مجتمع من المجتمعات . صفحه ١١٨

السؤال الخامس : ضع علامة (✓) أمام العبارة الصحيحة و علامة (✗) أمام العبارة الخاطئة :

م	العبارة	العلامة
١	الدولة الخليجية الوحيدة التي لم تتعرض للاستعمار الاوروبي هي السعودية . صفحہ ١٢٠	✓
٢	جميع دول الخليج العربية تعرضت للاستعمار الاوروبي . صفحہ ١٢٠	✗
٣	تتشابه جميع دول الخليج العربية بالظروف الاقتصادية . صفحہ ١٢٠	✓

السؤال السادس : صوب ما تحته خط في العبارات التالية :

م	العبارة	التصويب
١	للدلالة على سكان منطقة الخليج العربي يفضل بعض العرب استخدام كلمة <u>عربيين</u> ص ١١٧	(خليجيين)
٢	يدين سكان دول الخليج العربية الديانة <u>المسيحية</u> . ص ١١٩	(الاسلامية)
٣	ترجع الاصول السكانية بدول الخليج العربي معظمها من <u>شرق افريقيا</u> . ص ١١٧	(شبه الجزيرة العربية)
٤	مجموعة من العادات و التقاليد و القيم في مجتمع من المجتمعات تسمى <u>الحضارة</u> . ص ١١٨	(الثقافة)
٥	يتحدث أبناء دول الخليج العربي <u>اللغة الأجنبية</u> . ص ١١٩	(العربية)
٦	جميع الدول الخليجية تعرضت للاستعمار الأجنبي ماعدا <u>دولة الكويت</u> . ص ١٢٠	(المملكة العربية السعودية)
٧	تحتفل دولة الكويت يوم ٢٦/فبراير بفرحة تحريرها تاريخ من <u>الغزو البريطاني</u> . ص ١٢٢	(الغزو العراقي)
٨	يمثل تاريخ ٢٥/فبراير لدولة الكويت تاريخا لاستقلالها من <u>الاستعمار البرتغالي</u> . ص ١٢٣	(البريطاني)

السؤال السابع: صنف الكلمات التالية حسب مكانها الصحيح في الجداول التالية :

- صنف الحضارات التالية حسب الجدول ص ١٠٥

(دلمون - هيلي - أم النار - دبا - تاروت)

الحضارة	ام النار	تاروت	دبا	هيلي	دلمون
الدولة	قطر	السعودية	عمان	الإمارات	البحرين

- صنف هجرات القبائل حسب الجدول ص ١٠٨

(آل الصباح - آل خليفة - المعاضيد - البوسعيد و اليعاربة - القواسم - بني ياس) .

القبائل	المعاضيد	البوسعيد و اليعاربة	القواسم	بني ياس	آل خليفة	آل الصباح
المكان	قطر	عمان	رأس الخيمة	أبو ظبي	البحرين	الكويت

السؤال الثامن: صل بين المجموعة (أ) والمجموعة (ب) بوضع الرقم المناسب بين الأقواس :-

ص ١٠٥

المجموعة (أ)	الرقم المناسب	المجموعة (ب)	
الكويت	(٥)	دبا	١-
الإمارات	(٣)	دلمون	٢-
البحرين	(٦)	ام النار	٣-
السعودية	(١)	الهليستية	٤-
عمان	(٢)	هيلي	٥-
قطر	(٤)	تاروت	٦-

(٢) رتب الدول الخليجية العربية حسب عدد السكان من الأكثر إلى الأقل سكانا: ص ١١٤



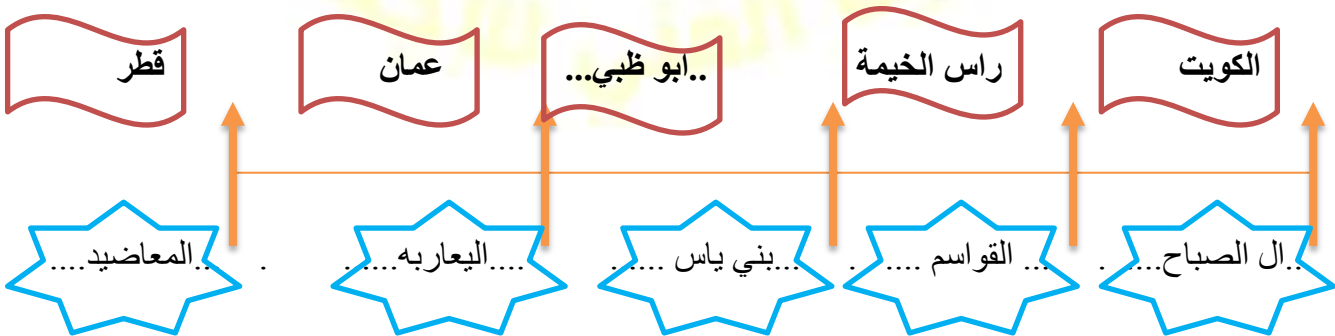
السؤال التاسع: استنتج الرابط بين العناصر التالية :

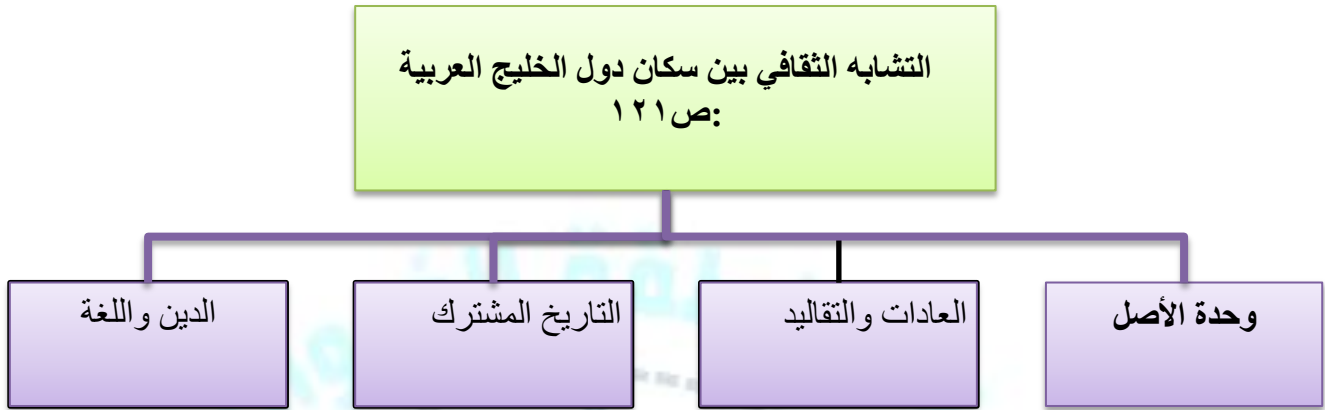
١- (الدين و اللغة - العادات و التقاليد - وحدة الاصل) . (الروابط التي تربط بين ابناء دول الخليج العربية) ص ١٢١

٢- (الأعراس - الزي - القرقيعان - العلاقات الاسرية) (العادات و التقاليد) ص ١١٨

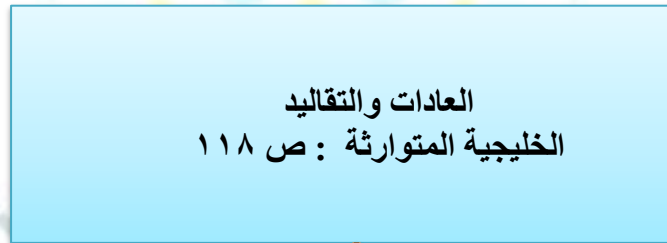
السؤال العاشر : أكمل المخططات السهمية التالية :

١- الهجرات التي اتجهت إلى دول الخليج العربية: ص ١٠٨






WWW.KweduFiles.Com



السؤال الحادي عشر : اختر من المجموعة (أ) ما يرتبط بها من المجموعة (ب) بوضع الرقم المناسب :

م	المجموعة (أ)	الرقم المناسب	المجموعة (ب)
١	الدين و اللغة ص ١١٩	١	
٢	العادات والتقاليد المشتركة ص ١١٨	٣	
٣	التاريخ المشترك ص ١٢٠	٢	

السؤال الثاني عشر: لاحظ الشكل التالي ، ثم أجب عن الاسئلة التالية :



١- اكتب حقيقة لهذه الصور .

هناك العديد من الروابط التي تجمع ما بين ابناء دول الخليج العربي .

٢- عدد الروابط التي تربط بين أبناء دول الخليج العربية .

- وحدة الاصل . ص ١١٧
- العادات والتقاليد . ص ١١٨

٣- ما معنى الثقافة ؟ ص ١١٨

- مجموعة من العادات والتقاليد و القيم في مجتمع من المجتمعات .



السؤال الثالث عشر : ضع عنوانا مناسباً للصور التالية : ص ١١٨ - ١١٩

(القرقيعان / العادات والتقاليد)



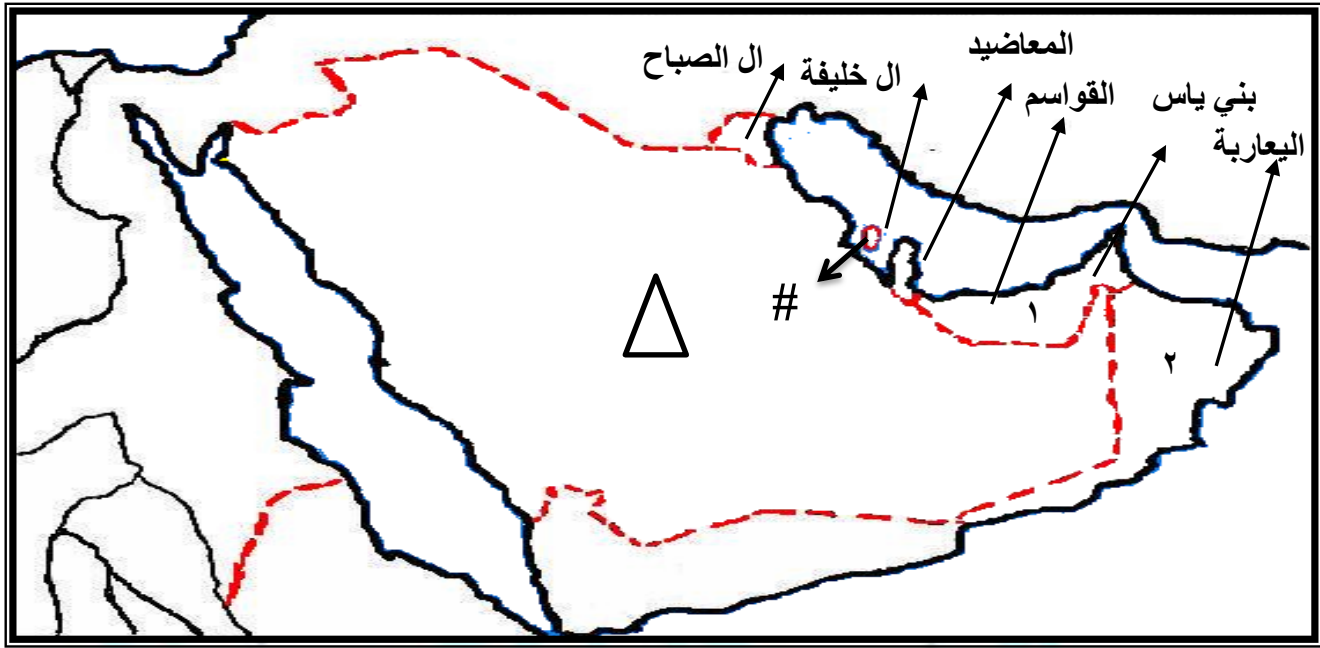
(التاريخ المشترك)



(الزبي الخليجي / عادات وتقاليد)



السؤال الرابع عشر : حدد على خريطة شبه الجزيرة العربية أمامك باستخدام الرموز التالية :



١- حدد أماكن الجماعات والمناطق التي استقروا فيها .

(آل الصباح - المعاضيد - آل الخليفة - القواسم - بني ياس - اليعاربة) ص ١٠٨

٢- ضع الرمز Δ علي أكبر دولة خليجية من حيث اعداد السكان . ص ١١٤

٣- ضع الرقم ١ علي اقل دولة خليجية من حيث اعداد المواطنين مقارنة بالوافدين . ص ١١٢

٤- ضع الرقم ٢ علي الدولة الخليجية التي قامت بها حضارة دبا . ص ١٠٥

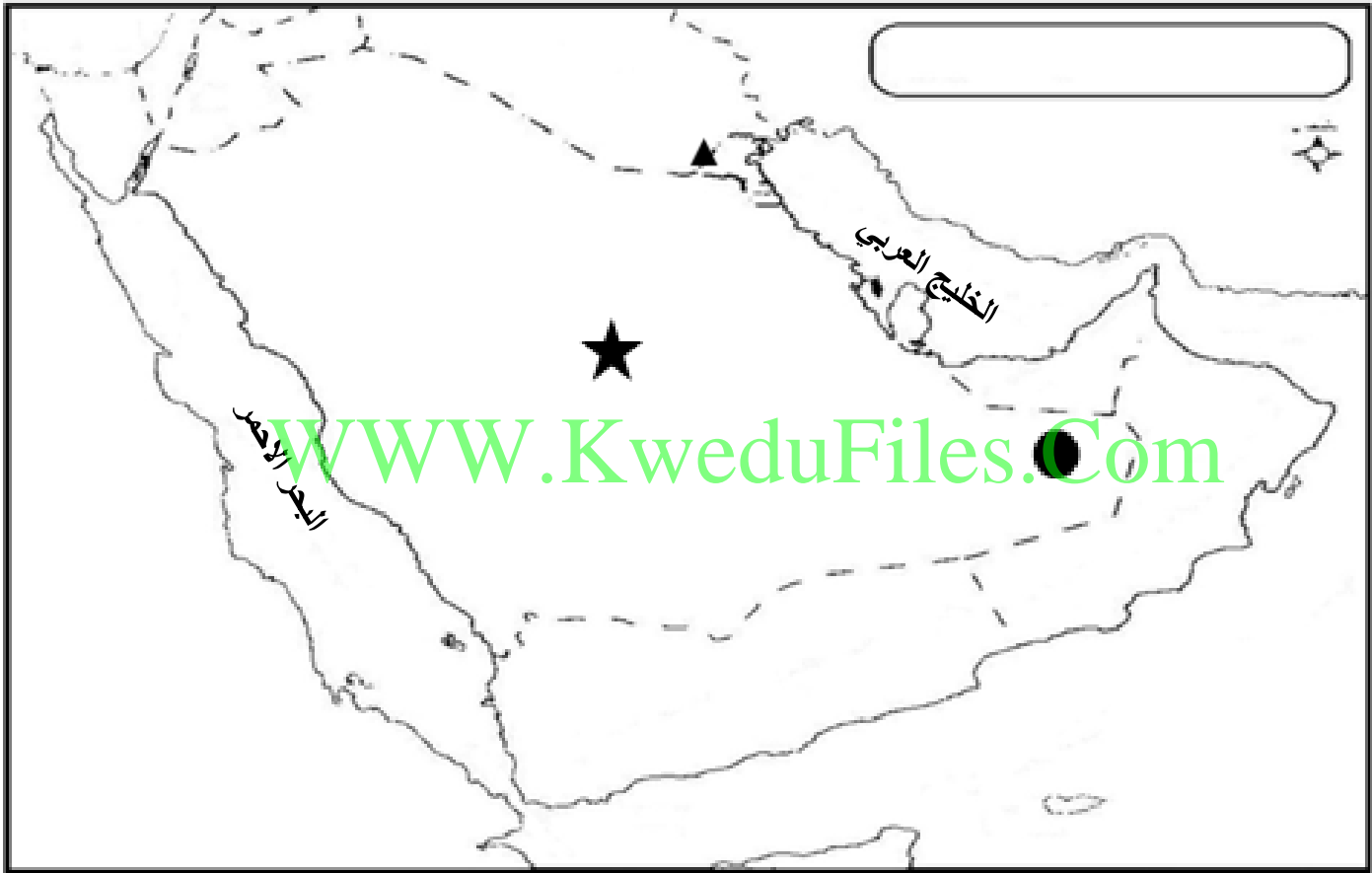
٥- ضع الرمز # علي اعلي الدول الخليجية من حيث الكثافة السكانية . ص ١١٤

امامك خريطة شبة الجزيرة العربية الصماء نفذ المطلوب عليها :

١- دولة الكويت يمثلها على الخريطة الرمز (▲) .

٢- الدولة الخليجية الوحيدة التي لم تتعرض للاستعمار الاجنبي يمثلها على الخريطة الرمز (★) .

٣- حددي كتابيا : (الخليج العربي - البحر الأحمر)



ثانيا : الاسئلة المقالية :

السؤال الاول :قارن بين الزيادة الطبيعية والزيادة غير الطبيعية من حيث التعريف والسبب والعوامل :
ص ١١٠

وجه المقارنة	التعريف	الأسباب
الزيادة الطبيعية	الفرق بين عدد المواليد وعدد الوفيات	١- توفر الرعاية الصحية ٢- توفر الخدمات ٣- توفر الأمن
الزيادة غير الطبيعية	هي التي تتم عن طريق الهجرة	١- توفر فرص العمل ٢- توفر الامن ٣- ارتفاع دخل الفرد

www.KweduFiles.Com

السؤال الثاني : عرف المفاهيم التالية :

١- السلالة : مجموعه من الناس تشترك فيما بينها في الصفات الجسمانية الرئيسية كلون الجلد وشكل الانف وشكل الشعر

وطول القامة وما اليها وتختلف عن غيرها من السلالات في هذه الصفات . ص ١٠٦

٢- النمو السكاني : هو التغيير الذي يحدث لعدد السكان نتيجة للزيادة الطبيعية وغير الطبيعية ص ١١١

٣- الكثافة السكانية : عدد السكان ÷ مساحة الدولة ص ١١٤

٤- الثقافة : ص ١١٨ : مجموعة من العادات والتقاليد و القيم في مجتمع من المجتمعات .

السؤال الثالث : علل لما يلي :

٨ - استقبال دول الخليج العربي موجات سكانية من كل المناطق ص ٠ ص ١٠٨

..... بسبب موقعه الجغرافي المهم بين قارات العالم القديم

٩- خروج الهجرات العربية من شبه الجزيرة العربية الي الساحل الغربي للخليج العربي . ١٠٨

.....بسبب ظروف الجفاف الصحراوي

١٠- استمرار تزايد السكان في دولة الكويت ودول الخليج العربية . ص ١١٠

..... بسبب الزيادة الطبيعية والزيادة غير الطبيعية

السؤال الرابع : اقرأ القطعة التالية ثم أجب عن الاسئلة التي تليها :

الكثافة السكانية تبدو منخفضة في منطقة الخليج العربي وليس هذا قريبا في إقليم صحراوي ظل طوال القرون الماضية في فقر شديد، ولم يصبح كمنطقة جذب سكاني إلا بعد اكتشاف النفط ، وساهم الموقع الجغرافي في نمو وازدهار صناعة النفط . ص ١١٣

١. عرف ما تحته خطأ ؟ ص ١١٤

عدد السكان

الكثافة السكانية =

مساحة الدولة

٢. ماهي أكبر دولة خليجية في المساحة ؟ **السعودية**

٣. ماهي أصغر دولة خليجية في المساحة ؟ **البحرين**

٤. ماهي أكثر دولة خليجية في الكثافة السكانية للفرد في كم ٢ ؟ **البحرين**

٥. ماهي أكثر دولة خليجية في النمو السكاني ؟ **سلطنة عمان**

٢- اقرأ الفقرة التالية ثم اجب عما يليها من أسئلة :

(يتشابه سكان دول الخليج العربية تشابها كبيرا بل ان كثيرا من الناس الذين يزورون المنطقة لأول مره لا يستطيعون ان يميزوا بين من هو كويتي او سعودي او اماراتي او بحريني او قطري او عماني ، و هذا التشابه الثقافي بين دول الخليج العربية جعلت بعض الاخوة العرب يفضلون استخدام كلمة خليجيين للدلالة على سكان هذه المنطقة بدلا من اطلاق لفظ الدولة .) ص ١١٧

١- استخلص حقيقة من الفقرة السابقة .

• هنالك تشابه كبير بين سكان دول الخليج العربية كالتشابه الثقافي والتاريخ والعادات والتقاليد والدين واللغة

٢- اقترح عنوانا مناسباً للفقرة .

• التشابه الثقافي بين سكان دول الخليج العربية .

٣- اذكر اثنين من الروابط التي تربط ما بين ابناء دول الخليج العربي . ص ١١٨ - ١١٩ - ١٢٠

www.KweduFiles.Com

• الدين واللغة .

• وحدة الاصل .

٤- عددي اهم العادات والتقاليد المتوارثة ما بين ابناء دول الخليج العربي . ص ١١٨

• الزي - طريقة الاحتفال بالأعياد - الاعراس - المناسبات الوطنية - العلاقات الاسرية - القرقيعان.



السؤال الخامس : برهن عن ما يلي :

١- برهن على ان هناك تشابه ثقافي بين سكان دول الخليج العربية . ص ١١٧

• بسبب الروابط التي تربط ما بين ابناء الخليج (وحدة الاصل - العادات والتقاليد - الدين واللغة - التاريخ المشترك) .

٢- برهن على ان من الصعب التفريق بين أبناء دول الخليج العربي ومعرفة من هو كويتي او سعودي او بحريني

او قطري او اماراتي او عماني .

- بسبب التشابه الثقافي ما بين ابناء دول الخليج العربي . ص ١١٧
- ٣- برهن على ان العادات والتقاليد الخليجية المتوارثة متشابهة . ص ١١٨
- الزي – طريقة الاحتفال بالأعياد – الاعراس – المناسبات الوطنية – العلاقات الاسرية – القرقيعان .
- ٤- برهن على ان دول الخليج العربية كالجسد الواحد في السراء و الضراء . ص ١٢٠
- التاريخ المشترك ما بين دول الخليج العربي .
- قال رسول الله صلى الله عليه وسلم : (مثل المؤمنين في توادهم وتراحمهم وتعاطفهم كمثل الجسد الواحد اذا اشتكى منه عضو تداعى له سائر الجسد بالسهر والحمى

السؤال السادس : اذكر ما تعرفه عن :

١- اهم الروابط التي تربط بين أبناء دول الخليج العربية ؟ ص ١٢١

وحدة الاصل – العادات والتقاليد – الدين واللغة – التاريخ المشترك

٢- اهم العادات والتقاليد المتوارثة بين أبناء دول الخليج العربية ؟ ص ١١٨

الزي – طريقة الاحتفال بالأعياد – الاعراس – المناسبات الوطنية – العلاقات الاسرية – القرقيعان .

السؤال السابع : اجب عن الاسئلة التالية :

١- اذكر ابرز العادات والتقاليد المتوارثة ما بين ابناء دول الخليج العربي . ص ١١٨

الزي – طريقة الاحتفال بالأعياد – الاعراس – المناسبات الوطنية – العلاقات الاسرية – القرقيعان .

٢- عدد اهم الروابط التي تربط ما بين ابناء دول الخليج العربية . ص ١٢١

وحدة الاصل – العادات والتقاليد – الدين واللغة – التاريخ المشترك .

٣- التشابه الثقافي ما بين ابناء دول الخليج العربية . ص ١٢١

• بسبب الروابط التي تربط ما بين ابناء الخليج (وحدة الاصل – العادات والتقاليد – الدين واللغة – التاريخ المشترك) .

٤- عامل جذب لمنطقة الخليج العربية .

- الموقع الجغرافي المهم بين قارات العالم القديم

الوحدة الخامسة

WWW.KweduFiles.Com

أ. تتعاون دولة الكويت مع دول الخليج العربية من اجل

تحقيق اهداف مشتركة

ب. المشكلات التي تواجه دول الخليج العربية

الاسئلة الموضوعية :

السؤال الاول : أكمل العبارات التالية بما يناسبها:

- ١- انشأ مجلس التعاون الخليجي قوات درع الجزيرة في عام ١٩٨٤..... ص ١٢٩
- ٢- الدولة التي يوجد فيها مقر قوات درع الجزيرة تسمى...السعودية..... ص ١٢٩
- ٣- المدينة التي تم فيها الإعلان عن قيام السوق الخليجية المشترك تسمى...الدوحة... ص ١٣٠
- ٤- العام الذي قام فيه النظام العراقي البائد بغزو دولة الكويت هو...١٩٩٠.... ص ١٣٩

السؤال الثاني :صح ماتحته خط واكتب الإجابة الصحيحة فيما بين القوسين:

- ١- الضرر الذي يصيب عناصر البيئة الأساسية(هواء-ماء-تربة) فتنحول من عناصر مفيدة إلى عناصر ضارة يسمى طبقة الأوزون. (التلوث) ص ١٣٣
- ٢- دخول مواد غريبة في التربة مما يلحق الضرر في خواصها ومكوناتها يسمى التلوث. (التلوث الأرضي) ص ١٣٤
- ٣- تعرض الغلاف الجوي لمواد تسبب الضرر للإنسان والكائنات الحية الأخرى وتؤدي إلى الإضرار بالبيئة الطبيعية يسمى التلوث الأرضي. (التلوث الهوائي) ص ١٣٤
- ٤- درع واقٍ للأحياء ضد خطر الأشعة فوق البنفسجية الضارة يسمى التلوث المائي. (طبقة الأوزون) ص ١٣٥
- ٥- إحداث إفساد لنوعية المياه من خلال إدخال مواد ضارة بها من قبل الإنسان مما يؤدي إلى حدوث خلل في النظام المائي يسمى التلوث. (التلوث المائي) ص ١٣٦

السؤال الثالث :ضع خطأ تحت البديل المناسب من بين البدائل التي تلي كل عبارة مما يلي:

- ١- صدر إعلان الدوحة بشأن قيام السوق الخليجية المشترك في يناير عام (٢٠٠٧- ٢٠٠٨- ٢٠٠٩- ٢٠١٠) ص ١٣٠
- ٢- عدد الآبار النفطية التي أشعلها النظام العراقي البائد (٧٤٧ بئراً- ٧٣٧ بئراً- ٧٦٧ بئراً- ٧٧٧ بئراً) ص ١٣٩

٣-الدولة التي يوجد فيها مقر قوات درع الجزيرة هي

(الكويت- **السعودية**- قطر -عمان)ص ١٢٩

٤-المدينة التي تم فيها الإعلان عن قيام السوق الخليجية المشترك هي

(**الدوحة**- الكويت-أبوظبي- الرياض)ص ١٣٠

٥- المدينة التي يقع فيها مقر مكتب التربية العربي هي

(الكويت- **الرياض**-أبوظبي-الدوحة)ص ١٣٠

٦-انشأ مجلس التعاون الخليجي قوات درع الجزيرة في عام

(١٩٨٣-١٩٨٤-١٩٨٨-١٩٨٧)ص ١٢٩

السؤال الرابع : أوجد حل للمعادلة التالية:

WWW.KweduFiles.Com

١- التلوث الهوائي + التلوث الأرضي + التلوث المائي + التلوث الضوضائي (أنواع التلوث) ص ١٣٣

٢- الاخطار الخارجية + الاعتماد على الموارد النفطية فقط + الغزو الثقافي + الأمن الغذائي + التلوث البيئي

+ ندرة المياه الجوفية (التحديات) ص ١٣٢

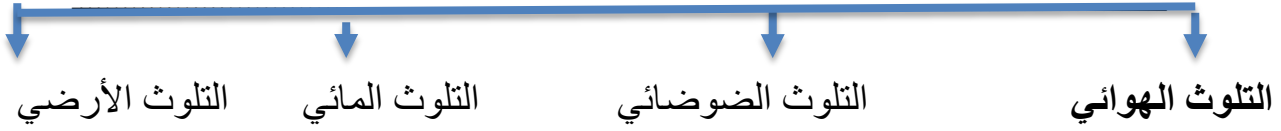
٣- سيارات + حرق النفايات + المبيدات الحشرية (مصادر تلوث الهواء الغير طبيعية) ص ١٣٤

٤- براكين + عواصف ترابية (مصادر تلوث الهواء طبيعية) ص ١٣٤


٥- تربية خاطئة + الإحباط (العنف) ص ١٤٦

السؤال الخامس : أكمل المخططات السهمية التالية:

أنواع التلوث ص ١٣٣



مجالات التعاون بين دول مجلس التعاون الخليجي ص ١٢٩-١٣٠



www.KweduFiles.Com

السؤال السادس : اختر الإجابة التي لا تنتمي إلى المجموعة فيما يلي بوضع دائرة حولها:

١- مصادر تلوث الهواء الغير طبيعية ص ١٣٤

(السيارات - البراكين - المصانع - المبيدات الحشرية)

٢- أسباب التلوث الضوضائي ص ١٣٨

(أعمال النجارة - أجهزة التسجيل - الآلات الكهربائية - مياه الصرف)

٣- أسباب التلوث الهوائي ص ١٣٨

(اكسجين - ثاني اكسيد الكربون - اشعاعات نووية - أول اكسيد الكربون)

٤- أسباب التلوث البحري ص ١٣٨

(مخلفات المصانع - حرق الغابات - نفايات خطرة - النفط ومشتقاته)

السؤال السابع: أكمل الناقص في المربعات التالية:



السؤال الثامن : أمامك مجموعة من مجالات التعاون بين دول مجلس التعاون الخليجي صنّفها حسب المظاهر التي تمثلها:

١- صنّف مظاهر التعاون بين دول مجلس التعاون الخليجي حسب المجال المناسب له في الجدول التالي:

(مناصرة القضايا العادلة- انشاء درع الجزيرة- قيام السوق الخليجية المشتركة- انشاء مكتب التربية العربي-

زيادة التبادل التجاري- توحيد المناهج التعليمية – اجتماع وزراء التربية والتعليم- المشاركة في تحرير الكويت-

المناورات العسكرية- توحيد الموقف السياسي تجاه عدوان النظام العراقي- احتلال الجزر الاماراتية- قبول

ابناء دول مجلس التعاون في الكليات العسكرية) ص ١٢٩-١٣٠

التعاون الاقتصادي	التعاون العسكري	التعاون الثقافي	التعاون السياسي
..قيام السوق الخليجية المشتركةزيادة التبادل التجاري..	..انشاء درع الجزيرة.. ..المشاركة في تحرير الكويت.. ..المناورات العسكرية.. ..قبول ابناء دول مجلس التعاون في الكليات العسكرية..	..انشاء مكتب التربية العربي.. ..توحيد المناهج التعليمية.. ..اجتماع وزراء التربية والتعليم..	..مناصرة القضايا العادلة.. ..توحيد الموقف السياسي تجاه عدوان النظام العراقي.. ..احتلال الجزر الاماراتية..

٢- صنف مصادر تلوث الهواء حسب مكانها الصحيح: ص ١٣٤

(سيارات وطائرات – براكين – الصناعة- عواصف ترابية- حرق النفايات- مبيدات حشرية)

مصادر طبيعية	مصادر غير طبيعية
براكين-عواصف ترابية	سيارات وطائرات-الصناعة-حرق النفايات – مبيدات حشرية



السؤال التاسع : اختر من مجموعة (أ) مايناسبها في المجموعة (ب) بوضع الرقم المناسب في مكانه الصحيح:

الرقم	أ	الرقم المناسب	ب
١	درع الجزيرة ص ١٢٩	٤	التعاون السياسي
٢	توحيد المناهج التعليمية ص ١٣٠	١	التعاون العسكري
٣	التبادل التجاري ص ١٣٠	٣	التعاون الاقتصادي
٤	قضية فلسطين ص ١٢٩	٢	التعاون الثقافي
٥			التعاون الاجتماعي

٢- اختر للمجموعة (أ) مايناسبها في المجموعة (ب) بوضع الرقم المناسب في مكانه الصحيح:

الرقم	أ	الرقم المناسب	ب
١	التلوث الهوائي ص ١٣٤	٢	آلات تسجيل
٢	التلوث الضوضائي ص ١٣٤	٣	الصرف الصحي
٣	التلوث المائي ص ١٣٦	١	أول اكسيد الكربون
٤			دخول مواد غريبة بالتربة

٣- اختر من المجموعة (أ) ما يناسبها في المجموعة (ب) بوضع الرقم المناسب في مكانه الصحيح:

الرقم	أ	الرقم المناسب	ب
١	إحداث إفساد لنوعية المياه من خلال إدخال مواد ضارة بها من قبل الإنسان مما يؤدي إلى حدوث خلل في النظام المائي	٤	طبقة الأوزون ص ١٣٥
٢	تعرض الغلاف الجوي لمواد تسبب الضرر للإنسان والكانات الحية الأخرى وتؤدي إلى الإضرار بالبيئة الطبيعية	٣	التلوث الأرضي ص ١٣٤
٣	دخول مواد غريبة في التربة مما يلحق الضرر في خواصها ومكوناتها.	٥	التلوث ص ١٣٣
٤	درع واقٍ للأحياء ضد خطر الأشعة فوق البنفسجية الضارة	٢	التلوث الهوائي ص ١٣٤
٥	الضرر الذي يصيب عناصر البيئة الأساسية (هواء- ماء-تربة) فتنحول من عناصر مفيدة إلى عناصر ضارة.	١	التلوث المائي ص ١٣٦
٦			التلوث الضوضائي

٤) اختر للمجموعة (أ) ما يرتبط بها من المجموعة (ب) بوضع الرقم المناسب.

أسباب مشكلة العنف عند المتعلمين ص ١٤٩

م	المجموعة (أ)	الرقم المناسب	المجموعة (ب)
١	أسباب بيئية عامة	٢	التربية الخاطئة للطفل
٢	أسباب أسرية	٣	عدم الرغبة في مواصلة الدراسة
٣	أسباب نفسية	١	وقت الفراغ وأصحاب السوء
٤			تقليد الغرب

السؤال العاشر : اكتب في الجدول نوع التعاون الذي تمثله كل صورة: ص ١٣١

التعاون الاقتصادي..	التعاون السياسي..	التعاون الثقافي....	التعاون العسكري..
			

٢- اكتب في الجدول نوع التلوث الذي تمثله كل صورة: ص ١٣٣

التلوث الهوائي..	التلوث البحري..	التلوث الأرضي..	التلوث الضوضائي..
			

٣- لاحظ الصور التالية ثم اختر الافضل من كل مجموعة بوضع دائرة عليها مع ذكر السبب:



السبب : يجب عدم رمي النفايات على الارض / دور عامل النظافة تنظيف
الاماكن العامة فقط ص ١٤٤



السبب : دور الوالدين في تربية الابناء وتقليص دور العاملة المنزلية بالتنظيف
فقط ص ١٤٣

www.KweduFiles.Com



السبب : تربية الاب لأبنائه واهتمامه بهم ص ١٤٣



السبب : تربية الابناء من واجب الام فالعاملة المنزلية وظيفتها التنظيف
والمساعدة فقط ص ١٤٣

٤- لاحظ الصور التالية ثم اجب عن الاسئلة التالية : ص ١٤٤ - ١٤٥



العنف باللفظي



اتلاف الممتلكات



العنف في المدارس



السرقه احد انواع العنف



الضرب والاعتداء على

WWW.KweduFiles.Com

١- اكتب تعليقا مناسباً اسفل كل صورة .

٢- ما هي اشكال العنف ؟

- الضرب والاعتداء على الاخرين - السرقة والقتل - اتلاف الممتلكات العامة - العنف اللفظي

٣- عرف العنف ؟

هو ذلك السلوك العدواني الموجه ضد الغير والذي يتسم بالتخريب والتدمير سواء كان ذلك عنف اقوالا او افعالا



السؤال الاول : عرف كل مما يلي:

١- التلوث: هو الضرر الذي يصيب عناصر البيئة الأساسية (هواء-ماء-تربة) فتنحول من عناصر مفيدة إلى عناصر ضارة.

ص ١٣٣

٢- التلوث الأرضي (التربة): دخول مواد غريبة في التربة مما يلحق الضرر في خواصها ومكوناتها. ص ١٣٤

٣- التلوث الهوائي: هو تعرض الغلاف الجوي لمواد تسبب الضرر للإنسان والكائنات الحية الأخرى وتؤدي إلى الإضرار بالبيئة

الطبيعية. ص ١٣٤

٤- طبقة الأوزون: هي درع واقٍ للأحياء ضد خطر الأشعة فوق البنفسجية الضارة. ص ١٣٥

٥- التلوث المائي: هو إحداث إفساد لنوعية المياه من خلال إدخال مواد ضارة بها من قبل الإنسان مما يؤدي إلى حدوث خلل في

النظام المائي. ص ١٣٦

٦- التلوث الضوضائي: أصوات غير متجانسة تجتاز شدتها المعدل الطبيعي المسموح به للأذن. ص ١٣٤

٧- عمالة منزلية: مجموعة من الأفراد الذين يشاركون الأسرة في دور أو أكثر داخل المنزل أو خارجه من المربيات

والطباخين والسائقين والخدم ص ١٤٢

٨- العنف: هو ذلك السلوك العدوانى الموجه ضد الغير ، والذي يتسم بالتخريب والتدمير سواء كان ذلك السلوك أقوالاً أو

أفعالاً . ص ١٤٤

السؤال الثاني : اقرأ الفقرة التالية ثم اجب عما يلها من اسئلة:ص ١٣٩

((تعرضت دولة الكويت إلى الغزو العراقي الغاشم وذلك في يوم الخميس الموافق ٢-٨-١٩٩٠م والذي أدى إلى أضرار بيئية كبيرة. حيث امتد تأثيره التدميري على البيئة الكويتية البرية والبحرية والهوائية. حيث قام بإحراق عددا من الآبار النفطية كما لجأ إلى ضخ النفط متعمداً في مياه البحر، وقد أحدثت هذه البحيرات تلوثاً للتربة وتدميراً للحياة الفطرية وإشعال كميات كبيرة من الدخان محدثاً تلوثاً هوائياً هائلاً))

١- متى تعرضت دولة الكويت للغزو العراقي الغاشم؟

يوم الخميس ٢-٨-١٩٩٠

٢- كم يبلغ عدد آبار النفط التي دمرها النظام العراقي الغاشم؟

٧٣٧ بئراً

٣- ماهي مظاهر التلوث الناجمة عن الغزو العراقي الغاشم لدولة الكويت؟

إحراق أكثر من ٧٣٧ بئراً / ضخ النفط متعمداً في مياه البحر تدمير الحياة الفطرية/كميات كبيرة من الدخان/تساقط الرذاذ النفطي / آثار خطيرة على صحة الانسان والكائنات الحية/وتنتج عنه تلوث مائي و هوائي وارضى



www.KweduFiles.Com

٢- اقرأ الفقرة التالية ثم اجب عما يلها من أسئلة: ص ١٤١

شهدت منطقة الخليج العربية تغيرات كبيرة وسريعة بعد ظهور النفط ، شملت مختلف جوانب الحياة الاجتماعية والاقتصادية والسياسية ، وانعكست على الأسرة والعلاقات والتقاليد ، وقد نتج عن ذلك بروز مظاهر ومشكلات اجتماعية جديدة.

(أ) اقترح عنواناً مناسباً للفقرة السابقة .

المشكلات الاجتماعية

(ب) صح أم خطأ:

١- شملت التغيرات في المجتمعات الخليجية الجوانب الاجتماعية فقط. (*)

٢- تأثرت القيم المتعلقة بالأسرة والعادات والتقاليد بالتغيرات الاجتماعية. (/)



٣- اقرأ الفقرة التالية ثم أجب عما يليها من أسئلة:

يرى العلماء أن العنف مرض اجتماعي أكثر منه جريمة ، فهو عادة متعلمة (أي يتعلمها الإنسان) تزيد كلما مارس الإنسان مزيداً من العنف ، وهذا إنذار للمجتمع ، ويرى العلماء أن الإنسان بطبعه ليس عدوانياً إنما يتفجر العنف بداخله كلما تعرض للإحباط ويتكون العنف لدى الإنسان منذ وقت مبكر في حياته والنتيجة عن خلل في التنشئة الاجتماعية ، بمعنى أن الإنسان يتكون عنده السلوك العدواني من أسرته أو مجتمعه ، والمشكلة أن العنف يولد العنف ص ١٤٦

(أ) ما المقصود بما تحته خط. ص ١٤٤

العنف : هو ذلك السلوك العدواني الموجه ضد الغير ، والذي يتسم بالتخريب والتدمير سواء كان ذلك السلوك أقوالاً أو أفعالاً

(ب) اذكر أسباب العنف. ص ١٤٦

١- التربية الخاطئة ٢- الإحباط ٣- أسباب نفسية ٤- أسباب أسرية ٥- أسباب بيئية عامة

(ج) صح أم خطأ: ص ١٤٦

١- العنف ظاهرة موروثية (*)

٢- العنف لا يولد العنف. (*)



السؤال الثالث : علل :

١- انشأ مجلس التعاون الخليجي قوات درع الجزيرة.ص١٢٩

حماية أو مساندة أي دولة عضو في المجلس تتعرض للعدوان.

٢- علل لما يلي : ١- حدوث التلوث البحري.ص١٣٦

مخلفات المصانع/مياه الصرف الصحي الغير معالجة/مياه الصرف الزراعي

النفط ومشتقاته/النفائيات الخطرة/الأمطار الحمضية.

السؤال الرابع : اجب عن الاسئلة التالية :

١- اذكر :مظاهر التلوث الناجمة عن الغزو العراقي الغاشم على دولة الكويت. ص١٣٩

إحراق أكثر من ٧٣٧ بئراً /ضخ النفط متعمداً في مياه البحر

تدمير الحياة الفطرية/كميات كبيرة من الدخان/تساقط الرذاذ النفطي/ آثار خطيرة على صحة الانسان والكائنات الحية.

تلوث هوائي / تلوث مائي / تلوث ارضي

٢- اذكر :أهداف الدور الهام الذي تلعبه دولة الكويت مع دول مجلس التعاون. ص١٣٢

ترسيخ الامن والاستقرار في منطقة الخليج العربي/تعزيز التكامل الاقتصادي وصولاً إلى الوحدة الخليجية المنشودة ومواجهة

التحديات.

٣- عدد: نتاج تلوث التربة. ص١٣٤

ضعف قدرتها على الإنتاج الزراعي/تلوث الإنتاج الزراعي مما يؤثر على صحة الإنسان.

٤- اذكر :التحديات التي تواجه دول الخليج العربية.ص١٣٢

الأخطار الخارجية والداخلية/الأمن الغذائي/التلوث البيئي/ندرة المياه الجوفية/الغزو الثقافي/الاعتماد على الموارد النفطية فقط.

٥- عدد: مظاهر التعاون السياسي بين دول مجلس التعاون الخليجي.ص ١٢٩

ادانة احتلال الجزر الاماراتية الثلاث/مناصرة القضايا العادلة مثل قضية الشعب الفلسطيني/توحيد الموقف السياسي الخليجي

تجاه عدوان النظام العراقي البائد على دولة الكويت.

٦- مظاهر التعاون العسكري بين دول مجلس التعاون الخليجي.ص ١٢٩-١٣٠

المناورات العسكرية/انشاء قوة مشتركة(درع الجزيرة)/قبول أبناء دول مجلس التعاون في الكليات العسكرية/المشاركة الفعلية

في حرب تحرير دولة الكويت من النظام العراقي البائد.

٧- مظاهر التعاون الاقتصادي بين دول مجلس التعاون الخليجي.ص ١٣٠

صدور إعلان الدوحة بشأن قيام السوق الخليجية المشترك عام ٢٠٠٨/زيادة التبادل التجاري.

٨- مظاهر التعاون الثقافي بين دول مجلس التعاون الخليجي.ص ١٣٠

توحيد المناهج التعليمية وتطويرها/انشاء مكتب التربية العربي ومقره الرياض/

اجتماع وزراء التربية والتعليم لدول الخليج العربية كل عامين لوضع السياسات التربوية.

٩- اسباب ثقب طبقة الاوزون . ص ١٣٥

١- زيادة تركيز غاز ثاني اكسيد الكبريت

٢- زيادة كمية اول اكسيد الكربون الناتج عن عوادم السيارات

١٠- اضرار ثقب طبقة الاوزون . ص ١٣٥

١- انتشار الامراض الجلدية كالسرطان

٢- الاحتباس الحراري

٣- اتلاف الغطاء النباتي

السؤال الثاني : اجب عن ما يلي :

١- عدد المشكلات الاجتماعية التي تعاني منها دول الخليج العربية . ص ١٤١

أ- العنف بين المتعلمين ب- العمالة المنزلية

٢- عدد وظائف العمالة المنزلية ص ١٤٢

١- طبّاخ ٢- سائق ٣- حارس ٤- مربية ٥- خادم

٣- أهم المشكلات الناتجة عن العمالة المنزلية . ص ١٤٢

١- السلوكيات الخاطئة ٢- التأثير بثقافتهم المختلفة

٤- اذكر أشكال العنف . ص ١٤٥

أ- لفظي ب- جسدي

WWW.KweduFiles.Com

٥- اذكر حلولاً لعلاج مشكلة العمالة المنزلية ص ١٥٠

١- الاهتمام الجاد بالقرآن الكريم والسنة النبوية الشريفة

٢- يتحمل كل فرد في الأسرة مسئوليته والقيام بدوره خير قيام

٣- جعل مهمة الخادم مقتصرة على ممارسة دوره الأساسي في المساهمة في تحمل أعباء المنزل لا غير

٦- اذكر حلولاً لعلاج مشكلة العنف ص ١٥٠

١- الاهتمام الجاد بالقرآن الكريم والسنة النبوية الشريفة

٢- الاهتمام بالقراءة والمطالعة بدلاً من أصدقاء السوء

٣- القدوة الحسنة من كل المحيطين بالشباب واتباع أساليب الحوار والتفاهم في علاج المشكلات والخلافات

٧- عدد اسباب التلوث البحري ص ١٣٦.

١- مخلفات المصانع

٢- مياه الصرف الصحي غير المعالجة

٣- مياه الصرف الزراعي

٤- النفط ومشتقاته

٥- النفايات الخطرة

٦- الأمطار الحمضية

٨- اذكر: امثلة على المشكلات الاجتماعية ص ١٤١.

١- مشكلة العمالة المنزلية

٢- مشكلة العنف

www.kwedufiles.com
مع تمنياتنا لكم بالتوفيق والنجاح

الفهرس

اسم المعلم المراجع	الصفحات	الوحدة الدراسة
أ. مها البيدان	٢٦ - ١٩	الوحدة الاولى
أ. سارة المعصب	٣٦ - ٢٧	
أ. نورة الغنزي	٦٣ - ٤٥	الوحدة الثانية
أ. مريم المطيري	٨٠ - ٦٣	
أ. اسرار الشمري	٩٩ - ٨٧	الوحدة الثالثة
أ. ماضي العتيبي		
أ. اسامة عبدالله	١١٦ - ١٠٥	الوحدة الرابعة
أ. حصة المطيرات	١٢٣ - ١١٧	
أ. إيمان العجمي	١٤٠ - ١٢٩	الوحدة الخامسة
أ. وديان المطيري	١٥٠ - ١٤١	

تنسيق و إعداد : أ. زينب الاشوك