

السؤال الثاني : موضوعي ويتكون من ( أ ، ب ) :

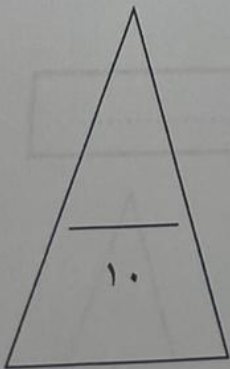
( أ ) أمامك خريطة العالم السياسية - أكتب الرقم الدال على العبارات التي تليها :



- مدينة قامت فيها الدولة الإسلامية على يد سيدنا محمد ﷺ يمثلها على الخريطة الرقم ( ) .
- قارة تقع فيها جمهورية سورينام الإسلامية يمثلها على الخريطة الرقم ( ) .
- خط الاستواء يمثله على الخريطة الحرف ( ) .
- بيت الحكمة أحد المراكز العلمية في الحضارة الإسلامية يقع في مدينة يمثلها على الخريطة الرقم ( ) .
- البحر الأحمر يمثله على الخريطة الرقم ( ) .

( ب ) أكمل العبارات التالية بما يناسبها :

- ١- داعية كويتي برز في مجال العمل الخيري والإنساني اسمه .....
- ٢- قصر بناه الخليفة هشام بن عبد الملك في سوريا اسمه .....
- ٣- إقليم مناخي يضم دول شبة الجزيرة العربية يسمى .....
- ٤- محاصيل تُزرع من أجل التصدير تسمى .....
- ٥- أولى دول العالم الإسلامي في إنتاج اليورانيوم حسب إحصاء عام ٢٠١٤م دولة أسماها .....





هذا الخامس : مقالتي ويتكون من ( أ ، ب ، ج ) :  
 لاحظ الصورة المقابلة ثم أجب عن الأسئلة التي تليها :  
 - اكتب تعليقاً مناسباً للصورة المقابلة .



- ٢- علل - إهتمام الحضارة الإسلامية بالزراعة .
- ٣- عدد جهود المسلمين في الزراعة .

( ب ) قارن بين كل من :

وجه المقارنة	السهول	التلال
المفهوم	- ..... .....	- ..... .....
أشهرها في دولة الكويت	- ..... .....	- ..... .....

( ج ) اقرأ الفقرة التالية ثم أجب عما يليها من أسئلة :

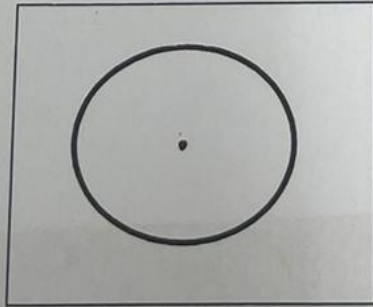
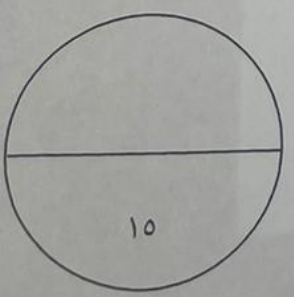
" النفط والغاز الطبيعي من أهم مصادر الطاقة في العالم ، حيث ينتج العالم الإسلامي من النفط الخام ٤١,٥ % والغاز الطبيعي ٣٦ % من إجمالي الإنتاج العالمي ، أضف إلى ذلك ما يمتلكه العالم الإسلامي من احتياطي النفط الخام والذي يبلغ ٥٨,٥ % من الاحتياطي العالمي حسب إحصاء ٢٠١٥ م "

١- عرف ما تحته خط .

احتياطي النفط :

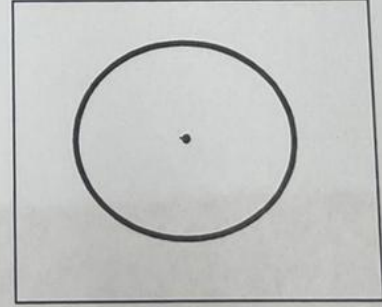
٢- استخرج من الفقرة السابقة حقيقتين مناسبتين .

٣- حول نسب إنتاج النفط الخام والغاز الطبيعي الواردة في الفقرة إلى دوائر بيانية .



إنتاج الغاز الطبيعي

5



إنتاج النفط الخام

الجزية	الزكاة
.....	.....
.....	.....
.....	.....
الطقس	المناخ
.....	.....
.....	.....
.....	.....

**( ب ) عدد كل مما يلي :**

١- أسس الحضارة الإسلامية .

.....  
.....

٢- مراكز إشعاع الحضارة الإسلامية إلى أوروبا .

.....  
.....

٣- المصادر الطبيعية لإنتاج الأسماك في العالم الإسلامي .

.....  
.....

**( ج ) علل لكل مما يلي :**

١- ازدهار العلم وظهور العلماء في العالم الإسلامي .

.....  
.....

٢- تنوع المناخ في العالم الإسلامي .

.....  
.....

٣- لقيت التجارة تشجيعاً كبيراً في الحضارة الإسلامية .

.....




السؤال الأول : موضوعى ويتكون من ( أ ، ب ) :

( أ ) ظلل الخيار الصحيح من بين الخيارات التى تلى كل عبارة :

١- منصب إدارى فى الدولة الإسلامية استُحدث فى عهد الخليفة عمر بن الخطاب ؓ :

القاضي	الوالي	المحتسب	الوزير
--------	--------	---------	--------

٢- مسجد رفع سيدنا إبراهيم وإبنة إسماعيل عليهم السلام قواعده تمثله الصورة :



٣- كتاب ألفه العالم أبو بكر الرازي :

الحيوان	الجبر والمقابلة	الحاوي فى الطب	نزهة المشتاق
---------	-----------------	----------------	--------------

٤- مدينة أنشأ فيها ديوان الماء :

بخارى	مراغة	دومة الجندل	مرو
-------	-------	-------------	-----

٥- عالم مسلم يرجع له الفضل فى اكتشاف الأوروبين للأمريكيتين :

البكري	الخوارزمي	الكندي	الإدرسي
--------	-----------	--------	---------

( ب ) صنف التضاريس التالية كما هو مطلوب فى الجدول الذى يليها :

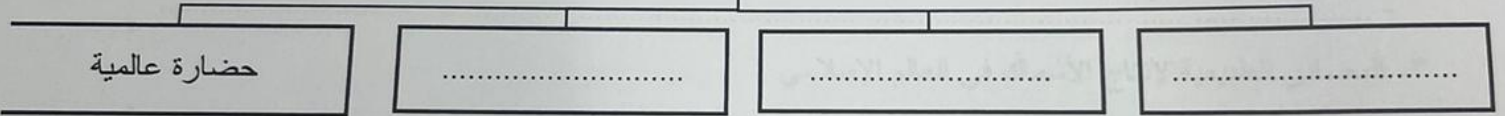
( الأناضول - دجلة والفرات - الحجاز - النيل - أطلس )

جبال	هضاب	سهول فيضيه ( نهريّة )
.....	.....	.....
.....	.....	.....

م	المفاهيم	العبارات
١	.....	كل ما يطرأ على المجتمع من تقدم وتطور ورقي سواء في الجانب المادي أو الجانب الروحي .
٢	.....	مقر الحاكم والمكان الذي يضم المؤسسات الإدارية كالوزارة والدواوين .
٣	.....	حوض أو منخفض طبيعي على سطح الأرض .
٤	.....	مساحة من الأرض تتصف بعناصر مناخية متشابهة .
٥	.....	نبات ينمو في المناطق الاستوائية والموسمية .

( ب ) أكمل المخططات السهمية التالية :

- خصائص الحضارة الإسلامية



- العوامل التي ساعدت على زيادة الانتاج الزراعي في دول العالم الإسلامي

