

تم تحميل هذا الملف من موقع المناهج الكويتية



الملف وسائل ومراجعات وأوراق عمل على الوحدة التاسعة

[موقع المناهج](#) ← [المناهج الكويتية](#) ← [الصف الثاني](#) ← [رياضيات](#) ← [الفصل الأول](#)

روابط مواقع التواصل الاجتماعي بحسب الصف الثاني



روابط مواد الصف الثاني على تلغرام

[الرياضيات](#)

[اللغة الانجليزية](#)

[اللغة العربية](#)

[التربية الاسلامية](#)

المزيد من الملفات بحسب الصف الثاني والمادة رياضيات في الفصل الأول

[التقريب الى اقرب عشرة في مادة الرياضيات](#)

1

[التقريب الى اقرب عشرة في مادة الرياضيات 4](#)

2

[ورقة عمل في مادة الرياضيات](#)

3

[ورقة عمل المكعبات 1 في مادة الرياضيات](#)

4

[ورقة عمل مقارنة في مادة الرياضيات](#)

5




وزارة التربية
الإدارة العامة لمنطقة الأحمدية التعليمية
مدرسة هدية الابتدائية بنين

• وسائل الوحدة (٩)

موقع
المناهج الكويتية
almanahj.com/kw

للصف الثاني



• المعلمة : حميدة الشمري

إعداد

• رئيسة القسم : شيمه المطيري


إشراف

المشاركة والتقسيم


بند (٩-١)



أكمل




وزعت ١٢ تفاحة على ٣ سلات بالتساوي.



عدد التفاحات في كل سلة — تفاحات.

أكمل




وزعت ٨ كرات بحيث يحصل كل طفل على ٢ .

مكتبة
الكويتية
almanahj.com




عدد الأطفال ——— أطفال .

أكمل




وزعت ١٢ خرزة على ٤ خيوط بالتساوي.

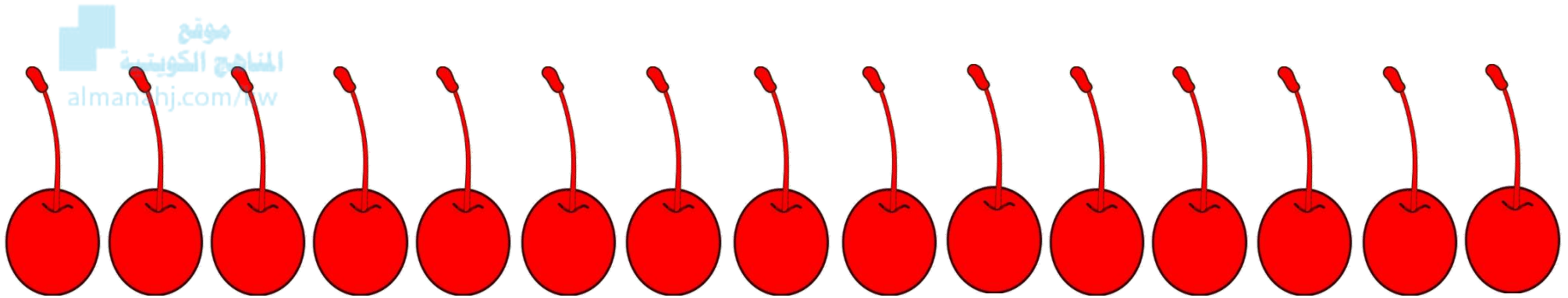


عدد الخرزات في كل خيط ————— خرزات.

كون مجموعات متكافئة ، ثم أكمل .




حوظ كل ٢ حبات كرز .



عدد المجموعات ————— مجموعات .

كون مجموعات متكافئة ، ثم أكمل .




كون ٥ مجموعات متكافئة




عدد العناصر في المجموعة الواحدة — عناصر

وضح بالرسم



وزعت على ٧ مجموعات متكافئة.



١٤





• القسمة بالتوزيع

بند (٩-٢)




أكمل . أوجد ناتج القسمة .



$$\underline{\hspace{2cm}} = 2 \div 8$$

أكمل . أوجد ناتج القسمة .




موقع
المناهج الكويتية
almanabi.com.kw

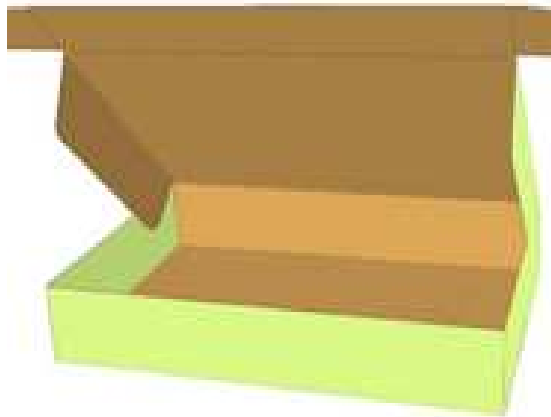


$$\underline{\quad} = ٢ \div ٩$$

اكتب عبارة القسمة المناسبة.





موقع
المنهاج الكويتية
almanahj.com/kw




$$\underline{\hspace{2cm}} = \underline{\hspace{2cm}} \div \underline{\hspace{2cm}}$$

اكتب عبارة القسمة المناسبة.



$$\underline{\hspace{2cm}} = \underline{\hspace{2cm}} \div \underline{\hspace{2cm}}$$

وضح بالرسم ، ثم اكتب الناتج



$$\underline{\quad} = 5 \div 5$$



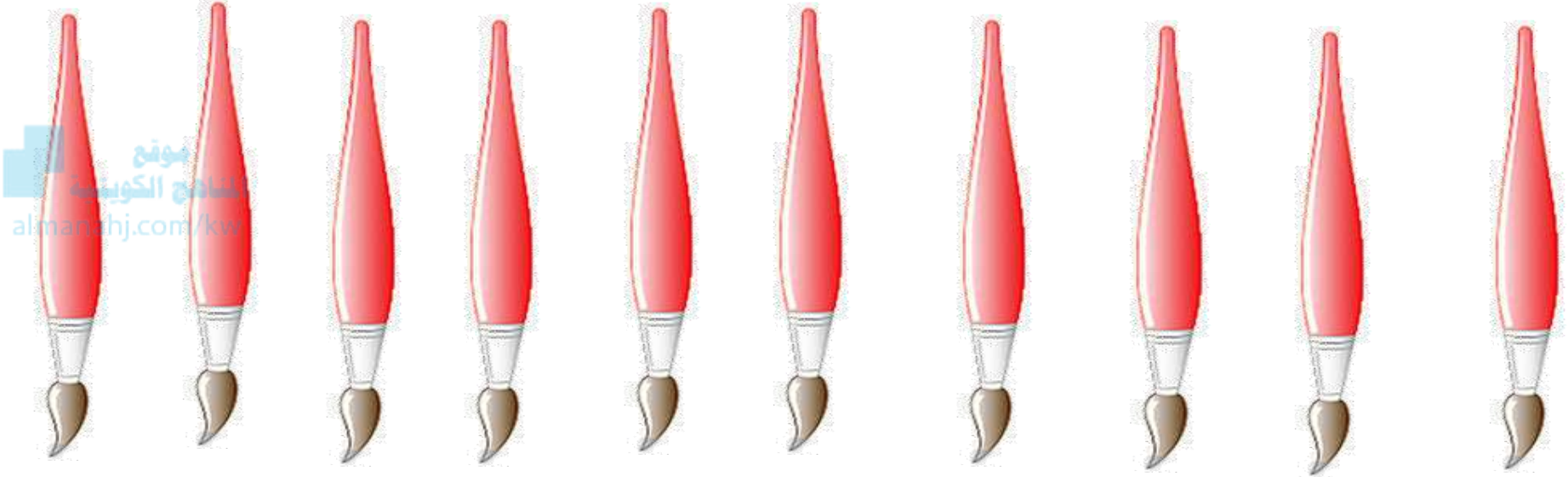

• استكشاف القسمة بالمقياس

بند (٣-٩)






حوظ كل ٢




$$\underline{\hspace{2cm}} = 2 \div 10$$

عدد المجموعات



حوظ كل ٤




$$\underline{\hspace{2cm}} = 4 \div 12$$

عدد المجموعات _____






حوظ كل ٥



$$\underline{\quad} = 5 \div 15$$

عدد المجموعات

اكتب عبارة القسمة الممثلة



$$\underline{\hspace{2cm}} = \underline{\hspace{2cm}} \div \underline{\hspace{2cm}}$$

هل بالإمكان كتابة عبارة قسمة أخرى؟


• القسمة بالمقياس (الطرح المتكرر)

موقع
المناهج الكويتية
almanahj.com/kw

بند (٤-٩)



أوجد ناتج القسمة مستخدماً الطرح المتكرر



$$\underline{\quad} = 2 \div 6$$




موقع
المنهج الكويتية
almanahj.com/kw

$$\begin{array}{r} 2 \\ 2 \overline{) 4} \\ \hline \end{array}$$


$$\begin{array}{r} 4 \\ 2 \overline{) 8} \\ \hline \end{array}$$

$$\begin{array}{r} 6 \\ 2 \overline{) 12} \\ \hline \end{array}$$


أوجد ناتج القسمة مستخدماً الطرح المتكرر



$$\underline{\quad} = 4 \div 12$$



أوجد ناتج القسمة مستخدماً الطرح المتكرر



$$\underline{\quad} = 4 \div 8$$




• القسمة باستخدام خط الأعداد

بند (٩-٥)



أكمل . (استخدم خط الأعداد) .



٥



فكم عدد





في




وزع ١٢

موقع
المنهاج الكويتية
almanahj.com/kw



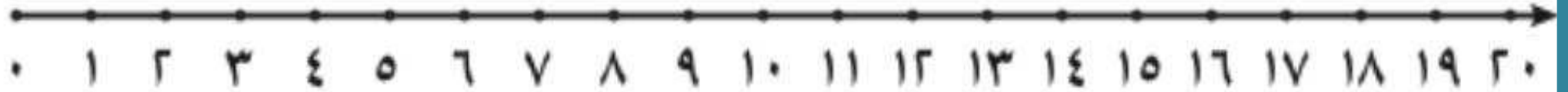
 = ٦ ÷ ١٢

أكمل . (استخدم خط الأعداد) .




وزعت ١٥ وردة في ٣ فيف، فكم وردة في كل فيف؟

موقع
المناهج الكويتية
almanahj.com/kw




$$\square = 15 \div 3$$

أكمل . (استخدم خط الأعداد) .



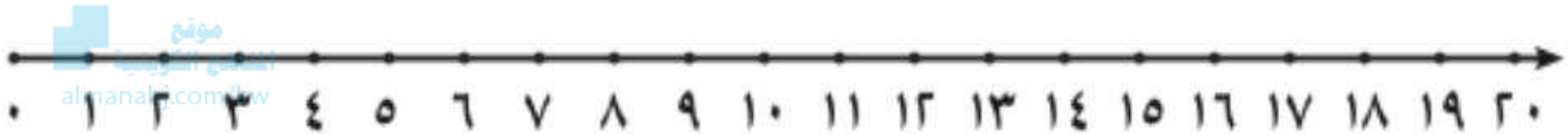

وزع ٢٠  على عدة طاولات ، لكل طاولة ٤  ،

فكم عدد الطاولات ؟



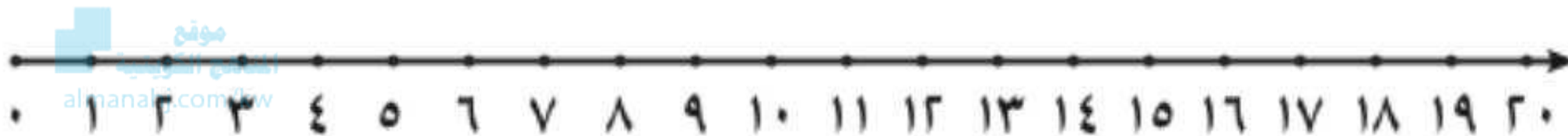

طاولات = ٤ ÷ ٢٠

استخدم خط الأعداد. اكتب الناتج



$$\square = 3 \div 18$$

استخدم خط الأعداد. اكتب الناتج





$$\square = 4 \div 16$$

• القصة

بند (٦-٩)




قسم إلى مجموعات متساوية. أكمل .



$$\underline{\hspace{2cm}} = \underline{\hspace{2cm}} \div \underline{\hspace{2cm}}$$

$$\underline{\hspace{2cm}} = \underline{\hspace{2cm}} \div \underline{\hspace{2cm}}$$


قسم إلى مجموعات متساوية. أكمل .



$$= \underline{\hspace{2cm}} \div \underline{\hspace{2cm}}$$



$$= \underline{\hspace{2cm}} \div \underline{\hspace{2cm}}$$

قسم إلى مجموعات متساوية. أكمل .



$$\underline{\hspace{2cm}} = \underline{\hspace{2cm}} \div \underline{\hspace{2cm}}$$

$$\underline{\hspace{2cm}} = \underline{\hspace{2cm}} \div \underline{\hspace{2cm}}$$

وزع كل ٣ في  في  .

كم  تحتاج لتوزيع ٩  ؟ (ارسم) .




• العلاقة بين عمليتي القسمة والضرب

المناهج الكويتية
almanahj.com/kw

بند (٧-٩)



أكمل




موقع
المنهج الكويتية
almanahj.com/kw

$$\underline{\hspace{2cm}} = 3 \div 3$$

$$\underline{\hspace{2cm}} = 1 \times 3$$

أكمل





المناهج الكويتية
almanahj.com/kw

_____ = ٤ ÷ ٢

_____ = ٣ × ٤

أكمل




موقع
المناهج الكويتية
almanahj.com/kw

$$\underline{\hspace{2cm}} = \underline{\hspace{2cm}} \div \underline{\hspace{2cm}}$$

$$\underline{\hspace{2cm}} = 5 \times 3$$


أكمل



$$\underline{\hspace{2cm}} = \underline{\hspace{2cm}} \div \underline{\hspace{2cm}}$$

$$\underline{\hspace{2cm}} = 2 \times 4$$

اكتب عبارات الضرب والقسمة



للأعداد ٤ ، ٦ ، ٢٤ .


$$\underline{\quad} = \underline{\quad} \div \underline{\quad}$$

$$\underline{\quad} = \underline{\quad} \times \underline{\quad}$$

$$\underline{\quad} = \underline{\quad} \div \underline{\quad}$$

$$\underline{\quad} = \underline{\quad} \times \underline{\quad}$$

اكتب عبارات الضرب والقسمة



للأعداد ٣ ، ٧ ، ٢١ .

$$\underline{\quad} = \underline{\quad} \div \underline{\quad}$$

$$\underline{\quad} = \underline{\quad} \times \underline{\quad}$$

$$\underline{\quad} = \underline{\quad} \div \underline{\quad}$$

$$\underline{\quad} = \underline{\quad} \times \underline{\quad}$$

• إيجاد العدد المجهول

بند (٩-٨)





٣

بالتساوي على



وزعت سارة عدداً من



٦




فكان في كل

٣




فكم عدد كل

موقع
المناهج الكويتية
manhaj.com/kw

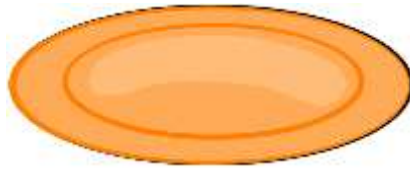


$$6 = 3 \div \square$$

ارسم العناصر . أكمل



بالتساوي .



٢

في



وزع عمر

موقع
المنهج الكويتية
almanhaj.com/kw

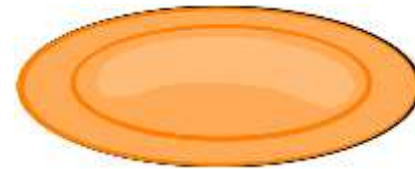
؟




فكم عدد كل



٧





فكان في كل



$$7 = 2 \div \square$$

ارسم العناصر . أكمل




وزع خالد عدد من  على ٢ رفوف بالتساوي ،

فوضع على كل رف  ٥ ، فكم عدد كل  ؟




$$5 = 2 \div \square$$

مثل . اكتب العدد الناقص




$$٤ = ٤ \div \square$$

مثل . اكتب العدد الناقص




$$3 = 5 \div \square$$


أكمل بإمكانك استخدام العناصر




٢٤	١٨	٦



أكمل بإمكانك استخدام العناصر



٢٥	١٥	٥



موقع
المنهج الكويتية
almanahj.com/kw




• حل المسائل (اختر العملية المناسبة)

موقع
المناهج الكويتية
almanahj.com/kw

بند (٩-٩)



اختر العملية المناسبة . أوجد الناتج .



وزعت ليلي ٦  على ٣ من صديقاتها بالتساوي،

فكم نصيب كل منهن؟


$$6 \div 3$$

$$6 - 3$$



نصيب كل منهن —————

اختر العملية المناسبة . أوجد الناتج .



أعطي خالد أخاه ٩ سيارات من سياراته الجميلة . إذا كان

لديه ١٨ سيارة . فكم سيارة بقيت معه ؟


$$9 \div 18$$

$$9 - 18$$



عدد السيارات المتبقية _____

اختر العملية المناسبة . أوجد الناتج .



في كل منها ٤



عند ريان ٣



كم عدد كل

$$٣ + ٤$$

$$٤ \times ٣$$




عدد كل الدمى —

•مراجعة الوحدة التاسعة

بند (٩-١٠)



قسم إلى مجموعات متساوية



اكتب عبارتي الضرب و عبارتي القسمة المناسبين .




$$\square = \square \div \square$$

$$\square = \square \div \square$$

$$\square = \square \times \square$$

$$\square = \square \times \square$$

اكتب عبارة القسمة المناسبة



٢

أعطى كل صديق



٨

حمد لديه

فكم عدد الأصدقاء؟





، على كل



٣

على



وزع عدد من



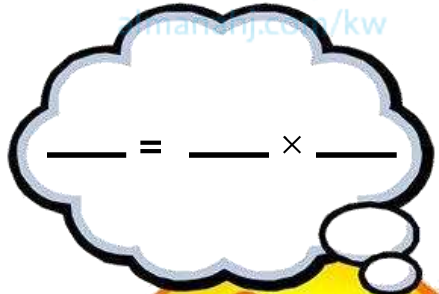
٥

٣



فكم عدد كل

موقع
المناهج الكويتية
manhaj.com/kw




٣

=


٥

÷

أكمل بإمكانك استخدام العناصر




١٥	٦	٣





موقع
المنهج الكويتية
almanajj.com/kw



أكمل بإمكانك استخدام العناصر




٣٥	٣٠	٢٠















اختر الإجابة الصحيحة بوضع




التمثيل المناسب : $6 \div 3 = 2$





اختر الإجابة الصحيحة بوضع




بالتساوي ،



٤


وزعت على



١٦


موقع
المنهج الكويتية
almanahj.com/kw

في كل قفص ؟




فكم عدد


١٣



٤




٦






اختر الإجابة الصحيحة بوضع




عبارة القسمة المناسبة لعبارات الطرح المتكرره هي :

موقع
المنهج الكويتية
amanahj.com/kw


$$\begin{array}{r} 2 \\ 2 \overline{) 2} \\ \hline 0 \end{array}$$




$$\begin{array}{r} 4 \\ 2 \overline{) 2} \\ \hline 2 \end{array}$$



$$\begin{array}{r} 6 \\ 2 \overline{) 2} \\ \hline 4 \end{array}$$



$$\begin{array}{r} 8 \\ 2 \overline{) 2} \\ \hline 6 \end{array}$$



$$\begin{array}{r} 10 \\ 2 \overline{) 2} \\ \hline 8 \end{array}$$

$$5 = 2 \div 10$$



$$3 = 2 \div 6$$



$$6 = 2 \div 8$$

