

تم تحميل هذا الملف من موقع ملفات الكويت التعليمية



[com.kwedufiles.www//:https](https://www.kwedufiles.com)

\*للحصول على أوراق عمل لجميع الصفوف وجميع المواد اضغط هنا

\* للحصول على أوراق عمل لجميع مواد الصف الثامن اضغط هنا

<https://kwedufiles.com/8>

\* للحصول على جميع أوراق الصف الثامن في مادة علوم ولجميع الفصول, اضغط هنا

<https://kwedufiles.com/8science>

\* للحصول على أوراق عمل لجميع مواد الصف الثامن في مادة علوم الخاصة بـ الفصل الثاني اضغط هنا

<https://www.kwedufiles.com/8science2>

\* لتحميل كتب جميع المواد في جميع الفصول للـ الصف الثامن اضغط هنا

<https://www.kwedufiles.com/grade8>

\* لتحميل جميع ملفات المدرس عبير الفودري اضغط هنا

[bot\\_kwlinks/me.t//:https](https://t.me/bot_kwlinks)

\* للحصول على جميع روابط الصفوف على تلغرام وفيسبوك من قنوات وصفحات: اضغط هنا

الروابط التالية هي روابط الصف الثامن على مواقع التواصل الاجتماعي

مجموعة الفيسبوك

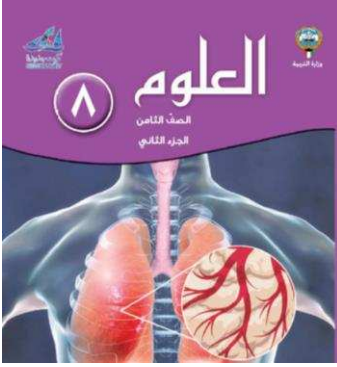
صفحة الفيسبوك

مجموعة التلغرام

بوت التلغرام

قناة التلغرام

رياضيات على التلغرام



وزارة التربية

الإدارة العامة لمنطقة العاصمة التعليمية

مدرسة الفيحاء المتوسطة بنات

قسم العلوم

تنويه

بنك الأسئلة لا يغني عن  
الدراسة من كتاب الطالب

**بنك أسئلة**

العلوم الصف الثامن – الجزء الثاني

٢٠١٩/٢٠١٨

إعداد و تنسيق رئيسة قسم العلوم


عبير الفودري

مديرة المدرسة:

أ.وضحة العتيبي


الموجه الفني للعلوم:

أ.مشاعل الكندري



## فهرس محتوى بنك الأسئلة

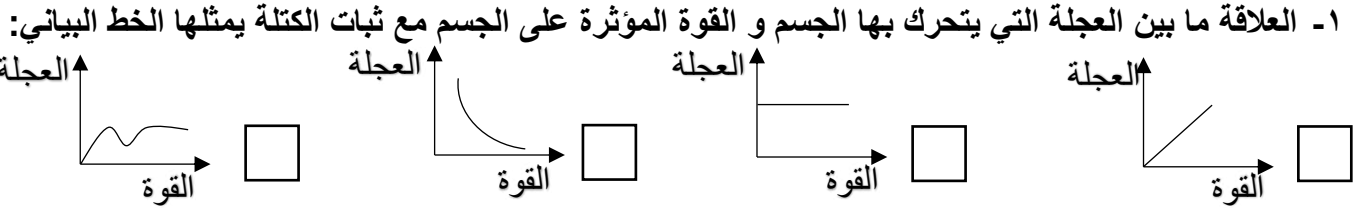
الصفحات	المحتوى
	<b>وحدة المادة و الطاقة</b>
٦-٣	الوحدة التعليمية الأولى: قوانين الحركة
	<b>وحدة علوم الحياة</b>
١٠-٧	الوحدة التعليمية الأولى: الجهاز التنفسي
١٥-١١	الوحدة التعليمية الثانية: الجهاز الدوري
٢٠-١٦	الوحدة التعليمية الثالثة: الوراثة



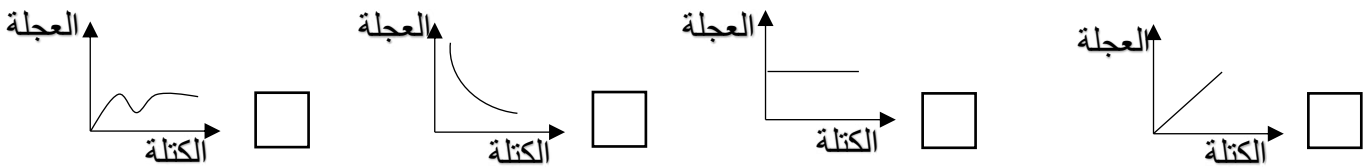
**بنك أسئلة وحدة (المادة و الطاقة) – الوحدة التعليمية الأولى: قوانين الحركة**

**أولاً: الأسئلة الموضوعية**

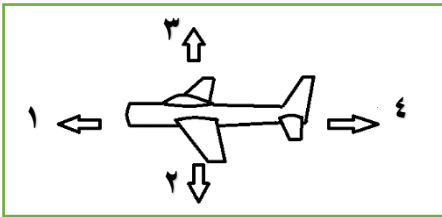
س١/ اختر الإجابة الصحيحة علمياً لكل من العبارات التالية بوضع علامة (✓) في المربع المقابل لها:



٢- العلاقة ما بين العجلة التي يتحرك بها الجسم و كتلة الجسم مع ثبات القوة يمثلها الخط البياني:



٣- اتجاه قوة الفعل و رد الفعل في الشكل المقابل هو:



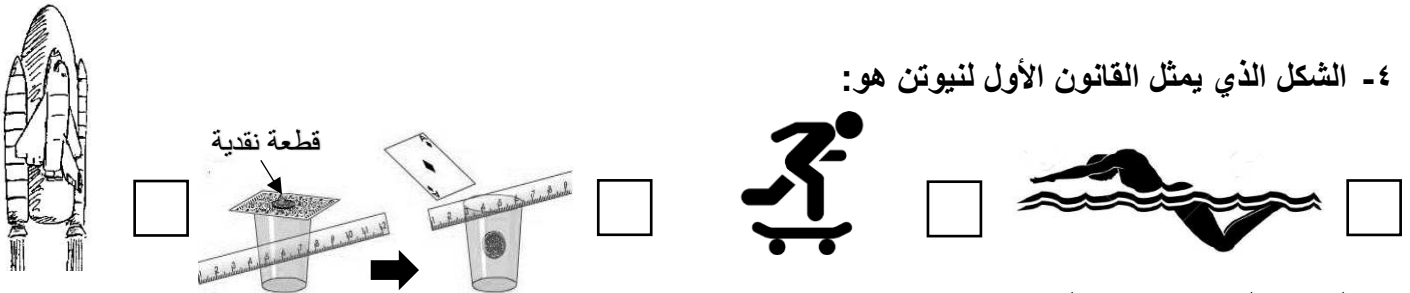
□ -قوة الفعل يمثلها الرقم (١) بينما قوة رد الفعل يمثلها الرقم (٤)

□ -قوة الفعل يمثلها الرقم (٣) بينما قوة رد الفعل يمثلها الرقم (٢)

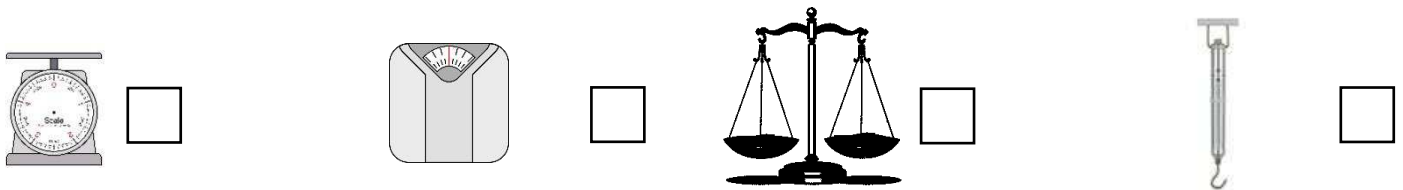
□ -قوة الفعل يمثلها الرقم (٤) بينما قوة رد الفعل يمثلها الرقم (١)

□ -قوة الفعل يمثلها الرقم (٢) بينما قوة رد الفعل يمثلها الرقم (٣)

٤- الشكل الذي يمثل القانون الأول لنيوتن هو:



٥- لتعيين الوزن يستخدم الميزان:



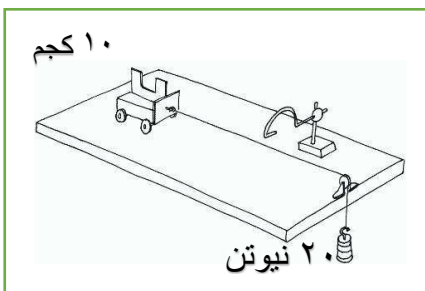
يتبع: س ١/ اختر الإجابة الصحيحة علمياً لكل من العبارات التالية بوضع علامة (✓) في المربع المقابل لها:

٦- عندما يقطع العداء مسافة قدرها ( ٤٠٠ م ) خلال زمن قدره ( ٢٠ ث ) فإن سرعته تساوي:

- ٨٠٠٠ م/ث  ٤٢٠ م/ث  ٣٨٠ م/ث  ٢٠ م/ث

٧- قوة الاحتكاك أقل ما يكون على سطح:

- الجليد  الاسفلت  أرضية الملعب  ساحة المدرسة



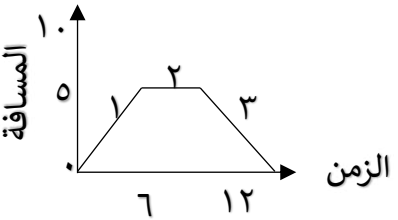
٨- العجلة التي تتحرك بها سيارة اللعبة في الشكل المقابل تساوي:

- ٢ م/ث  ٢٠٠ م/ث  ٢٠ م/ث  ١٠ م/ث

س ٢: أكتب بين القوسين كلمة ( صحيحة ) للعبارة الصحيحة و كلمة ( خطأ ) للعبارة غير الصحيحة علمياً في كل مما يأتي:

١	النقطة المرجعية قد تكون جسماً ساكناً أو جسماً متحركاً.	(-----)
٢	سرعة الجسم قد تكون ثابتة أو متغيرة.	(-----)
٣	الاحتكاك قوة تنشأ دائماً مع اتجاه حركة الأجسام على الأسطح المختلفة.	(-----)
٤	القوة يرمز لها بالحرف ( F ) و تقاس بوحدة النيوتن.	(-----)
٥	التغيير في السرعة يسمى القصور الذاتي.	(-----)
٦	تحسب السرعة المتوسطة من خلال حساب الزمن الكلي على المسافة الكلية للجسم المتحرك.	(-----)
٧	العجلة يرمز لها بالحرف ( a ) و تقاس بوحدة متر/ث <sup>٢</sup> .	(-----)
٨	تناسب عجلة الجسم عكسياً مع كتلته.	(-----)

س٣: في الجدول التالي اختر العبارة أو الشكل من المجموعة ( ب ) و أكتب رقمها أمام ما يناسبها من عبارات المجموعة ( أ ) :

الرقم	المجموعة (أ)	المجموعة (ب)
( )	- لكل قوة فعل قوة رد فعل.	١- القانون الأول لنيوتن
( )	- يسمى قانون القصور الذاتي.	٢- القانون الثاني لنيوتن
( )	- وصف لمراحل حركة السيارة في الشكل المقابل:	٣- القانون الثالث لنيوتن
( )	- مرحلة تمثل حركة السيارة بشكل منتظم.	
( )	- مرحلة تمثل توقف السيارة عن الحركة.	<div style="display: flex; justify-content: space-around; align-items: center;"> <div style="text-align: center;">٣ <div style="border: 1px solid black; padding: 5px;">Kg</div></div> <div style="text-align: center;">٢ <div style="border: 1px solid black; padding: 5px;">m/s<sup>2</sup></div></div> <div style="text-align: center;">١ <div style="border: 1px solid black; padding: 5px;">N</div></div> </div>
( )	- وحدة قياس وزن الجسم.	
( )	- وحدة قياس الكتلة.	

### ثانيا: الأسئلة المقالية

س٤: حل المسألة التالية:

١- سيارة تقطع مسافة ( ٦٠٠ م ) خلال وحدة زمنية تساوي ( ١٠٠ ث ) أحسب سرعة السيارة !؟

-----القانون:

-----الحل:

٢- أحسب (التسارع) التي تتحرك بها العربة في الشكل المقابل !؟



-----القانون:

-----الحل:

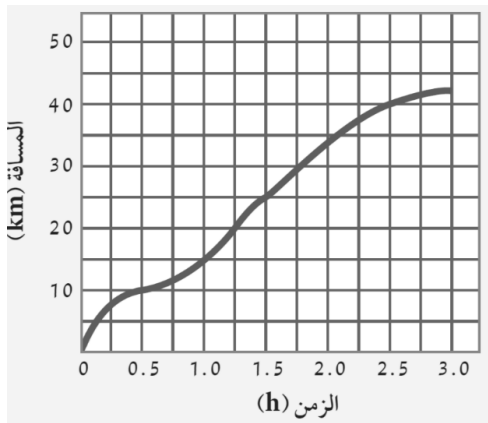
س ٥: علل لما يأتي تعليلا علميا سليما :

١- يفضل شراء حقائب السفر المزودة بعجلات في أسفلها!؟

٢- تحرص البلدية على رش الرمل على شوارع المدن المغطاة بالثلوج!؟

س ٦ أدرس الرسومات التالية جيدا ثم أجب عن المطلوب منك:

أولاً:

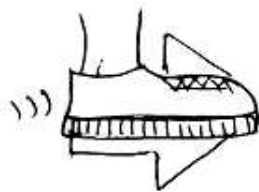


تأمل الرسم البياني المقابل لحركة سيارة ثم أجب عن المطلوب:

- ما نوع سرعة السيارة ؟ ( منتظمة – متغير ) حو ط الإجابة الصحيحة.
- المسافة التي تقطعها السيارة عند مرور ساعة من الزمن = -----

ثانياً:

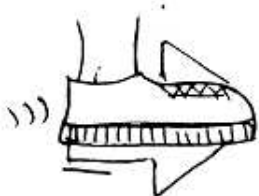
عند ركل الكرة (أ) و الكرة (ب) بالقوة نفسها، أي من الكرتين تكتسب عجلة أكبر!؟



( أ )

أ-الكرة التي تكتسب عجلة أكبر هي -----

ب-السبب:-----



( ب )

-----

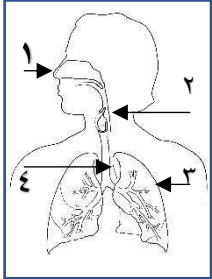
-----

**انتهت أسئلة (وحدة المادة و الطاقة)/الوحدة التعليمية الأولى: قوانين الحركة**

**بنك أسئلة وحدة (علوم الحياة) – الوحدة التعليمية الأولى: الجهاز التنفسي**

**أولاً: الأسئلة الموضوعية**

س١/ اختر الإجابة الصحيحة علمياً لكل من العبارات التالية بوضع علامة (✓) في المربع المقابل لها:



١- العضو الذي يتم فيه تبادل الغازات التنفسية بالشكل المقابل يمثلته الرقم :

- ١  ٢  ٣  ٤

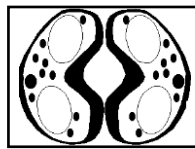
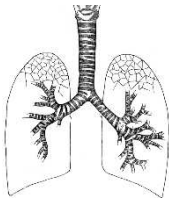
٢- عضلة تفصل التجويف الصدري عن البطني يطلق عليها:

- الحجاب الحاجز  الرنتين  القلب  المعدة

٣- عضو تبادل الغازات بالشكل المقابل يخص:

- الأسماك  النباتات  الخميرة  الثدييات

٤- عضو تبادل الغازات الصحيح للأرنب يمثلته الشكل:



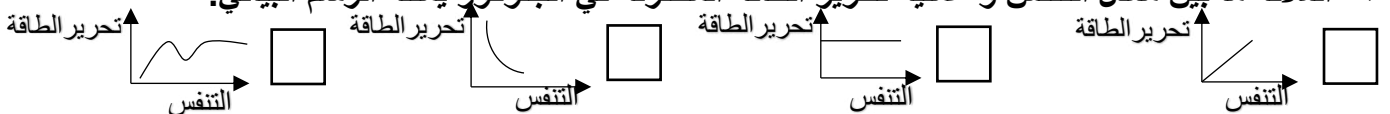
٥- معادلة التنفس الهوائي الصحيحة للخلية الحية هي:

- ماء + أكسجين ← ثاني أكسيد الكربون + مغذيات + طاقة  
 مغذيات + أكسجين ← ثاني أكسيد الكربون + ماء + طاقة  
 ماء + ثاني أكسيد الكربون ← أكسجين + مغذيات + طاقة  
 مغذيات + ثاني أكسيد الكربون ← أكسجين + مغذيات + طاقة

٦- الكائن الحي الذي تحدث له عملية التنفس اللاهوائي في الظروف الطبيعية هو:

- الأرنب  سمك التونة  البكتيريا  الإنسان

٧- العلاقة ما بين معدل التنفس و عملية تحرير الطاقة المخزنة في الجلوكوز يمثلته الرسم البياني:



٨- أفضل وسيلة لتنقية الهواء الجوي دون تكلفة هي:

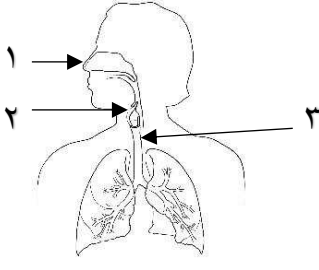
- ركوب المواصلات الجماعية  زراعة الأشجار  مرشحات المصانع  الطاقة النظيفة



س٢: أكتب بين القوسين كلمة ( صحيحة ) للعبارة الصحيحة و كلمة ( خطأ ) للعبارة غير الصحيحة علميا في كل مما يأتي:

١	عملية البناء الضوئي يتم خلالها تحول الطاقة الشمسية إلى طاقة كيميائية.	(-----)
٢	الوظيفة الأساسية للجهاز التنفسي هي إمداد الدم بغاز الأكسجين.	(-----)
٣	ينقبض الحجاب الحاجز و يتحرك للأسفل خلال عملية الزفير .	(-----)
٤	القوة الفاعلة في الشهيق و الزفير هي الحويصلات الهوائية.	(-----)
٥	جميع الكائنات الحية تحتاج إلى الأكسجين لتحرير الطاقة.	(-----)
٦	تحدث عملية التنفس عبر الانتشار في الخميرة.	(-----)
٧	أثناء القيام بالتمارين الرياضية الشاقة تزداد كمية الأكسجين ما يؤدي إلى قيام الخلايا بعملية التنفس اللاهوائي.	(-----)
٨	يتسبب نقص الأكسجين الذي لم يصل بشكل كاف إلى خلايا الجسم بتعرضها للكثير من التلف.	(-----)

س٣: في الجدول التالي اختر العبارة أو الشكل من المجموعة ( ب ) و أكتب رقمها أمام ما يناسبها من عبارات المجموعة ( أ ) :

الرقم	المجموعة (أ)	المجموعة (ب)
( )	- كائن يجري تبادل الأكسجين و ثاني أكسيد الكربون بين الهواء والدم فيه عبر الجلد.	١- الطيو
( )	- كائن يجري تبادل الأكسجين و ثاني أكسيد الكربون بين الهواء و الدم فيه عبر الحويصلات الهوائية.	٢- السمندل ٣- التمساح
( )	- جزء يمثل القصبة الهوائية.	
( )	- جزء يمثل الحنجرة.	

ثانياً: الأسئلة المقالية

س ٤: علل لما يأتي تعليلاً علمياً سليماً:

١- أهمية الأنف في تركيب الجهاز التنفسي؟

-----

٢- عضلة الرئة لها قاعدة عريضة و محدبة؟

-----

٣- أهمية التنفس في الكائنات الحية؟

-----

٤- أثناء القيام بالتمارين الرياضية الشاقة تقوم الخلايا بعملية التنفس اللاهوائي في أنسجة العضلات؟

-----

٥- يحذر الأطباء دائماً من التدخين؟

-----

٦- يسارع مريض السعال بأخذ العلاج اللازم دون إهمال؟

-----

س ٥: أي مما يلي لا ينتمي للمجموعة مع ذكر السبب!؟

١- الخميرة - الأرنب - الفيل - الخروف

- الذي لا ينتمي للمجموعة: -----

- السبب: -----

٢- البلعوم - القصبة الهوائية - الحنجرة - القلب

- الذي لا ينتمي للمجموعة: -----

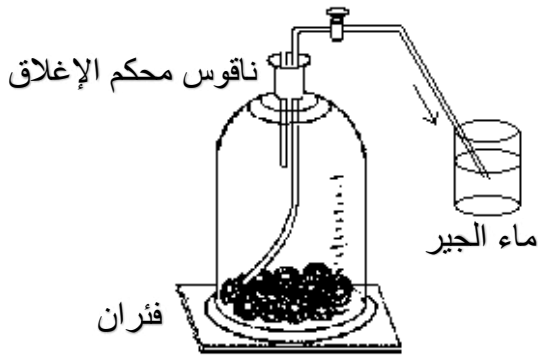
- السبب: -----

٣- البكتيريا - الأرنب - الطيور - الفيل

- الذي لا ينتمي للمجموعة: -----

- السبب: -----

س٦: أدرس الرسومات التالية جيدا ثم أجب عن المطلوب منك:



أولاً: أدرس التجربة في الشكل المقابل ثم أجب عن الأسئلة التالية:

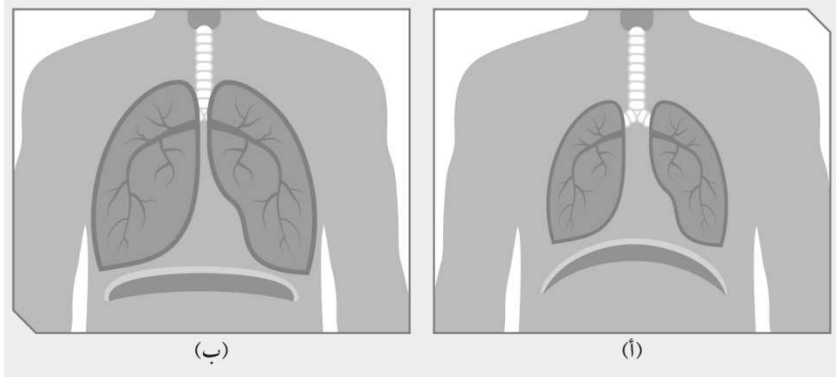
١- ماذا تتوقع أن يحدث لماء الجير بعد فترة من الزمن؟

-----

٢- علل سبب إجابتك؟

-----  
-----

ثانياً: من ضوء دراستك لعملية التنفس في جسم الإنسان أدرس الشكل التالي ثم أجب عن المطلوب منك:



- تحدث عملية الشهيق في الشكل ( ---- ) بينما تحدث عملية الزفير في الشكل ( ---- )

- حدد اتجاه حركة الهواء في الرئة في الشكل ( أ )

س٧: أكمل جدول المقارنة التالي:

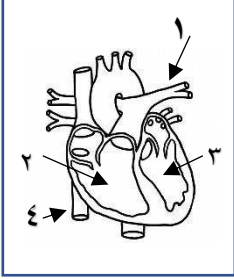
التنفس اللاهوائي	التنفس الهوائي	وجه المقارنة
		معادلة التنفس
		مثال لكانن حي

انتهت أسئلة (وحدة علوم الحياة)/الوحدة التعليمية الأولى: الجهاز التنفسي

**بنك أسئلة وحدة (علوم الحياة) – الوحدة التعليمية الثانية: الجهاز الدوري**

أولاً: الأسئلة الموضوعية

س١/ اختر الإجابة الصحيحة علمياً لكل من العبارات التالية بوضع علامة (✓) في المربع المقابل لها:



١- الجزء المسؤول عن نقل الدم من القلب إلى الرئتين بالشكل المقابل يمثلته الرقم :

١  ٢  ٣  ٤

٢- أكبر الأوعية الدموية في جسم الإنسان و فيه ينتقل الدم من القلب إلى جميع أجزاء الجسم يسمى بـ:

الشريان الرئوي  الأورطي  الأوردة الرئوية  الوريد الأجوف العلوي

٣- خلايا عديمة اللون، وظيفتها الدفاع عن الجسم ضد الأجسام الغريبة هي:

خلايا الدم الحمراء  خلايا الدم البيضاء  الصفائح الدموية  الأوعية الدموية

٤- جميعها من مكونات الدم عدا:

خلايا الدم الحمراء  خلايا الدم البيضاء  الصفائح الدموية  الشعيرات الدموية

٥- التسلسل الصحيح علمياً لانتقال الدم خلال الدورة الدموية الصغرى هو:

البطين الأيمن ← الأذنين الأيمن ← الشريان الأبهر ← البطين الأيسر  
 الأذنين الأيسر ← البطين الأيسر ← الوريد الأجوف ← البطين الأيمن  
 البطين الأيمن ← الأذنين الأيمن ← الوريد الرئوي ← الأذنين الأيسر  
 الأذنين الأيمن ← البطين الأيمن ← الشريان الرئوي ← الأذنين الأيسر

٦- اجسام صغيرة ذات شكل بيضوي تساعد على تجلط الدم هي:

الشعيرات الدموية  خلايا الدم الحمراء  خلايا الدم البيضاء  الصفائح الدموية

٧- جميعها من الوسائل التكنولوجية الطبية المستخدمة في علاج وتشخيص أمراض الجهاز الدوري عدا:

جهاز تخطيط القلب  جهاز قياس النبضات  جهاز قياس ضغط الدم  جهاز ضخ الأكسجين

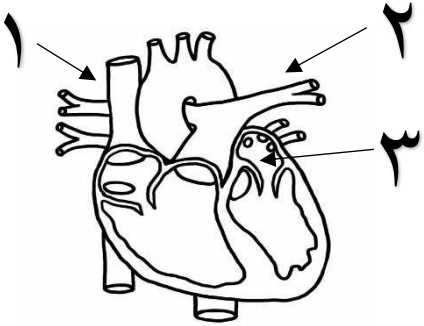
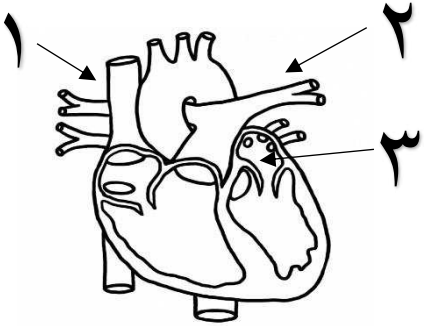
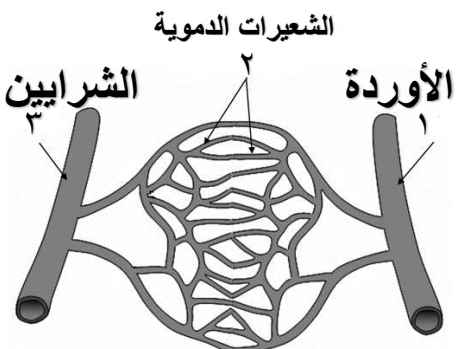
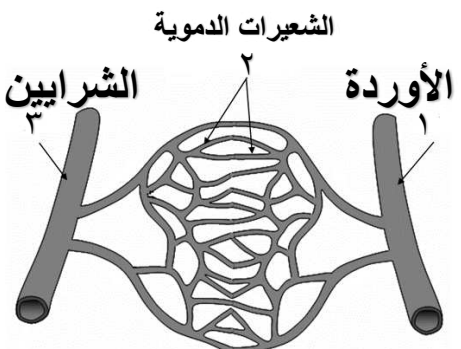
٨- جهاز يستخدم لقياس النشاط الكهربائي الخاص بالقلب هو:

جهاز تخطيط القلب  جهاز قياس النبضات  جهاز قياس ضغط الدم  جهاز ضخ الأكسجين

س٢: أكتب بين القوسين كلمة ( صحيحة ) للعبارة الصحيحة و كلمة ( خطأ ) للعبارة غير الصحيحة علميا في كل مما يأتي:

١	يتكون الجهاز الدوري من القلب و الدم و الأوعية الدموية.	(-----)
٢	يعمل دوران الدم على حماية جسم الإنسان.	(-----)
٣	الدورة الدموية الكبرى هي جزء من الجهاز الدوري و التي تحمل الدم المحمل بغاز ثاني أكسيد الكربون من القلب إلى الرئتين .	(-----)
٤	يضخ القلب الدم العائد من خلايا الجسم من البطين الأيسر إلى الرئتين عبر الشريان الرئوي.	(-----)
٥	الأوعية الدموية تعتبر قنوات الاتصال بين الجسم و القلب.	(-----)
٦	الصفائح الدموية تساعد على تجلط الدم.	(-----)
٧	خلايا الدم الحمراء تشكل جزءا مهما من جهاز المناعة و الدفاع عن الجسم.	(-----)
٨	الجهاز الدوري يعمل بشكل منفصل عن عملية التنفس و لا يعد جزءا منها.	(-----)

س٣: في الجدول التالي اختر العبارة أو الشكل من المجموعة ( ب ) و أكتب رقمها أمام ما يناسبها من عبارات المجموعة ( أ ) :

الرقم	المجموعة (أ)	المجموعة (ب)
( )	- تبدأ رحلة الدم في الدورة الدموية الكبرى في الجزء رقم ----.	
( )	- تستكمل رحلة الدم المحمل بثاني أكسيد الكربون من القلب إلى الرئتين عبر الجزء رقم ----.	
( )	- الأوعية الدموية المسؤولة عن نقل الدم من القلب إلى خلايا الجسم يمثلها الرقم ----.	
( )	- الأوعية الدموية المسؤولة عن نقل الدم من خلايا الجسم إلى القلب يمثلها الرقم ----.	

ثانياً: الأسئلة المقالية

س ٤: علل لما يأتي تعليلاً علمياً سليماً:

١- يعمل القلب على ضخ الدم ليدور في الجسم دورانياً مستمراً؟

.....

٢- الجهاز الدوري يعد جزءاً مهماً في عملية التنفس؟

.....

٣- يوصي الأطباء دائماً باتخاذ النظام الغذائي المتوازن في حياتنا اليومية ؟

.....

٤- انتشرت في السنوات الأخيرة أمراض القلب بكثرة ؟

.....

س ٥: أي مما يلي لا ينتمي للمجموعة مع ذكر السبب!؟

١- القلب - الشريان الأبهر - الرئتين - الدم

- الذي لا ينتمي للمجموعة: .....

- السبب: .....

٢- الشرايين - الأوردة - الشعيرات الدموية - الصفائح الدموية

- الذي لا ينتمي للمجموعة: .....

- السبب: .....

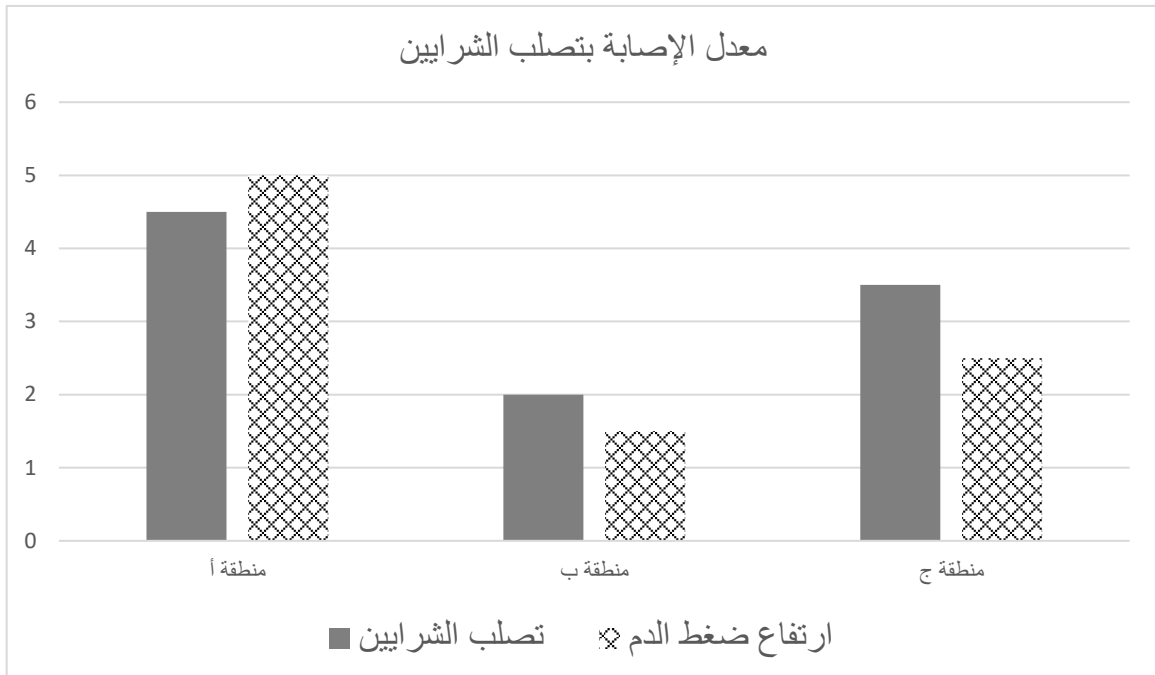
٣- الصفائح الدموية - خلايا الدم الحمراء - خلايا الدم البيضاء - الشعيرات الدموية

- الذي لا ينتمي للمجموعة: .....

- السبب: .....

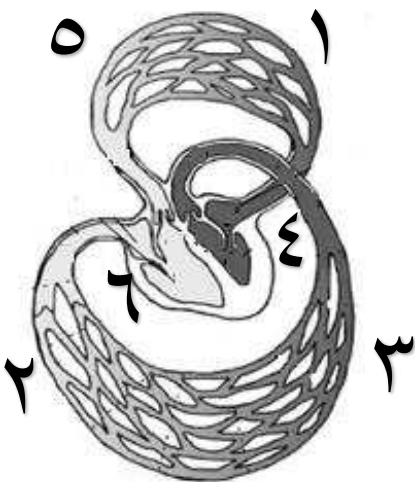
س٦: أدرس الرسومات التالية جيدا ثم أجب عن المطلوب منك:

أولاً: في الشكل البياني التالي معدل الإصابة بأمراض الجهاز الدوري ما بين سكان المناطق (أ - ب - ج):



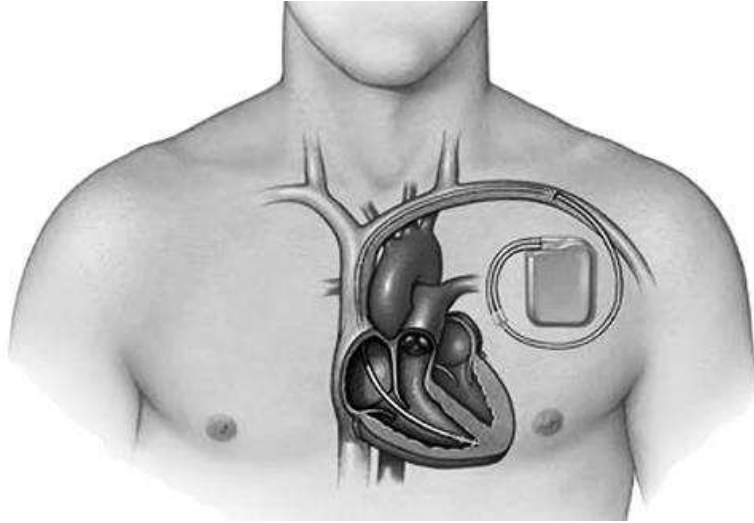
- المنطقة التي تظهر أعلى نسبة في الإصابة بمرض تصلب الشرايين هي المنطقة .....
- المنطقة التي تظهر قلة الوعي بمسببات أمراض الجهاز الدوري هي المنطقة .....
- المنطقة التي تظهر أعلى نسبة من نمط الحياة الصحية هي المنطقة .....
- عدد طريقتين تنصح بها زملاءك للوقاية من الإصابة بأمراض تصلب الشرايين؟!
  - ١- .....
  - ٢- .....

ثانياً: إذا علمت أن الأوعية الدموية المحملة بالأكسجين تحمل اللون الداكن و الأوعية الدموية المحملة بغاز ثاني أكسيد الكربون تحمل اللون الفاتح، أدرس الشكل التالي ثم أجب عن المطلوب منك:



- أ-لو تم الإشارة إلى الرئتين بعلامة (√) فأين ستكون موقعها على الشكل؟  
( أشر بعلامة √ لموقع الرئتين على الشكل المقابل )
- ب-أكتب التسلسل الصحيح بالأرقام للدورة الدموية الصغرى:  
( ----- ) ← ( ----- ) ← ( ----- ) ← ( ----- )

**ثالثاً:** من ضوء دراستك للوسائل التكنولوجية لحل مشاكل القلب في جسم الإنسان، أدرس الشكل التالي ثم أجب عن المطلوب منك:



----- يسمى الجهاز الموضح في الشكل :-----

**س٧:** أكمل جدول المقارنة التالي:

الدورة الدموية الكبرى	الدورة الدموية الصغرى	وجه المقارنة
		وجهة دوران الدم بالنسبة (للقلب – الجسم – الرئتين)
بعد التمرين الرياضي	قبل التمرين الرياضي	وجه المقارنة
		معدل النبض (أعلى / أقل)

**س٨:** رتب التتابع الصحيح للدورة الدموية الكبرى في جسم الإنسان :

ينتقل الدم المحمل بالأكسجين من الأذنين الأيسر إلى البطن الأيسر	
يعود الدم المحمل بثاني أكسيد الكربون عبر الوريدين الأجوفين	
يضخ الدم عبر الشريان الأبهر	

**انتهت أسئلة (وحدة علوم الحياة)/الوحدة التعليمية الثانية: الجهاز الدوري**

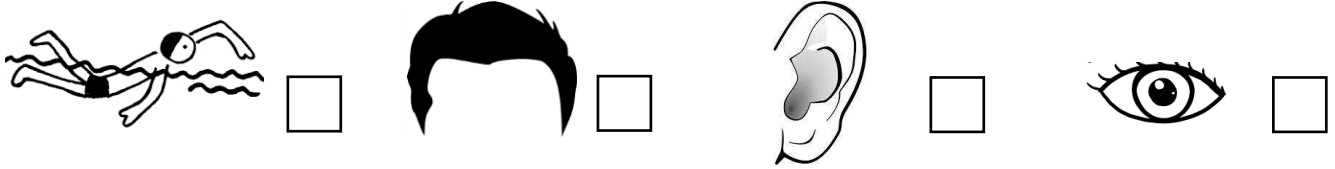


**بنك أسئلة وحدة (علوم الحياة) – الوحدة التعليمية الثالثة: الجهاز الوراثية**

**أولاً: الأسئلة الموضوعية**

س١/ اختر الإجابة الصحيحة علمياً لكل من العبارات التالية بوضع علامة (✓) في المربع المقابل لها:

١- الصفة المكتسبة يمثلها الشكل :



٢- جميعها صفات مكتسبة عدا :

الرسم  إجادة السباحة  الوقوف على الرأس  لون الجلد

٣- يرمز إلى الحمض النووي بالرمز:

DNA  F1  F2  ♂

٤- رمز التركيب الجيني للصفة السائدة النقية هي:

AA  Aa  aa  aA

٥- عند تزاوج ديك أسود (BB) مع دجاجة بيضاء (bb) فإن نسبة ظهور لون أفراسها باللون الأسود (Bb) هي:

١٠٠%  ٧٥%  ٥٠%  ٢٥%

٦- الصفة التي يحملها أحد الأبوين و لا تظهر في الجيل الأول تعرف بـ:

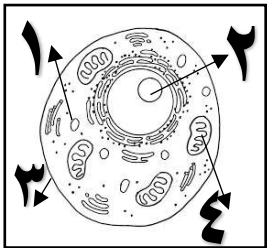
النقية  المتنحية  السائدة  الهجين

٧- في الشكل المقابل للخلية الحيوانية، تقع الكروموسومات في الجزء رقم:

١  ٢  ٣  ٤

٨- أحد مكونات النواة ويتميز بثبات كميته للنوع الواحد هو:

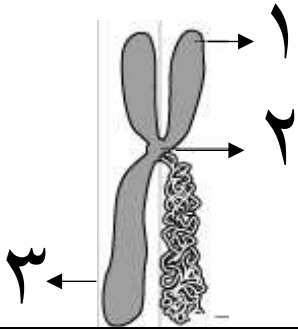
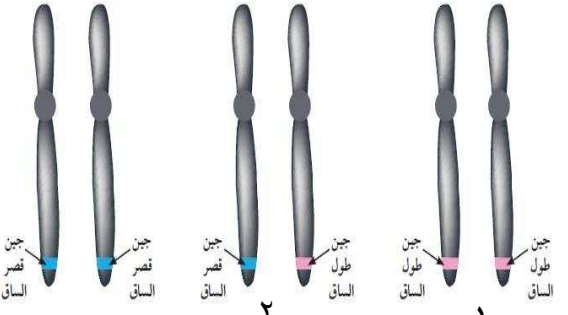
DNA  الجين  النيوكليوتيدات  الميتوكوندريا



س٢: أكتب بين القوسين كلمة ( صحيحة ) للعبارة الصحيحة و كلمة ( خطأ ) للعبارة غير الصحيحة علميا في كل مما يأتي:

١	الصفات الوراثية هي التي تنتقل من جيل إلى آخر عن طريق الكروموسومات.	(-----)
٢	لف اللسان صفة مكتسبة لا تورث بل تكتسب بالتدريب و الممارسة.	(-----)
٣	الصفة الوراثية التي تغطي على جميع أفراد الجيل الأول تسمى الصفة السائدة.	(-----)
٤	الهجين هو الفرد الذي يكون العاملان الوراثيان له متماثلين بالنسبة للصفة الوراثية.	(-----)
٥	الحمض النووي هو المادة الوراثية في الكائنات الحية و يتواجد في نواة الخلية.	(-----)
٦	يستخدم التهجين لتحسين إنتاج الفاكهة.	(-----)
٧	الكروموسوم هو الجزء الصغير المسؤول عن إظهار الصفات الوراثية.	(-----)
٨	عدد الكروموسومات في الإنسان ٤٦ كروموسوما.	(-----)

س٣: في الجدول التالي اختر العبارة أو الشكل من المجموعة ( ب ) و أكتب رقمها أمام ما يناسبها من عبارات المجموعة ( أ ) :

الرقم	المجموعة (أ)	المجموعة (ب)
( )	- جزء يمثل السنتروميير.	
( )	- جزء يمثل الكروماتيد.	
( )	- الشكل المقابل يمثل جينات على الكروموسومات:	الشكل الظاهري طول الساق      الشكل الظاهري طول الساق      الشكل الظاهري قصر الساق
( )	- شكل الجين الذي يحمل الصفة الوراثية النقية السائدة.	
( )	- شكل الجين الذي يحمل الصفة الوراثية الهجين	

### ثانياً: الأسئلة المقالية

س٤: علل لما يأتي تعليلاً علمياً سليماً:

١- هناك بعض الصفات الوراثية التي يتميز بها أحد الأبوين تظهر أكثر على الأبناء من الصفات الأخرى؟

٢- عند تزاوج نبات ذو ساق طويلة و يحمل الجين TT مع نبات ذو ساق قصيرة و يحمل الجين tt تخنفي الصفة المتنحية في الجيل الأول؟

٣- تزاوج نبات القرع مع نبات الشمام يطلق عليه بالتهجين؟



٤- الطفل المولود بالشكل المقابل بمرض متلازمة داون قد يصنف ضمن الطفرات؟

س٥: أي مما يلي لا ينتمي للمجموعة مع ذكر السبب!؟

١- لون العينين - لون الجلد - الغمازات - مهارة العزف  
- الذي لا ينتمي للمجموعة: -----  
- السبب: -----

٢- AA - BB - aa - Bb  
- الذي لا ينتمي للمجموعة: -----  
- السبب: -----

س٦: أكمل خريطة المفاهيم التالية من ضوء دراستك للصفات الوراثية:



س٧ : من خلال جدول بانث أكمل النتائج لإظهار الصفات الوراثية للجيل الأول ( F1 ) الناتج عن تزاوج التالي:

أولاً: عند تزاوج ذكر ذو شحمة أذن حرة ( Ee ) مع أنثى ذات شحمة أذن حرة ( Ee ) أكمل جدول النتائج لأفراد الجيل الأول ( F1 ) :

♂		
♀		

- الصفة السائدة لشحمة الأذن في الجيل الأول ( F1 ) هي:-----
- ما نسبة الصفة السائدة في الجيل الأول ؟ -----
- ما نسبة الصفة المتنحية في الجيل الأول؟ -----
- الشكل الظاهري لأفراد الجيل الأول هو-----

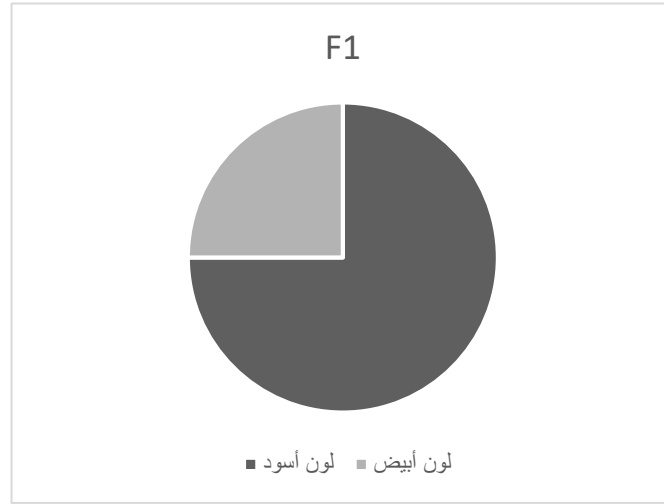
ثانياً: ما الاحتمالات الناتجة من تزاوج رجل متسع العينين ( Ww ) مع امرأة ضيقة العينين ( ww ) !؟

♂		
♀		

- الصفة السائدة لشحمة الأذن في الجيل الأول ( F1 ) هي:-----
- تظهر الصفة السائدة بنسبة = -----
- تظهر الصفة المتنحية بنسبة = -----
- نسبة اتساع العينين إلى ضيق العينين هي -----
- الشكل الظاهري لأفراد الجيل الأول هو-----

**س٨: أدرس الرسومات التالية جيدا ثم أجب عن المطلوب منك:**

**أولاً: في الشكل البياني التالي لنسبة الصفات الوراثية الظاهرة في الجيل الأول لتزاوج ديك أسود مع دجاجة بيضاء:**



اختر العبارة الصحيحة التي تفسر نوع جينات الآباء:

- (----) الديك يحمل الجين ( BB ) و الدجاجة الجين ( BB )
- (----) الديك يحمل الجين ( Bb ) و الدجاجة الجين ( bb )
- (----) الديك يحمل الجين ( Bb ) و الدجاجة الجين ( Bb )

**س٩: أكمل جدول المقارنة التالي:**

تغير مفاجئ في الصفات الوراثية	تزاوج بين سلالتين للحصول على سلالة بصفات أكثر جودة	وجه المقارنة
		المصطلح العلمي
الصفة الوراثية الهجين	الصفة الوراثية النقية	وجه المقارنة
		العاملان الوراثيان (متشابهان – مختلفان)

**انتهت أسئلة (وحدة علوم الحياة)/الوحدة التعليمية الثالثة: الوراثة**