

تم تحميل هذا الملف من موقع المناهج الكويتية



مدرسة التميز النموذجية

الملف مراجعة نهائية استعداداً للامتحان

موقع المناهج ← المناهج الكويتية ← الصف السابع ← اجتماعيات ← الفصل الأول

روابط مواقع التواصل الاجتماعي بحسب الصف السابع



روابط مواد الصف السابع على تلغرام

[الرياضيات](#)

[اللغة الانجليزية](#)

[اللغة العربية](#)

[التربية الاسلامية](#)

المزيد من الملفات بحسب الصف السابع والمادة اجتماعيات في الفصل الأول

كتاب الطالب في مادة الاجتماعيات للعام الدراسي 2018	1
حل الوحدة الاولى في مادة الاجتماعيات	2
تلخيص رائع في مادة الاجتماعيات	3
حل الوحدة الثانية في مادة الاجتماعيات	4
تلخيص ممتاز في مادة الاجتماعيات	5



مراجعة مادة الاجتماعيات

الفصل الدراسي الأول 2024 – 2025 م

للمصف (السابع)



إعداد
قسم الاجتماعيات



السؤال الأول: أكمل العبارات التالية بما يناسبها مما درست:

- 1- كل قمة لا يقل ارتفاعها عن 1000 متر تسمى جبل
- 2- كل قمة يقل ارتفاعها عن 1000 متر تسمى تل
- 3- أرض مرتفعة سطحها مستوي تمتد مساحات كبيرة تسمى هضبة
- 4- مساحة كبيرة من سطح الأرض تتميز باستوائها وقلة ارتفاعها تسمى سهل
- 5- أرض منخفضة بين مرتفعين تسمى وادي
- 6- أراضي منخفضة تكونت من التربة التي حملتها مياه الأنهار سهول فيضية نهريّة
- 7- أراضي منبسطة التي تجاور سواحل البحار والمحيطات تسمى سهول ساحلية
- 8- حالة الجو خلال فترة زمنية قصيرة تسمى الطقس
- 9- حالة الجو خلال فترة زمنية طويلة تسمى المناخ
- 10- وزن الهواء فوق أي مكان يسمى الضغط الجوي
- 11- تقع جبال مرة في دولة تسمى السودان
- 12- تقع جبال الأحجار في دولة تسمى الجزائر
- 13- تقع جبال الحجاز وعسير في دولة تسمى السعودية
- 14- يقع الجبل الأخضر في الجزء الآسيوي في دولة تسمى عمان
- 15- يقع الجبل الأخضر في الجزء الأفريقي في دولة تسمى ليبيا
- 16- يقع جبل شيخا دار في دولة تسمى العراق
- 17- يقع جبل قاسيون في دولة تسمى سوريا
- 18- تقع هضبة نجد في دولة تسمى السعودية
- 19- أكثر الأشكال التضاريسية انتشارا في الوطن العربي هي الهضاب
- 20- الدولة التي تقع خارج نطاق موقع الوطن العربي هي جزر القمر
- 21- انضمت جمهورية جزر القمر إلى الجامعة العربية في سنة 1993
- 22- تمثل مساحة الوطن العربي 10% من جملة مساحة العالم
- 23- تبلغ مساحة الوطن العربي 13.500 مليون كم
- 24- أكبر دولة عربية في الجناح الآسيوي هي السعودية وأصغر دولة البحرين
- 25- أكبر دولة عربية في الجناح الأفريقي هي الجزائر وأصغر دولة جزر القمر
- 26- البحر الذي يفصل بين الجناح الآسيوي والأفريقي يسمى البحر الأحمر
- 27- يمتد القسم الأكبر من الوطن العربي في الجناح الأفريقي
- 28- عدد الدول العربية في العالم هي 22 دولة



- 29- عدد الدول العربية في الجناح الآسيوي هي 12 دولة
- 30- عدد الدول العربية في الجناح الأفريقي هي 10 دول
- 31- الدولة العربية التي يمر بها خط الاستواء هي الصومال
- 32- الدولة العربية التي يمر بها خط جرينتش هي الجزائر
- 33- القارة المجاورة للوطن العربي من جهة الشمال هي أوروبا
- 34- المسطح المائي الذي يحد الوطن العربي من جهة الغرب يسمى المحيط الأطلسي
- 35- عدد خطوط الطول هي 360
- 36- عدد دوائر العرض هي 180
- 37- الخط الرئيسي لخطوط الطول يسمى جرينتش
- 38- دائرة العرض الرئيسية تسمى الاستواء
- 39- بدأت المنافسة الاستعمارية على الوطن العربي منذ القرن 18 ميلادي
- 40- يشكل سكان الوطن العربي ما يقارب 5% من سكان العالم
- 41- أول محطة لتحليه مياه البحر في الكويت تسمى الشويخ في عام 1953
- 42- نزل القرآن على سيدنا محمد عام 610 ميلادي
- 43- كان للحضارة العربية أثر واضح في إثراء الحضارة الأوروبية في القرن 10 الميلادي
- 44- تسمى حشائش الاستبس في بلاد المغرب باسم الحلفا
- 45- يستخدم لحاء البلوط والسنديان في صناعة الفلين

السؤال الثاني: اختر الإجابة الصحيحة من بين البدائل التي تلي كل عبارة فيما يلي:

1. عرفت الأبجدية في بلاد اليمن وكانت تتألف من (27-28-29) حرف
2. موقع حضارة دلمون (شمال - وسط - جنوب) الخليج العربي.
3. كانت الأبجدية في بلاد اليمن تكتب بالخط (الكوفي - العثماني - المسند)
4. يحد حضارة جنوب غرب الجزيرة العربية من الغرب بحر يسمى (الأحمر - المتوسط - الأسود)
5. أهم معابد دلمون (باربار - ريدان - الكنيسة)
6. عاصمة دولة معين (صنعاء- عدن - قرناو)
7. أهم مدن دولة سبأ (حضر موت - مأرب - بغداد)
8. أشهر ملوك سبأ الملكة (أروى - بليقيس - ماريا)
9. أهم مدن دولة حمير (قرناو - مصر - ريدان)
10. أشهر سدود اليمن سد (النهضة - العالي - مأرب)



11. أشهر المنتجات الزراعية باليمن (الموز - اللبان - القرفة- جميع ما سبق)
12. تقع شبه الجزيرة العربية في (شرق - جنوب غرب - شمال) قارة آسيا.
13. تقع شبه الجزيرة العربية ضمن المناخ (الصحراوي الحار - المعتدل - البارد)
14. أهم واردات بلاد الرافدين (المعادن - الأحجار - الأخشاب- جميع ما سبق)
15. أهم صادرات بلاد الرافدين المنتجات الزراعية و (المنسوجات الصوفية - التمور - اللؤلؤ)
16. العلوم التي برعت فيها بلاد الرافدين هي (الهندسة والحساب - الفلك - الطب - جميع ما سبق)
17. أهم الفنون في بلاد الرافدين (النحت والبناء والرسم - جميع ما سبق)
18. يعد عصر الملك البابلي (حمورابي - منقرع - تحتمس) أهم العصور في تاريخ العراق القديم
19. أهم المحاصيل في مصر القديمة (القمح - الفواكه - الكتان - جميع ما سبق)
20. أهم الصناعات التي برع فيها المصري القديم (الأواني الفخارية - الورق - السفن - جميع ما سبق)
21. أهم المعتقدات الدينية عند المصريين الاعتقاد في (التناسخ - البعث والخلود - الاندماج)
22. تُستخدم حشائش الحلفا في صناعة (الورق - الحبال - الحصر- جميع ما سبق)
23. تنقسم حشائش السافانا حسب كمية المطر إلى طويلة ومتوسطة و(عريضة - قصيرة - ضخمة)

السؤال الثالث: صحح ما تحته خط فيما يلي:

- 1- تقع هضبة الشطوط في دولة السودان (الجزائر)
- 2- تقع هضبة بادية الشام في دولة الكويت (العراق - الاردن - سوريا)
- 3- وزن الهواء فوق أي مكان يسمى سرعة الرياح (الضغط الجوي)
- 4- الأجزاء الفسيحة من الأرض تتميز باستوائها تسمى التلال (السهول)
- 5- الأشكال التضاريسية الأكثر انتشارا في الوطن العربي تسمى السهول (الهضاب)
- 6- تقع سهول نهر النيل في ليبيا وتونس (مصر والسودان) عشرة عاماً من التمييز
- 7- يمتد الوطن العربي في قارة آسيا وأوروبا (أفريقيا)
- 8- يقع الوطن العربي بالنسبة لقارات العالم في جهة الشمال (الوسط)
- 9- يحدث فصل الصيف على الوطن العربي والشمس عمودية على خط الاستواء ومدار الجدي (السرطان)
- 10- يحدث فصل الشتاء على الوطن العربي والشمس عمودية على خط الاستواء ومدار السرطان (الجدي)
- 11- الحضارة الأكثر أثراً بين الحضارات العربية هي الحضارة البايلية (المصرية)
- 12- تمثال أبو الهول يمثل أسد جالس له رأس فيل (أسد)
- 13- تعرف الحشائش المعتدلة في المغرب باسم المانجو (الحلفا)
- 14- أشهر المعالم الدينية في فلسطين هي المسجد الكبير (الأقصى)



- 15- يقع الجبل الأخضر في دولتين هما عمان وموريتانيا (ليبيا)
- 16- اخترع السومريون كتابة عرفت باسم الهيروغليفية (المسمارية)
- 17- الحرفة الرئيسية عند السومريون والبابليون هي صيد السمك (الزراعة)
- 18- تعرف الحشائش المعتدلة باسم الموز (الاستبس)
- 19- تعرف الحشائش الحارة باسم النخيل (السافانا)
- 20- أطلق على البحرين قديماً اسم القرين (آوال)
- 21- عرفت الكتابة المصرية القديمة باسم المسمارية (الهيروغليفية)
- 22- يطلق اسم بلاد الرافدين على سوريا (العراق)
- 23- احتوت شريعة حمورابي على 750 مادة (282)
- 24- أسياة التجارة العربية هم العراقيون (اليمنيون)
- 25- أشهر المعالم الدينية في المملكة العربية السعودية المسجد الأقصى (المسجد الحرام)

السؤال الرابع: عرف ما يلي:

- 1- الطقس: حالة الجو لفترة زمنية قصيرة
- 2- المناخ: حالة الجو لفترة زمنية طويلة
- 3- الضغط الجوي: وزن الهواء في أي مكان
- 4- الجبل: كل قمة لا يقل ارتفاعها عن 1000 متر
- 5- الهضبة: ارض مرتفعة سطحها مستوي تمتد مساحات كبيرة
- 6- السهول: مساحة كبيرة من سطح الأرض تتميز باستوائها وقلة ارتفاعها
- 7- التل: كل قمة تقل عن 1000 متر
- 8- الوادي: ارض منخفضة بين مرتفعين
- 9- السهول الفيضية (النهرية): أراضي منخفضة تكونت من التربة التي حملتها مياه الأنهار
- 10- السهول الساحلية: هي أراضي منبسطة تجاور سواحل البحار والمحيطات
- 11- الوطن العربي: هو مجموعة من الدول التي يجمعها عدد من السمات المشتركة مثل الدين واللغة
- 12- الموقع الاستراتيجي: أي موقع ذو مكانه مهمة بين دول العالم
- 13- المسطحات المائية: جميع أشكال المياه على سطح الأرض
- 14- القناة: مجرى مائي صناعي يشق لأغراض الري والنقل
- 15- المضيق: ممر مائي ضيق يصل بين بحرين أو محيطين
- 16- الموقع الفلكي: هو موقع الدولة بالنسبة لخطوط الطول ودوائر العرض



- 17- الموقع النسبي: موقع الدولة بالنسبة لليابس والماء
- 18- الإقليم: يعني منطقة أو مكان
- 19- النبات الطبيعي: هو نبات ينمو تلقائياً بعد سقوط المطر دون تدخل الإنسان
- 20- النهر: مجرى مائي عذب ينحدر على الدوام لينتهي إلى بحر أو صحراء
- 21- المياه الجوفية: هي المياه التي توجد في باطن الأرض
- 22- الأفلاج: ماء جاري في الأرض
- 23- البحيرات: مسطح مائي تحيط به اليابس من جميع الجهات
- 24- الحضارة: كل ما يطرأ على المجتمع من تقدم ورقي في جميع نواحي الحياة

السؤال الخامس: اجب عما يلي :

- 1- قارن بين مفهوم السهول الفيضية (النهرية) والسهول الساحلية
- أ- السهول الفيضية (النهرية): أراضي منخفضة تكونت من التربة التي حملتها مياه الأنهار
- ب- السهول الساحلية: هي أراضي منبسطة تجاور سواحل البحار والمحيطات
- 2 - قارن بين مفهوم الطقس والمناخ
- أ- الطقس: حالة الجو لفترة زمنية قصيرة
- ب- المناخ: حالة الجو لفترة زمنية طويلة
- 3 - الأهمية الجغرافية للوطن العربي
- أ- يقع وسط قارات العالم ب - يطل على أهم المسطحات المائية
- 4 - الأهمية الاقتصادية للوطن العربي
- أ- منطقة عبور الملاحة والتجارة العالمية ب - ظهور كميات كبيرة من النفط
- 5 - العوامل التي تؤثر في مناخ الوطن العربي
- أ- الموقع بالنسبة لدوائر العرض ب - القرب أو البعد عن المسطحات المائية ج - التضاريس د - الرياح
- 6-العوامل الرئيسية المؤثرة في تنوع النبات الطبيعي في الوطن العربي
- أ- نوع التربة ب - المناخ
- 7 - صفات المطر في الوطن العربي
- أ- تذبذب كميات المطر ب - تقتصر كميات المطر في أطراف الوطن العربي ج - تتصف بأنها قليلة
- 8 - عوامل قيام الحضارة
- أ- الموقع الاستراتيجي ب - المياه العذبة ج - اعتدال المناخ د - الثروات الطبيعية و- العنصر البشري



9 - أهم الحضارات التي قامت في بلاد الرافدين

السومريون- الأكاديون- البابليون- الآشوريون - الكلدانيون

10- عوامل قيام الحضارة في بلاد اليمن

الموقع الاستراتيجي - وفرة المياه - خصوبة التربة

السؤال السادس: أكمل المخطط السهمي:

1- عناصر المناخ



2- الأشكال التضاريسية في الوطن العربي



3 - معابر انتقال الحضارة الإسلامية إلى أوروبا



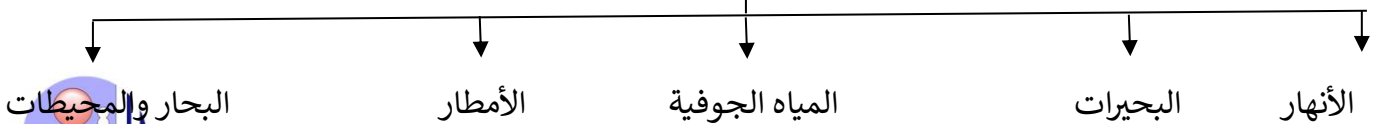
4 - مقومات الهوية العربية



5 - الحياة النباتية في الوطن العربي



6 - مصادر المياه في الوطن العربي



7 - الديانات السماوية الثلاث

ديانة الإسلام

الديانة المسيحية

الديانة اليهودية

8- الحضارات في الوطن العربي

مصر القديمة

بلاد اليمن

بلاد الشام

بلاد الرافدين

دلمون

9- عوامل قيام الحضارة (مقومات قيام الحضارة)

العنصر البشري

المناخ

المياه

الموقع الاستراتيجي

الثروات الطبيعية

10- دويلات (حضارات) جنوب غرب شبه الجزيرة العربية (اليمن)

معين

حمير

سبأ

السؤال السابع:

1 - قارن بين كلا من:

الغابات المعتدلة	الغابات المدارية الحارة	وجه المقارنة
الأرز - العرعر - الصنوبر - البلوط - السنديان - الزيتون - الحمضيات - التفاح	الساج - الماهوجني - التاك - الأبنوس - السدر - الأثل - السنط	أهم الأشجار
عدم كثافتها ودائمة الخضرة تتساقط أوراقها في فصل الشتاء	ضخمة وجذوعها متشابكة وأوراقها عريضة	مميزات أشجارها
يستخدم لحاء البلوط في صناعة الفلين	البناء وصناعة الأثاث	استخدامها



2 - أسماء الرياح المحلية حسب كل دولة:

الدولة	اسم الرياح المحلية
السودان	الهبوب
العراق	الشرقية
السعودية	السموم
الكويت	الطوز
مصر	الخماسين
ليبيا	القبلي
الجزائر والمغرب	السيروكو والسيلانو

وجه المقارنة	اليهودية	المسيحية	الإسلام
اسم النبي	موسى	عيسى	محمد
اسم الكتاب السماوي	التوراة	الإنجيل	القرآن الكريم

السؤال الثامن: علل ما يلي:

1 - يتمتع الوطن العربي في موقع استراتيجي مهم

بسبب توسطه قارات العالم الثلاث - يطل على أهم المسطحات المائية

2 - الأماكن القريبة من خط الاستواء تتميز بارتفاع درجة حرارتها طوال العام

لان أشعة الشمس تسقط عمودية على خط الاستواء

3 - يقاوم النبات الصحراوي الجفاف والحرارة

بسبب جذوره الطويلة - يحمي نفسه بلحاء سميك وأوراقه ابريه.

4 - كانت أوروبا تعيش عصور الظلام

بسبب سيطرة الكنيسة على عقول الناس.



5- قيام العديد من الحضارات بالوطن العربي

- بسبب توفر عوامل قيام الحضارة بالوطن العربي (خصوبة التربة - اعتدال المناخ - وفرة المياه)

6- حرص المصريين القدامى على تحنيط جثث الموتى

- لاعتقادهم بالبعث والخلود

7- عرف سكان بلاد الرافدين الزراعة

- بسبب خصوبة التربة ووفرة المياه

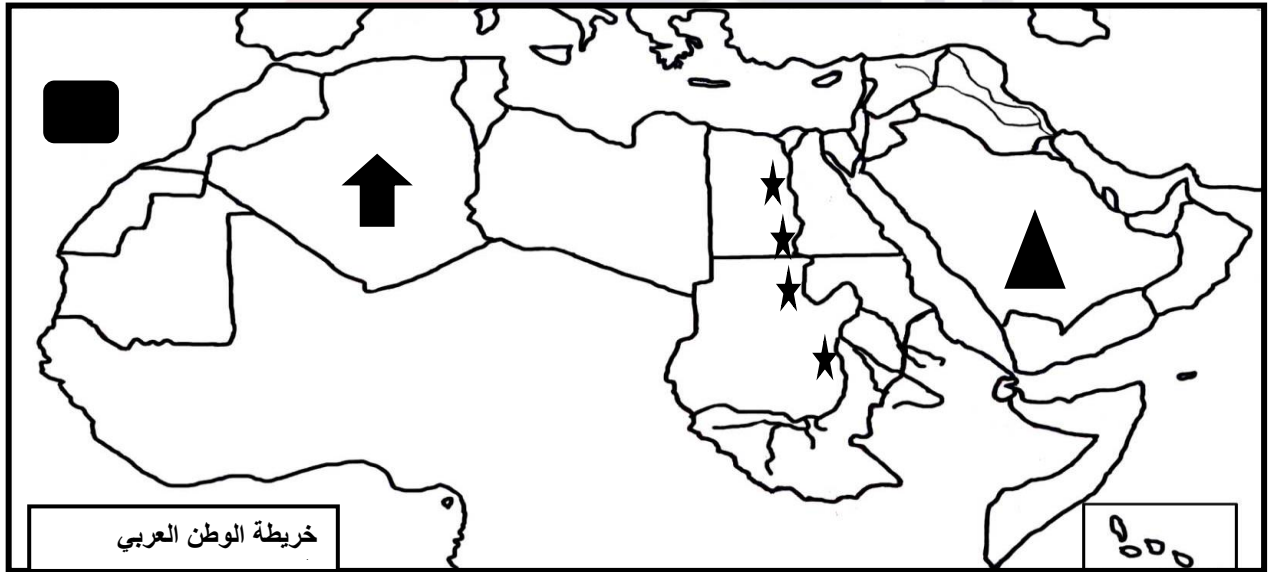
8- عدم استقرار وتنقل سكان وسط شبه الجزيرة العربية

- بسبب قسوة البيئة الصحراوية وقلة موارد المياه

9- ما النتائج المترتبة على اعتقاد المصري القديم في البعث والخلود

- تحنيط الموتى - الاهتمام ببناء القبور - بناء المعابد للآلهة

السؤال الثامن: حدد المطلوب على الخريطة



أولاً:

1 - حدد على الخريطة هضبة نجد بوضع علامة ▲

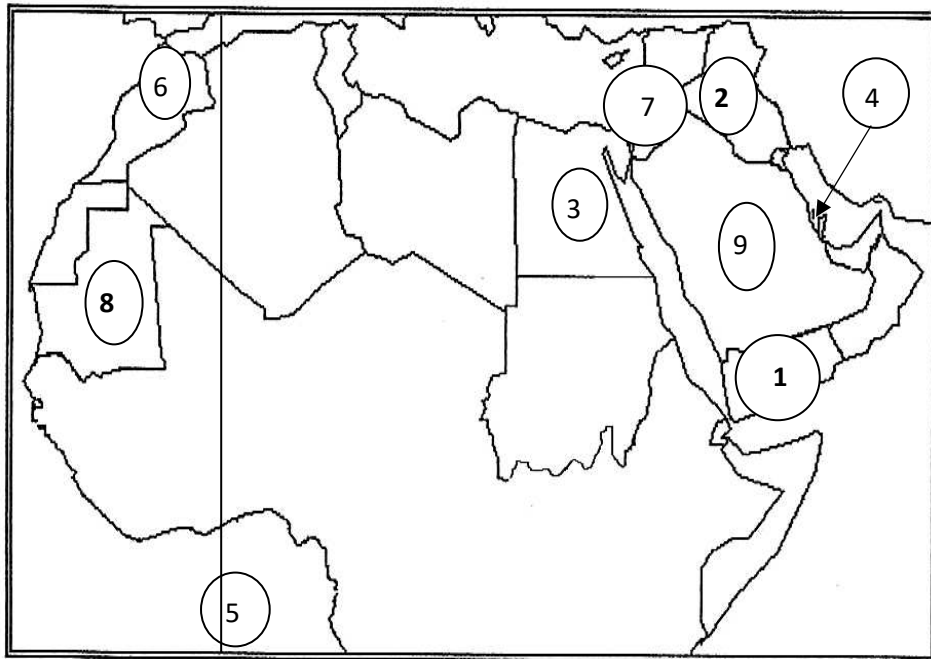
2 - حدد على الخريطة سهول نهر النيل بوضع علامة ★

3 - حدد على الخريطة جبل الأحجار بوضع علامة ↑

4 - حدد على الخريطة المحيط الأطلسي بوضع علامة ■



ثانياً :



1. حضارة بلاد اليمن
2. حضارة بلاد الرافدين
3. الحضارة المصرية
4. حضارة دلمون
5. خط جرينتش
6. جبال أطلس
7. حضارة بلاد الشام
8. دولة موريتانيا
9. هضبة نجد

خمسة وعشرون عاماً من التميز





مدرسة التميز النموذجية
(ابتدائي - متوسط - ثانوي)
الجهاز الفني التربوي

منصات التميز التعليمية

لزيارة منصة التميز التعليمية في اليوتيوب امسح الباركود التالي :



لزيارة منصة التميز التعليمية في تليجرام امسح الباركود الخاص بقناة كل فصل مما يلي :



الصف الرابع



الصف الثالث



الصف الثاني



الصف الأول



الصف التاسع



الصف الثامن



الصف السابع



الصف السادس



الصف الخامس



الصف الثاني عشر
أدبي



الصف الثاني عشر
علمي



الصف الحادي عشر
علمي



الصف الحادي عشر
أدبي



الصف العاشر



لزيارة صفحتنا في تويتر

لزيارة صفحتنا في الإنستغرام

عنواننا : خيطان - ق ٤ - ش ١٠٠