

تم تحميل هذا الملف من موقع المناهج الكويتية



منطقة الأحمدية التعليمية

الملف نموذج إجابة منطقة الأحمدية

موقع المناهج ← المناهج الكويتية ← الصف السابع ← اجتماعيات ← الفصل الأول

روابط مواقع التواصل الاجتماعي بحسب الصف السابع



روابط مواد الصف السابع على تلغرام

[الرياضيات](#)

[اللغة الانجليزية](#)

[اللغة العربية](#)

[التربية الاسلامية](#)

المزيد من الملفات بحسب الصف السابع والمادة اجتماعيات في الفصل الأول

كتاب الطالب في مادة الاجتماعيات للعام الدراسي 2018	1
حل الوحدة الاولى في مادة الاجتماعيات	2
تلخيص رائع في مادة الاجتماعيات	3
حل الوحدة الثانية في مادة الاجتماعيات	4
تلخيص ممتاز في مادة الاجتماعيات	5

العام الدراسي ٢٠٢٢/٢٠٢٣ م
الزمن : ساعة و ٥٥
عدد الأوراق: (٤)

نموذج إجابة
امتحان الفترة الدراسية الأولى
لمقرر الكويت والوطن العربي
للسبب السابع متوسط

وزارة التربية
الإدارة العامة لمنطقة الأحمدية التعليمية
التوجيه الفني للاجتماعيات



أجب عن جميع الأسئلة

السؤال الأول: (موضوعي) يتكون من (أ - ب - ج) .

(أ) ظل الخيار الصحيح من بين الخيارات التي تلي كل عبارة: (١×٥=٥ درجات)

١. العام الذي انضمت فيه جزر القمر لجامعة الدول العربية: ص ٢٣

١٩٩٠ م	١٩٩١ م	١٩٩٢ م	١٩٩٣ م
--------	--------	--------	--------

٢. تمثل مساحة الوطن العربي من جملة مساحة العالم حوالي: ص ٢٣

١٠٪	١٥٪	٢٠٪	٢٥٪
-----	-----	-----	-----

٣. الدولة العربية التي تشرف على قناة السويس: ص ٢٨

السودان	المغرب	سوريا	مصر
---------	--------	-------	-----

٤. أكثر الدول العربية إنتاجاً للمياه المحلاة في الوطن العربي: ص ٦٢

سوريا	الكويت	السعودية	قطر
-------	--------	----------	-----

٥. عاصمة حضارة حمير: ص ٨٥

مأرب	سيأ	ريدان	عدن
------	-----	-------	-----

(ب) أكمل العبارات التالية بما يناسبها: (١×٥=٥ درجات)

١. المسطح المائي الذي يحد الوطن العربي من جهة الشمال يسمى البحر المتوسط ص ٣٤

٢. مسطح مائي تحيط به اليابسة من جميع الاتجاهات يسمى البحيرة ص ٦٠

٣. الملك البابلي الذي ظهرت في عهده شرائع قانونية قديمة اسمه حمورابي ص ٨٤

٤. الدولة العربية التي قامت فيها حضارة دلمون اسمها البحرين ص ٨٨

٥. النبي الذي نزلت عليه الديانة المسيحية اسمه عيسى عليه السلام ص ٩٠

(ج) صنف الكلمات التالية إلى مكاتها الصحيح في الجدول التالي: (١×٥=٥ درجات)

(الخماسين - القبلي - الهبوب - الشرقية - الطوز) ص ٤٨

السودان	العراق	السعودية	مصر	ليبيا
الهبوب	الشرقية	الطوز	الخماسين	القبلي

السؤال الثاني: (موضوعي) يتكون من (أ - ب - ج) .

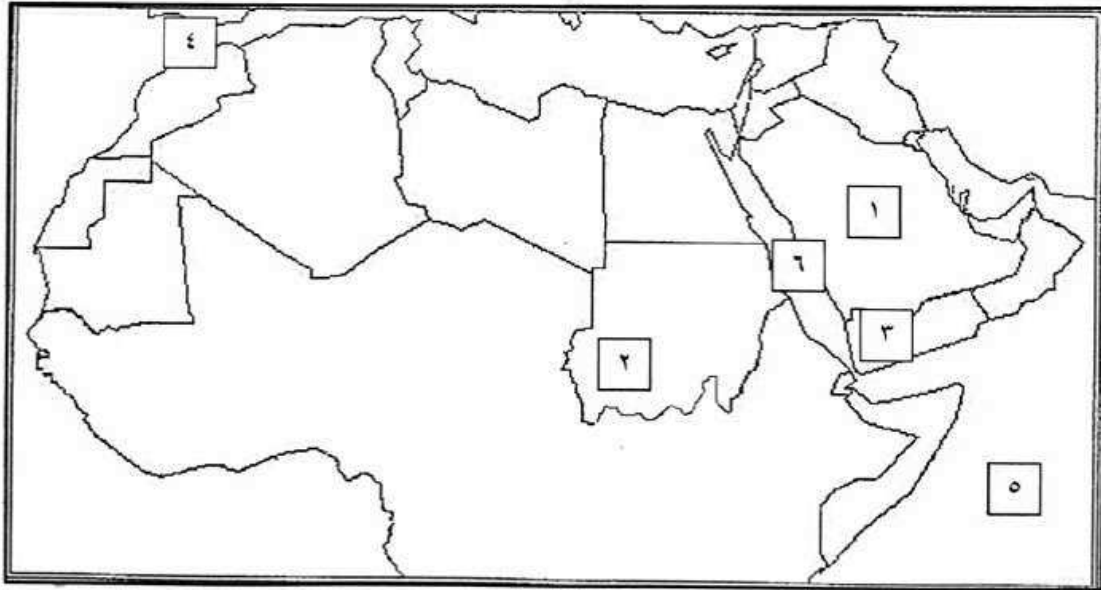
(أ) أكتب المفاهيم أو المصطلحات الدالة على العبارات التالية: (١×٥=٥ درجات)

١. (مياه جوفية ص ٦٠) مياه توجد في جوف الأرض (باطن الأرض)
٢. (الموقع الفلكي ص ٣١) نقطة من الكرة الأرضية يتحدد موقعها بخطوط الطول ودوائر العرض.
٣. (الضغط الجوي ص ٤٤) وزن الهواء فوق أي مكان.
٤. (الجبل ص ٣٨) كل ما ارتفع عن الأرض وله قمة ولا يقل ارتفاعه عن ١٠٠٠ متر .
٥. (النبات الطبيعي ص ٥١) النبات الذي ينمو تلقائيا عقب سقوط المطر دون تدخل من الانسان .

(ب) صحح ما تحته خط بكتابة الإجابة الصحيحة ما بين الأقواس: (١×٥=٥ درجات)

١. يمتد الوطن العربي في قارتي آسيا و أوروبا
٢. المحطة التي أنشأت لتحلية مياه البحر في دولة الكويت عام ١٩٥٣م اسمها الجهراء (الشويخ) ص ٦١
٣. الدولة العربية التي تقع فيها جبال الحجاز اسمها عمان
٤. الكتابة التي عرف السومريون بها تسمى الأبجدية
٥. آخر الكتب السماوية هو كتاب الانجيل

(ج) أمامك خريطة الوطن العربي صماء اكتب الرقم الدال على العبارات التي تليها: (١×٥=٥ درجات)



- ١ - جبال مرة يمثلها على الخريطة الرقم (٢) ص ٣٨
- ٢ - مضيق جبل طارق يمثلها على الخريطة الرقم (٤) ص ٢٨
- ٣ - هضبة نجد يمثلها على الخريطة الرقم (١) ص ٤٠
- ٤ - حضارة بلاد اليمن يمثلها على الخريطة الرقم (٣) ص ٧١
- ٥ - البحر الأحمر يمثلها على الخريطة الرقم (٦) ص ٣٣

السؤال الثالث: (مقالى) يتكون من (أ - ب - ج) .

(أ) عرف المفاهيم أو المصطلحات التالية: (١×٥=٥ درجات)

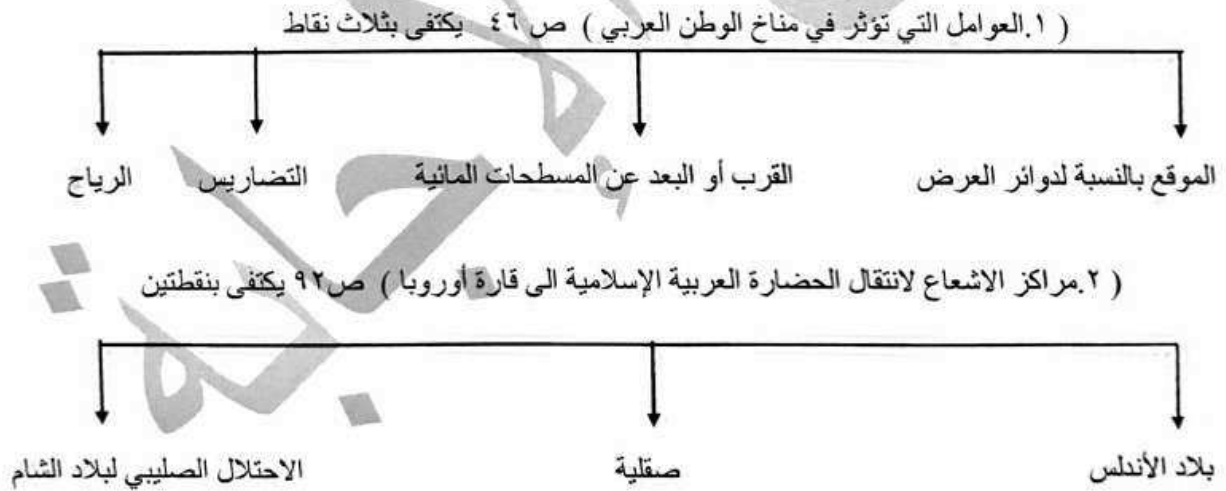
١. السهول : هي مساحة كبيرة من سطح الأرض تتميز باستوائها وقلة ارتفاعها ومفردها سهل ص ٤٢
٢. الحضارة: كل ما يطرأ على المجتمع من رقي وتقدم في جميع نواحي الحياة الدينية والسياسية والاقتصادية والفكرية ص ٧١
٣. الطقس : هو حالة الجو في مكان لفترة زمنية قصيرة تتراوح بين يوم أو عدة أيام ص ٤٤
٤. الأفلاج : الماء الجاري وهو مجرى صغير مائي في الأرض. ص ٦٠
٥. المضيق: ممر مائي ضيق يصل بين بحرين أو محيطين أو أي مساحتين كبيرتين نسيباً من الماء . ص ٢٨

(ب) علل لما يلي: (١×٥=٥ درجات)



١. المدن الساحلية أكثر اعتدالاً في المناخ صيفاً. ص ٤٦ درجة
- لأن البحر يلطف من درجة حرارتها.
٢. الأهمية الجغرافية للوطن العربي . ص ٥١
- يشغل مكاناً وسطاً بين قارات العالم الثلاث.
- يطل على مسطحات مائية واسعة ذات أهمية كبيرة للملاحة والتجارة العالمية .
٣. يؤثر المناخ في تنوع النبات.
- لاختلاف درجات الحرارة.
- اختلاف كمية الأمطار ومواسمها .

(ج) أكمل المخططات السهمية التالية: (١×٥=٥ درجات)



السؤال الثالث: (مقالى) يتكون من (أ - ب - ج) .

(أ) عرف المفاهيم أو المصطلحات التالية: (١×٥=٥ درجات)

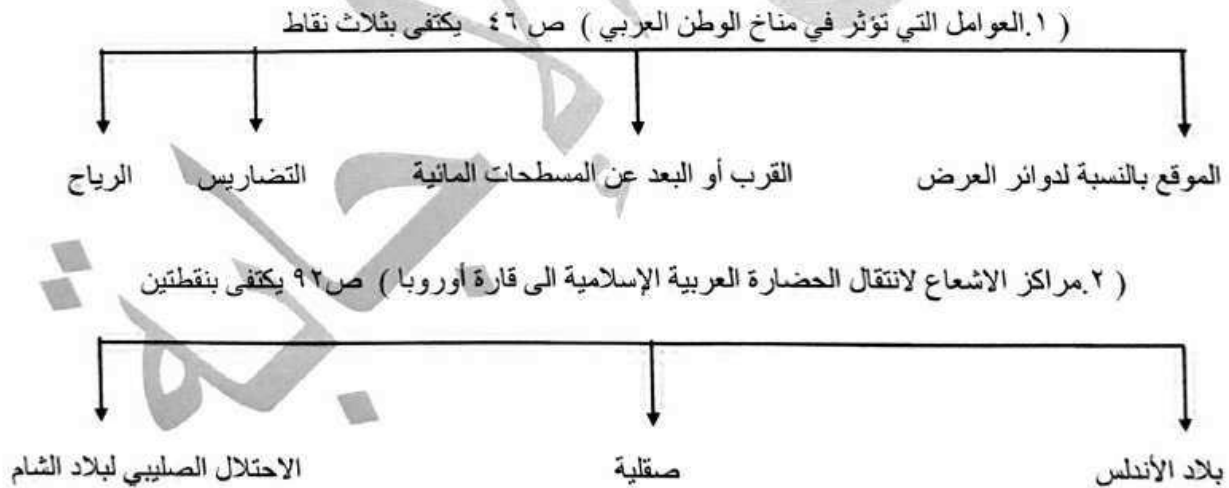
١. السهول : هي مساحة كبيرة من سطح الأرض تتميز باستوائها وقلة ارتفاعها ومفردها سهل ص ٤٢
٢. الحضارة: كل ما يطرأ على المجتمع من رقي وتقدم في جميع نواحي الحياة الدينية والسياسية والاقتصادية والفكرية ص ٧١
٣. الطقس : هو حالة الجو في مكان لفترة زمنية قصيرة تتراوح بين يوم أو عدة أيام ص ٤٤
٤. الأفلاج : الماء الجاري وهو مجرى صغير مائي في الأرض. ص ٦٠
٥. المضيق: ممر مائي ضيق يصل بين بحرين أو محيطين أو أي مساحتين كبيرتين نسبياً من الماء . ص ٢٨

(ب) علل لما يلي : (١×٥=٥ درجات)




١. المدن الساحلية أكثر اعتدالاً في المناخ صيفاً. ص ٤٦ درجة
- لان البحر يلطف من درجة حرارتها.
٢. الأهمية الجغرافية للوطن العربي . ص ٥١
- يشغل مكاناً وسطاً بين قارات العالم الثلاث.
- يطل على مسطحات مائية واسعة ذات أهمية كبيرة للملاحة والتجارة العالمية .
٣. يؤثر المناخ في تنوع النبات. ص ٥١
- لاختلاف درجات الحرارة.
- اختلاف كمية الأمطار ومواسمها .

(ج) أكمل المخططات السهمية التالية : (١×٥=٥ درجات)



السؤال الرابع: (مقالى) يتكون من (أ - ب - ج) .

(أ) لاحظ الصورة التي أمامك ثم أجب عن الأسئلة التالية: (١×٥=٥ درجات)



١. ما اسم الحضارة التي تمثلها الصورة التي أمامك؟ (درجة واحدة) ص ٧٤
- الحضارة المصرية القديمة

٢. اذكر العوامل التي ساعدت على قيام الحضارة فيها. (يكتفى بنقطتين) درجتان ص ٧٥
- تنوع الصخور والمعادن / امتداد الصحراء.
- نهر النيل. / اعتدال المناخ وجفافه.

٣. عدد العلوم والفنون التي اشتهرت بها هذه الحضارة. (يكتفى بنقطتين) درجتان ص ٧٧
- الفلك / الكيمياء / التحنيط / النحت / البناء / الكتابة.

(ب) عدد اثنين لكل مما يلي: (١×٦=٦ درجات)

موقع
المنهج الكويتية
almanahj.com/kw

(يكتفى بنقطتين) درجتان ص ٢٦

١. مقومات الهوية العربية .
- وحدة الدين / اللغة العربية
- التراث / الأهداف المشتركة

(يكتفى بنقطتين) درجتان ص ٥٩

٢. صفات المطر في الوطن العربي.
- تذبذب كمية الأمطار بين عام وآخر كما إنها تسقط في أيام معدودة .
- الأمطار في الوطن العربي تكاد تقتصر على الأطراف الشمالية والأطراف الجنوبية منها / تتصف الأمطار بانها قليلة بصفة عامة ولا يستثنى من ذلك سوى المناطق التي تقع من ورائها الجبال كما هو الحال سواحل المغرب وسواحل لبنان

(يكتفى بنقطتين) درجتان ص ٨١

٣. عوامل ازدهار الزراعة في بلاد الرافدين.
- خصوبة التربة
- سعة سهولها / وفرة مياهها

(ج) قارن بين كل من حسب المطلوب منك في الجدول التالي: (١×٤=٤ درجات) ص ٥٢

أوجه المقارنة	الحشائش الحارة (السافانا)	الحشائش المعتدلة (الاستبس)
التعريف	هي حشائش طويلة يختلف نوعها حسب كمية الأمطار.	هي حشائش قصيرة نوعًا ما تنمو في الشتاء خلال موسم سقوط الأمطار.
الحيوانات التي تتربى عليها	تربى عليها الماشية	الأغنام / الأبل / الخيول / الحمير (يكتفى بنقطه واحده)

— انتهت الإجابة —