

تم التحميل من شبكة ياكويت التعليمية



Telegram:
[ykuwait_net_home](https://t.me/ykuwait_net_home)





السؤال الأول (الموضوعي) ويتكون من (أ - ب - ج - د - هـ - و - ز) :

تم التحميل من شبكة باكويت التعليمية



Telegram:
ykuwait_net_home

أ) اختر البديل المناسب من بين البدائل التي تلي كل عبارة وضع تحته خط :- (درجة لكل إجابته = ٤)

١- الجهة التي تقع فيها منطقة الخليج العربية بالنسبة لقارة آسيا هي :

أ- الشمالية الشرقية ب- الشمالية الغربية ج- الجنوبية الشرقية د- الجنوبية الغربية ص ١٩

٢- الدولة الخليجية التي قامت على أرضها حضارة دلمون تسمى :

أ- الإمارات ب- قطر ج- البحرين د- عمان ص ٤٨

٣- العام الذي تم فيه انطلاق السوق الخليجي المشترك هو :

أ- ٢٠٠٧م ب- ٢٠٠٨م ج- ٢٠٠٩م د- ٢٠١٠م ص ٧٧

٤- القمة السابعة والعشرين لمجلس التعاون لدول الخليج العربية اطلق عليها اسم الشيخ :

أ- صباح السالم الصباح ب- جابر الأحمد الصباح ج- سعد العبدالله الصباح د- صباح الأحمد الصباح ص ٧٤

٥- الاسم الذي يطلق على الصبية الذين يعملون على ظهر السفينة لاكتساب الخبرة :

أ- التباية ب- الطواويش ج- الغواصين د- النواخذة ص ٣٢

ب) صنف أسماء النباتات الطبيعية التالية حسب مكانها المناسب في الجدول :- (درجة لكل إجابته = ٤)

(الخبيزة - الصبار - العرفج - الحويذان) ص ٢٦

النباتات الحولية	النباتات المعمرة
الخبيزة	الصبار
الحويذان	العرفج

ج) اكتب العنوان المناسب اسفل كل صورة لكل مما يلي : (درجة لكل إجابة = ٣)

(خياطة البشوت - سفينة البغلة - صناعة الخوص)

		
- البغلة ص ٣٣	- صناعة الخوص ص ٢٩	- خياطة البشوت ص ٢٩

تم التحميل من شبكة ياكويت التعليمية

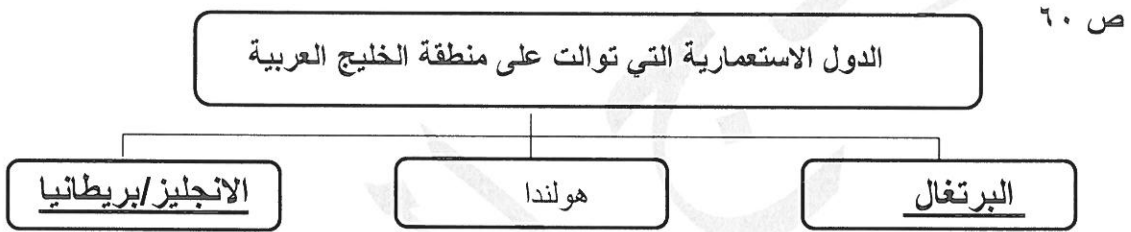
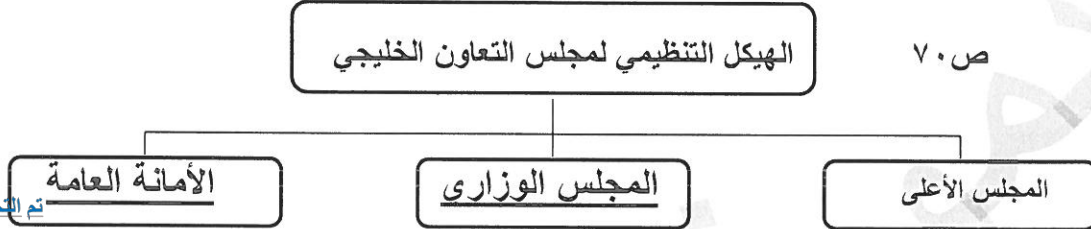
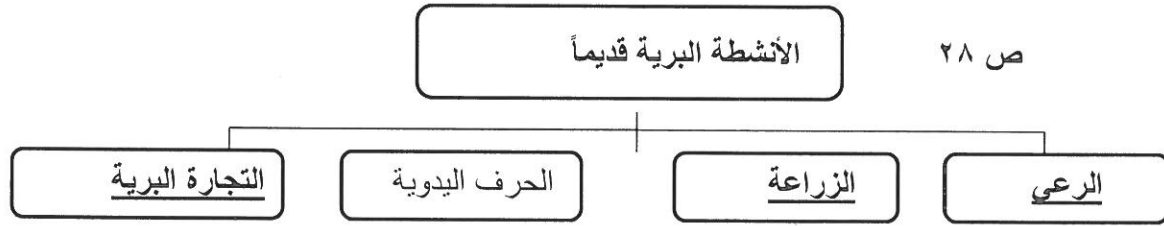


Telegram:
ykuwait_net_home

د) أكمل العبارات التالية بما يناسبها مما درست : (درجة لكل إجابة = ٧)

- ١- الموقع بالنسبة لخطوط الطول ودوائر العرض يعرف باسمالموقع الفلكي... ص ٢٠
- ٢- الدولة الخليجية التي يقع فيها الجبل الأخضر تسمى...عمان ص ٢٣
- ٣- يطلق على ربان السفينة في الكويت قديماً اسم ...النوخذة... ص ٣٢
- ٤- الدولة الخليجية العربية الوحيدة التي لم تتعرض للاستعمار تسمى...المملكة العربية السعودية... ص ٦٥
- ٥- المدينة التي اتخذت مقراً دائماً لمنظمة مجلس التعاون الخليجي تسمى ...الرياض... ص ٧٠
- ٦- عرف الخليج العربي قديماً باسم..البحر الأدنى / بحر شروق الشمس.. ص ٤٧
- ٧- العام الذي أعلن فيه قيام مجلس التعاون لدول الخليج العربية هو ...١٩٨١م .. ص ٧٠

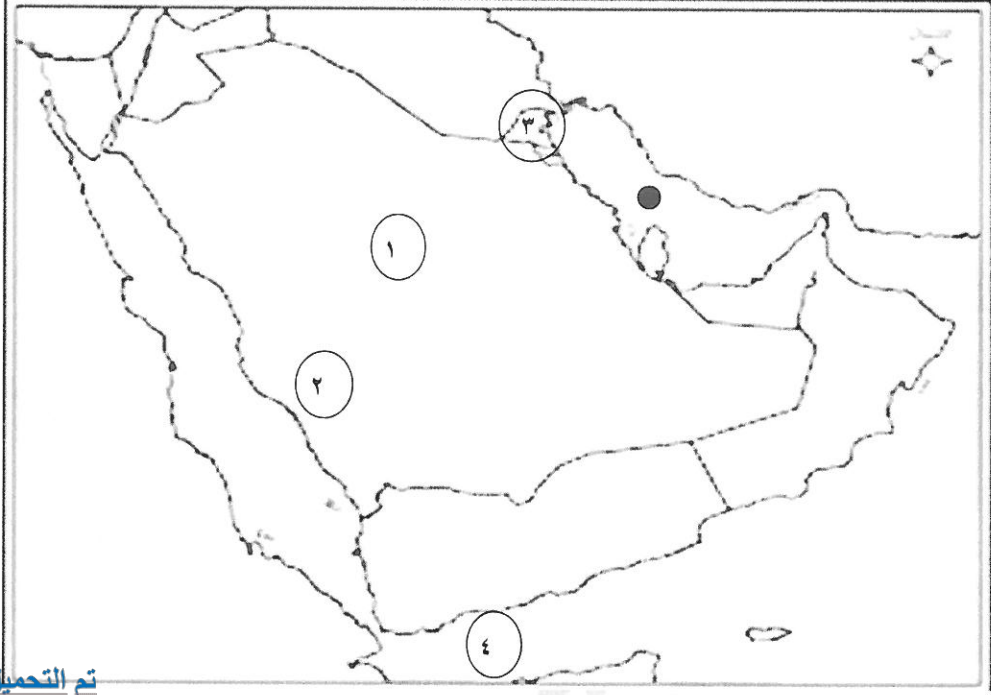
هـ) أكمل المخططات السهمية التالية : (درجة لكل إجابة = ٧)



و- أكتب المفهوم أو المصطلح الدال على العبارات التالية : (درجة لكل إجابة = ٥)

المفهوم	التعريف
١-الخليج العربي ص ١٩	ذراع مائي لبحر العرب يمتد من خليج عمان جنوباً حتى شط العرب شمالاً .
٢-الفواص ص ٣٢	الشخص الذي يغوص في أعماق البحر بحثاً عن اللؤلؤ .
٣-الواحه ص ٢٩	منطقة تقع في الصحراء بها مياه عذبة صالحة للزراعة .
٤- نبات حولي ص ٢٦	نباتات يرتبط وجودها بموسم سقوط المطر .
٥-الاستقلال ص ٦٣	تحرر الدولة من المستعمر الأجنبي وقيامها بمسؤولية إدارة شؤونها الداخلية والخارجية

ز) لاحظ خريطة دول الخليج العربية ثم أجب عن الأسئلة التي تليها : (درجة لكل إجابة = ٥)

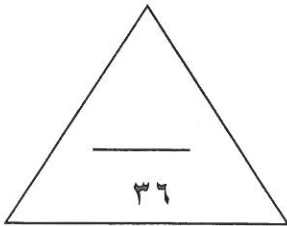


تم التحميل من شبكة ياكويت التعليمية



Telegram:
ykuwait_net_home

- هضبة نجد يمثلها على الخريطة الرقم ١
- جبال عسير يمثلها على الخريطة الرقم ٢
- الدولة الخليجية التي ظهرت بها الحضارة الهلنستية يمثلها على الخريطة الرقم ٣
- خليج عدن يمثلها على الخريطة الرقم ٤
- الشكل (●) على الخريطة يرمز إلى مسطح مائي اسمه الخليج العربي



السؤال الثاني : يتكون من : [أ ، ب]

أ) علل لما يلي: (أذكر السبب) : (درجة لكل إجابة = ٣)

- ١- انصرف سكان منطقة الخليج العربية عن حرفة الغوص على اللؤلؤ . ص ٣١ (يكتفى بنقطتين)
- ظهور اللؤلؤ الصناعي
- اكتشاف النفط

تم التحميل من شبكة ياكويت التعليمية



Telegram:
ykuwait_net_home

- ٢- أهمية الموقع الجغرافي لمنطقة الخليج العربية . ص ١٩ (يكتفى بنقطة واحدة)
- تقع وسط العالم
- تتحكم بأهم طرق التجارة العالمية

ب) عرف المفاهيم والمصطلحات التالية : (درجة لكل إجابة = ٣)

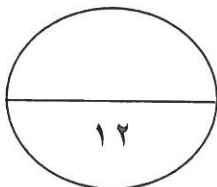
- ١-الموقع النسبي : الموقع بالنسبة للماء واليابس. ص ٢٠
٢- المناخ : حالة الجو في مكان ما خلال فترات زمنية طويلة . ص ٢٥
٣- الاستعمار : هو أن تسيطر دولة قوية على دولة ضعيفة بهدف استغلال مواردها (خيراتها) ص ٦١

السؤال الثالث : عدد لكل مما يلي : (درجة لكل إجابة = ٦)

- ١-وسائل صيد الأسماك قديما . ص ٣١ (يكتفى بنقطتين)
- الميدار - الحضرة - القرقرور.

- ٢-أشكال سطح الأرض (التضاريس). ص ٢٣ (يكتفى بنقطتين)
- الجبال - الهضاب - السهول - التلال - الأودية .

- ٣-الصفات المشتركة بين دول الخليج العربية . ص ٧٠ (يكتفى بنقطتين)
-وحدة التراث -الانتماء - الدين - اللغة - المصالح المشتركة .



السؤال الثالث : ويتكون من (أ - ب)

أ) قارن بين (معاهدة الحماية والاستقلال) لدولة الكويت مع بريطانيا حسب الجدول التالي :

(درجة لكل إجابة = ٤)

أوجه المقارنة	معاهدة الحماية	معاهدة الاستقلال
العام	١٨٩٩ م	١٩٦١ م
اسم الحاكم	الشيخ مبارك الصباح	الشيخ عبدالله السالم الصباح

تم التحميل من شبكة ياكويت التعليمية



Telegram:
ykuwait_net_home

ب) اكتب فيما يلي مما درست : (درجة لكل إجابة = ٦)

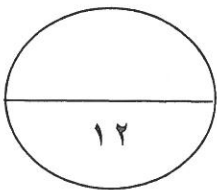
١- أنواع الرياح التي تهب على منطقة الخليج العربية . ص ٢٥ (يكتفى بنقطتين)
- الرياح الشمالية
- الرياح الجنوبية الشرقية / الكوس
- الزوابع / العواصف الترابية.

٢- أهم الأنشطة البحرية في منطقة الخليج العربية قديماً. ص ٣١ - ص ٣٣ ص ٣٤ (يكتفى بنقطتين)
- صيد الأسماك - الغوص على اللؤلؤ - صناعة السفن - التجارة البحرية .

٣- أهداف مجلس التعاون لدول الخليج العربية . ص ٧٦ (يكتفى بنقطتين)
- تحقيق التعاون بين الدول الأعضاء في جميع المجالات.
- تحقيق الترابط والصلات بين دول مجلس التعاون.
- العمل على تقدم دول مجلس التعاون في المجال العلمي.

٤- تعتبر سفينة البغلة من أفضل أنواع السفن المستعملة في السفر قديماً في منطقة الخليج العربية. ص ٣٤

- لمئاتها - قدرتها على نقل الحمولة الكبيرة
- تمتاز بقلّة تعرضها للأخطار البحرية



انتهت الأسئلة