

تم تحميل هذا الملف من موقع المناهج الكويتية



الملف أوراق عمل تقييمية مرفقة بالإجابة

[موقع المناهج](#) ⇨ [المناهج الكويتية](#) ⇨ [الصف الثاني](#) ⇨ [علوم](#) ⇨ [الفصل الثاني](#)

روابط مواقع التواصل الاجتماعي بحسب الصف الثاني



روابط مواد الصف الثاني على تلغرام

[الرياضيات](#)

[اللغة الانجليزية](#)

[اللغة العربية](#)

[التربية الاسلامية](#)

المزيد من الملفات بحسب الصف الثاني والمادة علوم في الفصل الثاني

مخططات وملخصات لمادة العلوم	1
اوراق عمل مفيدة للطلاب في مادة العلوم	2
اوراق عمل ممتازة في مادة العلوم	3
مخططات ممتازة في مادة العلوم	4
نموذج للامتحان الاخير	5



نموذج الإجابة لأوراق العمل التقييمية

الصف الثاني - الفترة الدراسية الثانية

العام الدراسي 2024-2025



وزارة التربية
التوجيه الفني للعام للعلوم

نموذج إجابة أوراق العمل التقييمية للصف الثاني الابتدائي

الفترة الدراسية الثانية

العام الدراسي 2025-2024

موقع
المنهج الكويتي
almanafj.com/kw



2

الصف الثاني



SCAN ME



فريق إعداد التوجيهات الفنية

الاسم :

الفصل :

الدرجة النهائية : /..... 5

درس : كيف يحدث النهار و الليل ؟

السؤال الأول : اختر الإجابة الصحيحة علمياً بوضع علامة (✓) في المربع المقابل لها فيما يلي

- يحدث الليل و النهار نتيجة دوران الأرض حول :

نفسها أمام الشمس

نفسها أمام القمر

الشمس

القمر

2

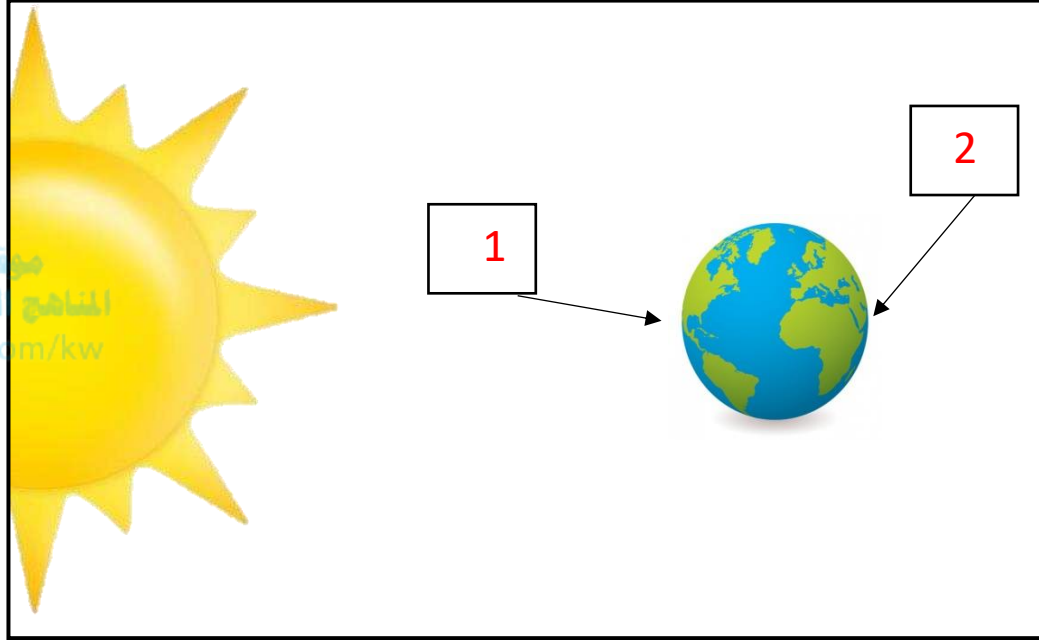
السؤال الثاني : ضع علامه (✓) امام العبارة الصحيحة و علامة (x) امام العبارة غير الصحيحة فيما يلي :

(1) تدور الأرض حول نفسها مرة كل سنة . (x)

(2) الجزء المقابل للشمس يكون الوقت فيه نهار . (✓)

2

السؤال الثالث: أشر إلى الأجزاء المطلوبة منك بالرسم :



أشر بالرقم (1) لجزء الكرة الأرضية الذي يكون نهاراً

و أشر بالرقم (2) لجزء الكرة الأرضية الذي يكون ليلاً

1

الاسم :

الفصل :

الدرجة النهائية : / 5

درس : أي الأجسام يسمح بمرور الضوء ؟

السؤال الأول : اختر الإجابة الصحيحة علمياً بوضع علامة (✓) في المربع المقابل لها فيما يلي:

- أحد الأجسام التالية تسمح بمرور الضوء من خلالها :

موقع
المناهج الكويتية
almanahj.com/kw



2

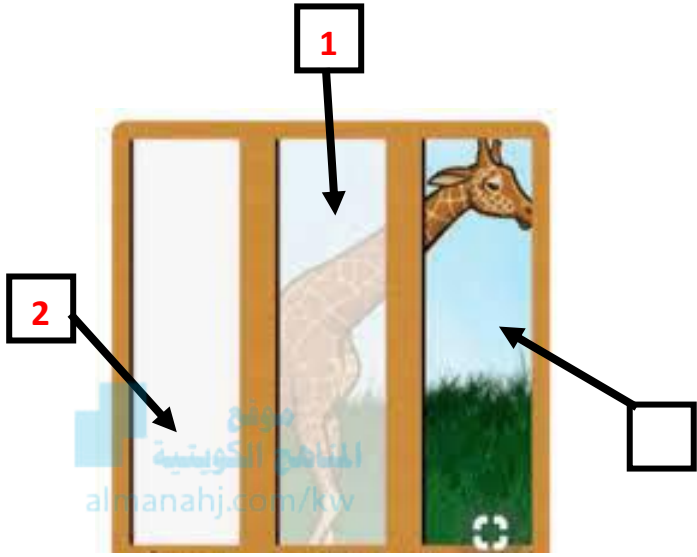
السؤال الثاني : ضع علامة (✓) أمام العبارة الصحيحة وعلامة (✗) أمام العبارة غير الصحيحة في كل مما يأتي:

(1) جميع الأجسام من حولنا معتمة. (... ✓ ...)

(2) الماء من الأجسام الشفافة التي تسمح بمرور الضوء. (... ✗ ...)

2

السؤال الثالث : أشر إلى الأجزاء المطلوبة بالرسم :



- أدرس الرسم الموضح أمامك ثم :

- أشر بالرقم (1) للجسم النصف شفاف .

- أشر بالرقم (2) للجسم المعتم .

1

الاسم :

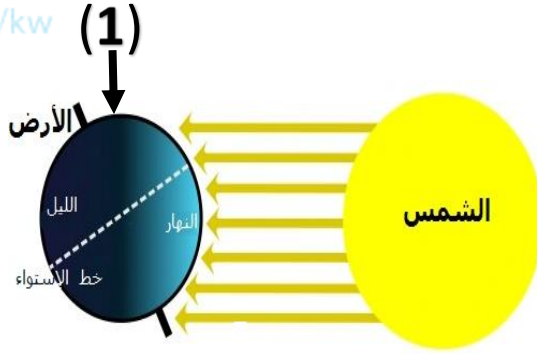
الفصل :

الدرجة النهائية : / 5

درس : كيف تحدث الفصول الأربعة ؟

السؤال الأول : اختر الإجابة الصحيحة علمياً بوضع علامة (✓) في المربع المقابل لها فيما يلي:

- جزء الكرة الأرضية المشار له بالرقم (1) يكون الفصل فيه



صيف

شتاء

ربيع

خريف

2

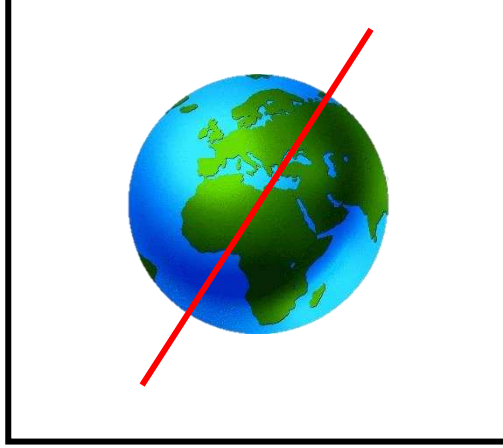
السؤال الثاني : أكمل العبارات التالية بما تراه مناسباً علمياً :

(1) تحدث ظاهرة الفصول الأربعة نتيجة دوران الأرض حول الشمس.....

(2) نلبس الملابس الثقيلة في فصل الصيف.....

2

السؤال الثالث : وضح بالرسم محور الكرة الأرضية بصورة صحيحة :



الاسم :

الفصل :

الدرجة النهائية : /..... 5

درس : كيف تحمي نفسك من أشعة الشمس؟

السؤال الأول : اختر الإجابة الصحيحة علمياً بوضع علامة (✓) في المربع المقابل لها فيما يلي:



- اختر العنصر المختلف عن المجموعة الموضحة بالشكل

2

1

4

3

2

السؤال الثاني : أكمل العبارات التالية بما يناسبها من الكلمات

1 - يصاب الأطفال بحرق بالجلد عند التعرض لأشعة الشمس (المباشرة – غير المباشرة)

2 – القبعة تحمي الإنسان من أشعة الشمس . (فائدة – ضرر)

2

السؤال الثالث : لاحظ الصورة التالية , ثم أكمل الرسم بإضافة شيئين لحماية الطفل من أشعة الشمس القوية :



يرسم شمسية وقبعة ويمكن احتساب الإجابة صحيحة أي شي آخر يساعد في الحماية من الشمس



الاسم :

الفصل :

الدرجة النهائية : / 5

درس : ما الموارد التي يمكن استخراجها من الأرض ؟

السؤال الأول : اختر الإجابة الصحيحة علمياً بوضع علامة (✓) في المربع المقابل لها فيما يلي :



- مورد طبيعي يستخدم كوقود للطائرات هو

الخشب

الفحم

النفط

الماء

2

السؤال الثاني : اختر من المجموعة (ب) ما يناسب المجموعة (أ) :

الرقم	المجموعة (أ)	المجموعة (ب)
(2)	مورد طبيعي يستخدم لري المزروعات	(1) البنزين (2) الماء
(1)	مورد يستخدم في تصنيع الأثاث	(1) الخشب (2) الفحم

2

السؤال الثالث : أكمل البيانات على الرسم الموضح أدناه :

الرسم يوضح موارد طبيعية مختلفة



almanahj.com/kw



الاسم :

الفصل :

الدرجة النهائية : / 5

درس : ما الذي يمكن إعادة تدويره ؟

السؤال الأول : اختر الإجابة الصحيحة علمياً بوضع علامة (✓) في المربع المقابل لها فيما يلي:



- يمكن تحويل جميع المواد التالية إلى مواد جديدة ما عدا :

بقايا الطعام

الأوراق المستخدمة

قنينة المياه

العلب الكرتونية

2

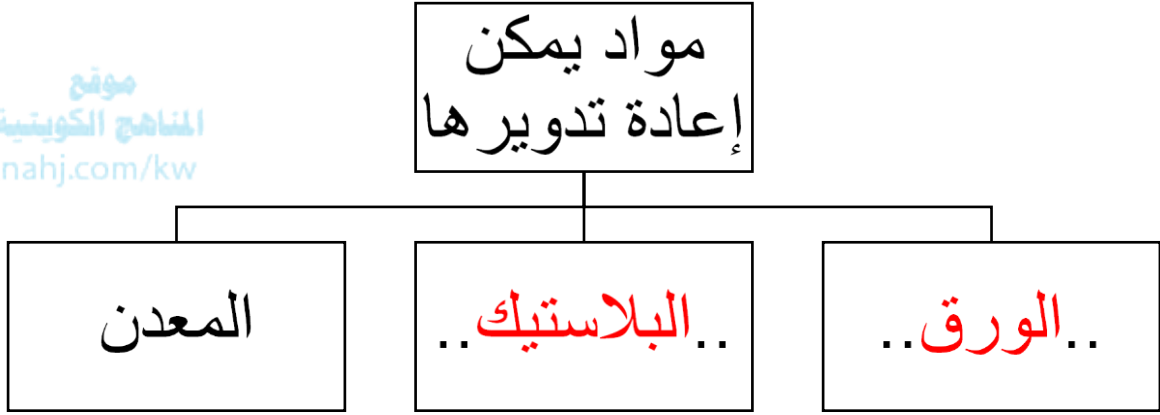
السؤال الثاني : أكمل العبارات التالية بما يناسبها علمياً :

(1) تحويل المواد التي نستخدمها لمواد جديدة يطلق عليه إعادة تدوير....

(2) رمي النفايات بالأماكن المخصصة لها يضمن لك بيئة نظيفة.....

2

السؤال الثالث: أكمل المنظم الشكلي الموضح أدناه :



الاسم :

الفصل :

الدرجة النهائية : / 5

درس : كيف نستخدم المغناطيس بأمان ؟

السؤال الأول : اختر الإجابة الصحيحة علمياً بوضع علامة (✓) في فيما يلي:

- من الإستخدامات غير الآمنة للمغناطيس :



2

السؤال الثاني : أكمل العبارات التالية بما يناسبها الكلمات بصورة صحيحة :

(1) ينصح باستخدام المغناطيس بطرق (آمنة – ضارة)

(2) الشكل (1) يمثل (مغناطيس – بوصلة)



الشكل (2)

2

السؤال الثالث : أكمل الجزء الناقص في البوصلة و حدد ما هو :



الاسم :

الفصل :

الدرجة النهائية : / 5

درس : كيف نستخدم البطارية بأمان ؟

السؤال الأول : اختر الإجابة الصحيحة علمياً بوضع علامة (✓) في المربع المقابل لها فيما يلي:

- المصباح الكهربائي سيضيء بقوة عند استخدام البطارية


موقع
المناهج الكويتية
almanahj.com/kw



2

السؤال الثاني : ضعي بين القوسين علامة (✓) أمام العبارة الصحيحة وعلامة (X) أمام العبارة غير الصحيحة في كل مما يأتي :

(1) البطاريات المعرضة لأشعة الشمس القوية تحتفظ بقوتها . (.....X.....)

(2) علامة تدل على عدم لعب الأطفال بالبطاريات . (.....✓.....) 

2

السؤال الثالث : أكمل الرسم لتوضح الطريقة المناسبة للمحافظة على البطارية و استخدامها بأمان :



الاسم :

الفصل :

الدرجة النهائية : / 5

درس : كيف يمكن نقل الأشياء ؟

السؤال الأول : اختر الإجابة الصحيحة علمياً بوضع علامة (✓) في المربع المقابل لها فيما يلي :

- آلة بسيطة تحتاجها لتسهيل حركة وسائل النقل .



2

السؤال الثاني : ضع علامة (✓) أمام العبارة الصحيحة وعلامة (x) أمام العبارة غير الصحيحة :

(1) يساعدنا المستوى المائل على رفع العلم أعلى السارية . (x)


(2) العجلات مهمة لجميع أنواع الدراجات . (✓)

2

السؤال الثالث : صنف الصور التالية وفق ما هو مطلوب في الجدول:



4



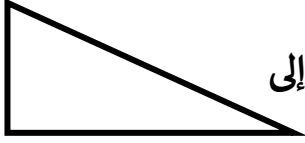

3



2



1

 <p>أشياء تحتاج للنقل إلى</p>	 <p>أشياء تحتاج للنقل إلى</p>
3 ، 1	2 ، 4

1