

تم تحميل هذا الملف من موقع المناهج الكويتية



منطقة حولي التعليمية

الملف نموذج أسئلة منطقة حولي التعليمية

[موقع المناهج](#) ← [المناهج الكويتية](#) ← [الصف السادس](#) ← [علوم](#) ← [الفصل الثاني](#)

روابط مواقع التواصل الاجتماعي بحسب الصف السادس



روابط مواد الصف السادس على تلغرام

[الرياضيات](#)

[اللغة الانجليزية](#)

[اللغة العربية](#)



[التربية الاسلامية](#)

المزيد من الملفات بحسب الصف السادس والمادة علوم في الفصل الثاني

<a href="#">بنك أسئلة</a>	1
<a href="#">دليل المعلم</a>	2
<a href="#">دليل المعلم</a>	3
<a href="#">كتاب الطالب 6</a>	4
<a href="#">تحضير درس مخطط حسمك</a>	5



امتحان نهاية الفصل الدراسي الثاني في مجال العلوم للصف السادس للعام الدراسي (2022 - 2023)  
 السؤال الثاني : أكتب بين القوسين كلمة ( صحيحة ) للعبارة الصحيحة وكلمة ( خطأ ) للعبارة  
 غير الصحيحة لعائتي : ( 8 = 1 × 8 درجات )

8

1. المجهر أداة تستخدم لإظهار التفاصيل الدقيقة للأشياء . (.....)
2. جدار الخلية يقوم بتنظيم مرور المواد من وإلى الخلية. (.....)
3. نواة الخلية الحيوانية عتياً ما تكون مركزية . (.....)
4. الشكل المقابل يوضح أحد مستويات التعضي يسمى النسيج.  (.....)
5. غسل اليدين لا يحد من انتشار مسببات الأمراض . (.....)
6. المادة الصلبة المتشكلة في العنزل السائل تسمى الراسب. (.....)
7. الشكل المقابل يمثل مستحلب .  (.....)
8. التلوث طريقة تستخدم لفصل مادة صلبة عن مادة سائلة. (.....)

السؤال الثالث : في الجدول التالي اختر العبارة أو الشكل من المجموعة ( ب ) وأكتب رقمها أمام ما يناسبها  
 من عبارات المجموعة ( أ ) : ( 6 = 1 × 6 درجات )

6

رقم	المجموعة ( أ )	المجموعة ( ب )
<input type="checkbox"/>	• فيروس يصيب نبات التبغ يعرف بالتوتش.	 (3)
<input type="checkbox"/>	• فيروس يصيب الإنسان يعرف الإنفلونزا.	 (2)
<input type="checkbox"/>	• نور التوم به المتكروبا في أعماق الإنسان.	4- إنتاج المضادات الحيوية.
<input type="checkbox"/>	• نور التوم به المتكروبا في السداة.	5- إنتاج البثور السادة.
<input type="checkbox"/>	• كريمة الآزلي لإعداد شورب الآزلي.	6- عدم التلوث.
<input type="checkbox"/>	• كريمة الآزلي لإعداد شورب الآزلي.	7- التلوث.
<input type="checkbox"/>	• كريمة الآزلي لإعداد شورب الآزلي.	8- التلوث.
<input type="checkbox"/>	• كريمة الآزلي لإعداد شورب الآزلي.	9- التلوث.

الكتابة

السؤال الخامس ( أ ) : اختر أي مما يلي لا ينتمي للمجموعة بوضع خط مع ذكر السبب:

( 2x2 = 4 درجات )


1- (جدار الخلية - البلاستيدة الخضراء - الجسم المركزي - فجوة عصارية كبيرة)

السبب: لأنه من عضيات ..... وثباتي من عضيات.....

2- (مرض النكاف أورو القحطس - الحمى القلاعية - الحصبة - التهاب البلعوم)

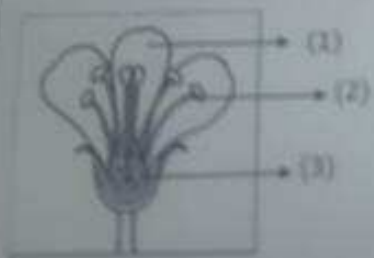
السبب: لأنه من ..... وثباتي من .....

السؤال الخامس ( ب ) : أدرس الرسومات التالية جيداً ثم أجب عن المطلوب: ( 3 x 2 = 6 درجات )




1- الرسم المقابل يوضح مراحل تكاثر فيروس آكل البكتيريا :

- المرحلة التي يتم فيها حقن المادة الوراثية يحملها الرقعة.....
- يتركب الفيروس من مادة وراثية معاطلة و .....



2- الرسم المقابل يوضح تركيب أعضاء التكاثر في الزهرة

- عضو التكاثر الذكري في الزهرة يسمى .....
- عضو التكاثر الأنثوي في الزهرة يمثل الرقعة (.....)



3- الرسم المقابل يوضح خليط من الماء والزيوت

- يطر الماء في هذا الخليط (سحب - مائل)
- الطريقة المناسبة لفصل مكونات هذا الخليط هي .....

المتكبرون

10

السؤال الرابع (أ) : عطل لما يأتي تعليلاً علمياً دقيقاً : (  $2 \times 2 = 4$  درجات )  
 1. الخلايا العصبية طويلة ومكتورة التفرع . مما يثبتها





4

2. النواة في الخلية البكتيرية بدائية . لماذا ؟

موقع المناهج الكويتية  
 almanahi.com/kw

السؤال الرابع (ب) : قارن بين كل مما يلي : (  $3 \times 2 = 6$  درجات )

6

		وجه المقارنة
.....	.....	النقل البكتيري
		وجه المقارنة
.....	.....	نوع التنفس
النائي	الخلوي	وجه المقارنة
.....	.....	نوع التكاثر (مقسوم - مقسوماً - مستطولاً)

الكنترول

16

المطلوب الأول : اختر الإجابة الصحيحة تعليماً لكل من العبارات التالية و ضع علامة ( ✓ )

في الخرج المطابق لها : ( 8 × 2 = 16 درجة )

1. وحدة الزمان الأساسية في الكائن الحي :



2. وحدة الزمن في الخلايا النباتية هو الزمن بالثانية العنقودية :

خلية نباتية  خلية حيوانية  خلية بشرية  خلية نباتية



موقع

المنهج الكويتية

almanahj.com/kw

3. الهرمون في النمل المطبق من المنعش في السنة :

الأمان  الكافور  الكافور  الكافور

4. حيز من حيزي حيز الأمان :

الحصى  الحصى  الحصى

5. في الكائن الحي على إنتاج كوكب حديد :

الأوزون  الأوزون  الأوزون

6. أحد السمات التالية يطلق عليها حيوان :

السمك  السمك  السمك

7. طبق من طبق من طبق في الكائن الحي لا يتواجد في الكائن الحي :

الكافور  الكافور  الكافور

8. طريقة عمل راحة اليد للحيوان المنطوق :

الكافور  الكافور  الكافور

التكثيرون