

تم تحميل هذا الملف من موقع المناهج الكويتية



الملف وسائل ومراجعات وأوراق عمل على الوحدة الرابعة

[موقع المناهج](#) ← [المناهج الكويتية](#) ← [الصف الثاني](#) ← [رياضيات](#) ← [الفصل الأول](#)

روابط مواقع التواصل الاجتماعي بحسب الصف الثاني



روابط مواد الصف الثاني على تلغرام

[الرياضيات](#)

[اللغة الانجليزية](#)

[اللغة العربية](#)

[التربية الاسلامية](#)

المزيد من الملفات بحسب الصف الثاني والمادة رياضيات في الفصل الأول

[التقريب الى اقرب عشرة في مادة الرياضيات](#)

1

[التقريب الى اقرب عشرة في مادة الرياضيات 4](#)

2

[ورقة عمل في مادة الرياضيات](#)

3

[ورقة عمل المكعبات 1 في مادة الرياضيات](#)

4

[ورقة عمل مقارنة في مادة الرياضيات](#)

5



وزارة التربية  
الإدارة العامة لمنطقة الأحمدية التعليمية  
مدرسة هدية الابتدائية بنين



موقع  
المناهج الكويتية  
almanahj.com/ku



# • الوحدة (مجم)

للسف الثاني



• أ. رباب حسيني

إعداد المعلمة


• أ. شيمه المطيري

إشراف رئيسة القسم

# • استخدام قواعد الجبر والطرح




بند (٤-١)



# اتبع القاعدة . أكمل



موقع  
المنهاج الكويتية  
almanahj.com/kw



# اتبع القاعدة . أكمل




موقع  
المناهج الكويتية  
almanahj.com/kw

مُخرجات


مُدخلات


٨
١٠
٢١



# اتبع القاعدة . أكمل



موقع  
المنهاج الكويتية  
almanahj.com/kw



# اتبع القاعدة . أكمل




موقع  
المناهج الكويتية  
almanahj.com/kw

مُخْرَجَات


مُدْخَلَات

١١
١٥
٩




# اجمع العددين في العمود الأول ثم اكتب القاعدة



مُخرجات


موقع  
المنهج الكويتية  
almanahj.com/kw



مُدخلات

$2 + 2$
$1 + 7$
$4 + 5$



# اجمع العددين في العمود الأول ثم اكتب القاعدة



موقع  
المنهج الكويتية  
almanahj.com/kw

اجمع ٣


مُخرجات

٥ + ٢
٤ + ٤
٣ + ٣

مُدخلات

# اكتب القاعدة ، ثم اكتب الأعداد الناقصة




موقع  
المنهج الكويتية  
almanahj.com/kw

مُخْرَجَات

٢
٤

مُدْخِلَات

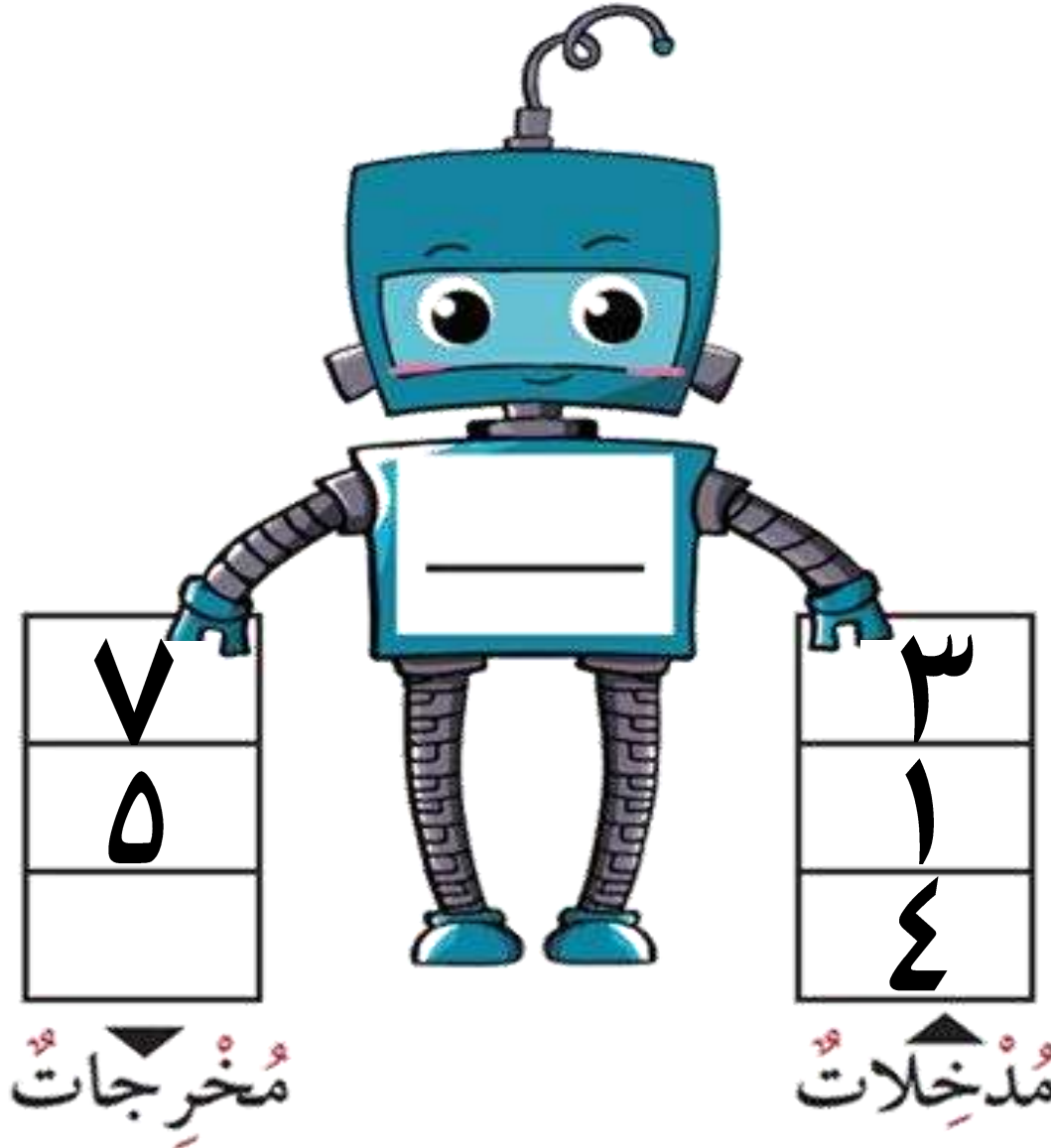
٥
٧
٩



# اكتب القاعدة ، ثم اكتب الأعداد الناقصة




موقع  
المنهاج الكويتية  
almanahj.com/kw



# • جمع / طرح العشرات الكاملة




بند (٤-٢)



# اكتب عدد العشرات ثم اكتب عدد الكل



موقع  
المنهج الكويتية  
almanahj.com/kw




— عشرات + — عشرات = — عشرات

— = — + —

# اكتب عدد العشرات ثم اكتب عدد الكل



موقع  
المنهج الكويتية  
almanahj.com/kw



— عشرات + — عشرات = — عشرات

— = — + —

# أوجد الناتج



\_\_\_\_\_

=

٧٠ + ٢٠

موقع  
المنهاج الكويتية  
almanahj.com/kw

\_\_\_\_\_

=


٦٠ + ١٠

\_\_\_\_\_


=

٣٠ + ٣٠

# اكتب عدد العشرات المتبقية ثم اكتب رمز العدد



٥٠



٥٠





# أوجد الناتج



$$\begin{array}{r} 9 \\ \times 2 \\ \hline \end{array}$$


$$\begin{array}{r} 6 \\ \times 5 \\ \hline \end{array}$$

$$\begin{array}{r} 4 \\ \times 1 \\ \hline \end{array}$$

# الجميع بالخطوات



بند (٤-٣)



# أوجد الناتج



١١

موقع  
المنهاج الكويتية  
almanahj.com/kw

٢٠ +

\_\_\_\_\_

٥٤

١٠ +


\_\_\_\_\_

٢٣

٢٠ +

\_\_\_\_\_

# اجمع



$$= ٣٠ + ٤٠$$

موقع  
المنهاج الكويتية  
almanahj.com/kw



$$= ٦٠ + ٦٠$$



$$= ٥٠ + ١٠$$

• جميع عدد مكون من رمزه من رقمين مع آخر  
مكون رمزه من رقم بدون اضافة التسوية



بند (٤-٤)



# اجمع



عَشْرَاتٌ<sup>٢٤</sup>

آحَادٌ<sup>٢٤</sup>

٣

٣

٥ +

# اجمع



عَشْرَاتٌ<sup>٢٤</sup>

آحَادٌ<sup>٢٤</sup>

٦

٠

٤

+

# اجمع



عَشْرَاتٌ<sup>٢٤</sup>

آحَادٌ<sup>٢٤</sup>

٨

٤  
٣  
+




# اجمع




$$= ٣ + ٢٦$$

موقع  
المنهاج الكويتية  
almanahj.com/kw



$$= ٧ + ٥١$$




$$= ٢ + ٨٣$$

- جميع عدد مكون من رقمين من رقمين مع آخر مكون من رقمين من رقم مع احدى التسمية

المنهج الكويتية  
almanahj.com/kw



بند (٤-٥)



# اجمع




عَشْرَاتٌ

آحَادٌ



٦  
٤ +

# اجمع



عَشْرَاتٌ<sup>٢٤</sup>

آحَادٌ<sup>٢٤</sup>



٤

٥  
٧  
+

# أوجد الناتج



٤٥

٩

+



٢٢

٨

+



١٩

٣

+




# أوجد الناتج



$$= ٨ + ٢٦$$

موقع  
المناهج الكويتية  
almanahj.com/kw



$$= ٦ + ٤٥$$




$$= ٧ + ٣٩$$

• جميع العددين رمز كل منهما مكون من رقمين  
وتعيين بدون اعادة التسمية

موقع  
المنهج الكويتية  
almanahj.com/kw



بند (٤-٦)

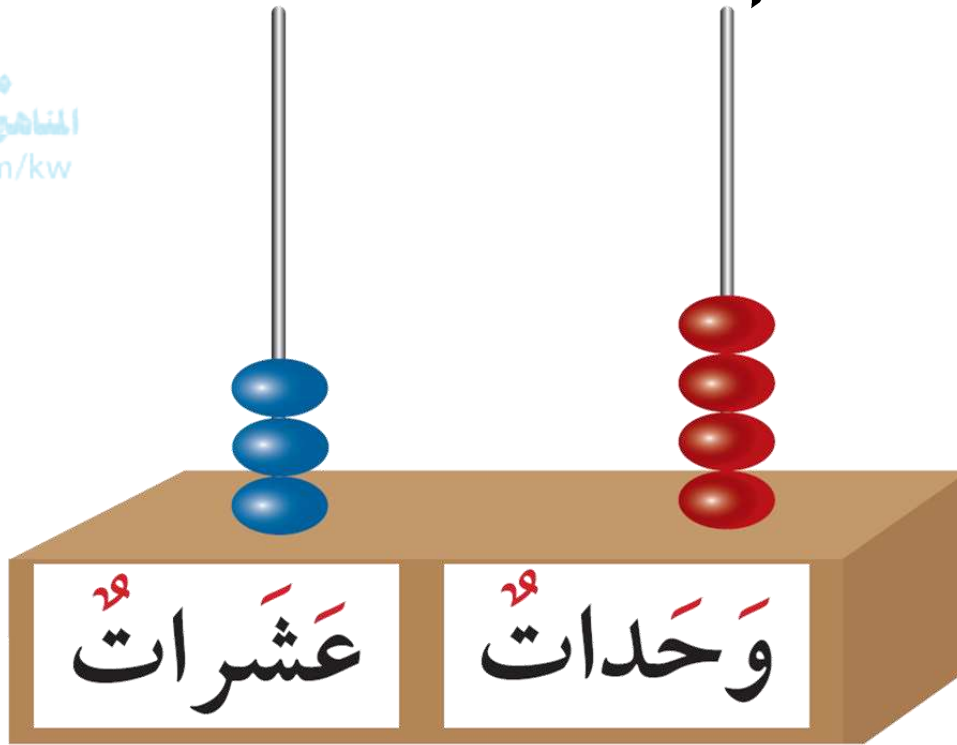


# مثل العدد الثاني ثم أوجد الناتج




$$= ٢٥ + ٣٤$$

موقع  
المنهاج الكويتية  
almanahj.com/kw









# اجمع



عَشْرَاتٌ	آحَادٌ
٤ ١	١ ٣ +

موقع  
المنهج الكويتية  
almanahj.com/kw

عَشْرَاتٌ	وَحَدَاتٌ
	
	

# اجمع



<sup>٢٤</sup>عَشْرَات

<sup>٢٤</sup>آحَاد

٥

٦

٣

٤+

# اجمع



<sup>٢٤</sup>عَشْرَات

<sup>٢٤</sup>آحَاد

٧

٣

)

٦ +

# اجمع



عَشْرَاتٌ<sup>٢٤</sup>

آحَادٌ<sup>٢٤</sup>

٦

٠

٢

٨+

# أوجد الناتج




موقع  
المنهج الكويتية  
almanahj.com/kw

$$\begin{array}{r} ٦٠ \\ + ١٧ \\ \hline \end{array}$$



$$\begin{array}{r} ٤٤ \\ + ٣٣ \\ \hline \end{array}$$



$$\begin{array}{r} ٣٥ \\ + ٦١ \\ \hline \end{array}$$



وليد لديه ٤ ا



وخالد لديه ٣



ما مجموع السيارات ؟

وضح بالرسم على العداد

عَشْرَات<sup>٢٤</sup>


وَحَدَات<sup>٢٤</sup>

• جميع المعلمين وجميع كل منصفهما مكون من  
رقمين مع اشارة التسمية

موقع  
المنهاج الكويتية  
almanahj.com/kw

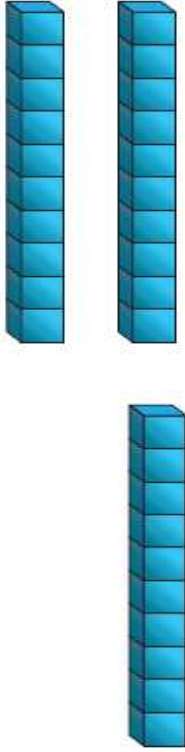



بند (٧-٤)





# اجمع . وضح إعادة التسمية

عَشْرَاتٌ <sup>٢٤</sup>	آحَادٌ <sup>٢٤</sup>	عَشْرَاتٌ <sup>٢٤</sup>	وَحَدَاتٌ <sup>٢٤</sup>
<div data-bbox="273 592 521 754" style="border: 2px solid red; width: 100px; height: 100px; margin: 0 auto;"></div> <p data-bbox="197 699 481 834">موقع المنهج الكويتية almanahj.com/kw</p> <p data-bbox="376 762 454 1110">٥ ٦ +</p>	<p data-bbox="808 730 1032 1078">٥ ٦ +</p>		




# اجمع . وضح إعادة التسمية



عَشْرَاتٌ <sup>٢٤</sup>	آحَادٌ <sup>٢٤</sup>
	٥ ٣ +

عَشْرَاتٌ <sup>٢٤</sup>	وَحَدَاتٌ <sup>٢٤</sup>

# اجمع



موقع  
المنهاج الكويتية  
almanahj.com/kw

عَشْرَاتٌ <sup>٢٩</sup>	آحَادٌ <sup>٢٩</sup>
<div data-bbox="770 624 1014 786" style="border: 2px solid red; width: 100px; height: 100px; margin: 0 auto;"></div> <p style="text-align: center; font-size: 2em;">٢ ٦</p>	<p style="text-align: center; font-size: 2em;">٤ ٩ +</p>

# اجمع



موقع  
المنهاج الكويتية  
almanahj.com/kw

عَشْرَاتٌ <sup>٢٤</sup>	آحَادٌ <sup>٢٤</sup>
<div data-bbox="801 635 1048 794" style="border: 2px solid red; width: 110px; height: 100px; margin: 0 auto;"></div> <p data-bbox="896 794 985 957" style="text-align: center;">٤</p> <p data-bbox="884 1005 996 1173" style="text-align: center;">٣</p>	<p data-bbox="1344 790 1433 925" style="text-align: center;">٥</p> <p data-bbox="1344 981 1579 1157" style="text-align: center;">٦ +</p>

# أوجد الناتج



٦٣

٢٥

+



٥٨

٣٤


+



٢٢

٤٩

+





في حديقة المدرسة ٢٧ و ٦ و ١



كم عدد كل الأزهار؟




# جميع ثلاثة الامداد

موقع  
المناهج الكويتية  
almanahj.com/kw



بند (٤-٨)



# حوط رقمي الآحاد اللذين يكونان العشرة



٣٢

١٨

٣٣ +

---



١٦

١٥

١٤ +

---



أوجد الناتج

# حوط رقمي الآحاد اللذين يكونان العشرة



٤٨

٢٥

أوجد الناتج

٣١

٢٢

موقع  
المنهج الكويتية  
almanahj.com/kw

٩ +

٤٥ +





# حوط رقمي الأحاد اللذين يكونان العشرة



أوجد الناتج :

$$= ٥٣ + ٢٤ + ١٦$$

$$= ٣٣ + ١٢ + ٢٧$$

# حوط رقمي الآحاد اللذين يكونان العشرة



أوجد الناتج :

$$= ٢٥ + ٥ + ٣٣$$

موقع  
المنهج الكويتية  
almanahj.com/kw

$$= ٢١ + ٢٢ + ١٩$$

اشترى أحمد ثلاثة ألعاب وكان ثمنها على


الترتيب ٣٧ دينار، ٤٣ دينار، ١٥ دينار



أوجد مجموع ما دفعه أحمد؟

# • طرح العشرات

بند (٤-٩)



# اشرح




٥١

موقع  
المنهاج الكويتية  
almanahj.com/kw

٢٠


—



٦٨

٣٠

—




٧٢

٤٠

—




# اشرح



= ٥٠ - ٩٦

موقع  
المنهاج الكويتية  
almanahj.com/kw



= ٣٠ - ٧٣



= )٠ - ٨٤


# أكمل



موقع  
المنهاج الكويتية  
almanahj.com/kw

عَشْرَاتٌ <sup>٢٤</sup>	آحَادٌ <sup>٢٤</sup>
٢ <input type="text"/>	٦ <input type="text"/> +
٣	٦

# أكمل



موقع  
المنهاج الكويتية  
almanahj.com/kw

عَشْرَاتٌ <sup>٢٤</sup>	آحَادٌ <sup>٢٤</sup>
٣ <input type="text"/>	٩ <input type="text"/> +
٨	٩


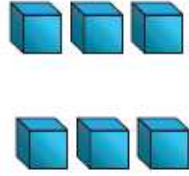




# اطرح







عَشْرَاتٌ	آحَادٌ
٤	٦ ٢

عَشْرَاتٌ	وَحَدَاتٌ
	


# اطرح



عَشْرَات	آحَادٌ
 ↓	٥ ٣ ١

عَشْرَات	وَحَدَات
	 
	

# أوجد الناتج



$$= ٢ - ٤٥$$

موقع  
المناهج الكويتية  
almanahj.com/kw



$$= ٦ - ٣٨$$



$$= ٥ - ٧٧$$

# أوجد الناتج



٥٩

٧

-

\_\_\_\_\_



٩٨

٦

-

\_\_\_\_\_



٦٤

٣

-

\_\_\_\_\_






# أكمل



موقع  
المنهاج الكويتية  
almanahj.com/kw

عَشْرَاتٌ <sup>٢٤</sup>	آحَادٌ <sup>٢٤</sup>
<u>٤</u>	٥
	<input type="text"/> +
٤	٦

# أكمل



موقع  
المنهاج الكويتية  
almanahj.com/kw


عَشْرَاتٌ <sup>٢٤</sup>	آحَادٌ <sup>٢٤</sup>
٢	٤ <input type="text"/> +
٢	٧



• طرح عدد مكون من رقمين من رقم واحد من آخر  
مكون من رقمين من رقمين مع إعادة التسمية



بند (٤-١١)



# اطرح



موقع  
المنهاج الكويتية  
almanahj.com/kw

عَشْرَاتٌ <sup>٢٤</sup>	آحَادٌ <sup>٢٤</sup>
<div data-bbox="757 619 1003 778" style="border: 2px solid red; width: 110px; height: 100px; margin: 0 auto;"></div> <p data-bbox="846 788 927 922" style="text-align: center; font-size: 2em;">٥</p>	<div data-bbox="1256 619 1503 778" style="border: 2px solid red; width: 110px; height: 100px; margin: 0 auto;"></div> <p data-bbox="1317 788 1554 1139" style="text-align: center; font-size: 2em;">١٤٣</p>


# اطرح



موقع  
المنهاج الكويتية  
almanahj.com/kw

عَشْرَاتٌ <sup>٢٤</sup>	آحَادٌ <sup>٢٤</sup>
<div data-bbox="792 635 1034 794" style="border: 2px solid red; width: 100px; height: 100px; margin: 0 auto;"></div> <p data-bbox="896 805 974 965" style="text-align: center;">٦</p>	<div data-bbox="1267 635 1509 794" style="border: 2px solid red; width: 100px; height: 100px; margin: 0 auto;"></div> <p data-bbox="1344 805 1556 1173" style="text-align: center;">١ ٣</p>

# أُكْمَل



موقع  
المنهاج الكويتية  
almanahj.com/kw

عَشْرَاتٌ <sup>٢٤</sup>	آحَادٌ <sup>٢٤</sup>
٢	٦
<input type="text"/>	<input type="text"/> +
٣	١

# أكمل



موقع  
المنهاج الكويتية  
almanahj.com/kw

عَشْرَاتٌ <sup>٢٤</sup>	آحَادٌ <sup>٢٤</sup>
٣ <input type="text"/>	٧ <input type="text"/> +
٦	٤


• طرح عدد من آخر رمز كل منهما يكون

من رقمين مع/ بدون إضافة التسمية

موقع  
المنهج الكويتية  
almanahj.com/kw





بند (٤-١٢)






# اشطب لتطرح

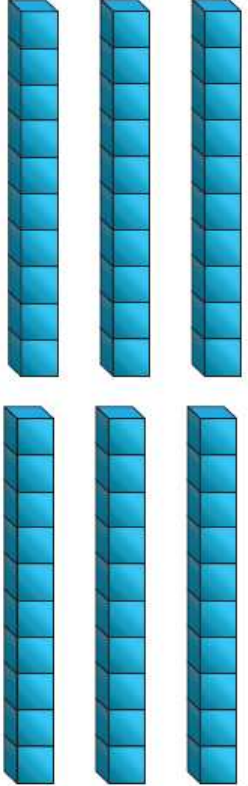
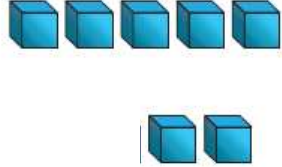
عَشْرَاتٌ <sup>٢٩</sup>	آحَادٌ <sup>٢٩</sup>
 موقع المنهج الكويتية almanahj.com/kw	
٥ ١	٥ ٣ ١

عَشْرَاتٌ <sup>٢٩</sup>	وَحَدَاتٌ <sup>٢٩</sup>
	




# اشطب لتطرح

عَشْرَاتٌ <sup>٢٤</sup>	آحَادٌ <sup>٢٤</sup>
 موقع الناهج الكمبيوترية almanahi.com/kw	
١ ٢	٧ ٩ - ١

عَشْرَاتٌ <sup>٢٤</sup>	وَحَدَاتٌ <sup>٢٤</sup>
	



# اطرح



موقع  
المنهاج الكويتية  
almanahj.com/kw

عَشْرَاتٌ <sup>٢٩</sup>	آحَادٌ <sup>٢٩</sup>
٧ ١	٣ ٨-

# اطرح



موقع  
المنهاج الكويتية  
almanahj.com/kw

عَشْرَاتٌ <sup>٢٤</sup>	آحَادٌ <sup>٢٤</sup>
٩	٥
٦	٣


# اطرح



موقع  
المنهاج الكويتية  
almanahj.com/kw

عَشْرَاتٌ <sup>٢٤</sup>	آحَادٌ <sup>٢٤</sup>
٥ ٣	٦ ٨

# أُكْمَل



موقع  
المنهاج الكويتية  
almanahj.com/kw


عَشْرَاتٌ <sup>٢٤</sup>	آحَادٌ <sup>٢٤</sup>
<input type="text"/>	<input type="text"/>
٢	٥ +
٤	٨

# أكمل




موقع  
المنهاج الكويتية  
almanahj.com/kw

عَشْرَاتٌ<sup>٢٤</sup>



١٠

آحَادٌ<sup>٢٤</sup>



١ +

# • إيطاليه العدد الجفول

موقع  
المناهج الكويتية  
almanahj.com/kw



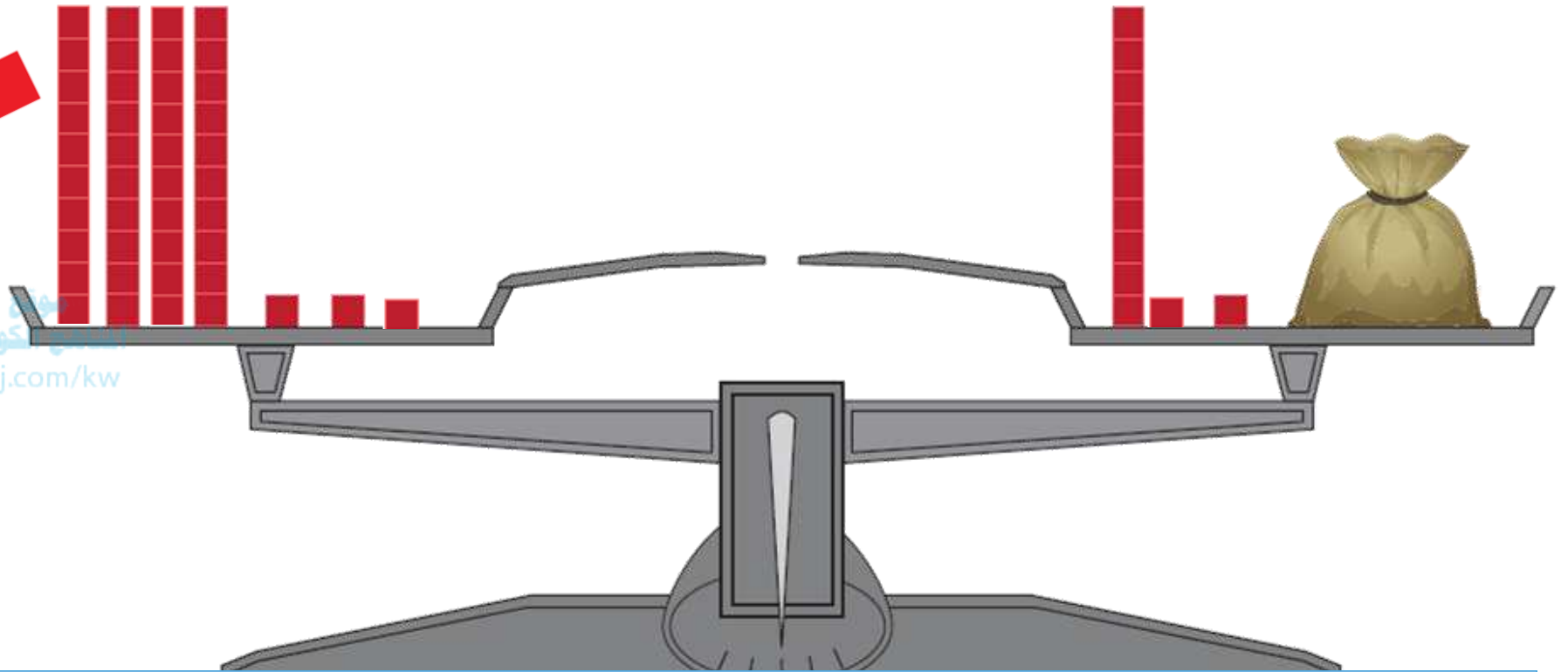
بند (٤-١٣)



# أوجد العدد المجهول



المناهج الكويتية  
almanahj.com/kw



$$٤٣ = ١٢ + \square$$

لدى محمد ٥٦ دينار أعطى أخوه بعضاً

منه وبقي معه ٣٠ ، كم أعطى أخوه ؟

موقع  
المنهاج الكويتية  
almanahj.com/kw






# أكمل



موقع  
المنهاج الكويتية  
almanahj.com/kw

٤  
٣  
—  
—



٤  
—  
٣  
+

# أكمل



٤٥

+

---

٦٧

٢١

+

---

٩٣

# أكمل




٤٠

٤٠

موقع  
المنهاج الكويتية  
almanahj.com/kw

$$\boxed{\phantom{00}} + \phantom{00}$$



$$\boxed{\phantom{00}} - \phantom{00}$$


٤٠

٤٠

# أكمل




٦٣



٥١

٦٨



١٤

# • حل المسائل: اختيار الخطة المناسبة



بند (٤-١٤)



مع فارس ٥٧ دينار أعطاء والده ٣٢

دينار كم دينار أصبح مع خالد؟



قام فهد بجمع ٨٩ صدقة من شاطئ

البحر وأعطى أخوه ٦٤ صدقة. اوجد

موقع  
المنهج الكويتية  
almanahj.com/kw




عدد الأصدقاء المتبقية مع فهد؟

# مراجعة الوحدة الرابعة

موقع  
المناهج الكويتية  
almanahj.com/kw

بند (٤-١٥)





# حوظ المسألة التي تحتاج إعادة تسمية



ثم أوجد الناتج

٥٣

٦١

٢٧

٣٢

٢١

٥٤+

-


-

+


\_\_\_\_\_

\_\_\_\_\_

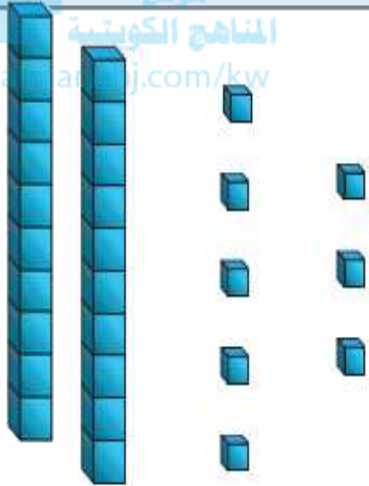
\_\_\_\_\_



# ارسم . أكمل الناقص

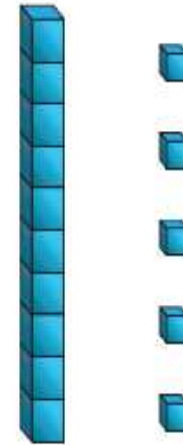


صَارَ مَعَنَا هَذَا الْعَدَدُ



ارْصُم مَا جَمَعْتَهُ

بَدَأْنَا بِهَذَا الْعَدَدِ





# اختر الإجابة الصحيحة بوضع


القاعدة المستخدمة لإيجاد المخرجات هي :

موقع المنهج الكويتية  
almanahj.com


مخرجات

مدخلات

اجمع ا



اطرح ا





# اختر الإجابة الصحيحة بوضع



٦٧



موقع  
المنهاج الكويتية  
almanaha.com/kw

-

٢٣

٦٧


٢٣ -



٢٣ +

٦٧


٢٣




+

٦٧


٦٧



٤٤



٢٣





# اختر الإجابة الصحيحة بوضع



$$= 19 - 43$$

مكتبة  
almanahj.com/k

