

تم تحميل هذا الملف من موقع المناهج الكويتية



منطقة حولي التعليمية

الملف نموذج أسئلة اختبار منطقة حولي

موقع المناهج ← المناهج الكويتية ← الصف الثامن ← اجتماعيات ← الفصل الثاني

روابط مواقع التواصل الاجتماعي بحسب الصف الثامن



روابط مواد الصف الثامن على تلغرام

[الرياضيات](#)

[اللغة الانجليزية](#)

[اللغة العربية](#)

[التربية الاسلامية](#)

المزيد من الملفات بحسب الصف الثامن والمادة اجتماعيات في الفصل الثاني

تلخيص	1
امتحان دولة الكويت والعالم الاسلامي	2
حل التقويم لمادة الاجتماعيات	3
نموذج اجابة اختبار في مادة الاجتماعيات لنهاية الفترة الدراسية الثانية	4
نموذج الاجابة لامتحان الاجتماعيات فرواتية	5

السؤال الخامس : مقالتي ويتكون من (أ - ب - ج)

(أ) اقرأ الفقرة التالية ثم اجب عما يليها من اسئلة :

" يسبب إدمان المخدرات آثار خطيرة على الانسان والمجتمع حيث تسيطر على المتعاطي حالة من هلوسه سمعية وبصرية ، وعصبية زائدة ، وسلوك عدواني مما يضر نفسه ومجتمعه ، والإدمان على المخدرات يصعب علاج متعاطيه مثل : عقاقير الشبو والهيروين وغيرها "

١- اكتب عنواناً مناسباً للفقرة .

٢- استخراج من الفقرة السابقة ما يلي:

أ- الآثار الخطيرة لإدمان المخدرات على صحة الإنسان .

ب- أنواع المخدرات .

(ب) اجب عما هو مطلوب منك ما بين القوسين :

١- تلوث التربة .

٢- منظمة التعاون الإسلامي .

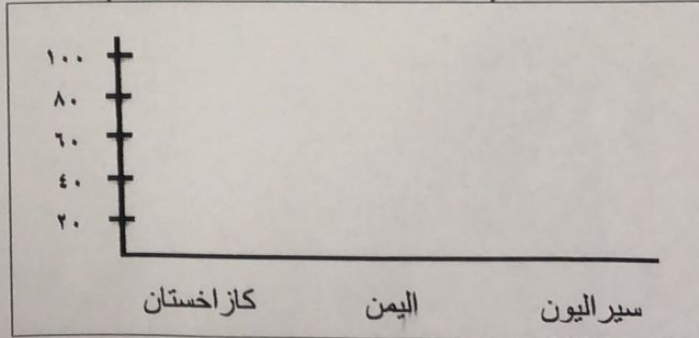
٣- الفقر في الدول الإسلامية .

(ج) أمامك جدول يمثل مجموع معدلات محو الأمية في الدول الأعضاء في منظمة التعاون الإسلامي لعام ٢٠١٥ ، لاحظته جيداً ثم اجب عما يليه من أسئلة :

١- استخراج من الجدول الذي أمامك الدولة الأعلى والدولة الأقل في معدل محو الأمية .

الدولة الأعلى	الدولة الأقل
.....

٢- حول الدول التالية في معدل نمو الأمية إلى أعمدة بيانية .
(كازاخستان - اليمن - سيراليون)



مع تمنياتنا لكم بالتوفيق

السؤال الثالث : موضوعي ويتكون من (أ - ب)

(أ) أمامك خريطة العالم السياسية ، لاحظها جيداً ثم أكتب مدلولات الأرقام على العبارات التي تليها :



مدينة عربية تعتبر نموذجاً للتلوث الضوضائي في العالم الإسلامي تحمل على الخريطة الرقم (.....).

دولة تضم مقر منظمة التعاون الإسلامي تحمل على الخريطة الرقم (.....).

مسطح مائي تعرض إلى سكب كميات كبيرة من النفط عام ١٩٩١م يحمل على الخريطة الرقم (.....).

دولة إسلامية تتميز بارتفاع نسبة الأيدي العاملة فيها تحمل على الخريطة الرقم (.....).

ب (صحح ما تحته خط في العبارات التالية :

التصويب	العبرة
.....	حاكم الكويت الذي رفض إدعاءات عبدالكريم قاسم هو الشيخ <u>صباح السالم الصباح</u> .
.....	مجموع الدخل المكتسب في بلد ما خلال فترة زمنية معينة عادة ما تكون سنة واحدة يعرف باسم <u>التكامل الاقتصادي</u> .
.....	غاز مسؤول عن ظاهرة الإحتباس الحراري <u>النيتروجين</u> .
.....	قرار رقم (١٨١) و الذي يهدف إلى خطة تقسيم فلسطين إلى قسمين عربي ويهودي صدر في عام <u>١٩٤٨</u> .
.....	مدينة عُقد فيها المؤتمر الإسلامي الثالث عشر عام ٢٠١٦م <u>جدة</u> .
.....	حرب شنتها قوات التحالف على قوات النظام العراقي البائد عام ١٩٩١م <u>الصامته</u> .

السؤال الرابع : مقالتي ويتكون من (أ - ب - ج)

(أ) فسر المفاهيم التالية :

١- الحدود

٢- النولة الإسلامية

٣- الإحتباس الحراري

٤- التدوير

(ب) عدد كل مما يلي :

١- آثار تلوث الهواء على الإنسان والبيئة .

٢- قرارات المؤتمر الإسلامي الأول عام ١٩٦٩م .

٣- التحديات التي تواجه الأقليات الإسلامية في العالم .

(ج) فرق بين كل مما يلي :

خط الفقر	الفقر
الأمية في البلدان المتقدمة	الأمية في البلدان النامية



وزارة التربية

الإدارة العامة لمنطقة حولي التعليمية
التوجيه الفني للاجتماعيات

امتحان الفترة الدراسية الثانية
مقرر دولة الكويت والعالم الإسلامي
للصف الثامن المتوسط

العام الدراسي: ٢٠٢٣/٢٠٢٤
الزمن: ساعة ٤٥ دقيقة
عدد الصفحات: ٥

السؤال الأول: موضوعي ويتكون من (أ - ب)

(أ) ظلل الخيار الصحيح من بين الخيارات التي تلي كل عبارة :

١- حاكم الكويت الذي لُقّب بقائد العمل الإنساني هو الشيخ :

صباح السالم	جابر الأحمد	سعد العبدالله	صباح الأحمد
-------------	-------------	---------------	-------------

٢- عام تم فيه إطفاء آخر بئر نفطي في دولة الكويت :

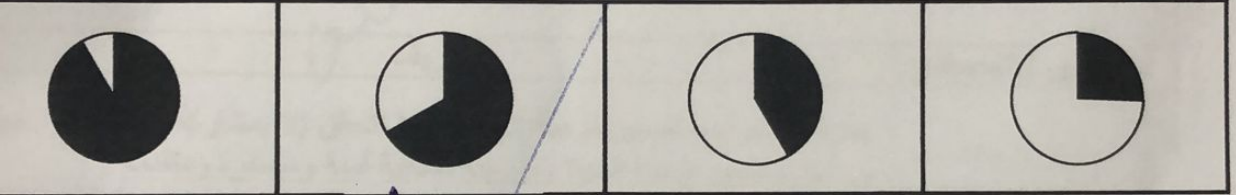
١٩٨٩م	١٩٩٠م	١٩٩١م	١٩٩٢م
-------	-------	-------	-------

المنهج الكويتية
almanahj.co

٣- دولة سجلت أعلى معدل بإلمام البالغين في الكتابة والقراءة عام ٢٠١٥م:

قطر	السعودية	الكويت	البحرين
-----	----------	--------	---------

٤- دائرة بيانية تمثل نسبة التلوث الهوائي في باكستان بسبب عوادم السيارات:



٥- هيئة عامة كويتية تأسست عام ١٩٨٢م و تخضع لإشراف وزير الأوقاف والشؤون الإسلامية:

جمعية الهلال الأحمر	الهيئة الخيرية الإسلامية	الصندوق الكويتي للتنمية	بيت الزكاة
---------------------	--------------------------	-------------------------	------------

(ب) أكمل العبارات التالية بما يناسبها:

١- مؤتمر عُقد بهدف إيجاد حل لمشكلة الحدود بين نجد والكويت و العراق اسمه.....

٢- بطلة كويتية شاركت بإطفاء حرائق النفط الناجمة عن الغزو العراقي الغاشم اسمها.....

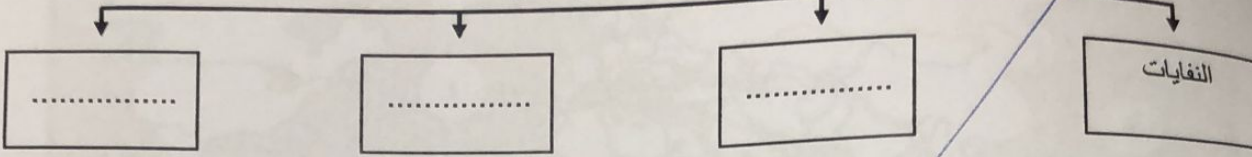
٣- عام عُقد فيه مؤتمر القمة العربية في القاهرة لخدمة الشعب الفلسطيني.....

٤- مدينة تضم مقر المنظمة الإسلامية للتربية والعلوم والثقافة (إيسيسكو) اسمها.....

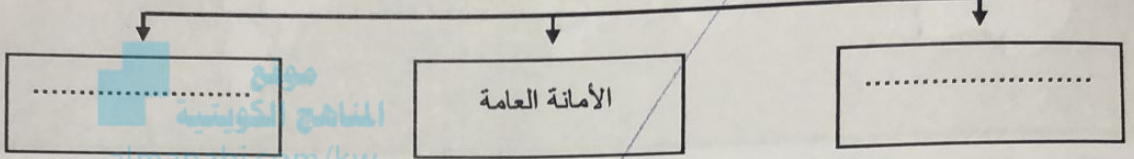
٥- صاحب مبادرة إنشاء الصندوق الكويتي للتنمية عام ١٩٦١م اسمه.....

السؤال الثاني : موضوعي ويتكون من (أ - ب)
(أ) أكمل المخططات السهمية التالية :

- مصادر التلوث البيئي البشرية



- أجهزة منظمة التعاون الإسلامي



(ب) أكتب المفاهيم أو المصطلحات الدالة على العبارات التالية :

م	المفهوم / المصطلح	التعريف
1	عبارة عن برامج تحسين نوعية الحياة ، ولا تتحقق إلا بمشاركة جميع المواطنين من أجل تحسين نوعية الحياة وفق بيئة صحية آمنة ومستقرة ومتقدمة .
2	مجموعة من المسلمين تعيش تحت سلطة دولة غير مسلمة في وسط أغلبية غير مسلمة .
3	نظام عالمي جديد يقوم على الإبداع العالمي ، والتطور التقني ، والتكنولوجي ، وثورة الاتصالات بحيث تزول الحدود الثقافية بين الشعوب بالعالم ويصبح العالم كقرية واحدة .
4	زحف رمال الصحراء على المناطق الجافة وشبه الجافة .
5	الزيادة الكبيرة في أعداد السكان .

ولكن