

تم تحميل هذا الملف من موقع المناهج الكويتية



منطقة الجهراء التعليمية

الملف نموذج إجابة اختبار منطقة الجهراء

موقع المناهج ← المناهج الكويتية ← الصف الثامن ← اجتماعيات ← الفصل الثاني

روابط مواقع التواصل الاجتماعي بحسب الصف الثامن



روابط مواد الصف الثامن على تلغرام

[الرياضيات](#)

[اللغة الانجليزية](#)

[اللغة العربية](#)

[التربية الاسلامية](#)

المزيد من الملفات بحسب الصف الثامن والمادة اجتماعيات في الفصل الثاني

<a href="#">تلخيص</a>	1
<a href="#">امتحان دولة الكويت والعالم الاسلامي</a>	2
<a href="#">حل التقويم لمادة الاجتماعيات</a>	3
<a href="#">نموذج اجابة اختبار في مادة الاجتماعيات لنهاية الفترة الدراسية الثانية</a>	4
<a href="#">نموذج الاحابة لامتحان الاجتماعيات فرواتية</a>	5



أجب عن جميع الأسئلة

- السؤال الأول ( موضوعي ) يتكون من ( أ - ب - ج - د - هـ - و ):

(أ) - أكمل العبارات التالية بما يناسبها: ٦ درجات (درجة لكل نقطة)

١- العام الذي تم فيه إنشاء شرطة البيئة في دولة الكويت ٢٠١٥ م . ص ٨٢

٢- العاصمة التي تعتبر نمودجا للتلوث الضوضائي في العالم الإسلامي اسمها القاهرة . ص ٨٧

٣- المركز الحدودي الذي قامت القوات العراقية بالاعتداء عليه عام ١٩٧٣ اسمه الصامتة . ص ١٠٣

٤- البطلة الكويتية التي شاركت في إطفاء حرائق النفط الناجمة عن الغزو العراقي اسمها ساره أكبر . ص ١١٩

٥- يبلغ عدد الدول التي تضمها منظمة التعاون الإسلامي ٥٧ دولة . ص ١٣٨

٦- الاسم الذي أطلق على حرب تحرير دولة الكويت عام ١٩٩١م عاصفة الصحراء . ص ١٢٢

(ب) - ضع خطأ تحت الخيار الصحيح من بين الخيارات التي تلي كل عبارة: ٦ درجات (درجة لكل نقطة)

١- الفرق بين قيمة الصادرات وقيمة الواردات بالدولة : ص ١٠٠  
- الميزان التجاري - الميزان الثقافي - الميزان المالي - الميزان العلمي

٢- القرار الذي أصدرته هيئة الأمم المتحدة لترسيم الحدود بين دولة الكويت والعراق عام ١٩٩٣ يحمل رقم ص ١٠٤  
٨١١ - ٨٢٢ - ٨٣٣ - ٨٤٤ -

٣- الشيخ الذي وقع اتفاقية الحماية مع بريطانيا عام ١٨٩٩م : ص ١٠٦  
- مبارك الصباح - صباح الأحمد - جابر الأحمد - عبدالله السالم

٤- العام الذي اندلعت فيه الحرب الأهلية في الصومال : ص ١١٧  
١٩٩٠م - ١٩٩١م - ١٩٩٢م - ١٩٩٣م

٥- بلغ عدد آبار النفط الكويتية التي اشعلها النظام العراقي البائد عام ١٩٩١م حوالي : ص ١٢٠  
٧٣٧بئراً - ٧٤٧بئراً - ٧٥٧بئراً - ٧٦٧بئراً

٦- الدولة الخليجية التي سجلت أعلى معدل إمام البالغين بالقراءة والكتابة : ص ١٢٨  
- البحرين - عمان - قطر - الكويت

**تابع / السؤال الأول موضوعي :**

**(ج) - صوب ما تحته خط في العبارات التالية بكتابة الإجابة الصحيحة: (درجة لكل نقطة)**

م	العبارة	التصويب
١-	زحف رمال الصحراء على المناطق الجافة وشبه الجافة يسمى <u>التعرية</u> .	<u>التصحّر</u> ص ٨٨
٢-	الغاز الأول المسؤول عن الاحتباس الحراري في العالم هو <u>غاز الأوكسجين</u> .	<u>ثاني أكسيد الكربون</u> ص ٩٠
٣-	تم تشغيل أول محطة كهربائية في دولة الكويت عام ٢٠١٧م تعمل <u>بالطاقة المائية</u> .	<u>الطاقة الشمسية</u> ص ٩٣
٤-	تبلغ نسبة توسع المحتل الصهيوني الإسرائيلي بعد حرب ١٩٤٨م من الأراضي الفلسطينية حوالي <u>٧٠٪</u> .	<u>٨٠٪</u> ص ١٠٧ المنهج الكمي almanahj.com/kw
٥-	الحاكم الذي دعا إلى إنشاء منظمة تجمع الدول الإسلامية هو <u>الملك عبدالله بن عبدالعزيز</u> .	<u>فيصل بن عبدالعزيز</u> ص ١٣٧

**(د) - اكتب المفاهيم والمصطلحات الدالة على العبارات التالية : (درجة لكل نقطة)**

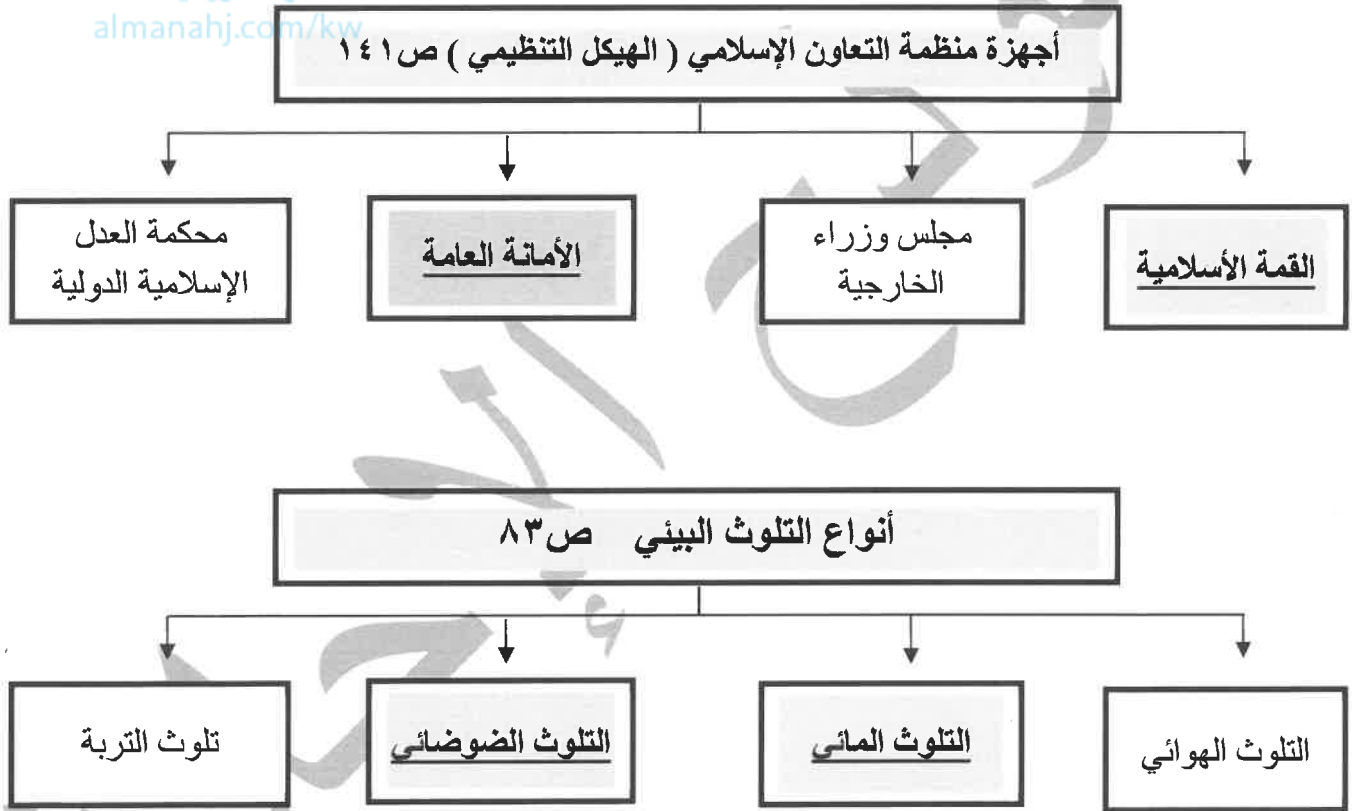
م	المفهوم	العبارة
١-	<u>التلوث البيئي</u>	تغير غير مرغوب به في الخواص الطبيعية أو الكيميائية أو البيولوجية للبيئة المحيطة الهواء - الماء- التربة والذي قد يتسبب في الإضرار بحياة الإنسان والكائنات الأخرى. ص ٨١
٢-	<u>النمية المستدامة</u>	برامج تحسين نوعية الحياة ولا تتحقق إلا بمشاركة جميع المواطنين من أجل تحسين نوعية الحياة وفق بيئة صحية آمنة ومستقرة ومتقدمة . ص ٩٣
٣-	<u>العولمة</u>	نظام عالمي جديد يقوم على الإبداع العلمي والتطور التقني والتكنولوجيا وثورة الاتصالات بحيث تزول الحدود الثقافية بين الشعوب بالعالم ويصبح العالم كقرية واحدة. ص ٩٩
٤-	<u>البلدان النامية</u>	الدول التي مازالت أقل تقدماً في ميادين الاقتصاد والعلم والتكنولوجيا . ص ١٠٠
٥-	<u>الأقليات الإسلامية</u>	مجموعة من المسلمين تعيش تحت سلطة دولة غير مسلمة في وسط أغلبية غير مسلمة . ص ١١٢

(هـ) - صنف المصادر التالية في مكانها الصحيح في الجدول الذي يليها : ٤ درجات (درجة لكل نقطة)

( - الغبار - البراكين - الانفجارات النووية - المبيدات الحشرية ) ص ٨١

مصادر بشرية	مصادر طبيعية
الانفجارات النووية - المبيدات الحشرية	الغبار - البراكين

(و) - أكمل المخططات السهمية التالية : ٤ درجات (درجة لكل نقطة)



**-السؤال الثاني (مقالى) يتكون من ( أ - ب - ج )**

( أ ) - **قارن بين كل مما يلي:** ٤ درجات

وجه المقارنة	التلوث الضوضائي ص ٨٧	تلوث التربة ص ٨٨
أسبابه	- وسائل النقل السيارات بأنواعها المختلفة والطائرات والقطارات. - عمليات البناء والهدم وأصوات آلات الحفر. (درجة فقط - يكتفي بنقطه)	- الإفراط باستخدام المبيدات الحشرية على المزروعات النباتية. - المخلفات الصناعية والكيميائية والبشرية (النفايات). - الأمطار الحمضية. - التلوث الإشعاعي الناتج من الحروب . (درجة فقط - يكتفي بنقطه)
نتائجه	- الضوضاء الشديدة تؤدي إلى ضرر خطير في الجهاز السمعي . - التوتر العصبي لدى الإنسان . (درجة فقط - يكتفي بنقطه)	- الاخلال بالتوازن البيئي للتربة. - ضعف عمليات البناء الضوئي للنبات . - انحسار الغطاء النباتي . (درجة فقط - يكتفي بنقطه)

( ب ) - **علل لما يلي:**

١ - أسباب الفقر في الدول الإسلامية . ص ٩٨ (درجتان يكتفي بنقطتين )

- \*عدم توفر فرص العمل .
- \*ضعف اقتصاد الدولة .
- \*انتشار البطالة .
- \*تضخم أسعار السلع والخدمات .
- \*قلة التبرعات والصدقات في المجتمع .

( ج ) - **عدد لكل مما يلي :-**

١ - التحديات التي تواجه الأقليات الإسلامية حول العالم . ص ١١٤ (درجتان يكتفي بنقطتين )

- \*مواجهة العديد من المسلمين تمييزاً في العمل مذ أحداث ١١ سبتمبر ٢٠٠١ م .
- \*سوء الظروف الاجتماعية والمادية التي تعيش فيها معظم الجاليات المسلمة نتيجة تدني الأجور أو عدم وجود فرص عمل مستقرة .
- \*الحفاظ على الهوية الإسلامية في ظل عادات وتقاليد المجتمعات الغربية ومناهجها التعليمية .
- \*انخفاض المستوى التعليمي نتيجة سوء الأحوال الاجتماعية والمادية .

\* فرض بعض الدول بشكل تدريجي المزيد من القيود على المسلمين في حرية ممارستهم لشعائرهم الدينية الإسلامية

٢ - أهم قرارات المؤتمر الإسلامي الأول . ص ١٤٢ (درجتان يكتفي بنقطتين )

- \*فرض أي حل للقضية الفلسطينية لا يكفل لمدينة القدس وضعها السابق لأحداث يونيو ١٩٦٧ م .
- \* تمسك المسلمين بالقدس وعزم حكومتها على تحريرها .
- \* بذل الجهود المشتركة لتحقيق الانسحاب السريع للقوات الإسرائيلية من كافة الأراضي الفلسطينية التي احتلتها بعد حرب يونيو ١٩٦٧ م .

**-السؤال الثالث (مقالى) يتكون من ( أ - ب - ج )**

**(أ) - فرق بين كل مما يلي: ٤ درجات**

الفقر ص ٩٦	خط الفقر ص ٩٧
الحالة الاقتصادية التي يتفقد فيها الفرد إلى الدخل الكافي للحصول على المستويات الدنيا من الغذاء والملبس والتعليم والرعاية الصحية وكل ما يعد من الاحتياجات الضرورية لتأمين مستوى لائق في الحياة . (درجة)	أدنى مستوى من الدخل يحتاجه المرء أو الأسرة حتى يكون بالإمكان توفير مستوى معيشة ملائم في بلد ما (درجة)
الأمية في البلدان الإسلامية ص ١٢٨	الأمية في البلدان المتقدمة ص ١٢٨
الإنسان الذي بلغ الثانية عشر من عمره ولم يتعلم مبادئ القراءة والكتابة والحساب بلغة ما . (درجة)	الشخص الذي لم يصل إلى المستوى التعليمي الذي يجعله يفهم التعليمات الكتابية في موضوعات التقنية في علمه (كالإبان ) (درجة)

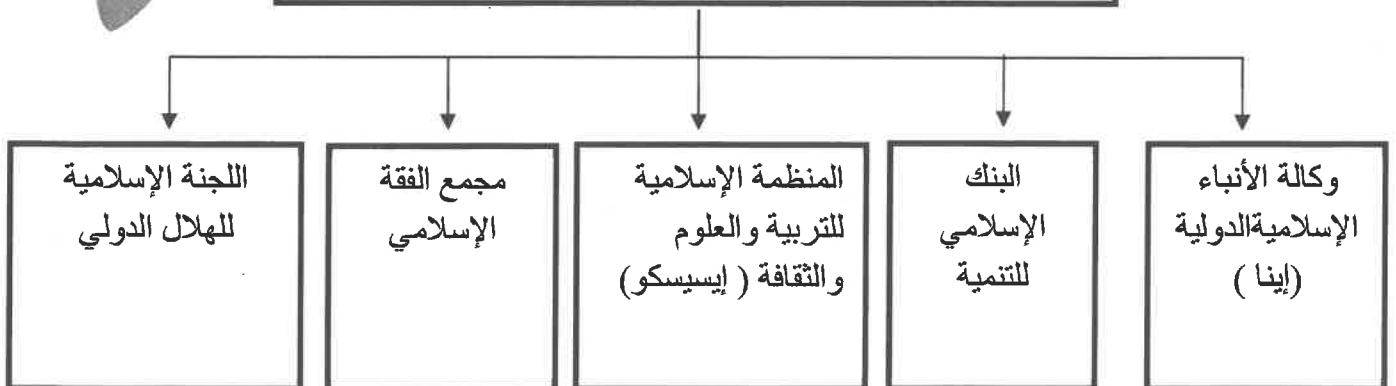
**(ب) - عدد النتائج المترتبة لكل مما يلي ؟**

- ١- ظاهرة الاحتباس الحراري . ص ٩٠ درجتان  
\* احتباس الحرارة في طبقة الغلاف الجوي القريبة من سطح الأرض مسببة ارتفاعاً تدريجياً في معدل درجات الحرارة. \* تغيير المناخ . \* ذوبان الجليد في القطب الشمالي والجنوبي \* غرق مناطق كثيرة من العالم .
- ٢- حرب البوسنة والهرسك من عام ١٩٩٢-١٩٩٥ م . ص ١١٦ درجة  
\* إبادة أكثر من ٣٠٠ ألف مسلم .

**(ج) - صمم مخططاً سهماً :**

١- للمنظمات والؤسسات الإسلامية.

المنظمات والمؤسسات الإسلامية ص ١٤٥



**-السؤال الرابع (مقالى) يتكون من ( أ - ب - ج )**

**( أ ) - لاحظ الشعار المقابل ثم أجب عن الأسئلة التالية :**



١-ماذا يمثل الشعار الذي أمامك : ص ١٥٩ ( درجة )

- الصندوق الكويتي للتنمية الاقتصادية العربية .

٢- من هو صاحب فكرة إنشاء الصندوق . ص ١٥٩ (درجة)

-الشيخ جابر الأحمد الصباح

٣- ماهي أهداف إنشاء الصندوق . ص ١٥٩ (درجتان يكتفي بنقطتين)

\* تقديم القروض الميسرة للدول المحتاجة .

\* تقديم المنح على سبيل المثال المعونات الفنية .

\* الإسهام في برامج التنمية .



**( ب ) - علل لما يلي:** (ثلاث درجات)

١- انعقاد مؤتمر العقير عام ١٩٩٢ م . ص ١٠٣ (درجة)

\* إيجاد حل لمشاكل الحدود بين نجد والعراق من جهة والكويت والعراق ونجد من جهة أخرى.

٢- ظهور مشكلة إدمان المخدرات في دول العالم الإسلامي . ص ١٢٦ (درجتان- يكتفي بنقطتين)

\* ضعف الوزع الديني وانحدار القيم الأخلاقية . \* ضعف الرقابة من الأسرة على الفرد .

\* التقليد الأعمى واستيراد قيم جديدة على مجتمعاتنا تتنافى مع مبادئ ديننا الحنيف . \* رفاق السوء .

\* انتشار التدخين بين المتعلمين في المدارس . \* قضاء أوقات الفراغ في أمور تافهة لا تعود على الشباب بالنفع .

**( ج ) - عرف المفاهيم والمصطلحات التالية:** (ثلاث درجات)

١- الانفجار السكاني : هو الزيادة الكبيرة في أعداد السكان . ص ٩٥

٢- الحدود السياسية : خطوط حددت بواسطة الإنسان ورسمت حتى تفصل بين سيادة دولة ودولة أخرى . ص ١٠٢

٣- الدولة الإسلامية : التي يكون فيها نسبة المسلمين ٥٠% أو أكثر من نسبة مجموع سكانها ويحكمها حاكم مسلم . ص ١٣٧

انتهت الإجابة ،،،



العام الدراسي: ٢٠٢٣/٢٠٢٤ م  
الزمن: ساعة وخمسة وأربعون دقيقة  
عدد الأوراق: ( ٦ )

امتحان المنهج الكامل  
لمقرر دولة الكويت والعالم الإسلامي  
للسف الثامن  
وزارة التربية  
الإدارة العامة لمنطقة الجهراء التعليمية  
التوجيه الفني للاجتماعيات

أجب عن جميع الأسئلة:

\* السؤال الأول ( موضوعي ): ويتكون من ( أ ، ب ، ج ، د ، هـ ) ( لكل نقطة درجة )

أ- أكمل العبارات التالية بما يناسبها:

- ١- العالم المسلم الذي اكتشف معادلة نصف قطر الأرض اسمه البيروني ص ١٩
- ٢- الشيخ الذي أطلق عليه لقب ( قائد العمل الإنساني ) اسمه صباح الأحمد الصباح ص ٢٤
- ٣- الدولة الإسلامية الوحيدة التي تقع في أمريكا الجنوبية اسمها سورينام ص ٥١
- ٤- العام الذي تم فيه إنشاء شرطة البيئة في دولة الكويت ٢٠١٥ م ص ٨٢
- ٥- الغاز المسؤول عن الاحتباس الحراري اسمه ثاني أكسيد الكربون ص ٩٠
- ٦- الحرب التي تم بها تحرير دولة الكويت من قبل قوات التحالف تسمى عاصفة الصحراء ص ١٢٢

ب- أكمل المخططات السهمية التالية:





تابع / السؤال الأول ( موضوعي ):

ج- أكتب المفاهيم أو المصطلحات الدالة على العبارات التالية:

م	المفهوم/ المصطلح	التعريف
١	<u>أهل الذمة</u>	النصارى واليهود الذين ظلوا على دينهم مع دفع الجزية. ص ٣٦
٢	<u>التضاريس</u>	أشكال سطح الأرض. ص ٥٣
٣	<u>احتياطي النفط</u>	كمية النفط المخزونة في باطن الأرض ولم تستخرج بعد. ص ٦٨
٤	<u>التصحّر</u>	زحف رمال الصحراء على المناطق الجافة وشبه الجافة. ص ٨٨
٥	<u>النفايات</u>	أي مواد زائدة وغير مرغوبة من مخلفات البيئة أو الفضلات. ص ٩١
٦	<u>الدولة الإسلامية</u>	الدول التي يكون فيها نسبة المسلمين ٥٠% أو أكثر من نسبة مجموع سكانها ويحكمها حاكم مسلم. ص ١٣٧

د- ظلل الخيار الصحيح من بين الخيارات التي تلي كل عبارة مما يلي:

١- أول حاكم للمسلمين بعد وفاة الرسول - ﷺ : ص ٢٥

عمر بن الخطاب	عثمان بن عفان	أبي بكر الصديق	علي بن أبي طالب
---------------	---------------	----------------	-----------------

٢- تبلغ مساحة العالم الإسلامي حوالي: ص ٥١

٢٢ مليون كم	٣٢ مليون كم	٤٢ مليون كم	٥٢ مليون كم
-------------	-------------	-------------	-------------

٣- الدولة الإسلامية الأولى في إنتاج معدن اليورانيوم: ص ٧٠

النيجر	باكستان	أوزباكستان	كازاخستان
--------	---------	------------	-----------

٤- الدولة الإسلامية التي تحتل المركز الأول في نسبة الفقر لعام ٢٠١٥م: ص ٩٧

باكستان	نيجيريا	بنغلاديش	أوغندا
---------	---------	----------	--------

٥- العام الذي انعقد فيه مؤتمر العقير: ص ١٠٣

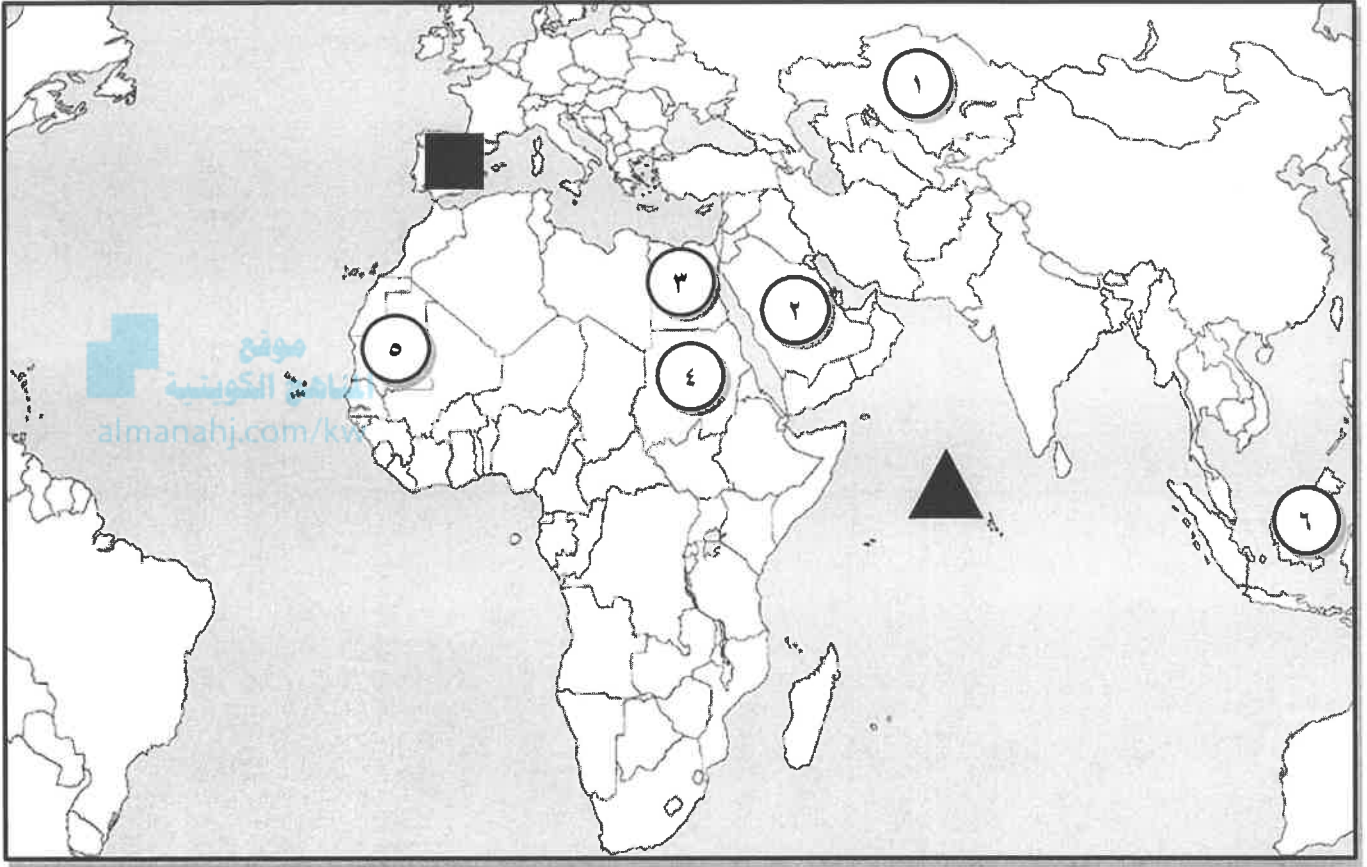
١٩٢٢م	١٩٣٣م	١٩٤٤م	١٩٥٥م
-------	-------	-------	-------

٦- المدينة التي يقع فيها مقر منظمة التعاون الإسلامي: ص ١٣٨

اسطنبول	جدة	أبو ظبي	الكويت
---------	-----	---------	--------

تابع / السؤال الأول ( موضوعي ):

هـ - لاحظ خريطة العالم الصماء ثم نفذ المطلوب:



أ- أكتب الرقم الدال على العبارات التالية:

ص ٥١

١- مصر يمثلها على الخريطة الرقم ٣

ص ٥٤

٢- جبل مره في السودان يمثلها على الخريطة الرقم ٤

ص ٥٦

٣- هضبة نجد في السعودية يمثلها على الخريطة الرقم ٢

ص ٧٤

٤- جمهورية اندونيسيا يمثلها على الخريطة الرقم ٦

ب- حدد كل مما يلي على الخريطة باستخدام الرموز التالية:

ص ٤١

١- بلاد الأندلس ( أسبانيا حالياً ) باستخدام الرمز ■

ص ٥٩

٢- المحيط الهندي باستخدام الرمز ▲

\* السؤال الثاني/ ( مقال ) : يتكون من ( أ ، ب )

أ- قارن بين كل من حسب المطلوب منك في الجدول التالي: ( أربع درجات )

أوجه المقارنة	المؤتمر الإسلامي الأول ص ١٤٢	المؤتمر الإسلامي الخامس ص ١٤٣
العام	١٩٦٩ م	١٩٨٧ م
سبب الانعقاد	* إحراق المحتل الصهيوني الإسرائيلي المسجد الأقصى.	* تلبية لدعوة أمير الكويت الراحل الشيخ جابر الأحمد الصباح لاستضافة المؤتمر الخامس في دولة الكويت. كويتية almanahj.com/kw

ب- عدد لكل مما يلي:

١- خصائص الحضارة الإسلامية. ص ٢٢-٢٣ (درجتان) (يكتفى بنقطتين)

- \* حضارة تسامح.
- \* حضارة إيمان وعمل.
- \* حضارة إنسانية.
- \* حضارة عالمية.
- \* حضارة شمولية.

٢- جهود المسلمون في الزراعة في الحضارة الإسلامية. ص ٢٦ (درجتان) (يكتفى بنقطتين)

- \* شق القنوات المائية والترع.
- \* إقامة السدود.
- \* تنظيم وسائل الري.

٣- أنواع الحدود السياسية بين الدول. ص ١٠٢ (درجتان) (يكتفى بنقطتين)

- \* حدود بحرية.
- \* حدود برية.

\* السؤال الثالث/ ( مقال ) : يتكون من ( أ ، ب )

أ- فرق بين كل مما يلي من حيث التعريف: ( أربع درجات لكل تعريف درجة )

الطقس ص ٦٤	المناخ ص ٦٤
هو حالة الجو في مكان لمدة قصيرة تتراوح بين يوم أو عدة أيام، من حيث درجة الحرارة والرطوبة والأمطار والضغط الجوي.	هو حالة الجو خلال فترة زمنية طويلة من حيث ( عناصره ) وهي درجة الحرارة، الرطوبة، الأمطار، الضغط الجوي.
الميزان التجاري ص ١٠٠	الدخل القومي ص ١٠٠
هو الفرق بين قيمة الصادرات وقيمة الواردات بالدولة.	هو مجموع الدخل المكتسب في بلد ما خلال فترة زمنية معينة، عادة ما تكون سنة واحدة.

ب - اكتب فيما يلي:

١- المناصب الإدارية في الحضارة الإسلامية. ص ٢٥ ( درجتان ) ( يكتفى بنقطتين )

- \* الخليفة.
- \* الوالي.
- \* المحتسب.
- \* الحاجب.
- \* القاضي.
- \* الوزير.

٢- أهمية السهول. ص ٥٨ ( درجتان ) ( يكتفى بنقطتين )

- \* استخدامها كموانئ طبيعية.
- \* تشييد المدن.
- \* تركيز السكان فيها لسهولة التنقل.

٣- أسماء الجمعيات والهيئات الخيرية في دولة الكويت. ص ١٦٠ ( درجتان ) ( يكتفى بنقطتين )

- \* جمعية الهلال الأحمر الكويتي.
- \* الهيئة الخيرية الإسلامية العالمية.
- \* بيت الزكاة.

\* السؤال الرابع/ ( مقال ) : يتكون من ( أ ، ب )

أ- لاحظ الصورة التي أمامك ثم أجب عن الأسئلة التالية: ص ١٥٩



المناهج الكويتية  
almanahj.com/kw

١- ماذا يمثل هذا الشعار؟ ( درجة )

\* الصندوق الكويتي للتنمية الاقتصادية العربية.

٢- في أي عام تم تأسيسه؟ ( درجة )

\* ١٩٦١م

٣- ما هي أهدافه؟ ( درجتان ) ( يكتفى بنقطتين )

\* تقديم القروض الميسرة للدول المحتاجة.

\* تقديم المنح، على سبيل المثال المعونات الفنية.

\* الإسهام في برامج التنمية.

ب- علل لما يلي:

١- تنوع المناخ في دول العالم الإسلامي . ص ٦٣ ( درجتان ) ( يكتفى بنقطتين )

\* امتداد دول العالم الإسلامي على مساحة شاسعة.

\* الموقع بالنسبة لدوائر العرض.

\* الإطلالة على عدة مسطحات مائية في معظم أجزائه.

\* التنوع في التضاريس من جبال وهضاب وسهول ووديان.

٢- ظهور الفقر في الدول الإسلامية. ص ٩٨ ( درجتان ) ( يكتفى بنقطتين )

\* عدم توفر فرص العمل.

\* ضعف اقتصاد الدولة.

\* انتشار البطالة.

٣- انتشار الإدمان. ص ١٢٦ ( درجتان ) ( يكتفى بنقطتين )

\* ضعف الوازع الديني وانحدار القيم الأخلاقية.

\* ضعف الرقابة من الأسرة على الفرد.

\* رفاق السوء، وتأمل حديث الرسول صلى عليه وسلم " الرجل على دين خليله، فالينظر أحدكم إلى من يخال "

\* التقليد الأعمى واستيراد قيم جديدة غريبة على مجتمعاتنا تتنافى مع مبادئ ديننا الحنيف.

\* انتشار التدخين بين المتعلمين في المدارس.

\* قضاء أوقات الفراغ في أمور تافهة لا تعود على الشباب بالنفع.

انتهت الإجابة،،،