

تم تحميل هذا الملف من موقع المناهج الكويتية



منطقة العاصمة التعليمية

الملف نموذج اسئلة اختبار منطقة العاصمة التعليمية

[موقع المناهج](#) ← [المناهج الكويتية](#) ← [الصف السادس](#) ← [اجتماعيات](#) ← [الفصل الثاني](#)

روابط مواقع التواصل الاجتماعي بحسب الصف السادس



روابط مواد الصف السادس على تلغرام

[الرياضيات](#)

[اللغة الانجليزية](#)

[اللغة العربية](#)

[التربية الاسلامية](#)

المزيد من الملفات بحسب الصف السادس والمادة اجتماعيات في الفصل الثاني

مراجعة	1
مراجعة	2
مراجعة	3
مذكرة في مادة الاجتماعيات	4
مراجعة محلولة ومفيدة في مادة الاجتماعيات	5



وزارة التربية

امتحان نهاية الفترة الدراسية الثانية

العام الدراسي: ٢٠٢٣ / ٢٠٢٤ م

الإدارة العامة لمنطقة العاصمة التعليمية

للسف السادس

الزمن: ساعة وخمس وأربعون دقيقة

التوجيه الفني للاجتماعيات

مقرر (الكويت ودول الخليج العربية)

عدد الأوراق: ٥ أوراق

السؤال الأول (موضوعي): ويتكون من (أ - ب):

(أ) أكمل العبارات التالية بما يناسبها مما درست:

- ١- الدولة الخليجية الأعلى في نسبة الوافدين تسمى
- ٢- وحدة قياس شدة الضوضاء التي تتعرض لها الأذن البشرية تسمى
- ٣- كميات النفط المخزونة في باطن الأرض تسمى
- ٤- المدينة التي يقع فيها مقر مكتب التربية العربي لدول مجلس التعاون الخليجي اسمها
- ٥- العام الذي بدأ فيه التنقيب عن النفط في دولة الكويت
- ٦- عدد الآبار النفطية الكويتية التي قام العدوان العراقي بإشغالها

(ب) اختر الإجابة الصحيحة من بين البدائل التالية بوضع خط تحتها:

- ١- المحصول الذي نجحت المملكة العربية السعودية في زراعته:
(القطن - الذرة - القمح - الأرز)
- ٢- العمالة المنزلية تمثل أحد مشكلات دول الخليج العربية في المجال:
(السياسي - الاقتصادي - الثقافي - الاجتماعي)
- ٣- مصدر طبيعي لتلوث الهواء:
(حرق النفايات - البراكين - المبيدات الحشرية - الصناعة)
- ٤- درع واق للأحياء ضد خطر الأشعة فوق البنفسجية الضارة:
(الدخان - الضباب - الأوزون - الهواء)
- ٥- تم تصدير أول شحنة من النفط الكويتي في عهد الشيخ:
(عبدالله السالم - مبارك الصباح - جابر الأحمد - أحمد الجابر)
- ٦- أصغر دولة خليجية من حيث المساحة:
(البحرين - الكويت - قطر - عمان)

السؤال الثالث (موضوعي): ويتكون من (أ - ب - ج):

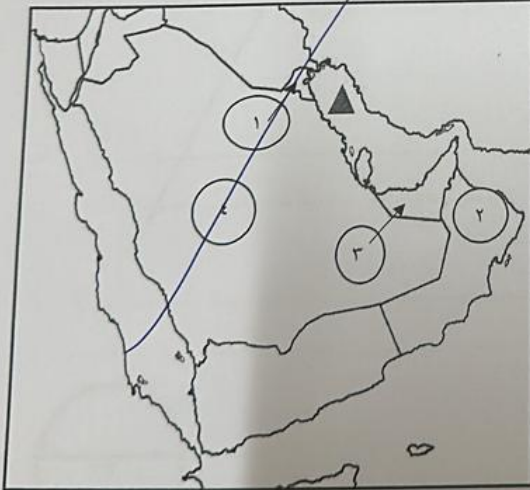
(أ) اختر لعبارة القائمة (ب) ما يناسبها من القائمة (أ) بوضع الرقم الصحيح بين القوسين:

م	القائمة (أ)	الرقم الصحيح	القائمة (ب)
١	تعاون سياسي	()	المناورات العسكرية المختلفة
٢	تعاون عسكري	()	مناصرة القضايا العادلة مثل قضية الشعب الفلسطيني
٣	تعاون اقتصادي	()	توحيد المناهج التعليمية وتطويرها
٤	تعاون ثقافي	()	زيادة التبادل التجاري
		()	دورة كأس الخليج لكرة القدم

(ب) اكتب المفهوم أو المصطلح الدال على كل من العبارات التالية:

- ١- (.....) الزراعة التي تتم في بيئة مائية أو رملية أو حصى أو نشارة خشب تضاف إليها المحاليل الغذائية.
- ٢- (.....) مجموعة من الناس تشترك فيما بينها في الصفات الجسمانية الرئيسية كلون الجلد وشكل الأنف وشكل الشعر وطول القامة.
- ٣- (.....) الضرر الذي يصيب عناصر البيئة الأساسية فتتحول من عناصر مفيدة إلى عناصر ضارة.
- ٤- (.....) عدد السكان في الكيلو متر مربع، وتقاس بقسمة عدد السكان على مساحة الدولة.

(ج) لاحظ خريطة شبه الجزيرة العربية التي أمامك ثم استعن بالمدلولات التي عليها لإكمال العبارات التالية :



- ١- الشكل ▲ يمثل مسطح مائي يسمى
- ٢- دولة خليجية لم تتعرض للاستعمار الأجنبي يمثلها على الخريطة الرقم ()
- ٣- الدولة الخليجية التي يوجد بها حقل بركان يمثلها على الخريطة الرقم ()
- ٤- الدولة الخليجية التي يوجد بها سهل الباطنة يمثلها على الخريطة الرقم ()

السؤال الثاني (موضوعي): ويتكون من (أ - ب):

(أ) صنف الهجرات التالية في مكانها الصحيح حسب الجدول التالي:

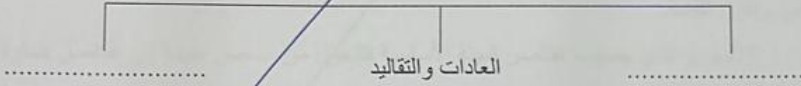
(الفواسم - المعاصيد - آل الصباح - الأزدي - بني ياس - آل خليفة)

دولة الكويت	البحرين	قطر	أبو ظبي	رأس الخيمة	عُمان

موقع
المناهج الكويتية
almanahj.com/kw

(ب) أكمل المخططات السهمية التالية:


١- الروابط التي تربط سكان دول الخليج العربية



٢- أهم أنواع صناعات منطقة الشعبية في دولة الكويت



٣- أسباب انتشار مشكلة العنف بين المتعلمين



١- السؤال الرابع (مقالى): ويتكون من (أ - ب - ج):

(أ) لاحظ الشكل المقابل ثم أجب عن الأسئلة التالية:

١- سجل عنواناً مناسباً للصورة المقابلة.

٢- عدد أشكال أو صور العنف.

٣- اقترح حلولاً لمشكلة العنف.

(ب) عرف لكل مما يلي:

١- الترانزيت:

٢- الثقافة:

٣- إنتاج النفط:

٤- الزيادة الطبيعية:

(ج) اكتب نقطتين فيما يلي:

١- التحديات التي تواجه دول الخليج العربية.

٢- أهم الدول المستوردة للنفط الكويتي.



موقع
المنهج الكويتية
almanahj.com/kw

السؤال الخامس (مقالى): ويتكون من (أ - ب - ج):

(أ) اقرأ الفقرة التالية ثم أجب عما يليها من أسئلة:

شهدت منطقة الخليج العربية بعد اكتشاف النفط نمواً سكانيًا مطرداً (فجائياً) نتيجة لأسباب عدة أهمها، ارتفاع دخل الفرد - توفر الرعاية الصحية - توفر فرص العمل، مما شجع على استقطاب الهجرة الداخلية والخارجية.

١- عرف ما تحته خط.

٢- استخرج من الفقرة السابقة:

- أسباب النمو السكاني الفجائي في منطقة الخليج العربية بعد اكتشاف النفط.

www.almanahj.com/kw

٣- علل : أسباب الزيادة الغير طبيعية في دول مجلس التعاون الخليجي

(ب) اذكر اثنين لكل مما يلي:

١- وظائف العمالة المنزلية.

٢- أهم الحضارات التي ظهرت في منطقة الخليج العربية.

(ج) علل لما يلي:

١- ظهرت الحاجة إلى إقامة العديد من الموانئ النفطية في دول الخليج العربية.

٢- حدوث التلوث البحري (المائي).

انتهت الأسئلة