

تم تحميل هذا الملف من موقع المناهج الكويتية



الملف أوراق عمل تقييمية مرفقة بالإجابة

[موقع المناهج](#) ⇨ [المناهج الكويتية](#) ⇨ [الصف الثالث](#) ⇨ [علوم](#) ⇨ [الفصل الثاني](#)

روابط مواقع التواصل الاجتماعي بحسب الصف الثالث



روابط مواد الصف الثالث على تلغرام

[الرياضيات](#)

[اللغة الانجليزية](#)

[اللغة العربية](#)

[التربية الاسلامية](#)

المزيد من الملفات بحسب الصف الثالث والمادة علوم في الفصل الثاني

تلخيص علوم	1
مراجعة	2
مذكرة كفايات	3
نموذج احابة	4
مراجعة	5



نموذج الإجابة لأوراق العمل التقييمية

الصف الثالث - الفترة الدراسية الثانية

العام الدراسي 2024-2025



وزارة التربية
التوجيه الفني العام للعلوم

نموذج إجابة أوراق العمل التقييمية للصف الثالث الابتدائي

الفترة الدراسية الثانية

العام الدراسي

2025-2024

موقع
المنهج الكويتي
almanahj.com/kw



3

الصف الثالث

SCAN ME



فريق إعداد التوجيهات الفنية





الاسم :

الفصل :

الدرجة النهائية : /..... 5

درس : ما هي خصائص الصخور و التربة في بلادنا ؟

السؤال الأول : اختر الإجابة الصحيحة علمياً بوضع علامة (✓) في المربع المقابل لها فيما يلي:



- التربة السائدة في دولة الكويت هي :

التربة الطينية

التربة الزراعية

التربة الرملية

التربة الدبالية

2

السؤال الثاني : ضع علامة (✓) أمام العبارة الصحيحة علمياً وعلامة (x) أمام العبارة غير الصحيحة فيما يلي:


1 () التربة الطينية حبيباتها كبيرة و مفككة ولا تحتفظ بالماء . (x)

2 () الصخور في دولة الكويت تختلف بخصائصها . (✓)

2

السؤال الثالث : ادرس الرسم التالي و طبق ما هو مطلوب :

- أشر بالرقم (1) للقمع الذي يحتوي على التربة الطينية .
- أشر بالرقم (2) لكأس الماء الذي يوضح كمية الماء النافذة من التربة الرملية .





الاسم :

الفصل :

الدرجة النهائية : / 5

درس : النباتات في الصحراء

السؤال الأول : اختر الإجابة الصحيحة علمياً بوضع علامة (✓) في المربع المقابل لها فيما يلي:



- الزهرة الوطنية لدولة الكويت هي لنبات :

العرنج

النخيل

الكحيل

الاقحوان

2

السؤال الثاني : في الجدول التالي اختر العبارة من المجموعة (ب) وأكتب رقمها أمام

ما يناسبها من عبارات المجموعة (أ) :

الرقم	المجموعة (أ)	المجموعة (ب)
2	نباتات اوراقها كبيرة و سميكة .	1- نباتات الصحراء
1	نباتات اوراقها رفيعة و شوكية .	2- نباتات الحديقة
		3- نباتات البحرية

2



نموذج الإجابة لأوراق العمل التقييمية

الصف الثالث - الفترة الدراسية الثانية

العام الدراسي 2024-2025



وزارة التربية
التوجيه الفني العام للعلوم

السؤال الثالث : ماذا تتوقع أن يحدث عند :

- زراعة نبات الحديدية في الصحراء

..... تذبل وتموت لأنها تحتاج الى كمية اكبر من الماء.....

..... تموت ولا تنمو جيداً في الصحراء.....

موقع
المناهج الكويتية
almanahj.com/kw

1



الاسم :

الفصل :

الدرجة النهائية : / 5

درس : تنوع نباتات الصحراء في بلادنا

السؤال الأول : اختر الإجابة الصحيحة علمياً بوضع علامة (✓) في فيما يلي:



1) نبات حولي ذو لون بنفسجي ينمو ويزدهر بعد هطول الامطار:

الاقحوان

النخيل

الكحيل

العرفج

2

السؤال الثاني : أكمل العبارات التالية بما يناسبها من كلمات :

1) النخل شجرة تنمو طول السنة لأنها من النباتات..... (الحولية – المعمره)

2) نبات لا ينمو إلا في شهر مارس وابريل هو (الأقحوان – العرفج)

2



نموذج الإجابة لأوراق العمل التقييمية

الصف الثالث - الفترة الدراسية الثانية

العام الدراسي 2024-2025



وزارة التربية
التوجيه الفني العام للعلوم

السؤال الثالث : علل لما يأتي تعليلا علميا صحيحا :

- ينمو نبات الكحيل في موسم الامطار

.....**لأنه من النباتات الحولية**.....

موقع
المنهاج الكويتية
almanahj.com/kw

1

الاسم :

الفصل :

الدرجة النهائية : / 5

درس : كيف أحافظ على سلامتي في البحر ؟

السؤال الأول : اختر الإجابة الصحيحة علمياً بوضع علامة (✓) في المربع المقابل لها فيما يلي:



- جميع الأدوات التالية تحافظ على سلامتي بالرحلة البحرية ما عدا :

البوصلة السنارة سترة النجاة حقيبة إسعافات

2

السؤال الثاني : اكتب بين القوسين كلمة (صحيحة) للعبارة الصحيحة وكلمة (خطأ) للعبارة غير

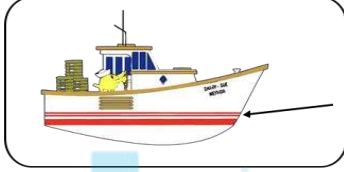
الصحيحة في كل مما يأتي:

(1) يجب الابتعاد عن الصخور عند ركوب الدراجة المائية. (... صحيحة ...)

(2) الهاتف النقال غير ضروري في الرحلات البحرية . (... خطأ

2

السؤال الثالث : ماذا يحدث في الحالة التالية :



موقع
المناهج الكويتية
almanahj.com/kw

- عندما يتخطى مستوى الماء خط الأمان في السفينة .

.....تتعرض السفينة لخطر الغرق / تغرق ، بسبب زيادة الحمولة



الاسم :

الفصل :

الدرجة النهائية : / 5

درس : كيف يمكن معالجة مياه البحر ؟

السؤال الأول : اختر الإجابة الصحيحة علمياً بوضع علامة (✓) في المربع المقابل لها فيما يلي:

- عملية تحول المادة من الحالة الغازية إلى الحالة السائلة تسمى بـ



تكثيف

تقطير

تسخين

تبخير

2

السؤال الثاني : اكتب بين القوسين كلمة (صحيحة) للعبارة الصحيحة وكلمة (خطأ) للعبارة غير

الصحيحة في كل مما يأتي:

(...صحيحة...)

(1) تتكون السحب في الطبقات العليا من الهواء .


(...صحيحة...)

(2) التقطير هو تبخير ماء مالح يليه تكثيف بخار الماء .

2

السؤال الثالث : ماذا يحدث في الحالة التالية :

- عند تقريب سطحاً بارداً من بخار الماء المتصاعد.



موقع
المنهاج الكويتية
almanahj.com/kw

يتكثف بخار الماء و يتحول إلى قطرات ماء على السطح البارد



الاسم :

الفصل :

الدرجة النهائية : / 5

درس : النفط ثروة بلادي

السؤال الأول : اختر الإجابة الصحيحة علمياً بوضع علامة (✓) في المربع المقابل لها فيما يلي:

- يتكون النفط في باطن الأرض و يكون لونه :

أبيض

أسود

أحمر

أخضر



2

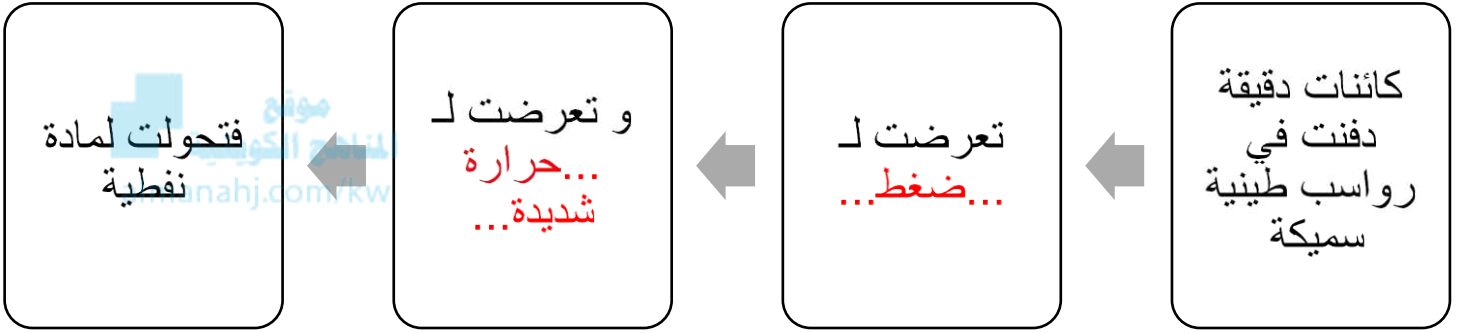
السؤال الثاني : أكمل العبارات التالية بما يناسبه من الكلمات :

1 - يكون قوام النفط**ثقيل**.....

2 - تشكل النفط من كائنات**دقيقة**.....نباتية و حيوانية

2

السؤال الثالث : أكمل المخطط الشكلي بما تراه مناسباً :





الاسم :

الفصل :

الدرجة النهائية : / 5

درس : ما دور التكنولوجيا في البحث عن النفط و استخراجة؟

السؤال الأول : اخترالإجابة الصحيحة علميا بوضع علامة (✓) في المربع المقابل لها فيما يلي:



- أحد المواد التالية من مشتقات النفط:

الورق

الفحم

الغاز

الخشب

2

السؤال الثاني : ضع علامة (✓) أمام العبارة الصحيحة علميا وعلامة (x) أمام العبارة الغير صحيحة فيما يلي:

(1) كان استخدام النفط قديما محصور في معالجة بعض الأمراض الجلدية. (x)

(2) يعتبر وقود السيارات من مشتقات النفط. (✓)

2

السؤال الثالث : أكمل البيانات على الرسم بكتابة أسماء الأدوات الموضحة و التي تستخدم في البحث عن النفط :



الاسم :

الفصل :

الدرجة النهائية : / 5

درس : ما هي طرق التعامل مع المنتجات النفطية
بصورة آمنة ؟

السؤال الأول : اختر الإجابة الصحيحة علمياً بوضع علامة (✓) في المربع المقابل لها فيما يلي:

- أحد المجموعات التالية تحتوي على منتجات غير نفطية :

(كأس فلين - مبيد حشري)

(كوب ورقي - طاولة خشب)

(كأس فلين - كأس بلاستيكي)

(كوب ورقي - أصباغ)

2

السؤال الثاني : اكمل العبارات التالية بكلمة علمية مناسبة:

(1) من المنتجات النفطية التي تستخدم كوقود للسيارات البنزين

(2) نحافظ على البيئة من خلال التقليل من النفايات وإعادة تدويرها

2



نموذج الإجابة لأوراق العمل التقييمية

الصف الثالث - الفترة الدراسية الثانية

العام الدراسي 2024-2025



وزارة التربية
التوجيه الفني العام للعلوم

السؤال الثالث : ماذا تتوقع أن يحدث عند :

- كثرة استخدام المنتجات النفطية.

تلوث البيئة وانتشار الأمراض .

موقع
المناهج الكويتية
almanahj.com/kw

1

الاسم :

الفصل :

الدرجة النهائية : / 5

درس : كيف تحد من تلوث الهواء الجوي ؟

السؤال الأول : اختر الإجابة الصحيحة علمياً بوضع علامة (✓) في المربع المقابل لها فيما يلي:

- جميع ما يلي يسبب تلوث الهواء الجوي ما عدا :

المبيدات الحشرية

عوادم السيارات

وسائل النقل الجماعية

دخان المصانع

2

السؤال الثاني : أكتب بين القوسين كلمة (صحيحة) للعبارة الصحيحة وكلمة (خطأ) للعبارة غير الصحيحة في كل مما يأتي:


(1) دخان الحرائق من مسببات تلوث الهواء الجوي. (صحيحة)

(2) استخدام الدراجة الهوائية يزيد من تلوث الهواء الجوي. (خطأ)

2

السؤال الثالث : ماذا تتوقع أن يحدث في الحالة التالية :

بالقرب من المناطق السكنية



- عند بناء المصانع

تزداد نسبة تلوث الهواء الجوي في المنطقة السكنية ، مما يزيد من انتشار الأمراض