

وزارة التربية

منطقة الأحمدية التعليمية

مدرسة املا صالح الابتدائية بنين



#187900170

تدريبات للصف الرابع في مادة الرياضيات

الوحدة الثالثة

ضرب الأعداد بناتج لا يزيد عن العدد ١٠٠٠

إعداد



www.KweduFiles.Com
أ/ هاله وجيه أ/ ساره الخياط

مديرة المدرسة

الموجهة الفنية

رئيسه القسم

أ/ نادية القلاف

أ/ شيخه الداوم

أ/ خالدة العازمي



تذكر

* ملاحظة هامة أسئلة الاختبار لاتخلي من أسئلة مذكرة تيمز

*تذكر أنك عندما تضرب عددا ما في ٢ ، فإنك تحصل على ضعف العدد

*ناتج الضرب هو نفسه مهما اختلف الترتيب

*ناتج ضرب ٣ أعداد هو نفسه مهما اختلف التجميع

* عند ضرب عدد ما في العدد صفر فان الناتج صفر

* عند ضرب عدد ما في العدد واحد فان الناتج هو العدد نفسه

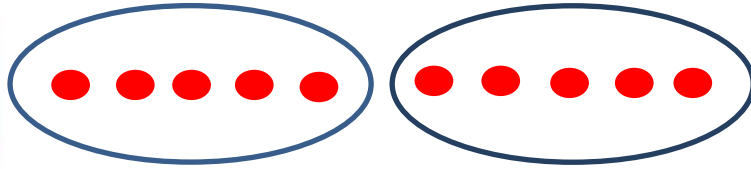
* لإيجاد ناتج الضرب يمكن تجزئه العدد بطرق مختلفة


جدول الضرب




٩	٨	٧	٦	٥	٤	٣	٢
١٨=٢×٩	١٦=٢×٨	١٤=٢×٧	١٢=٢×٦	١٠=٢×٥	٨=٢×٤	٦=٢×٣	٤=٢×٢
٢٧=٣×٩	٢٤=٣×٨	٢١=٣×٧	١٨=٣×٦	١٥=٣×٥	١٢=٣×٤	٩=٣×٣	٦=٣×٢
٣٦=٤×٩	٣٢=٤×٨	٢٨=٤×٧	٢٤=٤×٦	٢٠=٤×٥	١٦=٤×٤	١٢=٤×٣	٨=٤×٢
٤٥=٥×٩	٤٠=٥×٨	٣٥=٥×٧	٣٠=٥×٦	٢٥=٥×٥	٢٠=٥×٤	١٥=٥×٣	١٠=٥×٢
٥٤=٦×٩	٤٨=٦×٨	٤٢=٦×٧	٣٦=٦×٦	٣٠=٦×٥	٢٤=٦×٤	١٨=٦×٣	١٢=٦×٢
٦٣=٧×٩	٥٦=٧×٨	٤٩=٧×٧	٤٢=٧×٦	٣٥=٧×٥	٢٨=٧×٤	٢١=٧×٣	١٤=٧×٢
٧٢=٨×٩	٦٤=٨×٨	٥٦=٨×٧	٤٨=٨×٦	٤٠=٨×٥	٣٢=٨×٤	٢٤=٨×٣	١٦=٨×٢
٨١=٩×٩	٧٢=٩×٨	٦٣=٩×٧	٥٤=٩×٦	٤٥=٩×٥	٣٦=٩×٤	٢٧=٩×٣	١٨=٩×٢

أولاً : اكتب عبارته جمع مناسبه وعبارته ضرب:









أكمل :

$$\begin{aligned} \underline{\quad} &= 1 \times 8 \\ \underline{\quad} &= 10 \times 8 \\ \underline{\quad} &= 100 \times 8 \\ \underline{\quad} &= 1000 \times 8 \end{aligned}$$

$$\begin{aligned} \underline{\quad} &= 1 \times 3 \\ \underline{\quad} &= 10 \times 3 \\ \underline{\quad} &= 100 \times 3 \\ \underline{\quad} &= 1000 \times 3 \end{aligned}$$

أكمل :


مُخْرَجَات

١٨

مُدْخَلَات

٥
٨

٩ ×




١ ×

٢٤

مُخْرَجَات

٣
٧

مُدْخَلَات



أكمل :

٨	٣	٤	×
			٥

٩	٥	٢	×
			٧

٩	٧	٤	×
			١٠٠

٨	٦	٣	×
			٥٠

Thank You

أوجد ناتج :

$___ = 100 \times 18$

$___ = 100 \times 6$

$___ = 10 \times 4$

$___ = 8 \times 9$

$___ = 2 \times 3$

$___ = 4 \times 5$

$___ = 70 \times 8$

$___ = 2 \times 1000$

$___ = 4 \times 500$

$___ = 60 \times 9$

$___ = 0 \times 10$

$___ = 1 \times 30$

$___ = 7 \times 83$

$___ = 9 \times 29$

$___ = 32 \times 7$

أوجد ناتج :

$___ = 4 \times 10 \times 10$

$___ = 5 \times 7 \times 4$

$___ = 14 \times 3 \times 9$

$___ = 2 \times 6 \times 8$

$___ = 2 \times 5 \times 6$

$___ = 4 \times 8 \times 70$

أوجد ناتج :

500

9

5

8

6x

20x

4x

8x

903

234

83

24

8x

2x

7x

3x

أوجد ناتج :

٩٥

٢٧

٢٤

١٨ ×

٣٤ ×

١٣ ×

١٧

٣٤

٢٣ ×

٦٠ ×



www.kawedufiles.com

أوجد الضعف لكل عدد

٩ ،

٤ ،

٥

أكمل :

$$٢ \times \square = ٥ \times ٢$$

$$\square + \square + \square + \square = ٥١ \times ٤$$

Thank
You

اختر الإجابة الصحيحة من بين الإجابات التالية :

أ) العددان اللذان ناتج ضربهما ٥٤ هما

- ٧،٨ ○ ٦،٩ ○ ٥،٦ ○ ٨،٦ ○

ب) هناك ٩ صفوف من المقاعد في كل صف ٨ مقاعد أي مما يلي يعبر عن العدد الإجمالي للمقاعد ؟

- ٨ ÷ ٩ ○ ٨ - ٩ ○ ٨ × ٩ ○ ٨ + ٩ ○

ج) قرأ يعقوب كتابا يتألف من ١٢ فصلا وكل فصل يحتوي علي ٢٥ صفحة فان عدد صفحات الكتاب =

- ٣٧ صفحة ○ ٢٥٠ صفحة ○ ٣٠٠ صفحة ○ ٣٥٠ صفحة ○

د) $4 \times 4 \times 4 =$

- ٦٤ ○ ٨١ ○ ١٦ ○ ١٢ ○

هـ) رقم الأحاد في ناتج 20×47 هو

- ٨ ○ ٧ ○ ٤ ○ ٠ ○

و) $36 \times 5 =$

- ٩٠ × ٢ ○ ٩٠ × ٣ ○ ٩٠ × ٤ ○ ٩٠ × ٥ ○

ز) عدد الأصفار في ناتج 2000×5 هو

- ٢ ○ ٣ ○ ٤ ○ ٥ ○

مع تمنيات قسم الرياضيات لكم بالتوفيق

Thank
You