

يتكون من (أ - ب - ج) :

اصح ما تحته خط في العبارات التالية وذلك بكتابة التصويب في المكان المناسب :

التصويب	العبارة
٥٥ ص	اصغر دول العالم الإسلامي من حيث المساحة <u>كازاخستان</u> .
٧٢ ص	يبلغ نسبة إنتاج العالم الإسلامي من الحبوب حوالي <u>٢٠%</u> .
٣٤ ص	قصر بناه الخليفة هشام بن عبدالمك في سوريا اسمه <u>عمره</u> .
٤٢ ص	اشتهر العالم المسلم الشريف الإدريسي في مجال <u>الفلسفة</u> .
٢٩ ص	مبلغ مالي يدفعه أهل الذمة ممن هم قادرين على حمل السلاح نظير حماية الدولة لهم <u>الخراج</u> .

ب) اكمل العبارات التالية بما يناسبها فيما درست :

- داعية كويتي عمل في المجال الخيري والإنساني اسمه عبد الرحمن السميح ص ٢٤

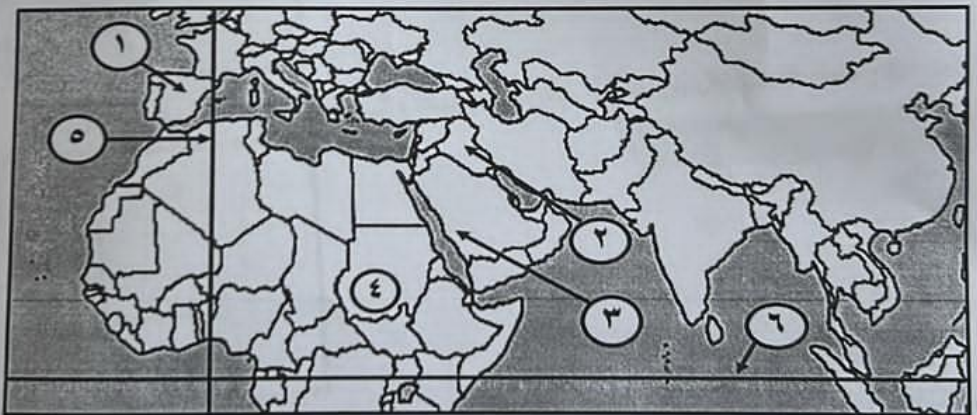
- سهل يقع في شمال دولة الكويت اسمه الروضيين ص ٥٨

- محاصيل تزرع من أجل التصدير تسمى العلان النعوية ص ٧٣

- طائر استخدمه المسلمون في نقل الرسائل جواً يسمى الحمام الزاجل ص ٤٣

- الإقليم الذي تقع ضمنه دولة الكويت ودول الخليج العربي اسمه الجزيرة العربية ص ٦٤

ج) أمامك خريطة العالم الإسلامي - أكتب الرقم الدال على العبارات التي تليها :



هول نهر دجلة والفرات يمثلها على الخريطة الرقم (.....٣.....)


لاد الأندلس يمثلها على الخريطة الرقم (.....١.....)

بل مره يمثلها على الخريطة الرقم (.....٤.....)

فر قيام الدولة الإسلامية في عهد الرسول (ص) يمثلها على الخريطة الرقم (.....٣.....)

ط الإستواء يمثلها على الخريطة الرقم (.....٦.....)

الدرجة بالحروف



السؤال الثالث (مقالى) يتكون من (أ - ب - ج) :

(أ) اقرأ الفقرة التالية ثم أجب عما يليها من أسئلة :

دفعت الحضارة الإسلامية المسلمين الى العمل والاجتهاد والانجاز، انطلاقاً من قوله تعالى (وقل اعلموا فسيرى الله عملكم ورسوله والمؤمنون) فكان من نتائجها التنمية والإبداع وحفظ التراث ونقله، حيث حققت للإنسانية نهضة علمية وزراعية واقتصادية تعود بالمنفعة على الإنسان.

١- اكتب عنواناً مناسباً للفقرة :

٢- عرف ما تحته خط : هي كل ما يطرأ على المجتمع من تقدم وتطور وزنى سوادني الجنب الهادي أو


٣- استخرج من الفقرة السابقة نتائج الحضارة الإسلامية: الجنب الروحي. ط

- التنمية والإبداع وحفظ التراث ونقله

- حققت للإنسانية نهضة علمية وزراعية واقتصادية


(ب) لاحظ الشكل والجدول التالي ثم نفذ ما هو مطلوب منك :

٥٣



١- اكتب اسم الأشكال التضاريسية المشار إليها بالأسهم في الشكل المقابل:

٢- حول نسب إنتاج معدن الذهب لكل من الدول (مالي و إندونيسيا) إلى أعمدة بيانية حسب الجدول التالي :



الدولة	النسبة
مالي	١,٥%
إندونيسيا	٢,٣%
أوزباكستان	٣,٤%

نسبة إنتاج الذهب من جملة إنتاج العالم الإسلامي حسب إحصاء ٢٠١٤ م

(ج) علل لما يلي :

١- تنوع المناخ في دول العالم الإسلامي.

- اعتماد دول العالم الإسلامي على مائة أسعة . - الإطالة على عدة مسطحات

- الحوقع بالنسبة للعائر القرض .

- التنوع في التضاريس من جبال وهضاب وسهول ووديان

٢- ازدهار العلم وظهور العلماء في الحضارة الإسلامية. ص

- حركة التكريب (الترحيل) للكتب القيمة اليونانية والهندية والفارسية

- تشجيع الحكام ورجالهم تمويل العيالات والحدود


- الفاعلن العلمى بنى لدول الإحدسية - الرضا الإقتصادى

الدرجة بالحروف



السؤال الرابع : (مقالى) يتكون من (أ - ب - ج) :

(أ) لاحظ الصور ثم أجب عن ما يليها من أسئلة :



٢٧ ص

اسم الصناعة :	أرابيسك
سبب التسمية :	سُميت بهذا الاسم نسبةً إلى العرب



٢٤ ص

اسم العالم المسلم :	الحافظ
أهم مؤلفاته :	كتاب الجيولان

(ب) فرق بين كل مما يلي :

المساجد	٢٤ ص
القصور	- تعامد فيها الصلوات خطبة الجعة والتعليم البيئي
جبر صدر الحكيم والممكن الذي ربيتم على مساندة داهية كالوزارة والادواوين	
المنابع	٢٧ ص
الطقس	- صالة الجو خلال فترة زمنية طويلة
المصادر غير الطبيعية لإنتاج الأسماك	
المصايد والعبارة صالة حربية	
استزراع سمكي	٧٤ ص

(ج) أكتب في ما يلي :

١- جهود المسلمين في الزراعة

- سق التوت الماتج والرنج

- امتامه السور

٢- أهمية السهول في العالم الإسلامي

- استعمال كوانى كسبية

- سسبب المدن

- تركيز السكان في سهول التنقل

الدرجة بالحروف

انتهت الأسئلة

١٥





وزارة التربية
الإدارة العامة لمنطقة الأحمدية التعليمية
التوجيه الفني للاجتماعيات

امتحان نهاية الفترة الدراسية الأولى
لمقرر دولة الكويت والعالم الإسلامي
للفص الثامن متوسط

العام الدراسي: ٢٠٢٣ / ٢٠٢٤ م
الزمن: ساعة وخمس وأربعون
عدد الصفحات: ٥ صفحات

أجب عن جميع الاسئلة

السؤال الأول: (موضوعي) ويتكون من (أ - ب - ج):

(أ) ظلل الخيار الصحيح من بين الخيارات التي تلي كل عبارة:

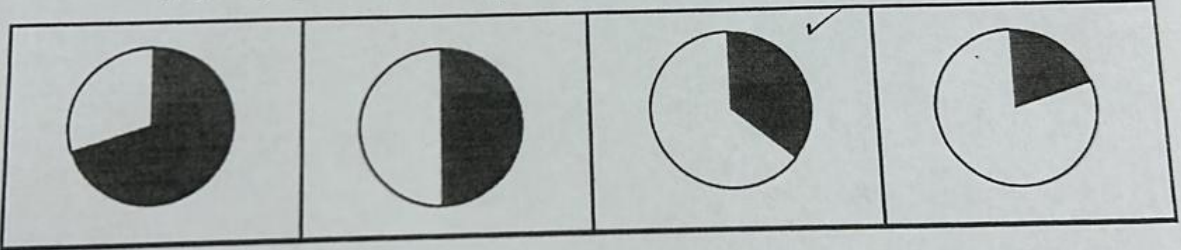
١- الدولة الإسلامية الوحيدة التي تقع في قارة أمريكا الجنوبية:

البرازيل	الأرجنتين	بيرو	سورينام
----------	-----------	------	---------

٢- المظهر العمراني الذي صمم وفق الطراز الأندلسي الإسلامي في دولة الكويت:

سوق المباركية	المتحف الإسلامي	المسجد الكبير	بيت العثمان
---------------	-----------------	---------------	-------------

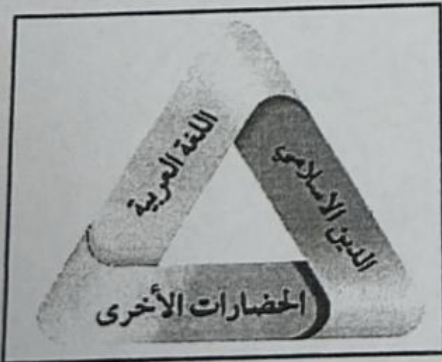
٣- نسبة إنتاج الغاز الطبيعي للعالم الإسلامي من إجمالي الإنتاج العالمي يمثلها الجزء المظلل من الدائرة:



٤- التاريخ الذي يحتفل فيه بيوم اللغة العربية من كل عام:

١٨ مارس	١٨ فبراير	١٨ يناير	١٨ ديسمبر
---------	-----------	----------	-----------

الشكل الذي أمامك يمثل:



مظاهر الحضارة الإسلامية

صنائع الحضارة الإسلامية

أهداف الحضارة الإسلامية

أسس الحضارة الإسلامية




تابع السؤال الأول (موضوعي) :

ب) صنف العناصر ما بين انقوسين حسب المكان المناسب لها في الجدول التالي :
(تونس - دومة الجندل - الأندلس - القاهرة - الفسطاط - دمشق)

المسجد الأموي	جامع عمرو بن العاص	مسجد عمر بن الخطاب	جامعة الزيتونة
دمشق	الفسطاط	دومة الجندل	تونس

ج) أكمل المخططات السهمية التالية :



الدرجة بالحروف

