

تم تحميل هذا الملف من موقع المناهج الكويتية



الملف مذكرة عُلَا الإثرائية

[موقع المناهج](#) ← [المناهج الكويتية](#) ← [الصف الثامن](#) ← [اجتماعيات](#) ← [الفصل الأول](#)

روابط مواقع التواصل الاجتماعي بحسب الصف الثامن



روابط مواد الصف الثامن على تلغرام

[الرياضيات](#)

[اللغة الانجليزية](#)

[اللغة العربية](#)

[التربية الاسلامية](#)

المزيد من الملفات بحسب الصف الثامن والمادة اجتماعيات في الفصل الأول

مسودة كتاب الطالب في مادة الاجتماعيات لعام 2018	1
خطة توزيع منهج العام الجديد في مادة الاجتماعيات	2
حل الوحدة الاولى في مادة الاجتماعيات	3
ورقة عمل في مادة الاجتماعيات	4
ورقة عمل في مادة الاجتماعيات	5



www.almanahj.com/ta

الكورس الأول

8



موقع
المناهج الكويتية
almanahj.com/kw

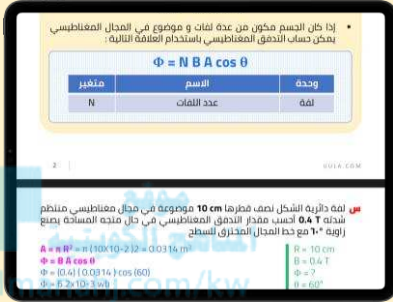
الاجتماعيات

الكورس الأول

8

شلون تتفوق بحراستك

طريقة علا المتكاملة للدراسة تشمل الاستفادة من المذكرة و الفيديوهات و الاختبارات



⚠️ علا تخلي المذكرة أقوى

تبي أعلى الدرجات؟ لا تعتمد على المذكرة بروحها - ادرس صح من الفيديوهات و الاختبارات

اختبارات ذكية تدريك

حل الاختبارات الالكترونية أول بأول عشان ترفع مستواك



فيديوهات تشرح لك

تابع الفيديوهات و انت تدرس المذكرة عشان تضبط الدرس



• • • • • • • • • •

اشترك بالمادة

احرص على تفعيل اشتراكك عشان تستفيد كثر ما تقدر



اكتشف عالم التفوق مع باقات علا ادرس جميع مواد مرحلتك باشتراك واحد بسعر خيالي

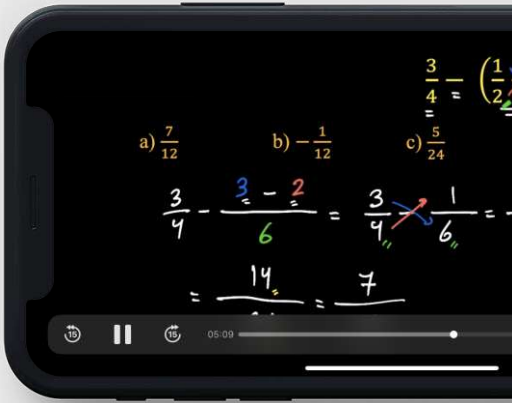
المنقذ

أقوى مذكرة صارت الحين أقوى و أقوى مع خاصية
المنقذ للمساعدة الفورية

شنو المنقذ؟

امسح الباركود بكاميرا تلفونك
وتعرف على طريقة استخدام المنقذ

المنهج الكويتية
almanahj.com/kw



شنو فائدة هالخاصية؟

أول ما تحتاج مساعدة بالمادة , المنقذ بينقذك .

امسح الباركود بكاميرا التلفون أو اضغط عليه إذا كنت فاتح
المذكرة من جهازك و يطلع لك فيديو الشرح.

01 لمحة تاريخية عن الحضارة الإسلامية

الحضارة الإسلامية	5
لمحة تاريخية	7
أسس الحضارة الإسلامية	9
مظاهر الحضارة الإسلامية	13



02 المظاهر العمرانية ومراكز اشعاع الحضارة الاسلامية

المظاهر العمرانية	18
مظاهر الحياة الاجتماعية	23
مراكز اشعاع الحضارة الإسلامية ودورها في النهضة الأوروبية الحديثة	28

03 البيئة الطبيعية للعالم الإسلامي

الموقع	33
التضاريس	35

04 المناخ والثروات

تأثير البيئة الطبيعية على الاقتصاد والمجتمع	37
الثروة المعدنية	40
الثروة الزراعية والسمكية	42



لمحة تاريخية عن الحضارة الإسلامية

الحضارة الإسلامية

عرف

الحضارة

هي كل ما يطرأ على المجتمع من تقدم وتطور في الجانب المادي أو الروحي

س فرق بين كلا من

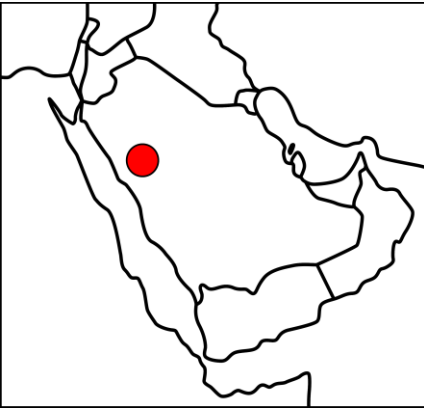
الجوانب الروحية	الجوانب المادية
العلوم - الفكر - الأدب - الأخلاق - السياسة الثقافة	المساجد - القصور - المستشفيات - المكتبات - الاختراعات - الأدوات

عرف

الحضارة الإسلامية

النهضة العلمية والفكرية والأدبية التي انعكست على العالم أجمع و زودته بكافة المجالات و العلوم

أكمل ما يلي :



س الدولة التي قامت في المدينة المنورة على يد رسول الله ﷺ تسمى الدولة الإسلامية

س قامت الدولة الإسلامية في المدينة المنورة على يد الرسول ﷺ

س المكان الذي انطلقت منه الحضارة الإسلامية يسمى المدينة المنورة

س القرن الذي ظهرت فيه الحضارة الإسلامية هو القرن الثامن الميلادي

س علل - تسمية الحضارة الإسلامية بهذا الاسم

- لأن اللغة العربية وسيلة التعبير عنها
- الإسلام يمثل روحها وجوهرها

س عدد - الحضارات التي استفادت منها الحضارة الإسلامية

- الحضارة الفارسية
- الحضارة البيزنطية
- الحضارة الهندية
- الحضارة الصينية

أكمل ما يلي :

س الحضارة المجاورة للحضارة الإسلامية من جهة الشمال والشمال الشرقي تسمى الحضارة الفارسية --

س الحضارة المجاورة للحضارة الإسلامية من جهة الشمال والشمال الغربي تسمى الحضارة البيزنطية --



س فند " لم تستفيد الحضارة الإسلامية من الحضارات المجاورة استفادت من خلال ترجمة علومها وتسخيرها في النهضة العلمية

س عدد - النتائج المترتبة على اندماج الشعوب الأخرى مع العرب في الدين الإسلامي

- تنوع الثقافات والعلوم والفنون
- تطور الحضارة الإسلامية



تدرب و تفوق
اختبارات الكترونية

س فرق بين أنواع العلوم



العلوم العقلية	العلوم النقلية
الرياضيات - الفيزياء - الكيمياء - الفلسفة - الفلك	الحديث - الفقه - تفسير القرآن - التاريخ

س برهن " براعة المسلمين في فن العمارة وتميزوا بالتجارة والصناعة والزراعة "

ممكن أن يظهر السؤال في صيغة اخرى: **دليل**

- في مجال العمارة : تميزوا بعمارة المساجد والقصور **تأليف الكويتية**
- في التجارة : وصلت تجارة المسلمين إلى اندونيسيا almanahj.com/kw
- في الصناعة : برزت صناعات مثل صناعة السيوف والسفن والجلي
- في الزراعة : شق قنوات الري وعمل شبكات المياه

س دليل " تفاعل الإسلام مع شعوب العالم المختلفة "

- استوعبت الحضارة الإسلامية شعوباً عديدة مثل (الفرس والترك والأفارقة والأسويين والهنود والأوروبيين)
- احترام عاداتهم وتقاليدهم وخصوصياتهم

أكمل ما يلي :

س عدد المؤلفات التي قام بتأليفها العالم المسلم (البيروني) **180 مؤلف**س من أشهر مؤلفات العالم المسلم البيروني كتاب يسمى **الصيدلة في الطب**س اكتشف العالم المسلم البيروني معادلة باسمه تعرف باسم **معادلة نصف قطر الأرض**س العالم المسلم صاحب كتاب الصيدلة في الطب يسمى **البيروني**

س عدد - أهم إنجازات وأعمال العالم المسلم (البيروني)

- ألف في الرياضيات والفلك والتاريخ والجغرافيا
- بلغت عدد مؤلفاته 180 مؤلف
- اكتشف معادلة حساب نصف قطر الأرض
- أشهر مؤلفاته كتاب (الصيدلة في الطب)

أكمل المخططات السهمية التالية

س الحضارات المجاورة للحضارة الإسلامية

الحضارة الفارسية الحضارة البيزنطية الحضارة الهندية

س الشعوب التي كونت الحضارة الإسلامية

العرب الترك الفرس الأفارقة الآسيويين الأوروبيين



تدرب و تفوق
اختبارات الكترونية

موقع
المناهج الكويتية
almanahj.com/kw



U U L A




لمحة تاريخية عن الحضارة الإسلامية

أسس الحضارة الإسلامية

س عدد أسس الحضارة الإسلامية

يمكن أن يظهر السؤال في صيغة أخرى: للحضارة الإسلامية أسس قوية ثابتة انطلقت منها

- الدين الإسلامي
- اللغة العربية
- الحضارات الأخرى



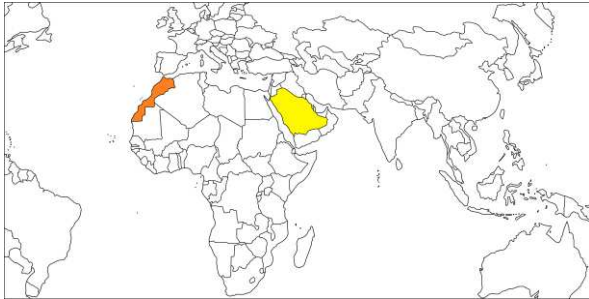
موقع
المناهج الكويتية

أكمل ما يلي :

س اللغات الرسمية في الأمم المتحدة قبل 1973 م الإنجليزية والفرنسية والصينية والروسية و **الأسبانية**

س العام الميلادي الذي اعتمدت فيه الجمعية العامة للأمم المتحدة اللغة العربية ضمن اللغات الرسمية هو **1973 م**

س يحتفل العالم باللغة العربية من كل عام في يوم يوافق 18 **ديسمبر**



س دول اقترحت على الجمعية العامة للأمم المتحدة ادخال اللغة العربية ضمن اللغات الرسمية هما المملكة العربية السعودية و **المغرب**

س العالم اليوناني الذي اخترع جدول الضرب يسمى **فيثاغورث**

س عدد - خصائص الحضارة الإسلامية

- حضارة تسامح
- حضارة إيمان وعمل
- حضارة إنسانية
- حضارة عالمية
- حضارة شمولية

س علل - الحضارة الإسلامية حضارة تسامح

ممكن أن يظهر السؤال في صيغة أخرى: دلت - تميزت الحضارة الإسلامية بالطابع الإنساني

- اهتمت بالأخلاق والبناء والعمران
- وفتحت المجال أمام الإنسان للعمل والابداع

" لم يعرف التاريخ أمة أرحم من العرب (المسلمين) والرحمة والعدل عندهم متلازمان "

س من قائل العبارة : **غوستاف لوبون**

س المناسبة : **حديثه عن الحضارة الإسلامية**

س أكمل : المفكر الفرنسي الذي قال أن الرحمة والعدل عن المسلمين متلازمان يسمى **غوستاف لوبون**

المناهج الكويتية
almanahj.com/kw

س دلل - الحضارة الإسلامية حضارة إيمان وعمل

- دفعت المسلمين إلى العمل والاجتهاد
- نتج عنها التنمية والابداع
- حفظ التراث ونقله
- حققت للإنسانية نهضة علمية وزراعية واقتصادية

س علل - الحضارة الإسلامية حضارة إنسانية

- تميزت باحترامها للأديان
- ساوت بين الشعوب دون النظر للعرق واللون والدين
- حثت الشعوب على مواصلة دورهم الحضاري تحت مظلة الإسلام

س علل - الحضارة الإسلامية حضارة عالمية

- جاءت رسالة الإسلام للبشر كافة
- الإسلام ساوى بين الشعوب المختلفة
- انتشر الإسلام في كافة بقاع الأرض

س علل - الحضارة الإسلامية حضارة شمولية

- شملت كافة مناهج الحياة الروحية والعقلية والجمالية والأخلاقية
- طغت الآثار الإسلامية في كافة العالم
- اقتبس الأوروبيون كثير من مظاهر المدن الإسلامية

س اختر من المجموعة (أ) ما يناسبها من المجموعة (ب) بوضع الرقم المناسب

م	الآية الكريمة	الرقم	خصائص الحضارة الإسلامية
1	(ولا تعتدوا إن الله لا يحب المعتدين)	3	حضارة عالمية
2	(وقل اعملوا فسيرى الله عملكم ورسوله والمؤمنون)	1	حضارة تسامح
3	(وما أرسلناك إلا كافة للناس بشيرا ونذيرا)	2	حضارة إيمان وعمل



تدرب و تفوق
اختبارات الكترونية



موقع
المناهج الكويتية
almanahj.com/kw

عرف

البيمارستانات

هي دار المرضى أو المستشفى ومراكز الصيدلة والتحليل وصناعة الأدوية

س أثر الحضارة الإسلامية على دولة الكويت :

يمكن أن يظهر السؤال في صيغة اخرى: دلل " انعكس أثر خصائص الحضارة الإسلامية على دولة الكويت "




- نشأ الشعب الكويتي على الحب والاحترام والعدل والمساواة
- تميز الشعب الكويتي بحبه لفعل الخير
- مد يد العون للمسلمين وغير المسلمين
- ظهور شخصيات بارزة في مجال العمل الإنساني مثل الشيخ (صباح الأحمد) والدكتور (عبد الرحمن السميح)

س عدد - أهم الجمعيات الخيرية والمؤسسات الكويتية العاملة في المجال الإنساني

- بيت الزكاة الكويتي
- الهيئة الخيرية الإسلامية العالمية

أكمل ما يلي :



س العام الميلادي الذي لقب فيه الشيخ صباح الأحمد بلقب قائد العمل الإنساني هو 2014 م



س أمير الكويت الذي حصل على لقب قائد العمل الإنساني يسمى الشيخ صباح الأحمد الصباح

س الداعية الكويتي البارز في مجال العمل الإنساني والخيري يسمى الدكتور عبد الرحمن السميط



تدرب و تفوق
اختبارات الكترونية



U U L A



لمحة تاريخية عن الحضارة الإسلامية

مظاهر الحضارة الإسلامية

س عدد مظاهر الحضارة الإسلامية

- المظاهر السياسية والإدارية
- المظاهر الاقتصادية
- المظاهر العمرانية
- المظاهر الاجتماعية
- الإنجازات العلمية والثقافية

أكمل ما يلي :

11 هـ

س العام الهجري الذي توفي فيه الرسول ﷺ

س المكان الذي اجتمع فيه المسلمون بعد وفاة الرسول ﷺ لاختيار خليفة لهم يسمى **سقيفة بني ساعدة**

أبو بكر الصديق

س أول حاكم للدولة الإسلامية بعد الرسول ﷺ يسمى

س أول منصب إداري جديد في الدولة الإسلامية بعد وفاة الرسول ﷺ هو **الخليفة**

س عدد - المناصب الإدارية التي ظهرت مع اتساع الدولة الإسلامية ؟

- الوالي
- الوزير
- الحاجب
- القاضي

أكمل ما يلي :

س الخليفة الراشد الذي استحدث منصب المحتسب يسمى **عمر بن الخطاب**

س الوظيفة التي استحدثها الخليفة عمر بن الخطاب تسمى **المحتسب**

س الدولة التي ظهرت في عهدها الممالك والسلطنات إمارات هي **الدولة العباسية**

س رتب الخلفاء الراشدين ترتيباً تصاعدياً من حيث فترة توليهم الخلافة

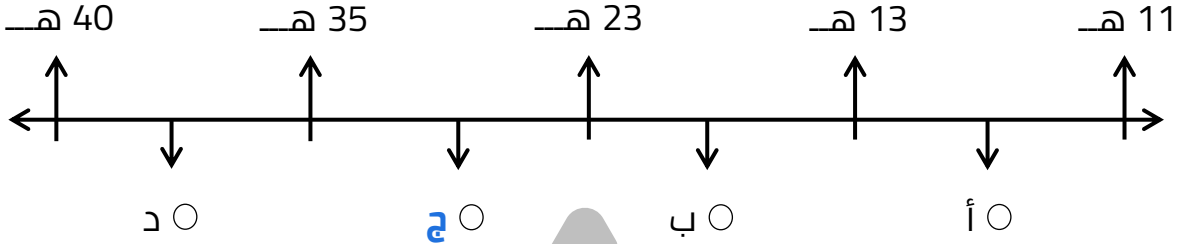
- 1- أبو بكر الصديق (11 هـ - 13 هـ)
- 2- عمر بن الخطاب (13 هـ - 23 هـ)
- 3- عثمان بن عفان (23 هـ - 35 هـ)
- 4- علي بن أبي طالب (35 هـ - 40 هـ)

اختر الإجابة الصحيحة

س العام الهجري الذي تولى فيه عمر بن الخطاب الخلافة

- 11 هـ ○ 13 هـ ○ 23 هـ ○ 35 هـ

س على المخطط الزمني فترة حكم الخليفة عثمان بن عفان يمثلها الحرف



س علل - اهتمت الحضارة الإسلامية بالموارد الاقتصادية والمالية



- لدورها في تقدم البلاد وازدهار الحضارة
- توفر أسباب العيش الكريم



س عدد المظاهر الاقتصادية في الحضارة الإسلامية

- الزراعة
- الصناعة
- التجارة

س أكمل : مصدر اقتصادي مهم للحضارة الإسلامية يسمى _____ الزراعة _____

س عدد - جهود المسلمين في مجال الزراعة ؟

- شق القنوات
- إقامة السدود
- تنظيم وسائل الري

أكمل:

س المدينة التي أقامت فيها الحضارة الإسلامية ديواناً للماء تسمى _____ مرو في خراسان _____

س مدينة مرو الواقعة في خراسان قديماً تعرف حالياً باسم _____ إيران _____

س علل أو فسر " اهتمام الحضارة الإسلامية بمجال الصناعة "

من أجل استثمار الموارد الطبيعية المتوفرة بها

س عدد أهم الصناعات التي ظهرت في ظل وجود الحضارة الإسلامية ؟

- صناعة السفن
- صناعة الأسلحة
- صناعة الورق
- صناعة الأدوية
- صناعة المنسوجات
- صناعة الخزف والمعادن



الأرابيسك

صناعة خشبية ذات طابع مميز برع فيها العرب

س فسر - علل " تسمية صناعة الأرابيسك بهذا الاسم ؟

نسبة إلى العرب



تدرب و تفوق

اختبارات الكترونية



س علل - لقيت التجارة تشجيعاً كبيراً في الحضارة الإسلامية ؟

- لدورها الكبير في التبادل التجاري مع المناطق المجاورة
- ساهمت في نشر الدين الإسلامي

س علل : لعب الموقع الإسلامي الإستراتيجي دور في ازدهار التجارة

لأنه يمتلك العديد من الخطوط التجارية البرية والبحرية مما أدى إلى ازدهار صادراته و واردته

س فرق بين صادرات و واردات العالم الإسلامي

الواردات	الصادرات
الأخشاب - التوابل - الذهب	التمور - الفواكه - اللبان - الخيول العربية

أكمل ما يلي:

س منطقة في الكويت كانت قديماً محطة لاستراحة قوافل الحجاج تسمى **الشحي (الشقايا حالياً)**

س الطريق الذي لقي اهتمام من خلفاء الدولة العباسية في الكويت يسمى **الشحي (الشقايا حالياً)**

س الجزيرة الكويتية التي رصدت فيها قريتان تعودان إلى العصر الإسلامي تسمى **فيلكا**

س القرى التي تعود إلى الحضارة الإسلامية على جزيرة فيلكا هما قرية القصور و
القرينية

س القرية التي تقع شمال جزيرة فيلكا في العصر الإسلامي تسمى القرينية

س القرية التي تقع في وسط جزيرة فيلكا في العصر الإسلامي تسمى
القصور

س عدد - الأنشطة الاقتصادية في جزيرة فيلكا في العهد الإسلامي

- التجارة
- الغوص على اللؤلؤ
- الزراعة
- الرعي



س عدد - المناطق التي تعود للعصر الإسلامي في دولة الكويت ؟

- منطقة الشفايا
- جزيرة فيلكا



تدرب و تفوق
اختبارات الكترونية

س عدد - موارد بيت مال المسلمين

- الزكاة
- الخراج
- الجزية
- الوقف الإسلامي



أكمل ما يلي:
س ركن من أركان الإسلام يخرجها المسلمون الأغنياء للفقراء تعرف باسم
الزكاة

س تجب الزكاة على الأموال النقدية التي حال عليها الحول بواقع 2.5%

س من الثروات الأخرى التي تجب منها الزكاة هم الإبل والمواشي والتجارة

س علل - تسمية الزكاة بهذا الاسم

لما فيها من تزكية للنفس وتطهيرها

ضريبة الأرض الزراعية التي تخرج مبلغاً معيناً من ناتج المحصول الزراعي

س عدد - استخدامات الخراج في الحضارة الإسلامية

ممكن أن يظهر السؤال في صيغة اخرى: علل أهمية الخراج كمورد مالي للدول في الحضارة الإسلامية

- حماية ثغور الدول في الحضارة الإسلامية
- منح العطاء للجند

س فرق بين كلاً من

الوقف الإسلامي	الجزية
صدقة جارية يوقفها المرء في حياته لوجه الخير والبر	مبلغ مالي يدفعه الرجال غير المسلمين من أهل الذمة نظير حماية الدولة لهم

س عدد - استخدامات الوقف الإسلامي

- سد حاجة الفقراء والمساكين والمرضى
- نشر العلم
- بناء المدارس ودور الأيتام

س أكمل : الجهة المسؤولة عن الوقف في الكويت في الوقت الحالي تسمى **وزارة الأوقاف والشؤون الإسلامية**



تدرب و تفوق

اختبارات الكترونية

المظاهر العمرانية



س عدد - المظاهر العمرانية في الحضارة الإسلامية

- المساجد
- المدارس
- القصور
- المباني الفخمة المتعددة

س عدد - مميزات المظاهر العمرانية في الحضارة الإسلامية

- الأسوار
- القباب
- المآذن
- المنابر
- الزخارف

س عدد- أشهر الأسوار في الحضارة الإسلامية

- سور الإحساء
- سور القاهرة
- سور بغداد

المناهج الكويتية
almanahj.com/kw

عرف

الفسيفساء

مجموعة من مكعبات الزجاج الملون والشفاف وقطع من الحجر الأبيض والأسود وقطع الخزف

س أكتب مدلول الصور التالية



الطرز المعماري في المسجد الكبير في دولة الكويت

أكمل ما يلي:

س طراز معماري في الكويت صمم على الطراز الأندلسي يسمى المسجد الكبير

س القصر الذي شيد مقابله المسجد الكبير يسمى قصر السيف

س العام الميلادي الذي تم فيه افتتاح المسجد الكبير في دولة الكويت 1986 م

س أمير البلاد الذي تم في عهده افتتاح المسجد الكبير يسمى **الشيخ جابر الأحمد الصباح**

س الطراز المعماري الذي صمم عليه المسجد الكبير في الكويت يسمى الطراز **الأندلسي الإسلامي**

س أكتب فيما يلي مما درست - المسجد الكبير بدولة الكويت



- أهم المظاهر العمرانية في الكويت
- له إطلالة جميلة ومنظر بديع
- يقع في قلب العاصمة مقابل قصر السيف
- تم افتتاحه عام 1986 م في عهد الشيخ جابر
- صمم وفق الطراز الأندلسي الإسلامي

موقع
المناهج الكويتية
almanahj.com/kw



تدرب و تفوق
اختبارات الكترونية



العمائر الدينية والمدنية:

س عدد العمائر الدينية في الدولة الإسلامية

ممکن أن يظهر السؤال في صيغة اخرى: عدد المساجد الرئيسية- القصور

- الكعبة المشرفة
- المسجد النبوي
- المسجد الأقصى

U U L A

عرف

المساجد

دار للعبادة تقام فيها الصلوات وخطبة الجمعة والتعليم الديني

س أكمل الجدول التالي :

اسم المسجد	المدينة أو الدولة
الكعبة المشرفة (المسجد الحرام)	مكة (المملكة العربية السعودية)
المسجد النبوي	المدينة المنورة (المملكة العربية السعودية)
المسجد الأقصى المبارك	فلسطين المحتلة

أكمل ما يلي:

س المسجد الذي رفع قواعده نبي الله إبراهيم وابنه اسماعيل عليهما السلام يسمى الكعبة المشرفة (المسجد الحرام) .

س الفترة الزمنية التي استغرقها بناء المسجد النبوي تقدر بنحو شهرين .

س الخليفة الأموي الذي ضمت في عهده حجرات الرسول ﷺ إلى المسجد النبوي يسمى عبد الملك بن مروان .

س أحد أكبر المساجد في العالم ويعتبر أول القبليتين في الإسلام يسمى المسجد الأقصى .

س يتكون المسجد الأقصى من قبة الصخرة والمسجد الأقصى والمصلى المرواني .

س أكتب مدلول الصور التالية :



المسجد الأقصى



المسجد النبوي



المسجد الحرام

س أكمل الجدول التالي :

اسم المسجد	المدينة أو الدولة
المسجد الأموي	دمشق (سوريا)
جامع عمرو بن العاص	الفسطاط (مصر)
الجامع الأزهر	القاهرة (مصر)
جامع الزيتونة	تونس
جامع قرطبة	الأندلس (اسبانيا)
مسجد السلطان أحمد	اسطنبول (تركيا)
مسجد عمر بن الخطاب	دومة الجندل (المملكة العربية السعودية)

almanahj.com/kw

س أكتب مدلول الصور التالية :



مسجد السلطان أحمد
(الجامع الأزرق)



مسجد عمر بن الخطاب



المسجد الأموي

أكمل ما يلي:

س المسجد الإسلامي المشهور الذي يوجد في مدينة الفسطاط بالقاهرة يسمى عمرو بن العاص

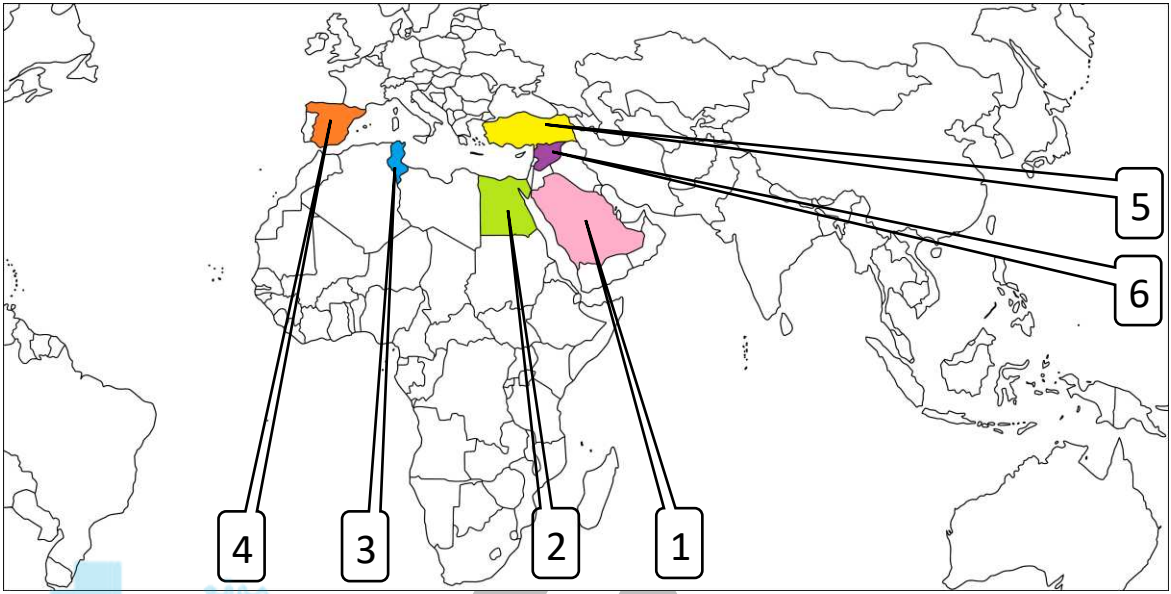
س المدينة التي يوجد بها مسجد عمرو بن العاص هي الفسطاط

س المدينة التي يوجد بها الجامع الأزهر هي القاهرة



تدرب و تفوق
اختبارات الكترونية

لاحظ خريطة العالم الإسلامي جيدا ثم نفذ المطلوب منك :



- س الدولة التي يوجد بها مسجد السلطان أحمد يمثلها على الخريطة رقم (5)
- س الرقم (4) على الخريطة يشير إلى منطقة بها مسجد قرطبة تسمى (الأندلس)
- س الرقم (1) على الخريطة يشير إلى دولة بها الحرمين الشريفين ومسجد دومة الجندل هي (السعودية)
- س الدولة التي يوجد بها الجامع الأزهر وجامع عمرو بن العاص تحمل على الخريطة رقم (2)
- س الدولة التي يوجد بها المسجد الأموي تحمل على الخريطة رقم (6)
- س الدولة التي يوجد بها مسجد الزيتونة تحمل على الخريطة رقم (3)

مظاهر الحياة الاجتماعية



س أكتب عن مظاهر الحياة الاجتماعية في الحضارة الإسلامية

- كانت حياة المسلمين بسيطة في مسكنهم وملبسهم
- التسامح والعدالة
- تنوع الفئات الاجتماعية مثل الحكام ورجال الدين
- الاحتفال بالأعياد كعيدي الفطر و الأضى
- سماع القصص والحكايات المحببة

س عدد - الفئات الاجتماعية في الحضارة الإسلامية :



- الحكام
- رجال الدين
- أهل الخدمة
- الخدم

عرف

أهل الخدمة

هم النصارى واليهود الذين ظلوا على دينهم مع دفع الجزية

س عدد - أبرز المظاهر الاجتماعية والدينية والإسلامية

- الاحتفال بالأعياد كعيدي الفطر و الأضى في كافة البلاد الإسلامية
- سماع القصص والحكايات التي كانت محببة للناس " مجالس القصص والوعاظ "

عرف

مجالس القصص والوعاظ

هي مجالس تحكى فيها القصص والحكايات المحببة للناس

س عدد - بعض القصص التي ورد ذكرها في القرآن الكريم

- قصة أهل الكهف
- قصة موسى مع أهله
- وقصة فرعون وغيرها



تدرب و تفوق

اختبارات الكترونية



س عدد - العوامل التي أدت إلى ازدهار الناحية العلمية عند المسلمين

ممكن أن يظهر السؤال في صيغة أخرى: علل - ازدهار الناحية العلمية عند المسلمين

- تشجيع العلماء وتمويل القيادات السياسية لهم
- التنافس العلمي بين الدول الإسلامية
- حركة التعريب (الترجمة)
- الرضاء الاقتصادي

أكمل ما يلي:

س حركة ترجمة الكتب القديمة اليونانية والفارسية والهندية للعربية تسمى **التعريب**

س الخليفة العباسي الذي شجع على العلم وحركة الترجمة يسمى **المأمون**



عرف

مراغة

مدينة تقع في محافظة أذربيجان شمال غرب إيران

أكمل ما يلي:

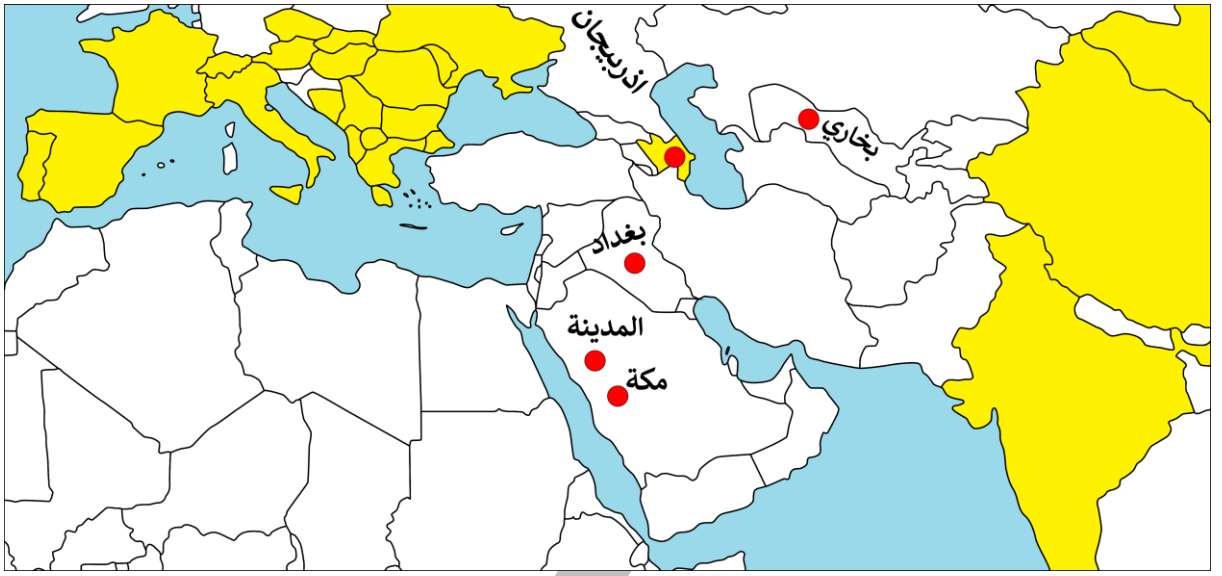
س المدينة التي يوجد بها بيت الحكمة أحد أهم المراكز العلمية في الحضارة الإسلامية هي **بغداد**

س الدولة التي يوجد بها المرصد الفلكي هي **أذربيجان**

س الدولة التي يوجد بها مجمع باي كليان أحد أهم المراكز العلمية في الحضارة الإسلامية هي **أوزباكستان**

س المدينة التي يوجد بها مجمع باي كليان تسمى **بخارى**

س المدينة التي يوجد بها المرصد الفلكي تسمى **مراغة**



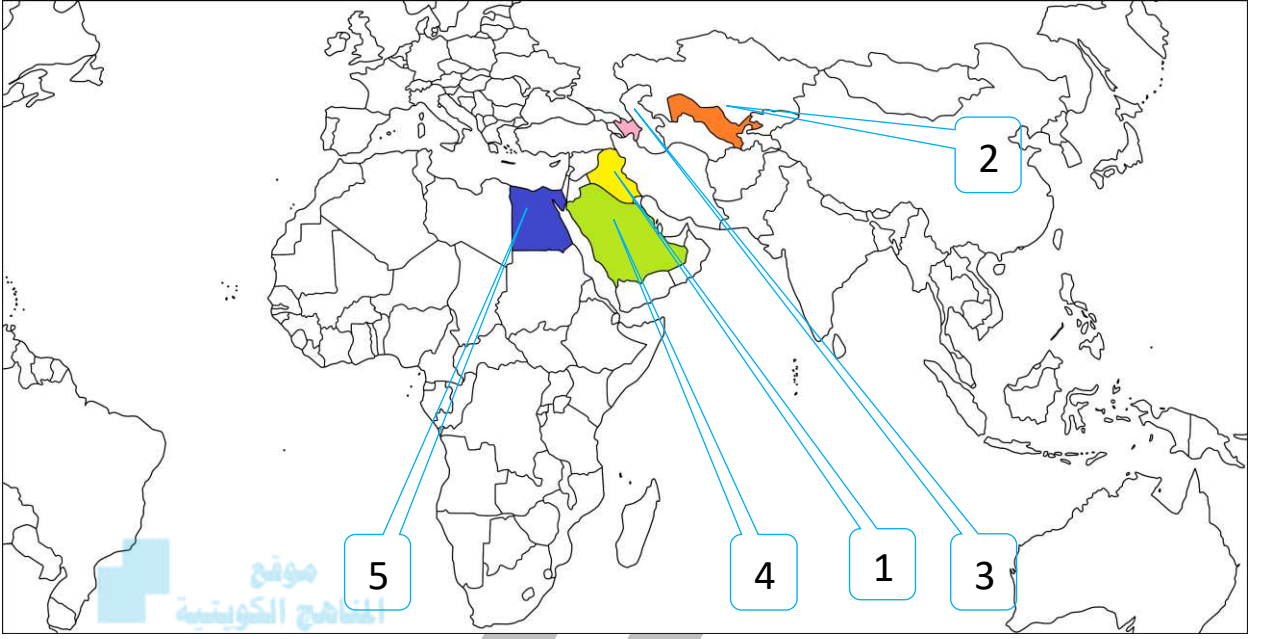
اختر الإجابة الصحيحة :

س يعتبر مجمع باي كليان أحد المراكز العلمية للحضارة الإسلامية ويقع في مدينة **بخارى** ○ دمشق ○ بغداد ○ المدينة المنورة ○

س يعتبر المرصد الفلكي أحد المراكز العلمية للحضارة الإسلامية ويقع في مدينة **مراغة** ○ بخارى ○ مكة المكرمة ○ المدينة المنورة ○

U U L A

لاحظ خريطة العالم الإسلامي جيداً ثم نفذ المطلوب منك:




س الدولة التي يوجد بها المسجد الحرام والمسجد النبوي رقم (4)

س الدولة التي يوجد بها بيت الحكمة يمثلها على الخريطة رقم (1)

س الدولة التي يوجد بها المرصد الفلكي يمثلها على الخريطة رقم (3)

س الدولة التي يوجد بها مجمع باي كليان يمثلها على الخريطة رقم (2)

س عدد - العلماء الذين ساهموا في نهضة الحضارة الإسلامية



■ الجاحظ



■ الخوارزمي



■ الحسن بن الهيثم



■ البكري



■ أبو بكر الرازي

أكمل ما يلي:



س العالم المسلم الذي يرجع إليه الفضل في تطوير فكرة الكاميرا يسمى **الحسن بن الهيثم**

س العالم المسلم صاحب كتاب الجبر والمقابلة يسمى **الخوارزمي**

س العالم المسلم صاحب كتاب الحيوان يسمى **الجاحظ**

س عدد الكتب التي ألفها الجاحظ تقدر بحوالي **350 كتاب**

س العالم المسلم صاحب كتاب " الحاوي في الطب " يسمى **أبو بكر الرازي**



تدرب و تفوق
اختبارات الكترونية

U U L A



المظاهر العمرانية ومراكز اشعاع الحضارة الإسلامية مراكز اشعاع الحضارة الإسلامية ودورها في النهضة الأوروبية الحديثة

س مراكز اشعاع الحضارة الإسلامية إلى أوروبا

بلاد الشام

جزرية صقلية

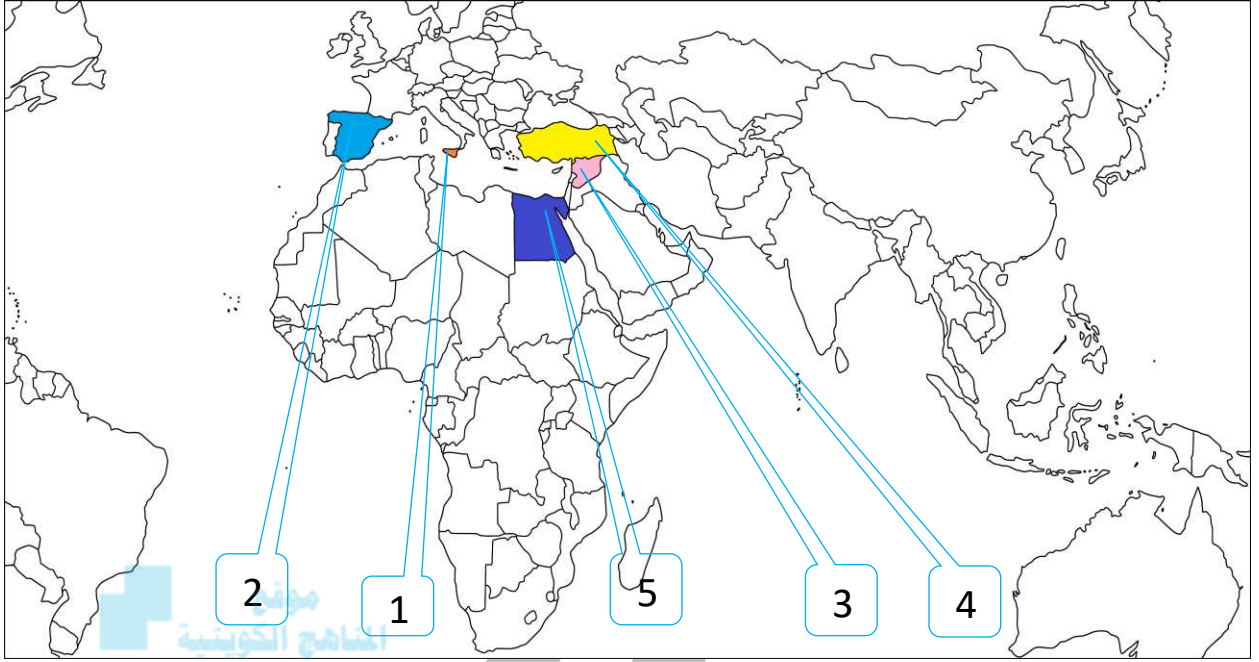
بلاد الأندلس



س اختر من المجموعة (أ) ما يناسبها من المجموعة (ب) بوضع الرقم المناسب

الرقم	(أ) مراكز اشعاع الحضارة الإسلامية إلى أوروبا	الرقم المناسب	(ب) الدولة الحالية التي تمثلها
1	بلاد الأندلس	3	سوريا - لبنان - الأردن - فلسطين
2	صقلية	-	طنجة
3	بلاد الشام	2	إيطاليا
		1	أسبانيا والبرتغال

لاحظ خريطة العالم الإسلامي جيداً ثم نفذ المطلوب منك



almanahj.com/kw

(_ 2 _)

س بلاد الأندلس يمثلها على الخريطة رقم

(_ 3 _)

س بلاد الشام يمثلها على الخريطة رقم

(_ 1 _)

س صقلية يمثلها على الخريطة رقم

س علل - أثرت الحضارة الإسلامية في الحضارة العالمية

- تواصلها وتفاعلها مع الحضارات المجاورة
- حركة الترجمة والعلاقات التجارية نقلت الحضارة الإسلامية لأوروبا
- تدين أوروبا بالفضل الكبير للحضارة الإسلامية

س علل - تدين أوروبا بالفضل الكبير للحضارة الإسلامية

لأنها كانت السبب في النهضة الصناعية والعلمية والأوروبية الحديثة

س عدد - المجالات العلمية التي استفادت منها أوروبا من الحضارة الإسلامية

- مجال الفلسفة
- مجال الجغرافيا
- مجال استخراج المياه الجوفية

أكمل:

س العالم المسلم الذي استفادت أوروبا من مؤلفاته في مجال الفلسفة يسمى
الكندي

س العالم الإنجليزي الذي تأثر بكتاب الكندي في الهندسة في القرن السابع الهجري
يسمى روجر بيكون

س أهم مؤلفات العالم الفيلسوف الكندي كتابه في الهندسة

س فسر- تسمية العالم الفيلسوف الكندي بهذا الاسم

نسبة إلى قبيلة كندة اليمنية

س دلل - "تأثر الحضارة الأوروبية والعالمية بالحضارة الإسلامية في مجال الفلسفة "
تأثير الفيلسوف المسلم (الكندي) في العالم الإنجليزي روجر بيكون في القرن
السابع الهجري

المنهج الحديث
almanahj.com/kw



تدرب و تفوق
اختبارات الكترونية



أكمل ما يلي:

س العالم المسلم الذي استفادت أوروبا من مؤلفاته في مجال الجغرافيا
يسمى الإدريسي

س العالم المسلم الذي ترجم الأوروبيون كتابه " نزهة المشتاق في اخترا الآفاق "
يسمى الإدريسي

س العالم المسلم الذي تأثر الأوروبيين بكتابه عن كروية الأرض هو الإدريسي

س أكتب عن آراء الأوروبيين عن كروية الأرض قبل ترجمة مؤلفات الإدريسي

- الأرض مسطحة
- لو أبحر مركب في المحيط الأطلسي نحو الغرب لسقط عند حافة الأرض

س دل - تأثر الحضارة الأوروبية والعالمية بالحضارة الإسلامية في مجال الجغرافيا

- ترجمة كتاب نزهة المشتاق في اختراق الآفاق
- تأثر الأوروبيين بكلام الإدريسي عن كروية الأرض
- غامر بعضهم وركب المحيط واتجه نحو الغرب
- اكتشف أن الأرض كروية
- اكتشف الأمريكتين

أكمل:

س الخريطة المقابلة تسمى خريطة **الإدريسي**



س النظرية التي أثبتتها الخريطة المقابلة تسمى **كروية الأرض**

س دل - تأثر الحضارة الأوروبية والعالمية بالحضارة الإسلامية في مجال استخراج المياه الجوفية

- الاستفادة من شبكة موارد المياه الجوفية التي أقامها المسلمون
- الاستفادة من براعة المسلمين في شق القنوات ومد المجاري الجوفية
- صناعة هذه القنوات من الخرف أو الفخار المتماسك
- وضع الرصاص في جوانب أنابيب المياه لحفظها من كل دنس

أكمل ما يلي:

س المدينة التي استفاد منها الأوروبيون من شبكة موارد المياه الجوفية للمسلمين تسمى **مجريط**

س مدينة مدريد الحالية عاصمة إسبانيا تعرف قديماً باسم **مجريط**

س الطائر الذي استغله المسلمون في نقل البريد الجوي اسمه **الحمائم الزاجل**

س دل- استفاد الأوروبيون من طريقة المسلمون في نقل الرسائل جواً



- عن طريق الحمام الزاجل حيث تحمل الحمامة رسالة موجزة ومستعجلة .
- كان يقام لها أبراج خاصة في جميع أنحاء الدولة .
- وتنقل الحمامة الرسالة من مركز إلى مركز حتى يصل البريد .



تدرب و تفوق
اختبارات الكترونية

قائمة المفاهيم والمصطلحات - الوحدة الأولى

الحضارة

هي كل ما يطرأ على المجتمع من تقدم وتطور في الجانب المادي أو الروحي

الحضارة الإسلامية

النهضة العلمية والفكرية والأدبية التي انعكست على العالم أجمع و زودته بكافة المجالات و العلوم

الجزية

ما يدفعه أهل الذمة (اليهود والنصارى) من القادرين على حمل السلاح نظير حماية الدولة لهم

موقع
المناهج الكويتية
almanahj.com/kw

الزكاة

هي ركن من أركان الإسلام يخرجها المسلمون الأغنياء المستحقين من الفقراء , وتجب الزكاة في الأموال النقدية بواقع 2.5 % كما تجب على الثروات الأخرى

الخراج

كل ما يفرض على الأراضي الزراعية

الوقف الإسلامي

عبارة عن صدقة جارية يوقفها المرء في حياته لوجه الخير والبر

الأرابيسك

صناعة خشبية ذات طابع مميز برع فيها العرب

الفسيفساء

مجموعة من مكعبات الزجاج الملون والشفاف وقطع من الحجر الأبيض والأسود وكذلك القطع الخزفية

أهل الذمة

وهم النصارى واليهود الذين ظلوا على دينهم مع دفع الجزية



س عدد - أنواع البيئة الطبيعية لدول العالم الإسلامي



أكمل ما يلي:



س مساحة العالم الإسلامي من إجمالي مساحة العالم يقدر بنحو **32 مليون كم²**

س نسبة مساحة العالم الإسلامي من جملة مساحة العالم تقدر بحوالي **22.2%**

س يقع العالم الإسلامي بين خطي طول **18 غرباً إلى 141 شرقاً**

س يقع العالم الإسلامي بين دائرتي عرض **13 جنوباً إلى 55 شمالاً**

س عدد القارات التي يمتد بها العالم الإسلامي **4 قارات**

س آسيا وأفريقيا وأوروبا تسمى بالقارات **القديمة**

س العالم الإسلامي يمتد في القارات القديمة وقارة أخرى تسمى **أمريكا الجنوبية**

س أكبر عدد للدول الإسلامية في قارة تسمى **آسيا**

س عدد الدول الإسلامية في قارة آسيا **27 دولة**

س عدد الدول الإسلامية في قارة أفريقيا **26 دولة**

س قارة أوروبا تضم دولتين إسلاميتين هما **ألبانيا** و**البوسنة والهرسك**

س القارة التي تضم دولتين من دول العالم الإسلامي تسمى **أوروبا**

س الدولة الإسلامية الوحيدة التي تقع في قارة أمريكا الجنوبية تسمى **سورينام**

اختياري:

س أكبر الدول الإسلامية من حيث المساحة هي

- كازاخستان ○ الجزائر ○ سورينام ○ السعودية

س أصغر دول العالم الإسلامي من حيث المساحة هي

- جمهورية المالديف ○ البحرين ○ جيبوتي ○ ماليزيا



جمهورية المالديف



تدرب و تفوق
اختبارات الكترونية

U U L A



عرف:

التضاريس

هي أشكال سطح الأرض

س الأشكال التضاريسية في العالم الإسلامي

التلال السهول الهضاب الجبال

س أكمل : العلاقة بين تنوع التضاريس واتساع مساحة الأرض علاقة **طردية**

المناهج الكويتية
almanahj.com/kw

س علل - تنوع التضاريس في دول العالم الإسلامي

- اتساع رقعة العالم الإسلامي حيث يبلغ مساحته 32 مليون كم2
- امتداد العالم الإسلامي في أربع قارات من أصل سبعة قارات

عرف ما يلي

س (**السهول**) أجزاء فسيحة من الأرض تتميز باستوائها وقلة ارتفاعها

س (**الهضبة**) أرض مرتفعة سطحها مستو وتمتد لمساحة واسعة

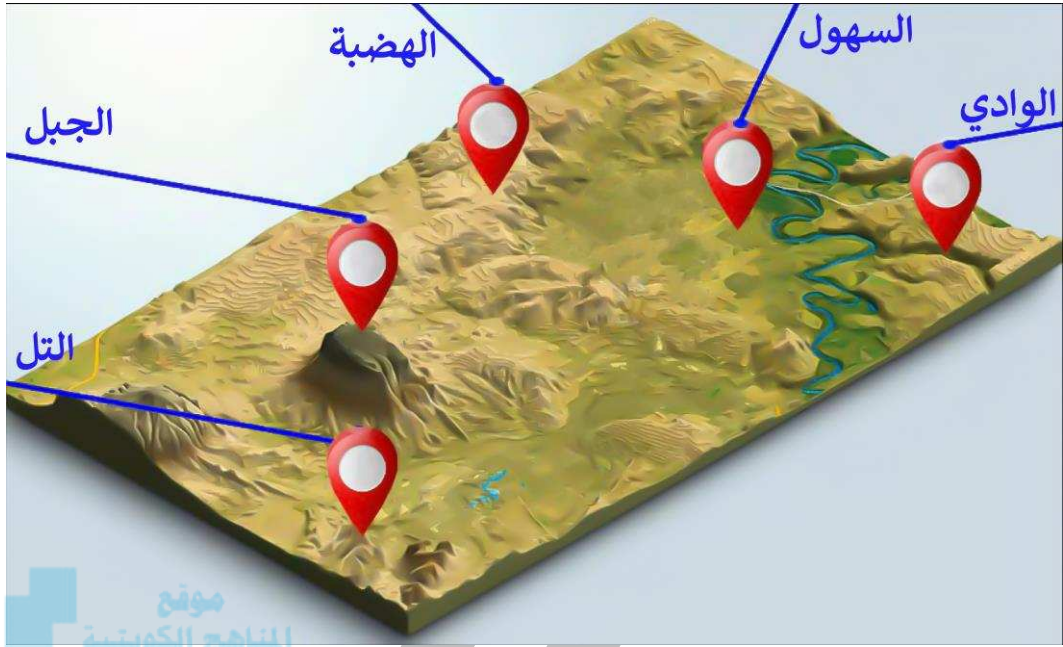
س (**الوادي**) حوض أو منخفض طبيعي على سطح الأرض

س فرق بين كلاً من

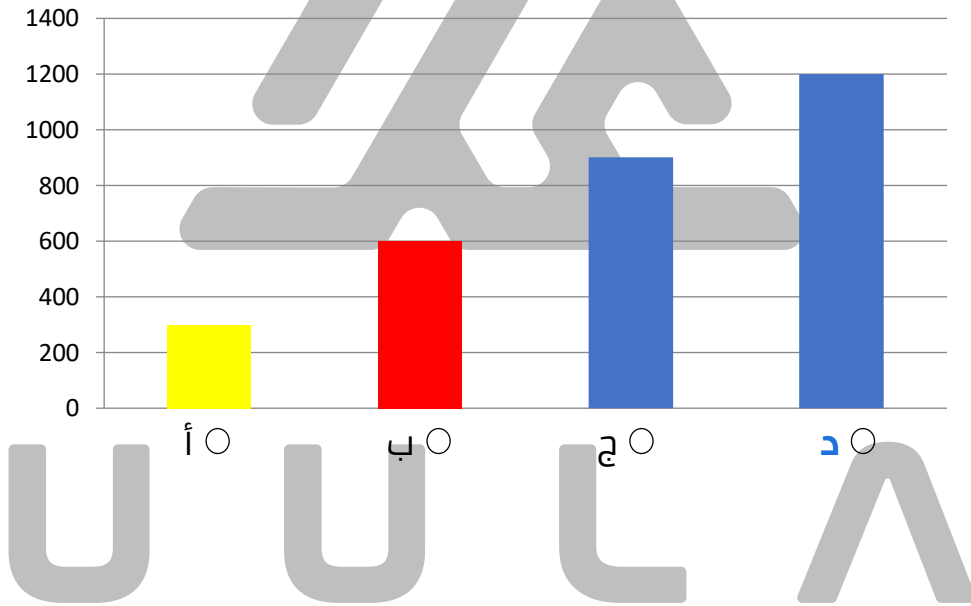
يمكن أن يظهر السؤال في صيغة أخرى: عرف

التل	الجبل
يشبه الجبل ولكن ارتفاعه أقل من 1000 م	كل قمة لا يقل ارتفاعها عن 1000م تقريباً

س لاحظ الشكل المقابل ثم أكتب الظواهر التضاريسية



س اختياري: الجبل يمثل في الرسم البياني المقابل الحرف د





تأثير البيئة الطبيعية على الاقتصاد والمجتمع

س علل - تنوع الموارد الطبيعية في العالم الإسلامي بسبب اتساع مساحة العالم الإسلامي وتنوع تضاريسه ومناخه

س عدد - الثروات الطبيعية في دول العالم الإسلامي

- ثروات الطاقة والمعادن
- الثروة الزراعية
- الثروة السمكية



س عدد- ثروات الطاقة والمعادن في العالم الإسلامي

- النفط والغاز الطبيعي
- الثروات المعدنية

أكمل ما يلي :

س نسبة إنتاج العالم الإسلامي من النفط الخام من إجمالي الإنتاج العالمي يقدر بنحو **41.5%**



س نسبة احتياطي العالم الإسلامي من النفط الخام من إجمالي الاحتياطي العالمي يقدر بنحو **58.5%**



س نسبة إنتاج العالم الإسلامي من الغاز الطبيعي من إجمالي الإنتاج العالمي يقدر بنحو **36%**

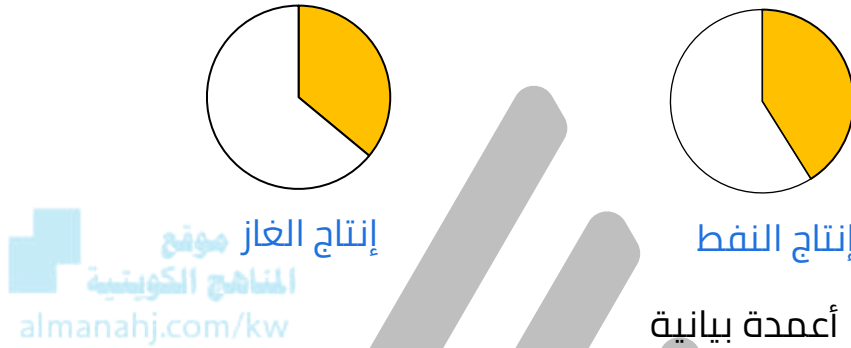
س فرق بين كلا من

إنتاج النفط	احتياطي النفط
كميات النفط المستخرجة من باطن الأرض	كميات النفط المخزونة في باطن الأرض

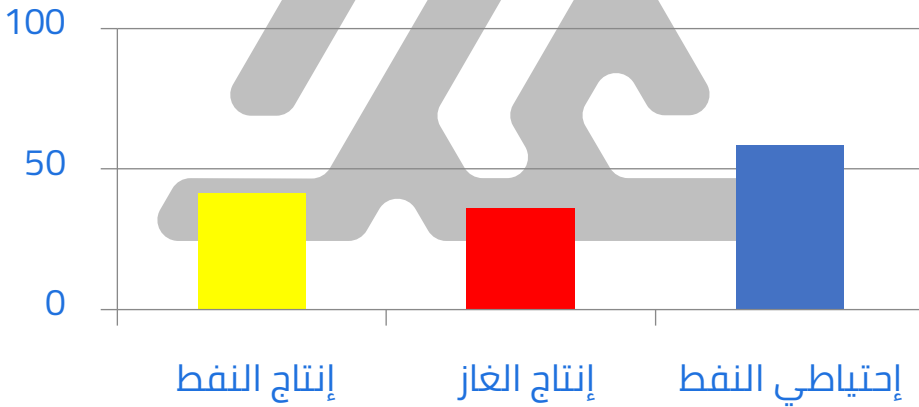
ادرس الجدول المقابل ثم أجب عما يليها من أسئلة

ثروات الطاقة والمعادن في العالم الإسلامي		
احتياطي النفط	إنتاج الغاز	إنتاج النفط الخام
58.5 %	36 %	41.5 %

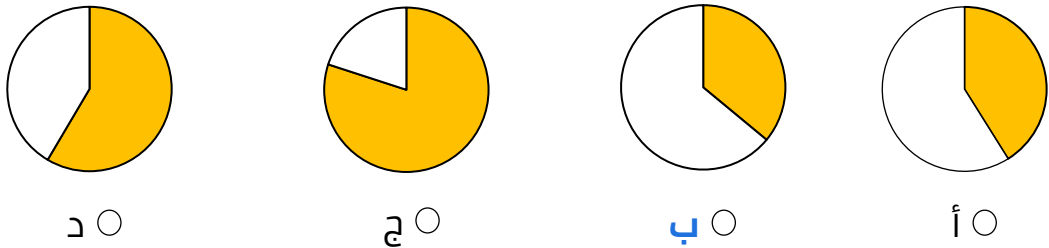
س حول نسبة إنتاج النفط والغاز الطبيعي لدوائر بيانية



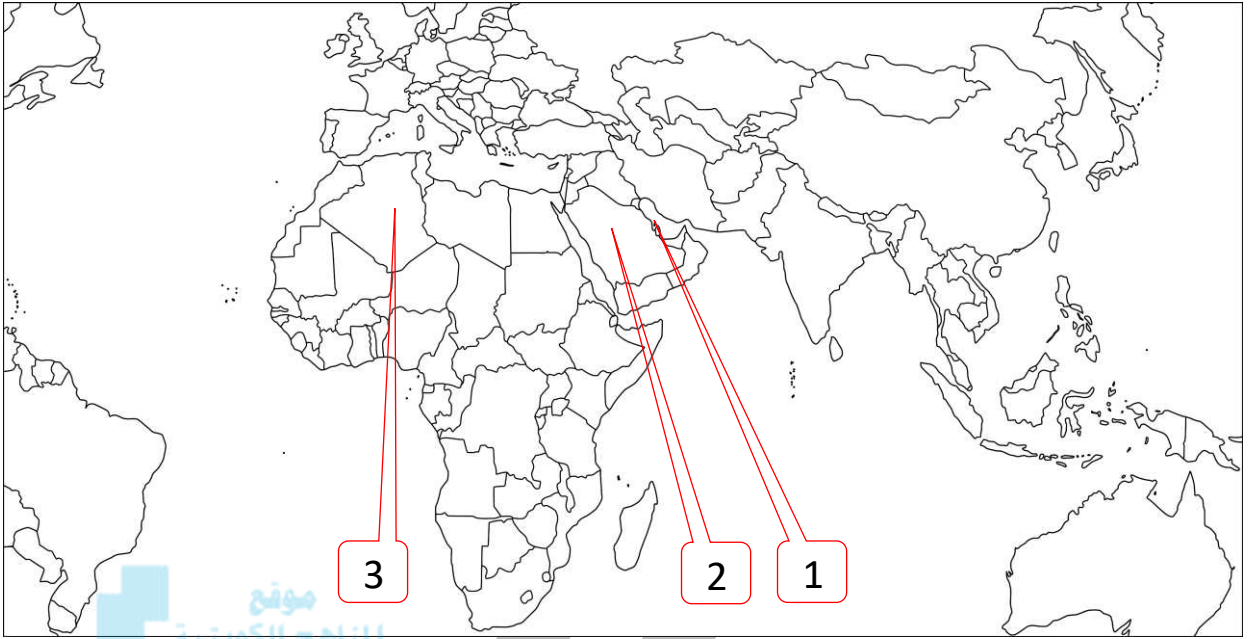
س حول الجدول إلى أعمدة بيانية



س اختياري: نسبة إنتاج الغاز يمثلها الجزء المظلل في الدائرة البيانية التي تحمل الحرف بـ



لاحظ الخريطة التالية ثم نفذ المطلوب منك :



- س** أولى دول العالم الإسلامي في إنتاج النفط تحمل الرقم (_ _)
- س** أولى دول العالم الإسلامي في إحتياطي النفط تحمل الرقم (_ _ _)
- س** أولى دول العالم الإسلامي في إنتاج الغاز الطبيعي تحمل الرقم (_ _ _)
- س** أكبر حقل غاز طبيعي في العالم الإسلامي يحمل الرقم (_ _ _)



تدرب و تفوق
اختبارات الكترونية



س أهم المعادن في العالم الإسلامي



الفضة	
النسبة	الدولة
3.6 %	كازاخستان
3.6 %	إندونيسيا
0.7 %	تركيا
0.7 %	المغرب
0.2 %	أوزباكستان

الذهب	
النسبة	الدولة
3.4 %	اوزباكستان
2.4 %	السودان
2.3 %	إندونيسيا
1.7 %	كازاخستان
1.5 %	مالي

اليورانيوم	
النسبة	الدولة
41 %	كازاخستان
4.3 %	أوزباكستان
7.2 %	النيجر
0.1 %	باكستان

عرف:

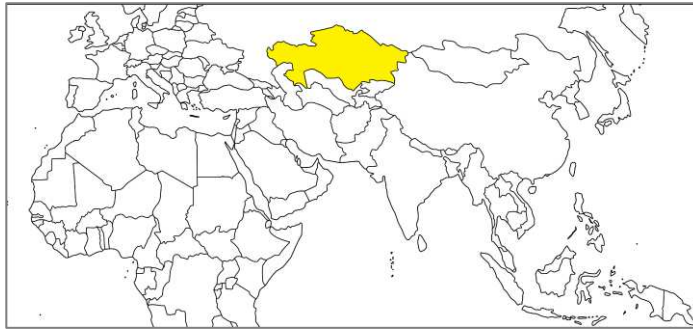
اليورانيوم

معدن خام يستخدم في محطات الطاقة النووية

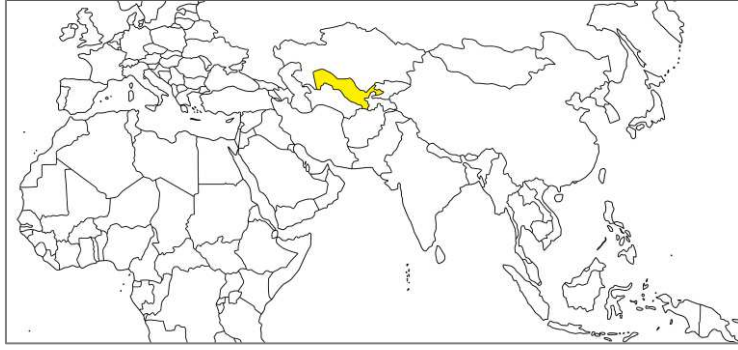
لاحظ الجداول ثم أجب على الأسئلة التالية :

كازاخستان

س الدولة الإسلامية الأولى إنتاجاً لمعدن اليورانيوم هي



س أولى دول العالم الإسلامي إنتاجاً للذهب هي أوزباكستان



تدرب و تفوق
اختبارات الكترونية

موقع
المناهج الكويتية
almanahj.com/kw



U U L A

الثروة الزراعية والسمكية



س علل - أهمية الثروة الزراعية بالنسبة لسكان العالم الإسلامي

- المصدر الرئيسي لإنتاج الغذاء
- يعمل بها 70 % من سكان العالم الإسلامي
- تمثل الدخل الرئيسي للدولة
- تعتبر مادة خام لكثير من الصناعات

أكمل ما يلي :

س نسبة سكان العالم الإسلامي الذي يعملون في الزراعة 70 %



س الثروة التي تعتبر هي المصدر الرئيسي لإنتاج الغذاء تسمى الثروة الزراعية

س عدد - العوامل التي ساعدت على زيادة الإنتاج الزراعي في دول العالم الإسلامي

- التربة الخصبة
- المناخ
- كثرة السكان والأيدي العاملة
- سقوط الأمطار
- وجود البحيرات والأنهار والآبار

س عدد- أهم المحاصيل الزراعية في العالم الإسلامي

▪ الحبوب

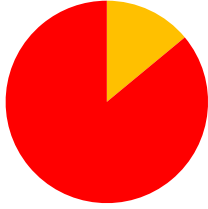


▪ الغلات النقدية



أكمل ما يلي :

يمكن أن يظهر السؤال في صيغة اخرى: **عرف**



س نسبة إنتاج العالم الإسلامي من الحبوب من جملة الإنتاج العالمي يقدر بنحو **14%**

س المحاصيل التي تزرع من أجل التصدير تعرف باسم **الغلات النقدية**

س نوع من انواع المحاصيل النقدية يدخل في صناعة الحبال والأحذية والملابس يسمى **الجوت**

عرف:

الجوت

هو نبات ينمو في المناطق الاستوائية والموسمية ويصنع منه الحبال والأحذية والحقائب والأقمشة الخشنة

س علل - أهمية محصول الجوت

لأنه يدخل في العديد من الصناعات مثل صناعة الحبال والأحذية والحقائب والأقمشة الخشنة

س فرق بين كلا من

الغلات النقدية	الحبوب
القطن - الجوت - المطاط الطبيعي	الذرة - القمح - الأرز

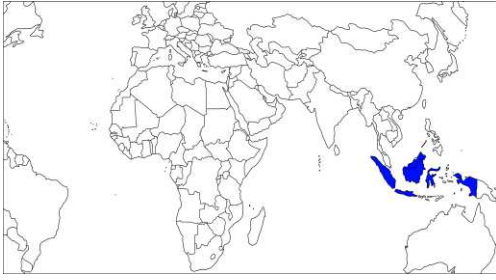
س ما النتائج المترتبة إنتاج العالم الإسلامي من الحبوب 14 % من الإنتاج العالمي

- لا يمتلك غذائه
- ليس لديه اكتفاء ذاتي

س عدد - مصادر إنتاج الأسماك في دول العالم الإسلامي

- مصادر طبيعية مثل (المحيطات والبحار والمياه العذبة)
- مصادر غير طبيعية مثل (الاستزراع السمكي)

أكمل :



س الدولة الإسلامية التي تحتل المركز الثاني على مستوى العالم في الإنتاج البحري لعام 2014 م هي - إندونيسيا -

س أحد المصادر الغير طبيعية لإنتاج الأسماك يسمى - الاستزراع السمكي -



تدرب و تفوق

اختبارات الكترونية

قائمة المفاهيم والمصطلحات - الوحدة الثانية :

المناهج الكويتية
almanahj.com/kw

إقليم مناخي

هو مساحة الأرض تتصف بعناصر مناخية متشابهة

هضبة

أرض مرتفعة سطحها مستوي , وتمتد لمساحة كبيرة

جبل

هو كل مرتفع له قمة لا يقل ارتفاعه عن 1000 متر تقريباً وإذا قل ارتفاعه يصبح تل

سهول

أجزاء فسيحة من الأرض تتميز باستوائها وقلّة ارتفاعها

وادي

حوض أو منخفض طبيعي على سطح الأرض

التل

يشبه الجبل , ولكن ارتفاعه أقل من 1000 متر

مناخ

عبارة عن الأحوال الجوية وتغيراتها خلال فترة زمنية طويلة لا تقل في العادة عن 30 سنة

التضاريس

هي عبارة عن أشكال سطح الأرض

يورانيوم

معدن خام يستخدم في محطات الطاقة النووية

احيائي النفط



هي كمية النفط المخزونة في باطن الأرض ولم تستخرج بعد

الجوت

نبات ينمو في المناطق الاستوائية والموسمية , تؤخذ أغصانه وتوضع تحت الماء وتطمر الطين بعد أيام تستخرج , وتغزل , ويصنع منها الحبال والأحذية والحقائب والأقمشة الخشبية .

