

تم تحميل هذا الملف من موقع المناهج الكويتية



الملف نموذج إجابة التعليم الخاص

[موقع المناهج](#) ← [المناهج الكويتية](#) ← [الصف السابع](#) ← [اجتماعيات](#) ← [الفصل الأول](#)

روابط مواقع التواصل الاجتماعي بحسب الصف السابع



روابط مواد الصف السابع على تلغرام

[الرياضيات](#)

[اللغة الانجليزية](#)

[اللغة العربية](#)

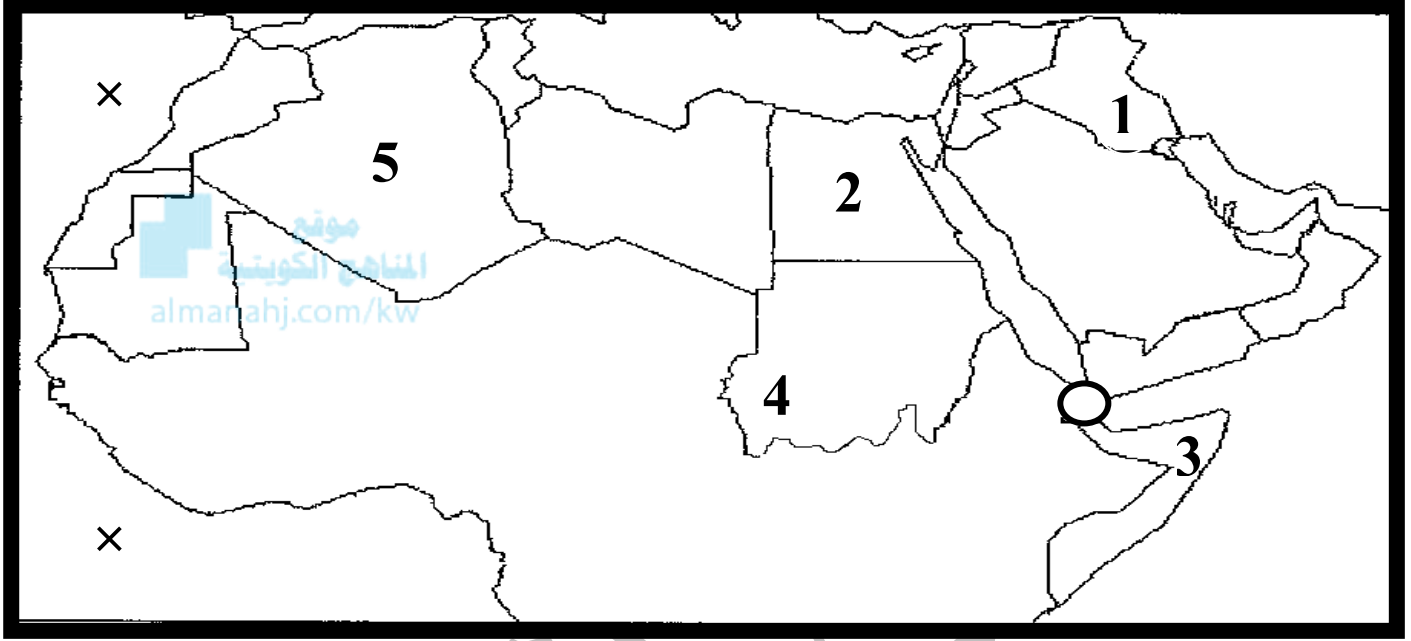
[التربية الاسلامية](#)

المزيد من الملفات بحسب الصف السابع والمادة اجتماعيات في الفصل الأول

<a href="#">كتاب الطالب في مادة الاجتماعيات للعام الدراسي 2018</a>	1
<a href="#">حل الوحدة الاولى في مادة الاجتماعيات</a>	2
<a href="#">تلخيص رائع في مادة الاجتماعيات</a>	3
<a href="#">حل الوحدة الثانية في مادة الاجتماعيات</a>	4
<a href="#">تلخيص ممتاز في مادة الاجتماعيات</a>	5

السؤال الأول يتكون من ( أ ، ب ، ج ) :-

( أ ) : بعد دراسة خريطة الوطن العربي الصماء نفذ عليها ما يلي :- ( 5×5 = 5 ) درجات



1- عين على الخريطة باستخدام الرموز التالية ما يلي :-

\* المحيط الأطلسي × ص 23

\* مضيق باب المندب ○ ص 28

2- اكتب الرقم الدال على كل مما يلي :-

\* الدولة العربية التي يمر بها خط جرينتش على الخريطة يمثلها الرقم ..... 5 ..... ص 31

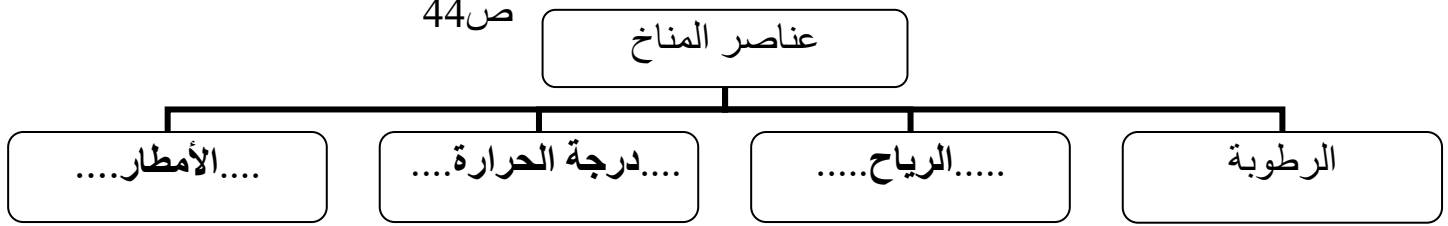
\* جبل مرة يمثل على الخريطة الرقم ..... 4 ..... ص 38

\* سهول نهر دجلة والفرات على الخريطة يمثلها الرقم ..... 1 ..... ص 42

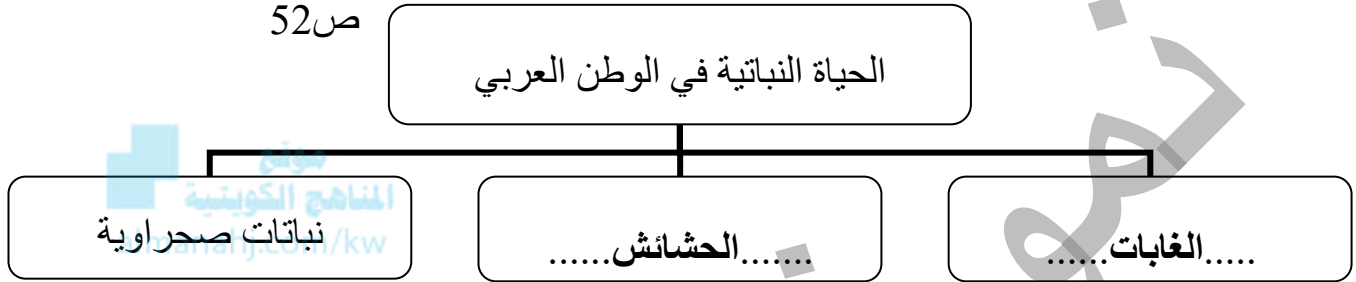
يتبع الصفحة التالية  
←

(ب) املأ الفراغ في المخططات السهمية التالية :- (  $5 \times 1 = 5$  ) درجات

ص44



ص52



(ج) أكمل العبارات التالية بما يناسبها مما درست :- (  $5 \times 1 = 5$  ) درجات

- 1- الدولة العربية التي تقع خارج نطاق الوطن العربي تسمى .....جزر القمر..... ص23
- 2- الدول العربية تتوزع بين قارتي آسيا و ...أفريقيا... ص21
- 3- الديانة المسيحية نزلت على سيدنا عيسى بن مريم عليه السلام وكتابتها .....الإنجيل..... ص90
- 4- حشائش الاستبس في بلاد المغرب يطلق عليها اسم .....الحلفا..... ص52
- 5- الجربوع والضب من أهم الحيوانات السائدة بالوطن العربي في المنطقة .....الصحراوية..... ص55

السؤال الثاني يتكون من ( أ ، ب ، ج ) :-

( أ ) : اختر الإكمال المناسب من بين الخيارات التي تلي كل عبارة مما يلي وضع تحتها خط :-

( 5 = 5 × 1 ) درجات

- 1- الدولة العربية التي يمر بها خط الاستواء : ص 31  
( المغرب - العراق - الصومال - السودان )
- 2- دولتين عربيتين يقع فيها جبلين اسمهما الجبل الأخضر هما سلطنة عمان و : ص 38  
( ليبيا - تونس - المغرب - الجزائر )
- 3- الأشكال التضاريسية الأكثر انتشارا في الوطن العربي هي : ص 40  
( الجبال - التلال - السهول - الهضاب )
- 4- مركز إشعاع انتقلت منه الحضارة العربية الإسلامية الى أوروبا : ص 92  
( بلاد الرافدين - بلاد الأندلس - بلاد الهند - بلاد فارس )
- 5- عدد حروف الكتابة المسمارية : ص 83  
( 400 حرف - 500 حرف - 600 حرف - 700 حرف )

( ب ) اكتب مدلول المفاهيم التالية مستعيناً بما بين القوسين :- ( 5 = 5 × 1 ) درجات

- ( مضيق - الأفلاج - الموقع الفلكي - القناة - السهول - الموقع النسبي - الوديان - النباتات الطبيعي )
- 1- القناة : هي مجرى مائي صناعي ضيق يشق لأغراض الري أو النقل . ص 28
  - 2- الموقع النسبي : موقع الدولة بالنسبة لليابس و الماء . ص 33
  - 3- النباتات الطبيعي : النباتات الذي ينمو تلقائياً عقب سقوط المطر دون يتدخل من الإنسان . ص 51
  - 4- الأفلاج : الماء الجاري وهو مجرى صغير مائي في الأرض . ص 60
  - 5- السهول : مساحة كبيرة من سطح الأرض تتميز باستوائها وقلة ارتفاعها . ص 42

( ج ) صنف ما يلي كلا حسب موقعه في الجدول التالي :- ( 5 = 5 × 1 ) درجات

( السموم - القبلي - السيروكو و السيلانو - الخماسين - الهبوب ) ص 48

الدولة	مصر	السودان	ليبيا	السعودية	الجزائر
الرياح	الخماسين	الهبوب	القبلي	السموم	السيروكو و السيلانو

يتبع الصفحة التالية

**السؤال الثالث :- يتكون من ( أ ، ب ، ج ) :-**

**( أ ) اكتب فيما يلي مما درست :- ( 5 = 5 × 1 ) درجات**

1- أساليب مقاومة النباتات الصحراوية في الوطن العربي للجفاف . ص 52

**\*\* جذورها طويلة .**

**\*\* تحمي نفسها بلحاء سميك وأوراق إبرية .**

**\*\* القدرة علي خزن المياه . ( يكتفى بنقطتين )**

2- المقومات الأساسية التي لا بد من توفرها لقيام الحضارات . ص 73

**\*\*الموقع الإستراتيجي .**

**\*\* توافر الثروات الطبيعية ( يكتفى بثلاث نقاط )**

**\*\* توافر مصادر المياه العذبة .**

**\*\* توافر العنصر البشري .**

**\*\*اعتدال المناخ .**

**( ب ) بعد قراءة نشرة الأرصاد الجوية التالية أجب عما يليها من الأسئلة :- ( 5 = 5 × 1 ) درجات**

" **الطقس** ليوم غد غائم نسبياً ، حيث تتكاثف الغيوم ، وتسقط الأمطار على أنحاء البلاد مع انخفاض ملحوظ في درجات الحرارة ، الرياح جنوبية غربية غربية نشطة السرعة ، والبحر عالي الموج ، درجات الحرارة العظمى المتوقعة ليوم غدا ( 28 ° ) والصغرى ( 18 ° ) درجة . "

1- عرف ما تحته خط ؟ ص 44

**\*\* حالة الجو في مكان ما لمدة قصيرة تتراوح بين يوم أو عدة أيام من حيث الحرارة والرطوبة والامطار والرياح والضغط الجوي .**

2- اذكر اثنين من العوامل التي تؤثر في مناخ الوطن العربي ؟ ص 46

**\*\* الموقع بالنسبة لدوائر العرض .**

**\*\* التضاريس .**

**\*\* القرب أو البعد عن المسطحات المائية .**

**\*\* الرياح . ( يكتفى بنقطتين )**

3- علل تنوع النبات الطبيعي في الوطن العربي ؟ ص 51

**\*\* لاختلاف درجات الحرارة .**

**\*\* المناخ**

**\*\* لاختلاف كمية الأمطار ومواسمها .**

**\*\* نوع التربة ( يكتفى بنقطتين )**

**( ج ) عرف المفاهيم والمصطلحات التالية :- ( 5 = 5 × 1 ) درجات**

1- الجبل : هو كل ما ارتفع من الأرض وله قمة لا يقل ارتفاعها عن 1000 متر . ص 38

2- البحيرة : مسطح مائي تحيط به اليابسة من جميع الاتجاهات . ص 60

3- الحضارة : كل ما يطرأ علي المجتمع من تقدم و تطور و رقي في جميع نواحي الحياة الدينية

والسياسية و الاقتصادية و الاجتماعية و الفكرية . ص 71

4- الوطن العربي : مجموعة الدول العربية التي يجمعها عدد من السمات المشتركة (الدين واللغة )

ويمتد ضمن قارتين من أكبر قارات العالم مساحة . ص 22

5- أوال : اسم أطلق على البحرين قديماً نسبة إلى صنم اسمه أوال كانت تعبده قبيلة وائل التي حكمت

البحرين آنذاك . ص 89

السؤال الرابع يتكون من ( أ ، ب ، ج ) :-

( أ ) ما النتائج المترتبة على كل من :- ( 1 × 5 = 5 ) درجات

- 1- أهمية موقع الوطن العربي الاستراتيجي . ص35 (درجة)  
\*\* تنافس الدول الاستعمارية في الاستيلاء على الوطن العربي منذ القرن 18 وتقسيمه إلى عدة دول.
- 2- تعامد الشمس على المنطقة الواقعة بين خط الاستواء ومدار السرطان في فصل الصيف . ص 49  
\*\* ارتفاع درجة الحرارة أكثر في وسط الوطن العربي ( الصحراء ) . (درجتان)  
\*\* تعادل الحرارة على سواحل البحر المتوسط وشمال الوطن العربي .
- 3- اعتقاد المصريون بفكرة البعث والخلود في الحضارة المصرية القديمة .  
\*\* حرصوا على تحنيط جثث موتاهم .  
\*\* اهتموا ببناء القبور وإقامة المعابد الفخمة للآلهة . ص 76 (درجة)
- 4- موقع حضارة دلمون وسط الخليج العربي .  
\*\* أصبحت مركزا مهما للمواصلات والتجارة البحرية بين البلدان المطلة علي الخليج العربي والحضارات المجاورة لها . ص88 (درجة)

( ب ) علل لما يلي :- ( 1 × 5 = 5 ) درجات

- 1- اشتهر سكان جنوب غرب شبه الجزيرة العربية بالمشاريع الزراعية .  
\*\* لتنظيمهم عملية الري عن طريق بناء السدود والخزانات . ص86 (درجة)
- 2- كان أهل اليمن أسياد التجارة العربية .  
\*\* حيث سيطروا على الطرق التجارية وامتدت تجارتهم بين شمال شبه الجزيرة العربية وجنوبها وتبادل تجاري مع الحضارات المجاورة لها . ص 87 (درجة)
- 3- كان للعوامل الطبيعية دور مهم في قيام الحضارة المصرية القديمة وتطورها و حمايتها من الغزوات .  
\*\* لسهولة الدفاع عنها .  
\*\* استقرار سكانها وممارستهم لأنشطة مختلفة . ص74 (درجة)
- 4- ازدهار الزراعة في بلاد الرافدين .  
\*\* خصوبة تربتها . ص 81 ( يكتفى بنقطتين ) (درجتان)  
\*\* وفرة مياهها .  
\*\* سعة سهولها .

يتبع الصفحة التالية

(ج) شاهد الصورة التالية ثم اجب عن الاسئلة التي تليها :- (1 × 5 = 5) درجات



المناهج الكويتية  
almanahj.com/kw

1- ماذا تمثل الصورة المقابلة؟

\*\* الملك حمورابي . ص 84

2- ما أسم الحضارة التي ظهر بها؟

\*\* حضارة بلاد الرافدين . ص 84

3- ما النتائج المترتبة على شريعته القانونية؟

\*\* انتشار الأمن و الأمان في البلاد . ص 84

4- أكتب رسالة من سطرين عن تطور العلوم والفنون في حضارات الوطن العربي؟

\*\* ..... أي أجابة مناسبة يراها المصحح .....

\*\* ..... من سطرين يكتبها الطالب .....

انتهت الأسئلة