



وزارة التربية

الإدارة العامة لمنطقة العاصمة التعليمية



مؤتمرات

الاجتماعات





وزارة التربية

الإدارة العامة لمنطقة العاصمة التعليمية
التوجيه الفني للاجتماعيات

امتحان نهاية الفترة الدراسية الثانية
لمقرر دولة الكويت والعالم الإسلامي
(الصف الثامن المتوسط)

العام الدراسي : ٢٠١٨ / ٢٠١٩ م
الزمن : ساعة و ٤٥ دقيقة
عدد الأوراق : (٦)

السؤال الأول :- يتكون من (أ- ب- ج- د- هـ- و- ز) :

(أ) ظلل الخيار الصحيح من بين الخيارات التي تلي كل عبارة :- ١×٥

١- تعرضت دولة الكويت للغزو العراقي البائد عام : ص ٨٥

١٩٩٣م	١٩٩٢م	١٩٩١م	١٩٩٠م
-------	-------	-------	-------

٢- العاصمة التي تعتبر نموذجاً للتلوث الضوضائي في العالم الإسلامي : ص ٨٧

دمشق	بغداد	القاهرة	الرباط
------	-------	---------	--------

٣- الغاز المسؤول عن الاحتباس الحراري في العالم : ص ٩٠

النيروجين	ثاني أكسيد الكربون	الأوكسجين	الهيدروجين
-----------	--------------------	-----------	------------

٤- ظاهرة ثقافية سلبية متفشية في معظم دول العالم والعالم الإسلامي وبخاصة البلدان النامية منها : ص ١٢٨

إدمان المخدرات	البطالة	الأمية	الانفجار السكاني
----------------	---------	--------	------------------

٥- مصادر التلوث الطبيعية تتمثل في : ص ٨١

البراكين والغبار	النفائيات والأسمدة	المبيدات الحشرية والدخان	الانفجارات النووية والحروب
------------------	--------------------	--------------------------	----------------------------

(ب) صوب ما تحته خط في العبارات التالية مع كتابة الكلمة الصحيحة بين القوسين :- ١×٦

- ١- أطلق على حرب تحرير الكويت اسم عاصفة الحزم . ص ١٢٢ [الصحراء]
- ٢- نظام عالمي جديد يقوم على الإبداع العلمي و التطور التقني و التكنولوجي و ثورة الاتصالات يسمى بالالرأسمالية. ص ٩٩ [العولمة]
- ٣- يوجد مقر وكالة الأنباء الإسلامية الدولية (إينا) في مدينة سعودية هي الرياض . ص ١٤٥ [جدة]
- ٤- أنشأت دولة الكويت شرطة البيئة عام ٢٠١٤م . ص ٨٢. [٢٠١٥ م]
- ٥- الشيخ الذي لقب بقائد العمل الانساني هو الشيخ عبدالله السالم. ص ١٦١ [صباح الأحمد]
- ٦- دولة أفريقية عانت من شدة التلوث المائي عام ٢٠١٧ م تسمى النيجر. ص ٨٥ [موريتانيا]

تابع السؤال الأول :

(ج) لاحظ خريطة العالم الصماء ثم أجب عن الأسئلة التالية ٤×١ :-

دولة عقد بها المؤتمر الإسلامي الثالث عشر عام ٢٠١٦م تسمى تركيا ص ١٤٤

منطقة شينجيانغ أوريغور تقع في جمهورية تسمى الصين ص ١١٣

دولة عربية قامت بتشغيل مدرسة بالطاقة الشمسية تسمى مصر ص ٩٣

دولة أفريقية تعرضت للحروب الأهلية فنتج عنها موجات من الجفاف و المجاعة تسمى الصومال ص ١١٧

(د) اختر من مجموعة المفاهيم والمصطلحات التالية وضعها بما يناسبها أمام العبارات الآتية : ٣×١

(التدوير - الاحتباس الحراري - النفايات - التنمية المستدامة)

النفايات ص ٩١	أي مواد زائدة وغير مرغوب فيها من مخلفات البيئة أو الفضلات.
الاحتباس الحراري ص ٩٠	ارتفاع درجات حرارة الأرض عن معدلها الطبيعي مما يؤدي إلى تغيرات مناخية.
التنمية المستدامة ص ٩٣	برامج تحسين نوعية الحياة ولا تتحقق إلا بمشاركة جميع المواطنين من أجل تحسين نوعية الحياة وفق بيئة صحية آمنة ومستقرة ومتقدمة.

(هـ) صنف الأحداث الآتية على حسب العام في الجدول الآتي : ٣×١

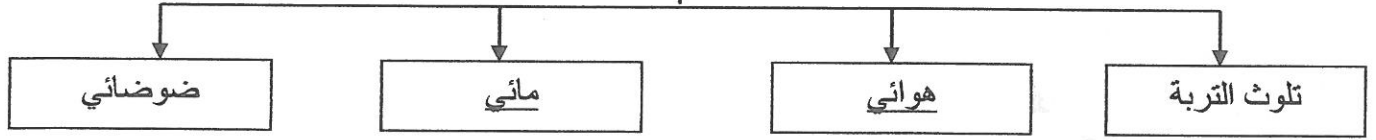
[ادعاءات عبد الكريم قاسم - اتفاقية الحماية البريطانية - الهجوم على مركز الصامته] ص ١٠٣-١٠٦

١٨٩٩م	١٩٦١م	١٩٧٣م
اتفاقية الحماية البريطانية	ادعاءات عبدالكريم قاسم	الهجوم على مركز الصامته
ص ١٠٦	ص ١٠٣	ص ١٠٣

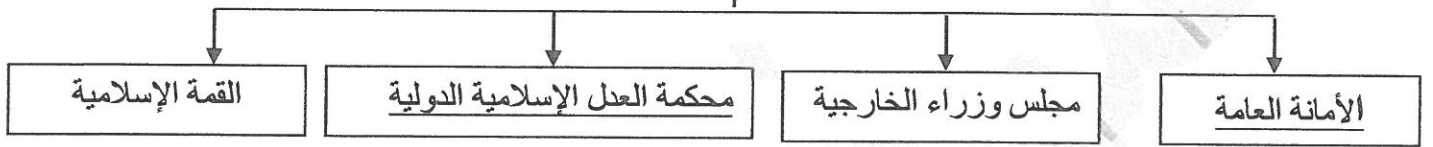
تابع السؤال الأول :

(و) أكمل المخططات السهمية التالية :- ٦ × ١

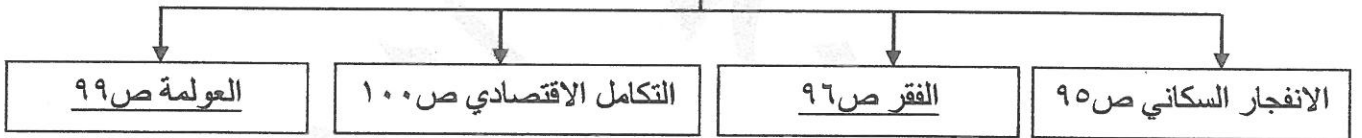
١- أنواع التلوث البيئي . ص ٨٣






٢- أجهزة منظمة التعاون الاسلامي (الهيكل التنظيمي) . ص ١٤١



٣- التحديات الاقتصادية التي تواجه دول العالم الاسلامي ص ٩٥-٩٦-٩٩-١٠٠



(ي) أكمل العبارات التالية مستعيناً بالصور والأشكال المقابلة :- ٣ × ١

	١- الصورة تمثل الملك السعودي الذي اقترح إنشاء صندوق انتفاضة القدس اسمه---- <u>الملك عبدالله بن عبدالعزيز رحمه الله</u> ص ١٠٨
	٢- الصورة تمثل بطلة كويتية من أبطال إطفاء حرائق البترول الكويتية اسمها --- <u>ساره أكبر</u> ..ص ١١٩.
	٣-الصورة تمثل مشكلة تجعل الإنسان في حالة هلوسة بصرية وسمعية وعصبية تسمى... <u>إدمان المخدرات</u> . ص ١٢٥.

السؤال الثاني : يتكون من (أ - ب)

(أ) عرف المفاهيم التالية : ٥×١

١- التلوث البيئي	أي تغير غير مرغوب به في الخواص الطبيعية أو الكيميائية أو البيولوجية للبيئة المحيطة (الهواء - الماء - التربة) وقد يتسبب في الإضرار بحياة الإنسان والكائنات الأخرى . ص ٨١
٢- الانفجار السكاني	هو الزيادة الكبيرة في أعداد السكان . ص ٩٥
٣- الميزان التجاري	الفرق بين قيمة الصادرات و قيمة الواردات بالدولة . ص ١٠٠
٤- الحدود	خطوط حددت بواسطة الإنسان ورسمت حتى تفصل بين سيادة دولة و دولة أخرى . ص ١٠٢
٥- الأقليات الإسلامية	مجموعة من المسلمين تعيش تحت سلطة دولة غير مسلمة في وسط أغلبية غير مسلمة . ص ١١٢

(ب) علل لما يلي :- ٥×١ :

١- زيادة عدد السكان في العالم . ص ٩٥

* الزيادة الطبيعية * الزيادة غير الطبيعية

٢- انتشار الفقر في دول العالم الإسلامي . ص ٩٨

* عدم توفر فرص العمل / * انتشار البطالة / * قلة التبرعات والصدقات في المجتمع / * ضعف اقتصاد الدولة / * تضخم أسعار السلع والخدمات

٣- إنشاء منظمة التعاون الإسلامي ١٣٨ .

* بسبب قيام المحتل الاسرائيلي بإحراق المسجد الأقصى في فلسطين في ١٩٦٩/٨/٢١ م والذي يعد أحد مقنسات المسلمين .

السؤال الثالث : يتكون من (أ - ب)

(أ) اقرأ الفقرة التالية ثم أجب عما يليها من أسئلة: -١×٥ ص ١٥٨ - ١٥٩

((حرصت دولة الكويت وعبر تاريخها على تقديم المساعدات الإنسانية لكافة دول العالم عبر نشاطات وإسهامات متميزة كان أبرزها إنشاء الصندوق الكويتي للتنمية الاقتصادية))

١- ضع عنواناً مناسباً للفقرة على حسب ما يراه المصحح

٢- في أي عام تأسس الصندوق الكويتي للتنمية الاقتصادية ؟ ١٩٦١

٣- عدد اثنين من أهداف الصندوق الكويتي للتنمية .

* تقديم القروض الميسرة للدول المحتاجة * تقديم المنح على سبيل المثال المعونات الفنية * الإسهام في برامج التنمية

٤- من هو صاحب فكرة إنشاء الصندوق الكويتي للتنمية الاقتصادية ؟

الشيخ جابر الأحمد الصباح.

(ب) أكمل حل جدول المقارنة بين مؤتمرات منظمة المؤتمر الإسلامي في الجدول التالي :-١×٥

ص ١٤٢-١٤٣

أوجه المقارنة	المؤتمر الإسلامي الأول	المؤتمر الإسلامي الخامس
العام	<u>١٩٦٩</u>	<u>١٩٨٧</u>
المقر "الدولة"	<u>مدينة الرباط عاصمة المملكة المغربية</u>	<u>دولة الكويت</u>
أهم قراراته (يكتفي بنقطة واحدة)	<u>*رفض أي حل للقضية الفلسطينية لا يكفل لمدينة القدس وضعها السابق لأحداث يونيو ١٩٦٧م</u> <u>*تمسك المسلمين بالقدس وعزم حكومتها على تحريرها * بذل الجهود المشتركة لتحقيق الانسحاب السريع للقوات الإسرائيلية من كافة الأراضي الفلسطينية التي احتلتها بعد حرب يونيو ١٩٦٧م</u>	<u>*دعم قضية فلسطين *الحرص التام على استقلال لبنان ووحدة أراضيه * ضرورة الوقف الفوري لكل عمليات الحربية بين العراق وإيران *الموافقة على مشروع النظام الأساسي لمحكمة العدل الإسلامية الدولية .</u>

السؤال الرابع : يتكون من (أ - ب) :-

(أ) أكتب فيما يلي :- ٦×١

١- التحديات التي تواجه الأقليات الإسلامية حول العالم . ص ١١٤

* مواجهة العديد من المسلمين تميزاً في العمل منذ أحداث ١١ / سبتمبر / ٢٠٠١م / سوء الظروف الاجتماعية والمادية التي تعيش فيها معظم الجاليات المسلمة نتيجة تدني الأجور أو عدم وجود فرص عمل مستقرة . / * الحفاظ على الهوية الإسلامية في ظل وعادات وتقاليد المجتمعات الغربية ومناهجها التعليمية / * انخفاض المستوى التعليمي نتيجة سوء الأحوال الاجتماعية والمادية / * فرض بعض الدول بشكل تدريجي المزيد من القيود على المسلمين في حرية ممارستهم لشعائرهم الدينية الإسلامية .

٢- آثار التلوث المائي . ص ٨٦ .

* هلاك الكائنات البحرية الحيوانية والنباتية / * فقدان السواحل لقيمتها الاقتصادية والسياحية / * التأثير على صحة الإنسان لاعتماده على الغذاء البحري الذي يعتبر من أهم مصادر الغذاء الغنية بالمعادن والقيمة الغذائية .

٣- أسباب الإدمان على المخدرات . ص ١٢٦ .

* ضعف الوازع الديني وانحدار القيم الأخلاقية / * ضعف الرقابة من الأسرة على الفرد / * التقليد الأعمى واستيراد قيم جديدة غربية على مجتمعنا تتنافى مع مبادئ ديننا الحنيف / * انتشار التدخين بين المتعلمين بالمدارس / * قضاء أوقات الفراغ في أمور تافهة لا تعود على الشباب بالنفع / * رفاق السوء .

(ب) فرق بين كل من : ٤×١

أسباب تلوث التربة ص ٨٨	أسباب التلوث الضوضائي ص ٨٧
* <u>الإفراط باستخدام المبيدات الحشرية على المزروعات النباتية</u>	* <u>وسائل النقل بأنواعها المختلفة والطائرات والقطارات وغيرها .</u>
* <u>المخلفات الصناعية والكيميائية والبشرية (النفايات)</u>	* <u>عمليات البناء والهدم وأصوات آلات الحفر</u>
* <u>الأمطار الحمضية</u>	

انتهت الأسئلة

مع تمنياتنا بالتوفيق والنجاح ،،،،،،