

تم تحميل هذا الملف من موقع ملفات الكويت التعليمية



[com.kwedufiles.www//:https](https://www.kwedufiles.com)

*للحصول على أوراق عمل لجميع الصفوف وجميع المواد اضغط هنا

* للحصول على أوراق عمل لجميع مواد الصف الثامن اضغط هنا

<https://kwedufiles.com/8>

* للحصول على جميع أوراق الصف الثامن في مادة اجتماعيات وجميع الفصول, اضغط هنا

<https://kwedufiles.com/8social>

* للحصول على أوراق عمل لجميع مواد الصف الثامن في مادة اجتماعيات الخاصة بـ الفصل الثاني اضغط هنا

<https://www.kwedufiles.com/8social2>

* لتحميل كتب جميع المواد في جميع الفصول للـ الصف الثامن اضغط هنا

<https://www.kwedufiles.com/grade8>

* لتحميل جميع ملفات المدرس تطبيق خدمة الطالب اضغط هنا

[bot_kwlinks/me.t//:https](https://t.me/bot_kwlinks)

للحصول على جميع روابط الصفوف على تلغرام وفيسبوك من قنوات وصفحات: اضغط هنا

الروابط التالية هي روابط الصف الثامن على مواقع التواصل الاجتماعي

مجموعة الفيسبوك

صفحة الفيسبوك

مجموعة التلغرام

بوت التلغرام

قناة التلغرام

رياضيات على التلغرام

أولاً: المشكلات البيئية في دول العالم الإسلامي

نشاط (١)

ناقش مع معلمك وزملائك أهم سلوكيات الأفراد والمجتمعات الإيجابية والسلبية تجاه البيئة الطبيعية من حولنا، ثم اكتبها حسب ما هو مناسب في الجدول التالي:

السلوكيات والاتجاهات السلبية	السلوكيات والاتجاهات الإيجابية
١- رمي المخلفات على الأرض في المدرسة وفي الأماكن العامة .	١- المحافظة على الممتلكات العامة من التلف .
٢- استخدام المبيدات الحشرية و المبيدات الكيميائية	٢- التخلص الصحي من النفايات
٣- رمي مخلفات المصانع في الانهار و البحار	٣- زراعة الاشجار
٤- قطع و حرق الاشجار والنباتات	٤- معالجة مياه الصرف الصحي و الزراعي

نشاط (٢)

ابحث في موقع وزارة الداخلية الإلكترونية، أو باستخدام رمز (QR code) عن دور شرطة البيئة في دولة الكويت، وما هي أهم إنجازاتها؟



دور شرطة البيئة : مراقبة و ضبط مخالفات

البيئة وفق الاجراءات القانونية

أهم الإنجازات :


زيارة تفقدية لجزيرة كبر وتوزيع أكياس جمع

القمامة الصديقة للبيئة



أنواع التلوث البيئي

نشاط (١)



ماذا يحدث لو
أصبحت منطقة زراعية في إحدى الدول
الإسلامية بحريق هائل .

النتيجة :

- ١- يقل إنتاج الأوكسجين في الجو
- ٢- تتأثر البيئة الطبيعية للكائنات الحية
- ٣- تتدمر التربة و قد يضعف الإنتاج الزراعي
- ٤- تتدمر الأشجار و النباتات

نشاط (٢)

اقترح حلولاً للحد من تفاقم مشكلة تلوث الهواء في دول العالم الإسلامي.

١- تدوير النفايات

٢- زراعة الأشجار



نشاط

ماذا يحدث لو :

تسرب نفط من إحدى ناقلات النفط إلى أحد المسطحات المائية التي تطل عليها دول العالم الإسلامي (الخليج العربي - البحر المتوسط - البحر الأحمر . . .)

- ١- هلاك الكائنات البحرية
- ٢- فقدان السواحل لقيمتها الاقتصادية

نشاط

اذكر أسباب ، و نتائج التلوث الضوضائي من حولنا .

الأسباب :-

- ١- وسائل النقل (الطائرات - السيارات - القطارات)
- ٢- عمليات البناء و الهدم

النتائج :-

- ١- ضرر في الجهاز السمعي
- ٢- التوتر العصبي

نشاط (١)

ما هو دورك في الحفاظ على البيئة النباتية والتربة من التدهور والتلوث؟

- ١- عدم رمي النفايات على الأرض الزراعية
- ٢- عدم حرق النباتات و الأشجار

خدمة

نشاط (٢)

توجد دول إسلامية تصل نسبة التصحر فيها ما بين ١٠ - ٥٠ ٪ ،
ومنهم لبنان وسوريا والسودان والعراق والسنغال غرباً حتى الصومال شرقاً .
قم بتحديد مواقع هذه الدول على الخريطة التالية بالاستعانة بالـ **الأطلس المدرسي** .



شكل (٣٠) خريطة صماء لدول العالم الإسلامي



نشاط (١)

ماذا يحدث لو؟

توقف عمال النظافة عن العمل لمدة أسبوع عن تنظيف (الشوارع - المدرسة - الحدائق - شواطئ البحر - الأماكن العامة).

١- تراكم النفايات في كل الاماكن

٢- انتشار الامراض و الذباب

٣- تصبح الاماكن بصورة سيئة جدا

نشاط (٢)

ناقش أفراد مجموعتك في البحث عن حل لمشكلة النفايات، ثم ألصق صوراً توضح هذا الحل .

١- استخدام اكياس واكواب قابلة للتحلل

٢- استخدام العلب الفارغة بدلا من رميها

٣- طبخ الطعام بشكل كافى بدون تبزير



خدمة الطالب

نشاط (١)

أجب عن التالي:



أ- ما نوع الطاقة المستخدمة في الصورة؟ .

..... الطاقة الشمسية

ب- لماذا تستخدم دولة الكويت هذا النوع من الطاقة؟

..... لأنها طاقة دائمة ونظيفة



نشاط (٢)

اختر الرقم المناسب للشكل الذي يعبر عن الموضوع من وجهة نظرك، ثم اكتب تعليقاً مناسباً:

١- إنشاء مشروع المدن الصحية في دولة الكويت من أجل تحقيق أهداف التنمية المستدامة.



٣



٢



١

التعليق : ... مشروع جيد. يحقق التنمية المستدامة.

٢- أحد المصانع يساهم في تدمير البيئة.



٣



٢



١

التعليق : ... يجب اغلاق المصانع الملوثة للبيئة

٣- شركات الأحذية الرياضية تصنع الأحذية من تدوير النفايات البلاستيكية.



٣



٢



١

التعليق : ... طريقة جيدة لتدوير النفايات

٤- غرامة مالية ضخمة لكل من يسرف في المياه والكهرباء.



٣



٢



١

التعليق : ... قرار جيد للحفاظ على الماء والكهرباء

ثانياً : التحديات الاقتصادية التي تواجه دول العالم الإسلامي

نشاط (١)

- ماذا تتوقع أن ينتج عن زيادة عدد السكان في دولة الكويت عبر السنوات القادمة؟
تعاين من مشكلة الانفجار السكاني

نشاط (٢)



• بالتعاون مع مجموعتك اكتب مقترحاتك تجاه مشكلة الانفجار السكاني

- ١ - زيادة فرص العمل
- ٢ - بناء مناطق سكنية جديدة
- ٣ - بناء مدارس و مستشفيات



نشاط (١)

اكتب اسم الدولة الأولى ، والأخيرة حسب تسلسلها في الفقر الأولى **بنغلاديش** الأخيرة **مالى** .
قدم مقترحاتك تجاه تنمية الدول الإسلامية الفقيرة .

نشاط (٢)

اذكر الآثار المترتبة على انتشار البطالة في المجتمع .

انتشار الجريمة .

انتشار حالات الطلاق .

نشاط (٣)

أبحث عن حلول مشكلة الفقر

انشاء الجمعيات الخيرية للفقراء

توفير فرص العمل

التوسع في الزراعة

جمع الزكاة و توزيعها
على الفقراء

توفير مساكن للفقراء



٣. العولمة الاقتصادية خدمة

نشاط (١)

هل تؤيد أم تعارض العولمة الاقتصادية؟ ولماذا؟

أؤيدها لأنها تفتح المجال أمام الدول لتستفيد من بعض في جميع المجالات



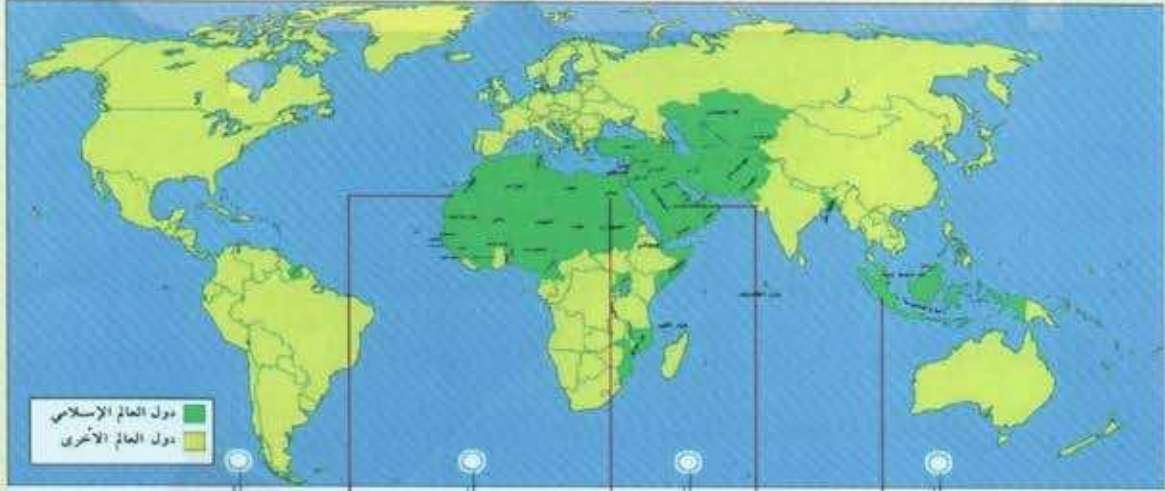
تطبيق خدمة الطالب

تطبيق خدمة الطالب 50152882

٤ - التكامل الاقتصادي بالعالم الاسلامي

نشاط (١)

من خلال الخريطة أكمل الفراغات التالية لتحقيق التكامل الاقتصادي بين دول العالم الاسلامي.



الثروة السمكية

الزراعة

النفط

الأيدي العاملة

نشاط (٢)

من خلال فهمك للدرس استنتج معوقات التكامل الاقتصادي بين دول العالم الإسلامي.

تشابه السلع في الدول الإسلامية و عدم التعاون بينهم في وضع خطة واضحة للتكامل

تطبيق خدمة الطالب 50152882



ثالثاً : التحديات السياسية التي تواجه دول العالم الإسلامي

نشاط (١)

استخرج سؤالاً من الفقرة السابقة ثم أجب عليه.

السؤال : اذكر أنواع الحدود السياسية ؟

الإجابة : ١- بحرية ٢- برية



ماذا تعرف عن تاريخ مشكلات الحدود السياسية في الدول الإسلامية؟

نشاط (١)

شارك مجموعتك في إكمال جدول يوضح مراحل أزمة الحدود السياسية بين دولة الكويت و العراق

مراحل أزمة الحدود	أهم الأحداث	قدم رأيك حول الموضوع
الكويت تابعة لولاية البصرة	انضمام الكويت لاتفاقية الدفاع العربي المشترك	دولة الكويت مستقلة و غير تابعة لأي دولة
مركز الصامته عام ١٩٧٣م	طلب العراق الحصول على منفذ بحري على الخليج العربي هجوم العراقيين على مركز الصامته	ارفض العدوان على مركز الصامته
ترسيم الحدود عام ١٩٩٣م	* غزو العراق على الكويت * تحرير الكويت و انسحاب العراق	* ارفض الغزو العراقي على الكويت

تطبيق خدمة الطالب 50152882



نشاط (٢)

ابحث عن نص قرار الأمم المتحدة رقم ٦٧٨ ، ثم دونه

رغم كل ما تبذله الامم المتحدة من جهود ، أن العراق يرفض الوفاء بالتزامه بتنفيذ القرار ٦٦٠ ، و القرارات اللاحقة ذات الصلة المشار اليها اعلاه مستخفا بمجلس الأمن استخفافا صارخا. واذ يضع في اعتباره واجباته و مسؤولياته المقررة بموجب ميثاق الأمم المتحدة ، تجاه صيانة السلم و الأمن الدوليين و حفظهما و تصميمها منه على تأمين الامتثال التام لقراراته .
(انسحاب القوات العراقية)



شكل رقم (٣٥) توضح الحرب الجوية
وفرحة التحرير



شكل رقم (٣٤) الشيخ جابر الأحمد الصباح في منصبه الأمم
المتحدة وخطابه الحكيم الذي حرك العالم تجاه قضية دولة الكويت .



ب - قضية فلسطين :

نشاط

أ- اكتب ما تعرفه عن قرار ١٨١ الذي أصدرته الجمعية العامة للأمم المتحدة تجاه قضية فلسطين

تقسيم فلسطين الى ٣ كيانات جديدة :

١- دولة عربية ٤٢,٣ % من فلسطين ٢- دولة يهودية تمثل ٥٧,٧ % ٣- القدس وبيت لحم تحت حماية دولية

ب- ما هي النتائج المترتبة على قضية فلسطين ، و المعتدي الصهيوني ؟

قتل و تشرد الالاف من الفلسطينيين

احتلال أجزاء كبيرة من ارض فلسطين



خدمة



اكتب تغريدة اعتراز بتضامن الدول الإسلامية.

افتخر واعتز بتعاون الدول الإسلامية مع بعضها مثل الجسد الواحد

اجمع بعض المعلومات عن مشاكل الحدود السياسية بين دولة الكويت ، والعراق ، وموقف الدول العربية .

قامت الدول العربية متمثلة في دول الخليج العربي و مصر و سوريا بتشكيل تحالف عربي عسكري و المشاركة في حرب تحرير الكويت

تطبيق خدمة الطالب 50152882





أنا أختبر معلوماتي

أجب على الأنشطة التالية، ثم ناقشها لاحقاً مع أحد زملائك:

تطبيق

اذكر مثلاً لدول إسلامية بينها حدود برية، ودول أخرى حدود بحرية من دراساتك السابقة.

أولاً

برية : السعودية والكويت

بحرية : السعودية ومصر

ثانياً

دول عانت من مشكلات الحدود السياسية

فلسطين

الكويت

لخص معلومة عن ما يلي :

ثالثاً

حرب فلسطين ١٩٤٨ م

اول حروب العرب مع اسرائيل ، دارت عقب انتهاء الانتداب البريطانى على فلسطين
واعلان قيام اسرائيل ، منتصف مايو ١٩٤٨ ، و أودت بحياة الاف الجنود من الطرفين
وانتهت بهزيمة العرب .

قيم ذاتك

١-٢	٣-٤	٥-٦

اكتب عبارة تشجيع أو نصيحة إلى نفسك.

تطبيق خدمة الطالب 50152882



أنا أختبر معلوماتي

تطبيق

السؤال الأول : اختر الإجابة الصحيحة من بين البدائل التالية :

١- وقع الغزو العراقي في عهد الشيخ :

● الشيخ جابر الأحمد ○ الشيخ سعد العبدالله ○ الشيخ صباح الأحمد ○ الشيخ عبدالله السالم

٢- القرار الذي طالب القوات العراقية بالانسحاب من دولة الكويت دون شروط يحمل الرقم :

○ ٦٧٩

● ٦٧٨

○ ٦٧٧

○ ٦٧٦

السؤال الثاني : صنف العبارات التي أمامك بما يناسبها من أرقام :

الهجوم على مركز
الصامطة

(..... ١)

الحرب البرية لتحرير
الكويت

(..... ٤)

عاصفة
الصحراء

(..... ٢)

ادعاءات
عبدالكريم قاسم

(..... ٣)

٢٥ يونيو ١٩٦١

٣

٢٠ مارس ١٩٧٣م

١

١٧ يناير ١٩٩١م

٤

٢٤ فبراير ١٩٩١م

٢

السؤال الثالث : دلل على عدم تبعية دولة الكويت للعراق .

١- اتفاقية الحماية ١٨٩٩م بين الشيخ مبارك الصباح و الحكومة البريطانية دليل على سيادة الكويت

٢- ترسيم الحدود في مؤتمر العقير ١٩٢٢م بين الكويت والعراق والسعودية يثبت استقلال الكويت

قيم ذاتك

١ - ٤	٥ - ٦	٧ - ٨

اكتب عبارة تشجيع أو نصيحة إلى نفسك

تطبيق خدمة الطالب 50152882

تكونت الأقليات الإسلامية عن طريق :

- ١- اعتناق الإسلام: فإنه من الممكن أن تتشكل الأقلية المسلمة في أي بقعة من بقاع الأرض إذا اعتنق بعض أهلها الإسلام .
- ٢- هجرة بعض المسلمين إلى أرض غير مسلمة: كأوروبا وأمريكا و استراليا وغيرها بدوافع سياسية أو اقتصادية أو اجتماعية .
- أذكر أمثلة :

هجرة اللاجئين والنازحين من الحروب الى الدول الاوروبية

٣- ابحث عن أسباب أخرى

احتلال أرض إسلامية من قبل دولة غير إسلامية وضمها اليها



نشاط (١)

شخصيات من بلادي

استعن بمحرك البحث Google لتكتب تقريراً عن نموذج من الشخصيات الكويتية التي بذلت العطاء في مساعدة الدول والمجتمعات التي تعرضت للكوارث والحروب .

د . معالي العسوسى

الكويتية معالي العسوسى حصلت اكبر جائزة عربية للمبادرات الخيرية بفوزها و 4 اشخاص اخرين بجائزة صناع الامل فى الامارات و ذلك عن اسهاماتها التطوعية الانسانية فى اليمن ،أسست العسوسى مبادرة "تمكين " فى عام 2007 و التى تحولت الى مؤسسة تنموية تحمل على عاتقها مهمة الاسهام فى الارتقاء بنوعية حياة افضل للمجتمع بشكل عام والمرأة و الأطفال بشكل خاص ، من خلال انشاء المشاريع التنموية بلا اهداف ربحية .وبدأت بعدد أسر محدود هو 50 أسرة لتصل حالياً الى 120 الف أسرة .

شخصيات مقترحة

د . معالي العسوسى

د . عبدالرحمن السميط



ج-دولة الكويت

خلفت الحرب على دولة الكويت الكثير من المآسي وأوجه الدمار الذي لامس المجتمع والبيئة الطبيعية لدولة الكويت .

نشاط (١)

الآثار البيئية:

- مما درست ، اذكر أنواع التلوث الذي أصاب بيئة دولة الكويت جراء حرق الآبار وتدمير المباني والمنشآت .
- من شارك في إطفاء الآبار

فريق مكافحة الحرائق (من الشعب الكويتي) .

- ما هي النتائج المترتبة للتدمير وحرق الآبار على البيئة الطبيعية والكائنات الحية؟

تلوث الهواء و تلوث مياه الخليج العربي و تلوث التربة و موت و هلاك كل انواع الكائنات الحية



شكل رقم (٤٥) توضيح فريق مكافحة الحرائق الكويتي في ٩ سبتمبر ١٩٩١م



سارة أكبر
شكل رقم (٤٦) توضيح بطلة من أبطال إطفاء حرائق النفط الناجمة عن الغزو العراقي الغاشم



٢- الولاء والمواطنة

خدمة

عظماء في ذاكرة التاريخ

نشاط (٣)

أكمل البطاقات التعريفية التالية بكتابة اسم وتاريخ الحدث لشهيد وأسير من دولة الكويت

بطاقة تعريفية

الاسم
ابراهيم عبد العزيز الدوسري

تاريخ الأسر
١٩٩٠ / ٨ / ٣ م



الاسم
الشهيد / حمد السلطان

تاريخ الاستشهاد
١٩٩٠ / ٨ / ٢ م

تطبيق خدمة الطالب 50152882





أنا أختبر معلوماتي

تطبيق

السؤال الأول : أكمل الفراغات في العبارات التالية :

٣

١٩٩١م

١- اندلعت الحرب الأهلية في الصومال عام

٢- تم إطفاء آبار النفط المشتعلة في عهد الشيخ جابر الاحمد الصباح

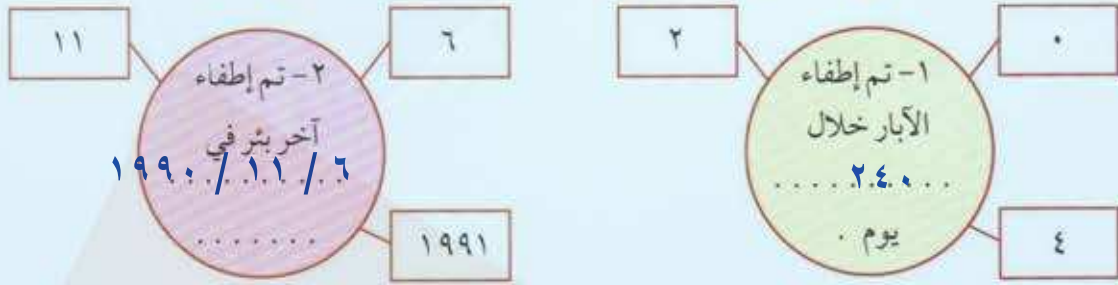
٣

السؤال الثاني : عدد نماذج لبعض الدول الإسلامية التي تعرضت للحرب والتدمير :




الكويت

البوسنة والهرسك

السؤال الثالث : استعن بالمعلومات التي أمامك لتكمل الجمل التالية :



قيم ذاتك

٤ - ٠ 	٧ - ٥ 	١٠ - ٨ 
اكتب عبارة تشجيع أو نصيحة إلى نفسك :		



١- مشكلة إدمان المخدرات

خدمة

نشاط (١)

أبحث في الانترنت عن طرق علاج الإدمان .

- ١- ... نزع السموم من الجسم
- ٢- ... علاج الأعراض الانسحابية

نشاط (٢)

قدم كلمة في إذاعة المدرسة حول خطورة الإدمان على الفرد والمجتمع .

.....



نشاط (٣)

كيف تساهم في بناء مجتمع إيجابي ، أكمل الشكل التالي :



نشاط (٤)

فردى / جماعى :

صمم شعاراً لا للمخدرات .

٢ - مشكلة الأمية

خدمة

نشاط



استخرج أعلى، وأقل دولة في معدل محو الأمية
أعلى دولة هي كازاخستان أقل دولة هي سيراليون



تطبيق خدمة الطالب 50152882