

تم تحميل هذا الملف من موقع المناهج الكويتية



منطقة الجهراء التعليمية

الملف نموذج أسئلة اختبار منطقة الجهراء التعليمية

موقع المناهج ← المناهج الكويتية ← الصف التاسع ← اجتماعيات ← الفصل الأول

روابط مواقع التواصل الاجتماعي بحسب الصف التاسع



روابط مواد الصف التاسع على تلغرام

[الرياضيات](#)

[اللغة الانجليزية](#)

[اللغة العربية](#)

[التربية الاسلامية](#)

المزيد من الملفات بحسب الصف التاسع والمادة اجتماعيات في الفصل الأول

<a href="#">مسودة كتاب الطالب اجتماعيات لعام 2018</a>	1
<a href="#">نموذج احابة اختبار لعام 2017 تعليم خاص</a>	2
<a href="#">نموذج احابة اختبار لمنطقة العاصمة لعام 2016 في مادة الاجتماعيات</a>	3
<a href="#">مراجعة رائعة للفصل الاول في مادة الاجتماعيات</a>	4
<a href="#">حل تقويم الكورس الاول في مادة الاجتماعيات</a>	5

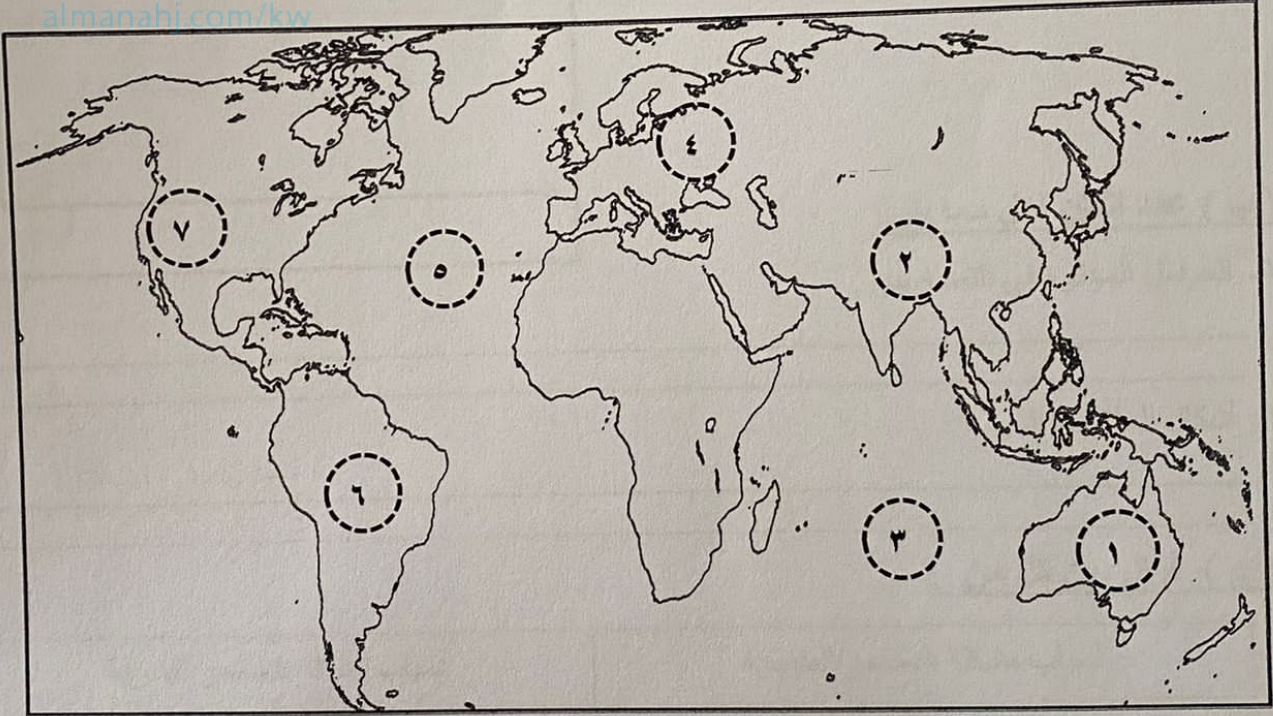
تابع / السؤال الأول ( موضوعي ) :

( هـ ) صنف الكلمات التالية حسب مكانها في الجدول الذي يليها :

( الأمطار - تحلية مياه البحر - الأمطار الصناعية - المياه الجوفية - المياه السطحية - معالجة مياه الصرف )

مصادر المياه غير التقليدية	مصادر المياه التقليدية
.....	.....
.....	.....
.....	.....

( و ) لاحظ خريطة العالم ثم اكتب الرقم الدال على العبارات التالية :

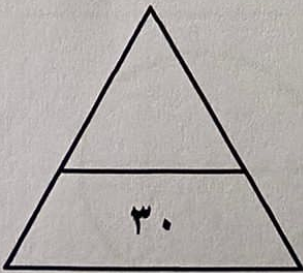


- قارة أمريكا الجنوبية يمثلها على الخريطة الرقم (.....)

- المحيط الهندي يمثلها على الخريطة الرقم (.....)

- جبال الروكي يمثلها على الخريطة الرقم (.....)

- السهل الأوروبي العظيم يمثلها على الخريطة الرقم (.....)



مجموع السؤال الأول بالحروف



أجب عن جميع الأسئلة

السؤال الأول ( موضوعي ) يتكون من ( أ - ب - ج - د - هـ - و ) :

( أ ) أكمل العبارات التالية بما يناسبها:

- ١- الدولة التي تعتبر أصغر دول العالم مساحة اسمها .....
- ٢- الإقليم المناخي الذي تقع ضمنه دولة الكويت يسمى .....
- ٣- البيئة التي يمتلك فيها الإنسان قدرات علمية وتكنولوجية تمكنه من استغلال مواردها تسمى .....
- ٤- درجة التصحر التي تحدث تلقاً متوسطاً في الغطاء النباتي تسمى .....
- ٥- مصدر من مصادر المياه العذبة المنتجة في دول مجلس التعاون ويمثل نسبة ١٨% يسمى .....

( ب ) ظلل الخيار الصحيح من بين الخيارات التي تلي كل عبارة:

١- يعتبر خط الأساس لدوائر العرض ورقمة ( صفر ) :

خط جرينتش	مدار السرطان	خط التاريخ الدولي	خط الاستواء
-----------	--------------	-------------------	-------------

٢- مرحلة من مراحل تطور علاقة الإنسان بالبيئة تم اكتشاف النار فيها :

الجمع والالتقاط	الصيد والقنص	الزراعة والاستقرار	التصنيع
-----------------	--------------	--------------------	---------

٣- تبلغ عدد آبار النفط الكويتية التي قامت القوات العراقية بحرقها عام ١٩٩١ م :

٧٣٥ بئراً	٧٣٦ بئراً	٧٣٧ بئراً	٧٣٨ بئراً
-----------	-----------	-----------	-----------

٤- العام الذي عقد فيه مؤتمر باريس بشأن التغير المناخي :

٢٠١٥ م	٢٠١٦ م	٢٠١٧ م	٢٠١٨ م
--------	--------	--------	--------

٥- يطلق على المعونات الإغاثية والغذائية المباشرة التي تلجأ الدول إليها في الحالات الخاصة مساعدات :

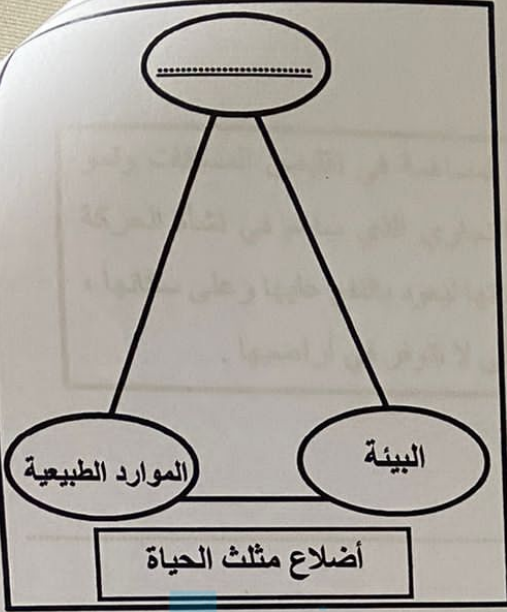
مالية	فنية	طارئة	وطنية
-------	------	-------	-------

**السؤال الثالث (مقالى) : يتكون من ( أ - ب - ج ) :**  
**( أ ) لاحظ الشكل المقابل ثم أجب عن الأسئلة التالية :**

١ - أكمل الناقص على الشكل المقابل .

٢ - عرف البيئة .

٣ - عدد مميزات البيئة الطبيعية .



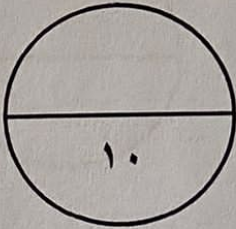
**( ب ) قارن بين كل مما يلي :**

الأقاليم المناخية الباردة	الأقاليم المناخية الحارة	أوجه المقارنة
.....	.....	الموقع
.....	.....	المميزات

**( ج ) عرف المفاهيم والمصطلحات التالية :**

١ - الاقتصاد البيئي :

٢ - نظام GPS :

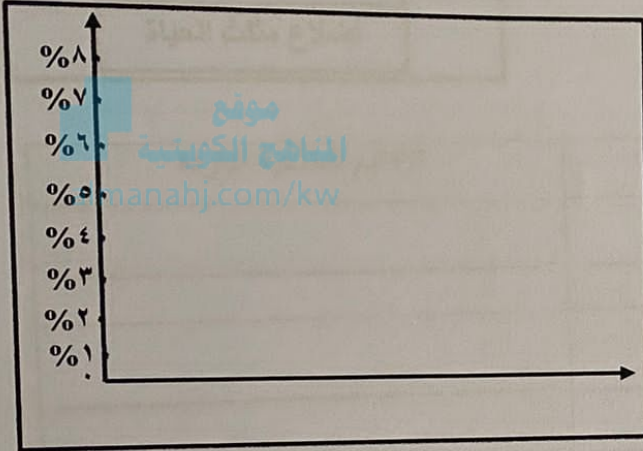



مجموع السؤال الثالث بالحروف

السؤال الثاني (مقالى) يتكون من (أ - ب - ج) :  
(أ) لاحظ الشكل المقابل ثم أجب عن الأسئلة التالية :

١- استخراج حقيقة من الشكل المقابل .

٢- اذكر مصادر تلوث الهواء .



٣- حول مكونات الغلاف الجوي (النتروجين والأكسجين) إلى أعمدة بيانية.

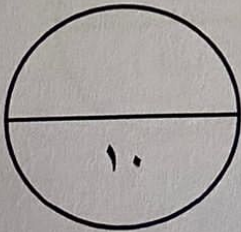
(ب) عدد اثنان لكل مما يلي:

١- العوامل المؤثرة في التضاريس .

٢- أشكال العلاقات الدولية .

(ج) فرق بين كل من :

أسباب مشكلة التصحر الطبيعية	أسباب مشكلة التصحر البشرية
.....	.....



مجموع السؤال الثاني بالحروف

تابع / السؤال الأول ( موضوعي ) :  
( ج ) صحح ما تحته خط في العبارات التالية وذلك بكتابة الإجابة الصحيحة في مكانها المناسب حسب

الجدول :

م	العبارة	التصويب
١	تغطي البحار والمحيطات من جملة مساحة الكرة الأرضية حوالي ٢٩% .	.....
٢	يطلق على درجة التلوث الناتجة بالدرجة الأولى من النشاط الصناعي <u>التلوث المدمر</u> .	.....
٣	استخدام المبيدات الحشرية والأسمدة على المناطق الزراعية من مصادر تلوث التربة <u>الحيوية</u> .	.....
٤	يطلق عليها الغازات الدفيئة غاز ثاني أكسيد الكربون وغاز <u>الأوزون</u> .	.....
٥	تعرف الوكالة اليابانية للتعاون الدولي التي تسهم في تقديم المساعدات اسم <u>اليونسكو</u> .	.....

( د ) اكتب المفاهيم أو المصطلحات الدالة على العبارات التالية :

م	المفهوم/ المصطلح	العبارة
١	.....	موقع الدولة بالنسبة لخطوط الطول ودوائر العرض .
٢	.....	أرض مرتفعة وسطحها مستوٍ وتمتد على مساحة كبيرة .
٣	.....	مجموعة من العناصر الحية وغير الحية تتفاعل مع بعضها بعضاً ضمن وحدة بيئية متجانسة ونظام متوازن ودقيق وتعتمد كل مجموعة على الأخرى .
٤	.....	خليط متنافر من الأصوات ذات استمرارية غير مرغوب فيها .
٥	.....	علاقات الدول مع بعضها بعضاً على شكل وحدات أو تنظيمات دولية لتحقيق المصالح السياسية بأكبر قدر من الفاعلية وبأقل الخسائر الممكنة .