

تم تحميل هذا الملف من موقع المناهج الكويتية



الملف إجابة بنك الأسئلة لمقرر تاريخ العالم الحديث والمعاصر

[موقع المناهج](#) ← [المناهج الكويتية](#) ← [الصف العاشر](#) ← [تاريخ](#) ← [الفصل الأول](#)

روابط مواقع التواصل الاجتماعي بحسب الصف العاشر



روابط مواد الصف العاشر على تلغرام

[الرياضيات](#)

[اللغة الانجليزية](#)

[اللغة العربية](#)

[التربية الاسلامية](#)

المزيد من الملفات بحسب الصف العاشر والمادة تاريخ في الفصل الأول

مسودة كتاب الطالب لعام 2018	1
مذكرة ثانوية سلمان الفارسي	2
حل تقويم الكتاب في مادة التاريخ	3
نموذج احابة امتحان في مادة التاريخ للصف العاشر	4
مذكرة شهرزاد في مادة التاريخ	5



بنك أسئلة مقرر



وزارة التربية

بنك أسئلة مادة الفني للصف العاشر

مراجعة الموجه الفني لمادة الاجتماعيات:

أ. فاطمة الملا

المناهج الكويتية

almanahj.com/kw

الصف العاشر

الفترة الدراسية الأولى - للعام الدراسي ٢٠٢٤ - ٢٠٢٥م

إعداد الموجه الفني لمادة الاجتماعيات:

أ. أمل السريع - أ. شيمه الرشيدى



إشراف الموجه الفني الأول

لمادة الاجتماعيات:

أ. محمود عبد الله تراكمه

الطبعة الثانية

محمد علي العتيبي

الموجه الفني العام للإجتماعيات - المرحلة الثانية

المرحلة الثانوية

الإشراف العام الموجه الفني العام للإجتماعيات - بالإتابة: أ. محمد العتيبي

وزارة التربية

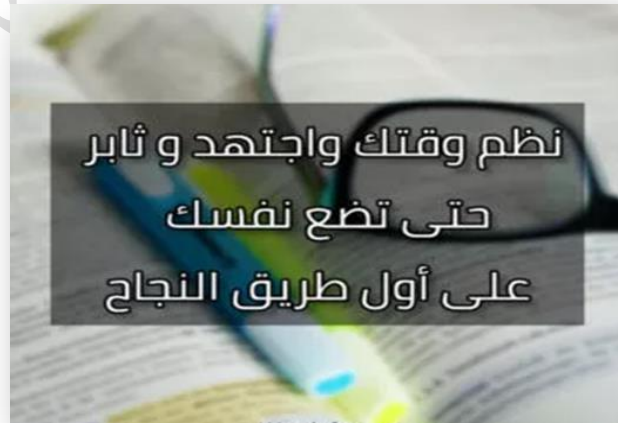


وزارة التربية

التوجيه الفني العام للإجتماعيات

المحتوى

الصفحة	الفصل الأول
٣٦ - ١٩	معالم الكويت الجغرافية
٥٥ - ٣٧	الأنشطة الاقتصادية قديماً
٦١ - ٥٦	المعالم الحضارية لدولة الكويت
الصفحة	الفصل الثاني
٨٠ - ٦٥	نشأة الكويت
الصفحة	الفصل الثالث
٨٩ - ٨٣	التنافس الاستعماري الأوربي على منطقة الخليج العربي
الصفحة	الفصل الرابع
١٠٥ - ٩٣	الحاكم السابع الشيخ مبارك الكبير



أسئلة الفصل الأول: معالم الكويت الجغرافية والاقتصادية والحضارية من ص ١٩ - ٦١

أولاً: الأسئلة الموضوعية....

السؤال الأول: أكمل العبارات التالية بما يناسبها ما درست:

- ١- تقع دولة الكويت بالنسبة لشبه الجزيرة العربية في الجزء الشمال الشرقي. ص ٢٠
- ٢- الدولة التي تحد دولة الكويت من جهة الجنوب والجنوب الغربي تسمى المملكة العربية السعودية. ص ٢٠
- ٣- المسطح المائي الذي تطل عليه دولة الكويت من جهة الشرق يسمى الخليج العربي. ص ٢٠
- ٤- تقع دولة الكويت بين دائرتي عرض ٢٨,٤٥° و ٣٠,٠٥° شمال خط الاستواء. ص ٢٠
- ٥- تقع دولة الكويت بالنسبة للخليج العربي في الجزء الشمال الغربي. ص ٢٠
- ٦- تقع دولة الكويت بين خطي طول ٤٦,٣٠° و ٤٨,٣٠° شرق خط غرينتش. ص ٢٠
- ٧- ينحدر سطح دولة الكويت انحداراً تدريجياً من جهة الغرب إلى الشرق. ص ٢٢
- ٨- الحد الفاصل بين الحدود الكويتية والعراقية بمسافة ١٥٠ كم يسمى وادي الباطن. ص ٢٣
- ٩- السهل الذي يحتل مساحة كبيرة في غرب وجنوب دولة الكويت يسمى سهل الدبدبة. ص ٢٣
- ١٠- السهل الذي يمتد من جون الكويت باتجاه الجنوب موازياً لخط الساحل يسمى سهل برقان. ص ٢٥
- ١١- سهل يقع في شمال دولة الكويت ينحدر نحو الشرق والشمال الشرقي يسمى سهل الروضتين. ص ٢٥
- ١٢- أكبر الجزر الكويتية والتي تمثل ٥٪ من المساحة الإجمالية لدولة الكويت تسمى جزيرة بوبيان. ص ٢٦
- ١٣- جزيرة كويتية شهدت تواجداً سكانياً سابقاً وأصبحت غير مأهولة بعد أحداث الغزو العراقي عام ١٩٩٠م تسمى جزيرة فيلكا. ص ٢٧
- ١٤- أصغر الجزر الكويتية من حيث المساحة جزيرتي مسكان و قاروه. ص ٢٧
- ١٥- إقليم يحتل المنطقة الغربية للخليج العربي ويمتد من جنوب البصرة شمالاً حتى عمان جنوباً يسمى إقليم البحرين. ص ٣٤
- ١٦- الجهة المسؤولة عن إجراء أول تعداد رسمي للسكان في الكويت عام ١٩٥٧م تسمى دائرة الشؤون الاجتماعية. ص ٣٤
- ١٧- الشيخ الذي تم في عهده إجراء أول تعداد للسكان في دولة الكويت يسمى عبد الله السالم الصباح. ص ٣٤

بنك أسئلة - مقرر تاريخ دولة الكويت الصف العاشر الفترة الدراسية الأولى - للعام الدراسي ٢٠٢٤ - ٢٠٢٥ م

١٨- الشيخ الذي أجري في عهده عد السكان وفق إحصائية المعلومات المدنية عام ٢٠١٤ م في دولة الكويت

ص ٣٥

يسمى صباح الأحمد الصباح.

ص ٣٥

١٩- بلغت نسبة عدد السكان غير الكويتيين (الوافدين) عام ١٩٩٠م حوالي ٧٢%.

ص ٣٧

٢٠- انتشرت الزراعة في القرى الكويتية خارج مدينة الكويت منها قرية الجهراء وقرية الفحيحيل.

ص ٣٧

٢١- مضيق يربط بين خليج عمان والخليج العربي يسمى مضيق هرمز.

ص ٣٧

٢٢- خليج يعتبر أحد أزرع المحيط الهندي في شبه الجزيرة العربية يسمى الخليج العربي.

ص ٣٨

٢٣- الميناء الصيني الذي يبدأ منه طريق الحرير البحري يسمى كانتون.

ص ٣٨

٢٤- طريق الحرير البري والذي يبدأ من الصين حتى أوروبا يسمى المسار الشمالي.

٢٥- طريق الحرير البحري والذي يبدأ من الميناء الصيني كانتون ويلتف حول سواحل شبه القارة الهندية ليدخل شبه

ص ٣٨

الجزيرة العربية يسمى المسار الغربي.

ص ٤١

٢٦- الشخص الذي يقوم بتصميم السفن قديماً يسمى الأستاذ.

ص ٤١

٢٧- الشخص الذي يقوم بإعداد المواد اللازمة للصناعة ثم عملية بناء السفينة يسمى القلاف.

ص ٤٤

٢٨- الحرفة التي مارسها أهل الكويت حتى أوائل الخمسينات من القرن العشرين تسمى الغوص على اللؤلؤ.

ص ٤٤

٢٩- بداية موسم الغوص تسمى الدشه.

ص ٤٤

٣٠- انتهاء موسم الغوص على اللؤلؤ يسمى القفال.

ص ٤٤

٣١- أهم مسميات اللؤلؤ دانة وقماشه.

ص ٤٤

٣٢- ظهر اللؤلؤ الصناعي في دولة الكويت عام ١٩٢٨م.

ص ٤٤

٣٣- صدر قانون الغواصين في دولة الكويت عام ١٩٤٠م.

ص ٤٤

٣٤- حاكم الكويت الذي صدر في عهده قانون الغواصين يسمى الشيخ أحمد الجابر الصباح.

ص ٤٧

٣٥- المدينة التي تتوجه لها السفن الكويتية في بداية موسم السفر قديماً تسمى البصرة.

ص ٥٠

٣٦- الأشجار التي استخدمها الكويتيون قديماً كمصدات للرياح تسمى الأثل والسدر.

٤

بنك أسئلة - مقرر تاريخ دولة الكويت الصف العاشر الفترة الدراسية الأولى - للعام الدراسي ٢٠٢٤ - ٢٠٢٥ م

٥٠ ص ٣٧- منطقة الدمنه حالياً في الكويت تسمى **السالمية**.

٥٧ ص ٣٨- بدأ التنقيب الأثري في جزيرة فيلكا عام **١٩٥٨** م .

٥٧ ص ٣٩- أقدم الآثار الحضارية في جزيرة فيلكا ترجع لحضارة تسمى **دلمون** .

٥٨ ص ٤٠- المعركة التي وقعت بين المسلمين والفرس عام ١٢ هجرية على أرض الكويت تسمى **ذات السلاسل** .

٥٨ ص ٤١- عثر على مسكوكات إسلامية أهمها عملة أموية مؤرخة بعام ١٢٣ هـ في منطقة تسمى **كاظمة** .

٥٨ ص ٤٢- معركة كانت سبباً لدخول الإسلام بلاد الرافدين وفارس والهند ووسط آسيا تسمى **ذات السلاسل**.

السؤال الثاني : اختر الإجابة الصحيحة من بين الخيارات التي تلي كل عبارة :

٢٠ ص ١- يحد دولة الكويت من جهة الشمال والشمال الغربي :

(مملكة البحرين - المملكة العربية السعودية - دولة قطر - **جمهورية العراق**)

٢٠ ص ٢- تبلغ مساحة دولة الكويت حوالي :

(١٦,٨١٨ ألف كم^٢ - **١٧,٨١٨ ألف كم^٢** - ١٨,٨١٨ ألف كم^٢ - ١٩,٨١٨ ألف كم^٢)

٢٢ ص ٣- تلال على شكل قباب تقع في جنوب دولة الكويت :

(جال الزور - كراع المرور - اللياح - **وارة**)

٢٦ ص ٤- نسبة المساحة التي تشغلها جزيرة بوبيان من إجمالي مساحة دولة الكويت تبلغ :

(**٥%** - ١٠% - ١٥% - ٢٠%)

٢٦ ص ٥- جزيرة كويتية يوجد بها دلائل اثرية ومعمارية وهي ثاني أكبر جزيرة من حيث المساحة :

(وربه - بوبيان - **فيلكا** - كُبر)

٢٦ ص ٦- يبلغ عدد الجزر الكويتية:

(٨ - ٩ - **١٠** - ١١)

٣٠ ص ٧- تصل درجة الحرارة أحياناً بدولة الكويت صيفاً في الظل :

(٣٠° درجة - ٤٠° درجة - **٥٠° درجة** - ٦٠° درجة)

بنك أسئلة - مقرر تاريخ دولة الكويت الصف العاشر الفترة الدراسية الأولى - للعام الدراسي ٢٠٢٤ - ٢٠٢٥ م

٣٢ ص ٨- رياح تهب معظم أيام السنة وهي رياح جافة بفعل المرتفع السيبيري تسمى :

(الشمالية الغربية - السموم - الكوس - العواصف الترابية)

٣٤ ص ٩- العام الذي أجري فيه أول تعداد رسمي موثق لسكان دولة الكويت :

(١٩٣٧ م - ١٩٤٧ م - ١٩٥٧م - ١٩٦٧ م)

٣٤ ص ١٠- يعود الوجود البشري في منطقة الكويت إلى أكثر من :

(٣٠٠٠ سنة ق.م - ٤٠٠٠ سنة ق.م - ٥٠٠٠ سنة ق.م - ٦٠٠٠ سنة ق.م)

٥٦ ص ١١ - المنطقة الكويتية التي عثر بها على آثار لحضارة العبيد تسمى :

(كاظمة - الصبية - فيلكا - القرين)
موقع المناهج الكويتية
almanahj.com/kw

٥٧ ص ١٢- توجد القلعة الهلينستية في جزيرة :

(فيلكا - بوبيان - قاروه - وربه)

٥٧ ص ١٣- استمر الوجود الإغريقي على جزر جون الكويت حتى بداية القرن :

(الأول - الثاني - الثالث - الرابع) قبل الميلاد .

٥٧ ص ١٤- أبرز ما خلفته حضارة دلمون في فيلكا وتحمل نقوشاً تعبر عن أساطير قديمة وصور حيوانات اسطورية :

(الأختام المستديرة - المسلات - الأواني - المقابر)

٥٨ ص ١٥- وقعت معركة ذات السلاسل بين المسلمين والفرس عام :

(١٢هـ - ٢٢هـ - ٣٢هـ - ٤٢هـ)

٥٨ ص ١٦- وقعت معركة ذات السلاسل في منطقة تسمى :

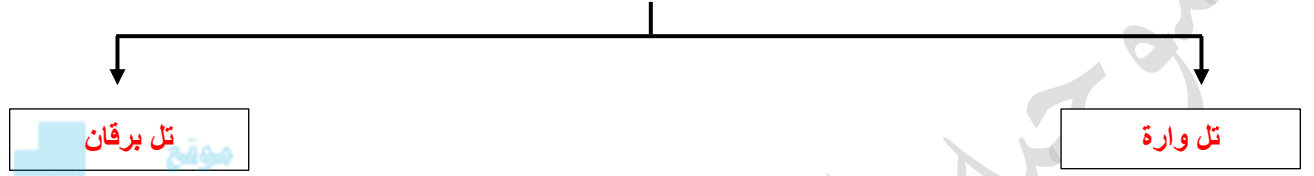
(كاظمة - الشقاي - وادي الباطن - الصبية)

السؤال الثالث: أكمل المخططات السهمية التالية :

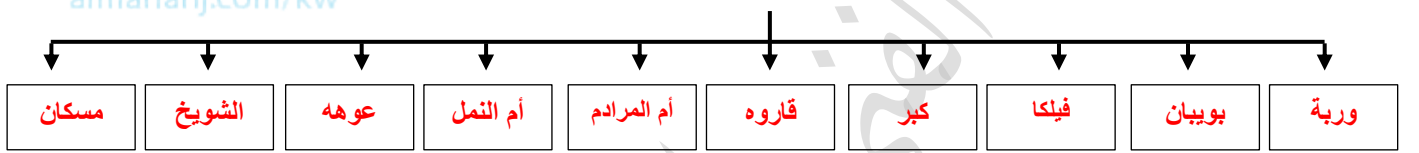
١- تلال في شمال دولة الكويت: ص ٢٢



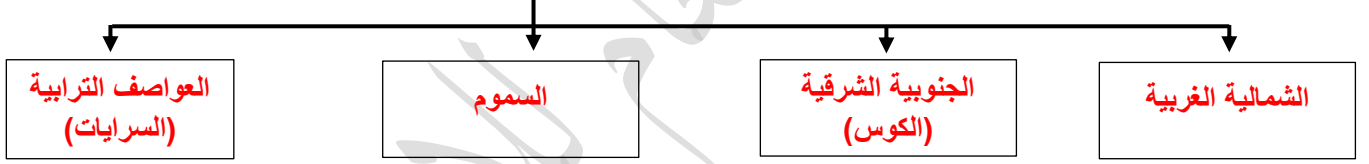
٢- تلال على شكل قباب في جنوب دولة الكويت: ص ٢٢



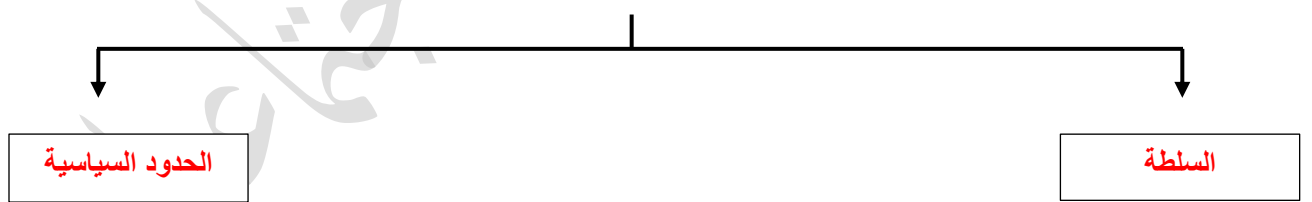
٣- جزر دولة الكويت: ص ٢٦



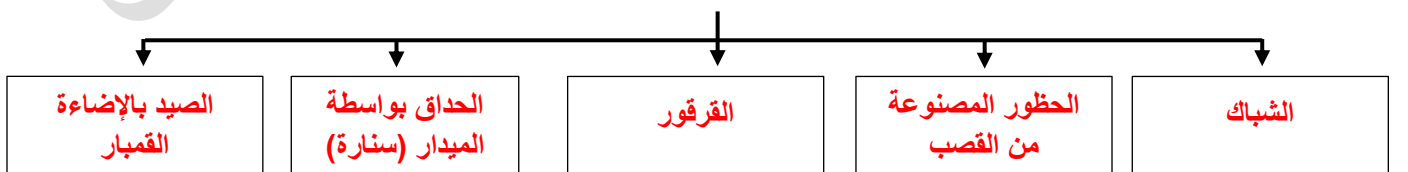
٤- أنواع الرياح في دولة الكويت: ص ٣٢



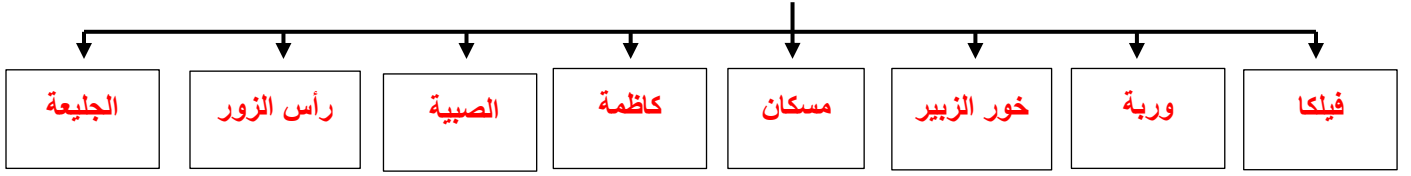
٤- عناصر البناء الأساسي لأي منطقة أو دولة: ص ٣٤



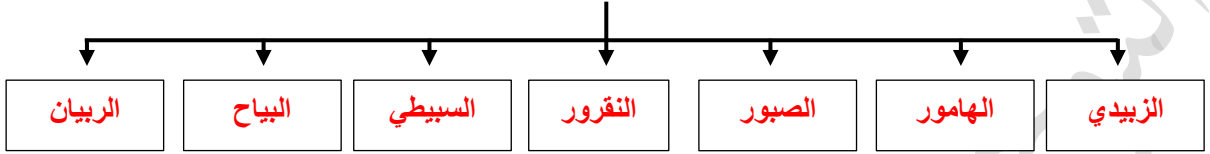
٥- طرق صيد الأسماك: ص ٤١



٦- أماكن صيد الأسماك: ص ٤١

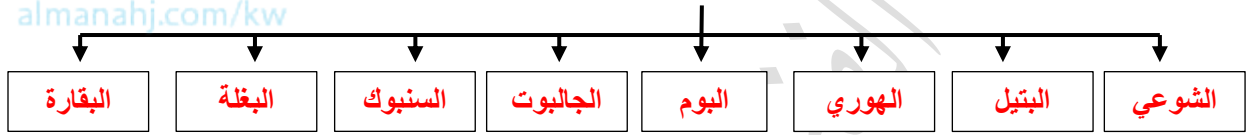


٧- أنواع الأسماك: ص ٤١

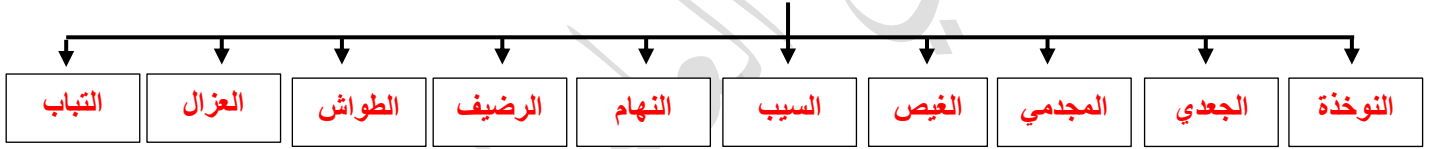


موقع
المنهج الكويتية
almanahj.com/kw

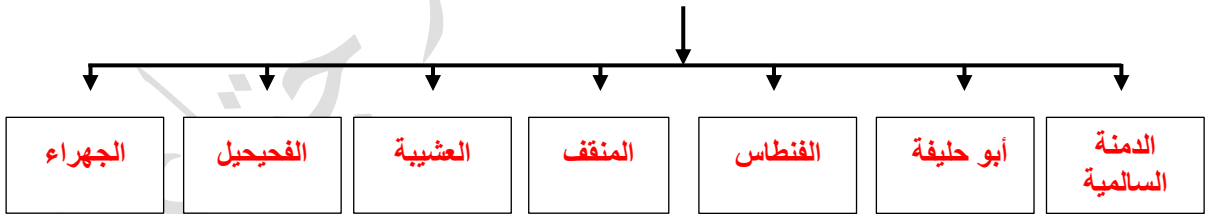
٨- أنواع السفن في دولة الكويت قديماً: ص ٤١ - ٤٢



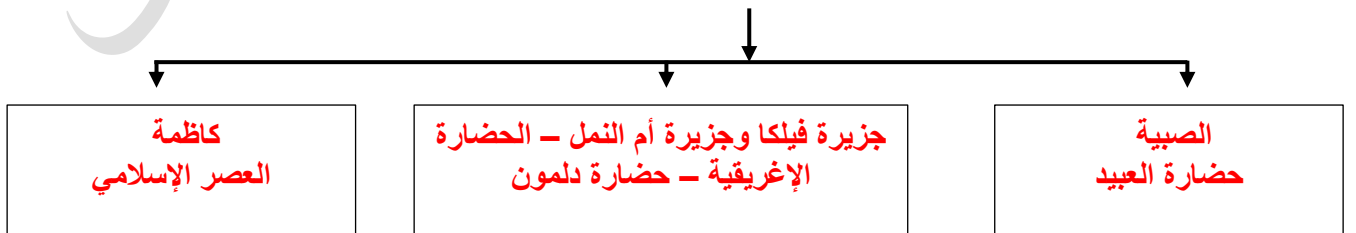
٩- العاملون في حرفة الغوص: ص ٤٦



١٠- أهم المناطق الزراعية في الكويت قديماً: ص ٥٠



١١- مراحل التطور الحضاري للكويت قديماً: ص ٥٦ - ٥٨



ثانياً: الأسئلة المقالية:

السؤال الأول: فرق أو قارن فيما يلي:

١- فرق بين كل ما يلي من حيث الأمثلة : ص ٢٢-٢٣-٢٥

نوع التضاريس	التلال	الأودية	السهول	هضاب
أمثلة	١- حافة جال الزور ٢- تلال كراع المرو ٣- تلال اللياح ٤- تلال وارة (على شكل قباب) ٥- القرين (على شكل قباب)	وادي الباطن	١- سهل الدبدبة ٢- سهل برقان ٣- سهل الروضتين	هضبة الأحمدية

٢- فرق بين السهل والتل من حيث المفهوم: ص ٢٥



السهل	التل
مساحات أرضية واسعة من الأراضي المستوية	هو ارتفاع أقل من الجبل

٣- فرق بين المميزات المناخية لدولة الكويت في الفصول الأربعة: ص ٢٩-٣٠

الصيف	الشتاء	الربيع	الخريف
- طويل حار جاف - متوسط درجة الحرارة بين ٤٢° - ٤٨° (وقد تصل إلى ٥٠° مئوية في الظل) - تهب رياح مثيرة للغبار - ترتفع نسبة الرطوبة خلال شهري أغسطس وسبتمبر	- دافئ قصير - تصل درجة الحرارة إلى ١٨° مئوية - تنخفض الحرارة إلى الصفر مئوي أحياناً - الأمطار قليلة وغير منتظمة	قصير معتدل	- ترتفع نسبة الرطوبة - تقل درجة الحرارة نسبياً عن الصيف

٤- فرق بين أنواع الرياح التي تهب في دولة الكويت ومميزاتها: ص ٣٢

الرياح	المميزات
الشمالية الغربية	رياح جافة بفعل المرتفع السيبيري المتمركز شمال القارة الآسيوية - تهب معظم أيام السنة - خافضة لدرجة الحرارة
الجنوبية الشرقية (الكوس)	رياح رطبة دافئة - تهب من الجنوب الشرقي وتتأثر بالمنخفض السوداني - ترتفع درجة الحرارة تزيد من نسبة الرطوبة في الصيف - تسهم باعتدال الجور في فصل الشتاء وتحمل معها المطر
السموم	رياح جافة جداً تهيب في الظهيرة - تنخفض نسبة الرطوبة - تتميز بدرجات حرارة عالية - تهب من الشمال أو الشمال الشرقي في فصل الصيف
العواصف الترابية (السرايات)	عواصف ترابية تهب في أواخر الربيع وأوائل الصيف - مثيرة للغبار مصحوبة بعواصف رعدية يسقط بسببها المطر الشديد

٥- فرق بين النشاط الاقتصادي للمجتمع الكويتي قبل اكتشاف النفط: ص ٣٧

النشاط البري	النشاط البحري
- الرعي والصيد - بعض أعمال البداوة - صناعة السدو	- الصيد - الغوص على اللؤلؤ - صناعة السفن - التجارة البحرية

٦ - قارن بين: ص ٤٤

وجه المقارنة	الدشة	الففال
المفهوم	بداية موسم الغوص	انتهاء موسم الغوص
الأشهر	بداية شهر مايو	شهر سبتمبر أو أكتوبر

٧- فرق بين أنواع النباتات التي تعتمد عليها حرفة الرعي: ص ٤٩

نباتات موسمية .	نباتات معمرة
حويذان	الحمض
الربلة	التندا

السؤال الثاني: أكتب فيما درست عما يلي :

١- اكتب وظيفة المهن التالية: ص ٤٥

المهنة	وظيفته
النوخذة	قائد السفينة وربانها والمسؤول عنها وطاقمها، والمسؤول عن تحديد أماكن الغوص والهيئات.
المجدمي	لقب كان يطلق على رئيس البحارة، والمسؤول عن إدارة السفينة من الداخل.
الغيص	الشخص الذي يغوص في قاع البحر بحثاً عن المحار.
السيب	الشخص المنوط به سحب الغيص للسطح عند شد الأخير الحبل (الأيد) . بالإضافة إلى مهمة مساعدة الغيص في فتح المحار.
النهام	الشخص الذي ينتشد المواويل تشجيعاً لطاقم السفينة في رحلتهم.
الرضيف	صغار السن الذين يقومون ببعض الأعمال الأقل من السيب.
الطواش	هو تاجر اللؤلؤ.

٢ - أكتب وصف المهن والحرف اليدوية التالية :

المهن الحرفية	الوصف
النجار	يقوم النجار باستخدام الاخشاب المستوردة من الهند وافريقيا بصناعة الأبواب والنوافذ "والتخوت" وبعض ألعاب الأطفال كالنباطة والدوامة وغيرها من اللوازم الضرورية والشداخة المستخدمة لصيد الفئران والتخنة والسحارة وكروسي البرمة.
الحداد	يقوم العاملون بالحدادة بصناعة المسامير اللازمة لصناعة السفن قديما، بالإضافة إلى صناعة الأدوات المستخدمة في البناء والزراعة والأدوات المستخدمة بالمنزل، حيث يقوم الحدادون بصناعة " الصخين" وهي أداة تستخدم للحفر والجدوم والهييب والمنقاش والسكاكين، والسلاسل والدودة وغيرها.
الصفار	حرفة يدوية يقوم العاملون بها بصنع وتلميع القدور المستخدمة في الطبخ المصنوعة من النحاس والأواني المنزلية المطلية من الداخل بطبقة من القصدير التي مع كثرة استعمالها تزول، حيث كانت ترسل قديما إلى الصفار الذي يقوم بدوره بتلميعها وتنظيفها وطلائها لتعود كالجديدة.
التتاك	يقوم العاملون بهذه الحرفة باستخدام الصفيح المعدنية لصنع " المحقان والدوة والتتاك وقوطي الجاز (الكروسين) والعلب وأغطيتها والسطول والطشوت وغيرها ويطلق على العامل بها مسمى (التتاك).
القفاص	يستخدم العاملون بها جريد النخل، حيث يشبك ببعض، وذلك بثقبه وادخال اطرافه في الثقوب، وحيث يقوم العامل بهذه الحرفة بصنع اشكال مختلفة من الاقفاص والمنز والسرير الذي ينام فيه الطفل قديماً، بالإضافة إلى الأسرة للكبار، والرك صندوق له فتحة من الأعلى لوضع بعض المأكولات به كالعنب والرطب والرمان وغيرها.
الحياك	يقوم الحياك بخياطة الملابس كالبشوت
النداف	يقوم النداف بتنجيد وصناعة المساند والفرش مستخدماً القطن.
السدر	إحدى الحرف السائدة التي كانت تزاو لها المرأة في البادية حياكة الصوف، حيث إنه هو أساس مكونات بيت الشعر الذي يسكنه أهل البادية، ومن الصناعات التي تتعلق بالسدر حياكة العدول وهو ما يوضع على ظهر الدابة لوضع حاجات الراكب والمزاود أكياس متوسطة لحفظ الطعام والملابس، وكذلك المنسوجات الصوفية كالمفروشات والسجاد والعباءات النسائية والبشوت الرجالية.

السؤال الثالث: علل لما يلي :

١- أهمية الموقع الاستراتيجي لدولة الكويت بين دول العالم.

- يمثل النهاية الطبيعية للطريق الملاحي البحري والتجاري.
- تمثل البوابة الرئيسية لشمال شرق الجزيرة العربية.
- منطقة (ترانزيت)، أو منطقة لعبور التجارة قليلة الضرائب.
- أحد أهم الموانئ في شمال إقليم الإحساء.
- تميز الكويتيون بالمهارة في نقل التجارة بين موانئ الخليج وسواحل الهند والشرق الأفريقي.

٢- زيادة أهمية سهل برقان.

- بسبب اكتشاف النفط، حيث يضم أكبر حقول النفط الكويتية.

ص ٢٦

٣- صلاحية بعض مناطق الكويت دون غيرها للزراعة.

- بسبب توافر المياه الجوفية.

ص ٢٦

٤- أهمية جزيرة فيلكا التاريخية.

- يوجد بها بقايا ودلائل أثرية ومعمارية قديمة.

- ذكرها الرحالة الغربيون في المصادر اليونانية والرومانية القديمة.

- اهتمام البعثات الاستكشافية للكشف عن تاريخها الحضاري.

- الجزيرة الثانية من حيث المساحة.

ص ٢٦

٥- طمع العراق خلال مراحل صراعه مع دولة الكويت في جزيرتي وربة وبويان.

- حيث كانت ستمنحه منفذاً بحرياً على الخليج العربي.

موقع
المناهج الكويتية
almanahj.com/kw

ص ٣٠

٦- يمتاز مناخ دولة الكويت بالجفاف وقلة الرطوبة.

- بسبب قلة الأمطار ونسبة التبخر العالية.

ص ٣٠

٧- يعاني سكان دولة الكويت منذ القدم من مشكلة المياه.

- لأن الموارد المائية شحيحة وعالية الملوحة.

ص ٣٥

٨- قلة عدد الوافدين في الكويت بعد عام ١٩٩٠م.

- خلال هذه السنة تعرض وضع السكان لتغيرات كبيرة نتيجة للعدوان والاحتلال العراقي الغاشم لدولة الكويت وما تبع ذلك من عودة كبيرة للوافدين من العرب وغيرهم إلى أوطانهم.

ص ٣٧

٩- أهمية موقع الخليج العربي.

- الموقع الجغرافي للخليج العربي في متوسط قارات العالم القديمة الثلاث آسيا - إفريقيا - أوروبا.

- وجود مضيق هرمز بين خليج عمان والخليج العربي.

- توفر الموارد الطبيعية البرية والبحرية (التمر - اللؤلؤ).

- توفر وسائل نقل التجارة براً وبحراً.

- وجود قوة بشرية.

ص ٤٠

١٠- لا تصلح أغلب الأراضي في دولة الكويت للزراعة.

- قلة المياه العذبة.

- مناخها القاسي.

- طبيعة أراضيها الرملية.

ص ٤٠

١١ - اتجاه السكان قديماً في الكويت إلى العمل في النشاط البحري.

- بسبب المناخ القاسي.

- وقوع الكويت في منطقة صحراوية قليلة الموارد شحيحة المياه.

- أرضها غير صالحة للزراعة.

ص ٤٤

١٢ - كساد تجارة الغوص على اللؤلؤ في دولة الكويت عام ١٩٢٨ م.

- بسبب ظهور اللؤلؤ الصناعي.

ص ٤٧

١٣ - تعتبر دولة الكويت من المراكز المهمة في التجارة الدولية.

- تمتاز دولة الكويت بموقع جغرافي استراتيجي.

- حلقة وصل تربط بين الشرق والغرب.

- نقطة ترانزيت.

ص ٤٧

١٤ - جذب التجارة والتجار الموانئ الكويت.

- قلة الرسوم الجمركية ساهمت بجذب التجارة والتجار.

ص ٤٧

١٥ - إغلاق موسم السفر نهاية مايو.

- بسبب هبوب الرياح الموسمية المسببة لهيجان المحيط الهندي وبحر العرب وتعرف بالسررايات.

ص ٤٩

١٦ - ارتبط موسم الرعي في دولة الكويت بموسم هطول الأمطار.

- لتنمو النباتات تعتمد عليها هذه الحرفة مثل نباتات موسمية الحويذان والدبلة ونباتات معمرة الحمض والثندا.

ص ٥٧

١٧ - الأهمية الأثرية لجزيرة فيلكا.

- مركزاً من مراكز حضارة دلمون القديمة (دور الوسيط التجاري بين حضارات الهند وحضارة بلاد الرافدين).

- مستوطنات مثل القلعة الهلينستية وتل الخزنة الذي كان مكاناً مقدساً عند الإغريق.

بنك أسئلة - مقرر تاريخ دولة الكويت الصف العاشر الفترة الدراسية الأولى - للعام الدراسي ٢٠٢٤ - ٢٠٢٥ م

- العملات النحاسية.

- الكتابات على الصخور مثل حجر إيكاروس.

- أختام مستديرة.

- معابد تنتشر حولها الوحدات السكانية.

- أكثر من ٤٠٠٠ ختم دلموني والتي ربما كانت تستخدم كتعويذة أو كختم تجاري أو هوية لحاملها.

السؤال الرابع: دلل على صحة العبارات التالية:

ص ٣٤

١- لم تكن الكويت منطقة مهجورة وخالية من السكان.

- سكنها وعاش على أرضها جماعات سكانية وبشرية انتمت لعهود وفترات زمنية متعددة.

- جماعات عاشت ومارست حياتها الطبيعية حيث كانت موجودة حولها أو على مقربة منها.

- يعود الوجود البشري في منطقة الكويت إلى أكثر من أربعة آلاف سنة ق.م .



- وجود بقايا الآثار الحضارية القديمة التي عثر عليها في جزيرة فيلكا وتل وارة وتل القرين وبرقان (حضارة العبيد).

ص ٣٧

٢- للتجارة دور مهم في انفتاح الكويت والكويتيين على الشعوب والثقافات المختلفة.

- كانت السفن الكويتية تصل إلى الهند وسواحل أفريقيا .

- كان الغوص والرعي أساساً قام عليه اقتصاد المجتمع البسيط الذي استطاع أن ينمو ويزدهر ويتفوق على كثير من المناطق المجاورة.

ص ٤٣

٣- مظاهر اعتزاز دولة الكويت بتراثها البحري.

- اتخذت صورة سفينة البوم الكويتي لتكون شعاراً للدولة وللعملة الوطنية. كما تزين المؤسسات بصور تعبر عن ارتباط الكويت وشعبها بتراثها البحري

ص ٤٧

٤- أدركت السلطة الكويتية أهمية التجارة ودورها كرافد اقتصادي رئيسي من مصادر دخلها.

- عمدت إلى عدم رفع الضرائب والمكوس.

- تشجيع السفن للرسو في ميناء الكويت.

- تقديم التسهيلات فأصبحت بديلاً عن الموانئ الأخرى مثل ميناء البصرة والقطيف الذي يعتبر الأعلى ضريبة.

ص ٤٨

٥- شكنت التجارة البرية عنصراً مكملاً لحركة النشاط التجاري البحري.

- كانت القوافل البرية تنقل ما تأتي به السفن الكويتية من البضائع سواء من الهند أو شرق إفريقيا إلى بغداد وحلب في شمال سورية ثم إلى أوروبا وبقية المناطق والمنافذ التجارية الأخرى.

ص ٥٦

٦- لمنطقة الصبية قيمة وأهمية أثرية كبيرة.

- إذ أنها تحتضن مئات المواقع الأثرية التي برهنت على وجود حضارة العبيد القديمة.

- العثور على أقدم القرى السكنية وآبار المياه في (بحرة - طبيح) شمال الصبية.

- العثور على عشرات من المدافن الركامية.

- العثور على جرار فخارية.

- العثور على الرحى الحجرية التي تستخدم في طحن الغلال.

- عثر على أدوات الغزل وحياسة الملابس ومساكن بيضاوية الشكل.

ص ٥٨

٧- صبغت دولة الكويت بصيغة اسلامية منذ الفترة المبكرة لظهور الإسلام.

- معركة ذات السلاسل عام ١٢ هـ والتي وقعت في منطقة كاظمة بالكويت.

- العثور على مسكوكات إسلامية، أهمها عملة أموية مؤرخة بعام ١٢٣ هـ.

- مباني في منطقة أم العيش ترجع إلى الفترة الإسلامية.

- مستوطنات متتالية في منطقة الشقاييا ووادي الباطن والذي من المحتمل أنها تقع على طريق الحج البصري طريق الحج).

السؤال الخامس: أجب عما يلي:

ص ٢٢

١- أذكر خصائص التضاريس في دولة الكويت.

- انحدار السطح تدريجياً من الغرب إلى الشرق باتجاه سواحل الخليج العربي.

- لا يزيد أعلى ارتفاع في المناطق الغربية عن ٣٠٠ متر.

- يتكون السطح من سهول رملية مستوية تتخللها بعض التلال قليلة الارتفاع (١٤٥) م.

ص ٢٩

٢- أذكر المميزات المناخية لدولة الكويت.

- ارتفاع درجة الحرارة معظم أيام السنة.
- مناخ قاري جاف قاس.
- وجود فصلين رئيسيين هما (الصيف - الشتاء) وفصلين ثانويين (الربيع - الخريف).

ص ٣٠

٣- عدد أهم مناطق المياه الصالحة للاستهلاك الآدمي بالكويت.

- الروضتين.
- أم العيش.
- الصليبية.
- العبدلي.
- الوفرة.

ص ٤١

٤- عدد العوامل التي ساعدت على ازدهار صناعة السفن في دولة الكويت.

- هبوب الرياح الموسمية على منطقة الخليج العربي.
- توفر الأيدي العاملة لصناعة السفن.
- تمتع الكويت بواجهة بحرية طويلة من شمالها إلى جنوبها يتخللها التعرجات ووجود جون الكويت.
- براعة الأساتذة والقلاليف.
- توفر مصادر المواد المستخدمة في صناعة السفن.

ص ٤٧

٥ - عدد الموانئ التي اتجهت لها سفن دولة الكويت قديماً.

- البصرة
- الهند مثل: كراتشي والنيبار والملبار وبومباي.
- الساحل اليمني مثل: سيحوت وحضرموت والمكلا وعدن.
- البحر الأحمر وشرق إفريقيا مثل: لامو ومباسا وزنجبار.

ص ٤٥

٦ - اذكر الصفات التي يجب أن تتوافر في النوخذة.

- القدرة على معرفة المسالك والطرق.
- الإلمام بالاتجاهات البحرية.
- اتخاذ جميع القرارات.
- صاحب الحق في إعطاء إذن للبحارة بمغادرة السفينة وضمان سلامة طاقمها.

ص ٤٨

٧- عدد أهم الواردات التي كانت تأتي محملة على السفن الكويتية.



- الأسلحة والذخيرة.
- الأرز والشعير والقمح.
- الأقمشة والرطب والتبغ.

ص ٥٠

٨ - عدد الصعوبات التي تواجه الزراعة قديماً.

- شح قلة المياه.
- ارتفاع درجة الحرارة.
- عدم خصوبة التربة.

ص ٥٠

٩ - عدد النباتات البرية المهمة التي تمنو في دولة الكويت.

- العرفج.
- الحمض.
- الحنظل.
- التندا.
- الأربعة.

السؤال السادس: فند العبارات التالية :

ص ٣٥

١- استمر وضع السكان في الكويت دون تغير عام ١٩٩٠م.

- تعرض وضع السكان لتغيرات كبيرة نتيجة الاحتلال العراقي الغاشم على دولة الكويت، وماتبع ذلك من عودة كبيرة للوافدين الى أوطانهم.

السؤال السابع: ما النتائج المترتبة على:

٤٠ ص

١ - توفر الأسماك الجيدة والمختلفة الأشكال في مياه الخليج العربي.

- انتعاش حرفة صيد الأسماك.

- الفائض من الأسماك كان يملح ويجفف ويصدر إلى الموانئ المجاورة.

- مزاوله سكان الكويت مهنة الصيد.

٤١ ص

٢ - تنوع الأسماك الموجودة في مياه الخليج.

شجع السكان على مزاوله صيد الأسماك.

٤٤ ص

٣ - إصدار قانون الغواصين عام ١٩٤٠م.

- نظم علاقة العمل بين النوخة والبحارة.

٤٤ ص

٤ - لؤلؤ يظهر اللؤلؤ الصناعي عام ١٩٢٨م.

- لما كسدت تجارة الغوص على اللؤلؤ.

٤٦ ص

٥ - تأثير حرفة الغوص على أهل الكويت.

- تقوية العلاقات بين السكان وتأسيس قيم الصدق والأمانة والعمل.

- الاحترام المتبادل وتكوين الأسرة الواحدة.

- التعاون والتعاقد بالمجتمع.

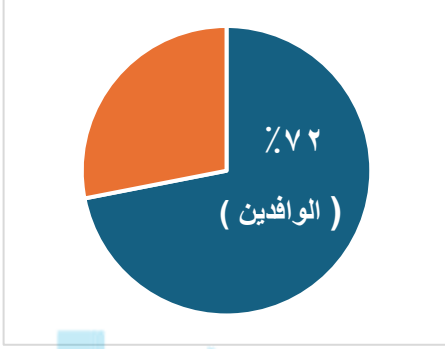
- الالتزام والطاعة والصبر.

السؤال الثامن: عرف المفاهيم التالية :

- ١- **الترانزيت:** منطقة لتجارة العبور قليلة الضرائب. ص ٢٠ أو إعادة تصدير الواردات. ص ٤٧
- ٢- **الدولة البحرية:** دولة تطل على مسطح مائي. ص ٢٢
- ٣- **الدولة المغلقة:** دولة لا تطل على مسطح مائي. ص ٢٢
- ٤- **سهل الروضتين:** أرض منبسطة تنحدر نحو الشرق والشمال الشرقي. ص ٢٥
- ٥- **السهل:** مساحات أرضية واسعة من الأراضي المستوية. ص ٢٥
- ٦- **التل:** ارتفاع اقل من الجبل. ص ٢٥
- ٧- **الرياح الجنوبية الشرقية (الكوس):** رياح رطبة دافئة تهب من الجنوب الشرقي وتتأثر في المنخفض السوداني وتعمل على رفع درجة الحرارة والرطوبة صيفاً. ص ٣٢
- ٨- **السموم:** رياح جافة جداً تهب في الظهيرة حيث تنخفض معها الرطوبة النسبية وتعمل على رفع درجات الحرارة تهب من الشمال أو الشمال الشرقي في فصل الصيف. ص ٣٢ almanahj.com/kw
- ٩- **العواصف الترابية (السرايات):** رياح تهب في أواخر الربيع وأوائل الصيف فتثير الغبار ويصاحبها عواصف رعدية يسقط بسببها المطر الشديد. ص ٣٢
- ١٠- **حضارة العبيد:** بقايا الآثار الحضارية القديمة التي عثر عليها في مناطق مختلفة من أراضي الكويت كالصبية وجزيرة فيلكا وواردة وتلال القرين وبرقان. ص ٣٤
- ١١- **إقليم البحرين:** إقليم يمتد من جنوب البصرة شمالاً حتى عمان جنوباً. ص ٣٤
- ١٢- **طريق الحرير:** هو طريق يعد المحور الأكثر أهمية للتجارة الدولية في العالم القديم. ص ٣٨
- ١٣- **القمبار:** الصيد بالإضاءة حيث يتجمع السمك حول سراج يحمله الصياد فيقوم بضربه بألة حادة كالسيف أو عصا في نهايتها حربة أو السالية. ص ٤١
- ١٤- **العمائر الساحلية:** مخازن المواد المستخدمة في صناعة السفن. ص ٤١
- ١٥- **الأستاذ:** هو الذي يقوم بتصميم السفينة. ص ٤١
- ١٦- **القلاب:** هو الذي يقوم بعملية إعداد المواد اللازمة للصناعة ثم عملية بناء السفينة نفسها. ص ٤١
- ١٧- **الهيئات:** منابت المحار المحتوي على اللؤلؤ. ص ٤٤
- ١٨- **قانون الغواصين:** قانون ينظم العلاقة بين النوخة والبحارة. ص ٤٤
- ١٩- **المنز:** السرير الذي ينام فيه الطفل قديماً. ص ٥٣
- ٢٠- **الرك:** صندوق له فتحة من الأعلى لوضع بعض المأكولات به كالغنب والرطب والرمان. ص ٥٣
- ٢١- **العدول:** ما يوضع على ظهر الدابة لوضع حاجات الراكب. ص ٥٣
- ٢٢- **المزاود:** أكياس متوسطة لحفظ الطعام والملابس. ص ٥٣

السؤال التاسع: اقرأ العبارة التالية ثم أجب عما يليها:

بلغ عدد السكان في دولة الكويت عام ١٩٩٠م حوالي ٢١٤١٤٦٥ نسمة منهم ٧٢٪ من غير الكويتيين (الوافدين).



موقع
المناهج الكويتية
almanahj.com/kw

١. استنتج نسبة الكويتيين عام ١٩٩٠م. ٢٨٪.

٢. حول نسبة الوافدين في الفقرة السابقة إلى دائرة بيانية. ٧٢٪.

السؤال العاشر: اكتب مدلول الصور التالية:



الغيص ص ٤٦



شعار دولة الكويت ص ٤٣



سفينة اليوم ص ٤٣



حرف يدوية عمل بها الكويتيين قديماً ص ٥٣



أختام دائرية وأسطوانية



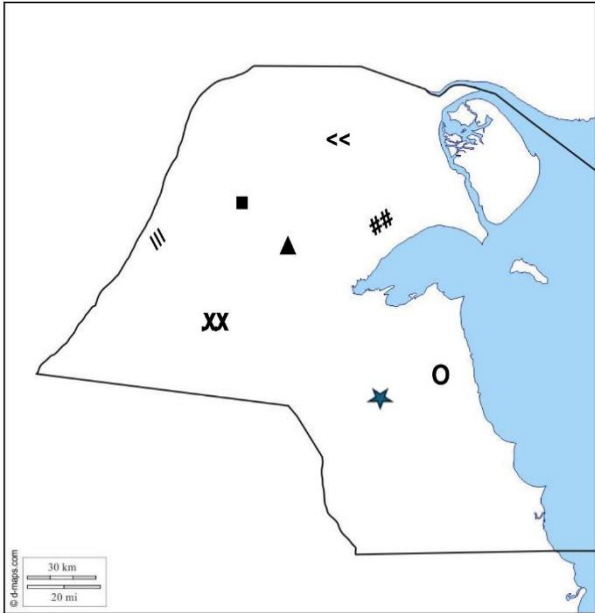
طبعة ختم



صور لآثار جزيرة فيلكا ص ٥٦ - ٥٧ - ٦٠

السؤال الحادي عشر: لاحظ خريطة الكويت التي أمامك ثم حدد عليها ما يلي:

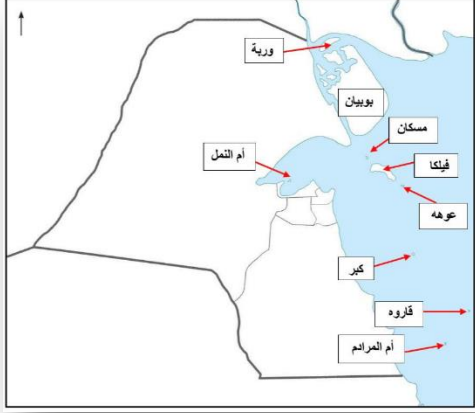
- حدد تضاريس دولة الكويت:



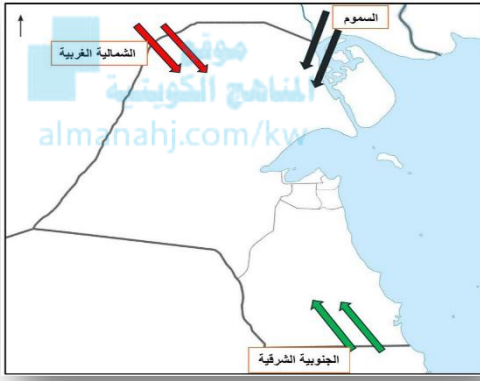
١. تلال كراع المرو باستخدام الرمز (▲)
٢. تلال جال الزور باستخدام الرمز (##)
٣. تلال اللياح باستخدام الرمز (■)
٤. تل واره باستخدام الرمز (★)
٥. سهل الدبدبة باستخدام الرمز (O)
٦. سهل الروضتين باستخدام الرمز (<<)
٧. هضبة الأحمدي باستخدام الرمز (O★)
٨. وادي الباطن باستخدام الرمز (///)

- حدد الجزر الكويتية ص ٢٣- ٢٦

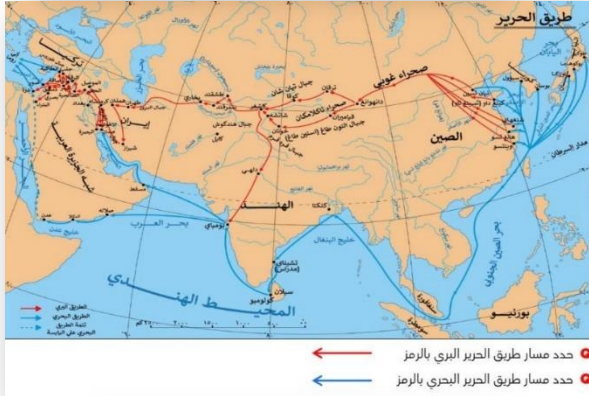
(وربة - بويان - مسكان - أم النمل - فيلكا - عوهه - كبر - قاروه - أم المرادم)



- حدد اتجاهات الرياح في دولة الكويت ص ٣٢
الشمالية الغربية / السموم / الجنوبية الشرقية (الكوس)



- حدد مسار طريق الحرير البحري والبري ص ٣٩



- حدد المناطق الزراعية في دولة الكويت قديماً ص ٥٠



أسئلة الفصل الثاني: نشأة الكويت من ص ٦٥ - ٨٠

أولاً: الأسئلة الموضوعية....

السؤال الأول: أكمل العبارات التالية بما يناسبها فيما درست:

- ١- الكويت تصغير لكلمة كوت وهي تعني القلعة أو الحصن. ص ٦٥
- ٢- نشأت الكويت في عام ١٦١٣ م. ص ٦٦
- ٣- الموطن الأصلي لجماعات العتوب في نجد يسمى الهدار. ص ٦٧
- ٤- المنطقة الأولى التي استقر فيها العتوب بالقرب من الزبارة في قطر تسمى الفريجة. ص ٦٧
- ٥- العتوب ترجع في أصلها إلى عدة قبائل أبرزها قبيلة عنز. ص ٦٧
- ٦- منطقة شكلت محطة الاستقرار الأولى للعتوب تسمى قطر. ص ٦٧
- ٧- أصل كلمة العتوب الفعل عتب ومعناه الإكثار في الترحال. ص ٦٧
- ٨- أحد موظفي شركة الهند الشرقية البريطانية هو فرنسيس وارين. ص ٦٨
- ٩- تولى الحكم في الكويت قديماً حسب تقسيم المهام أسرة آل صباح. ص ٦٩
- ١٠- تولى آل خليفة في الكويت قديماً شؤون التجارة. ص ٦٩
- ١١- تولى آل الجلاهمة في الكويت قديماً شؤون البحر. ص ٦٩
- ١٢- قبيلة امتد نفوذها من قطر جنوباً حتى البصرة شمالاً تسمى بني خالد. ص ٧٠
- ١٣- تولى الشيخ عبد الله الأول بن صباح بن جابر الحكم عام ١٧٦٣ م. ص ٧١
- ١٤- الشيخ الذي حدثت في عهده معركة الرقة يسمى عبد الله الأول بن صباح بن جابر. ص ٧١
- ١٥- وقعت معركة الرقة بين الكويت وبني كعب في عام ١٧٨٣ م. ص ٧١
- ١٦- العام الذي تم فيه بناء سور الكويت الأول هو ١٧٩٧ م. ص ٧٢
- ١٧- أول معركة بحرية في تاريخ إمارة الكويت كانت معركة الرقة. ص ٧٢
- ١٨- حاكم دولة الكويت الذي لقب بجابر العيش يسمى جابر الأول. ص ٧٤

٧٤ ص ١٩- تم بناء السور الثاني لدولة الكويت في عام ١٨١٤ م.

٧٥ ص ٢٠- ألقى الرسوم على البضائع احتراماً لرغبة شعبه هو الشيخ صباح الثاني بن جابر.

٧٥ ص ٢١- زار المعتمد البريطاني لويس بيني الخليج العربي عام ١٨٦٥ م.

٧٥ ص ٢٢- المعتمد البريطاني في الخليج العربي والذي زار الكويت عام ١٨٦٥م يسمى لويس بيلي.

٧٥ ص ٢٣- من أهم الأحداث السياسية في عهده ترحيبه وتسهيله لاستقرار أسرة الأمير عبد الرحمن آل سعود هو الشيخ محمد بن صباح.

٧٥ ص ٢٤- مؤسس الدولة السعودية الثالثة هو الملك عبد العزيز آل سعود.

٧٥ ص ٢٥- اشتهر بالنزاهة والوقار والتواضع وساعده في الحكم أخواه الشيخان جراح ومبارك هو الشيخ محمد بن صباح.

٧٥ ص ٢٦- اتصف بحسن السيرة ودمائة الأخلاق وكان محبوباً لدى الجميع هو الشيخ عبد الله بن صباح الثاني.

٧٥ ص ٢٧- حملة قام بها مدحت باشا عام ١٨٧١م للسيطرة على إقليم يسمى الإحساء.

٧٩ ص ٢٨- التسهيلات التي كانت تمنح لتجار البادية تسمى تجارة المسابله.

السؤال الثاني : اختر الاجابة الصحيحة من بين الخيارات التي تلى كل عبارة :

٧١ ص ١- الشيخ الذي حصلت في عهده معركة الرقة:

(عبدالله الأول - جابر الأول - صباح الثاني - محمد بن صباح)

٧١ ص ٢- وقعت معركة الرقة بين بني كعب والكويت عام:

(١٧٧٣م - ١٧٦٣م - ١٧٨٣م - ١٧٩٣م)

٧١ ص ٣- حاكم الكويت الأول هو الشيخ:

(صباح الأول - عبدالله الأول - محمد بن صباح - مبارك الكبير)

٧٥ ص ٤- الشيخ الذي ساعد العثمانيون في حملتهم على الإحساء بقيادة مدحت باشا:

(جابر الأول - صباح الأول - عبدالله بن صباح - محمد بن صباح)

بنك أسئلة - مقرر تاريخ دولة الكويت الصف العاشر الفترة الدراسية الأولى - للعام الدراسي ٢٠٢٤ - ٢٠٢٥ م

٥- الشيخ الذي حدثت في عهده زيارة المعتمد البريطاني لويس بيلي:

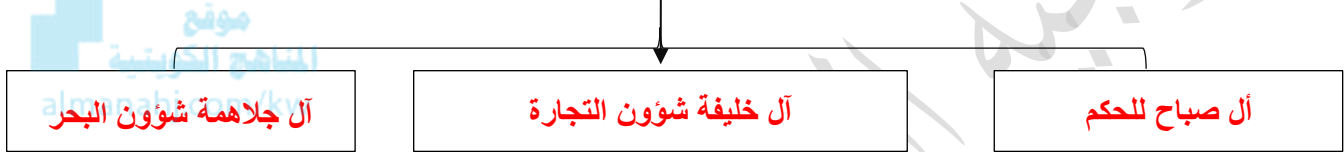
(جابر الأول - صباح الثاني - عبدالله بن صباح - محمد بن صباح)

٦- العام الذي اتجهت فيه حملة مدحت باشا للسيطرة على إقليم الاحساء:

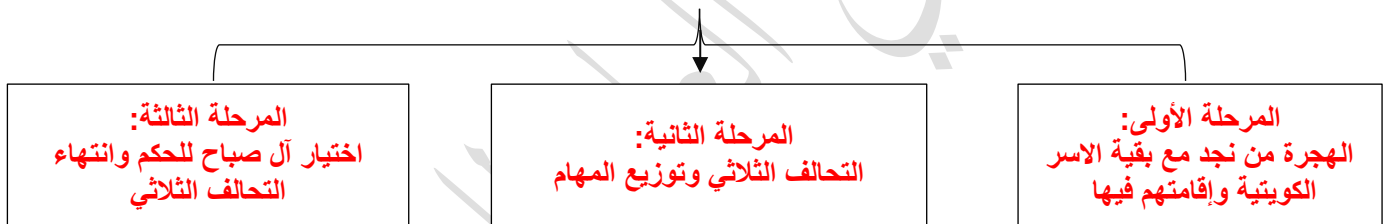
(١٨٧٠م - ١٨٧١م - ١٨٧٢م - ١٨٧٣م)

السؤال الثالث : أكمل المخططات السهمية التالية :

١- تقسيم المهام بين الأسر الثلاث الكبيرة: ص ٦٩



٢- مراحل استقرار الحكم: ص ٦٩



السؤال الرابع: اختر للقائمة (أ) ما يناسبها من القائمة (ب) وذلك بوضع الرقم في الجدول التالي:

م	القائمة (أ)	الرقم الصحيح	القائمة (ب)
١	الحاكم الأول لدولة الكويت.	٣	الشيخ جابر الأول بن عبدالله الصباح
٢	وقعت في عهده معركة الرقة البحرية.	٥	الشيخ عبدالله بن صباح الثاني
٣	تم في عهده بناء السور الثاني عام ١٨١٤م.	١	الشيخ صباح الأول بن جابر
٤	ألغى الرسوم التجارية على شعبه.	٢	الشيخ عبدالله الأول بن صباح بن جابر
٥	قام بمساعدة العثمانيين في حملتهم (حملة مدحت باشا).	٤	الشيخ صباح الثاني بن جابر
٦	قام بتسهيل الاستقرار لأسرة الأمير عبدالرحمن آل سعود والد مؤسس الدولة السعودية الثالثة.	٦	الشيخ محمد بن صباح

ثانياً: الأسئلة المقالية....

ص ٧١-٧٢

السؤال الأول: لخص أحداث معركة في الجدول التالي:

أوجه المقارنة	معركة الرقة
السنة	١٧٨٣ م
الأطراف	بني كعب والكويت
الأسباب	غيرة بني كعب من أن الميناء الكويتي هو الذي أصبح المفضل للتجارة وهذا يضيق على معاملاتهم التجارية.
النتائج	انتصار الكويت وأخذ الذخائر والمدافع ووضعها على الشاطئ تخليداً لانتصارهم.

السؤال الثاني: قارن بين حكام دولة الكويت حسب الجدول:

ترتيب الحاكم	اسم الحاكم	سنة توليه الحكم	سماته الشخصية	أهم الأحداث في عصره	تاريخ نهاية حكمه
الحاكم الأول	الشيخ صباح الأول بن جابر ص ٧١	١٧٥٢ م	الشجاعة والحكمة	ظهور الكويت ككيان سياسي منظم - توطيد الأمن - نشر العدل - ترسيخ أنشطة الكويت التجارية.	١٧٦٣ م
الحاكم الثاني	الشيخ عبدالله الأول بن جابر بن صباح ص ٧١	١٧٦٣ م	سيرة حسنة - نباهه - حزم - قريب من الحق - محب للعدالة	معركة الرقة ١٧٨٣ م - بناء سور الكويت الأول ١٧٩٧ م - ازدهرت التجارة وامتدت إلى الهند، واليمن وشرق آسيا والعراق.	١٨١٤ م
الحاكم الثالث	جابر الأول بن عبدالله الصباح ص ٧٤	١٨١٤ م	الحكمة - هدوء الطبع - حبه لشعبه - اشتهر بجابر بالعيش	تطور صناعة السفن - نقل البضائع - بناء السور الثاني ١٨١٤ م - ساعد العثمانيين على إعادة البصرة.	١٨٥٩ م
الحاكم الرابع	الشيخ صباح الثاني بن جابر ص ٧٥	١٨٥٩ م	حبه لشعبه - العدل	تقدمت التجارة - ألغى الرسوم على البضائع - زيارة المعتمد البريطاني للكويت ١٨٦٥ م.	١٨٦٦ م
الحاكم الخامس	الشيخ عبدالله بن صباح الثاني ص ٧٥	١٨٦٦ م	حسن السيرة - دماثة الأخلاق	مساعدته العثمانيين في حملتهم على الإحساء (حملة مدحت باشا).	١٨٩٢ م
الحاكم السادس	الشيخ محمد بن صباح ص ٧٥	١٨٩٢ م	النزاهة والوقار والتواضع	ترحيبه وتسهيله لاستقرار أسرة الأمير عبد الرحمن آل سعود والد مؤسس الدولة السعودية الثالثة في الكويت.	١٨٩٦ م

السؤال الثالث: أكتب فيما درست:

ص ٧١

١- اختيار الشيخ صباح الأول بعد البداية الحقيقية لظهور الكويت ككيان سياسي منظم.

- بدأ بالعمل على توطيد الأمن ونشر العدل.

- تنظيم أمور السكان والبلدة الوليدة.

- ترسيخ أنشطة الكويت التجارية.

- تحديد نظام الحكم القائم على الشورى والعدل.

ص ٧١

٢ - تولى الشيخ عبد الله الأول الحكم بعد وفاة والده على الرغم من أنه أصغر أبنائه.

- لأنه صاحب سيرة حسنة ونبية وحازم وقريب من الحق ومحب للعدالة.



ص ٧٤

٣- تعد فترة حكم الشيخ جابر الأول فترة ازدهار بحري لدولة الكويت.

- لتطور صناعة السفن الكبيرة الخاصة بالنقل البحري البغلة والبتيل.

- استطاع الكويتيون الوصول لسواحل الهند واليمن لنقل البضائع منها وإليها.

السؤال الرابع: علل لما يلي:

ص ٦٥

١ - تسمية الكويت بهذا الاسم.

- تصغير لكلمة الكوت والكلمة تعني القلعة أو الحصن.

ص ٦٧

٢ - كانت قطر محطة الاستقرار الأولى بالنسبة للعتوب.

- بسبب القحط الذي أصاب مناطقهم الأصلية.

- الصراعات القبلية في موقعهم.

ص ٦٧

٣ - تسمية العتوب بهذا الاسم.

- أصل كلمة عتوب يرجع إلى الفعل عتب ومعناه الإكثار من الترحال.

ص ٦٧

٤ - هجرة العتوب من قطر إلى جنوب البصرة ثم الصبية بالكويت.

- بسبب الخلاف الذي حدث بينهم وبين آل مسلم حكام قطر.

ص ٦٨

٥ - اختيار الشيخ صباح بن جابر للحكم.

- كان يقيم في الكويت طوال أيام العام وكان عملة في الصحراء خلافا للبقية الذين كانوا يعملون في البحر.

- سماته الشخصية من شجاعة وحكمة.

- كانت الزعامة لوالده على قومه منذ أن كانوا بنجد.

٢٧

٧٢ ص

٦ - بناء سور الكويت الأول عام ١٧٩٧ م.

- لحماية المدينة من الأخطار الخارجية.

٧٤ ص

٧ - اشتهر الشيخ جابر الأول بجابر العيش.

- لكرمه ولكثرة ما يتصدق به على الفقراء والمساكين.

٧٥ ص

٨- تراجع الشيخ صباح الثاني عن قرار فرض الضرائب.

- رفض التجار واحتراما لرغبة شعبه.



السؤال الخامس: أجب عما يلي / نفذ ما بين القوسين:

١- اذكر أشكال المساعدات التي قدمها الشيخ عبد الله بن صباح الثاني للعثمانيين في حملة مدحت باشا.

- ساند الشيخ الحملة بأسطول بحري (٨٠) سفينة يقودها بنفسه.

- أرسل جيش بري بقيادة شقيقه الشيخ مبارك.

٧٥ ص

٢ - سمات الشيخ محمد بن صباح. (عددها)

اتصف بالنزاهة والوقار والتواضع.

- ساعده في الحكم أخويه الشيخ جراح تولى الشؤون المالية - مبارك شؤون البادية والجيش).

٧٥ ص

٣- أهم الأحداث في عهد الشيخ محمد بن صباح. (اذكرها)

- رحب وسهل استقرار أسرة الأمير عبد الرحمن آل سعود في الكويت عام ١٨٩١م.

٤- حرص حكام الكويت على اتخاذ قرارات ذات أبعاد اقتصادية مما ساعد على النمو التجاري والاقتصادي (اذكر أهم

٧٨ ص

القرارات).

- قلة الضرائب على البضائع القادمة للكويت.

- سماحة وصدق وأمانة أهل الكويت.

- تشجيع بناء سفن الغوص وتأمين طرق التجارة المارة عبر أراضيها.

- اجتذاب الوكالات التجارية التابعة للشركات الأوروبية العاملة في الخليج العربي.

- لعب التجار الكويتيون دور الوسيط التجاري مع دول الجوار.

- تعزيز نزعة الاستقلال لدى حكام الكويت وتأكيد كيانهم المستقل مستندين الى الاستقرار الأمني والسياسي والاقتصادي.

٢٨

٥- حدد الفرمان العثماني علاقة الكويت بالدولة العثمانية (عدد الأسس).

- شيخ الكويت مستقل في شؤونه الداخلية.
- منح شيخ الكويت لقب قائم مقام.
- أهالي الكويت، لا يلتزمون بدفع رسوم أو ضرائب إلى الباب العالي.
- إلزام السفن الكويتية برفع العلم العثماني، مع إعفائها من دفع الرسوم.

السؤال السادس: فند العبارة التالية :

١- لم يتخذ حكام الكويت قديماً أي قرارات تساعد على النمو التجاري والاقتصادي.

- بل اتخذ حكام الكويت العديد من القرارات ذات أبعاد اقتصادية ساعدت على النمو التجاري والاقتصادي للكويت.
- قلة الضرائب على البضائع القادمة للكويت.
- تشجيع بناء سفن الغوص وتأمين طرق التجارة.
- اجتذاب الوكالات التجارية التابعة للشركات الأوروبية العاملة في الخليج العربي.
- لعب التجار الكويتيون دور الوسيط التجاري مع دول الجوار.
- تعززت نزعة الاستقلال لدى حكام الكويت وتأكيد كيانهم المستقل مستندين إلى الاستقرار الأمني والسياسي والاقتصادي وسماحة وصدق وأمانة أهل الكويت.

السؤال السابع: ما النتائج المترتبة على :

١- مساعدة الكويت للدولة العثمانية في حملة مدحت باشا عام ١٨٧١م لإعادة سيطرتها على إقليم الأحساء.

- تلطيف الأجواء بين الطرفين
- إصدار مدحت باشا والي بغداد فرماناً موسعاً عن الكويت.

السؤال الثامن: من قائل العبارات التالية:

ص ٦٦

١ - الكويت أرض قفراء نزلها جدنا صباح عام ١٠٢٢ هـ الموافق ١٦١٣ م.

- القائل: الشيخ مبارك الصباح للمقيم البريطاني في الخليج العربي.

- المناسبة: بيان حدود الكويت.

٢ - دخلت ثلاث أسر عربية ذات شأن هي آل صباح وآل جلاهمة وآل خليفة تحدوهم عوامل المصلحة والطموح في

ص ٦٨

التحالف واستقرت على بقعة من الأرض على الساحل الشمالي الغربي من الخليج العربي.

- القائل: فرنسيس واردين.

- المناسبة: اختيار آل صباح للحكم.



٣- إن لأهل الكويت علينا حقاً عظيماً، لو كانت تحت يدي ثروة طائلة لقمتم بحاجة الفقراء والمحتاجين منها إلى أن

ص ٧٤

يموتوا.

- القائل: جابر الأول بن عبد الله الصباح.

- المناسبة: لأنه اشتهر بجابر العيش وكثرة ما يتصدق به على الفقراء والمساكين.

السؤال التاسع: اكتب مدلول الصور التالية:



المنهج الكويتية
almanahj.com/kw

هجرة العتوب ص٦٧



رسالة الشيخ مبارك الصباح: بيان حدود الكويت ص٦٦

السؤال العاشر: لاحظ خريطة الكويت الصماء ثم حدد عليها موقع معركة الرقة البحرية



أسئلة الفصل الثالث: الكويت والتنافس الأوروبي على منطقة الخليج العربي من القرن الـ١٦-١٩ الميلادي من ص ٨٣ - ٨٩

أولا الأسئلة الموضوعية...

السؤال الأول: أكمل العبارات التالية بما يناسبها مما درست:

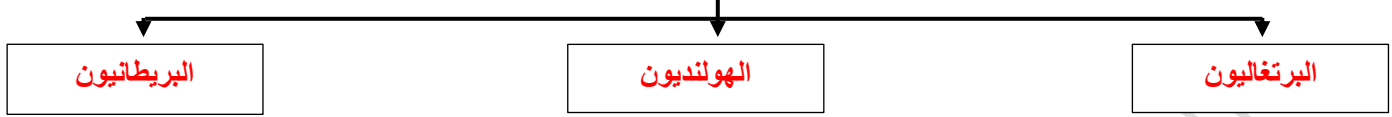
- ١- الدولة التي تعد مركز التوابل في جنوب شرق آسيا تسمى الهند. ص ٨٣
- ٢- سعى الأوروبيون لاستعمار الخليج العربي في مطلع القرن السادس عشر الميلادي. ص ٨٣
- ٣- أولى الدول الأوروبية في استعمار منطقة الخليج العربي البرتغال. ص ٨٤
- ٤- اتخذ الهولنديون مركز تجاري في ميناء بندر عباس. ص ٨٥
- ٥- خرج أول اسطول هولندي إلى آسيا ليبلغ جزر الهند الشرقية في عام ١٥٩٥ م. ص ٨٥
- ٦- بدأ الوجود الهولندي في آسيا خصوصاً وفي الشرق عموماً في أواخر القرن السادس عشر الميلادي. ص ٨٥

السؤال الثاني: اختر الإجابة الصحيحة من بين الخيارات التي تلي كل عبارة:

- ١- القوة التي ساهمت في تصفية الوجود البرتغالي في الخليج وطردهم من عمان:
(اليعاربة - العتوب - بني كعب - العثمانيين) ص ٨٤
- ٢- أول دولة استعمارية في منطقة الخليج العربي تسمى:
(هولندا - بريطانيا - البرتغال - العثمانية) ص ٨٤
- ٣- تأسست الشركة الهندية الشرقية عام:
(١٦٠٠ م - ١٦٠١ م - ١٦٠٢ م - ١٦٠٣ م) ص ٨٦
- ٤- انتقل مركز البريد البريطاني للكويت عام:
(١٧٥٥ م - ١٧٦٥ م - ١٧٧٥ م - ١٧٨٥ م) ص ٨٧

السؤال الثالث : أكمل المخطط السهمي التالي :

١- التنافس الاستعماري الأوروبي على منطقة الخليج العربي: ص ٨٣-٨٦



السؤال الرابع: صحح ما تحته خط في العبارات التالية:

م	العبرة	التصويب
١	أهم الدوافع التي سرعت من عملية الكشوف الجغرافية والاستعمارية إلى منطقة الخليج العربي: العامل السياسي والاجتماعي.	العامل الديني
٢	أسوء النظم الاستعمارية التي سيطرت على منطقة الخليج العربي الهولنديون. ص ٨٤	البرتغاليون
٣	قامت الكويت بمساعدة الدولة العثمانية في حملة مدحت باشا عام ١٨٧١م لإعادة سيطرتها على إقليم نجد.	إقليم الاحساء

ثانياً: الأسئلة المقالية...

السؤال الأول: علل فيما يلي:

- ١- اتجاه البرتغاليون للسيطرة على الخليج العربي في مطلع القرن ١٦ الميلادي. ص ٨٣
- النهضة الملاحية التي شهدتها أوروبا.
 - أدراك البرتغال للأهمية الاقتصادية لمنطقة الخليج العربي.
 - سرعة توجه الكشوف الجغرافية والاستعمارية بدافع العامل السياسي والديني على منطقة الخليج العربي حيث كان هناك صراع بينهم وبين العثمانيين.

ص ٨٤

٢ - تعرض التواجد البرتغالي في منطقة الخليج العربي للانهايار التدريجي.

- بسبب المنافسة التجارية بينه وبين الهولنديون.

- وقوع البرتغال نفسها تحت الاحتلال الأسباني.

- جهود اليعاربة في عمان التي ساهمت في تصفية الوجود البرتغالي وطردهم من المنطقة.

ص ٨٤

٢ - وقعت تغيرات في أوضاع البرتغاليين في الشرق في أواخر القرن السادس عشر الميلادي.

- وصول سفن الدول أوروبية لمشاركة البرتغاليين في الأرباح التي كانوا يحصلون عليها من تجارة الشرق.

- ظهور الهولنديون في مياه الهند الشرقية.

- تحرك إنجلترا في اتجاه الهند.

ص ٨٦



٣ - اهتمام بريطانيا بمنطقة الخليج العربي.

- لأنه طريق حيوي لحماية إمبراطوريتهم ومصالحهم في الهند.

ص ٨٧

٤ - نقل مركز البريد والتجارة البريطاني من البصرة إلى الكويت عام ١٧٧٥ م.

- بسبب الصراع بين الدولة الفارسية والعثمانية ما بين ١٧٧٠ - ١٧٧٩ م.

- الحصار الفارسي للبصرة عام ١٧٧٥.

ص ٨٧

٥ - عودة الإنجليز إلى الكويت مره أخرى واتخاذها مقر مؤقتاً عام ١٧٩٣ - ١٧٩٥ م.

- بسبب المشاكل التجارية والسياسية بين العثمانيين والوكالة الإنجليزية.

السؤال الثاني: دال على صحة العبارات التالية:

ص ٨٧

- أهمية الكويت بالنسبة لبريطانيا في نهاية القرن الثامن عشر الميلادي.

- أسس البريطانيون مراكز تجارية لهم في الكويت.

- أسس البريطانيون مركز للبريد البري المتجه من الهند إلى لندن.

- نقل مركز البريد والتجارة من البصرة إلى الكويت.

السؤال الثالث: فند العبارات التالية:

ص ٨٤

١- لم يكن لليعاربة في منطقة الخليج أي جهود تذكر نحو الوجود البرتغالي.

- ساهم اليعاربة في تصفية الوجود البرتغالي في الخليج وطردهم من المنطقة.

ص ٨٥

٢- استمر التفوق الهولندي في منطقة الخليج العربي طويلاً.

- لم يستمر طويلاً بسبب التنافس الإنجليزي الهولندي الذي قضى على امالهم في النهاية.

السؤال الرابع: ما النتائج المترتبة على:

ص ٨٧

الصراع القائم بين الدولة الفارسية والدولة العثمانية وحصار فارس للبصرة عام ١٧٧٥م.

- اضطر البريطانيون إلى نقل مركز البريد والتجارة إلى الكويت.

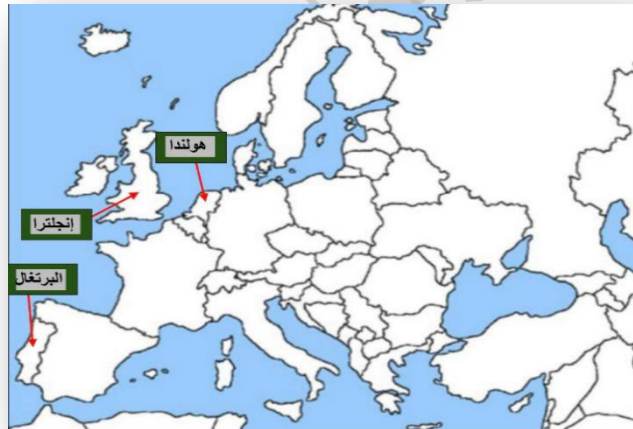
موقع
المناهج الكويتية
almanahj.com/kw

السؤال الخامس: مهارات الخريطة:



١. لاحظ خريطة العالم السياسية ثم حدد عليها دولة

تعد مركزاً للتوابل في جنوب آسيا. ص ٨٣



٢. لاحظ خريطة أوروبا الصماء التي أمامك ثم حدد

عليها الدول الاستعمارية (البرتغال/هولندا/إنجلترا)

ص ٨٩

أسئلة الفصل الرابع: الحاكم السابع الشيخ مبارك الكبير مؤسساً لإمارة الكويت الحديثة من ص ٩٣ - ١٠٥

أولاً الأسئلة الموضوعية....

السؤال الأول: أكمل العبارات بما يناسبها فيما درست:

- ١- المؤسس الحقيقي لدولة الكويت الحديثة اسمه الشيخ مبارك الصباح. ص ٩٣
- ٢- العام الذي أنشأت فيه المدرسة المباركية ١٩١١م. ص ٩٤
- ٣- أول مستشفى في الكويت تأسست في عام ١٩١١م تسمى المستشفى الأمريكاني. ص ٩٤
- ٤- الحاكم الذي عقدت في عهده معاهدة الحماية البريطانية عام ١٨٩٩م اسمه مبارك الصباح (مبارك الكبير). ص ٩٨
- ٥- العام الذي وقعت معركة هدية ١٩١٠م. ص ١٠٤
- ٦- العام الذي وقعت فيه معركة الصريف ١٩٠١م. ص ١٠٤

السؤال الثاني: اختر الإجابة الصحيحة من بين الخيارات التي تلي كل عبارة:

- ١- عقدت بريطانيا اتفاقية الحماية البريطانية على الكويت عام:
(١٨٩٦م - ١٨٩٧م - ١٨٩٨م - ١٨٩٩م) ص ١٠٠
- ٢- المعركة التي قادها الشيخ مبارك الصباح في مارس عام ١٩٠١م:
(الرقة - الصريف - هدية - الجهراء) ص ١٠٤
- ٣- المعركة التي قادها الشيخ مبارك الصباح في مايو عام ١٩١٠م:
(الرقة - الصريف - هدية - الجهراء) ص ١٠٤

السؤال الثالث : رتب الأحداث التاريخية التالية من الأقدم الى الأحدث في الجدول التالي :

الحدث	الترتيب
١- قيام الدولة السعودية الثالثة.	٢
٢- معركة الصريف.	١
٣- وفاة الشيخ مبارك الكبير.	٤
٤- معركة هدية.	٣

ثانياً: الأسئلة المقالية...

السؤال الأول: فرق بين كل من في الجدول التالي:

١- سياسة الدولة العثمانية مع الكويت قبل وبعد اتفاقية الحماية البريطانية عام ١٨٩٩م: ص ٩٨

بعد الحماية	قبل الحماية
- محاولات فرض النفوذ بالقوة. - تهديد الشيخ مبارك الصباح بالنفي - إرسال بعض الوحدات العسكرية لأراضي الكويت. - ظلت تهديدات الدولة العثمانية للكويت مستمرة طوال عهد الشيخ مبارك.	- فرض سيطرتها بجعلها نهاية لمشروع خط سكة حديد بغداد برلين. - إرسال موظفين وجباة ضرائب. - تظاهروا بالتعامل بموقف حيادي مع الكويت خوفاً من توجه الشيخ مبارك للقوى الخارجية.

٢ - السبب المعلن وغير المعلن لخطوات روسيا للتأثير على الشيخ مبارك في القرن ١٩م: ص ٩٦

السبب الحقيقي	السبب المعلن
ستاراً لأهداف سياسية غير معلنة وتعزيز النفوذ الروسي في الكويت.	إقامة بعض المشاريع التجارية في الكويت مثل (مشروع كابنيسيت).

٣- الجوانب الإيجابية والسلبية لاتفاقية الحماية عام ١٨٩٩م: ص ١٠٠

الجوانب السلبية لاتفاقية	الجوانب الإيجابية لاتفاقية
- فقدت الكويت سيادتها فيما يتعلق بشؤونها الخارجية. - طبقت على الكويت عبارة (إمارة مستقلة تحت الحماية البريطانية) في جميع الاتصالات الرسمية.	- تدعيم استقرار الأوضاع في الكويت. - دعم الكويت في مواجهة الأخطار الخارجية والداخلية (حفظت حدودها من الأطماع في تلك الفترة). - إيقاف التهديدات العثمانية والروسية للكويت. - محافظة الكويت على كيانها السياسي.

السؤال الثاني: علل لما يلي:

ص ٩٦

١ - رفض الشيخ مبارك الصباح كافة المشاريع المقدمة من الروس.

- لأنها كانت ستار الأهداف سياسية غير معلنة وتعامل معها الشيخ مبارك الصباح بكل حذر من خلال رفضها.

ص ١٠٠

٢ - أهمية معاهدة ١٨٩٩م بالنسبة للكويت .

- حفظت للكويت حدودها من الأطماع في تلك الفترة.

ص ١٠٠

٣ - سعى الشيخ مبارك الصباح نحو البريطانيين وعقد اتفاقية الحماية ١٨٩٩ م.

- قلق الشيخ مبارك من التهديد العثماني المستمر.

- خوفه من ضم العثمانيين الإمارة بالقوة.

- إيقاف النفوذ العثماني والروسي.

- جعل الكويت تنمو بعيداً عن الصراعات.

ص ١٠٠

٤ - اتجهت الكويت إلى توقيع معاهدة الحماية مع بريطانيا ١٨٩٩ م.

- بسبب التهديد العثماني للكويت وأطماع الروس والتمهيد لجعل الكويت تنمو بعيداً عن الصراعات.

ص ١٠٣

٥ - دعم الشيخ مبارك الصباح الأمير عبد العزيز آل سعود عسكرياً.

- استعادة ملك آبائه ويسانده في معاركه.

السؤال الثالث: اقرأ الفقرة التالية ثم أجب عما يليها من أسئلة:

كانت فترة حكم الشيخ السابع مبارك الصباح ١٨٩٦ م - ١٩١٥ م حاسمة في تاريخ الكويت، حيث كان يواجه واقعاً دولياً يموج بالتغيرات والمطامع التي هددت إمارته ووجوده، وعلى الصعيد الداخلي كان اهتمام الشيخ مبارك الصباح بحفظ الأمن ورعاية مصالح الإمارة الاقتصادية والسكانية وتشجيع التجارة.

- نفذ ما بين القوسين :

- ١- ما ترتيب الحاكم الشيخ مبارك الصباح **الحاكم السابع**. (ترتيب الحاكم) ص ٩٣
- ٢- كانت فترة حكم الشيخ مبارك الصباح حاسمة في تاريخ الكويت (علل لما يلي)
- كان يواجه واقعاً دولياً يموج بالتغيرات والمطامع التي هددت إمارته ووجودها. ص ٩٣
- ٣- تطور التعليم والصحة والجيش في دولة الكويت في عهد الشيخ مبارك الصباح. (دلل على صحة العبارة) ص ٩٤
- التعليم: إنشاء المدرسة المباركية في عهده عام ١٩١١ م وكانت أول المدارس النظامية الأهلية.
- الصحة: وافق على تأسيس أول مستشفى عام ١٩١١ م والذي أطلق عليها المستشفى الأمريكي.
- الجيش: وفر للجيش عقيدة قتالية وتموين وإدارة وتشكيلات قتالية معتمداً على قبائل الكويت وسكانها.
- ٤- اهتمام الشيخ مبارك الصباح بحفظ الأمن وتشجيع التجارة. (اعطي امثلة) ص ٩٤
- إخراج قوات عسكرية لتأمين طرق القوافل التجارية وضمان سلامة الطرق داخل حدود إمارته أو بالقرب منها.
- عمل على تشجيع التجارة.
- يراقب الأسواق ومشكلات الأهالي.
- يعاقب الخارجين أو من يحاول الخروج على النظم المتبعة. - فتح خزائنه للتجار ويمدهم بالمال لمساعدتهم في تجارتهم.
- شجع على تصنيع السفن الكبيرة لنقل البضائع بين الكويت والموانئ المختلفة خاصة الهند.
- كان يتوسط لحل المشكلات التي تنشأ بين التجار.
- ٥- قيدت اتفاقية ١٨٩٩ م استقلالية الكويت في عهد الشيخ مبارك الصباح. (فند العبارة) ص ١٠٣-١٠٤
- بل حافظت الكويت على استقلالها في ظل المعاهدة إذ انطبق عليها وصف الدولة المستقلة تحت الحماية البريطانية والدليل ما يلي:

بنك أسئلة - مقرر تاريخ دولة الكويت الصف العاشر الفترة الدراسية الأولى - للعام الدراسي ٢٠٢٤ - ٢٠٢٥ م

- تحرك الشيخ مبارك الصباح المنفرد المتمثل في دعمه للأمير عبد العزيز آل سعود عسكرياً لاستعادة ملك آبائه ومساندته في معاركه.

- قيادة الشيخ مبارك عدة حروب ومعارك منها(الصريف ١٩٠١م وهدية ١٩١٠م).

- يقف بقوة في وجه أي سياسة تنتقص من سيادة الكويت، حيث يذكر أن الشيخ مبارك كان معارضاً عملية تعيين ممثل تركي في دولة الكويت.

السؤال الرابع : دلل على صحة العبارات التالية:

١. تبدو الخطوات الروسية لتعزيز نفوذها في الكويت أكثر وضوحاً منذ نهاية القرن التاسع عشر الميلادي. ص ٩٦



- إقامة بعض المشاريع التجارية مثل إنشاء محطة للفحم.

- ميناء لتزويد سفنها بالوقود.

- جعل الكويت نهاية لخط سكة حديد (مشروع كابنيست).

٢. دور الشيخ مبارك الصباح في التصدي للأطماع الخارجية. ص ٩٦-٩٨

مع الروس: أنه رفض مشروع انشاء محطة فحم لأنه رآه يميل على الجانب البريطاني.

مع الألمان: رفض مشروع سكة برلين - بغداد لأنه لا يريد للألمان أي مشروع اقتصادي فوق أراضيهم لارتباطه باتفاقية حماية مع الانجليز.

مع الدولة العثمانية: رفض مشروع خط سكة الحديد لأنه أدرك ان الكويت سوف تفقد استقلاليتها.

٣. تأييد الشيخ مبارك الصباح للأمير عبد العزيز آل سعود. ص ١٠٣

- عندما تجهز الأمير عبد العزيز آل سعود لمغادرة الكويت قدم له الشيخ مبارك الصباح الأسلحة والمؤن وما يعينه على تحقيق هدفه في استعادة ملك آبائه بعد استقرار دام ٩ سنوات على أرض الكويت.

السؤال الخامس : أجب عما يلي:

١ - ما موقف الشيخ مبارك الصباح من البعثة الألمانية. ص ٩٧

- أحسن الشيخ مبارك استقبال البعثة عام ١٩٠٠م في منطقة الجهراء، ولكنه رفض أي مشاريع اقتصادية بحكم الاتفاقية مع الانجليز ١٨٩٩م.

٢- عدد بنود اتفاقية الحماية ١٨٩٩م. ص ١٠١

- أن يلزم حاكم الكويت نفسه ووارثيه وخلفه في الحكم بالألا يستقبل أي وكيل أو ممثل لأي سلطة أو حكومة في الكويت أو في أي مكان آخر من حدود مقاطعته بدون الموافقة السابقة للحكومة البريطانية.

- أن يلزم حاكم الكويت نفسه ووارثيه وخلفه في الحكم ألا يتنازل أو يبيع أو يأجر أو يرهن أو يعطي للاستغلال لأي غرض كان أي جزء من مقاطعته لأي حكومة أو رعايا أي سلطة بدون الموافقة السابقة لهذه الأغراض من حكومة صاحبة الجلالة.

السؤال السادس: ما تفسيرك لما يلي:

١ - فترة حكم الشيخ مبارك الصباح ١٨٩٦م - ١٩١٥م حاسمة في تاريخ الكويت. ص ٩٣



- كان الشيخ حاكماً مطلقاً.

- كان يواجه واقعاً دولياً يمزج بالتغيرات والمطامع والتهديدات التي هددت إمارته ووجودها.

٢ - لو لم يرفض الشيخ مبارك الصباح مشروع سكة الحديد مع الدولة العثمانية والألمان. ص ٩٧-٩٨

- لفرضت الدولة العثمانية سيطرتها على الكويت وجعلتها نهاية لمشروع خطة سكة حديد برلين بغداد بالتعاون مع الألمان.

٣ - حرص بريطانيا على بقاء اتفاقية الحماية للكويت عام ١٨٩٩م سرية. ص ١٠٠

- بسبب عدم رغبتها في إثارة الدولة العثمانية.

- عدم خلق توتر جديد بينها وبين القوى الأوروبية.

السؤال السابع: ما النتائج المترتبة على:

- توقيع اتفاقية الحماية البريطانية ١٨٩٩م. ص ١٠٠

- حماية الكويت من الأخطار الداخلية والخارجية وحافظت على حدود دولة الكويت واستقرار الأوضاع.

السؤال الثامن: من قائل العبارات التالية:

(لقد قاومت هذا طيلة عمري وأنت تطالبني بالموافقة على ذلك) : ص ١٠٤

- القائل: الشيخ مبارك الصباح للمعتمد البريطاني.

- المناسبة: عندما أرادت بريطانيا تعيين ممثل تركي في الكويت واحتد النقاش مع المعتمد البريطاني.

- علام تدل هذه العبارة: عدم تبعية الكويت للدولة العثمانية.

السؤال التاسع: اكتب مدلول الصورة التالية:



المستشفى الأمريكي ص ٩٥

المناهج الكويتية
almanahj.com/kw



المدرسة المباركية ص ٩٥



صورة الشيخ مبارك الصباح ص ٩٣

السؤال العاشر: لاحظ الخريطة التي أمامك ثم أجب عما يليها من أسئلة:

- حدد على الخريطة معارك الشيخ مبارك الصباح ص ١٠٤

(معركة الصريف - معركة هدية)

