

تم تحميل هذا الملف من موقع ملفات الكويت التعليمية



[com.kwedufiles.www//:https](https://www.kwedufiles.com)

\*للحصول على أوراق عمل لجميع الصفوف وجميع المواد اضغط هنا

\* للحصول على أوراق عمل لجميع مواد الصف العاشر اضغط هنا

<https://kwedufiles.com/10>

\* للحصول على جميع أوراق الصف العاشر في مادة تاريخ وجميع الفصول, اضغط هنا

<https://kwedufiles.com/10history>

\* للحصول على أوراق عمل لجميع مواد الصف العاشر في مادة تاريخ الخاصة بـ الفصل الأول اضغط هنا

<https://www.kwedufiles.com/10history1>

\* لتحميل كتب جميع المواد في جميع الفصول للـ الصف العاشر اضغط هنا

<https://www.kwedufiles.com/grade10>

\* لتحميل جميع ملفات المدرس عبد الله الذهب اضغط هنا

[bot\\_kwlinks/me.t//:https](https://t.me/bot_kwlinks)

للحصول على جميع روابط الصفوف على تلغرام وفيسبوك من قنوات وصفحات: اضغط هنا

الروابط التالية هي روابط الصف العاشر على مواقع التواصل الاجتماعي

مجموعة الفيسبوك

صفحة الفيسبوك

مجموعة التلغرام

بوت التلغرام

قناة التلغرام

رياضيات على التلغرام



# الفصل الأول



الصف العاشر

تاريخ الكويت

من إعداد الاستاذ عبدالله الذهب

اسم الطالب: .....

الصف: .....

# السيرة الذاتية

الاسم: عبدالله حسين محمد الذهب

- معلم فلسفة في وزارة التربية منذ عام 2012م حتى الآن .
- خريج أكاديمية إعداد القادة ( جمعية المعلمين الكويتية )الدفعة السادسة 2013-2014م.

## ● حاصل على العديد من الدورات في مجال تطوير الذات:-

- شهادة صناعة الذات من البورد العربي مارس 2014 م .
- حاصل على شهادة تدريب المتدربين ابريل 2014 .
- الحوار والتفاهم باستخدام الأدوات التدريبية يونيو 2014 م .
- القبعات الست اكتوبر 2014 م .
- خطوات نحو الإبداع مايو 2015 م .
- حاصل على شهادة تدريب المتدربين 2017م
- مهارات أساسية في الإلقاء أغسطس 2017م
- عضو سابق في فريق أكاديمية إعداد القادة الدفعة 7 و 8 .
- منتسب سابق بمركز كنوز ورموز للاستشارات والتدريب 2015م ( الموسم الثاني )
- عضو في جمعية المعلمين الكويتية .
- عضو في نادي إنسان للاستشارات والتدريب .
- أحد مؤسسي مركز التدريب في ثانوية مرشد سعد البذال .
- حاصل على جائزة المركز الأول في مسابقة كرة القدم وأفضل لاعب في البطولة عام 2014-2015م.
- حاصل على جائزة المركز الأول على مستوى منطقة الفروانية في مسابقة إبداعات في تأصيل القيم التربوية عام 2014م-2015م .

للتواصل:

تويتر: @chelsawi

هاتف : 99566929

إيميل: alabod\_lampard@hotmail.com

انستغرام: @al3bod87

## مقدمة

بسم الله الرحمن الرحيم

تحية طيبة أما بعد،

يسرني أن أقدم لكم مذكرة تاريخ الكويت الصف العاشر للفصل الدراسي الأول ، والتي حرصت من خلالها أن أقدم مجموعة متنوعة من الأسئلة التي تخص المقرر الدراسي منها ما هو موضوعي ومنها المقالي ، بحيث يتسنى للمتعلم أن يعرف طريقة الأسئلة وكيفية صياغتها وإعداده للامتحانات النهائية ، وبإمكان معلم الفصل استخدامها كمذكرة أو أوراق عمل أو للمتابعة اليومية ، واختتمت كلامي بأن هذه المذكرة لا تغني عن الكتاب ولكنها مكملة للكتاب ووسيلة تبسيط للمتعلم.

مع تمنياتي للجميع بالتوفيق والنجاح

الفصل الاول  
معالم الكويت الجغرافية والاقتصادية والحضارية

جغرافية دولة الكويت ص21-23

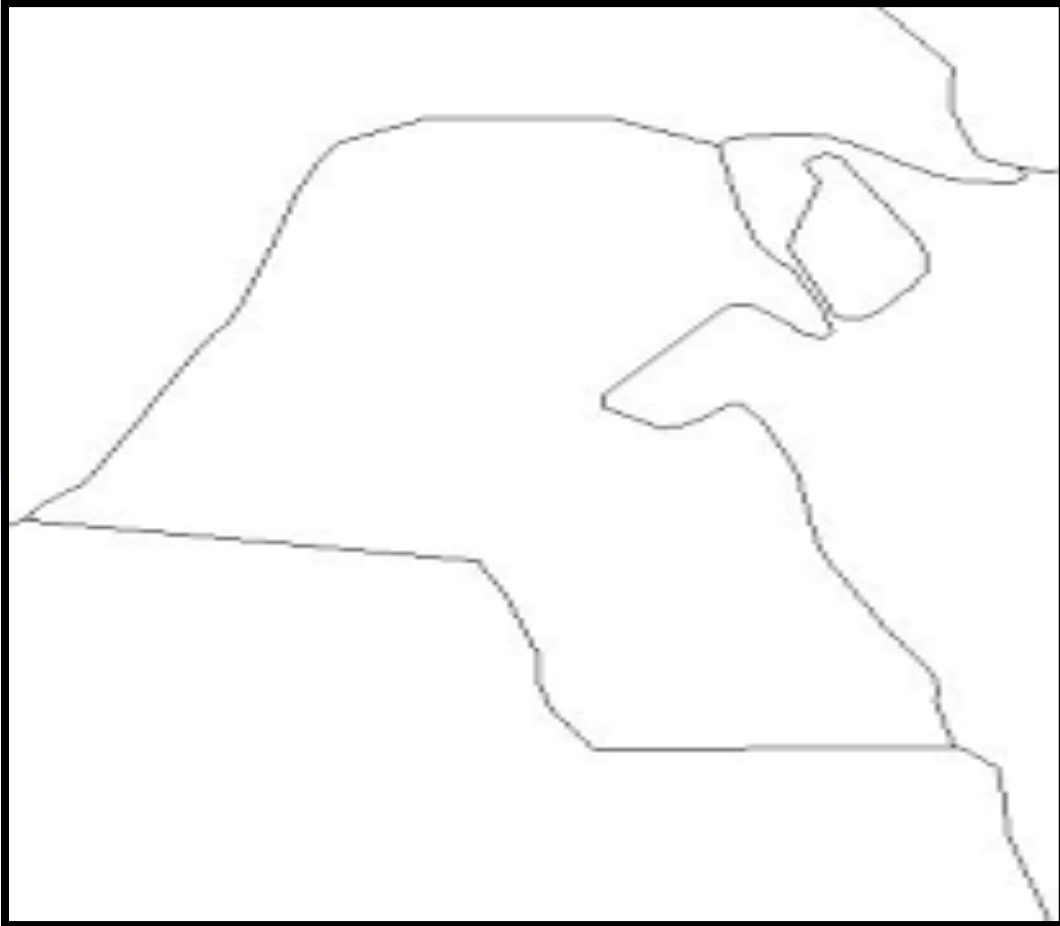
1- الموقع والمساحة:

- أكمل ما يلي:-
- أ- تقع دولة الكويت من شبه الجزيرة العربية في الجزء .....
- ب- يحد دولة الكويت من الشمال والشمال الغربي دولة عربية تسمى .....
- ت- دولة الكويت يحدها من الجنوب والجنوب الغربي دولة عربية تسمى .....
- ث- يقع الخليج العربي بالنسبة لدولة الكويت من جهة .....
- ج- تقع دولة الكويت بين خطي عرض ..... و ..... شمالاً وتقع بين خطي طول ..... و ..... شرقاً.

- أذكر مساحة دولة الكويت؟

- حدد على الخريطة الصماء التي امامك لدولة الكويت كلاً من :

المسطحات المائية - الدول المجاورة؟



- علل: الموقع الاستراتيجي لدولة الكويت جعل لها أهمية بين دول العالم ؟ ( عدد الأسباب )

ج: 1- .....

..... 2-

..... 3-

..... 4-

..... 5-

-2- التضاريس: ص 24- 28

- أذكر أهم مظاهر السطح لدولة الكويت؟

- ..... ●
- ..... ●
- ..... ●
- ..... ●

- أكمل:-

- يبلغ ارتفاع حافة تلال جال الزور حوالي .....
- يبلغ ارتفاع حافة كراع المرو حوالي .....
- هضبة تمتد في اتجاه شمالي جنوبي الكويت تسمى .....
- تضم الكويت عدة أودية صحراوية جافة منها الحد الفاصل بين الحدود الكويتية العراقية بمسافة 150 كم ويسمى .....
- أحد السهول الموجودة بالكويت والذي يمتد من جون الكويت باتجاه الجنوب موازي لخط الساحل يسمى .....
- سهل يقع في شمال الكويت يسمى .....
- عدد أهم المناطق الصالحة للزراعة في دولة الكويت ؟

ج: .....

**3- جزر الكويت: ص 28-31**

- أكمل ما يلي:-

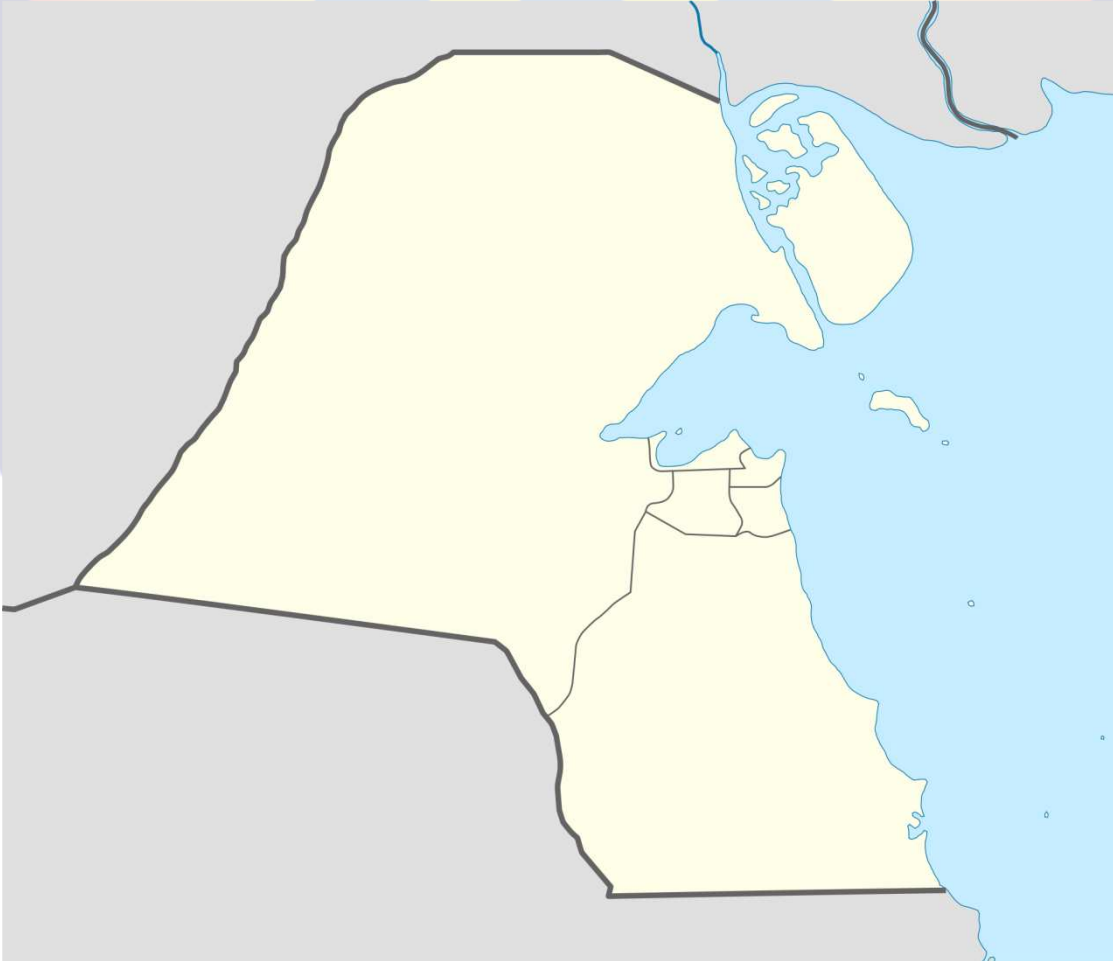
- 1- تضم دولة الكويت عدة جزر يصل عددها .....
- 2- أهم وأكبر جزر دولة الكويت جزيرة تسمى .....
- 3- الجزيرة الكويتية التي كانت مأهولة بالسكان اسمها جزيرة .....
- 4- المسمى القديم لجزيرة فيلكا هو .....
- 5- أصبحت جزيرة فيلكا غير مأهولة بالسكان بعد أحداث الغزو العراقي الغاشم عام .....

- عدد جزر دولة الكويت؟

.....

.....

- حدد على الخريطة الجزر الكويتية



#### 4-المناخ: ص31- 35

أذكر أهم مميزات مناخ دولة الكويت؟

- 1- .....
- 2- .....
- 3- .....
- 4- .....

- أكمل ما يلي :-

- 1- درجات الحرارة في دولة الكويت يتراوح متوسطها بين 42 إلى ..... درجة مئوية.
- 2- يصل معدل درجة الحرارة في الشتاء بدولة الكويت إلى ..... درجة مئوية.
- 3- أهم المناطق التي تنحصر فيها المياه الصالحة للاستهلاك الأدمي هي ..... و ..... و .....

• الرياح في دولة الكويت:

- أكمل الجدول التالي:-

الرياح	المميزات وآثارها المناخية
الشمالية الغربية	
الجنوبية الشرقية (الكوس)	
السموم	
العواصف الترابية (السرايات)	

- علل لما يلي:-

- 1- تتميز الرياح الشمالية الغربية بالجفاف.

.....

- 2- تتميز الرياح الجنوبية الشرقية بأنها رطبة ودافئة.

.....



- من خلال الخرائط التي أمامك أجب عما يلي:-

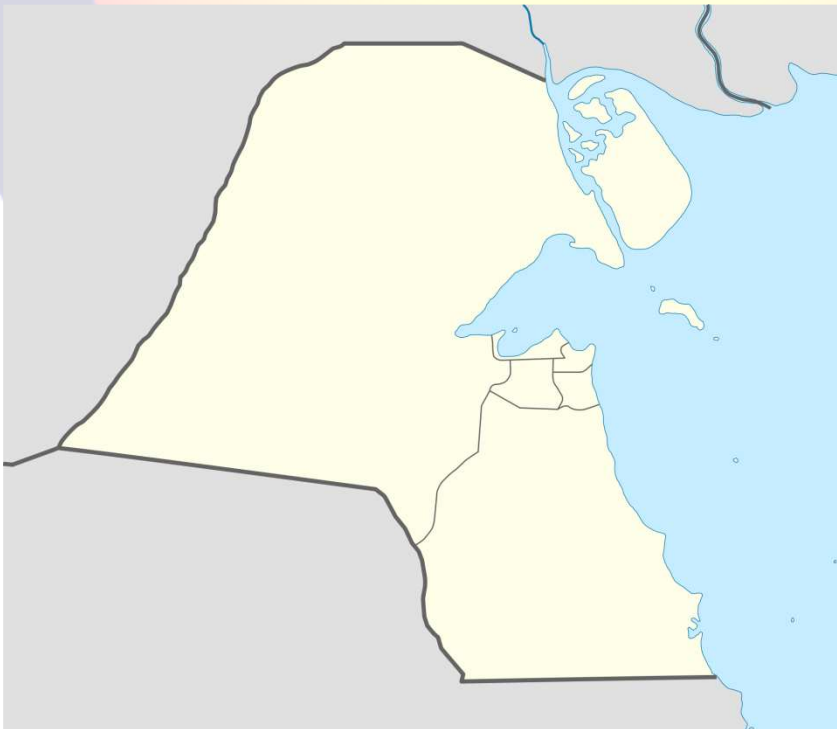
1- حدد على خريطة دولة الكويت أهم المناطق التي تنحصر فيها المياه الصالحة للاستهلاك الأدمي.



2- حدد على الخريطة اتجاه رياح كل من :- ( بوضع علامات اسهم ← )

أ- الشمالية الغربية.

ب- الجنوبية الشرقية



## 5- السكان: ص 36- 38

### دلل على صدق العبارة:

يعود الوجود البشرى في منطقة الكويت الى أكثر من 4 آلاف سنة قبل الميلاد.

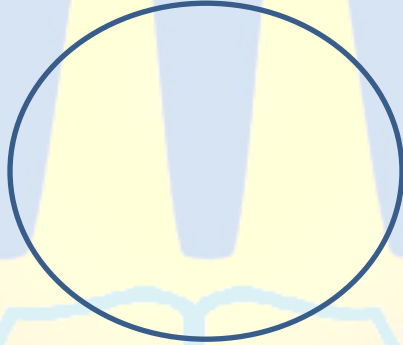
.....  
.....

- أول تعداد رسمي للسكان موثق أجرته دائرة الشؤون الاجتماعية بدولة الكويت كان ذلك التعداد في عهد الأمير الراحل الشيخ ..... وفي عام .....م

- اقرأ الفقرة التالية ثم أجب عن الاسئلة التي تليها:

في عام 1990م بلغ اجمالي عدد السكان 2141465 نسمة ، منهم 72% من غير الكويتيين (الوافدين) وخلال هذه السنة تعرض وضع السكان لتغيرات كبيرة نتيجة للعدوان واحتلال النظام العراقي البائد للكويت، وما تبع ذلك من هجرة كبيرة للوافدين من العرب وغيرهم إلى أوطانهم.

1- أكمل الدائرة البيانية بنسبة الوافدين في دولة الكويت عام 1990م.



2- علل: قلة الوافدين في دولة الكويت بعد عام 1990م.

.....

- أكمل الجدول التالي لتعداد سكان الكويت عام 2014م:

الاجمالي	الوافدون	الكويتيون	العام
			2014

تنقسم الأنشطة الاقتصادية قديماً في دولة الكويت الي

ثالثاً: الحرف.....

ثانياً: أنشطة.....

أولاً : أنشطة.....

- عدد أهم الأسباب التي زادت أهمية النشاط الاقتصادي في دولة الكويت؟

1-.....

2-.....

- علل لما يلي:

(1) تميز النشاط الاقتصادي للمجتمع الكويتي قديماً بالتنوع.

(2) أهمية الخليج العربي الاقتصادية.

(3) يعد طريق الحرير احد أهم الطرق التجارية.

- من خلال الخريطة التي أمامك أجب عما يلي:-

• أمامك خريطة قارة آسيا ارسم خط السير البري والبحري لطريق الحرير .



- أنواع الأنشطة الاقتصادية: ص 42-45

أولاً : النشاط البحري:

- ما هي الاسباب في ان النشاط البحري هو النشاط السائد قديماً في دولة الكويت؟

.....

.....

- عدد أنواع النشاط البحري في الكويت قديماً؟

-1

-2

-3

- ما هي العوامل التي ساعدت على ازدهار صناعة السفن في الكويت قديماً؟

-1

-2

-3

-4

-5

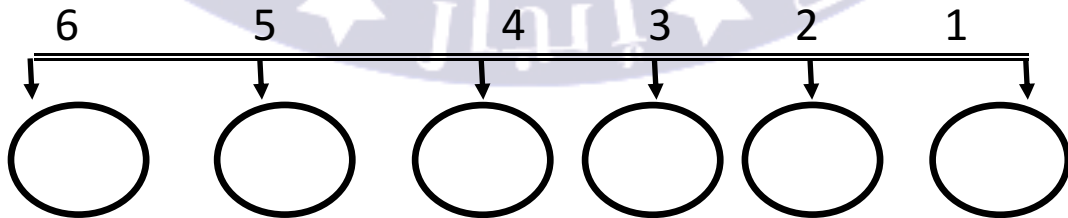
- عرف المفاهيم التالية:-

1- القمبار:

2- الأستاذ:

3- القلاف:

انواع السفن الكويتية عديدة منها :



- دلل على صدق العبارة: "اعتزت دولة الكويت بتراثها البحري".

- 1- .....
- 2- .....
- 3- .....

الغوص على اللؤلؤ 46- 48

- أكمل ما يلي:-

- 1- أشهر حرفة مارسها أهل الكويت منذ نشأتها هي .....
- 2- بداية موسم الغوص في الصيف وتسمى .....
- 3- نهاية موسم الغوص تعرف باسم .....
- 4- كسدت تجارة الغوص على اللؤلؤ بسبب ظهور اللؤلؤ الصناعي في عام.....

- أذكر أسماء اربع انواع من السفن التي تستخدم في مهنة الغوص على اللؤلؤ؟

.....

- لخص مدى تأثير حرفة الغوص على أهل الكويت؟

- 1- .....
- 2- .....
- 3- .....
- 4- .....

- عدد أسماء العاملون في حرفة الغوص؟ مع ذكر مهنة كل عامل بالسفينة؟

المهنة	وظيفته
النوخذة	
المجدي	
الغيص	
السيب	
النهام	
الرضيف	
الطواش	

- علل ما يلي :- أ) " الكويت قديماً من المراكز التجارية المهمة"

.....  
.....

ب) "بعد حجم السوق الكويتي قديماً صغيراً جداً"

.....

- عرف ما يلي :-

1- الدشة : .....

2- الإغلاق: .....

**ثانياً : النشاط البري :- ( 51 - 53 )**

\* كانت الحياة في الكويت تنسم منذ القدم بالبداوة ، وعمل أهلها بحرف مثل الرعي والزراعة والصناعة اليدوية ما أدى إلى ازدهار الكويت .

**أ) الرعي :-**

**-اكمل ما يلي :-**

\* ترتبط عملية الرعي بالكويت بشكل أساسي ب .....

\* يبدأ موسم الأمطار في الكويت من شهر ..... إلى .....

**ب) الزراعة :-**

\* الكويت بلد صحراوي يعاني من شح المياه .

**- رغم الصعوبات في مناخ الكويت إلا أن الكويتيين أستطاعوا التكيف مع البيئة المحيطة . ( وضح ذلك )**

ج:.....  
.....

**\* أهم المناطق الزراعية في الكويت قديماً :-**

.....

.....

\* اذكر أهم المحاصيل الزراعية التي كانت تزرع في الكويت قديما ؟

ج: .....

- من خلال خريطة الكويت التي أمامك حدد المناطق الزراعية القديمة في الكويت .



ثالثا : الحرف اليدوية:- ( 54 - 55 )

\* من خلال الجدول الذي أمامك عرف وظيفة كل من الوظائف الحرفية التالية :-

	(1) التجارة
	(2) الحدادة
	(3) الصفارة
	(4) التناك
	(5) الففاص
	(6) الحياكة
	(7) الندافة
	(8) غزل السدو



**\* عرف المفاهيم التالية:-**

- الشداخة : .....
- الصخين : .....
- المنز : .....
- الرك : .....
- العدل : .....
- المزواد : .....

**المعالم الحضارية لدولة الكويت ص58- 62**

تاريخ: .....

\* لعبت دولة الكويت دورا مهما في التواصل الحضاري ما بين شمال الخليج العربي وجنوبه .

**\* اذكر أهم المناطق الأثرية في دولة الكويت ؟**

- ج: .....
- .....
- .....
- .....

**\* أهم مراحل التطور الحضاري للكويت قديما :-**

**\* اكمل ما يلي بما يناسبه من عبارات:-**

- حضارة العبيد من آثارها الموجودة بالكويت بمنطقة تسمى .....
- أقدم الحفريات الجيولوجية الموجودة بالكويت بالفترة ما بين .....
- تعود حضارة العبيد بتاريخها بالفترة ما بين .....

**\* اذكر أهم الآثار العبيدية الموجودة في الكويت ؟**

- ج: .....
- .....

\* ما هي أهم الاكتشافات في جزيرة أم النمل؟

ج: .....

\* ما هي أهم الاكتشافات في جزيرة فيلكا؟

ج: .....

\* لعبت جزيرة فيلكا دورا رئيسيا في منطقة الخليج العربي خلال الألف الثالث والثاني قبل الميلاد؟

ج: .....



ج: .....

\* اكمل ما يلي :-

- جزيرة كويتية عثر على متنها أكثر من 400 ختم دلموني كانوا يستخدمونه كتعويذة أو كختم تجاري تسمى .....

- معركة تاريخية وقعت بين المسلمين والفرس في عام .....، أطلق عليها معركة .....، بمنطقة تسمى .....

- أمامك صور لآثار حضارات قديمة في الكويت اكتب تعليق مناسب للصورة :-



## الفصل الثاني

نشأة الكويت ص 67- 68

تاريخ: .....

\* تسمية الكويت:-

-علل: تسمية الكويت بهذا الاسم؟

ج: .....

- عرف مفهوم القرين؟

ج: .....

\* أكمل الجملة التالية بما تراه مناسباً من خلال الدرس:-

\* تأسست الكويت في الجزء الشمالي الغربي من الخليج العربي في عام ..... ، بالاستناد إلى رسالة الشيخ ..... حاكم الكويت السابع إلى المقيم البريطاني في الخليج العربي.

\* من قائل العبارة التالية:-

(( الكويت أرض فقراء نزلها جدنا صباح عام 1022هـ ( الموافق 1613م )

- القائل : .....

- المناسبة : .....

\* أجب عن السؤال التالي:-

س- كيف نشأت الكويت؟

ج: .....

العتوب (69ص- 72)

\* عرف:-

من هم العتوب ؟

ج: .....

.....

.....

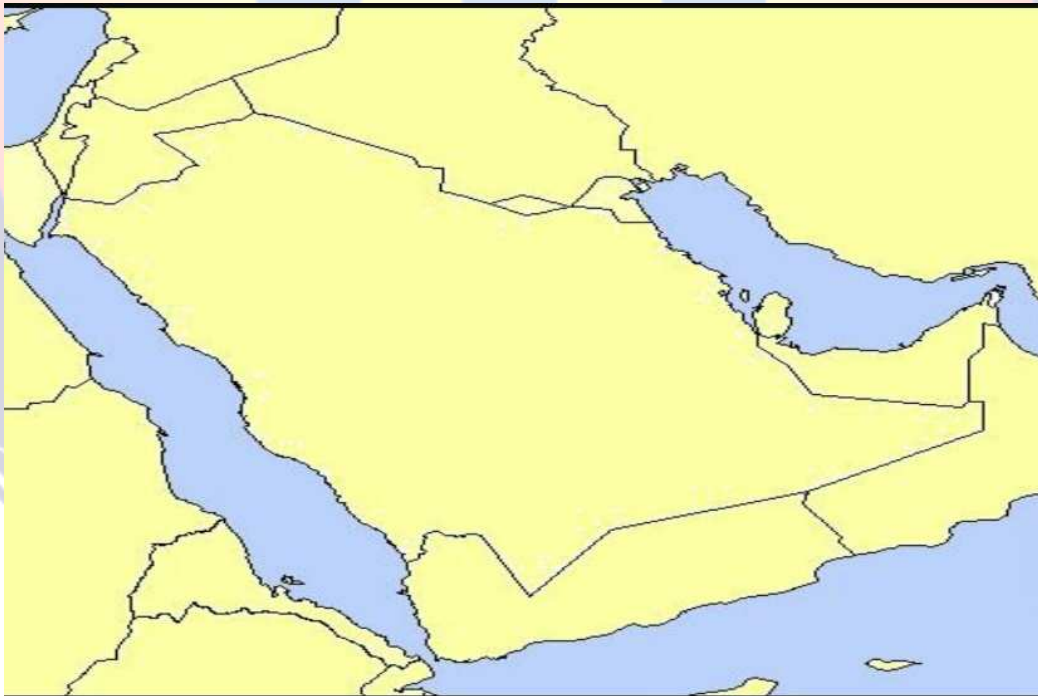
\* اذكر أهم المناطق التي استقر بها العتوب قبل استقرارهم بالكويت ؟

ج: .....

.....

.....

\* من خلال الخريطة التي أمامك حدد خط سير هجرة العتوب .



**\* علل: هجرة العتوب من موطنهم بالهدار وبالنهاية استقروا في منطقة الكويت؟**

ج:.....  
.....

**\* من قائل العبارة التالية :-**

(( دخلت ثلاث أسر عربية ذات شأن هي آل صباح وآل جلاهمة وآل خليفة تحدوهم عوامل المصلحة والطموح في التحالف واستقرت على بقعة من الأرض على الساحل الشمالي الغربي من الخليج تسمى الكويت ))

القائل : .....

المناسبة: .....

**\* علل : اختيار أسرة آل صباح للحكم في الكويت؟**

ج:.....  
.....  
.....

**تقسيم المهام بين الأسر الثلاثة**




\* اذكر مراحل استقرار آل الصباح بعد عملية التأسيس؟

المرحلة الثالثة

المرحلة الثانية

المرحلة الأولى



\* ما هي العلاقة السياسية التاريخية بين الكويت وبنى خالد؟

ج:

.....

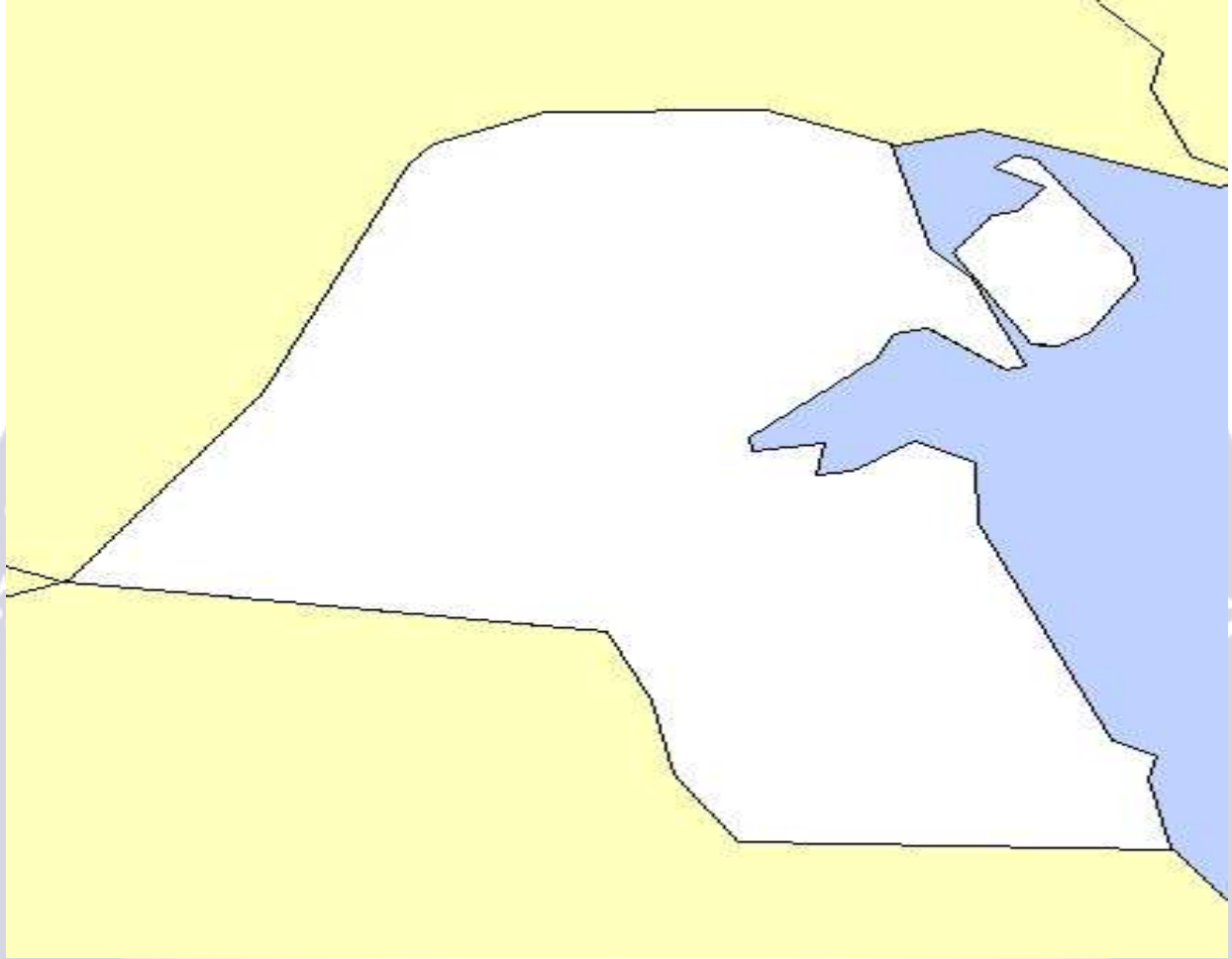
\_\_\_\_\_

## الفصل الثاني

حكاه دولة الكويت ص73- 79 تاريخ: .....

اسم الحاكم	صفاته	سنة الحكم	أهم الأعمال والأحداث
(1)			
(2)			
(3)			
(4)			
(5)			
(6)			

\* أمامك خريطة الكويت حدد عليها موقع معركة الرقة (x) + جزيرة بوبيان (Δ) + جزيرة فيلكا (○)





## الفصل الثاني

النمو التجاري وعوامل ازدهار الكويت في حكم آل الصباح ص 80 تاريخ: .....

\* اذكر أهم القرارات التي اتخذها حكام الكويت والتي ساعدت على النمو التجاري والإقتصادي للكويت؟

ج: .....

.....

.....

.....

\* انتقلت الوكالة البريطانية للكويت مرتين الأولى في ..... ، والثانية في .....

\* ما هي العوامل التي ساعدت على نمو وازدهار الكويت في ظل حكم آل الصباح؟

ج: .....

.....

.....

.....

.....

.....

\* عرف تجارة المسابرة؟

ج: .....

\* نظام حكم الإمارة في الكويت قائم على .....

### الفصل الثالث

الكشوف الجغرافية والتنافس الاستعماري ص 85- 87 تاريخ: .....

**\* علل: لعب البرتغاليون والهولنديون دورا مهما في تاريخ الاستعمار الأوروبي للخليج العربي في مطلع القرن السادس عشر؟**

ج: .....

.....

**\*\* أولا: البرتغاليون :-**

**- علل: السيطرة البرتغالية من أسوء النظم الإستعمارية في الخليج العربي؟**

ج: .....

.....

**- علل: التواجد البرتغالي في منطقة الخليج العربي تعرض للإنهيار التدريجي؟**

ج: .....

.....

.....

**\*\* ثانيا : الهولنديون :-**

- برز الوجود الهولندي في آسيا خصوصا والشرق عموما في أواخر القرن .....

- خرج أول أسطول هولندي إلى آسيا وبلغ جزر الهند الشرقية في عام .....

**- ما هي أهم الأعمال التي قام بها الهولنديون في منطقة آسيا وشرقها؟**

ج: .....

.....

.....

- علل : التفوق السريع للهولنديين في منطقة آسيا والشرق لم يستمر طويلا ؟

ج: .....

\*\* ثالثا : البريطانيون :- ( ص 88- 89 )

- تأسست شركة الهند الشرقية البريطانية في عام .....

- علل: اهتمام بريطانيا بمنطقة الخليج العربي ؟

ج: .....

(( الكويت وبريطانيا ))

- ما هي أهم الأعمال التي قام بها البريطانيون تجاه الكويت ؟

ج: .....

.....

(( الكويت والعثمانيون )) ( ص 90 )

- ما طبيعة العلاقة بين الكويت والعثمانيين ؟

ج: .....

- ساعدت الكويت الدولة العثمانية بحملتها لاستعادة إقليم الأحساء في عام .....

- ما هي بنود فرمان العثماني المتعلق بعلاقة الكويت بالدولة العثمانية ؟

ج: .....

.....

.....

.....