

السؤال الثالث مقالي ويتكون من (أ - ب - ج) :

(أ) اقرأ الفقرة التالية ثم أجب عما يليها من أسئلة:

مارس سكان منطقة الخليج العربية عدة أنشطه بحرية ومنها نشاط صيد الأسماك مستخدمين وسائل قديمة للصيد مثل (الميذار - الحظرة - القرقور) ، كما مارسوا مهنة الغوص على اللؤلؤ وبظهور اللؤلؤ الصناعي واكتشاف النفط انصرف سكان منطقة الخليج العربية عن حرفة الغوص .

١- استخراج من الفقرة السابقة مايلي :

أ- وسائل الصيد القديمة في منطقة الخليج العربية .

ب- سبب انصراف سكان منطقة الخليج العربية عن حرفة الغوص .

(ب) عرف مايلي :

١- الخليج العربي :

٢- الواحة :

٣- دوائر العرض :

٤- الاستقلال :

(ج) علل مايلي :

١- كانت حياة السكان في البيئة الصحراوية لدول الخليج العربية قاسية وخشنة .

٢- أهمية موقع منطقة الخليج العربية .

- انتهت الأسئلة -

السؤال الثاني مقالي ويتكون من (أ - ب - ج) :



(أ) لاحظ الشعار المقابل ثم أجب عما يليه من أسئلة :

١ - استنتج من الشعار عدد الدول المشاركة في هذه المنظمة .

.....

٢ - ما اسم المدينة التي أتخذت مقراً دائماً لهذه المنظمة .

.....

٣ - ماهي أهداف هذه المنظمة؟

.....

.....

(ب) فرق بين كل من حيث التعريف :

نبات حولي	نبات ضمر
.....
الموقع النسبي	الموقع الفلكي
.....

(ج) عدد ما يلي :

١ - مظاهر الحضارة الإسلامية .

.....

.....

٢ - الأنشطة البرية في منطقة الخليج العربية .

.....

.....

تابع السؤال الأول (موضوعي) :

(هـ) صنف ما يلي حسب ما يناسبها في الجدول التالي :

١- الهجرات التي استقرت في منطقة الخليج العربي :
(المعاصيد - الفواصم - آل خليفة)

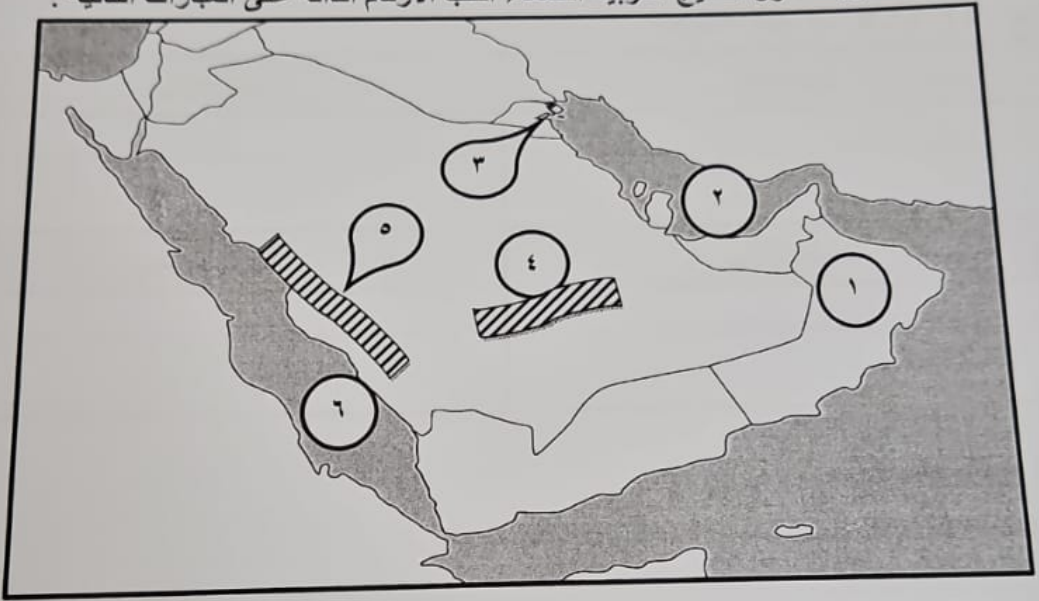
منطقة الاستقرار	البحرين	قطر	آل خليفة
الهجرة	رأس الخيمة

٢- أعضاء طاقم سفينة الغوص قديماً :

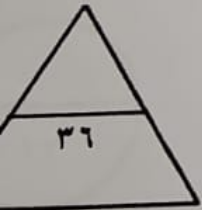
(النهام - المجدمي - الطوايش (الطواش))

الأعمال	تجار اللؤلؤ	مطرب السفينة	الطوايش (الطواش)
المهنة	رئيس البحرية

(و) أمامك خريطة دول الخليج العربية الصماء اكتب الأرقام الدالة على العبارات التالية :



- ١- هضبة نجد يمثلها على الخريطة الرقم
- ٢- جبال عسير والحجاز يمثلها على الخريطة الرقم
- ٣- الخليج العربي يمثلها على الخريطة الرقم
- ٤- دولة هاجر إليها آل صباح يمثلها على الخريطة الرقم
- ٥- البحر الأحمر يمثلها على الخريطة الرقم
- ٦- حضارة إشتهرت بصهر المعادن قديماً يمثلها على الخريطة الرقم





السؤال الأول : موضوعي ويتكون من (أ - ب - ج - د - هـ - و) :

(أ) ظلل الخيار الصحيح من بين الخيارات التي تلى كل عبارة مما يلي :
١- يطلق على بداية موسم الغوص :

البداية	النهاية	الدشة	القفال
---------	---------	-------	--------

٢- البحر الذي يطلق عليه قديماً اسم البحر الأدنى أو بحر شروق الشمس :

البحر الأحمر	البحر المتوسط	خليج عدن	الخليج العربي
--------------	---------------	----------	---------------

٣- يبلغ عدد خطوط الطول للكورة الأرضية :

٣٥٠ خطاً	٣٦٠ خطاً	٣٧٠ خطاً	٣٨٠ خطاً
----------	----------	----------	----------

٤- العام الذي إنطلقت فيه السوق الخليجي المشترك :

٢٠٠٦ م	٢٠٠٨ م	٢٠١٠ م	٢٠١٢ م
--------	--------	--------	--------

٥- حالة الجو في مكان ما خلال فترات زمنية طويلة :

الرطوبة	الطقس	المُناخ	الحرارة
---------	-------	---------	---------

٦- المدينة التي أعلن فيها قيام مجلس التعاون الخليجي عام ١٩٨١ م :

الدوحة	المنامة	مسقط	أبوظبي
--------	---------	------	--------

(ب) أكمل العبارات التالية بما يناسبها فيما درست :

تقع منطقة الخليج العربية في الجهة الجنوبية الغربية من قارة اسمها.....

صورة المقابلة تمثل مهنة كويتية قديمة تسمى.....

عام الذي استقلت فيه دولة الكويت بعد إلغاء الحماية البريطانية.....م

لق على صانع السفينة اسم.....

ة خليجية تقع فيها الجبل الأخضر اسمها.....

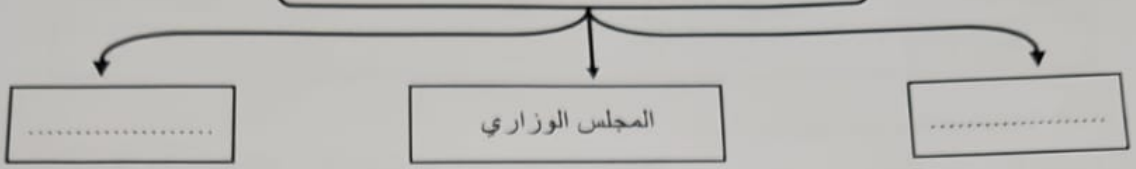
ت الزراعة التي تزخر فيها منطقة الخليج العربية الخضروات الورقية و.....



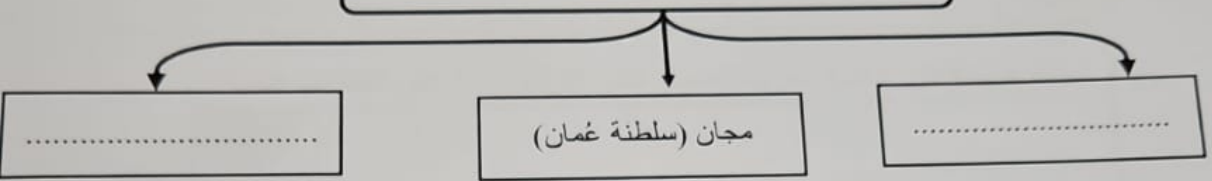
تابع السؤال الأول (موضوعي)

(ج) أكمل المخططات السهمية التالية :

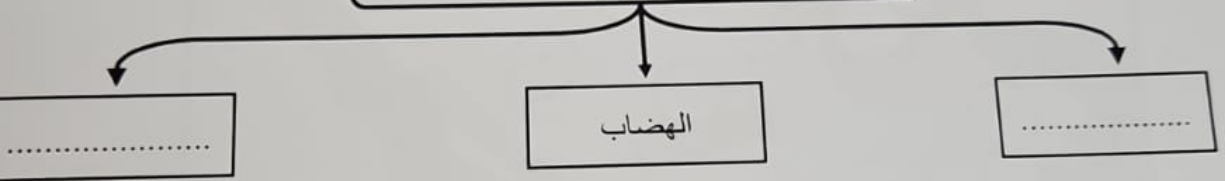
١- الهيكل التنظيمي لمجلس التعاون لدول الخليج العربية



٢- حضارات منطقة الخليج العربية قديماً



٣- مظاهر سطح الأرض (التضاريس)



(د) ظلل الحرف (أ) إذا كانت العبارة صحيحة أو الحرف (ب) إذا كانت العبارة خاطئة :

م	العبارة	صحيحة	خاطئة
١	الاستعمار هو سيطرة دولة قوية على دولة ضعيفة بهدف استغلال موقعها ومواردها وخيراتها .	أ	ب
٢	سفينة البغلة هي أفضل أنواع السفن المستعملة في رحلة السفر.	أ	ب
٣	يتصف مناخ منطقة الخليج العربية بأنه مناخ معتدل.	أ	ب
٤	الإمارات العربية المتحدة البلد الخليجي الوحيد الذي لم يتعرض للاستعمار الأجنبي.	أ	ب
٥	ألغيت معاهدة الحماية بين دولة الكويت وبريطانيا في عهد الشيخ عبد الله السالم.	أ	ب
٦	ظهر الإسلام في القرن التاسع الميلادي.	أ	ب