

تم تحميل هذا الملف من موقع المناهج الكويتية



الملف بنك أسئلة

[موقع المناهج](#) ⇐ [المناهج الكويتية](#) ⇐ [الصف السادس](#) ⇐ [اجتماعيات](#) ⇐ [الفصل الأول](#)

روابط مواقع التواصل الاجتماعي بحسب الصف السادس



روابط مواد الصف السادس على تلغرام

[الرياضيات](#)

[اللغة الانجليزية](#)

[اللغة العربية](#)

[التربية الاسلامية](#)

المزيد من الملفات بحسب الصف السادس والمادة اجتماعيات في الفصل الأول

|   |   |
|---|---|
| <a href="#">نموذج احابة اختبار لمنطقة مبارك الكبير عام 2016</a> | 1 |
| <a href="#">اوراق عمل مهمة في مادة الاجتماعيات</a>              | 2 |
| <a href="#">بنك اسئلة ممتاز في مادة الاجتماعيات</a>             | 3 |
| <a href="#">بنك معلومات مهم في مادة الاجتماعيات</a>             | 4 |
| <a href="#">تلخيص اجتماعيات بشكل مبسط</a>                       | 5 |



## وزارة التربية التوجيه العام للاجتماعيات



المناهج الكويتية  
almanahj.com/kw

### بنك أسئلة

### للمرحلة السادسة

### الفصل

### الدراسي الأول

### إعداد

### الموجهة الفنية

### أ. عهد لافي

### المطيري

مراجعة

الموجه الأول

### أ. مساعد الغريب



إشراف عام

### أ. محمد العتيبي

الموجه العام للاجتماعيات بالإناث

الموجه الأول للاجتماعيات  
أ. مساعد حسين الغريب

وزارة التربية  
إدارة العامة لمنطقة الفرعية للتعليم  
توجيه الاجتماعيات

محمد علي العتيبي  
الموجه الفني العام للاجتماعيات - بالإنجليزية



# الوحدة الأولى

## الخصائص الطبيعية والبشرية لمنطقة الخليج العربية

المناهج الكويتية  
almanahj.com/kw

### الوحدة الأولى

#### الخصائص الطبيعية والبشرية لمنطقة الخليج العربية

- أولاً: الخصائص الطبيعية لمنطقة الخليج العربية .
- الموقع - مظاهر السطح - المناخ - الحياة النباتية والحيوانية .
- ثانياً: الخصائص البشرية لمنطقة الخليج العربية قديماً .
- أ- الأنشطة البرية (الرعي - الزراعة - الحرف اليدوية - التجارة البرية) .
- ب- الأنشطة البحرية ( صيد الأسماك - الغوص على اللؤلؤ - صناعة السفن - التجارة البحرية ) .
- التقويم .

ستتعرف في هذه الوحدة على :

- الموقع الجغرافي لمنطقة الخليج العربية .
- مظاهر السطح والمناخ والحياة النباتية والحيوانية .
- البيئة البرية والبحرية والأنشطة المرتبطة بكل منها .
- الحرف والمهن .
- علاقة أثر البيئة الطبيعية على النشاط السكاني .
- كيفية تطبيق المفاهيم المتعلقة بالوحدة الدراسية .

## الكويت ودول الخليج العربية

# الوحدة الثانية

## دول الخليج العربية تتطور حضارياً وسياسياً

موقع  
المناهج الكويتية  
almanahj.com/kw



### الوحدة الثانية

#### دول الخليج العربية تتطور حضارياً وسياسياً

- سنتعرف في هذه الوحدة على :
- الأنظمة السياسية الحديثة في دول الخليج العربية .
  - الهيكل التنظيمي لدول مجلس التعاون الخليجي .
  - أهمية الوحدة بين دول مجلس التعاون الخليجي .
  - كيفية تطبيق المفاهيم المتعلقة بالوحدة الدراسية .

- أ- حضارات منطقة الخليج العربية قديماً .
- ب- الحضارة الإسلامية في منطقة الخليج العربية .
- ج- تطور الحياة السياسية وظهور الدول الحديثة .
- د- رحلة إلى دول الخليج العربية .
- هـ- قيام مجلس التعاون لدول الخليج العربية .
- التقييم .

## الكويت ودول الخليج العربية



# أولاً: الأسئلة الموضوعية

موقع  
المناهج الكويتية  
almanhaj.com/kw



الفصل  
الدراسي  
الأول

بنك  
الأسئلة

الكويت ودول الخليج العربية

## السؤال الأول: أكمل العبارات التالية بما يناسبها فيما درست:

- ١- تقع منطقة الخليج العربية بالنسبة لقارة آسيا في جهة الجنوبية الغربية.
- ٢- تبلغ عدد درجات العرض التي تشغلها منطقة الخليج العربية شمال خط الاستواء ١٦ درجة.
- ٣- الجهة التي تقع فيها منطقة الخليج العربية بالنسبة لقارة آسيا هي الجنوبية الغربية.
- ٤- يتصف مناخ منطقة الخليج العربية بأنه صحراوي قاري.
- ٥- ذراع مائي لبحر العرب يمتد من خليج عمان جنوباً حتى شط العرب شمالاً يسمى الخليج العربي.  
المنهج الكويتي  
almanahj.com/kw
- ٦- الموقع بالنسبة لخطوط الطول ودوائر العرض يسمى الفلكي.
- ٧- الموقع بالنسبة للماء واليابس يسمى النسبي.
- ٨- خطوط وهمية تقسم الكرة الأرضية إلى قسمين شرقي وغربي وعددها ٣٦٠ خط تسمى خطوط الطول.
- ٩- خطوط وهمية تقسم الكرة الأرضية إلى قسمين شمالاً وجنوباً وعرضها ١٨٠ خط تسمى دوائر العرض.
- ١٠- الدولة الخليجية التي توجد بها هضبة نجد تسمى المملكة العربية السعودية.
- ١١- الدولة الخليجية التي يوجد بها الجبل الأخضر تسمى سلطنة عُمان.
- ١٢- الدولة الخليجية التي يوجد بها تلال جال الزور تسمى الكويت.
- ١٣- الدولة الخليجية التي يوجد بها جبال عسير والحجاز تسمى المملكة العربية السعودية.
- ١٤- أرض مرتفعة سطحها مستوي وتمتد لمساحة كبيرة تسمى الهضبة.
- ١٥- أجزاء فسيحة من سطح الأرض تتميز باستوائها وقلّة ارتفاعها تسمى السهول.
- ١٦- كل مرتفع له قمة لا يقل ارتفاعه عن ١٠٠٠م تقريباً يسمى الجبل.
- ١٧- الرياح الجنوبية الشرقية التي تهب على منطقة الخليج العربية تسمى الكوس.

- ١٨- حالة الجو في مكان ما خلال فترات زمنية طويلة تسمى المناخ.
- ١٩- نباتات طبيعية متوفرة طوال العام تتحمل الجفاف ودرجة الحرارة تسمى المعمرة.
- ٢٠- نباتات طبيعية يرتبط وجودها بموسم سقوط المطر تسمى الحولي.
- ٢١- المياه التي توجد في باطن الأرض تسمى المياه الجوفية.
- ٢٢- منطقة تقع في الصحراء فيها مياه عذبة صالحة للزراعة تسمى الواحة.
- ٢٣- أشكال سطح الأرض مثل الجبال ، الهضاب ، والسهول تسمى التضاريس.
- ٢٤- صانع السفينة يسمى القلاف.
- ٢٥- الحرفة التي تعتمد على ما ينمو من نباتات وحشائش بعد سقوط الأمطار تسمى الرعي.
- ٢٦- أشهر الحرف التي مارسها أبناء منطقة الخليج العربية قديماً تسمى الغوص على اللؤلؤ.
- ٢٧- الاسم الذي يطلق على ربان السفينة في دولة الكويت قديماً هو النوخذة.
- ٢٨- يطلق على رئيس البحرية اسم المجدي.
- ٢٩- الشخص الذي يغوص في أعماق البحر بحثاً عن اللؤلؤ يسمى الغواص.
- ٣٠- الشخص الذي يسحب الغاصة من أعماق البحر يسمى السيب.
- ٣١- يطلق على مطرب السفينة اسم النهام.
- ٣٢- يطلق على صغار السن وهو المساعد للسيب في السفينة الكبيرة باسم الرضيف.
- ٣٣- الصبية الذين يعملون على ظهر السفينة لاكتساب الخبرة يسمى التباب.
- ٣٤- يطلق على تاجر اللؤلؤ اسم الطواش.
- ٣٥- بداية موسم الغوص على اللؤلؤ يسمى الدشه.
- ٣٦- نهاية موسم الغوص على اللؤلؤ يسمى القفال.
- ٣٧- أفضل أنواع السفن المستعملة في رحلة السفر لمتانتها وتحملها تعرف باسم البغلة.

٣٨- الشهر الميلادي الذي يبدأ فيه موسم الغوص على اللؤلؤ في دولة الكويت قديماً يسمى يونيو.

٣٩- الشهر الميلادي الذي ينتهي فيه موسم الغوص على اللؤلؤ في دولة الكويت قديماً يسمى

### سبتمبر.

٤٠- إبداع الإنسان الخليجي وإسهاماته في تطور وتقدم ورقي مجتمعه في جميع النواحي الحياة وحل مشاكله تسمى الحضارة.

٤١- يطلق على كل مائة سنة اسم القرن.

٤٢- عُرف الخليج العربي قديماً باسم البحر الأدنى أو بحر شروق الشمس.



٤٣- الدولة الخليجية التي ظهرت فيها الحضارة الهلينسية تسمى الكويت.

٤٤- الدولة الخليجية التي قامت على أرضها حضارة دلمون تسمى البحرين.

٤٥- الدولة الخليجية التي قامت على أرضها حضارة مجان تُسمى عُمان.

٤٦- اشتهرت حضارة مجان ( عُمان ) قديماً بصهر معدن يسمى النحاس.

٤٧- القرن الميلادي الذي ظهر فيه الإسلام هو السابع.

٤٨- الدولة الخليجية التي هاجر إليها آل الصباح تسمى الكويت.

٤٩- الدولة الخليجية التي هاجر إليها المعاضيد تسمى قطر.

٥٠- الدولة الأوروبية الاستعمارية الأولى التي وصلت للخليج العربي تسمى البرتغال.

٥١- الدولة الأوروبية الاستعمارية التي نجحوا في أحكام سيطرتهم على الخليج العربي تسمى

### انجلترا.

٥٢- الدولة الخليجية العربية التي لم تخضع للاستعمار الأوروبي تسمى المملكة العربية السعودية.

٥٣- حصلت دولة الكويت على استقلالها عن بريطانيا عام ١٩٦١م.

٥٤- ألغت دولة الكويت معاهدة الحماية عن بريطانيا في عهد الشيخ يسمى عبد الله السالم الصباح.

٥٥- العام الميلادي الذي صدر فيه وثيقة الدستور الكويتي هو ١٩٦٢م.

٥٦- تم إعلان قيام المملكة العربية السعودية عام ١٩٣٢م.



٥٧- حصلت مملكة البحرين على استقلالها عام ١٩٧١م.

٥٨- حكم الشعب لنفسه يسمى الديمقراطية.

٥٩- الشيخ الذي لقب بقائد العمل الإنساني يسمى صباح الأحمد الصباح.

٦٠- أعلن قيام مجلس التعاون لدول الخليج العربية عام ١٩٨١م.

٦١- أعلن قيام مجلس التعاون لدول الخليج في مدينة تسمى أبو ظبي.

٦٢- المدينة الخليجية التي اتخذت مقراً دائماً لمنظمة مجلس التعاون الخليجي تسمى الرياض.

٦٣- أصدرت منظمة الأمم المتحدة الإعلان العالمي لحقوق الإنسان عام ١٩٤٨م.  
المنهج الكويتية  
almanahj.com/kw

### السؤال الثاني: ضع خطأ تحت الخيار الصحيح من بين الخيارات التي تلي كل عبارة:

١) تقع منطقة الخليج العربية بالنسبة لقارة آسيا في الجهة :

( الشمالية الغربية – الجنوبية الغربية – الشمالية الشرقية – الجنوبية الشرقية )

٢) تقع تلال جال الزور في دولة خليجية:

( المملكة العربية السعودية – البحرين – الكويت – قطر )

٣) تقع هضبة نجد في دولة خليجية :

( الكويت – قطر – سلطنة عمان – المملكة العربية السعودية )

٤) يقع الجبل الأخضر في دولة خليجية :

( سلطنة عمان – الكويت – المملكة العربية السعودية – قطر )

٥) الاسم الذي أطلق على ربان سفينة الغوص على اللؤلؤ في دولة الكويت قديماً :

( السيب - الغواص - النوخذة - النهام )

٦) الشخص الذي يغوص في أعماق البحر بحثاً عن اللؤلؤ :

( الغواص - الطواش - السيب - النوخذة )

٧) تاجر اللؤلؤ يعرف باسم :

( الطواش - الغواص - التبات - النهام )

٨) مطرب السفينة يعرف باسم :

( النوخذة - النهام - المجدمي - الغواص )

٩) الشهر الميلادي الذي يبدأ فيه موسم الغوص على اللؤلؤ في دولة الكويت قديماً :

( مارس - إبريل - مايو - يونيو )

١٠- الشهر الميلادي الذي ينتهي فيه موسم الغوص على اللؤلؤ في دولة الكويت :

( سبتمبر - أكتوبر - نوفمبر - ديسمبر ) .

١١- الحرفة التي تعتمد على ما ينمو من نباتات وحشائش بعد سقوط المطر :

( الرعي - الزراعة - الحرف اليدوية - التجارة البرية )

١٢- الدولة الخليجية التي قامت على أرضها حضارة مجان :

( عُمان - الكويت - البحرين - قطر )

١٣) الدولة الخليجية التي ظهرت فيها حضارة دلمون :

( الكويت - البحرين - قطر - الإمارات العربية المتحدة )

١٤) اشتهرت حضارة مجان (عُمان) قديماً بصهر معدن :

( الحديد - النحاس - الذهب - الفضة )

١٥) القرن الميلادي الذي ظهر فيه الإسلام:

( الخامس - السادس - السابع - الثامن )

١٦) المنطقة التي هاجرت إليها قبائل المعاضيد :

( الكويت - قطر - عُمان - الإمارات العربية المتحدة )

١٧) أولى الدول الأوروبية الاستعمارية التي وصلت للخليج العربي :

( فرنسا - إنجلترا - البرتغال - هولندا )

١٨) الدولة الأوروبية الاستعمارية التي نجحوا في سيطرتها على الخليج العربي :-

( البرتغال - هولندا - إنجلترا - فرنسا )

١٩) ألغت دولة الكويت اتفاقية الحماية مع بريطانيا في عهد الشيخ :

( عبدالله السالم الصباح - صباح السالم الصباح - جابر الأحمد الصباح - صباح الأحمد الصباح )

٢٠) الدولة الخليجية التي لم تخضع للاستعمار الأوروبي:

( الكويت - البحرين - المملكة العربية السعودية - قطر ).

٢١) حصلت دولة الكويت على استقلالها عن بريطانيا في عام :

( ١٩٦٠م - ١٩٦١م - ١٩٦٢م - ١٩٦٣م )

٢٢) تم إعلان قيام المملكة العربية السعودية في عام :

( ١٩٣٠م - ١٩٣١م - ١٩٣٢م - ١٩٣٣م )

٢٣) العام الميلادي الذي صدر فيه وثيقة الدستور الكويتي :



( ١٩٦٠م - ١٩٦١م - ١٩٦٢م - ١٩٦٣م )

٢٤) الشيخ الذي لقب بقائد العمل الإنساني :

(عبدالله السالم الصباح - صباح السالم الصباح - جابر الأحمد الصباح - صباح الأحمد الصباح)

٢٥- أعلن قيام مجلس التعاون الخليجي في مدينة :

( ابو ظبي - المنامة - الدوحة - مسقط )

٢٦) المدينة الخليجية العربية التي عقدت فيها القمة السابع والعشرين لمجلس التعاون الخليجي :

( الدمام - الطائف - الرياض - جدة )

٢٧) العام الميلادي الذي تم فيه انطلاق السوق الخليجي المشترك:

( ٢٠٠٦م - ٢٠٠٧م - ٢٠٠٨م - ٢٠٠٩م )

### السؤال الثالث: صنف حسب ما يلي:

١) صنف النباتات الطبيعية التالية في مكانها المناسب في الجدول الذي يليها :

( الحويذان – العرفج – العنصيل – الثندا – الصبار – الخبيزة )

| النباتات المعمرة         | النباتات الحولية             |
|--------------------------|------------------------------|
| الصبار – العرفج – الثندا | الحويذان – العنصيل – الخبيزة |

٢) صنف الهجرات التالية حسب مكانها المناسب في الجدول التالي :-:

( المعاضيد – الأزد – آل الصباح – آل خليفة – القواسم – بني ياس )

| منطقة الاستقرار | الكويت    | ابو ظبي | عُمان | رأس الخيمة | قطر      | البحرين  |
|-----------------|-----------|---------|-------|------------|----------|----------|
| الهجرة          | آل الصباح | بني ياس | الأزد | القواسم    | المعاضيد | آل خليفة |

٣) صنف أسماء الحيوانات التالية حسب مكانها الصحيح في الجدول التالي :-:

( السحالي / الأبل / الزواحف / الغزلان / الأغنام / الذئاب )

| حيوانات مستأنسة | حيوانات غير مستأنسة | حيوانات برية     |
|-----------------|---------------------|------------------|
| الأبل / الأغنام | الزواحف / السحالي   | الذئاب / الغزلان |

٤) صنف المظاهر الحضارية الإسلامية التالية حسب مكانها الصحيح في الجدول التالي :-:

( الحلى الذهبية / الأواني الفخارية والخزفية / بناء المساجد / الزخرفة )

| الصناعة                                  | العمران      | الفن    |
|--|--------------|---------|
| الحلى الذهبية<br>الأواني الفخارية والخزف | بناء المساجد | الزخرفة |



**السؤال الرابع: اختر للقائمة (أ) ما يناسبها من القائمة (ب) بوضع الرقم في المكان المناسب:**

**أ-**

| الرقم | القائمة ( أ ) | المكان المناسب | القائمة ( ب )                                       |
|-------|---------------|----------------|---|
| ١     | المجدي        | ٤              | مطرب السفينة  |
| ٢     | العواص        | ١              | رئيس البحرية  |
| ٣     | السيب         | ٣              | يسحب الغاصة من أعماق البحر                          |
| ٤     | النهام        | ٥              | صغار السن وهو المساعد للسيب                         |
| ٥     | الرضيف        | ٦              | تاجر اللؤلؤ   |
| ٦     | الطوش         | ٢              | يغوص في اعماق البحر                                 |
| ٧     | النوخذة       | ٧              | ربان السفينة  |
| ٨     | التباب        | ٨              | الصبية الذين يعملون على ظهر السفينة لاكتساب الخبرة. |

**ب-**

| الرقم | القائمة ( أ ) | المكان المناسب | القائمة ( ب ) |
|-------|---------------|----------------|---------------|
| ١     | آل الصباح     | ٢              | رأس الخيمة    |
| ٢     | القواسم       | ١              | الكويت        |
| ٣     | بني ياس       | ٤              | عمان          |
| ٤     | الأزد         | ٣              | أبو ظبي       |
| ٥     | آل خليفة      | ٦              | قطر           |
| ٦     | المعاويد      | ٥              | البحرين       |

## السؤال الخامس: صوب ما تحته خط في العبارات التالية:

- ١) تقع منطقة الخليج العربية بالنسبة لقارة اسيا في الجهة الجنوبية الشمالية. (الغربية).
- ٢) الموقع بالنسبة لخطوط الطول ودوائر العرض هو النسبي. (الفلكي).
- ٣) الموقع بالنسبة للماء واليابس هو الفلكي. (النسبي).
- ٤) يقع الجبل الأخضر في دولة الكويت. (عُمان).
- ٥) تقع تلال جبال الزور في دولة البحرين. (الكويت).
- ٦) أجزاء فسيحة من سطح الأرض تتميز باستوائها وقلة ارتفاعها هي الهضبة. (السهول).
- ٧) حالة الجو في مكان ما خلال فترات زمنية طويلة هو الطقس. (المناخ).
- ٨) نباتات طبيعية متوفرة طوال العام لأنها تتحمل الحرارة والجفاف هو الحوالية. (المعمرة).
- ٩) نباتات طبيعية وجودها مرتبط بموسم سقوط المطر هي المعمرة. (الحوالية).
- ١٠) يغوص في أعماق البحر بحثاً عن اللؤلؤ هو النهام. (الغواص).
- ١١) ربان السفينة هو الطواش. (النوخذة).
- ١٢) يطلق على صانع السفينة اسم الكندري. (القلاف).
- ١٣) الدولة الخليجية التي ظهرت فيها الحضارة الهلنيسية هي البحرين. (الكويت).
- ١٤) الدولة الخليجية التي قامت بها حضارة مجان هي قطر. (عُمان).
- ١٥) الدولة الخليجية التي ظهرت فيها حضارة دلمون هي الكويت. (البحرين).
- ١٦) اشتهرت حضارة مجان قديماً بصهر معدن الذهب. (النحاس).
- ١٧) ظهر الإسلام في القرن الميلادي الخامس. (السابع).

- ١٨) تُعد أول الدول الأوروبية الاستعمارية وصلت للخليج العربي هي أسبانيا. (البرتغال).
- ١٩) الدولة الخليجية التي لم تخضع للاستعمار الأوروبي هي البحرين. (السعودية).
- ٢٠) حصلت دولة الكويت على استقلالها عام ١٩٦٣ م. (١٩٦١م).
- ٢١) أعلن قيام مجلس التعاون لدول الخليج العربية من مدينة الدوحة. (ابوظبي).
- ٢٢) المقر الدائم لمجلس التعاون لدول الخليج العربي مدينة المنامة. (الرياض).
- ٢٣) انطلاق السوق الخليجي المشترك في يناير عام ٢٠١٠م. (٢٠٠٨م).  
موقع المنهج الكويتي  
almanahj.com/kw
- ٢٤) يتكون المجلس الوزاري لمجلس التعاون من وزارة العدل. (الخارجية).
- ٢٥) الدولة الأوروبية الاستعمارية التي نجحوا في إحكام سيطرتهم على الخليج العربي هي فرنسا. (إنجلترا).
- ٢٦) ألغت دولة الكويت معاهدة الحماية مع بريطانيا في عهد الشيخ صباح السالم الصباح. (عبدالله السالم الصباح).

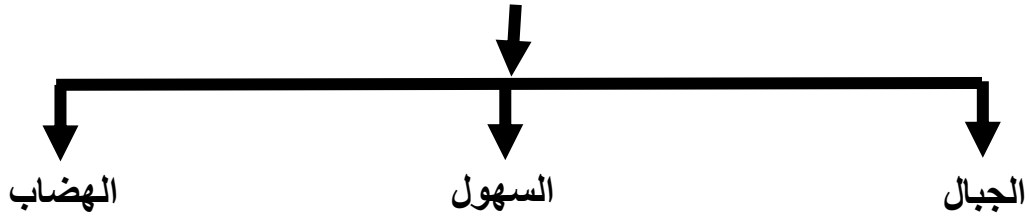
**السؤال السادس: ظلل الدائرة ( أ ) إذا كانت العبارة صحيحة وظلل الدائرة ( ب ) إذا كانت العبارة خاطئة لكل ما يلي:-**

|   |   |
|---|---|
| أ | ب |
| أ | ب |
| أ | ب |
| أ | ب |
| أ | ب |
| أ | ب |
| أ | ب |
| أ | ب |
| أ | ب |
| أ | ب |
| أ | ب |
| أ | ب |
| أ | ب |
| أ | ب |
| أ | ب |
| أ | ب |
| أ | ب |
| أ | ب |
| أ | ب |
| أ | ب |
| أ | ب |
| أ | ب |

- (١) تقع منطقة الخليج العربية بالنسبة لقارة آسيا في الجهة الشمالية الشرقية.
- (٢) يتصف مناخ منطقة الخليج العربي بأنه صحراوي قاري.
- (٣) الموقع بالنسبة لخطوط الطول ودوائر العرض هو الفلكي.
- (٤) الموقع بالنسبة لليابسة والماء هو الفلكي.
- (٥) أرض مرتفعة سطحها مستوي تمتد لمسافة كبيرة هي الهضبة.
- (٦) كل مرتفع يقل ارتفاعه عن ١٠٠٠م هو الجبل.
- (٧) الرياح الجنوبية الشرقية التي تهب على منطقة الخليج العربية تعرف باسم الزوابع.
- (٨) حالة الجو في مكان ما خلال فترات زمنية طويلة هو المناخ.
- (٩) نباتات طبيعية متوفرة طوال العام لأنها تتحمل الجفاف والحرارة هي المعمرة.
- (١٠) نباتات طبيعة يرتبط وجودها بموسم سقوط المطر هي المعمرة.
- (١١) يطلق على ربان السفينة في دولة الكويت قديماً اسم الطواش.
- (١٢) يغوص في أعماق البحر بحثاً عن اللؤلؤ يسمى الغواص.
- (١٣) بداية موسم الغوص يسمى الدشه.
- (١٤) تعتبر أفضل أنواع السفن المستعملة في السفر لمتانتها وتحملها هي البغلة .
- (١٥) اشتهرت حضارة مجان بصهر معدن الذهب.
- (١٦) العام الميلادي الذي ظهر فيه الإسلام هو السابع.
- (١٧) الدولة الخليجية التي هاجر إليها آل الصباح هي الكويت.
- (١٨) أولى الدول الأوروبية الإستعمارية التي وصلت لمنطقة الخليج العربية هي فرنسا.
- (١٩) الدولة الخليجية العربية التي لم تخضع للاستعمار الأوروبي هي السعودية.
- (٢٠) حصلت دولة الكويت على استقلال ١٩٦٠م.
- (٢١) الغيت معاهدة الحماية مع بريطانيا في عهد الشيخ صباح الأحمد الصباح.
- (٢٢) أعلن قيام مجلس التعاون لدول الخليج العربية عام ١٩٨١م.
- (٢٣) أعلن قيام مجلس التعاون لدول الخليج العربية في مدينة المنامة.
- (٢٤) المدينة الخليجية التي اتخذت مقراً دائماً لمنطقة مجلس التعاون الخليجي هي الرياض.
- (٢٥) انطلاق السوق الخليجي المشترك عام ٢٠٠٨م.
- (٢٦) صاحب فكرة إنشاء مجلس التعاون الخليجي هو الشيخ جابر الأحمد الصباح.
- (٢٧) الشيخ الذي لقب بقائد العمل الإنساني هو صباح الأحمد الصباح.
- (٢٨) حكم الشعب لنفسه يسمى الديكتاتورية.

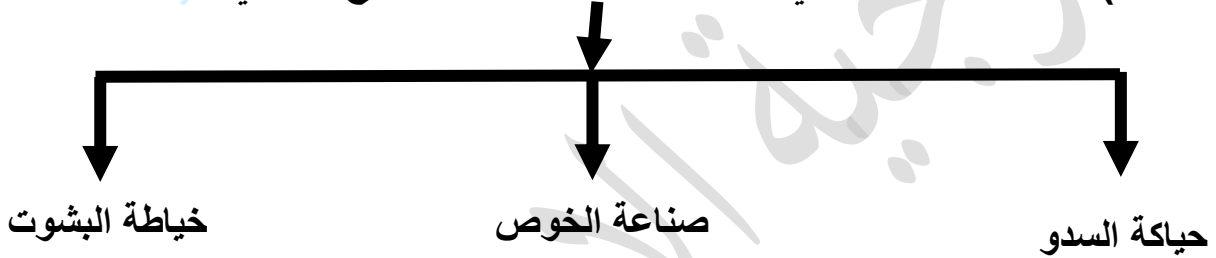
السؤال السابع: صمم مخططاً سهماً حول ما يلي:-

(١) أشكال سطح الأرض

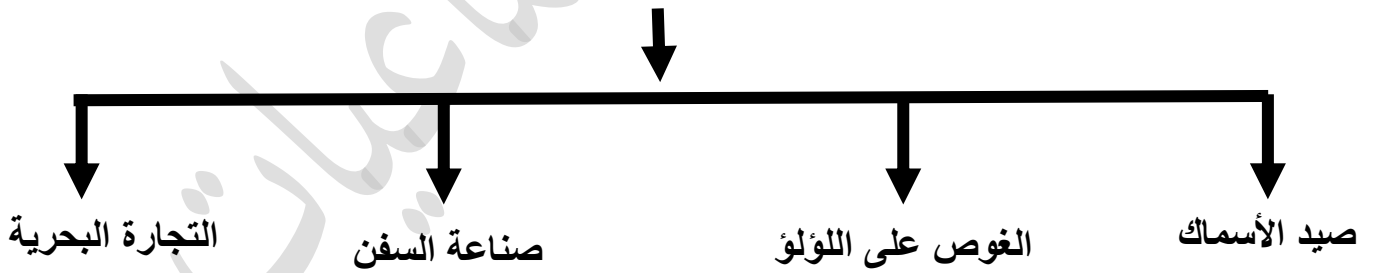


موقع  
المناهج الكويتية  
almanhaj.com

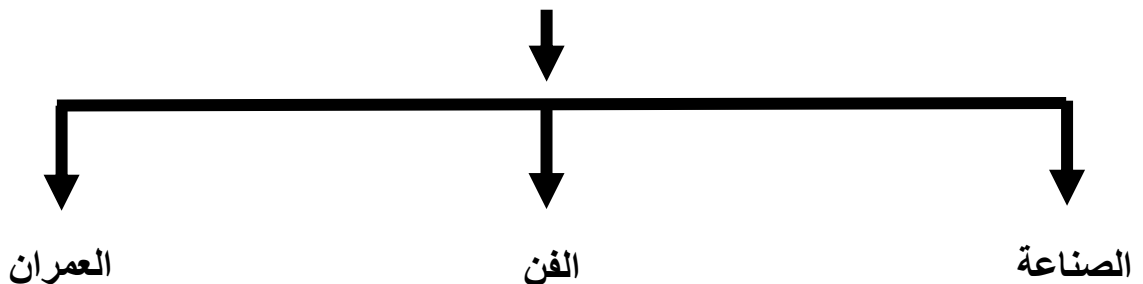
(٢) الحرف اليدوية التي مارسها سكان منطقة الخليج العربي قديماً:



(٣) الأنشطة البحرية التي مارسها سكان منطقة الخليج العربي قديماً:

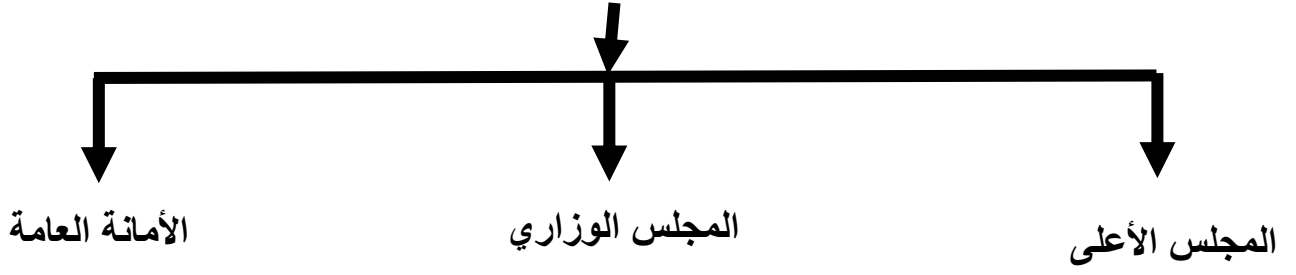


(٤) مظاهر الحضارة الإسلامية





٥) الهيكل التنظيمي لمجلس التعاون لدول الخليج العربية

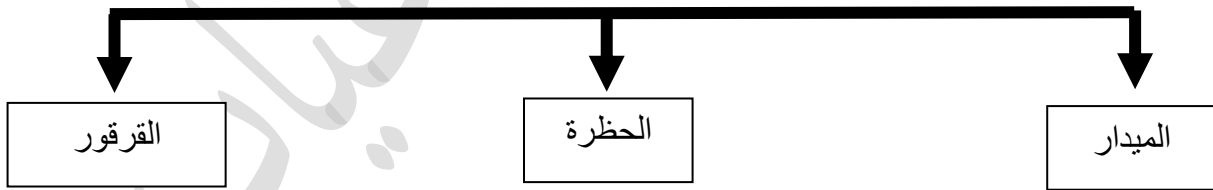


السؤال الثامن: أكمل المخططات السهمية التالية بما يناسبها:

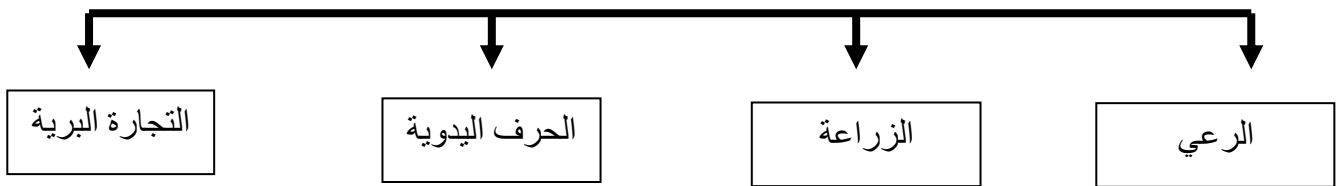
١) الأنشطة البرية في منطقة الخليج العربية



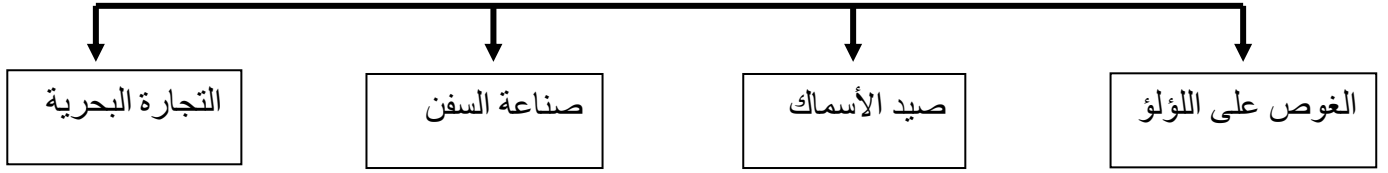
٢) من وسائل الصيد البحرية القديمة في منطقة الخليج العربية



٣) الأنشطة البرية التي مارسها سكان منطقة الخليج العربية قديماً

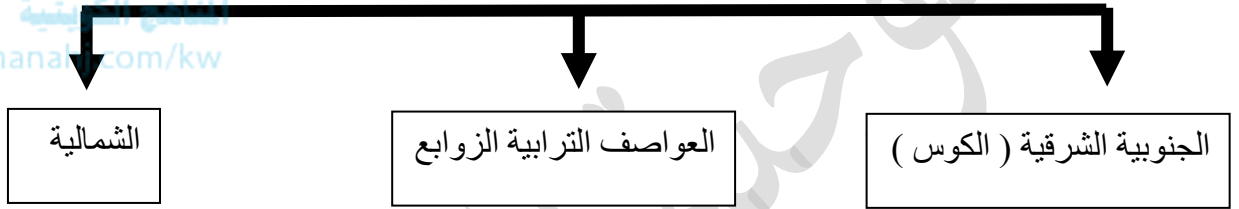


٤) الأنشطة البحرية التي مارسها سكان منطقة الخليج العربية قديماً

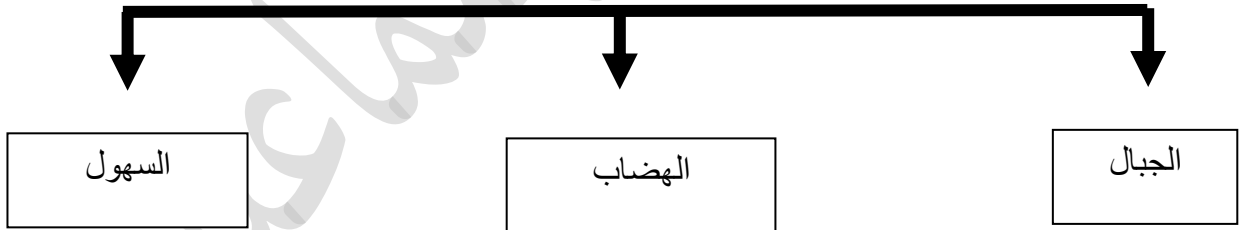


٥) أنواع الرياح التي تهب على منطقة الخليج العربية

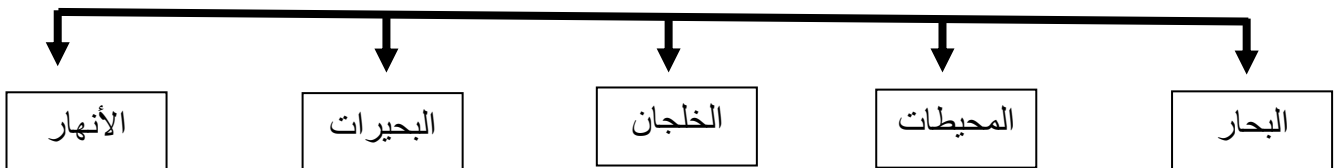
موقع  
المناخ الكويتية  
almanak.com/kw



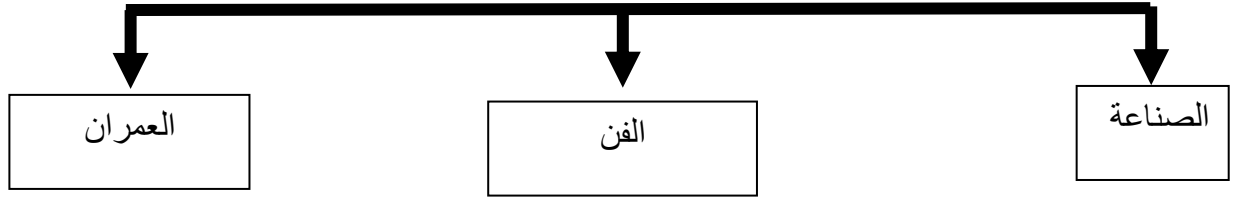
٦) المظاهر التضاريسية لسطح الأرض



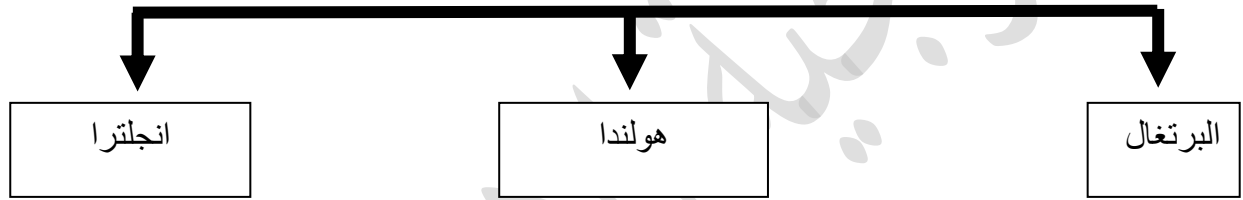
٧) أشكال المسطحات المائية على سطح الأرض



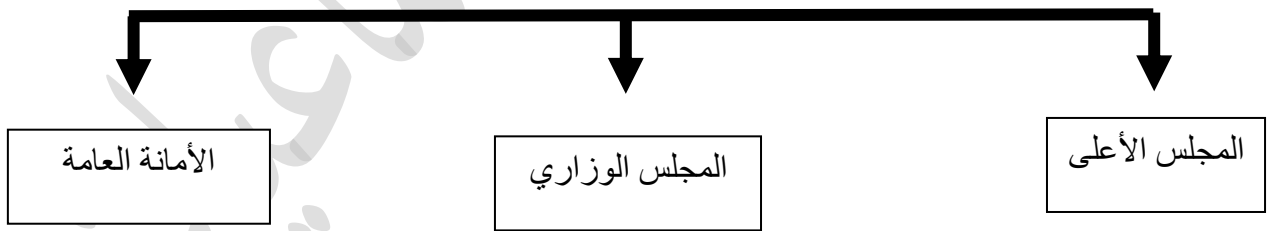
٨) مظاهر الحضارة الإسلامية



٩) الدول الاستعمارية الأوروبية التي توالى على الخليج العربي



١٠) الهيكل التنظيمي لمجلس التعاون لدول الخليج العربية



السؤال التاسع: اكتب اسم الحرفة اليدوية القديمة أسفل كل صورة مما يلي :-



خياطة البشوت



حياكة السدو



الخص



almanahj.com/kw

السؤال العاشر: صل بين الصورة والمفهوم الدال عليها فيما يلي :-

حياكة السدو

تاجر اللؤلؤ

آثار حضارة دلمون  
البحرين

الحضارة الهلينستية في  
جزيرة فيلكا


آبار مياه الشرب



( ١ )



( ٢ )



( ٣ )



( ٤ )



( ٥ )

**السؤال الحادي عشر: لاحظ خريطة شبه الجزيرة العربية الصماء ثم نفذ المطلوب :-**

**أ- حدد مدلولات الأرقام التالية :**



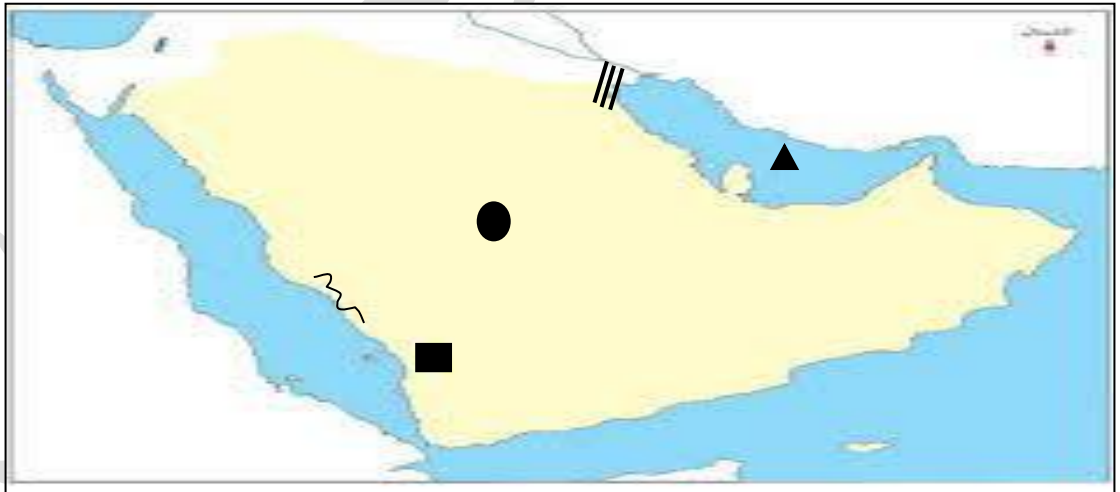
موقع  
المنهج الكويتية  
almanahj.com/kw

\* الدولة الخليجية التي قامت فيها حضارة دلمون تحمل رقم (٢).

\* الدولة الخليجية التي ظهرت فيها الحضارة الهلينيستية تحمل رقم (١).

\* الدولة الخليجية التي قامت فيها حضارة مجان تحمل رقم (٣).

**ب- أكتب مدلولات الرموز التالية :**



\* الرمز ▲ يمثل مسطح مائي يسمى الخليج العربي.

\* الرمز ● يمثل هضبة تسمى نجد.

\* الرمز /// يمثل تلال تسمى جال الزور.

\* الرمز ■ يمثل جبال تسمى عسير.

\* الرمز } يمثل سهل يسمى تهامة.



# ثانيًا: الأسئلة المقالية

موقع  
المناهج الكويتية  
almanahj.com/kw



الفصل  
الدراسي  
الأول

بنك  
الأسئلة

الكويت ودول الخليج العربية

**السؤال الأول: اكتب المفهوم أو المصطلح الدال على العبارات التالية:**

١- الخليج العربي: ذراع مائي لبحر العرب يمتد من خليج عُمان جنوباً حتى شط العرب شمالاً.

٢- الموقع الفلكي: الموقع بالنسبة لخطوط الطول ودوائر العرض.



٣- الموقع النسبي: الموقع بالنسبة للماء واليابس.

٤- خطوط الطول: خطوط وهمية تقسم الكرة الأرضية إلى قسمين شمالي وجنوبي عددها ٣٦٠ خط.

٥- دوائر العرض: خطوط وهمية تقسم الكرة الأرضية إلى قسمين شمالي وجنوبي عددها ١٨٠ دائرة.

٦- الجبل: كل مرتفع له قمة لا يقل ارتفاعه عن ١٠٠٠ م.

٧- تلال: مرتفع يقل ارتفاعه عن ١٠٠٠ م.

٨- الهضبة: ارض مرتفعة سطحها مستوي وتمتد مساحة كبيرة.

٩- السهول: أجزاء فسيحة من سطح الأرض تتميز بأستوائها وقلة ارتفاعها.

١٠- التضاريس: أشكال سطح الأرض من جبال / الهضاب / السهول.

١١- المناخ: حالة الجو في مكان ما خلال فترات زمنية طويلة.

١٢- الكوس: رياح الجنوبية الشرقية

١٣- نبات معمر: نباتات متوفرة طوال العام لأنها تتحمل الجفاف وارتفاع درجة الحرارة.

١٤- نبات حولي: نباتات يرتبط وجودها بموسم سقوط الأمطار.

١٥- المياه الجوفية: المياه التي توجد في باطن الأرض.

موقع  
المناهج الكويتية  
almanahj.com/kw

١٦- الواحة: منطقة تقع في الصحراء فيها مياه عذبة صالحة للزراعة.

١٧- الدشه: بداية موسم الغوص.

١٨- القفال: نهاية موسم الغوص.

١٩- النوخذة: ربان السفينة.

٢٠- المجدمي: رئيس البحرية.

٢١- الغواص: يغوص في أعماق البحر بحثاً عن اللؤلؤ.

٢٢- السيب: يسحب الغاصة عن أعماق البحر.

٢٣- النهام: مطرب السفينة

٢٤- الرضيف: صغار السن وهو المساعد للسيب في السفن الكبيرة

٢٥- التباب الصبية : الذين يعملون على ظهر السفينة لاكتشاف الخبرة

٢٦- الطواش: تاجر اللؤلؤ.

٢٧- القلاف: صانع السفينة.

٢٨- سفينة البغلة: أفضل أنواع السفن المستعملة في رحلة السفر لمتانتها وقدرتها

على نقل الحمولة الكبيرة.



٢٩- المسطحات المائية: جميع أشكال المياه على سطح الأرض مثل البحار

والخلجان والمحيطات والبحيرات.

٣٠- الجليب: يطلق على البئر عند سكان منطقة الخليج العربي

٣١- الاستعمار: سيطرت دولة قوية على دولة ضعيفة بهدف استغلال موقعها ومواردها

٣٢- الاستقلال: تحرر الدول عن المستعمر الاجنبي وقيامها بمسؤولية إدارة

شؤونها.

٣٣- مجلس التعاون لدول الخليج العربي: منظمة سياسية اقتصادية إقليمية تضم

ست دول عربية خليجية.

٣٤- الديمقراطية: حكم الشعب لنفسه.

## السؤال الثاني: علل ما يلي :

### (١) أهمية منطقة الخليج العربية .

- الموقع المتميز في قلب العالم القديم - ممر مائي عالمي - وسيط تجاري بين الشرق والغرب .

### (٢) انصرف سكان منطقة الخليج العربية عن حرفة الغوص على اللؤلؤ .

- اكتشاف النفط - ظهور اللؤلؤ الصناعي

### (٣) كانت حياة السكان في البيئة الصحراوية لدول الخليج العربية قاسية وخشنة .

- فقر البنية - قلة الموارد المائية مما ترتب عليه فقر النباتات والحيوانات .

المنهج الكويتي  
almanahj.com/kw

### (٤) توفر النباتات المعمرة طوال العام في دول الخليج العربية .

- جذورها طويلة - قلة أوراقها - كثرة الأشواك فيها - قدرتها على تخزين المياه فيها

### (٥) تعتبر سفينة البغلة من أفضل أنواع السفن المستعملة في السفر قديماً في منطقة الخليج العربية .

- لمتانتها وقدرتها على نقل الحمولة الكبيرة - تمتاز بقلّة تعرضها للأخطار البحرية

### (٦) تنوع العوامل المؤثرة في نشأة الحضارات في منطقة الخليج العربية .

- موقع الخليج العربي المتميز - توفر آبار مياه الشرب الناتجة عن الأمطار - ملائمة البيئة الطبيعية لبعض مناطق الخليج العربية للاستقرار .

### (٧) جذب الهجرات من شبه الجزيرة العربية الي منطقة الخليج العربية .

- الموقع الجغرافي المهم - الاستقرار

### (٨) تنافس الدول الأوروبية الاستعمارية على منطقة الخليج العربية .

- الموقع المتميز لمنطقة الخليج العربية - استغلال الموقع الجغرافي لمنطقة الخليج العربية

### (٩) قيام الشيخ مبارك الصباح بتوقيع اتفاقية الحماية مع بريطانيا عام ١٨٩٩ م .

- لحماية دولة الكويت من الاخطار الخارجية

## ١٠) إنشاء مجلس التعاون لدول الخليج العربية.

- وجود علاقات خاصة بين دول الأعضاء - وجود صفات مشتركة بينهم - وجود أنظمة متشابهة بين دول الأعضاء.

### السؤال الثالث: فسر العبارات التالية :

١) مارس أبناء منطقة الخليج العربية العديد من الحرف اليدوية.

لسد حاجات السكان الأساسية.



٢) كانت حياة السكان في دول الخليج العربية قاسية وخشنة .

- فقر البنية - قلة الموارد المائية مما ترتب عليه فقر النباتات والحيوانات.

٣) تشابه الأعمال التي يقوم بها أبناء الخليج العربية.

تشابه الظروف الجغرافية والبيئة والمناخية.

٤) مهنة الغوص على اللؤلؤ من اشهر الحرف التي مارسها أبناء منطقة الخليج العربية قديماً .

كان الاقتصاد يعتمد اعتماداً رئيسياً على حرفة الغوص على اللؤلؤ

### السؤال الرابع: عدد لكل مما يلي:

١) أشكال سطح الأرض .

- الجبال - الهضاب - السهول.

٢) الحرف اليدوية التي مارسها أبناء منطقة الخليج العربية قديماً.

- صناعة الخوص. - صناعة السدو. - خياطة البشوت



### ٣) وسائل صيد الأسماك في الكويت قديماً.

- الميذار - الحظرة - القرقور

### ٤) مظاهر الحضارة الإسلامية.

- الصناعة - العمران - الفن

### ٥) الانجازات التي حققتها مسيرة مجلس التعاون لدول الخليج العربية.

- إقامة الاتحاد الجمركي - انطلاق السوق الخليجي المشترك في يناير ٢٠٠٨م

- التنسيق في المجال السياسي في المحافل الدولية لكل القضايا التي تهم المجلس

- وثيقة التطوير الشامل للتعليم - اتفاقية الدفاع المشتركة واستمرار تعزيز قوة درع الجزيرة

### ٦) أهداف مجلس التعاون لدول الخليج العربية.

- تحقيق التعاون بين الدول الأعضاء في جميع المجالات

- تحقيق الترابط والصلات بين دول مجلس التعاون

- العمل على تقدم دول مجلس التعاون في المجال العلمي

### السؤال الخامس: أذكر اثنين مما يلي:

#### ١) أنواع الحيوانات التي تعيش في منطقة الخليج العربية.

- حيوانات مستأنسة مثل الأبل - حيوانات غير مستأنسة مثل الزواحف -  
حيوانات برية أخرى مثل الغزلان

#### ٢) مظاهر الحضارة الإسلامية.

- الصناعة - العمران - الفن

#### ٣) وسائل الصيد في منطقة الخليج العربية قديماً.

- الميذار - الحظرة - القرقور

٤) أنواع السفن التي برع أبناء منطقة الخليج العربية في صنعها قديماً.

- السنوك - الجالوت - الشوعي - البغلة

٥) الأنشطة البحرية التي مارسها سكان منطقة الخليج العربية.

- صيد الأسماك - الغوص على اللؤلؤ - صناعة السفن - التجارة البحرية

٦) الأنشطة البرية التي مارسها سكان منطقة الخليج العربية.

- الرعي - الزراعة - الحرف اليدوية - التجارة البرية



٧) أهم البضائع التي تم نقلها إلى الهند واليمن وسواحل أفريقيا من منطقة الخليج العربية.

- التمور - اللؤلؤ.


٨) أهم البضائع والواردات التي تم نقلها من المحطات التجارية إلى منطقة الخليج القديمة

- سكر - شاي - أرز - التوابل - الأخشاب

السؤال السادس: الروابط التي تربط بين سكان دول الخليج العربية:-



**السؤال السابع: ما هي خصائص النباتات الصحراوية التالية :-**



جذورها طويلة



كثرة الأشواك

**السؤال الثامن: فرق بين كلا مما يلي من حيث المفاهيم :-**

موقع  
المنهج الكويتية  
almanahj.com/kw

أ:

| الموقع النسبي                | الموقع الفلكي                           |
|------------------------------|---|
| الموقع بالنسبة للماء واليابس | الموقع بالنسبة لخطوط الطول ودوائر العرض |

ب:

| نبات حولي                            | نبات معمر  |
|--------------------------------------|--|
| نباتات يرتبط وجودها بموسم سقوط المطر | نباتات متوفرة طوال العام لأنها تتحمل الجفاف وارتفاع درجة الحرارة |

ج:

| دوائر العرض  | خطوط الطول  |
|--|---|
| خطوط وهمية أي غير موجودة على سطح الأرض ترسم على الكرة الأرضية وتقسّمها إلى قسمين شمالي وجنوبي وعددها ١٨٠ دائرة | خطوط وهمية أي غير موجودة على سطح الأرض ترسم على الكرة الأرضية وتقسّمها إلى قسمين شرقي وغربي وعددها ٣٦٠ خطاً |

د:

| الهضبة                                   | الجبل   |
|--|---|
| أرض مرتفعة سطحها مستوي وتمتد مساحة كبيرة | هو كل مرتفع له قمة لا يقل ارتفاعه عن ١٠٠٠ متر |

**السؤال التاسع: لاحظ الشكل المقابل ثم اجب عن مما يلي :-**



موقع  
المناهج الكويتية  
almanahj.com/kw

- ١- الشعار يمثل منظمة سياسية اقتصادية إقليمية تسمى **مجلس التعاون الخليجي**.
- ٢- مقر المنظمة في مدينة خليجية تسمى **الرياض**.
- ٣- تم انشاء هذه المنظمة في عام **١٩٨١م**.

| اهداف المنظمة  | إنجازات المنظمة  |
|--|--|
| تحقيق التعاون بين الدول الأعضاء في جميع المجالات – تحقيق الترابط والصلات بين دول مجلس التعاون – العمل على تقدم مجلس التعاون في المجال العلمي | إقامة الاتحاد الجمركي – انطلاق السوق الخليجي المشترك في يناير ٢٠٠٨م – التنسيق في المجال السياسي في المحافل الدولية لكل القضايا التي تهم المجلس – وثيقة التطوير الشامل للتعليم – اتفاقية الدفاع المشتركة واستمرار تعزيز قوة درع الجزيرة |

## السؤال العاشر: - قارن بين كلاً من :-

-١

| المعيار | خطوط الطول  | دوائر العرض   |
|---------|---|---|
| التعريف | خطوط وهمية أي غير موجودة على سطح الأرض ترسم على الكرة الأرضية وتقسّمها إلى قسمين شرقي وغربي | خطوط وهمية أي غير موجودة على سطح الأرض ترسم على الكرة الأرضية وتقسّمها إلى قسمين شمالي وجنوبي |
| العدد   | ٣٦٠ خطأ   | ١٨٠ دائرة   |

منهج  
المنهج الكويتية  
almanahj.com/kw

-٢

| وجه المقارنة | فصل الصيف    | فصل الشتاء   |
|--------------|--------------|--------------|
| درجة الحرارة | ٤٠ درجة      | ٤ درجة       |
| طول الفصل    | طويل         | قصير         |
| حالة الجو    | حار جاف ورطب | يمتاز بالدفء |

-٣

| وجه المقارنة | الجبال  | الهضاب                                   |
|--------------|---|--|
| التعريف      | هو كل مرتفع له قمة لا يقل ارتفاعه عن ١٠٠٠ متر | أرض مرتفعة سطحها مستوي وتمتد مساحة كبيرة |
| أمثلة        | عسير - الحجاز - الأخضر                        | نجد - الأحمدى                            |

-٤

| حيثيات          | معاهدة الحماية     | معاهدة الاستقلال            |
|-----------------|--------------------|-----------------------------|
| السنة           | ١٨٩٩ م             | ١٩٦١ م                      |
| اطراف الاتفاقية | بريطانيا / الكويت  | بريطانيا الكويت             |
| حاكم الكويت     | الشيخ مبارك الصباح | الشيخ عبدالله السالم الصباح |

**السؤال الحادي عشر: - فرق بين كلا مما يلي من حيث المفاهيم :-**

-١-

| الموقع النسبي                | الموقع الفلكي                           |
|------------------------------|---|
| الموقع بالنسبة للماء واليابس | الموقع بالنسبة لخطوط الطول ودوائر العرض |

-٢-

| نبات حولي                            | نبات معمر  |
|--------------------------------------|--|
| نباتات يرتبط وجودها بموسم سقوط المطر | نباتات متوفرة طوال العام لأنها تتحمل الجفاف وارتفاع درجة الحرارة |

-٣-

| دوائر العرض  | خطوط الطول  |
|--|---|
| خطوط وهمية أي غير موجودة على سطح الأرض ترسم على الكرة الأرضية وتقسّمها إلى قسمين شمالي وجنوبي وعددها ١٨٠ دائرة | خطوط وهمية أي غير موجودة على سطح الأرض ترسم على الكرة الأرضية وتقسّمها إلى قسمين شرقي وغربي وعددها ٣٦٠ خطاً |

-٤-

| الهضبة                                   | الجبل   |
|--|---|
| أرض مرتفعة سطحها مستوي وتمتد مساحة كبيرة | هو كل مرتفع له قمة لا يقل ارتفاعه عن ١٠٠٠ متر |





مع  
تمنياتنا  
لكم  
بالتوفيق  
والنجاح

انتهت  
الأسئلة

الكويت ودول الخليج العربية