



نعوذ بحج الأجابه

نموذج الإجابة
امتحان

مقرر دولة الكويت والعالم الإسلامي
للفصل الثامن
نهاية الفترة الدراسية الثانية



وزارة التربية
التوجيه الفني للاجتماعيات
الإدارة العامة لمنطقة حولي التعليمية

العام الدراسي : (٢٠١٧ - ٢٠١٨)
الزمن : ساعة و ٤٥ دقيقة
عدد الأوراق : (٤)

السؤال الأول : موضوعي ويتكون من (أ ، ب ، ج ، د ، هـ) :

أ- أكمل العبارات التالية بما يناسبها مما درست :
(٦ درجات = كل نقطة درجة)

- ١- علوم نتجت عن الحضارة العربية الإسلامية علوم عقلية وعلوم نقلية . ص ٦٧
- ٢- فئة تتولى شؤون الدولة الإسلامية من الناحية السياسية والعسكرية تسمى الحكام . ص ٧٣
- ٣- الخليفة الأموي الذي بنى المسجد الأموي في دمشق عام ٨٨ هجري اسمه الوليد بن عبد الملك . ص ٧٤
- ٤- يمتد العالم الإسلامي في القارات القديمة آسيا وأفريقيا و أوروبا . ص ٨٣
- ٥- تقع جمهورية السنغال في قارة اسمها أفريقيا . ص ٨٧
- ٦- لواء كويتي شارك في حرب ١٩٦٧م مع جمهورية مصر العربية اسمه لواء اليرموك . ص ١٠١

ب- ظلل الخيار الصحيح من بين الخيارات التي تلي كل عبارة :
(٦ درجات = كل نقطة درجة)

١- أول الخلفاء الراشدين تولى الخلافة عام ١١ هجري : ص ٦٩

أبو بكر الصديق	عمر بن الخطاب	عثمان بن عفان	علي بن أبي طالب
٢- تعد شق القنوات من النشاط الاقتصادي وتمثل مجال : ص ٧١			
الرعي	الزراعة	الصناعة	التجارة
٣- أحد معابر الحضارة الإسلامية إلى أوروبا : ص ٧٦			
الهند	صقلية	الصين	البندقية
٤- يرأس الأمانة العامة أمين عام يعين من قبل المؤتمر لمدة : ص ٨٦			
سنة واحدة	سنتان	أربعة سنوات	خمسة سنوات
٥- الفرق بين قيمة الصادرات وقيمة الواردات بالدولة : ص ٩٣			
دخل الفرد	الدخل القومي	الميزان التجاري	متوسط دخل الفرد
٦- أرسلت دولة الكويت لواء الجهاد لمساندة الجيش المصري في حرب : ص ١٠٢			
١٩٤٨م	١٩٥٦م	١٩٦٧م	١٩٧٣م

ج- صنف المنتجات الاقتصادية التالية حسب الدول المنتجة لها :
(٦ درجات = كل نقطة درجة)

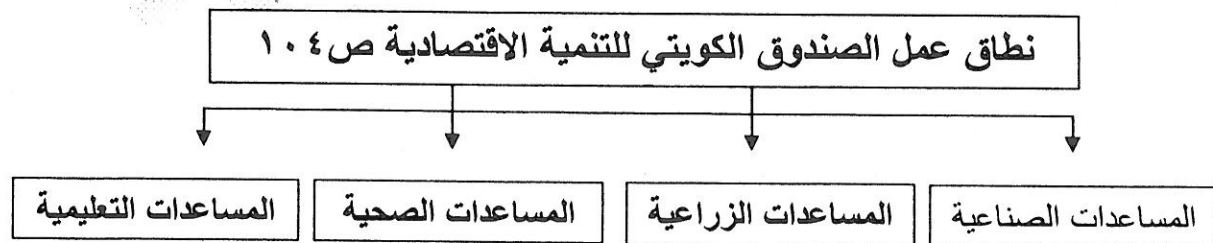
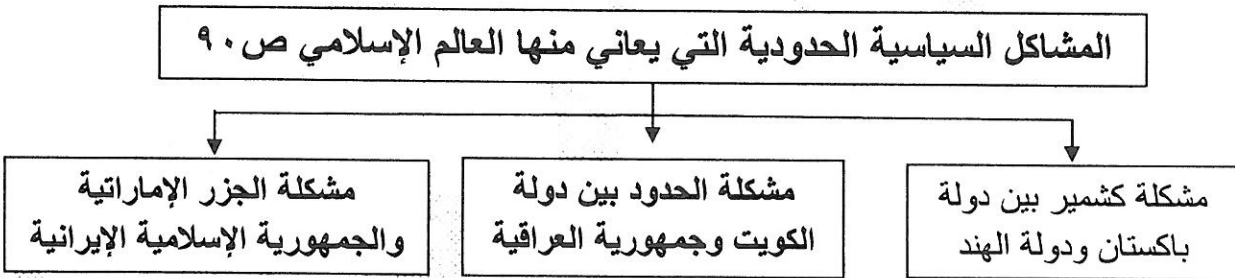
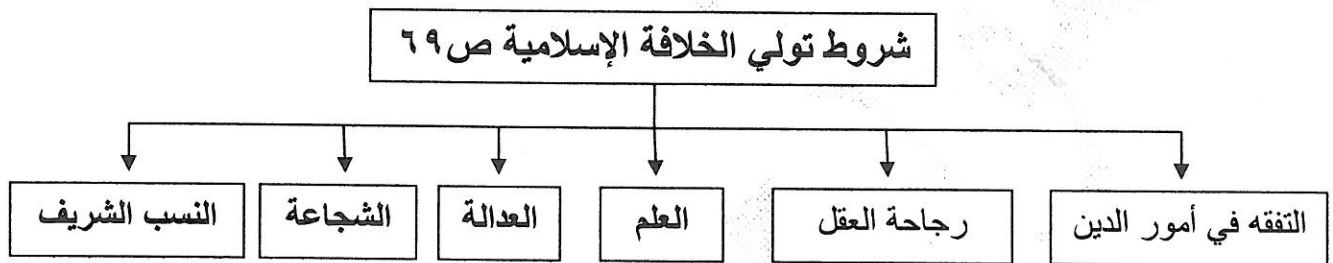
(الذهب - الفول السوداني - الحديد - الزيوت - القمح - الفحم - الموارد الغذائية)

المعيار	جمهورية كازاخستان ص ٨٨	جمهورية السنغال ص ٨٩
الزراعة	القمح	الفول السوداني
الموارد المعدنية	الذهب - الفحم	
الصناعة	الموارد الغذائية	الزيوت

د- صوب ما تحته خط في العبارات التالية :	
التصويب	العبارة
٢.٥ %	١- تجب الزكاة في الأموال النقدية ومقدارها ٥٠% . ص ٧٠
الحسن بن الهيثم	٢- عالم فيزيائي صاحب كتاب المناظر <u>الرازي</u> . ص ٧٤
أستانا	٣- عاصمة جمهورية كازاخستان حاليا <u>الماتنا</u> . ص ٨٨
عبدالكريم قاسم	٤- الرئيس العراقي الذي أعلن بأن الكويت تابعة للواء البصرة <u>حسن البكر</u> . ص ٩٠
٦٨٧	٥- أصدرت هيئة الأمم المتحدة لترسيم الحدود بين الكويت والعراق عام ١٩٩١م قرار رقم ٦٧٨ . ص ٩١
إينا (وكالة الأنباء الإسلامية الدولية)	٦- وكالة هدفها إقامة علاقات وثيقة بين الدول الأعضاء وتنميتها في ميدان <u>الإسبو</u> . ص ١٠٧

هـ- أكمل المخططات السهمية التالية :

(٦ درجات = كل نقطة درجة)



السؤال الثاني : مقالي ويتكون من (أ ، ب ، ج) :

(٤ درجات = كل نقطة درجة)

أ- عرف المفاهيم التالية :

- ١- الحضارة : هي كل ما أنجزه الإنسان من رقي وتقدم بمختلف جوانب الحياة المادية والمعنوية . ص ٦٧
- ٢- الدولة الإسلامية : هي التي يكون فيها عدد المسلمين ٥٠% أو أكثر من مجموع السكان ويحكمها حاكم مسلم . ص ٨٣
- ٣- منظمة المؤتمر الإسلامي : منظمة إقليمية دولية تضم دول العالم المستقلة . ص ٨٥
- ٤- الخراج : هو المال الذي يفرض على الأراضي الزراعية . ص ٧٠

(٦ درجات = كل نقطة درجة)

ب- قارن بين كل من حسب الجدول المبين :

وجه المقارنة	منظمة إذاعات الدول الإسلامية (إسبو) ص ١٠٧	المنظمة الإسلامية للتربية والعلوم والثقافة (آيسيسكو) ص ١٠٧ - ١٠٨
عام تأسست	١٩٧٥ م	١٩٨٢ م
مكان الانعقاد	مدينة جدة	مدينة فاس
الهدف نقطة واحد	* نشر مبادئ الدعوة الإسلامية وتعليم اللغة العربية . * تعريف الشعوب الإسلامية ببعضها . * شرح القضايا الإسلامية والكفاح من أجلها . * إنتاج وتبادل البرامج الإذاعية والتلفزيونية التي تخدم أهداف المنظمة . * تنمية التعاون بين الدول الأعضاء في الميدان الإذاعي .	* تشجيع التعاون بين الدول الأعضاء في تلك المجالات . * العمل على جعل المناهج الدراسية مرتكزة على الثقافة الإسلامية . * تدعيم التفاهم بين الشعوب والمساهمة في إقرار السلم والأمن في العالم عن طريق التربية والعلوم والثقافة . * تدعيم التعاون بين الدول في ميادين التربية والعلوم والثقافة .

(٥ درجات = كل نقطة درجة)

ج- أجب عن الأسئلة التالية :

- ١- عدد خصائص الحضارة العربية الإسلامية . ص ٦٨
(يكتفي بثلاث)
* حضارة إنسانية .
* حضارة إيمان وعمل .
* حضارة تسامح .
* حضارة عالمية .
* حضارة متطورة .
- ٢- أذكر أهداف منظمة المؤتمر الإسلامي اقتصاديا . ص ٨٥
(يكتفي بنقطتين)
* دعم التعاون بين الأعضاء في المجالات الاقتصادية .
* تقديم القروض المالية للدول الإسلامية الفقيرة من الدول الغنية .
* إنشاء البنك الإسلامي للتنمية في عام ١٩٧٥ م ومقره مدينة جدة .
* إنشاء الغرفة الإسلامية للتجارة والصناعة في عام ١٩٧٩ م ومقرها مدينة كراتشي .

السؤال الثالث : مقالي ويتكون من (أ ، ب ، ج) :

(٤ درجات = كل نقطة درجة)

أ- علل كلا مما يلي :

- ١- دفع أهل الذمة للجزية . ص ٧٠
* يدفعونها جزاء ما منحوا من الأرض .
- ٢- عدم تشجيع الكنيسة الفكر الحر والبحث العلمي في أوروبا . ص ٧٦
* خوفا على مكانتها في حال استنارت العقول .
- ٣- انتشار البطالة في دول العالم الإسلامي . ص ٩٤
* تزايد عدد السكان .
* ضعف الدخل القومي .
* قلة المشاريع الاستثمارية .

(يكتفي بنقطتين)

(٤ درجات = كل نقطة درجة)

ب- فرق بين كل من حسب الجدول المبين :

أهداف الهيئة الخيرية الإسلامية العالمية ص ١٠٦ * معاونة الفقراء والمرضى والأيتام وتقديم المساعدات المالية والعينية . * نشر الثقافة الإسلامية . (يكتفي بنقطتين)	أهداف بيت الزكاة ص ١٠٥ * جمع وتوزيع أموال الزكاة . * القيام بأعمال الخير والبر . * بث روح التكافل والتراحم بين أفراد المجتمع . (يكتفي بنقطتين)
--	--

(٧ درجات = كل نقطة درجة)

ج- عدد كل من :

- ١- العوامل التي ساعدت المسلمين على ازدهار الحياة العلمية . ص ٧٣ (يكتفي بنقطتين)
* رعاية الإسلام للحياة العلمية .
* ترجمة الكتب التراثية .
* تشجيع الخلفاء للعلماء في جميع العصور الإسلامية .

- ٢- أهم المضايق الذي يسيطر عليها العالم الإسلامي . ص ٨٤ (يكتفي بثلاث)
* مضيق هرمز .
* مضيق باب المندب .
* مضيق جبل طارق .
* مضيق البوسفور والدردينيل .
* مضيق ملقا .
* مضيق السند .
* قناة السويس .

- ٣- أهم قرارات المؤتمر الإسلامي الخامس في دولة الكويت . ص ٩٩ (يكتفي بنقطتين)
* دعم القضية الفلسطينية .
* مطالبة إيران بالاستجابة لمساعي السلام ووقف حرب الخليج الأولى .
* وحدة لبنان .
* حل قضية القبارصة الأتراك .
* إدانة الإرهاب .
* تدعم مطالب جبهة تحرير (مورو) للتححرر الوطني لمسلمي الفلبين .