

١- مستعينا بالخريطة المقابلة اكتب أربعة من عناصر الخريطة الأساسية.


.....

.....

.....

.....

- اكتب مدلول الشكل التالي :-



- أكمل المخطط السهمي التالي

١- تنقسم خرائط التوزيعات إلى :-



٣- الخرائط

٢- الخرائط الطبيعية

١- الخرائط

- وضح العلاقة بين : علم السياسية و الجغرافيا السياسية .

.....

.....

- عرف الخريطة .

.....

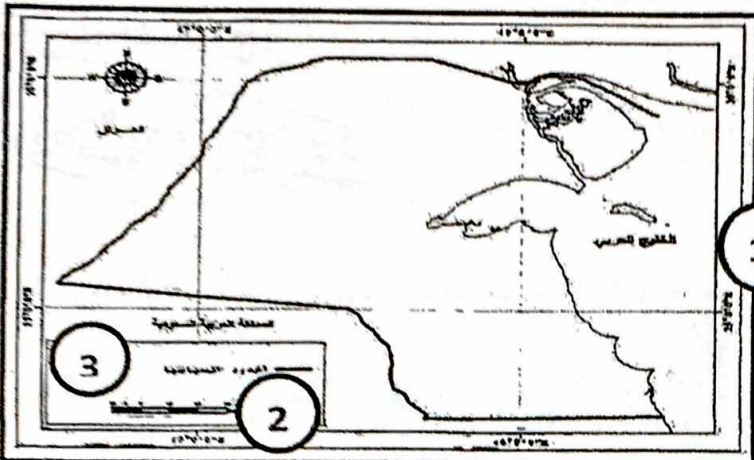
.....

- الخدمة :-

.....

.....

لاحظ الخريطة التي امامك ثم اجب عن الاسئلة المقابلة :



رقم (1) يمثل على الخريطة عنصر يسمى

.....

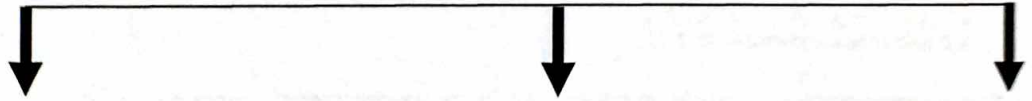
رقم (2) يمثل على الخريطة عنصر يسمى

.....

رقم (3) يمثل على الخريطة عنصر يسمى

.....

٢- أكمل المخطط السهمي التالي عن مراحل النشاط الاقتصادي ؟



(.....)

(مرحلة الإنتاج)

(.....)

2- فرق بين كل من :

الشمال الحقيقي أو الجغرافي	الشمال المغناطيسي
.....
.....

علل : أهمية علم الجغرافيا .

١

٢

٣

٥- عرف مايلي :-

أ- النشاط الاقتصادي :-

.....

ب - السلع :-

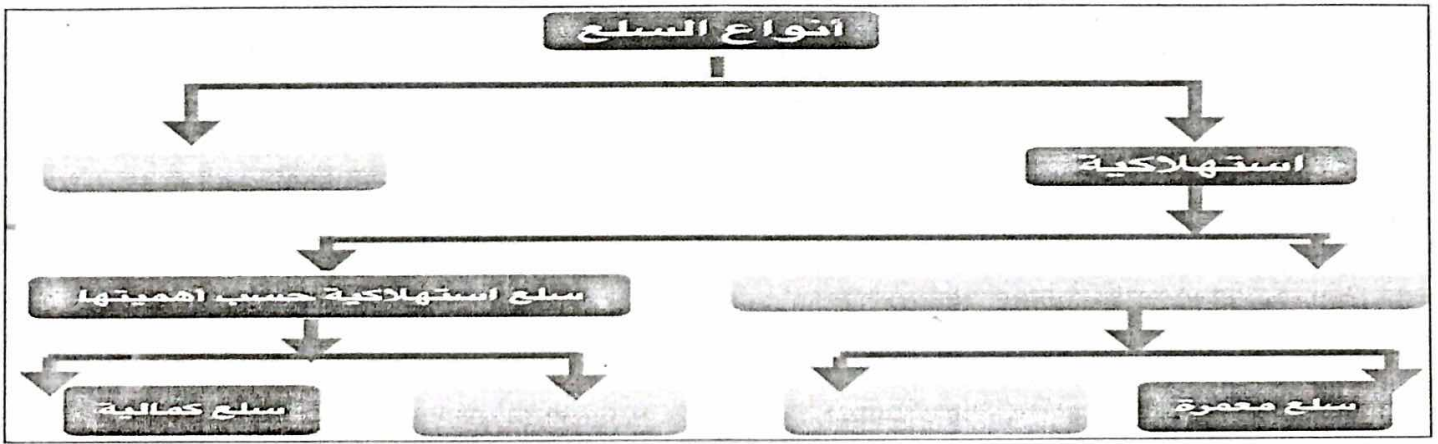
.....

١- اختر من المجموعة (ب) ما يناسب المسميات في المجموعة (أ) بوضع الرقم المناسب-

م	المجموعة (ب)	الرقم	المجموعة (أ)
١	سحب كوتية تتكون من غازات متأينة ما بين النجوم والغبار وتشكل ١٢ % من كتلة المجرة		الشهب
٢	اجسام صخرية عند دخولها الغلاف الجوي للأرض ترتفع حرارتها وتظهر على شكل خطوط ضوئية ثم تتلاشى		الاقمار
٣	نظام نجمي يتكون من بلايين النجوم والغبار الكوني وتوجد في تجمعات مختلفة		السدوم
			المجرات

٢- أكمل العبارات التالية بكلمات مناسبة

- ١- علم يهدف إلى الحصول على معلومات عن منطقة أو ظاهرة معينة ، يتم اكتسابها بجهاز لا ينمس الأشياء محل الدراسة مباشرة يسمى
- ب) يطلق على المجرة التي تحيط بنا وتقع ضمنها المجموعة الشمسية اسم



٣- علل لما يلي :-

١- أهمية علم الاستشعار عن بعد في الوقت الحاضر في دراسة تلوث البيئة.

(ج) اكتب فيما يلي :-

١- كرة النار .

٢- المجالات التطبيقية للاستشعار عن بعد .

٥- عدد أهداف علم الاقتصاد :-