

تم تحميل هذا الملف من موقع المناهج الكويتية



منطقة حولي التعليمية

الملف نموذج إجابة منطقة حولي التعليمية

[موقع المناهج](#) ← [المناهج الكويتية](#) ← [الصف الثامن](#) ← [اجتماعيات](#) ← [الفصل الأول](#)

روابط مواقع التواصل الاجتماعي بحسب الصف الثامن



روابط مواد الصف الثامن على تلغرام

[الرياضيات](#)

[اللغة الانجليزية](#)

[اللغة العربية](#)

[التربية الاسلامية](#)

المزيد من الملفات بحسب الصف الثامن والمادة اجتماعيات في الفصل الأول

مسودة كتاب الطالب في مادة الاجتماعيات لعام 2018	1
خطة توزيع منهج العام الجديد في مادة الاجتماعيات	2
حل الوحدة الاولى في مادة الاجتماعيات	3
ورقة عمل في مادة الاجتماعيات	4
ورقة عمل في مادة الاجتماعيات	5



وزارة التربية
الإدارة العامة لمنطقة حولي التعليمية
مراقبة الامتحانات وشؤون الطلبة

العام الدراسي 2024 / 2025 م
امتحان الفترة الدراسية الأولى

موقع
المناهج الكويتية
almanahj.com/kw

نموذج الإجابة

الإجتماعيات

المرحلة المتوسطة
الصف الثامن

تم التحميل من شبكة ياكويت التعليمية



Telegram:
ykuwait_net_home



وزارة التربية
الإدارة العامة لمنطقة حولي التعليمية
التوجيه الفني للاجتماعيات

المجال الدراسي : الاجتماعيات

الزمن : ساعة وخمس وأربعون

موقع
المناهج الكويتية
manahj.com/kw

نموذج الإجابة

امتحان نهاية الفترة الدراسية الأولى
للسف الثامن ((دولة الكويت والعالم الإسلامي))
للعام الدراسي : ٢٠٢٤ - ٢٠٢٥ م

تم التحميل من شبكة ياكويت التعليمية



Telegram:
ykuwait_net_home

مع تمنياتنا لكم بالتوفيق
التوجيه الفني للاجتماعيات

نموذج الإجابة

العام الدراسي : ٢٠٢٤ / ٢٠٢٥ م

الزمن: ساعة وخمسة وأربعون

عدد الأوراق : ٦

امتحان نهاية الفترة الدراسية الأولى
مقرر/ دولة الكويت والعالم الإسلامي
للسف الثامن المتوسط

وزارة التربية
الإدارة العامة لمنطقة حولي التعليمية
التوجيه الفني للاجتماعيات

السؤال الأول: موضوعي يتكون من (أ - ب - ج - د - هـ - و) : (٣٠ درجة لكل نقطة درجة واحدة)

(أ) ظلل الخيار الصحيح من بين الخيارات التي تلي كل عبارة :

١- أحد العلوم العقلية في الحضارة الإسلامية : ص ١٧

التاريخ	التفسير	الفلك	الحديث
---------	---------	-------	--------



٢- المظهر التضاريسي المحدد على الخريطة المقابلة : ص ٦١

جبل	هضبة
وادي	تَل

٣- الدليل على اهتمام المسلمين في مجال الزراعة : ص ٢٦

شق القنوات المائية	بناء القباب	استيراد الأخشاب	غزل الجوت
--------------------	-------------	-----------------	-----------

٤- نسبة ما ينتجه العالم الإسلامي من النفط الخام يمثلها الجزء المظلل من الدائرة البيانية : ص ٦٧



٥- القارة التي تقع فيها دولة ألبانيا : ص ٥١

أفريقيا	آسيا	أمريكا الجنوبية	أوروبا
---------	------	-----------------	--------

(ب) أكمل العبارات التالية بما يناسبها فيما درست :

١- أول خليفة حكم المسلمين بعد وفاة الرسول ﷺ اسمه أبو بكر الصديق رضي الله عنه ص ٢٥

٢- المرتفعات التي تحجز سهل تهامة في الغرب عن هضبة نجد في الشرق اسمها الحجاز ص ٥٥

٣- أصغر دولة في العالم الإسلامي من حيث المساحة اسمها المالديف ص ٥٢

٤- الإقليم المناخي الذي يقع فيه دول شبه الجزيرة العربية اسمها القاري - الصحراوي ص ٦٤

٥- الدولة التي يقع فيها جامع الزيتونة اسمها تونس ص ٣٣

تم التحميل من شبكة ياكويت التعليمية



Telegram:
ykuwait_net_home

تابع / إجابة امتحان / الفترة الدراسية الأولى / الصف الثامن / لمقرر دولة الكويت والعالم الإسلامي للعام الدراسي ٢٠٢٤ / ٢٠٢٥ م

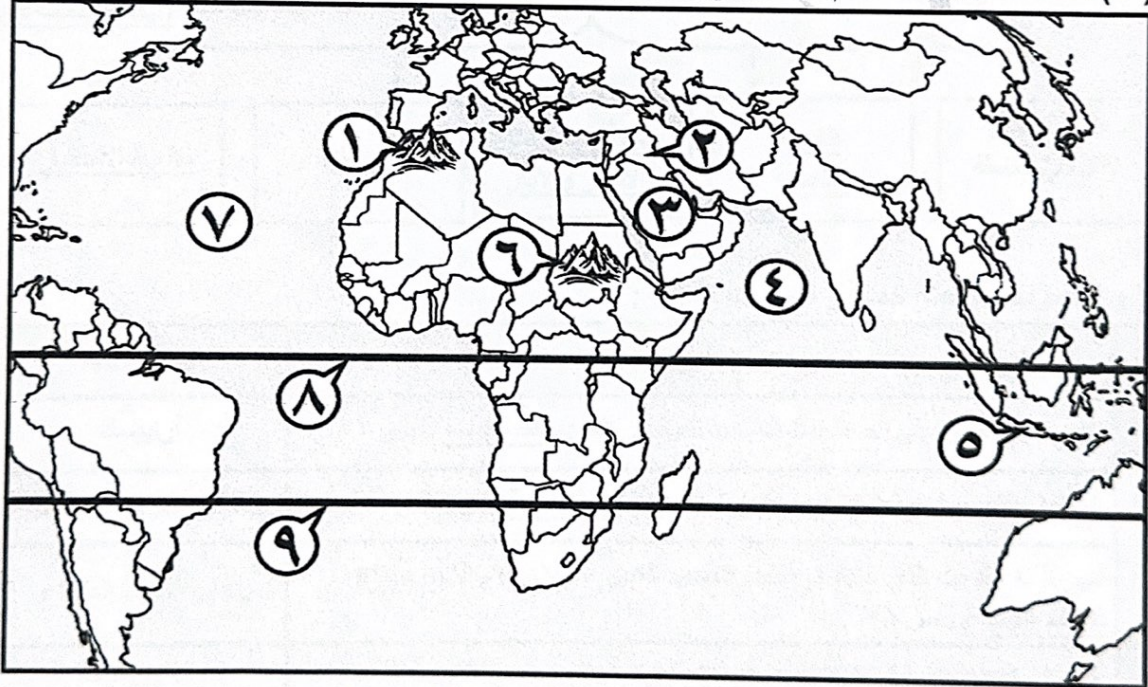
تابع / السؤال الأول موضوعي :

(ج) أكتب المفاهيم أو المصطلحات الدالة على العبارات التالية :

م	المفهوم أو المصطلح	العبرة
١	أهل الذمة	النصارى واليهود الذين ظلوا على دينهم مع دفع الجزية. ص ٣٦
٢	الهضبة	أرض مرتفعة سطحها مستوي وتمتد في مساحة واسعة . ص ٥٦
٣	احتياطي النفط	كمية النفط المخزونة في باطن الأرض ولم تستخرج بعد. ص ٦٨
٤	إقليم مناخي	مساحة من الأرض تتصف بعناصر مناخية متشابهة . ص ٦٥
٥	الجبل	كل قمة لا يقل ارتفاعها عن ١٠٠٠ متر تقريباً. ص ٥٣

almanahj.com/kw

(د) أمامك خريطة العالم الإسلامي - أكتب الرقم الدال على العبارات التي تليها :



تم التحميل من شبكة باكويث التعليمية



Telegram:
ykuwait_net_home

- الدولة التي يقع فيها " بيت الحكمة " يُمثّلها على الخريطة الرقم (٢) ص ٣٨

- جبل مره يُمثّل على الخريطة الرقم (٦) ص ٥٤

- خط الاستواء يُمثّل على الخريطة الرقم (٨) ص ٦٣

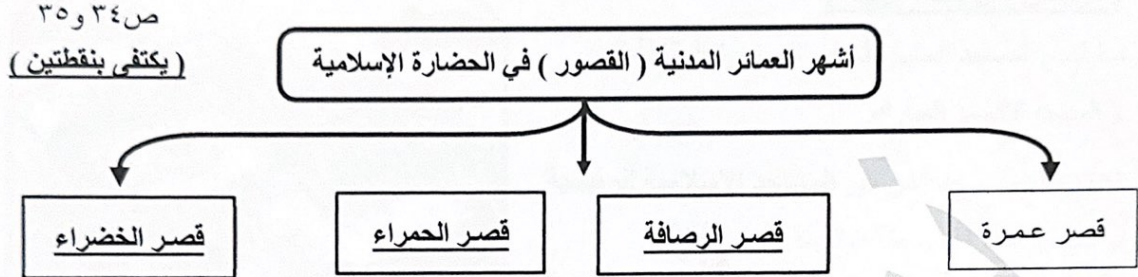
- المحيط الأطلسي يُمثّل على الخريطة الرقم (٧) ص ٥٩

- دولة إندونيسيا يُمثّلها على الخريطة الرقم (٥) ص ٧٤

تابع / اجابة امتحان / الفترة الدراسية الأولى / الصف الثامن / لمقرر دولة الكويت والعالم الإسلامي للعام الدراسي ٢٠٢٤ / ٢٠٢٥ م

تابع / السؤال الأول موضوعي :

(هـ) أكمل المخططات السهمية التالية فيما درست :




(و) صوب ما تحته خط في العبارات التالية :

م	العبرة	التصويب
١	الاسم الذي أطلق على الصناعات الخشبية نسبة إلى العرب <u>الفسيفساء</u> . ص ٢٧	أرابيسك
٢	المجال الذي برز فيه الدكتور عبد الرحمن السميح <u>الهندسة</u> . ص ٢٤	العمل الخيري - الإنساني
٣	أمير دولة الكويت الذي افتتح في عهده المسجد الكبير عام ١٩٨٦م الشيخ <u>صباح الأحمد الصباح</u> . ص ٣١	جابر الأحمد الصباح
٤	عدد الدول الإسلامية في قارة آسيا يبلغ <u>٣٢</u> دولة . ص ٥١	٢٧ دولة
٥	العالم المسلم الذي ألف كتاب الجبر والمقابلة <u>أبو بكر الرازي</u> . ص ٣٩	الخوارزمي

السؤال الثاني: مقالي يتكون من (أ - ب - ج) :

(أ) لاحظ الصورة المقابلة لأحد المساجد الرئيسية في الحضارة الإسلامية ثم أجب عن الأسئلة التالية :

(درجتان لكل نقطة درجة)



١- ما اسم المسجد المشار له في الصورة المقابلة ؟

■ المسجد الأقصى المبارك.

٢- أكتب أسم مسجد آخر من المساجد الإسلامية الرئيسية .

■ الكعبة المشرفة في مكة المكرمة.

■ المسجد النبوي في المدينة المنورة.

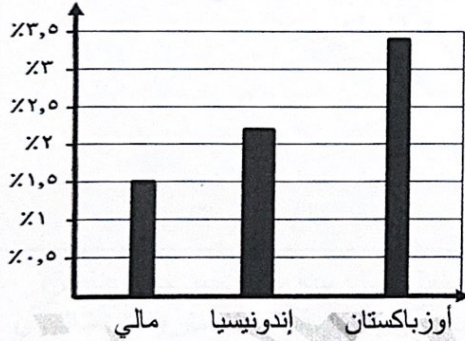
ص ٣٢ ، ٣٣

(يكتفى بنقطة واحدة فقط)

(ب) لاحظ الجدول التالي ثم أجب عما يلي : (أربع درجات لكل نقطة درجة) ص ٧٠

نسبة إنتاج الذهب من جملة إنتاج دول العالم الإسلامي حسب إحصاء ٢٠١٤ م .

إندونيسيا	مالي	أوزباكستان	كازاخستان
٢,٣ %	١,٥ %	٣,٤ %	١,٧ %



١- استخرج من الجدول السابق :

- أعلى دولة في نسبة إنتاج الذهب. ■ أوزباكستان

٢- حول نسب إنتاج الذهب للدول التالية إلى أعمدة بيانية.

(إندونيسيا ، أوزباكستان ، مالي)

(ج) عدد نقطتين لكل مما يلي : (أربع درجات لكل نقطة درجة)

١- خصائص الحضارة الإسلامية. ص ٢٢ - ٢٣ (يكتفى بنقطتين)

■ حضارة تسامح . ■ حضارة إنسانية . ■ حضارة إيمان وعمل . ■ حضارة عالمية . ■ حضارة شمولية .

٢- العوامل التي لعبت دوراً في تنوع المناخ بدول العالم الإسلامي. ص ٦٣ (يكتفى بنقطتين)

■ امتداد دول العالم الإسلامي على مساحة شاسعة .

■ الموقع بالنسبة لدوائر العرض .

■ الإطلالة على عدة مسطحات مائية في معظم أجزائه.

■ التنوع في التضاريس من جبال وهضاب وسهول ووديان .

السؤال الثالث: مقالي يتكون من (أ - ب - ج) :

(أ) اقرأ الفقرة التالية ثم أجب عما يليها من أسئلة: (أربع درجات لكل نقطة درجة)

امتدت الحضارة العربية الإسلامية لتشمل مساحات كبيرة من العالم مما أدى إلى انتشار مراكز الإشعاع الحضاري وأبرزها جزيرة صقلية ، وهذا يدل على قوة ومثانة الأسس التي انطلقت من خلالها الحضارة الإسلامية وجعلتها ترتقي وتزدهر وتصبح ذات نتائج مادي ومعنوي.

١- ضع عنواناً مناسباً للفقرة السابقة . ■ انتشار الحضارة العربية الإسلامية (ما يراه المصحح مناسباً) . ص ٢٠
٢- عرف ما تحته خط . الحضارة : هي كل ما يطرأ على المجتمع من تقدم وتطور ورقي سواء في الجانب المادي " أو الجانب الروحي . ص ١٨

٢- استخرج من الفقرة السابقة مركز من مراكز إشعاع الحضارة العربية الإسلامية . ص ١٤
■ جزيرة صقلية

٣- أذكر أسس الحضارة الإسلامية . ص ٢٠
■ الدين الإسلامي . ■ اللغة العربية . ■ الحضارات الأخرى . (يكتفى بنقطة واحدة فقط)

(ب) فرق بين كل من : (أربع درجات لكل نقطة درجة)

الخراج ص ٢٨	الزكاة ص ٢٨
ضريبة الأرض الزراعية التي تخرج مبلغاً مالياً معيناً من ناتج المحصول الزراعي .	ركن من أركان الإسلام يخرجها المسلمون الأغنياء للمستحقين من الفقراء - سميت زكاة لما فيها من تزكية للنفس وتطهيرها - وتجب على الأموال النقدية التي حال عليها الحول بواقع ٢,٥٪ كما تجب على الثروات الأخرى كالأبل والمواشي والتجارة .
المُنَاخ ص ٦٤	الطقس ص ٦٤
حالة الجو خلال فترة زمنية طويلة ، من حيث عناصره وهي درجة الحرارة والرطوبة والأمطار والضغط الجوي	حالة الجو في مكان لمدة قصيرة تتراوح بين يوم أو عدة أيام، من حيث درجة الحرارة والرطوبة والأمطار والضغط الجوي.

(ج) عدد - أسماء الهضاب بدول العالم الإسلامي . (درجتان لكل نقطة درجة) ص ٥٦

تم التحميل من شبكة ياكويت التعليمية

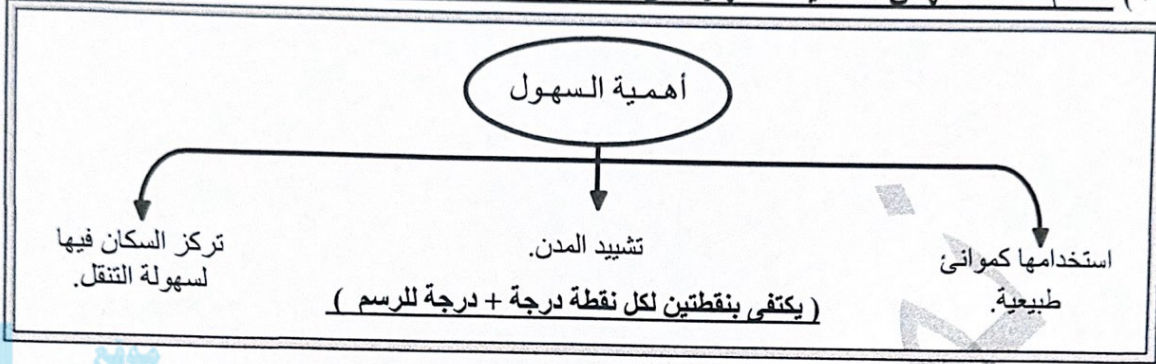


Telegram:
ykuwait_net_home

- نجد .
- الصحراء الكبرى (أفريقيا الشمالية) .
- الأناضول .
- الإيرانية .

السؤال الرابع : مقالي يتكون من (أ - ب - ج) :

(أ) صمم مخطط سهمي لأهمية السهول في المربع التالي . (ثلاث درجات لكل نقطة درجة) ص ٥٨



(ب) قارن بين كل من : (أربع درجات لكل نقطة درجة)

ص ٤٣	ص ٤٢	وجه المقارنة
		
الحمام الزاجل	خريطة الشريف الإدريسي	الاسم الدال على الصورة
■ نقل الرسائل جواً عن طريق الحمام الزاجل .	■ غامر بعض الأوروبيين وركب المحيط واتجه نحو الغرب . ■ اكتشفوا أن الأرض كروية . ■ اكتشاف الأمريكيتين .	طرق استفادة الأوروبيون منها
	(يكتفى بنقطة واحدة فقط)	

(ج) أكتب فيما يلي : (ثلاث درجات لكل نقطة درجة)

- العوامل التي أدت إلى ازدهار العلم وظهور العلماء . ص ٣٧ (يكتفى بنقطتين)
 - تشجيع العلماء ورعاية وتمويل القيادات السياسية لهم من خلفاء وملوك وسلطين وأمرء .
 - التنافس العلمي بين الدول الإسلامية .
 - حركة التعريب (الترجمة) للكتب القديمة اليونانية والهندية والفارسية وغيرها .
 - الرخاء الاقتصادي .

٢- المصادر الطبيعية لإنتاج الأسماك في دول العالم الإسلامي . ص ٧٤ (يكتفى بنقطة واحدة)

- المحيطات
- البحار .
- المياه العذبة .

انتهت الإجابة ،،،