

تم تحميل هذا الملف من موقع المناهج الكويتية



منطقة العاصمة التعليمية

الملف نموذج إجابة منطقة العاصمة التعليمية

موقع المناهج ← المناهج الكويتية ← الصف التاسع ← اجتماعيات ← الفصل الأول

روابط مواقع التواصل الاجتماعي بحسب الصف التاسع



روابط مواد الصف التاسع على تلغرام

[الرياضيات](#)

[اللغة الانجليزية](#)

[اللغة العربية](#)


[التربية الاسلامية](#)

المزيد من الملفات بحسب الصف التاسع والمادة اجتماعيات في الفصل الأول

مسودة كتاب الطالب اجتماعيات لعام 2018	1
نموذج اجابة اختبار لعام 2017 تعليم خاص	2
نموذج اجابة اختبار لمنطقة العاصمة لعام 2016 في مادة الاجتماعيات	3
مراجعة رائعة للفصل الاول في مادة الاجتماعيات	4
حل تقويم الكورس الاول في مادة الاجتماعيات	5



قروبات تيمز
@TEAMS4ALL



موقع
المنهج الكويتية
almanahj.com/kw

منطقة العاصمة التعليمية

التنمؤ وازجائية
الاجائية



وزارة التربية
الإدارة العامة لمنطقة العاصمة التعليمية
التوجيه الفني للاجتماعيات

العام الدراسي : ٢٠٢٣ / ٢٠٢٤ م
الزمن : (ساعة وخمس وأربعون دقيقة)
عدد الأوراق : (٦)

(نموذج الإجابة)
امتحان نهاية الفترة الدراسية الأولى
لمقرر الكويت والعالم - للصف التاسع

السؤال الأول (موضوعي) يتكون من (أ - ب - ج - د - هـ) :

(أ) أكمل العبارات التالية بما يناسبها فيما درست :

١- منظمة الدول المصدرة للنفط تسمى الأوبك ص ١٠٢

٢- الغاز الرئيسي المسبب للاحتباس الحراري الميثان وغاز يسمى ثاني أكسيد الكربون ص ٨٠

٣- خط الأساس لخطوط الطول يسمى جرينتش ص ١٨

٤- وحدة قياس ضغط الصوت تسمى الديسيبل ص ٦٩

٥- أحد أنواع التلوث من أضراره الشعور بالإرهاق والتعب وعدم القدرة على بذل مجهود كبير يسمى تلوث الهواء ص ٦٣

٦- كل مرتفع من الأرض وله قمة لا يقل ارتفاعها عن ١٠٠٠ متر يسمى الجبال ص ٢٤

٧- منظمة الأمم المتحدة للتربية والعلوم والثقافة تسمى اليونسكو ص ١٠٦

(ب) صوب ما تحته خط في العبارات التالية :

(٧ = ١ × ٧ درجات)

م	العبارة	التصويب
١	الاعتناء بالحيوانات الداجنة وتوليدها يسمى <u>الجمع والالتقاط</u> .	استئناس الحيوانات ص ٤٦
٢	تبلغ نسبة الهضاب من مساحة القارات <u>٣٥٪</u> .	٣٣٪ ص ٢٤
٣	أول رياضي عربي تسلق قمة إفرست اسمه <u>عبدالرحمن السميح</u> .	زيد السيد الرفاعي ص ٢٥
٤	كافة التفاعلات الدولية وحركات الشعوب وتبادل السلع والأفكار تسمى <u>السياسة الدولية</u> .	العلاقات الدولية ص ٩١
٥	تقع دولة الكويت بالنسبة للخليج العربي في جهة <u>الجنوب الغربي</u> .	الشمال الغربي ص ٢٠
٦	العلاقة بين أضلاع مثلث الحياة (الإنسان - البيئة - الموارد الطبيعية) علاقة <u>عكسية</u> .	تبادلية / اعتمادية ص ١٥
٧	المرحلة التي بدأ فيها الإنسان باستخدام قدراته الخلقية والعقلية في دراسة حركات الحيوانات اليومية والموسمية تسمى <u>التصنيع</u> .	الصيد والقنص ص ٤٦



قروبات تيمز
@TEAMS4ALL

anahj.com/kw

تابع السؤال الأول (موضوعي) :

(ج) ضع خطأ تحت الخيار الصحيح من بين الخيارات التي تلي كل عبارة : (٧ × ١ = ٧ درجات)

١- الأقاليم المناخية الواقعة بين دائرتي عرض ٣٠° - ٤٠° شمالاً وجنوباً : ص ٢٧

الحارة	المعتدلة الباردة	<u>المعتدلة الدفينة</u>	الباردة
--------	------------------	-------------------------	---------

٢- مصدر من المصادر الميكانيكية لتلوث التربة : ص ٦٧

<u>الرعي الجائر</u>	المبيدات الحشرية	آفات زراعية	الأسمدة الكيماوية
---------------------	------------------	-------------	-------------------

٣- إرسال حكومة الكويت لرسائل التهئة والتعزية للدول المختلفة شكل من أشكال العلاقات : ص ١٠٤

السياسية	<u>الاجتماعية</u>	الاقتصادية	الثقافية
----------	-------------------	------------	----------

٤- أحد المشكلات التي تواجهها الدول المتقدمة : ص ٩٧

البطالة	عدم توفر رأس المال	ندرة الموارد النفطية	<u>قلة الأيدي العاملة</u>
---------	--------------------	----------------------	---------------------------

٥- أحد مصادر المياه التقليدية : ص ٧٧

تحلية مياه البحر	الأمطار الصناعية	<u>المياه الجوفية</u>	معالجة مياه الصرف
------------------	------------------	-----------------------	-------------------

٦- مساعدات تتمثل في تقديم الدعم المباشر للمشروعات الوطنية بالاستعانة بالجهات الخارجية من أجل تطوير وتحسين خدمات الدولة : ص ١٠٥

<u>فنية</u>	طارئة	اقتصادية	مالية
-------------	-------	----------	-------

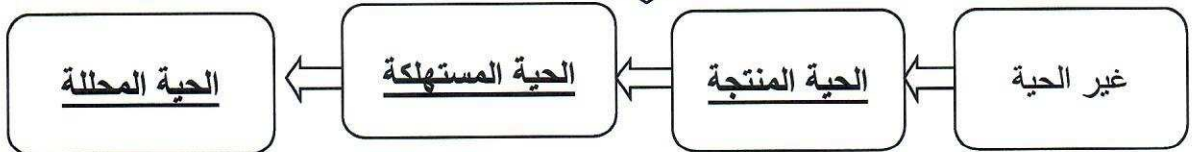
٧- عقد المؤتمر الدولي للأرض في مدينة (ريودي جانيرو) في البرازيل عام : ص ٨١

١٩٩١م	<u>١٩٩٢م</u>	١٩٩٣م	١٩٩٤م
-------	--------------	-------	-------

(د) أكمل المخطط السهمي التالي : (٣ × ١ = ٣ درجات)

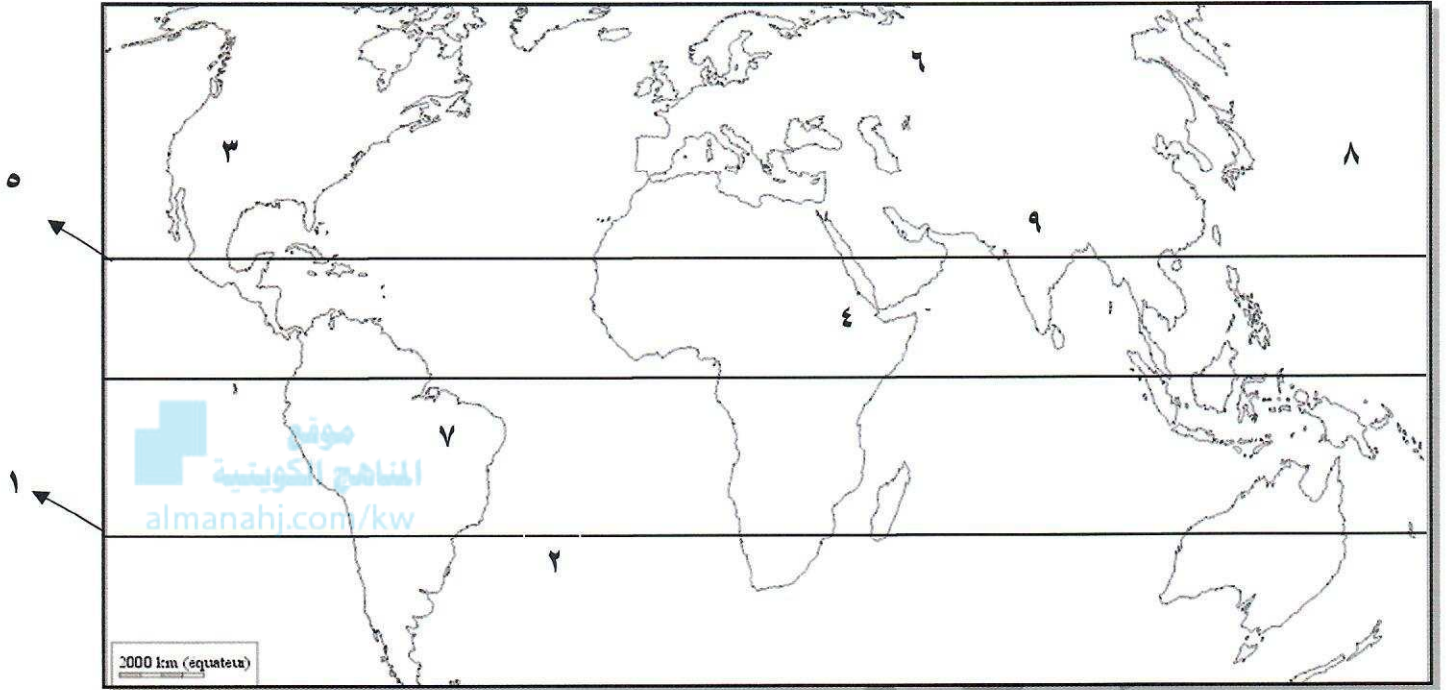


مجموعات عناصر النظام الأيكولوجي ص ٤٩



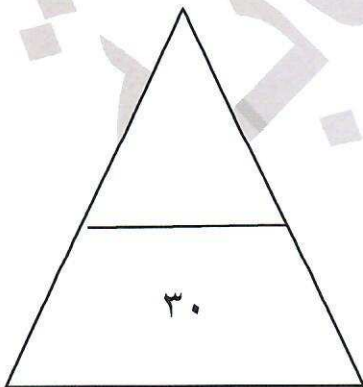
تابع السؤال الأول (موضوعي) :

(هـ) أمامك خريطة العالم الصماء اكتب مدلولات الأرقام الدالة على العبارات التالية: (٦ × ١ = ٦ درجات)



قروبات تيمز
@TEAMS4ALL

- سهول سيبيريا تحمل الرقم (٦) ص ٢٥
- مدار الجدي يحمل الرقم (١) ص ١٩
- هضبة أثيوبيا تحمل الرقم (٤) ص ٢٥
- المحيط الأطلنطي يحمل الرقم (٢) ص ٢٠
- جبال الهمالايا تحمل الرقم (٩) ص ٢٥
- جبال الروكي تحمل الرقم (٣) ص ٢٥



مجموع درجات السؤال الأول بالحروف :

السؤال الثاني (مقالى) يتكون من (أ - ب - ج) :

(أ) عرف ما يلى : (درجتان لكل نقطة درجة)

١- الاقتصاد البيئي : التوزيع الأمثل للموارد الطبيعية التي توفرها البيئة لعملية التنمية المستدامة . ص ٤٣

٢- التضاريس : الملامح الرئيسية لشكل سطح الأرض من مرتفعات ومنخفضات وأودية وسهول . ص ٢٣

(ب) فرق بين كل مما يلى :

مفهوم البيئة الحضرية المتقدمة ص ٤٤	مفهوم البيئة النامية حضارياً ص ٤٤
يملك فيها الإنسان قدرات علمية وتكنولوجية كبيرة تمكنه من استغلال مواردها حسب رغباته . (درجة)	يكون فيها الإنسان صاحب قدرات علمية محدودة لا تمكنه من استغلال موارد البيئة . (درجة)
أسباب الاحتباس الحراري الطبيعية ص ٨٠	أسباب الاحتباس الحراري غير طبيعية (البشرية) ص ٨٠
- التغيرات التي تحدث لمدار الأرض حول الشمس وما ينتج عنها من تغير في كمية الإشعاع الشمسي الذي يصل إلى الأرض . - الانفجارات البركانية - التغير في نسب مكونات الغلاف الجوي . (درجة - ويكتفى بنقطة)	- إزالة الغابات بمساحات كبيرة . - استعمال الوقود الأحفوري (نفط ، فحم ، غاز) ساهم في زيادة تركيز غاز ثاني أكسيد الكربون في الجو ، ونجم عنه زيادة درجة حرارة الجو . (درجة - ويكتفى بنقطة)

(ج) أجب عما يلى :

١- دال على صحة العبارة : (للتلوث الضوضائي أضرار عديدة) . ص ٧٠ (درجتان لكل نقطة درجة - يكتفى بنقطتين)

- ضعف السمع .

- الإصابة بالصمم .

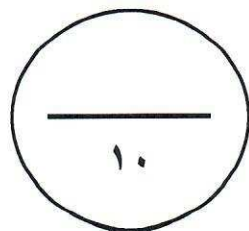
- ارتفاع ضغط الدم .

- الشعور بالصداع والطنين في الأذن .

٢- علل - نشأة الحركة التجارية الدولية . ص ٩٩ (درجتان لكل نقطة درجة - يكتفى بنقطتين)

- حاجة الدول المنتجة إلي أسواق لتصريف منتجاتها ليعود بالنفع عليها وعلي سكانها.

- حاجة الدول المستهلكة لاستيراد السلع والخدمات وموارد الخام التي لا تتوفر في أرضها .



مجموع درجات السؤال الثاني بالحروف :

السؤال الثالث (مقال) ويتكون من (أ - ب - ج) :

(أ) اقرأ الفقرة التالية ثم أجب عما يليها من أسئلة : ص ٧٢

" تُعد مشكلة التصحر من الظواهر المهمة ، وأصبحت آثارها السلبية لا تقتصر على منطقة محددة ، دائماً تشكل مساحة كبيرة وفي معظم القارات ولا سيما في قارة أفريقيا مما أدى إلى قلة إنتاج المحاصيل ، والذي ينعكس على تغذية الإنسان والحيوان فالتصحر هو تناقص في قدرة الإنتاج البيولوجي للأرض أو تدهور خصوبة الأراضي المنتجة ، وله عدة أسباب منها الطبيعية كقلة الأمطار وتعرية التربة وزحف الكثبان الرملية وأخرى بشرية كالرعي الجائر والري غير المتقن " .

١- عرف ما تحته خط . (درجة - ويكتفى بنقطة) ص ٧٢

التصحر : هو تناقص في قدرة الإنتاج البيولوجي للأرض / أو تدهور خصوبة الأراضي المنتجة بالمعدل الذي يكسبها ظروف تشبه الأحوال المناخية الصحراوية .

٢- استخرج من الفقرة الأسباب الطبيعية لمشكلة التصحر. (درجتان - لكل نقطة درجة - يكتفى بنقطتين) ص ٧٢



- قلة الأمطار .

- ارتفاع نسبة التبخر .

- زحف الكثبان الرملية .

- تعرية التربة .

٣- أمامك خريطة دولة الكويت الصماء ، حدد عليها المحميات الطبيعية

في دولة الكويت باستخدام الرمز ++++ ص ٧٤

(تحديد واحد للمحمية يحسب للمتعلم - درجة)

(ب) اذكر نقطتين لكل مما يلي :

١- أدوات تنفيذ السياسة الخارجية . ص ٩٥

- الدبلوماسية .

- استخدام القوة السياسية .

- استخدام وسائل الإعلام في شرح وجهة نظر الدولة وسياساتها .

- المعونات الخارجية / المقاطعة الاقتصادية .

- توقيع المعاهدات والاتفاقيات .

٢- أسباب ندرة المياه بدول مجلس التعاون الخليجية . ص ٧٨

(درجتان - لكل نقطة درجة)

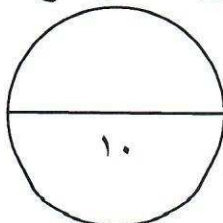
-النمو السكاني / التوسع العمراني والتنموي / الموقع الجغرافي ذو المناخ الصحراوي / عدم وجود أنهار دائمة .

- قلة سقوط الأمطار / ارتفاع نسبة الملوحة بالمياه الجوفية .

(ج) عرف ما يلي : (درجتان - لكل تعريف درجة)

١- نظام GPS : نظام تحديد المواقع العالمي مبني على الأقمار الصناعية . ص ١٠٠

٢- البيئة : الإطار الذي يعيش فيه الإنسان ويحصل فيه على مقومات حياته ويتفاعل فيها مع عناصر البيئة الأخرى . ص ١٥



مجموع درجات السؤال الثالث بالحروف

السؤال الرابع (مقال) ويتكون من (أ - ب - ج) :

(أ) دلل على صحة العبارات التالية :

١- السهول أفضل مناطق للاستقرار البشري . ص ٢٤ (درجة - ويكتفى بنقطة)
- تعتبر موانئ طبيعية / سهولة بناء المساكن عليها / تركيز السكان فيها لسهولة التنقل .

٢- التربة هي الأساس للمستقبل المستدام لكوكب الأرض. ص ٦٨ (درجة - ويكتفى بنقطة)
- التربة الصحية هي مصدر غذاء العالم .
- التربة مثل النفط أو الغاز الطبيعي من الموارد المحدودة .
- الاستثمار في الإدارة المستدامة للتربة يحقق بعداً اقتصادياً وبيئياً .

(ب) عدد المطلوب لكل مما يلي :



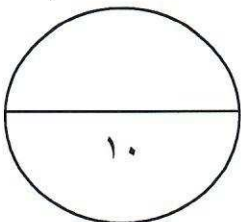
١- عناصر المناخ . ص ٢٧ (درجتان - لكل نقطة درجة - ويكتفى بنقطتين)

- الرياح .
- درجة الحرارة .
- الرطوبة .
- الضغط الجوي .
- الأمطار .

٢- العوامل المؤثرة على العلاقات السياسية بين الدول . ص ٩٤ (درجتان - لكل نقطة درجة - ويكتفى بنقطتين)
- العوامل الجغرافية . / - العوامل الداخلية .
- العوامل الخارجية . / - العوامل البيئية .
- العوامل الصناعية . / - العوامل الاقتصادية . / - العوامل العسكرية .

(ج) فرق بين كل مما يلي من حيث (التعريف) :

ندرة المياه المعنوية ص ٧٦	ندرة المياه المادية ص ٧٦
تتمثل في امتلاك البلد للموارد المائية التي تلبي جميع الاحتياجات ولكن تقع أمام إشكالية الإدارة .	تتمثل في عجز الموارد عن تلبية كمية الطلبات للسكان .
(درجة)	(درجة)
الموقع النسبي ص ٢٠	الموقع الفلكي ص ١٨
موقع الدولة بالنسبة لليابس والماء .	موقع الدولة بالنسبة لخطوط الطول ودوائر العرض .
(درجة)	(درجة)



مجموع درجات السؤال الرابع بالحروف

انتهت الأسئلة