

تم تحميل هذا الملف من موقع ملفات الكويت التعليمية



[com.kwedufiles.www//:https](https://www.kwedufiles.com)

*للحصول على أوراق عمل لجميع الصفوف وجميع المواد اضغط هنا

* للحصول على أوراق عمل لجميع مواد الصف الحادي عشر الأدبي اضغط هنا

<https://kwedufiles.com/11>

* للحصول على جميع أوراق الصف الحادي عشر الأدبي في مادة جغرافيا وجميع الفصول, اضغط هنا

<https://kwedufiles.com/11geography>

* للحصول على أوراق عمل لجميع مواد الصف الحادي عشر الأدبي في مادة جغرافيا الخاصة بـ الفصل الأول اضغط هنا

<https://www.kwedufiles.com/11geography1>

* لتحميل كتب جميع المواد في جميع الفصول للـ الصف الحادي عشر الأدبي اضغط هنا

<https://www.kwedufiles.com/grade11>

* لتحميل جميع ملفات المدرس أبو الوفا السمان اضغط هنا

[bot_kwlinks/me.t//:https](https://t.me/bot_kwlinks)

للحصول على جميع روابط الصفوف على تلغرام وفيسبوك من قنوات وصفحات: اضغط هنا

الروابط التالية هي روابط الصف الحادي عشر الأدبي على مواقع التواصل الاجتماعي

مجموعة الفيسبوك

صفحة الفيسبوك

مجموعة التلغرام

بوت التلغرام

قناة التلغرام

رياضيات على التلغرام

دليل مبادئ علم الاقتصاد-الصف الحادي عشر أدبي

الفصل الدراسي الأول



اعداد/ أ. أبو الوفا السمان / معلم الجغرافيا

بالتعاون مع - أ/ منال العسال

إشراف واخراج المذكرات

أ.سعود المونس - رئيس قسم الاجتماعيات

إشراف عام ومراجعة /

أ. حمد إبراهيم البحوه - الموجه الفني

المقدمة

هذا العمل إهداء إلى إخواننا الطلبة وأولياء الأمور والمعلمين وهو خالص لوجه الله تعالى، يخدم المعلم في تحضير الدروس وإعداد الأسئلة والامتحانات واستحضار المعلومة كما يخدم المعلمين الجدد في ذلك، وللطالب في استذكار الدروس والمراجعة ومعرفة طرق صياغة الأسئلة والتدريب عليها، كما يساعد أولياء الأمور في تخفيض المصاريف الدراسية والحد من الدروس الخصوصية، وهذا الدليل لا يغني عن كتاب المادة الدراسية والذي يعتبر المرجع الأول للطلاب والمعلم، ولا يسعنا إلا أن نتقدم بجزيل الشكر للموجهين الفنيين ومدراء المدارس وإدارة المناهج على الاعتماد.



الفصل الأول/ مقدمة في علم الاقتصاد ص ١٩٧-٢٠٧

السؤال الأول: لاحظ الأشكال التالية ثم أجب عما يليها من أسئلة:

١٩٨ ص	• الشكل المقابل يمثل <u>حاجات الفرد المتعددة</u> .	
٢٠١ ص	• الشكل المقابل يمثل أحد عناصر الموارد الاقتصادية ويسمى <u>الأرض الموارد الطبيعية</u> .	
٢٠٢ ص	الشكل المقابل يمثل مرحلة من مراحل النشاط الاقتصادي تسمى <u>مرحلة العملية الإنتاجية</u> .	

• تمرين رقم (٢)

		السلعة
٢٠١٦/٩/١٨	٢٠١٦/٩/٣	تاريخ عرض السلعة

١٩٧ ص

أ- اذكر المشكلة التي تتضح لك من خلال دراستك للجدول.

زيادة أسعار السلع والخدمات.

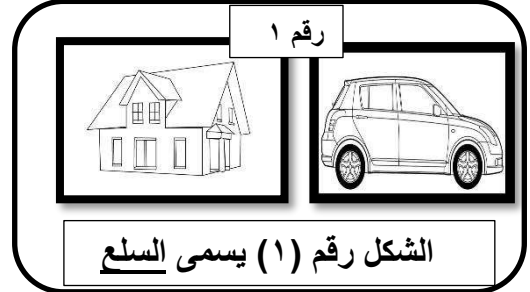
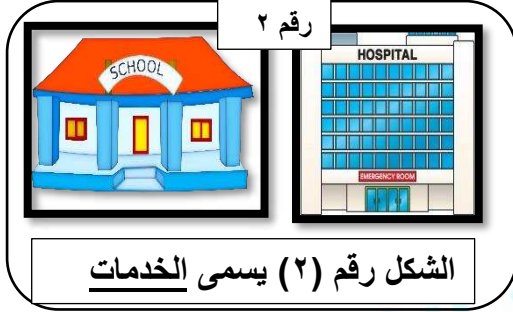
ب- استنتج سبب حدوث هذه المشكلة.

ارتفاع أسعار المواد الأولية المستخدمة لإنتاج هذه السلعة.

ج- اقترح الحلول المناسبة لهذه المشكلة.

زيادة دور الدولة المؤثر في مراقبة إرتفاع أسعار السلع والخدمات والسيطرة عليها ومحاربتها.

السؤال الثاني/ لاحظ الأشكال التالية ثم أكتب المفهوم او المصطلح المناسب لكل من الصور التالية:



السؤال الثالث/ أكمل العبارات التالية:

- ١- الملابس والغذاء والعلاج تصنف ضمن نوع من الحاجات وهي السلع.
- ٢- كل شيء معنوي غير ملموس يحصل عليه الفرد وينتفع منه بعد شراؤه يسمى الخدمة.
- ٣- التعليم الآمن نوع من الحاجات يطلق عليها اسم الخدمات.
- ٤- عملية انتاج وتبادل السلع والخدمات بين البائع والمشتري تعرف باسم النشاط الاقتصادي.
- ٥- يطلق على الفرد الذي يبيع السلعة اسم البائع.
- ٦- الفرد الذي يحصل على السلعة يسمى المشتري.
- ٧- الشخص الذي يولف بين ما تحتاجه عملية الانتاج من موارد طبيعية عمال ورأس المال اسمه المنظم.
- ٨- الجهد الذي يبذله الإنسان سواء بدنيا او ذهنيا لإنتاج السلع والخدمات يعرف باسم العمل.
- ٩- الموارد الاقتصادية يمكن تسميتها باسم عناصر الإنتاج.
- ١٠- المرحلة التي يتم بها انتاج السلع والخدمات بشكلها النهائي هي مرحلة السلع والخدمات.
- ١١- السلع التي يستخدمها الفرد مباشرة لا شباع حاجاته تسمى السلع الاستهلاكية.
- ١٢- السلع التي يستطيع الفرد استخدامها لفترة طويلة مثل المسكن والسيارة سلع استهلاكية معمرة.
- ١٣- العامل الذي يحول السلعة الاستهلاكية الكمالية في الفترة الماضية الى سلعة استهلاكية ضرورية حالياً يسمى الزمن.
- ١٤- السلع التي لا يستطيع الفرد الاستغناء عنها مثل المسكن والمأكل تعرف بالسلع الضرورية.
- ١٥- السلع التي يستطيع الفرد التقليل منها أو التوقف عن إستهلاكها مثل الإكسسوار تسمى السلع الكمالية.
- ١٦- العلم الذي يهتم بدراسة كثير من المجالات كالنظم الاقتصادية ودراسة السوق والعرض والطلب والسياسات الاقتصادية يسمى علم الاقتصاد.

١٧- علم يختص بدراسة أنشطة الانسان المتنوعة على سطح بالإضافة الى التوزيع الجغرافي لكل نشاط والعوامل الجغرافية والبشرية المؤثرة يسمى علم الجغرافيا.
ص ٢٠٦

١٨- لعلم الاقتصاد علاقة وثيقة بعلم الاجتماع حيث تكمن المشاكل الاجتماعية بوجود مشاكل اقتصادية منها انخفاض مستوى المعيشة -بطالة-ارتفاع الأسعار.
ص ٢٠٦

١٩- العلم الذي يدرس القرارات السياسية بأبعادها الاقتصادية يسمى علم السياسة.
ص ٢٠٦

السؤال الرابع/اختر الخيار المناسب من بين الخيارات التي تلي كل عبارة مما يلي وضع خطأ تحتها:

١- الآلات والمعدات والمباني وغيرها من المواد اللازمة لإنتاج السلع والخدمات تسمى
ص ٢٠١
أ- رأس المال ب- الأرض ج- العمل د- المنظم

٢- سلعة إستهلاكية غير معمرة لا يستطيع الفرد استخدامها لفترة طويلة مثل
ص ٢٠٤
أ- السيارة ب- الدواء ج- المسكن د- الالكترونيات

٣- العلم الذي يدرس سلوك الانسان بغرض الوصول لا شباع حاجاته المتعددة يسمى
ص ٢٠٥
أ- علم السياسة ب- علم الاجتماع ج- علم الجغرافيا د- علم الاقتصاد

٤- العلم الذي يدرس الجرائم والتفكك الاسرى والسرقة يسمى علم
ص ٢٠٦
أ- علم السياسة ب- علم الاجتماع ج- علم الجغرافيا د- علم الاقتصاد

٥- علم يدرس أنشطة الانسان مثل الزراعة والصناعة والرعي يسمى
ص ٢٠٦
أ- علم السياسة ب- علم الاجتماع ج- علم الجغرافيا د- علم الاقتصاد

السؤال الخامس/عرف ما يلي:

أ-الحاجات:

ص ١٩٨

رغبات الفرد في سبيل الحصول على السلعة او الخدمة.

ب - الخدمة:

ص ١٩٩

كل شيء معنوي غير ملموس يحصل عليه الفرد وينتفع منه بعد شرائه.

ج-النشاط الاقتصادي:

ص ٢٠٠

عملية انتاج وتبادل السلع والخدمات بين البائع والمشتري.

د -الموارد الاقتصادية (عناصر الإنتاج):

ص ٢٠١

العناصر المطلوبة والتي تستخدم لانتاج السلع والخدمات في المجتمع.

هـ - عرف علم الاقتصاد:

هو أحد العلوم الاجتماعية الذي يدرس سلوك الانسان بغرض الوصول لا شباع حاجاته المتعددة والمتزايدة في ظل وجود موارد اقتصادية محدودة.

ص ٢٠٥

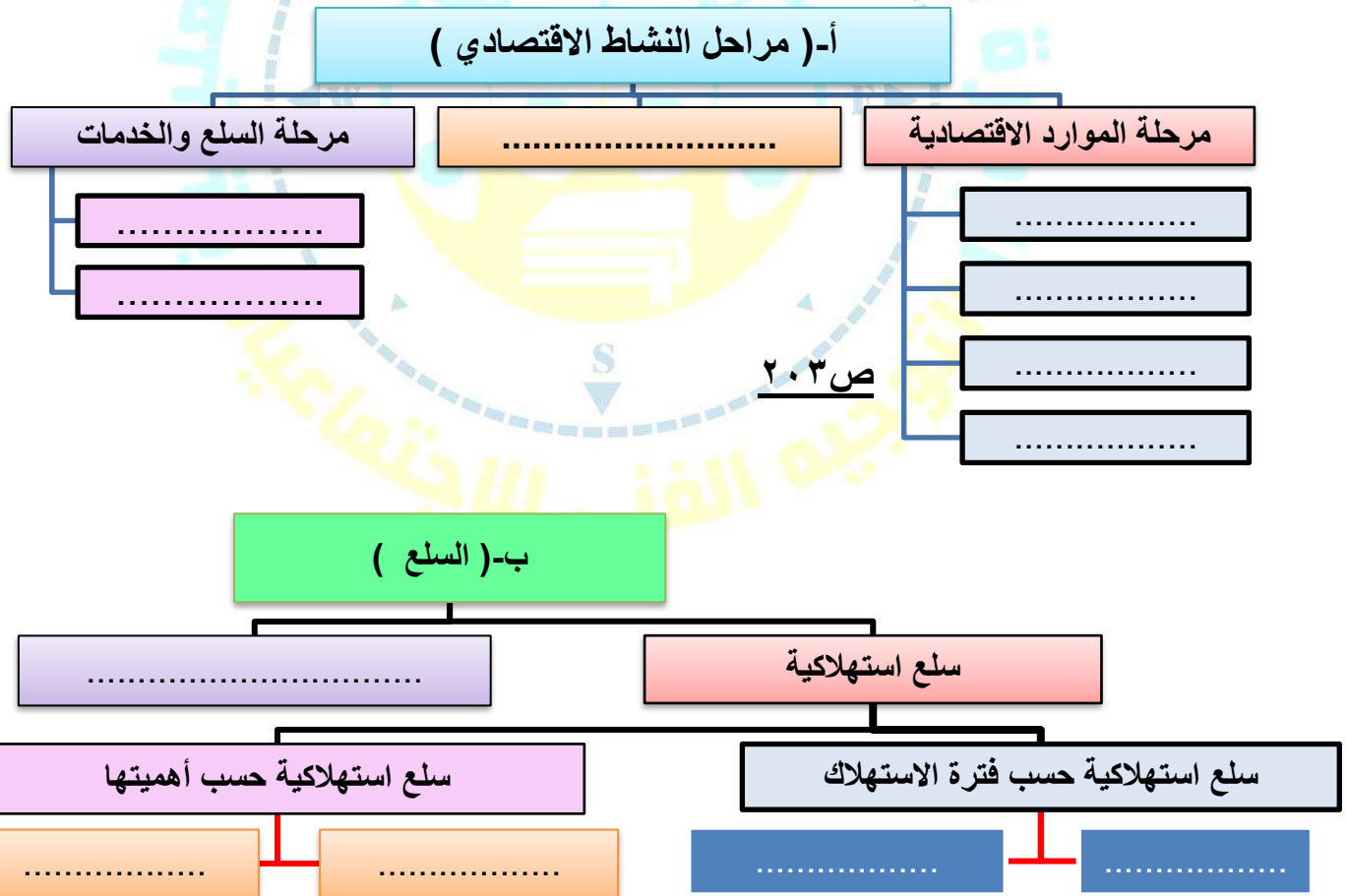
السؤال السادس/اختر من العمود (أ) ما يناسب العمود (ب) بوضع الرقم في المكان المناسب:

ص ٢٠١-٢٠٢

م	(أ)	الرقم	(ب)
١	مرحلة السلع والخدمات	٢	هي مرحلة يتم بها مزج الموارد الاقتصادية المطلوبة في أسلوب انتاج محدد لانتاج سلعة او خدمة.
٢	مرحلة العملية الإنتاجية	٣	العناصر المطلوبة والتي تستخدم لانتاج السلع والخدمات في المجتمع.
٣	مرحلة الموارد الاقتصادية	١	هي مرحلة يتم بها انتاج السلع والخدمات بشكلها النهائي.

السؤال السابع/ اكتب المصطلح أو المفهوم العلمي الدال على العبارات التالية:

١. (السلعة) كل شيء مادي ملموس حسيًا يحصل عليه الفرد بعد شرائه. ص ١٩٩
٢. (المنظم) الشخص سواء طبيعيًا أو معنويًا الذي يقوم بتأليف ما تحتاجه عملية الإنتاج. ص ٢٠١
٣. (النشاط الاقتصادي) عملية إنتاج وتبادل السلع والخدمات بين البائع والمشتري. ص ٢٠١
٤. (عملية الإنتاج) هي مرحلة يتم بها مزج الموارد الاقتصادية المطلوبة في أسلوب إنتاج محدد لإنتاج سلعة أو خدمة. ص ٢٠١
٥. (السلع الإنتاجية) السلع التي تستخدمها الشركات لزيادة قدرتها الإنتاجية لإنتاج سلع أو خدمات. ص ٢٠٣
٦. (علم الاقتصاد) هو أحد العلوم الاجتماعية ويدرس سلوك الإنسان بغرض الوصول لاشباع حاجاته المتعددة في ظل وجود موارد اقتصادية محدودة. ص ٢٠٥
- السؤال الثامن/أكمل المخططات السهمية التالية: ص ٢٠٠



السؤال التاسع/ علل لما يلي:

ص ١٩٧

- أ- يعتبر علم الاقتصاد محور مهم واساسي للحياة اليومية للأفراد داخل المجتمع.
١- يربط بين إمكانيات المجتمع وحاجاته.
٢- يرشد الفرد مستهلكاً أو منتجاً لإتخاذ القرار السليم الذي يشبع رغباته.

ص ١٩٩

- ب- تتميز حاجات الفرد بأنها متعددة وغير متناهية.
لان حاجات الفرد تتعدد من السلع كالمأكل والمشرب والسكن والملبس ومن الخدمات كالتعليم والصحة والأمن بل أن أحتياج الفرد يتزايد بتزايد أعداد أسرته.

ص ٢٠٥

- ج- يسعى كل مجتمع الى الاستفادة من الموارد الاقتصادية المتاحة له.
لإنتاج أكبر قدر من السلع والخدمات التي تحقق الإشباع للأفراد في هذا المجتمع.

ص ٢٠٦

- د - ارتباط علم الاقتصاد بكثير من العلوم الأخرى.
لاحتياج العلوم الأخرى تطبيق أدوات علم الاقتصاد في الدراسات والتجارب المستخدمة لتحليل الظواهر الاقتصادية لتلك العلوم.

السؤال العاشر/صنف ما يلي:

١- أمامك مجموعة من الحاجات الاقتصادية صنفها وفق الجدول التالي: ص ١٩٩

الملابس - الامن - الغذاء - التعليم - العلاج - المنزل - السيارة - تصليح السيارة.

السلعة	الخدمة
الملابس-الغذاء-المنزل-السيارة	التعليم-الامن-العلاج-تصليح السيارة

٢- أمامك مجموعة من السلع الاستهلاكية صنفها حسب نوعها في الجدول التالي: ص ٢٠٤

الالكترونيات- المشرب - المسكن - السيارات - الغذاء - الدواء

سلع استهلاكية معمرة	سلع استهلاكية غير معمرة
الالكترونيات - المسكن - السيارات	المشرب - الغذاء - الدواء

٣- أمامك مجموعة من المشاكل صنفها حسب نوعها في الجدول التالي: ص ٢٠٦

تفكك أسرى - ارتفاع الأسعار - سرقة - بطالة - انخفاض مستوى المعيشة - جرائم

مشاكل اقتصادية	مشاكل اجتماعية
انخفاض مستوى المعيشة - بطالة - ارتفاع الأسعار	جرائم - تفكك أسرى - سرقة

السؤال الحادي عشر/فرق بين ما يلي:

السلعة	الخدمة
كل شيء مادي ملموس حسيا يحصل عليه الفرد بعد شرائه. <u>ص ١٩٩</u>	كل شيء معنوي غير ملموس يحصل عليه الفرد وينتفع منه بعد شراء. <u>ص ١٩٩</u>
مرحلة العملية الانتاجية	مرحلة السلع والخدمات
هي مرحلة يتم بها مزج الموارد الاقتصادية المطلوبة في أسلوب انتاج محدد لانتاج سلعة أو خدمة. <u>ص ٢٠٢</u>	هي مرحلة يتم بها انتاج السلع والخدمات بشكلها النهائي. <u>ص ٢٠٢</u>
السلع الاستهلاكية	السلع الانتاجية
هي السلع التي يستخدمها الفرد مباشرة لا شباع حاجاته مثل الملابس والمسكن والغذاء وغيرها. <u>ص ٢٠٣</u>	السلع التي تستخدمها الشركات والمؤسسات لزيادة قدرتها الانتاجية لانتاج سلع او خدمات جديدة مثل الآلات والمعدات. <u>ص ٢٠٣</u>
٤- سلع استهلاكية معمرة	سلع استهلاكية غير معمرة
السلع التي يستطيع الفرد استخدامها لفترة طويلة من الزمن - مثل المسكن والسيارة والالكترونيات. <u>ص ٢٠٤</u>	السلع التي لا يستطيع الفرد استخدامها لفترة طويلة من الزمن مثل - المأكّل والمشرب والدواء. <u>ص ٢٠٤</u>
٥- سلع استهلاكية ضرورية	سلع استهلاكية كمالية
هي السلع التي لا يستطيع الفرد الاستغناء عنها مقارنة بالسلع الاخرى - مثل المسكن والمأكّل والمشرب. <u>ص ٢٠٤</u>	هي السلع التي يستطيع الفرد التقليل او التوقف عن استهلاكها إذا دعت الحاجة مقارنة بالسلع الاخرى مثل الإكسسوار والمجوهرات والنظارة الشمسية والالعاب الالكترونية. <u>ص ٢٠٤</u>

ص ١٩٧

السؤال الثاني عشر/دلل على أهمية دراسة علم الاقتصاد.

- أ-يعتبر محورا رئيسيا ومهما للحياة اليومية للأفراد بحيث يربط امكانيات المجتمع بحاجياته.
- ب-دراسة المشكلات الاقتصادية داخل الدولة والسعي الى ايجاد الحلول المناسبة التي تتوافق مع امكانيات المجتمع وقدراته.

السؤال الثالث عشر/برهن على صحة العبارات التالية:

ص ١٩٧

- أ-دراسة علم الاقتصاد تؤثر في قرار الفرد الاستهلاكي.
- لان علم الاقتصاد يساعد الفرد على إختيار القرار الاستهلاكي الذي يحقق أقصى إشباع من السلع والخدمات بأقل التكاليف وبحدود قدرته المتاحة.

ص ٢٠٥

ب-من أهداف الاقتصاد في الدول تحسين الكفاءة الانتاجية.

- ١-تشجيع الانتاج وتحسين مخرجاته.
- ٢-تحقيق أكبر عائد بأقل تكاليف وموارد متاحة.
- ٣-تحسين مستوى معيشة الأفراد.
- ٤-تحقيق الرفاهية الإجتماعية والاقتصادية.

السؤال الرابع عشر/أكتب نوع العلاقة أمام كل عبارة في الجدول التالي:

نوع العلاقة	العبارات
طردية	سعر السلعة النهائي وأسعار المواد الأولية. ص ١٩٧
طردية	حاجات الافراد وحجم الأسرة. ص ١٩٩
طردية	الانشطة الاقتصادية وحاجات الأفراد. ص ٢٠٠

ص ٢٠١

السؤال الخامس عشر/قارن بين الموارد الاقتصادية حسب الجدول التالي:

وجه المقارنة	الأرض	العمل	رأس المال	المنظم
التعريف	تشمل الموارد الطبيعية وكل ما على الأرض وما في باطنها وليس للإنسان دخل فيه.	الجهد الذي يبذله الإنسان سواء بدنياً أو ذهني الإنتاج السلع والخدمات.	الآلات والمعدات والمباني وغيرها من المواد اللازمة لإنتاج السلع والخدمات.	الشخص الذي يولف بين لما تحتاجه عملية الإنتاج من موارد طبيعية والعمال ورأس المال.
الأمثلة	مثل المعادن و ثروات البحار والشجر والنفط وغيرها.	مثل العامل.	مثل الآلات والمعدات والمباني والمخزون والسلع الوسيطة.	مثل قيام المنظم باختيار موقع العمل واحتياجاته والإشراف والرقابة.

السؤال السادس عشر/برهن بمثال على أن:

ص ٢٠٠

١- النشاط الاقتصادي يمر بمراحل متعددة.

سلعة الخبز مثلاً مرت بمراحل حتى تخرج في شكلها النهائي بداية من زراعة القمح – حصاده – مزجه مع مواد أخرى – وضعه في المطاحن الخاصة حتى يخرج في شكله النهائي كسلعة تباع في الأسواق.

ص ٢٠٥

٢- تركيز بعض الدول في إنتاج سلع لا يحتاجها المجتمع على حساب السلع الأساسية.

إفراط بعض الدول في إنتاج الآلات الحربية على حساب الآلات الزراعية.

السؤال السابع عشر/أكتب فيما يلي:

أ- أهداف الاقتصاد:

١- تحسين الكفاءة الإنتاجية.

٢- إنتاج السلع والخدمات التي يحتاجها المجتمع.

٣- التوزيع العادل للدخل.

ب- أسس تحقيق التوزيع العادل للدخل.

١- قيام المجتمعات على أساس تكافؤ الفرص.

٢- الحصول على عائد الإنتاج العادل عن طريق توزيع الدخل على أساس الجهد أو العمل المبذول.

ص ٢٠٥

ص ٢٠٦

السؤال الثامن عشر/ أوجد العلاقة بين علم الاقتصاد وبين كل مما يلي:

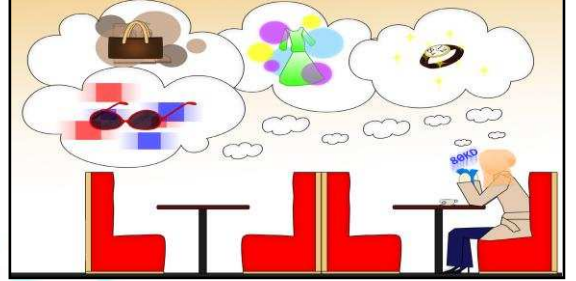
علم الاجتماع	علم الاجتماع يدرس الجرائم والتفكك الأسري والسرقة وغالبا ما ترجع الى وجود مشاكل اقتصادية مثل انخفاض مستوى المعيشة والبطالة وأرتفاع الأسعار لذا فدراسة سلوك المستهلك تؤدي لعلاج تلك الظواهر.
علم السياسة	تتسم بعض القرارات السياسية بأبعاد اقتصادية وعادة ترتبط الثورات السياسية بالأوضاع الاقتصادية مما يجعل صناع القرار السياسي يضعون الاعتبارات الاقتصادية في الاعتبار.
علم الجغرافيا	علم الاقتصاد يدرس السوق والعرض والطلب والنظم الاقتصادية وهذا يرتبط بالجغرافيا الاقتصادية التي تدرس أنشطة الإنسان مثل الزراعة والصناعة والرعي والصيد وتوزيعها.
علم الاحصاء	تحتاج تحليل الظواهر والمشاكل الاقتصادية الى اساليب وطرق احصائية من جمع البيانات وتبويب وتحليل.

علاقة علم الاقتصاد بـ

الفصل الثاني/ طبيعة المشكلة الاقتصادية ص ٢١١-٢١٦

السؤال الأول/ لاحظ الأشكال التالية ثم أجب عما يليها:

١- الشكل المقابل يمثل أحد خصائص
المشكلة الاقتصادية تسمى الندرة.
ص ٢١١



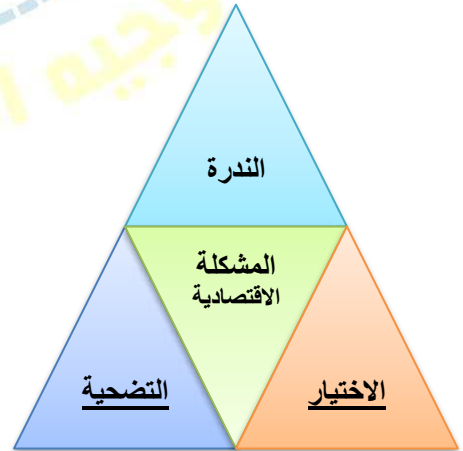
٢- الشكل المقابل يمثل أحد خصائص
المشكلة الاقتصادية تسمى الاختيار.
ص ٢١٢



٣- الشكل المقابل يمثل أحد خصائص
المشكلة الاقتصادية تسمى التضحية.
ص ٢١٢



٤- الشكل المقابل يمثل أضلاع المشكلة الاقتصادية.
ص ٢١٣



السؤال الثاني/أكمل العبارات التالية:

- ١- الاسم الذي يطلق على نظام اقتصاديات السوق الاقتصاديات الرأسمالية. ص ٢١٥
- ٢- يعتمد نظام اقتصاديات السوق على فكر الحرية الاقتصادية. ص ٢١٥
- ٣- الفكر الذي يستمد منه نظام اقتصاديات التخطيط المركزي من الفكر الاشتراكي. ص ٢١٥
- ٤- العالمان اللذان تبنيان نظام اقتصاديات التخطيط المركزي كارل ماركس وفريدريك أنجلز. ص ٢١٥
- ٥- الاسم الذي يعرف به نظام اقتصاديات التخطيط المركزي في القرن ٢٠ باسم الفكر الماركسي. ص ٢١٥
- ٦- التعامل مع الخلل الموجود في اقتصاد أي دولة يعتمد على التعرف على المشكلة الاقتصادية. ص ٢١٥
- ٧- اقتصاديات السوق يعتمد على فكر الحرية الاقتصادية الذي نادى به العالم الاقتصادي آدم سميث. ص ٢١٥
- ٨- يعتمد نظام اقتصاديات السوق على فكر الحرية الاقتصادية. ص ٢١٥
- ٩- نظام اقتصادي يقوم على أساس الحرية والتملك بالاقتصاد النظام الرأسمالي. ص ٢١٥
- ١٠- أحد الأنظمة الاقتصادية التي تقوم على مبدأ العدالة الاجتماعية بمساعدة الفقراء والتوزيع العادل للدخل يسمى النظام الإسلامي. ص ٢١٦
- ١١- التركيز على المنافسة بين البائعين من صفات نظام اقتصادي يسمى اقتصاديات السوق. ص ٢١٦

السؤال الثالث/اختر البديل المناسب من بين البدائل التالية وضع تحتها خطأ:

١. الملكية الخاصة للموارد الاقتصادية تعتبر من أهم مبادئ:
أ-النظام الاسلامي
ب-النظام المختلط
ج-نظام اقتصاديات السوق
د-نظام اقتصاديات التخطيط المركزي
٢. النظام الاقتصادي الذي يقوم على مبدأ العدالة الاجتماعية والتوزيع العادل للدخل هو:
أ-النظام الاسلامي
ب-النظام المختلط
ج-نظام اقتصاديات السوق
د-نظام اقتصاديات التخطيط المركزي
٣. يجمع بين نظام اقتصاديات السوق ونظام اقتصاديات التخطيط المركزي:
أ-النظام الاسلامي
ب-النظام المختلط
ج-نظام اقتصاديات السوق
د-نظام اقتصاديات التخطيط المركزي
٤. ملكية الموارد الاقتصادية في نظام اقتصاديات التخطيط المركزي تكون:
أ-خاصة
ب-عامة
ج-خاصة وعامة
د-مختلط

السؤال الرابع/اختر من العمود (أ) ما يناسب العمود (ب) بوضع الرقم في المكان المناسب:

ص ٢١١-٢١٢

(أ)	الرقم	(ب)
١- الندرة	٢	اختيار كمية من السلع والخدمات من بين عدة بدائل لانتاجها بحسب أهميتها للمجتمع.
٢- الاختيار	٣	اختيار سلع وخدمات من بين بدائل مختلفة بسبب محدودية الموارد الاقتصادية المتاحة.
٣- التضحية	١	وجود موارد اقتصادية محدودة لانتاج كمية من السلع والخدمات تقل عن حاجات الافراد.

السؤال الخامس/عرف ما يلي:

أ- اقتصاديات السوق:

ص ٢١٥

يطلق عليه الاقتصاديات الرأسمالية ويقوم على أساس الحرية والتملك بالاقتصاد والتي نادى بها آدم سميث في القرن ١٨ من بين الدول التي تأخذ بهذا النظام الولايات المتحدة الأمريكية واليابان وفرنسا وكوريا الشمالية.

ب- اقتصاديات التخطيط المركزي:

ص ٢١٥

يقوم على أساس ان الدولة هي من تقوم بالتخطيط للنشاط الاقتصادي والانتاج في المجتمع وهو مستمد من الفكر الاشتراكي لكارل ماركس وفريدريك انجلز من بين الدول التي تأخذ بهذا النظام روسيا وكوريا الشمالية وكوبا.

السؤال السادس/علل لما يأتي:

ص ٢١١

١- المشكلة الاقتصادية أساس اهتمام المجتمعات.
-بسبب وجود الفجوة بين الحاجات والموارد الاقتصادية.

ص ٢١٥

٢- تختلف النظم الاقتصادية من دولة لأخرى.
أ- لاختلاف ملكية الموارد الاقتصادية سواء أكانت ملكية خاصة أو عامة.
ب- دور الدولة بالاقتصاد.
ج- تحديد أسعار السلع والخدمات.

ص ٢١٦

٣- تسمية نظام الاقتصاد الإسلامي بهذا الاسم.
-حيث تتم ممارسة الأنشطة الاقتصادية على أساس القواعد والأسس المتوافقة مع الشريعة الإسلامية والمنبثقة من القرآن الكريم والأحاديث الشريفة.

السؤال السابع/ أكتب فيما يلي:

ص ٢١١

١- أسباب ظهور المشكلات الاقتصادية في المجتمعات.
-تظهر المشكلات الاقتصادية لأن الموارد الاقتصادية أما نادرة أو محدودة ولا تلبي حاجات السكان المتعددة والمتزايدة.

ص ٢١٥

٢- الأسس التي يقوم عليها اقتصاديات السوق.
أ- الحرية.
ب- التملك بالاقتصاد.

ص ٢١٥

٣- المميزات التي يتميز بها أفراد نظام اقتصاديات السوق.
أ- تحقيق وتعظيم مصالحهم الخاصة من استهلاك وإنتاج.
ب- حيث إن الفرد يستطيع القيام بأي نشاط اقتصادي يرغب فيه.

ص ٢١٥

٤- الأسس التي يقوم عليها نظام اقتصاديات التخطيط المركزي.
أن الدولة هي من تقوم بالتخطيط للنشاط الاقتصادي والإنتاج في المجتمع.

ص ٢١٦

٥- أساس المشكلة الاقتصادية في نظام الاقتصادي الإسلامي.
أ- ليست الندرة فقط هي أساس المشكلة الاقتصادية.
ب- يضاف للندرة السلوك والمعاملات التي يقوم بها الأفراد في المجتمع.

السؤال الثامن/ فسر العبارات التالية:

ص ٢١٥

١. صعوبة تطبيق الدول النظم الاقتصادية بشكلها الكامل.
أ- اختلاف تعامل الدول للموارد الاقتصادية النادرة.
ب- تباين التجارب الناجحة لهذه الدول.

ص ٢١٥

٢. لجوء كثير من الدول الى تبني نظم اقتصادية مختلطة.

أ- وجود صعوبة لدى الدول بتطبيق النظم الاقتصادية بشكلها الكامل.
ب- اختلاف تعامل الدول للموارد الاقتصادية النادرة.
ج- تباين التجارب الناجحة لتلك الأنظمة.
د- لتلافي عيوب نظام اقتصاديات السوق ونظام اقتصاديات التخطيط المركزي.

السؤال التاسع/ فرق بين ما يلي:

١ - المشكلة الاقتصادية والندرة.

ص ٢١١

المشكلة الاقتصادية	الندرة
وجود ندرة نسبية للموارد الاقتصادية المتاحة بسبب حاجات الأفراد المتزايدة في ظل محدودية الموارد الاقتصادية.	الخاصية التي تتميز بوجود موارد اقتصادية محدودة لإنتاج كمية من السلع والخدمات تقل عن حاجات الأفراد.

٢ - النظام الاقتصادي المختلط والنظام الاقتصادي الإسلامي.

ص ٢١٦

النظام الاقتصادي المختلط	النظام الاقتصادي الإسلامي
يقوم على الاستفادة من خصائص النظام الرأسمالي والاشتراكي وتلافي عيوبهما وينتشر هذا النظام بين الكثير من دول العالم.	يقوم على أساس القواعد والاسس المتوافقة مع الشريعة الإسلامية من القرآن والسنة.

السؤال العاشر/دلل على تعدد المعايير التي تتبعها الانظمة الاقتصادية المختلفة لحل المشكلة الاقتصادية.

أ-معيان نظام ملكية الأفراد للموارد الاقتصادية.

ب-معيان دور الحكومة في الاقتصاد.

ج-معيان طريقة تحديد أسعار السلع والخدمات في الدولة.

السؤال الحادي عشر/اقترح خطة لمعالجة المشكلة الاقتصادية في دولتك.

يمكن معالجة المشكلة الاقتصادية بالإجابة على التساؤلات الثلاثة وهي:

(أ) ماذا ننتج: من خلال معرفة وتحديد كميات السلع والخدمات التي يحتاجها المجتمع.

(ب) كيف ننتج: معرفة الطريقة الأقل تكلفة لإنتاج السلع والخدمات التي يحتاجها المجتمع.

(ج) لمن ننتج: كيف نوزع الكميات المنتجة من السلع والخدمات بشكل عادل علي أفراد المجتمع.

السؤال الثاني عشر/أجب عما يلي:

ص ٢١٥

- ١- أعطي أمثلة للدول التي تطبق نظام اقتصاديات السوق.
أ-الولايات المتحدة الأمريكية.
ب-اليابان.
ج-ألمانيا.
د-كوريا الجنوبية.

ص ٢١٥

- ٢- النظرية التي تبناها العالمان كارل ماركس و فريدريك أنجلز في القرن ١٩.
أ-نظرية نزع ملكية الرأسماليين للموارد الاقتصادية.
ب-إعادة توزيع الثروات بين أفراد المجتمع.

ص ٢١٥

- ٣- عدد أهم الدول التي تطبق هذا نظام اقتصاديات التخطيط المركزي أو الفكر الماركسي.
أ-كوريا الشمالية.
ب-أكوبا.
ج-الاتحاد السوفيتي ١٩٢٢م.
د-الصين ١٩٤٩م.

السؤال الثالث عشر/أكمل المخطط التالي الذي يبين الأنظمة الاقتصادية.

ص ٢١٥-٢١٦



السؤال الرابع عشر/صنف صفات الأنظمة الاقتصادية حسب الجدول التالي:

ص ٢١٦

الملكية الخاصة للموارد الاقتصادية - الملكية العامة للموارد الاقتصادية - الملكية الخاصة والعامة للموارد الاقتصادية - يجمع بين نظام اقتصاديات السوق ونظام اقتصاديات التخطيط المركزي - التخطيط المركزي من قبل الحكومة للنشاط الاقتصادي - تقوم الحكومة بدور تنظيم الحياة الاقتصادية - تقوم الحرية الاقتصادية بحدود الحلال والحرام في المعاملات المالية - التركيز على المنافسة بين البائعين - تحدد الحكومة كمية الانتاج وكيفية توزيع الدخل بين الأفراد - تقوم على مبدأ العدالة الاجتماعية بمساعدة الفقراء والتوزيع العادل للدخل - تحقيق أعلى الأرباح والمنافع للمستهلكين والمنتجين.

اقتصاديات السوق	اقتصاديات التخطيط المركزي	النظام المختلط	النظام الإسلامي
الملكية الخاصة للموارد الاقتصادية	الملكية العامة للموارد الاقتصادية	الملكية الخاصة والعامة للموارد الاقتصادية	الملكية الخاصة والعامة للموارد الاقتصادية
التركيز على المنافسة بين البائعين	التخطيط المركزي من قبل الحكومة للنشاط الاقتصادي	يجمع بين نظام اقتصاديات السوق ونظام اقتصاديات التخطيط المركزي	تقوم الحرية الاقتصادية بحدود الحلال والحرام في المعاملات المالية
تحقيق أعلى الأرباح والمنافع للمستهلكين والمنتجين	تحدد الحكومة كمية الانتاج وكيفية توزيع الدخل بين الأفراد	تقوم الحكومة بدور تنظيم الحياة الاقتصادية	تقوم على مبدأ العدالة الاجتماعية بمساعدة الفقراء والتوزيع العادل للدخل

السؤال الخامس عشر/اقرأ الفقرة التالية ثم أجب عما يلي:

تركز الأنظمة الاقتصادية المختلفة على مجموعة من القواعد تؤثر في طريقتها واسلوبها في التعامل مع المشكلة الاقتصادية وقد تعتمد هذه الأنظمة في حلها على ثلاثة معايير رئيسية، منها معيار نظام ملكية الافراد للموارد الاقتصادية.

أ-عرف ما تحته خط.

وجود ندرة نسبية للموارد الاقتصادية المتاحة بسبب حاجات الأفراد المتزايدة في ظل محدودية الموارد الاقتصادية.

ب-عدد خصائص المشكلة الاقتصادية.

أ-الندرة

ب-الاختيار

ج-التضحية

السؤال السادس عشر/قارن بين أنظمة اقتصاديات السوق واقتصاديات التخطيط المركزي لحل المشكلة الاقتصادية.

ص ٢١٦

معايير الأنظمة في حل المشكلة الاقتصادية	اقتصاديات السوق	اقتصاديات التخطيط المركزي
ملكية الموارد الاقتصادية	خاصة	عامة
دور الحكومة	إشرافي لسن القوانين الاقتصادية	مركزي لاتخاذ القرار
تحديد الأسعار	السوق عن طريق الطلب والعرض	الحكومة

صفحة رقم ٢٢

الفصل الثالث: اقتصاد الأفراد والأعمال ص ٢٢١-٢٣٦

السؤال الأول/لاحظ الشكل المقابل جيداً ثم أجب عما يلي:



ص ٢٢٥

أ-ما سلوك المشتري اتجاه التخفيضات على الأسعار من وجهة نظرك.

عندما يكون هناك تخفيضات على الأسعار يقوم المشترون بشراء كميات أكبر وفي بعض الحالات التي لا تتأثر به الكمية المطلوبة حتى لو ارتفع سعرها وذلك لأسباب مختلفة ففي شهر رمضان المبارك رغم ارتفاع أسعار السلع الغذائية إلا أن الأسر تستمر بشراء هذه السلع.

ص ٢٣٠

ب-حدد سلوك المنتج اتجاه التخفيضات على الأسعار.

يسعى المنتج لإنتاج كميات أكبر عندما ترتفع الأسعار ويخفض إنتاجه عندما تنخفض الأسعار.

السؤال الثاني: أكمل العبارات التالية:

ص 221

١-أغلب ما ينفق عليه الأفراد الأموال هي الخدمات.

٢-الحيز أو الوسط التي تتم خلاله مبادلة السلع والخدمات بين الباعين والمشتريين بمقابل يسمى السوق.

ص ٢٢٢

٣-إسم يطلق علي البائع في الاقتصاد يسمى العرض.

ص ٢٢٢

٤-أسم يطلق على المشتري في الاقتصاد يسمى الطلب.

٥- السوق الأكثر ندرة في الواقع العملي ويعتبر سوق افتراضي والوضع الأمثل اقتصادياً يسمى سوق

۲۲۲

المنافسة الكاملة.

۲۲۳

٦- السوق الذي يعد الأسوأ اقتصادياً يسمى سوق الاحتكار.

ص ۲۲۳

٧- السوق الذي يعد خليط بين سوق المنافسة الكاملة والاحتكار يسمى سوق المنافسة الاحتكارية.

۲۲۳

٨- السوق الذي ينشأ عندما يكون هناك بائع واحد في السوق يسمى سوق الاحتكار.

ص ۲۲۴

٩- السوق الأكثر انتشاراً بعد سوق المنافسة الاحتكارية يسمى سوق احتكار القلة.

١٠- القانون الذي ينص على أن "هناك علاقة عكسية بين الكمية المطلوبة والسعر"

ص ۲۲۸

يسمى قانون الطلب.

السؤال الثالث/ اختر البديل المناسب من بين البدائل التالية وضع تحتها خطأ:

۲۲۲

١- الشخص الذي لديه سلعة أو خدمة يرغب في بيعها مقابل سعر معين هو

أ- سوق ب- بائع ج- مشتري د- سلعة

ص ۲۲۲

٢- الشخص الذي يرغب بشراء سلعة او خدمه بمقابل مادي هو

أ-سلعة	ب-بائع	ج-سوق	د-مشتري
--------	--------	-------	---------

۲۲۲

٣- السوق الذي يعتبر أكثر ندرة في الواقع العملي ويعد الأمثل اقتصادياً هو سوق

أ- الاحتكار ب- المنافسة الاحتكارية ج- المنافسة الكاملة د- الاحتكار المتكامل

ص ۲۲۳

٤- السوق الذي يعد الأسوأ اقتصادياً حيث يعتمد على منتج (بائع) واحد هو سوق.....

أ- الاحتكار ب- المنافسة الاحتكارية ج- المنافسة الكاملة

ص ۲۲۵

٥- الشرط المهم لكي يتحقق قانون الطالب هو.....

أ- ثبات محددات الطلب ب- تناقص محددات الطلب ج- تزايد محددات الطلب د- تذبذب محددات الطلب

ص ۲۳۰

٦- إذا انخفضت تكاليف انتاج القطن مع ثبات سعر القطن في السوق فان الأثر المتوقع هو.....

ب-تقل الكمية المعروضة من القطن

أ-تزيد الكمية المعروضة من القطن

د-تذبذب الكمية المعروفة

ج- ثبات الكمية المعروضة من القطن

٧- إذا ارتفعت تكاليف انتاج القمح مع ثبات سعر القمح في السوق فإن الأثر المتوقع هو..... ص ٢٣٠

- أ-تزيد الكمية المعروضة من القمح
ج-ثبات الكمية المعروضة من القمح
ب-تقل الكمية المعروضة من القمح
د-تذبذب الكمية المعروضة من القمح

٨- إذا قامت الدولة بدعم منتجي التمور فإن الأثر المتوقع هو..... ص ٢٣١

- أ-زيادة الكمية المعروضة من التمور
ج-انخفاض الكمية المطلوبة من التمور
ب-انخفاض الكمية المعروضة من التمور
د-ثبات الكمية المعروضة

٩- نوع العلاقة بين التطور التقني والكميات التي ينتجها المنتج علاقة..... ص ٢٣١

- أ-عكسية
ب-سببية
ج-متذبذبة
د-طردية

١٠- عندما تتساوى الكمية المعروضة مع الكمية المطلوبة عند سعر معين يطلق عليه..... ص ٢٣٤

- أ-فائض طلب
ب-فائض عرض
ج-توازن السوق
د-عجز عرض

السؤال الرابع: عرف ما يلي:

١- المفهوم الحديث للسوق:
الحيز أو الوسط التي تتم خلاله مبادلة السلع والخدمات بين البائعين والمشتريين بمقابل نقدي. ص ٢٢١

٢- بائع:
الشخص أو الجهة التي لديها سلعة أو خدمة يرغب ببيعها مقابل سعر معين. ص ٢٢٢

٣- تجانس:
التطابق بحيث لا يكون هناك أي اختلاف بين السلع المباعة بهذا السوق. ص ٢٢٢

٤- قانون الطلب:
وجود علاقة عكسية بين الكمية المطلوبة للسلعة وسعرها مع ثبات العوامل الأخرى. ص ٢٢٥

٥- قانون العرض:
وجود علاقة طردية بين السعر والكمية المعروضة بافتراض ثبات العوامل الأخرى. ص ٢٣٠

٦- جدول العرض:
جدول يبين الكميات التي يرغب بعرضها أو بيعها المنتج عند كل مستوى سعري. ص ٢٣١

٧- توازن السوق:
يتحقق توازن السوق عند السعر الذي تتساوى فيه الكمية المعروضة مع الكمية المطلوبة وعندها فلا يوجد فائض عرض أو فائض طلب. ص ٢٣٤

السؤال الخامس/فرق بين:

١-البائع والمشتري.

ص ٢٢٢

البائع	المشتري
الشخص أو الجهة التي لديها سلعة أو خدمة يرغب ببيعها مقابل سعر معين.	الشخص أو الجهة التي ترغب بشراء سلعة أو خدمة بمقابل مادي.

٢-جدول الطلب ومنحنى الطلب.

ص ٢٢٧- ٢٢٨

جدول الطلب	منحنى الطلب
جدول يبين الكميات المطلوبة من سلعة معينة عند مستويات مختلفة من الأسعار.	تحويل المعلومات الموجودة بجدول الطلب إلى منحنى يوضح العلاقة بين السعر والكمية المطلوبة.

٣-مفهوم السوق قديماً وحديثاً.

ص ٢٢١

مفهوم السوق قديماً	مفهوم السوق في الوقت الحاضر
كان ينحصر في مكان معين يتواجد به التاجر والبضائع ويذهب إليه المشترون وتتم عملية مبادلة النقود بالسلع.	في الوقت الحاضر أصبح مفهوم السوق أشمل وأوسع فأصبحت السلع تباع من خلال المواقع الالكترونية أو بالاتصال الهاتفي تطور مفهوم السوق من مكان محدد إلى مفهوم واسع لا يمكن تحديده في حيز محدود.

السؤال السادس /علل لما يلي:

١-السوق حالياً غير محصور في حيز محدود.

ص ٢٢١

أ-السوق حالياً أصبح أشمل وأوسع فأصبحت السلع تباع من خلال المواقع الالكترونية أو بالاتصال الهاتفي.

ب-تطور مفهوم السوق من مكان محدد إلى مفهوم واسع لا يمكن تحديده في حيز محدود.

٢-وجود علاقة طردية بين الطلب على السلعة البديلة والسلعة الأخرى.

ص ٢٢٧

-لأنه في حال ارتفاع سعر السلعة البديلة سيرتفع الطلب على السلعة الأخرى وفي حال انخفاض سعر

السلعة البديلة سينخفض الطلب على السلعة الأخرى.

ص ٢٢٧

٣-تؤثر توقعات الأسعار على قرارات الفرد .

-أن توقعات ارتفاع الأسعار في المستقبل ستزيد الطلب اليوم، والتوقعات بانخفاضها ستقلل الطلب اليوم.

ص ٢٢٩

٤-أهمية استخدام منحنى الطلب لرجال الاقتصاد.

أ-يعكس العلاقة العكسية بين الكمية المطلوبة والسعر.

ب-يبين الكميات المطلوبة عند مستويات مختلفة من السعر.

ص ٢٣١

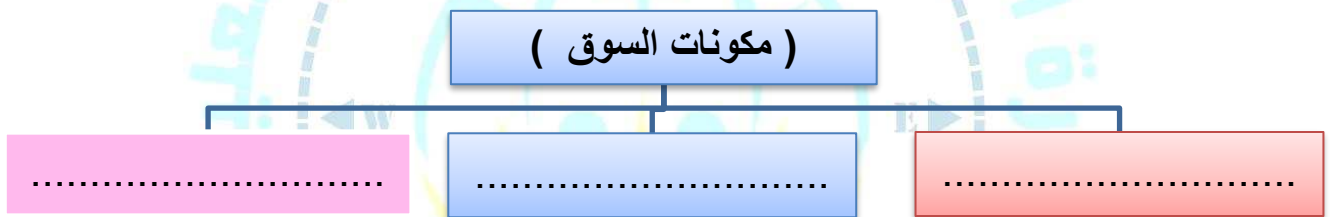
٥-يؤثر التطور التقني في العرض.

-التطور التقني يؤثر في كمية الإنتاج فكلما تطورت أساليب الإنتاج يستطيع المنتج زيادة إنتاجه بتكاليف أقل وأسرع.

السؤال السابع/أكمل المخططات السهمية التالية:

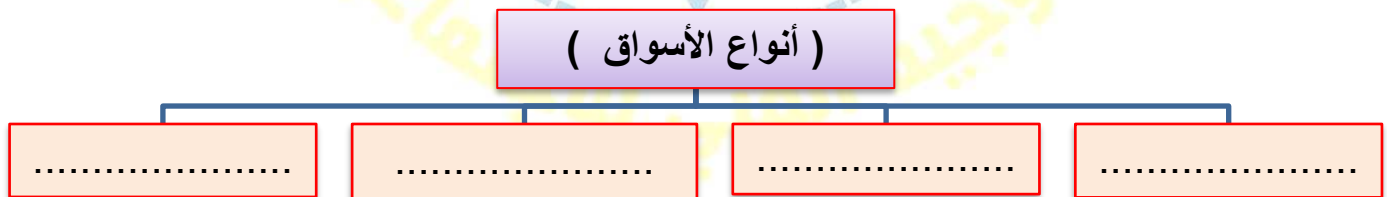
ص ٢٢١

-١



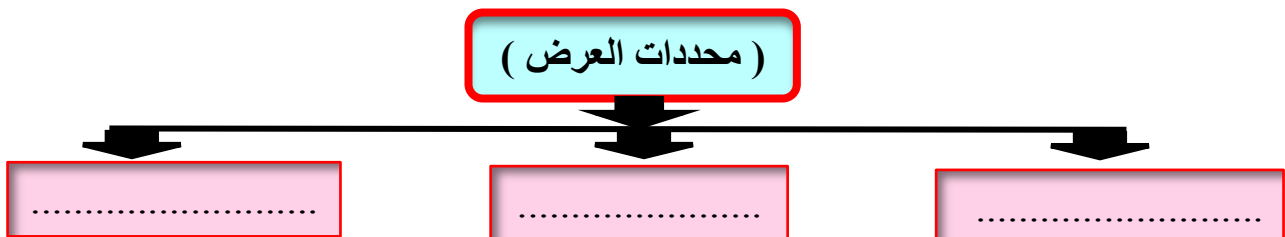
ص ٢٢٢

-٢



ص ٢٣٠

-٣



السؤال الثامن/ فسر العبارات التالية:

ص ٢٢٣

١- سوق الاحتكار يعتبر أسوأ الأسواق من الناحية الاقتصادية.
أ-وجود بائع وحيد في السوق.

ب-السلعة في السوق وحيدة وليس لها بدائل.

ج-وجود عوائق كثيرة تمنع المنافسين من دخول السوق. (قانونية كمنع تراخيص للمنافسين).

د-البائع (المحتكر) هو من يتحكم في السعر.

ص ٢٢٢

٢-الأهمية الاقتصادية الكبيرة لسوق المنافسة الكاملة.

أ-وجود عدد كبير من البائعين والمشتريين للسلعة.

ب-تجانس السلعة في السوق.

ج-توافر المعلومات لدي المشتريين والبائعين.

د-حرية الدخول إلى السوق والخروج منه.

هـ-المنتج [البائع] لا يتحكم في هذا السوق.

ص ٢٢٧

٣-العلاقة عكسية بين السلعة المكملة والسلعة الأخرى.

ارتفاع سعر السلعة المكملة سينخفض الطلب على السلعة الأخرى.

ص ٢٣٠

٤-أهمية العرض (المنتج) في مكونات السوق.

أ-يبين الكميات المختلفة التي يرغب المنتج ببيعها بأسعار معينة.

ب-يسعى المنتج للربح فينتج كميات كبيرة عندما ترتفع الأسعار ويخفض الإنتاج عندما تنخفض الأسعار.

ص ٢٣٠

٥-تأثير تكاليف الإنتاج في العرض.

أ-عند انخفاض تكاليف عناصر الإنتاج مع ثبات سعر السلعة فإن هامش ربح المنتج يرتفع وعليه يستطيع

المنتج عرض وإنتاج كمية أكبر من السلعة.

ب-العكس صحيح فعند ارتفاع تكاليف عناصر الإنتاج مع ثبات سعر السلعة سيعمل المنتج إلى تخفيض

إنتاجه من السلعة.

السؤال التاسع/قارن بين ما يلي:

أ-أنواع الأسواق من حيث المميزات.

ص ٢٢٢-٢٢٣-٢٢٤

م	نوع السوق	المميزات والسمات
١	سوق المنافسة الكاملة	<ul style="list-style-type: none"> وجود عدد كبير من البائعين والمشتريين للسلعة. تجانس السلعة في السوق. توافر المعلومات لدى المشتريين والبائعين. حرية الدخول إلى السوق والخروج منه. المنتج [البائع] لا يتحكم في هذا السوق.
٢	سوق الاحتكار	<ul style="list-style-type: none"> وجود بائع وحيد في السوق. السلعة في السوق وحيدة وليس لها بدائل. وجود عوائق كثيرة تمنع المنافسين من دخول السوق. البائع (المحتكر) هو من يتحكم في السعر.
٣	سوق المنافسة الاحتكارية	<ul style="list-style-type: none"> كثرة عدد البائعين والمشتريين. حرية دخول وخروج البائعين من السوق. عدم تطابق السلع، فقد تختلف من حيث الشكل والنوعية والجودة. قدرة البائع على التحكم في السعر.
٤	سوق احتكار القلة	<ul style="list-style-type: none"> عدد البائعين في هذه السوق قليل. السلع بدائل قريبة جداً من بعضها بعضاً. قرارات المتنافسين في هذه السوق تؤثر على بعضهم بعضاً.

ب- الأنواع الرئيسية لتركيب السوق من حيث عدد المنتجين ونوع الإنتاج والتحكم في السعر وحرية دخول السوق.
ص ٢٢٢-٢٢٤

وجه المقارنة	المنافسة الكاملة	المنافسة الاحتكارية	احتكار القلة	الاحتكار
عدد المنتجين	عدد كبير	كثير	قليل	بائع وحيد
نوع الإنتاج	كثير ومتجانس	متنوع	للسلع بدائل كثيرة	السلعة وحيدة
التحكم في السعر	البائع لا يتحكم بالسعر	البائع	البائع	البائع (المحتكر)
حرية دخول السوق	حرية كاملة	حرية كاملة	حرية قليلة	مغلقة

السؤال العاشر/أجب عما يلي:

١- حدد العلاقة بين توقعات الأسعار والطلب على السلع.

ص ٢٢٧

- أن التوقع لارتفاع الأسعار في المستقبل ستزيد الطلب اليوم، والتوقعات بانخفاضها ستقلل الطلب اليوم.

٢- حدد كيف تتدخل الدولة في العرض.

ص ٢٣١

أ- تفرض الدولة الضرائب على السلع لتقليل الاستهلاك والضريبة ترفع سعر السلع والارتفاع لصالح الحكومة فيخفض التاجر الإنتاج.

ب- تلجأ الحكومة لدعم السلع المهمة حيث تتجمل الدولة جزء من قيمة السلعة فالسعر لدي المشتري أقل من السعر للتاجر فيلجأ لزيادة الإنتاج.

٣- حدد قانون الطلب.

ص ٢٢٥

كلما ارتفع سعر سلعة معينة يضطر الشخص لشراء كمية أقل من هذه السلعة، وكلما تراجع سعر السلعة نشترى كمية أكبر، وفي بعض الحالات لا تتأثر الكمية المطلوبة للشراء حتى لو ارتفع السعر (شهر رمضان).

السؤال الحادي عشر/أقرأ الفقرات التالية ثم نفذ ما هو مطلوب منك:

١- "ذهب احمد لشراء ٥ علب من مشروبة المفضل (صودا بنكهة الكولا) من السوق المركزي وعندما وصل وجد عرض خصم على ٥٠٪ على سعر الصودا بالليمون وهنا اشترى احمد الصودا بالليمون"

ص ٢٢٧

أ- استخرج اسم السلعة البديلة في الفقرة السابقة.

-الصودا بالليمون.

ص ٢٢٧

ب- ما العلاقة بين سعر السلعة البديلة والطلب على السلعة الأخرى.
علاقة طردية في حال ارتفاع سعر السلعة البديلة سيرتفع الطلب على السلعة الأخرى وفي حال انخفاض سعر السلعة البديلة سينخفض الطلب على السلعة الأخرى.

ص ٢٣١

٢- إذا علمت أن الحكومة فرضت زيادة في السعر على سلعة ما وهو ٤ دينار.

أ- ما اسم الزيادة التي فرضتها الحكومة على هذه السلعة.
-الضرائب.

ب- ما هدف الحكومة من فرض الزيادة على هذه السلعة.
تقليل الاستهلاك أو انتاج هذه السلعة.

ج- ما الجهة المستفيدة من هذه الزيادة.
-الحكومة.

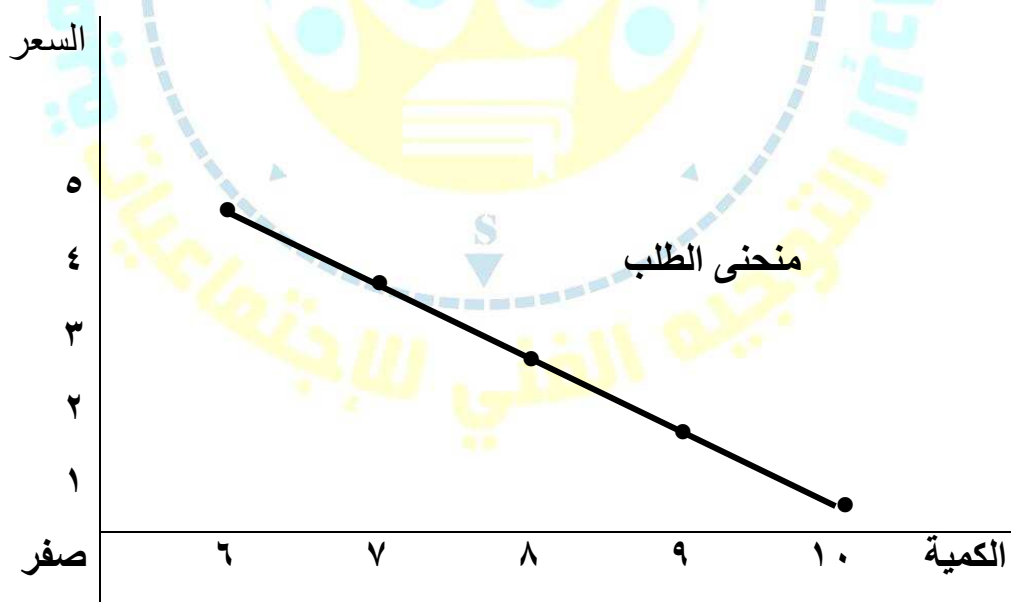
د- ما الإجراءات التي تتخذها الحكومة من اجل دعم وتثبيت سعر سلع مهمة.
تتحمل الدولة جزء من قيمة السلعة فالسعر لدى المشتري أقل من السعر للتاجر فيلجأ لزيادة الإنتاج.

السؤال الثاني عشر/الجداول والرسوم البيانية:

• تمرين رقم (١)

١- أدرس الجدول التالي الذي يمثل كمية المطلوبة من التفاح مقارنة بالسعر ثم نفذ المطلوب. ص ٢٢٩
أ- ارسم منحنى بياني لجدول الطلب على التفاح.

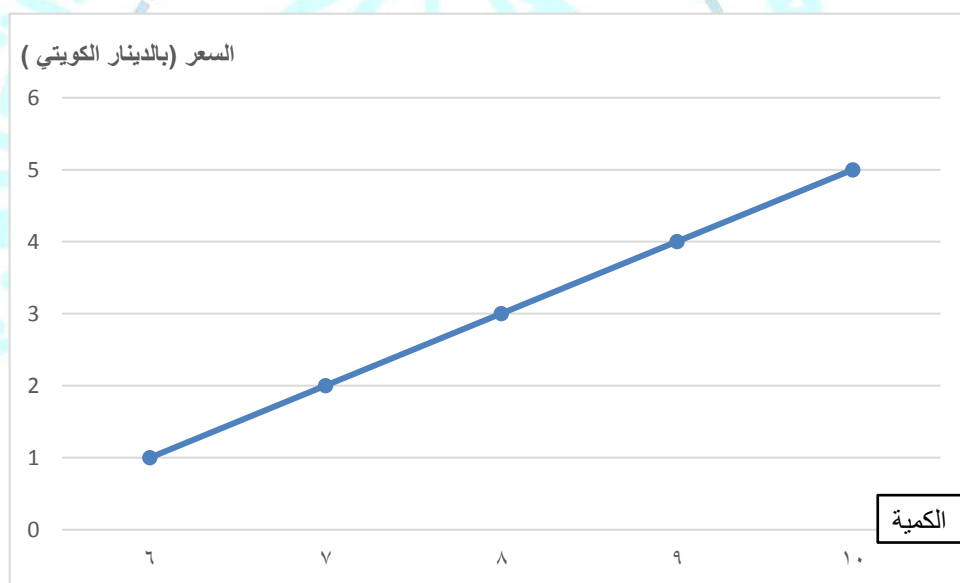
الكمية المطلوبة من التفاح	السعر	
١٠	١ دينار	أ
٩	٢ دينار	ب
٨	٣ دينار	ج
٧	٤ دينار	د
٦	٥ دينار	هـ



• تمرين رقم (٢)

٢- أدرس الجدول التالي الذي يمثل كمية العرض من التفاح مقارنة بالسعر ثم نفذ المطلوب. ص ٢٢٩
أ- ارسم منحنى بياني لجدول العرض على التفاح.

الكمية المعروضة	السعر	
١٠	٥ دينار	هـ
٩	٤ دينار	د
٨	٣ دينار	ج
٧	٢ دينار	ب
٦	١ دينار	أ



منحنى العرض

• تمرين رقم (٣)

ص ٢٣٤

ج- ادرس الجداول التالي جيداً ثم نفذ ما هو مطلوب منك.

السعر (دينار كويتي)	الكمية المطلوبة	الكمية المعروضة	فائض الطلب والعرض في السوق
أ	١	١٠	٦
ب	٢	٩	٧
ج	٣	٨	٨
د	٤	٧	٩
هـ	٥	٦	١٠
			<u>فائض عرض بمقدار ٤</u>

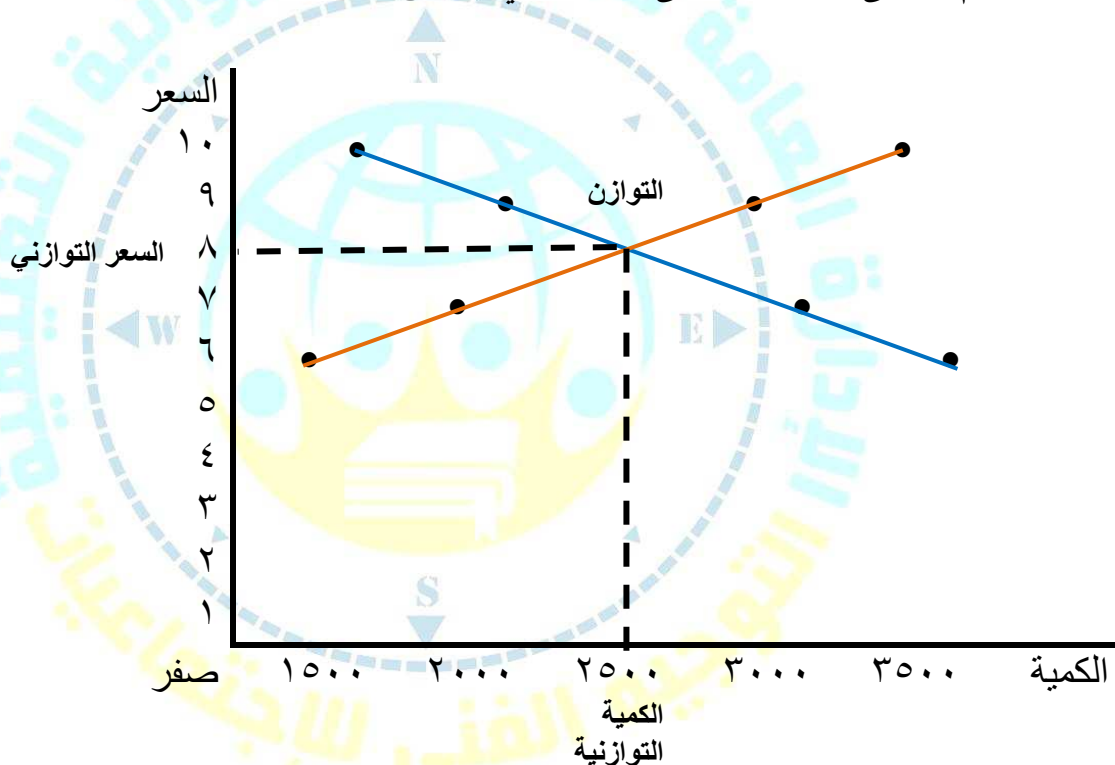
- أوجد السعر التوازني في السوق.
- الكمية التوازنية في هذا السوق.
- أكمل الناقص من الجدول السابق (بحساب فائض الطلب والعرض).

تمرين رقم (٤)

د- ادرس الجدول التالي لسلعة ما ثم أجب عما يلي:

الكمية المطلوبة	السعر (الدينار الكويتي)	الكمية المعروضة	فائض الطلب والعرض في السوق
١٥٠٠	١٠	٣٥٠٠	فائض طلب بمقدار ٢٠٠٠
٢٠٠٠	٩	٣٠٠٠	فائض طلب بمقدار ١٠٠٠
٢٥٠٠	٨	٢٥٠٠	توازن السوق
٣٠٠٠	٧	٢٠٠٠	فائض عرض بمقدار ١٠٠٠
٣٥٠٠	٦	١٥٠٠	فائض عرض بمقدار ٢٠٠٠

• ارسم منحنى الطلب ومنحنى العرض في السوق.



• أوجد السعر التوازني = ٨

• الكمية التوازنية في هذا السوق = ٢٥٠٠

الفصل الرابع/اقتصاد الدولة ص ٢٣٩ - ٢٦٠

السؤال الأول/أكمل الفراغات التالية:

- أ-تتعدد طرق حساب الناتج المحلي الإجمالي منها طريقة الإنتاج وطريقة الإنفاق. ص ٢٤٠
- ب-أهم وأكبر قطاعات الانفاق في الدولة يسمى القطاع العائلي. ص ٢٤٠
- ج-السلع والخدمات التي يقوم المستهلك بشرائها تسمى الإنفاق الاستهلاكي. ص ٢٤٠
- د-يندرج بناء المستشفيات والمدارس والطرق تحت نوع من الإنفاق يسمى الحكومي. ص ٢٤٠
- هـ-جميع ما يتم بيعه من سلع وخدمات للدول الأخرى يسمى الصادرات. ص ٢٤١
- و-جميع السلع التي يتم شراؤها وتنتج من خارج الدولة تسمى الواردات. ص ٢٤١

السؤال الثاني/أكمل المعادلات التالية:

١- الناتج المحلي الإجمالي = (الإنفاق الاستهلاكي + الإنفاق الحكومي + الإنفاق الاستثمار + الصادرات) - الواردات. ص ٢٤١

٢- متوسط دخل الفرد = الناتج المحلي الإجمالي ÷ عدد السكان في الدولة ص ٢٤١

٣- قانون معدل البطالة = $\frac{\text{عدد العاطلين عن العمل}}{\text{قوة العمل}} \times 100 =$

٤- معدل النمو الاقتصادي =

(الناتج المحلي للسنة الحالية - الناتج المحلي للسنة الماضية) ÷ الناتج المحلي للسنة الماضية × ١٠٠

الناتج المحلي الإجمالي

٥- متوسط دخل الفرد

عدد السكان في الدولة

ص ٢٤١

السؤال الثالث / اختر البديل المناسب من بين البدائل وضع تحتها خطأ:

١- إذا كان لديك بيانات عن الناتج المحلي لدولة ما عام ٢٠١٣ م (بملايين الدولارات) كالتالي:
الانفاق الحكومي ٣٠٠ مليون، الانفاق الاستثماري ٤٠٠ مليون، الانفاق الاستهلاكي ٩٠٠ مليون
والصادرات ٨٠ مليون والواردات ١٤٠ مليون فان الناتج المحلي الإجمالي لهذه الدولة هو: ص ٢٤١
أ- ١٦٨٠ مليون دولار ب- ١٥٤٠ مليون دولار ج- ١٨٢٠ مليون دولار د- ١٨٥٠ مليون دولار

٢- لعلاج مشكلة التضخم في اقتصاد الدولة:
أ- زيادة الانفاق الحكومي ب- تخفيض الضرائب

ج- زيادة الضرائب على المستهلكين د- زيادة الطلب على السلع.

٣- خفض الانفاق الاستثماري في الدولة يؤدي الى:
أ- زيادة معدل البطالة ب- زيادة الانفاق الاستهلاكي

ج- زيادة الناتج المحلي الإجمالي د- النمو الاقتصادي

٤- تعرض اقتصاد الدولة لموجة من الارتفاعات في أسعار السلع والخدمات يسبب:
أ- انخفاض الطلب على السلع ب- زيادة الانفاق الكلي
ج- انخفاض الانفاق الكلي د- التضخم

٥- مقياس تقدم الدولة وتحسن مستواها الاقتصادي يقاس من خلال:
أ- زيادة التضخم ب- زيادة معدل البطالة

ج- الزيادة السنوية في الناتج المحلي الإجمالي ومتوسط دخل الفرد د- الانكماش الاقتصادي

٦- لكي يتحقق الاستمرار في النمو الاقتصادي ذاتيا عام بعد عام لابد من:

أ- الزيادة المستمرة في الانفاق الاستهلاكي والاستثماري ب- خفض الانفاق الاستثماري

ج- الزيادة المستمرة في معدل البطالة د- خفض الانفاق الاستهلاكي والاستثماري

٧- يعتبر مؤشر كمي للتقدم الاقتصادي في الدولة:
أ- زيادة معدل البطالة ب- التضخم

ج- انخفاض الناتج المحلي الإجمالي د- النمو الاقتصادي

السؤال الرابع: اختر من العمود (أ) ما يناسب العمود (ب) بوضع الرقم في المكان المناسب:

(أ)	الرقم	(ب)
١-النمو الاقتصادي <u>ص ٢٤٦</u>	٤	يتم حسابه بقسمة عدد العاطلين عن العمل مجموع قوة العمل × ١٠٠.
٢-قوة العمل <u>ص ٢٤٣</u>	٣	هو الارتفاع المستمر في المستوى العام لأسعار السلع والخدمات في فترة زمنية محددة.
٣-التضخم <u>ص ٢٤٣</u>	١	النسبة المئوية للزيادة في الناتج المحلي الإجمالي.
٤-معدل البطالة <u>ص ٢٤٣</u>	٥	مجموع الأشخاص الراغبين بالحصول على وظيفة والقادرين على العمل ويقومون بالبحث عن وظيفة.
٥-البطالة <u>ص ٢٤٣</u>	٢	كل من هم بين عمر ١٨ عاماً و ٧٠ عاماً ولديهم القدرة والرغبة بالعمل.
		مجموع السياسات التي تتخذها الحكومة والتي تؤدي إلى زيادة النمو الاقتصادي بدافع ذاتي.

السؤال الخامس / صنف ما يلي:

١-محددات النمو والتنمية الاقتصادية.

تحسين التعليم – زيادة الصادرات – تحسين المستوى الصحي – زيادة مستوى الاستهلاك – انخفاض
معدلات التلوث – تحسين إنتاجية العامل – الاستقرار السياسي – زيادة مستوى الدخل – حرية التعبير

النمو الاقتصادي	التنمية الاقتصادية
زيادة الصادرات- زيادة مستوى الاستهلاك زيادة مستوى الدخل- تحسين إنتاجية العامل	تحسين التعليم- تحسين المستوى الصحي انخفاض معدلات التلوث - الاستقرار السياسي - حرية التعبير

السؤال السادس/فرق بين ما يلي:

١- قطاعات الإنفاق الاستهلاكي والإنفاق الحكومي والإنفاق الاستثماري والصادرات. ص ٢٤٠-٢٤١

القطاع الخارجي (الصادرات)	قطاع الاعمال (الإنفاق الاستثماري)	القطاع الحكومي (الإنفاق الحكومي)	القطاع العائلي (الإنفاق الاستهلاكي)
ما يبيعه من سلع وخدمات للدول الأخرى كالنفط مثلاً.	هو مجموع ما ينفقه قطاع الأعمال والاستثمار والقطاعات التجارية الأخرى داخل الدولة.	هو القطاع الذي تقوم الحكومة بإنفاقه من بناء مدراس ومستشفيات وطرق وغيرها.	هو أهم وأكبر القطاعات، وهو ما يقوم المستهلكون بشرائه من سلع وخدمات.

ص ٢٤٢-٢٤٣

٢- البطالة ومعدل البطالة.

معدل البطالة	البطالة
$\frac{\text{عدد العاطلين عن العمل}}{\text{قوة العمل}} \times 100$	مجموع الأشخاص الراغبين بالحصول على وظيفة والقادرين على العمل ويقومون بالبحث عن الوظيفة.

السؤال السابع/أجب عما يلي:

١- طرق قياس الناتج المحلي الإجمالي للدولة مع ذكر مثال.

ص ٢٤٠

أ- طريقة الإنتاج أو القيمة المضافة.

تعتمد هذه الطريقة على احتساب الناتج المحلي الإجمالي باحتساب القيمة السوقية لمجموع السلع والخدمات النهائية والتي يتم إنتاجها في الاقتصاد خلال عام فقط.

*مثال: في عام (×) المجتمع ينتج سلعتين أ – ب سعر السلعة أ يقدر ٥٠ دينار وسعر السلعة ب يقدر ٤٠ دينار وتم إنتاج ٣٠٠٠ وحدة من السلعة أ و ٢٠٠٠ وحدة من السلعة ب أحسب الناتج المحلي الإجمالي لهذه الدولة ؟
- الناتج المحلي الإجمالي للدولة في العام (×) = (٣٠٠٠ × ٥٠) + (٢٠٠٠ × ٤٠) = ١٥٠,٠٠٠ + ٨٠,٠٠٠ = ٢٣٠,٠٠٠ دينار

ص ٢٤٠

ب- طريقة الإنفاق.

يتم احتساب قيمة الناتج المحلي الإجمالي بطريقة الإنفاق عن طريق احتساب كل ما ينفق داخل الدولة خلال سنة واحدة في كل القطاعات .

*مثال: يشمل الجدول التالي بعض البيانات لدولة ما في عام ٢٠١٥ م (القيم بالمليون دينار كويتي)

الاستهلاك	الإنفاق الحكومي	الاستثمار الاجمالي	الصادرات	الواردات
٣٧٠	٤٢	٨٠	٦٣	٥٥

ص ٢٤١

١- احسب قيمة الناتج المحلي الإجمالي لهذه الدولة.

الناتج المحلي = الإنفاق الاستهلاكي + + + الصادرات (القطاع الخارجي) -

٢- استنتج سبب اعتبار دول الخليج العربي أفضل حالا من الدول الأخرى برغم امتلاك الدول الأخرى لناتج محلي أكبر من دول الخليج.

ص ٢٤٢

- لان عدد سكان دول الخليج العربية أقل مما يؤدي لارتفاع مستوى الدخل بها.

٣- ماذا يحدث في اقتصاد الدولة لو انخفض الإنفاق الاستثماري.

أ- يؤدي إلى انخفاض الناتج المحلي الإجمالي.

ب- مع انخفاض الإنفاق الاستثماري ستتخلى الشركات عن بعض موظفيها.

ج- معدل البطالة سيزداد مما يخفض من الإنفاق الاستهلاكي لهم.

د- مما يزيد من الانخفاض في الناتج المحلي الإجمالي.

ص ٢٤٤

٤- استنتج دور الدولة في معالجة مشكلة الانكماش الاقتصادي وارتفاع معدلات البطالة.

تقوم الحكومة برفع الناتج المحلي الإجمالي من خلال زيادة إنفاقها الحكومي مما يرتفع الناتج المحلي الإجمالي ويكون هناك فرص وظيفية جديدة ويرتفع معها الإنفاق الاستهلاكي ويرتفع الناتج المحلي الإجمالي مرة أخرى.

السؤال الثامن/ عرف ما يلي:

١- الناتج المحلي الإجمالي:

ص ٢٣٩

هو مجموع قيم ما ينتج في دولة معينة من سلع نهائية وخدمات خلال مدة زمنية محددة (عادة سنة واحدة).

٢-متوسط دخل الفرد:

ص ٢٤١

حاصل قسمة الناتج المحلي الإجمالي على عدد السكان في الدولة.

٣-قوة العمل:

ص ٢٤٣

كل من هم بين عمر 18 عاما و70 عاما ولديهم القدرة والرغبة بالعمل.

٤-التضخم:

ص ٢٤٣

الارتفاع المستمر في المستوى العام للأسعار للسلع والخدمات في فترة زمنية محددة.

٥-النمو الاقتصادي:

ص ٢٤٣

النسبة المئوية للزيادة في الناتج المحلي الإجمالي.

٦-التنمية:

ص ٢٤٦

مجموع السياسات التي تتخذها الحكومة والتي تؤدي إلى زيادة النمو الاقتصادي بدافع ذاتي.

السؤال التاسع/ علل لما يلي:

١- لا يعبر مفهوم قوة العمل تعبير صحيح عن معدل البطالة في الدولة.

ص ٢٤٢-٢٤٣

أ-توجد فئات كثيرة في الدولة من الأطفال وكبار السن والمرضى وأصحاب الاحتياجات الخاصة وهي فئات لا تستطيع العمل.

ب-بعض السكان مثل ربات البيوت لا يرغبون بالعمل.

ج-لكي نصل لمعدل دقيق عن البطالة وقوة العمل لابد من طرح الفئات السابقة من عدد السكان الجمالي لنحصل على قوة العمل الصحيحة.

٢-يطلق على ارتفاع الأسعار في شهر رمضان لفظ (تضخم وقي).

ص ٢٤٣

ترتفع أسعار المواد الغذائية في شهر رمضان لشدة الإقبال عليها ثم تعود الأسعار للانخفاض مع نهاية الشهر ويطلق عليه (ارتفاع سعري مؤقت) وليس تضخم.

٣-تعتبر ظاهرة النمو الاقتصادي من أكثر المصطلحات شيوعاً في وسائل الاعلام.

ص ٢٤٣

وذلك لأهمية النمو الاقتصادي لكل دولة.

٤-حدوث انكماش اقتصادي للدولة

ص ٢٤٤

-بسبب انخفاض أحد مكونات الناتج المحلي الإجمالي.

السؤال العاشر/الجدول والتمارين:

١- أدرس الجدول جيداً ثم نفذ ما هو مطلوب.

الانتاج	السعر بالدينار لكويتي	العام ٢٠١٥
٣٠٠٠	٥٠	السلعة x
١٥٠٠	٣٠	السلعة y

أ- أوجد قيمة الناتج المحلي الإجمالي للدولة.

$$\text{الناتج المحلي الإجمالي} = (٣٠٠٠ \times ٥٠) + (١٥٠٠ \times ٣٠) = ١٥٠٠٠ + ٤٥٠٠٠ = ٦٠٠٠٠$$

ص ٢٤١

٢- لاحظ الجدول التالي ثم نفذ ما هو مطلوب منك.

أوجه المقارنة الدولة	الناتج المحلي الإجمالي	عدد السكان	متوسط دخل الفرد من الناتج المحلي الإجمالي
الدولة الأولى	٣ مليار دولار أمريكي	٣ مليون نسمه	متوسط دخل الفرد = $\frac{\text{الناتج المحلي}}{\text{عدد السكان}}$
الدولة الثانية	٢ مليار دولار أمريكي	١ مليون نسمه	متوسط دخل الفرد = $\frac{\text{الناتج المحلي}}{\text{عدد السكان}}$

أ- أكمل الناقص من الجدول بحساب متوسط دخل الفرد.

ب- اختر أي الدولتين تفضل العيش فيها ولماذا؟

- الدولة الثانية لارتفاع مستوي دخل الفرد.

٣- الجدول التالي يوضح حجم الإنتاج من السلع في اقتصاد دولة ما لعامي ٢٠٠٨ و ٢٠٠٩ م.

العام السلعة	٢٠٠٨ م		٢٠٠٩ م	
	الكمية	السعر بالدينار الكويتي	الكمية	السعر بالدينار الكويتي
الاسمنت بالكيلو	١٠٠٠	٤٠	١١٠٠	٤٤
الحديد بالطن	٦٠٠	١٣٢٠٠٠	٦٠٠	١١٧٠٠٠
الطحين بالكيلو	٢٠٠	٢٩	٢٥٠	٣٦

أ- احسب الناتج المحلي الإجمالي لهذه الدولة لعامي ٢٠٠٨ م و عام ٢٠٠٩ م.

الحل

* الناتج المحلي الإجمالي لعام ٢٠٠٨ =

* الناتج المحلي الإجمالي لعام ٢٠٠٩ =

٤- يشمل الجدول التالي بعض البيانات لدولة ما في عام ٢٠١٥ م (القيم بالمليون دينار كويتي).

الاستهلاك	الانفاق الحكومي	الاستثمار الاجمالي	الصادرات	الواردات
٣١٤	٩٧	٧٣	٢٣	٢٤

أ- احسب قيمة الناتج المحلي الإجمالي للدولة

الحل

الناتج المحلي الإجمالي =

٥- إذا بلغ الناتج المحلي الإجمالي ٣٠٠ مليار دولار، وعدد السكان ٢٠ مليون نسمة، احسب متوسط دخل الفرد؟

القانون =

متوسط دخل الفرد من الناتج المحلي الإجمالي =

٦- إذا كان لدينا دولة يبلغ حجم السكان فيها ٢٠٠ مليون نسمة وتبلغ قوة العمل ١٠٠ مليون شخص في حين ان ٩٢ مليون عامل منهم موظفين، احسب معدل البطالة في الدولة.

الحل

عدد العاطلين = قوة العمل - عدد العاملين = ٩٢ - ١٠٠ = ٨ مليون شخص

$$\text{قانون معدل البطالة} = \frac{\text{عدد العاطلين عن العمل}}{\text{قوة العمل}} \times 100 =$$

٧- لاحظ الجدول التالي الذي يبين الناتج المحلي الاجمالي لدولة ما عامي ٢٠١٥-٢٠١٦ ثم نفذ ما هو مطلوب منك.

ص ٢٤٤

السنة	الناتج المحلي الاجمالي
٢٠١٥ م	٢,٠٠٠,٠٠٠,٠٠٠ دولار
٢٠١٦ م	٢,٥٠٠,٠٠٠,٠٠٠ دولار

أ- احسب معدل النمو الاقتصادي في هذه الدولة.

القانون =

معدل النمو الاقتصادي =

(الناتج المحلي للسنة الحالية - الناتج المحلي للسنة الماضية) ÷ الناتج المحلي للسنة الماضية × 100

$$\text{الحل} = \frac{(2,500,000,000 - 2,000,000,000)}{2,000,000,000} \times 100 =$$

ب- ماذا يحدث في الحالات التالية:

١- إذا كان معدل النمو الاقتصادي موجب القيمة.

يدل ذلك على ذلك على النمو الاقتصادي للدولة.

٢- إذا كان معدل النمو الاقتصادي سالب القيمة

يدل ذلك على انكماش أو تباطؤ اقتصادي للدولة.

٨- مسألة على حساب معدل البطالة.

أ- اذا علمت ان دولة ما تبلغ قوة العمل فيها ٢٠ مليون شخص في حين بلغ عدد الأشخاص العاملين في

الدولة ١٨ مليون شخص احسب معدل البطالة في هذه الدولة.

القانون =

الحل

٩- أدرس الجدول جيداً ثم اجب عما يلي:

السنة	الناتج المحلي الاجمالي
٢٠٠٨	٣٩,٠٠٠,٠٠٠,٠٠٠
٢٠٠٩	٣١,٠٠٠,٠٠٠,٠٠٠

أ- احسب النمو الاقتصادي.



والله يوفق الجميع... ملاحظة هذا الدليل لا يغني عن الكتاب المدرسي. (مجاناً لاتباع)