



وزارة التربية

الإدارة العامة لمنطقة العاصمة التعليمية



معلومات

الاجابة



امتحان نهاية الفترة الدراسية الثانية - لمقرر الكويت والعالم

للمصف التاسع

السؤال الأول (موضوعي) ويتكون من (أ- ب - ج - د - هـ) : (لكل نقطة درجة)

(أ) اختر الإجابة الصحيحة من بين البدائل التي تلي كل عبارة وضع خطأ تحتها :

- ١- إتاحة الفرص لجميع الأفراد في تقسيم العمل وتحمل المسؤولية مفهوم يطلق على : ص ١٠٥
أ- المساواة ب- الحرية ج- حكم الشعب د سيادة القانون
- ٢- يوجد مقر منظمة الأمم المتحدة في مدينة : ص ١٢٨
أ- واشنطن ب- نيويورك ج- جورجيا د- فرجينيا
- ٣- يطلق على تعاون أفراد المجتمع في مواجهة الكوارث : ص ١١٠
أ- التعاون الأسري ب- التعاون الجبري ج- التعاون الدفاعي د - التعاون الاختياري
- ٤- أقيمت أول مستوطنة بريطانية في استراليا في مدينة : ص ٨٧
أ- سيدني ب- نيوكاسل ج- ملبورن د- بيرث
- ٥- يقوم الإنتاج على عدة عوامل ليس من بينها : ص ١٠٧
أ- العمل ب- رأس المال ج- التنظيم الإداري د- القروض
- ٦- بدأت الحرب الجوية لتحرير دولة الكويت بتاريخ ١٧ يناير عام : ص ١٤٨
أ- ١٩٩٠ م ب- ١٩٩١ م ج- ١٩٩٢ م د- ١٩٩٣ م
- ٧- أنشئت الهيئة العامة لحماية البيئة عام ١٩٨٠م في دولة : ص ١٤٦
أ- البحرين ب- عمان ج- قطر د- الكويت
- ٨- أحد مظاهر عصر النهضة الأوروبية : ص ١١٥
أ- الانهيار الاقتصادي ب- قيام الحربين العالميتين ج- الكشوف الجغرافية د نشأة المنظمات

(ب) أكمل العبارات التالية بما يناسبها :

- ١- يقع مقر المنظمة الإقليمية لحماية البيئة البحرية في دولة اسمها الكويت ص ١٤٦
- ٢- يطلق على الدول التي مازالت أقل تقدماً في ميادين الاقتصاد والعلم والتكنولوجيا اسم الدول النامية ص ٨٢
- ٣- العالم الذي اخترع جهاز الهاتف أسمه الكسندر جراهام بل ص ٩٥
- ٤- المؤتمر الذي عقد في البرازيل عام ١٩٩٢م للحد من تلوث الجو وإشاعة الطاقة غير الملوثة يسمى قمة الأرض ص ١٣٥
- ٥- أول حاكم تم اختياره للكويت أسمه صباح بن جابر / صباح الأول ص ١٠٤
- ٦- مؤسسة اقتصادية أنشأتها دولة الكويت في ديسمبر عام ١٩٦١م تسمى الصندوق الكويتي للتنمية الاقتصادية ص ١٤٤
- ٧- قائد الثورة الشيوعية في روسيا أسمه لينين ص ١٢٢
- ٨- مرض يسببه فيروس يؤدي إلى ضعف المناعة المكتسبة في جسم الانسان وبالتالي الفتك به يسمى الإيدز ص ١٣٦

(ج) اكتب المصطلحات أو المفاهيم الدالة على كل من العبارات التالية :

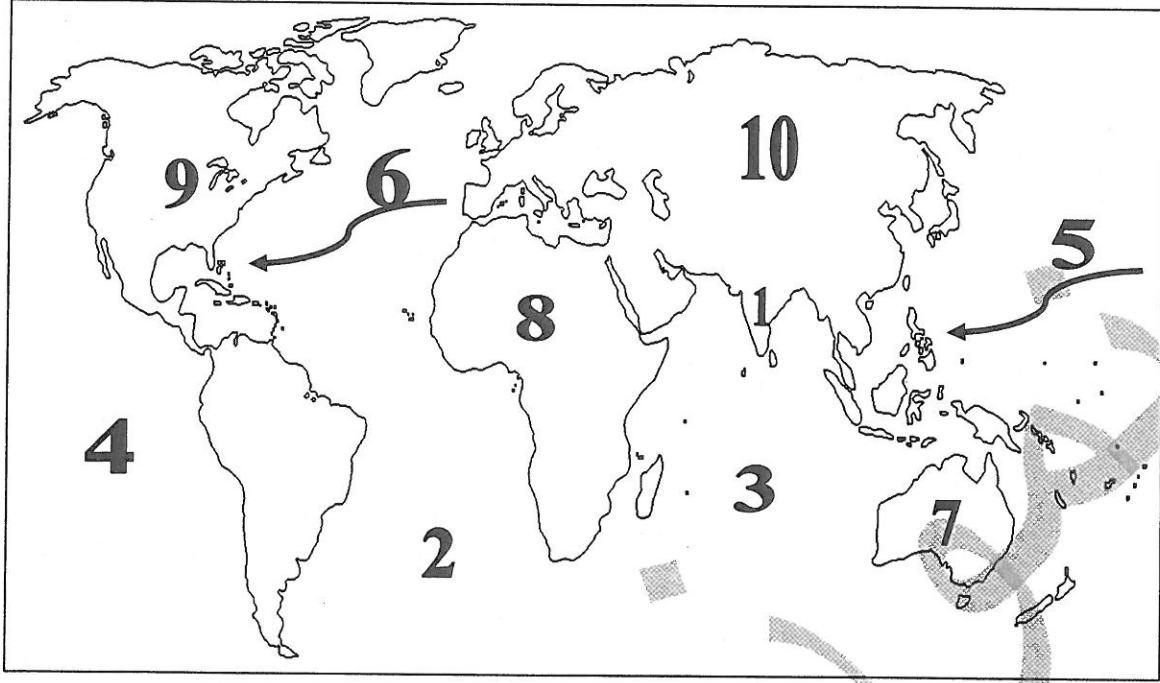
- ١- (النمو السكاني ص ٨٣) مجموع معدل النمو الطبيعي وغير الطبيعي .
- ٢- (الدولة ص ١٠٤) بقعة من الأرض يسكنها مجموعة من الأفراد بصفة دائمة يتفاعلون مع بعضهم البعض تجمعهم قيادة سياسية واحدة تنظم علاقاتهم .
- ٣- (الرأي العام ص ١٠٦) آراء مجموعة من الأفراد بشأن قضية أو موقف ما .
- ٤- (الثورة الصناعية ص ١١٥) عملية تغيير شامل في أدوات الإنتاج الصناعي ووسائله وحجمه .
- ٥- (الطاقة ص ١٢٨) القوى المحركة اللازمة لإدارة الآلات .
- ٦- (الاحتباس الحراري ص ١٣٣) ارتفاع درجات حرارة الأرض عن معدلها الطبيعي .
- ٧- (الصادرات ص ٨٨) السلع والخدمات التي تباع للبلاد الأجنبية .
- ٨- (السبخة ص ٨٥) أرض تبخر عنها الماء وبقيت عليها طبقة مالحة .

(د) أكمل المخطط السهمي التالي :

أهم العوامل المؤثرة في تشكيل الرأي العام ص ١٠٦



(ه) أمامك خريطة العالم الصماء أكتب مدلولات الأرقام :



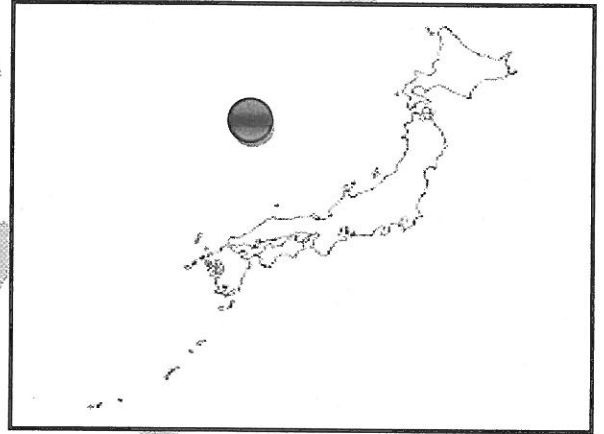
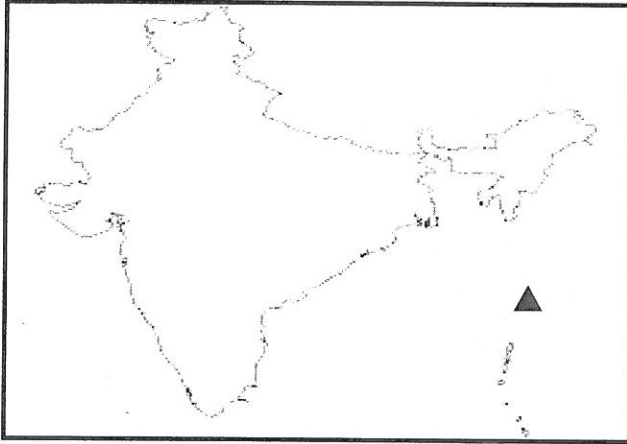
- قارة أمريكا الشمالية تحمل الرقم (٩) ص ٧٩
- المحيط الهندي يحمل الرقم (٣) ص ٨٥
- قارة أفريقيا تحمل الرقم (٨) ص ٨٠
- خط سير الرحالة كولمبس يحمل الرقم (٦) ص ١١٦

٣٠

مجموع درجات السؤال الأول


السؤال الثاني (مقالى) ويتكون من (أ - ب) :
(أ) علل ما يلي :

- ١- أهمية النفط والغاز الطبيعي في عصرنا الحاضر . ص ١٣٠ (درجتان ، يكتفى بنقطتين)
 - توفرهما بكميات كبيرة في مناطق محددة .
 - سهولة نقلهما وتخزينهما .
 - يعتبران مادتان هامتان وقت السلم والحرب .
 - ٢- قيام الحرب العالمية الأولى . ص ١١٦ (درجتان ، يكتفى بنقطتين)
 - زيادة المنافسة بين الدول الأوروبية من أجل السيطرة على منابع الثروات الطبيعية في الدول الأخرى .
 - الصراع حول المستعمرات في قارتي آسيا وأفريقيا .
 - قيام طالب صربي باغتيال ولي عهد النمسا في مدينة سراييفو عاصمة البوسنة .
- ب) قارن بين كل من اليابان و الهند من حيث ما يلي : (١ x ٦)



- ١- المناخ . ص ٨٩
 - تمتد أراضي الهند في المنطقة الحارة بين دائرتي عرض ٨ - ٣٨ شمالاً وتتمتع معظم أراضيها بالمناخ الموسمي الحار الممطر صيفاً ويسودها مناخ بارد قاسي في المناطق الشمالية من جبال الهملايا .
- ٢- أهم الصناعات في الهند . ص ٩٠
 - تشتهر الهند بالصناعات اليدوية (أنسجة الذهب - الفضة) . (يكتفى بنقطة)
 - حدد خليج البنغال بوضع الرمز ▲

- ١- المناخ : ص ٩٢
 - تمتد أراضي اليابان في الأقاليم المعتدلة الدافئة والباردة بين دوائر عرض ٢٦ - ٤٦ شمالاً .
- ٢- أهم الصناعات في اليابان . ص ٩٤
 - وسائل النقل / الصناعات الكيماوية / الأجهزة والأدوات الكهربائية . (يكتفى بنقطة)
 - حدد بحر اليابان بوضع الرمز ●



مجموع درجات السؤال الثاني

السؤال الثالث (مقال) ويتكون من (أ - ب) :

(أ) اقرأ الفقرة التالية ثم أجب عما يليها من أسئلة :

" استطاع الإنسان منذ نهاية القرن التاسع عشر أن يطور وسائل الاتصالات المختلفة التي أدت إلى تغيرات متسارعة في نمط حياة الأفراد وأساليب معيشتهم إلى درجة كان من المستحيل من دونها أن تصل المجتمعات البشرية إلى ماوصلت إليه اليوم من تطور تكنولوجي في مجال الحاسوب والإنترنت . "

١- عرف الاتصال . ص ٩٥ (درجة)

عملية تبادل المعلومات بين الأفراد من خلال الرموز والسلوك المنقول بواسطة الرسائل الشفهية .

٢- أذكر أحد أقسام الأقمار الصناعية حسب نوع المدار الذي تسلكه . ص ٩٦ (درجة ، يكتفى بنقطة)

- أقمار تدور مع الأرض دوران تزامني على ارتفاع عال .

- أقمار تدور حول الأرض من القطب إلى القطب .

- أقمار تدور حول الأرض بموازاة خط الاستواء .

٣- علل .

- أهمية الحاسوب في حياة الإنسان . ص ٩٧ (درجتان ، يكتفى بنقطتين)

- يوفر الوقت والجهد والتكاليف .

- تخزين المعلومات الداخلة إليه .

- تدخل استخداماته في جميع مجالات الحياة .

(ب) عدد نقطتين لكل مما يلي :

١- العوامل الطبيعية المؤثرة في توزيع السكان في العالم . ص ٨٣ (درجتان ، يكتفى بنقطتين)

- النبات الطبيعي / التربة / الثروات المعدنية / المناخ / التضاريس

٢- موقف منظمة المؤتمر الإسلامي من العدوان العراقي على دولة الكويت . ص ١٤٩ (درجتان، يكتفى بنقطتين)

- أدانت المنظمة العدوان العراقي على دولة الكويت متمثلة بمؤتمر وزراء خارجية الدول الإسلامية .

- إصدار بياناً يشجب فيه العدوان ويطالب بالانسحاب الفوري والالتزام بميثاق منظمة المؤتمر الإسلامي .

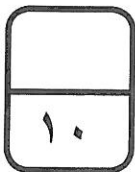
٣- أوجه الشبه بين الأنظمة الدكتاتورية . ص ١٢٢ (درجتان ، يكتفى بنقطتين)

- الزعامة المطلقة .

- الحزب هو السلطة الوحيدة في الدولة .

- استخدام وسائل بوليسية وإرهابية لفرض النظام الجديد .

- التوسع في أوروبا .



مجموع درجات السؤال الثالث

السؤال الرابع (مقال) ويتكون من (أ - ب) :

(أ) اذكر النتائج المترتبة على كل مما يلي :

- ١- الحرب العالمية الثانية . ص ١٢٦ (ثلاث درجات)
 - عدلت خريطة أوروبا السياسية من جديد .
 - قضى على النازية والفاشية وحوكم زعماءها كمجرمي حرب .
 - انقسمت ألمانيا إلى قسمين (شرقية - غربية) .
 - خرجت الولايات المتحدة والاتحاد السوفيتي من الحرب كأكبر دولتين في العالم وتراجعت قوة بريطانيا وفرنسا .
 - ٢- تآكل طبقة الأوزون . ص ١٣٤ (ثلاث درجات)
 - ارتفاع درجة حرارة الجو المحيط بالكرة الأرضية .
 - ارتفاع نسبة الإصابة بالأمراض الجلدية وأمراض العيون .
 - إتلاف الغطاء النباتي وانخفاض إنتاجية المحاصيل الزراعية .
- ب- فرق بين كل مما يلي حسب المطلوب في الجدول التالي : (أربع درجات لكل نقطة درجة)

مميزات المناخ المعتدل ص ٨٦	مميزات المناخ الصحراوي ص ٨٦
يمتاز بالدفء في فصل الصيف وبارد في الشتاء .	يمتاز بارتفاع درجة الحرارة في فصل الصيف وانخفاضها في الشتاء وقلة تساقط الأمطار .
تعريف الدكتاتورية ص ١٢٣	تعريف الديمقراطية ص ١٠٤
شكل من أشكال الحكم تكون فيه السلطة مطلقة في يد فرد واحد (دكتاتور) دون التقيد بالدستور أو القوانين .	شكل من أشكال السلطة يكون الحكم بمقتضاه بيد الشعب

١٠

مجموع درجات السؤال الرابع

انتهت الأسئلة،
مع تمنياتنا لكم بالنجاح والتوفيق