

تم تحميل هذا الملف من موقع المناهج الكويتية



الملف تحميل دليل الطالب مع مراجعة عامة لثانوية أنيسة بنت خبيب الأنصارية

[موقع المناهج](#) ← [المناهج الكويتية](#) ← [الصف العاشر](#) ← [تاريخ](#) ← [الفصل الأول](#)

روابط مواقع التواصل الاجتماعي بحسب الصف العاشر



روابط مواد الصف العاشر على تلغرام

[الرياضيات](#)

[اللغة الانجليزية](#)

[اللغة العربية](#)

[التربية الاسلامية](#)

المزيد من الملفات بحسب الصف العاشر والمادة تاريخ في الفصل الأول

مسودة كتاب الطالب لعام 2018	1
مذكرة ثانوية سلمان الفارسي	2
حل تقويم الكتاب في مادة التاريخ	3
نموذج احابة امتحان في مادة التاريخ للصف العاشر	4
مذكرة شهرزاد في مادة التاريخ	5



وزارة التربية
الإدارة العامة لمنطقة الأحمدى التعليمية
مدرسة أنيسة بنت خبيب الأنصارية
(المرحلة الثانوية)

دليل تاريخ دولة الكويت للصف العاشر

موقع
المناهج الكويتية
almanahj.com/kw



إعداد المعلمة/أ. مها جمعان العازمي
قسم العلوم الفلسفية . مدرسة أنيسة بنت خبيب الأنصارية المشتركة (المرحلة الثانوية)

العام الدراسي ٢٠١٨ / ٢٠١٩ م



Onisahighschool@outlok.com



Onysa_school



Onysa_school Secondary



وزارة التربية
الإدارة العامة لمنطقة الأحمدى التعليمية
مدرسة أنيسة بنت خبيب الأنصارية
(المرحلة الثانوية)

موقع
المناهج الكويتية
almanahj.com/kw

بِسْمِ اللَّهِ الرَّحْمَنِ الرَّحِيمِ



إعداد المعلمة

أ. مها جمعان العازمي

قسم العلوم الفلسفية

مدرسة أنيسه بنت خبيب الانصارية المشتركة
(المرحلة الثانوية)

موقع
المنهج الكويتية
almanahj.com/kw

إشراف

رئيسة قسم العلوم الفلسفية


أ. مستوره المطيري

الموجهة الفنية

أ. مريم المطيري

مديرة المدرسة

أ. باسمه الهدبه



إهداء

موقع
المنهج الكويتية
almanahj.com/kw

إلى الموجه الفني العام للإجتماعيات

د. / نادية العريفان

والموجه الفني الأول للإجتماعيات

في منطقة الأحمدية التعليمية

أ. محمد العتيبي

ولدولتي الحبيبة الكويت


وأبنائنا الطلبة والطالبات في الصف العاشر

مع خالص شكري وتقديري

لكل من ساعدني وساهم في

إنجاز هذا الدليل

أ.مها العازمي




موقع
المعهد الكويتية
almis.com/kw

الفصل الدراسي الأول

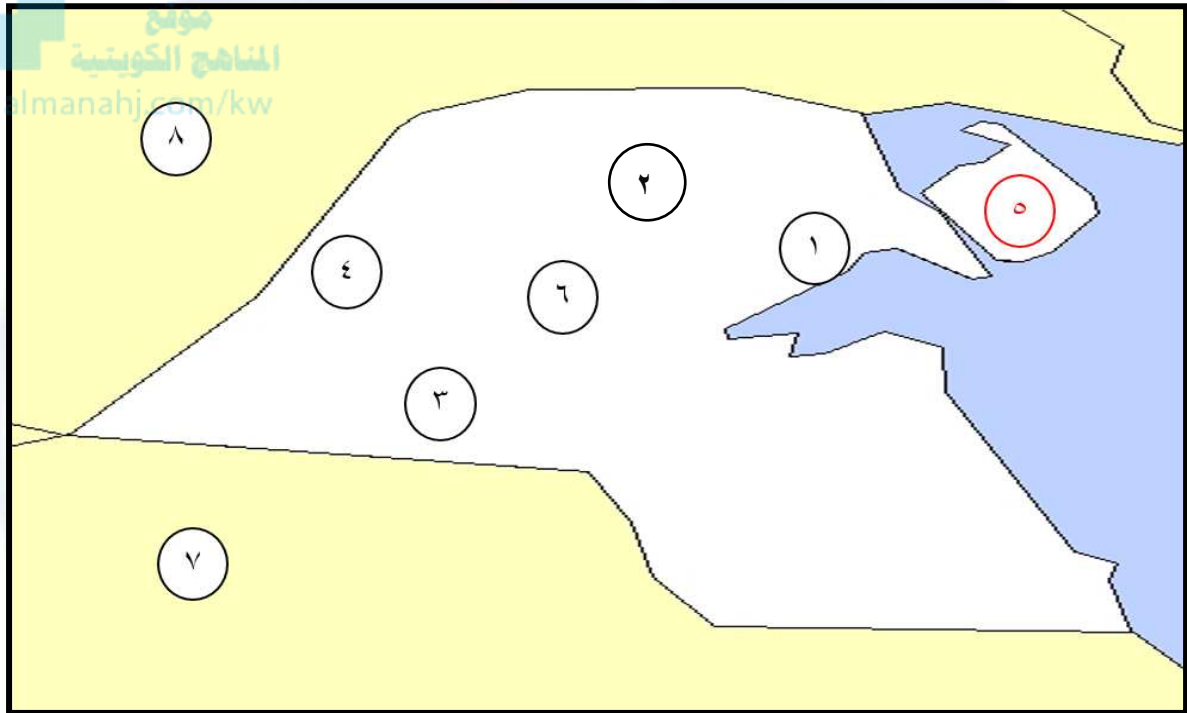




الفصل الأول معالم الكويت الجغرافية والاقتصادية والحضارية



السؤال الأول: (أ) لاحظ الخريطة التي أمامك ثم أجب عما يليها:



١- الرقم (٨) على الخريطة يمثل دولة تحد دولة الكويت من جهة الشمال والشمال الغربي تسمى (**العراق**)

ص ٢١

٢- الرقم (٧) على الخريطة يمثل دولة تحد دولة الكويت من جهة الجنوب والجنوب الغربي تسمى (**السعودية**)

ص ٢١

ص ٢١

ص ٢١

ص ٢١

ص ٢١

ص ٢١

ص ٢١

ص ٢١

٣- تل حافة جال الزور يمثل على الخريطة الرقم (**١**)

٤- تلال كراع المرو يمثل على الخريطة الرقم (**٦**)

٥- سهل الدبدية يمثل على الخريطة الرقم (**٣**)

٦- وادي الباطن يمثل على الخريطة الرقم (**٤**)

٧- سهل الروضتين يمثل على الخريطة الرقم (**٢**)

٨- ضع الرقم (**٥**) على جزيرة بوبيان

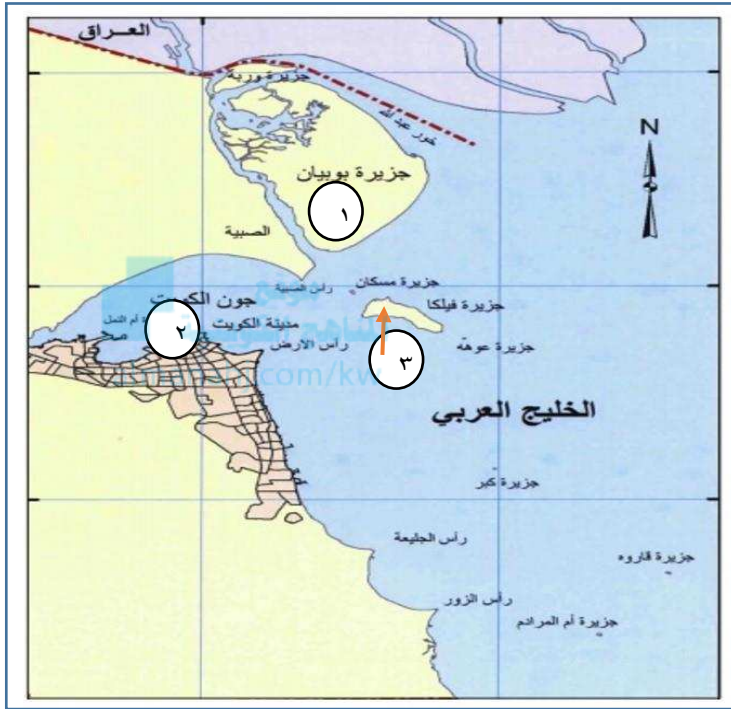




وزارة التربية
الإدارة العامة لمنطقة الأحمدى التعليمية
مدرسة أنيسة بنت خبيب الأنصارية
(المرحلة الثانوية)

دليل تاريخ دولة الكويت للفصل العاشر- الفصل الدراسي الأول

(ب) أمامك خريطة الجزر الكويتية أكتب مدلول الأرقام التالية:

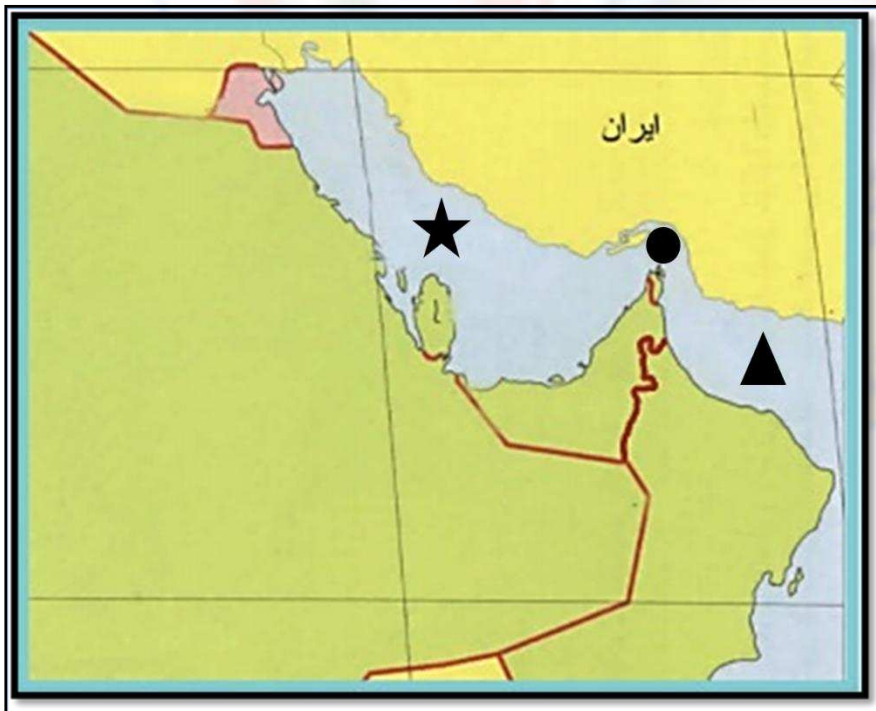


١- أهم الجزر الكويتية من حيث التاريخ بما تحتويه من إشارات ودلائل أثرية ومعمارية قديمة.
الرقم (٣) ص ٢٨

٢- جزيرة تمثل ما نسبته ٥% من المساحة الإجمالية للبلاد يمثلها على الخريطة الرقم (١) ص ٢٨

٣- جزيرة أصبحت جزءا من ميناء منطقة الشويخ بعد ردم الجزء المحصور بينها وبين الساحل يمثلها على الخريطة الرقم (٢) ص ٢٨

(ج) حدد على الخريطة الصماء المقابلة: ص ٣٩



١- موقع الخليج العربي بالرمز ★

٢- مضيق هرمز بالرمز ●

٣- خليج عمان بالرمز ▲



دليل تاريخ دولة الكويت للفصل العاشر- الفصل الدراسي الأول

السؤال الثاني أكمل العبارات التالية:

- ١- يحد دولة الكويت من جهة الشمال والشمال الغربي دولة تسمى العراق ص ٢٢
- ٢- يحد دولة الكويت من جهة الجنوب دولة تسمى السعودية ص ٢٢
- ٣- يحد دولة الكويت من جهة الشرق مسطح مائي يسمى الخليج العربي ص ٢٢
- ٤- تقع دولة الكويت في الجزء الشمالي الشرقي من شبه الجزيرة العربية ص ٢٢
- ٥- تقع دولة الكويت بين خطي عرض ٢٨,٤٥ - ٣٠,٠٥ شمال خط الاستواء ص ٢٢
- ٦- تقع دولة الكويت بين خطي طول ٤٦,٣٠ - ٤٨,٣٠ شرق خط جرينتش ص ٢٢
- ٧- تبلغ مساحة دولة الكويت ١٧,٨١٨ ألف كيلومتر مربع ص ٢٢
- ٨- تضم دولة الكويت عدة أودية صحراوية جافة من أشهرها وادي يسمى الباطن ص ٢٥
- ٩- السهل الذي يحتل مساحة كبيرة في غرب وجنوب الكويت يسمى سهل الدبابة ص ٢٥
- ١٠- أشهر السهول الموجودة في دولة الكويت يسمى سهل برقان ص ٢٧
- ١١- الطريق الذي يعتبر أحد أهم المحاور الأكثر استخداماً للتجارة الدولية في العالم القديم يسمى طريق الحرير ص ٤٠
- ١٢- أكبر الجزر الكويتية حيث تمثل نسبة ٥% من المساحة الإجمالية للبلاد. بوبيان ص ٢٨
- ١٣- جزيرة أصبحت غير مأهولة بالسكان بعد أحداث الغزو العراقي لدولة الكويت عام ١٩٩٠ م تسمى فيلكا ص ٢٩
- ١٤- ظاهرة مناخية تهب في أواخر الربيع وأوائل الصيف تسمى السرايات ص ٣٤
- ١٥- يعود الوجود البشري في دولة الكويت إلى أكثر من ٤٠٠٠ ق.م ص ٣٦
- ١٦- أول تعداد رسمي سكاني في دولة الكويت عام ١٩٥٧ م ص ٣٦
- ١٧- أجري أول تعداد سكاني في دولة الكويت في عهد الشيخ عبدالله السالم الصباح ص ٣٦
- ١٨- بلغت نسبة الوافدين في دولة الكويت عام ١٩٩٠ م ٧٢% ص ٣٧
- ١٩- المادة الأساسية في صناعة بيت الشعر تسمى الصوف ص ٥٥
- ٢٠- إقليم يحتل المنطقة الغربية للخليج العربي ويمتد من جنوب البصرة شمالاً حتى عمان جنوباً يسمى إقليم البحرين ص ٣٦
- ٢١- المعركة التي وقعت بين المسلمين والفرس في منطقة كاظمة تسمى معركة ذات السلاسل ص ٦٠
- ٢٢- أصدر حاكم دولة الكويت الشيخ أحمد الجابر الصباح قانون الغواصين في عام ١٩٤٠ م ص ٤٦





دليل تاريخ دولة الكويت للفصل العاشر- الفصل الدراسي الأول

السؤال الثالث علل لما يلي

- ٢٨ ص ١- حرص العراق في مختلف صراعه مع دولة الكويت على ضم جزيرتا وربة وبوبيان .
-لأنه يعدهما الجزيرتين الأهم اللتين ستمنحانه منفذا بحريا مناسباً له على الخليج العربي .
- ٣٤ ص ٢- تتميز الرياح الشمالية الغربية بالجفاف .
-بسبب المرتفع السيبيري المتمركز في شمال القارة الآسيوية .
- ٣٤ ص ٣- تتميز الرياح الجنوبية الشرقية (الكوس) بانها رطبة ودافئة .
بسبب تأثرها بالمنخفض السوداني وتتسبب في رفع درجة الحرارة وتزيد من نسبة الرطوبة في فصل الصيف.
- ٣٧ ص ٤- تعرض وضع السكان في دولة الكويت عام ١٩٩٠م لتغيرات كبيرة .
-بسبب العدوان والاحتلال العراقي الغاشم على دولة الكويت مما أدى إلى هجرة كبيرة للوافدين إلى اوطانهم.
- ٤٢ ص ٥- يعتبر النشاط البحري هو النشاط السائد قديماً في دولة الكويت على الرغم من مشاركة النشاط البري .
-لأن دولة الكويت تقع في منطقة صحراوية قليلة الموارد شحيحة الامطار غير صالحة للزراعة.
- ٤٢ ص ٦- انتعشت حرفة صيد الاسماك في دولة الكويت قديماً .
أ-لأن حرفة صيد الأسماك مصدر من مصادر الدخل في الكويت قبل النفط.
ب-لأن مياه الخليج كانت تعج بالأسماك الجيدة والمختلفة الأشكال والأحجام.
ج-لأن السمك الغذاء الرئيسي لسكان دولة الكويت.
- ٤٩ ص ٧- تعتبر دولة الكويت قديماً من المراكز التجارية الهامة .
أ-بسبب موقعها الجغرافي الجيد الذي منحها بعد استراتيجي وجعلها من المراكز المهمة في التجارة الدولية.
ب-أنها حلقة وصل تربط بين الشرق والغرب.
ج- لعمل أهلها منذ بداية تأسيسها في صناعة السفن والغوص على اللؤلؤ.
- ٥٢ ص ٨- قلة الزراعة في دولة الكويت .
أ-لأن دولة الكويت بلد صحراوي يعاني من قلة المياه.
ب-ارتفاع درجة الحرارة.
ج-عدم خصوبة التربة.
- ٥٨ ص ٩- تمثل منطقة الصبية (حضارة العبيد) قيمة أثرية كبيرة .
أ-يرجع تاريخ أقدم الحفريات الجيولوجية بها إلى الفترة ما بين ١٥ و ٢٠ مليون سنة.
ب-أنها تحتضن منات المواقع الأثرية التي برهنت على وجود حضارة العبيد القديمة مستقلة عن حضارة بلاد الرافدين.
- ٥٩ ص ١٠- لعبت جزيرة فيلكا دوراً رئيسياً في منطقة الخليج العربي خلال الألفين الثالث والثاني قبل الميلاد .
-لأنها مركز من مراكز حضارة دلمون القديمة التي كانت تؤدي دور الوسيط التجاري بين حضارات الهند وحضارة بلاد الرافدين.





دليل تاريخ دولة الكويت للفصل العاشر- الفصل الدراسي الأول

السؤال الرابع: نفذ المطلوب فيما بين القوسين مما يلي:

ص ٢١

(الهدف)

- ١- أهمية دراسة موقع أي دولة من الدول لإبراز القيمة الفعلية لها .
- ب-الكيفية التي تكون عليها المصالح الحيوية لتلك الدول.
- ج-الدور الذي يمكن أن تمارسه الدولة.

٢-تمتعت دولة الكويت بكل خصائص الموقع الجغرافي المتميز للكيان السياسي وللدولة في الشمال الغربي للخليج العربي.

ص ٢٢

(الأسباب)

أ-موقعها الذي يمثل النهاية الطبيعية للطريق الملاحي البحري والتجاري الواقع على طريق الهند ومنطقة الشرق الأقصى .

- ب-تمثل دولة الكويت البوابة والمدخل الطبيعي لشمال شرق شبه الجزيرة العربية وتعد مركزا لتجارة السكان الوافدين عليها من نجد والإحساء وبادية الشام وتصريف بضائعهم منها.
- ج-شهرتها بأنها منطقة (ترانزيت) أو منطقة لتجارة العبور قليلة الضرائب.
- د-نشاط دولة الكويت البحري والتجاري فهي أحد أهم الموانئ في شمال إقليم الإحساء خاصة مع ظهورها البري وملحقاتها من الجزر.

ه-تميز الكويتيين بالمهارة في نقل التجارة بين موانئ الخليج وسواحل الهند والشرق الأفريقي.

ص ٣٩

(الأسباب)

- ٣-يشكل الخليج العربي أحد أهم الطرق التجارية قديما .
- أ-لأنه يقع في موقع متوسط من قارات العالم القديم الثلاث آسيا وأفريقيا وأوروبا.
- ب-وجود مضيق هرمز الذي يربط بين خليج عمان والخليج العربي وأحد أذرع المحيط الهندي في شبه الجزيرة العربية
- ج- توفر الموارد الطبيعية البرية والبحرية .
- د- توفر وسائل نقل التجارة برا وبحرا للبلدان المحيطة.



ص ٤٦

(الأسباب)

٤-كساد تجارة الغوص على اللؤلؤ في الكويت .

أ-ظهور اللؤلؤ الصناعي عام ١٩٢٨م

ص ٤٨


(الآثار)

- ٥- حرفة الغوص على اللؤلؤ قديما في الكويت .
- أ-تقوية العلاقات بين السكان وتاصيل قيم الصدق والأمانة والعمل.
- ب-الاحترام المتبادل وتكوين الاسرة الواحدة.
- ج-التعاون والتعاقد بالمجتمع.
- د-الالتزام والطاعة والصبر.

ص ٥٨

(الأهمية الأثرية)

- ٦- منطقة الصبية .
- أ-ظهر بها أقدم الحفريات الجيولوجية.
- ب-يوجد بها أقدم القرى السكنية في بحرة وطبيج وشمال الصبية.
- ج-تحتوي على آبار المياه القديمة.
- د-العثور على جرار فخارية والرحى الحجرية التي تستخدم في طحن الغلال.





دليل تاريخ دولة الكويت للفصل العاشر- الفصل الدراسي الأول

السؤال الخامس: عرف المفاهيم التالية:

- ١- السموم: رياح جافة جدا تهب في الظهيرة وتنخفض معها الرطوبة النسبية وهي ذات درجات حرارة عالية. ص ٣٤
- ٢- السرايات: عواصف ترابية تهب في أواخر الربيع وأوائل الصيف مثيرة للغبار مصحوبة بعواصف رعدية يسقط بسببها المطر الشديد. ص ٣٤
- ٣- الكوس: رياح تتميز بانها رطبة دافئة تهب من الجنوب الشرقي وتتأثر بالمنخفض السوداني. ص ٣٤
- ٤- الأستاذ: الشخص الذي يقوم بتصميم السفينة. ص ٤٣
- ٥- القلاف: هو الذي يقوم بعملية اعداد المواد اللازمة لصناعة السفينة. ص ٤٣
- ٦- القمبار: هو الصيد بالإضاءة حيث يتجمع السمك حول سراج يحمله الصياد فيقوم بضربه بألة حادة. ص ٤٣
- ٧- العمائر: مخازن للمواد المستخدمة في صناعة السفن. ص ٤٣
- ٨- الهيرات: أماكن تكثر فيها منابت المحار المحتوى على اللؤلؤ. ص ٤٦
- ٩- الدشة: بداية موسم الغوص على اللؤلؤ وتبدأ في شهر مايو. ص ٤٦
- ١٠- القفال: انتهاء موسم الغوص و كانت في شهر سبتمبر وأكتوبر. ص ٤٦
- ١١- الترانزيت: إعادة تصدير الواردات. ص ٤٩
- ١٢- الصخين: هي أداة تستخدم للحفر. ص ٥٤
- ١٣- النجارة: حرفة يدوية لعب العاملون بها دور كبي في توفير مستلزمات البناء وغيرها من المستلزمات المنزلية قديما. ص ٥٤
- ١٤- الحدادة: حرفة يقوم العاملون بها بصناعة المسامير اللازمة لصناعة السفن قديما والأدوات اللازمة للبناء والزراعة والمنزل. ص ٥٤
- ١٥- الصفارة: حرفة يدوية يقوم بها العاملون بصنع وتلميع القدور المستخدمة في الطبخ المصنوعة من النحاس والأواني المنزلية المطلية من الداخل بطبقة القصدير. ص ٥٤
- ١٦- التناك: حرفة يقوم العاملون بها باستخدام الصفيح المعدنية لصنع (المحقان) والدوة والتنك وقوطي الجاز والعلب وأغطيتها والسطول والطشوت وغيرها. ص ٥٤
- ١٧- القفاص: حرفة يقوم العاملون بها باستخدام جريد النخيل حيث يشبك بعضه ببعض وذلك بثقبة وادخال اطرافه في الثقوب. فيصنع العامل أقفاص-المنز-السريير-الرك. ص ٥٥
- ١٨- الحياكة: حرفة يقوم بها العاملون بخياطة الملابس كالبشوت. ص ٥٥
- ١٩- الندافة: حرفة يقوم بها العاملون بتنجيد وصناعة المساند والفرش مستخدما القطن. ص ٥٥
- ٢٠- المنز: سرير ينام عليه الطفل قديما. ص ٥٥
- ٢١- الرك: صندوق له فتحة من الاعلى لوضع بعض المأكولات به. ص ٥٥
- ٢٢- السدو: حرفة تزاولها المرأة في البادية وهو أساس مكونات بيت الشعر الذي يسكنه اهل البادية. ص ٥٥
- ٢٣- العدل: عبارة عن أكياس كبيرة لحفظ بعض انواع الطعام وتوضع على الدابة وبها حاجات الراكب أيضا. ص ٥٥
- ٢٤- المزود: مفردا مزودة من الزاد وهي عبارة عن أكياس متوسطة لحفظ الطعام والملابس. ص ٥٥

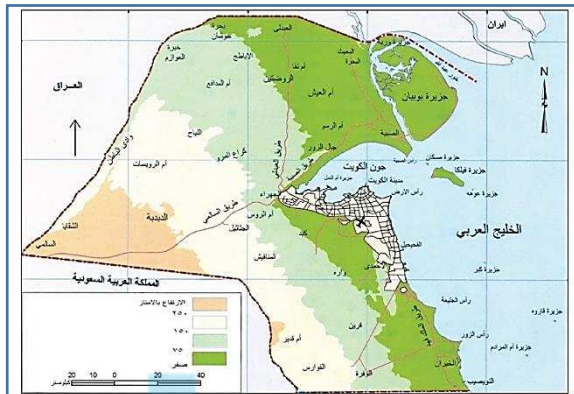




دليل تاريخ دولة الكويت للفصل العاشر- الفصل الدراسي الأول



وزارة التربية
الإدارة العامة لمنطقة الأحمدية التعليمية
مدرسة أنيسة بنت خبيب الأنصارية
(المرحلة الثانوية)



السؤال السادس: أكمل المخططات السهمية التالية:

(أ) توجد سلسلة من التلال في شمال دولة الكويت مثل:

ص ٢٤

المناهج الكويتية
amanahj.com/kw



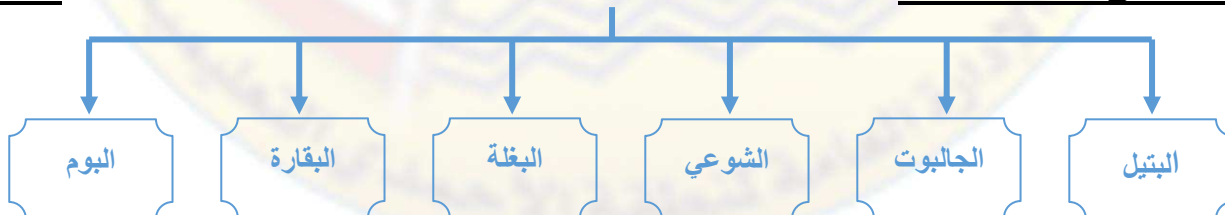
ص ٢٤

(ب) توجد بعض التلال في جنوب دولة الكويت على شكل قباب مثل:



ص ٤٤

(ج) من أنواع السفن الكويتية:






دليل تاريخ دولة الكويت للفصل العاشر- الفصل الدراسي الأول



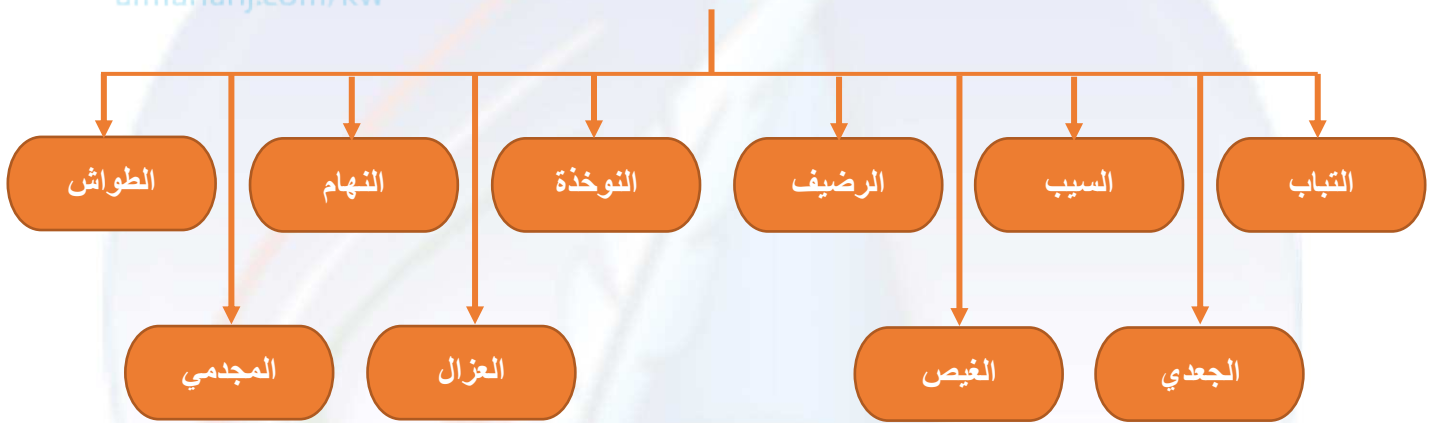
وزارة التربية
الإدارة العامة لمنطقة الأحمدية التعليمية
مدرسة أنيسة بنت خبيب الأنصارية
(المرحلة الثانوية)



ص ٤٨

المنهج الكويتية
almanahj.com/kw

(د) العاملون في حرفة الغوص:



ص ٤٩

(هـ) أهم الموانئ التي كان يجول بها الأسطول الكويتي قديما:





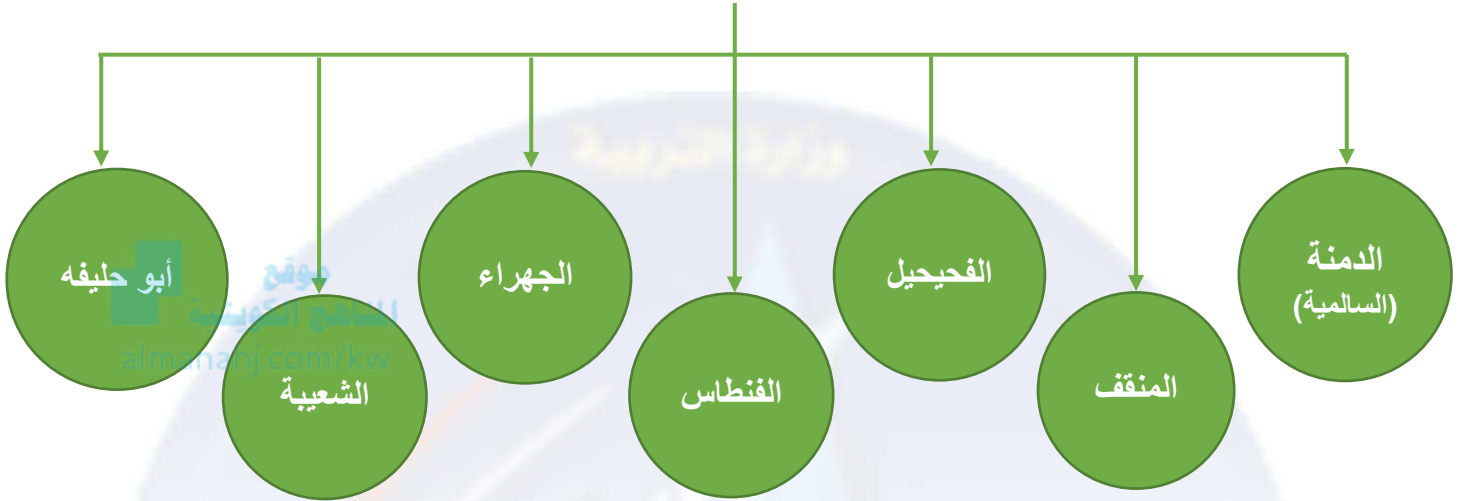
دليل تاريخ دولة الكويت للسف العاشر- الفصل الدراسي الأول



وزارة التربية
الإدارة العامة لمنطقة الأحمدى التعليمية
مدرسة أنيسة بنت خبيب الأنصارىة
(المرحلة الثانوية)

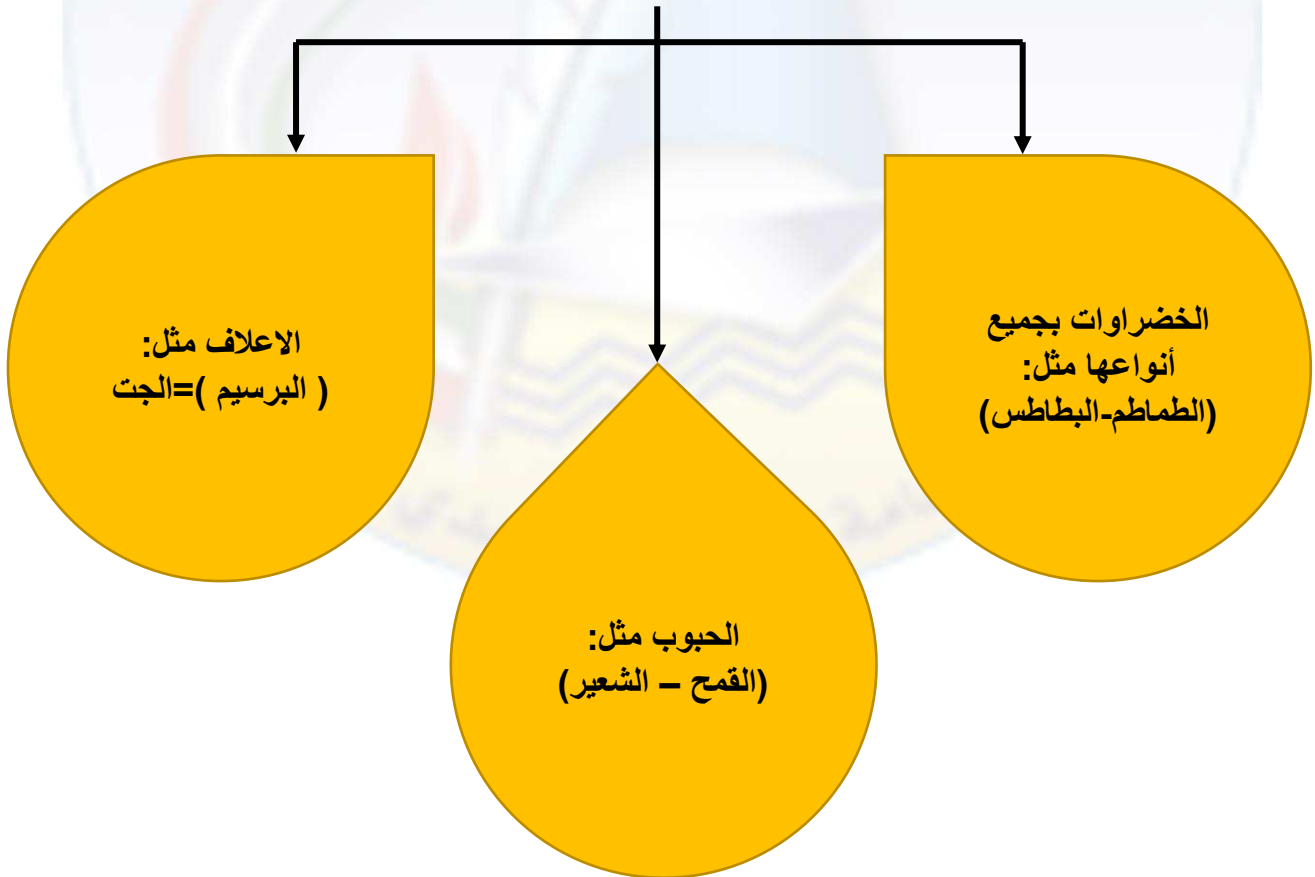
ص ٥٢

(و) أهم المناطق الزراعية فى الكويت قديما:



ص ٥٢

(ز) أهم المحاصيل التى كانت تزرع فى الكويت قديما:





دليل تاريخ دولة الكويت للفصل العاشر- الفصل الدراسي الأول

ص ٣٤

السؤال السابع (أ) قارن بين أنواع الرياح في دولة الكويت حسب الجدول التالي:

الرياح	المميزات وآثارها المناخية
الشمالية الغربية	-تهب معظم أيام السنة رياح جافة بفعل المرتفع السيبيري المتمركز شمال القارة الآسيوية ولها أثر واضح في خفض درجة الحرارة خاصة في فصل الصيف لكنه يصبح قارس البرودة في فصل الشتاء.
الجنوبية الشرقية (الكوس)	-رياح رطبة دافئة تهب من الجنوب الشرقي وتتأثر في المنخفض السوداني وتتسبب في رفع درجة الحرارة وتزيد من نسبة الرطوبة في فصل الصيف تسهم باعتدال الجو في فصل الشتاء وتحمل معها المطر.
السموم	-رياح جافة جدا تهب في الظهيرة وتنخفض معها الرطوبة النسبية وهذه الرياح ذات درجات حرارة عالية تهب من الشمال او الشمال الشرقي في فصل الصيف مما يرفع درجات الحرارة إلى مستوى عالي جدا وإذا كانت نشطة تثير الاتربة والرمال.
العواصف الترابية (السرايات)	-عواصف ترابية تهب في أواخر الربيع واول فصل الصيف فتثير الغبار وتكون مصحوبة عادة بعواصف رعدية يسقط بسببها المطر الشديد وتسمى السرايات.

السؤال الثامن: فرق بين كل مما يلي:

ص ٣٢

(أ) المميزات المناخية لدولة الكويت في الفصول الأربعة:

فصل الصيف	فصل الشتاء	فصل الربيع	فصل الخريف
-فصل طويل حار وجاف -تهب رياح مثيرة للغبار -ترتفع نسبة الرطوبة. -تصل درجة الحرارة إلى ٥٠ درجة.	-دافئ قصير -ممطر أحيانا -تصل درجة الحرارة على ١٨ درجة مئوية وقد تنخفض للصفر.	- قصير معتدل.	-ترتفع فيه نسبة الرطوبة. -تقل فيه درجة الحرارة نسبيا عن الصيف.

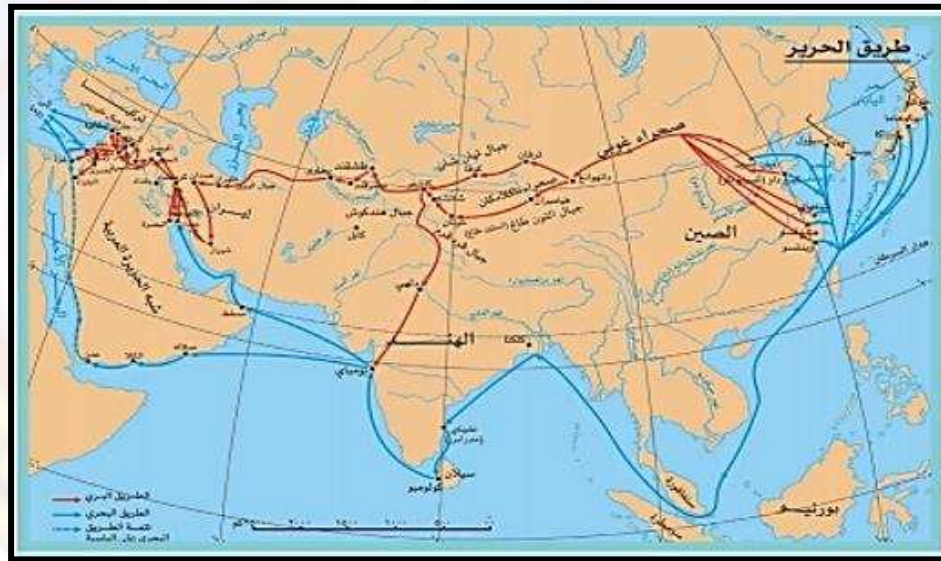




دليل تاريخ دولة الكويت للفصل العاشر- الفصل الدراسي الأول

(ب) المهنة التي اشتهر بها العاملون على سفن الغوص ص ٤٧

المهنة	وظائفه
النوخذه	-قائد السفينة وربانها والمسؤول عنها وعن طاقمها والمسؤول عن تحديد أماكن الغوص والبحث عن مزارع اللؤلؤ.
المجدمي	-هو لقب كان يطلق على رئيس البحارة والمسؤول عن إدارة السفينة من الداخل.
الغيص	-الشخص الذي يغوص في قاع البحر بحثاً عن المحار.
السيب	-الشخص المنوط به سحب الغيص للسطح عند شد الأخير الحبل بالإضافة إلى مهمة مساعدة الغيص في فتح المحار.
النهام	-الشخص الذي ينشد المواويل تشجيعاً لطاقم السفينة في رحلتهم.
الرضيف	-صغار السن الذين يقومون ببعض الأعمال الأقل من السيب.
الطواش	-هو تاجر اللؤلؤ.



ص ٤١

(ج) مسارات طريق الحرير:

طريق الحرير البري	طريق الحرير البحري
شمالي يبدأ من الصين وينتهي بأوروبا.	غربي يبدأ من أحد الموانئ الصينية (كانتون) ويعبر بحار الصين ثم يلتف حول سواحل شبه القارة الهندية ليدخل البحار المحيطة بشبه الجزيرة العربية ويتفرع إلى فرعين.



دليل تاريخ دولة الكويت للفصل العاشر- الفصل الدراسي الأول



وزارة التربية
الإدارة العامة لمنطقة الأحمدية التعليمية
مدرسة أنيسة بنت خبيب الأنصارية
(المرحلة الثانوية)

السؤال التاسع: دلل على صحة العبارات التالية:



ص ٤٥

- ١- اعتزاز دولة الكويت بتراثها البحري.
- اتخذت صورة اليوم لتكون شعارا للدولة.
وكذلك العملة الوطنية.
- غالبا ما تزين المؤسسات بصور ومشاهد تعبر
عن عمق ارتباط الكويت وشعبها بتراثها البحري.

السؤال العاشر: أكتب فيما درست:



ص ٢٨

- ١- تعد جزيرة فيلكا من أهم الجزر الكويتية من حيث التاريخ.
- بسبب ما تحتويه من إشارات ودلائل أثرية ومعمارية قديمة.
- تعد جزيرة فيلكا أو (إيكاروس) الجزيرة الثانية من حيث المساحة.
- تحتوي جزيرة فيلكا على بقايا وشواهد تاريخية وأثرية متعددة.
- ذكرها الرحالة الغربيون والمصادر اليونانية والرومانية القديمة.
- عملت فيها حديثا بعثات استكشافية متعددة للكشف عن آثارها وبيان طبيعة
الحضارات التي ازدهرت فوق أرضها.

ص ٣٩

- ٢- مميزات المجتمع الكويتي قديما وقبل اكتشاف النفط.
- مجتمع بسيط وهادئ.

- تميز بالتلاحم والتكافل والعمل الجماعي.
 - يعي أن مبدأ الشورى والحكم المشترك هو الضمان والأساس لوحده وترايطه.
 - تقبل الهجرات وأبدى إيجابية كبيرة في دمجها.
 - اتسم بالمرونة والقدرة على الانفتاح على جميع الثقافات.
 - كان يظهر في كل أزماته قدرة كبيرة على المواجهة والتحدى.
 - استطاع النجاح والحفاظ على وجوده وكيانه متميزا بعيدا عن التعصب والطائفية.
- ٣- للتجارة دور مهم في انفتاح الكويت والكويتيين على الشعوب والثقافات المختلفة.

ص ٣٩

- حيث كانت سفن الكويتيين تصل إلى الهند وسواحل أفريقيا كما كان الغوص والرعي أساسا قام عليه
اقتصاد المجتمع البسيط والذي استطاع هذا الاقتصاد في فترة قليلة نسبيا أن ينمو ويزدهر ويتفوق على
كثير من المناطق المجاورة.

السؤال الحادي عشر: أجب عن السؤال التالي:

ص ٤٧

- ١- أهم الشروط التي يجب أن تتوافر في النوحدة.
أ- القدرة على معرفة المسالك والطرق والإمام بالاتجاهات البحرية.
ب- عليه اتخاذ جميع القرارات.
ج- هو صاحب الحق في إعطاء إذن للبحارة بمغادرة السفينة وضمان سلامة طاقمها.





دليل تاريخ دولة الكويت للمصف العاشر- الفصل الدراسي الأول

الفصل الثاني: نشأة الكويت ١٦١٣م

السؤال الأول:

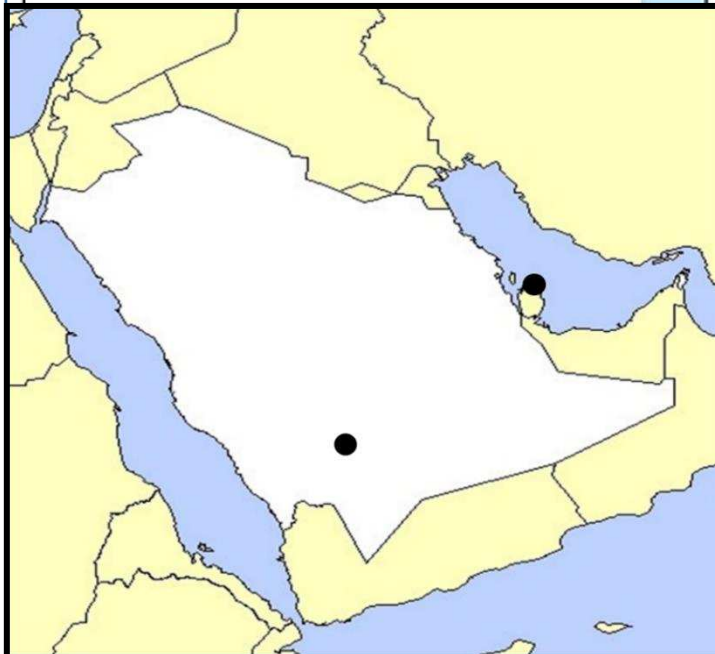
(أ) لاحظ الخريطة التي أمامك ثم أجب عما يلي:

- ١- معركة حدثت في دولة الكويت تسمى الرقعة ص ٧٣
- ٢- وقعت هذه المعركة في عام ١٧٨٣ م. ص ٧٣
- ٣- تعتبر هذه المعركة من اهم الاحداث في عهد الشيخ عبدالله الأول ص ٧٣



(ب) لاحظ الخريطة التي أمامك ثم أجب عما يلي:

- ١- منطقة في نجد تعتبر الموطن الأصلي للعتوب تسمى: الهدار ص ٦٩
- ٢- منطقة شكلت محطة الاستقرار الأولى للعتوب تسمى: قطر ص ٦٩





دليل تاريخ دولة الكويت للسف العاشر- الفصل الدراسي الأول



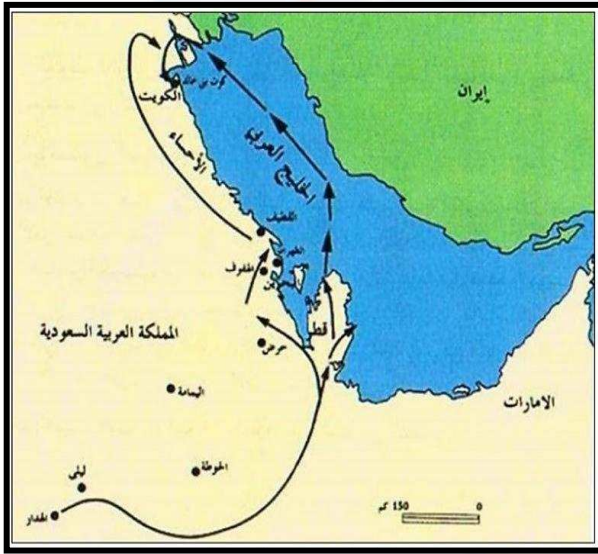
وزارة التربية
الإدارة العامة لمنطقة الأحمدى التعليمية
مدرسة أنيسة بنت خبيب الأنصارىة
(المرحلة الثانوية)

السؤال الثاني: أكمل العبارات التالية:

- ١- تأسست دولة الكويت في عام ١٦١٣م الهدار ص ٦٨
- ٢- بدأت جماعات العتوب في التوافد من موطنها الأصلي بمنطقة تسمى قطر ص ٦٨
- ٣- الدولة التي شكلت محطة الاستقرار الأول للعتوب تسمى الفريجة ص ٦٩
- ٤- استقر العتوب أولاً في منطقة بالقرب من الزيارة في قطر تسمى الشيخ جابر الأول بن عبدالله ص ٧٢
- ٥- القبيلة التي امتد نفوذها من قطر جنوباً حتى البصرة شمالاً بمحاذاة ساحل الخليج العربي تسمى بنى خالد ص ٧٣
- ٦- وقعت معركة الرقة بين الكويت وبنى كعب في عام ١٧٨٣م ص ٧٤
- ٧- تم بناء سور الكويت الأول في عام ١٧٩٧م ص ٧٤
- ٨- حاكم دولة الكويت الذي لقب بجابر العيش يسمى الشيخ جابر الأول بن عبدالله ص ٧٦
- ٩- تم بناء السور الثاني لدولة الكويت في عام ١٨١٤م ص ٧٦
- ١٠- المعتمد البريطاني في الخليج العربي والذي زار الكويت في عام ١٨٦٥م يسمى لويس بيلي ص ٧٧

السؤال الثالث: علل لما يلي:

- ١- شكلت قطر محطة الاستقرار الأولى بالنسبة للعتوب . ص ٦٩
بسبب القحط الذي أصاب مناطقهم الأصلية والصراعات القبلية.
- ٢- بناء سور الكويت الأول عام ١٧٩٧م . ص ٧٤
لحماية المدينة من الأخطار الخارجية .





دليل تاريخ دولة الكويت للسف العاشر- الفصل الدراسي الأول



وزارة التربية
الإدارة العامة لمنطقة الأحمدى التعليمية
مدرسة أنيسة بنت خبيب الأنصارية
(المرحلة الثانوية)

السؤال الرابع: نفذ المطلوب فيما بين القوسين:

ص ٧٠

(الأسباب)

١- اختيار الشيخ صباح الأول لحكم الكويت.

أ- لسماته الشخصية من شجاعة وحكمة.

ب- كان لوالده الزعامة على قومه منذ ان كانوا بنجد.

ج- كان يقيم في الكويت طوال أيام العام وكان عمله في الصحراء خلافا للبقية الذين كانوا يعملون في البحر.

٢- حرص حكام الكويت على اتخاذ قرارات ذات أبعاد اقتصادية ساعدت على النمو التجاري والاقتصادي للكويت.

ص ٨٠

(أذكر القرارات)

أ- قلة الضرائب على البضائع القادمة للكويت.

ب- تشجيع بناء سفن الغوص وتأمين طرق التجارة المارة عبر أراضيها حيث أصبحت الكويت سوقا رائجا لسكان البادية ووسط نجد.

ج- اجتذاب الوكالات التجارية التابعة للشركات الأوروبية العاملة في الخليج العربي.

د- لعب التجار الكويتيون دور الوسطاء التجاريين مما ساعد على بناء علاقات تجارية بين الكويت ومناطق دول الجوار.

ص ٨١

(العوامل)

٣- نمو وازدهار الكويت تحت حكم آل صباح.

أ- موقع الكويت الاستراتيجي على الجزء الغربي للخليج العربي.

ب- طبيعة نظام الحكم المعتمد على العدل والشورى والأمن.

ج- وجود علاقات متوازنة مع القوى المجاورة.

د- التسهيلات التي كانت تمنح لتجار البادية.

هـ- النظام الاقتصادي الدقيق وتوزيع المهام ما بين الغوص ونقل التمور وتجارة البادية والأمانة التي كان يتحلى بها التجار والعاملون معهم.

و- الصفات التي تميز بها أهل الكويت من التسامح والانفتاح على الآخرين.

السؤال الخامس: عرف المفاهيم التالية:

ص ٦٩

١- العتوب: أسر ترجع أصولها إلى عدة قبائل أبرزها قبيلة عنزة وموطنهم الأصلي نجد في منطقة الهدار.

ص ٦٧

٢- كويت: هي تصغير لكمة كوت وتعني القلعة أو الحصن.

ص ٦٧

٣- القرين: مفردها القرن وهو اسم شائع في شبه الجزيرة العربية للدلالة على المرتفع أو التل الصغير.

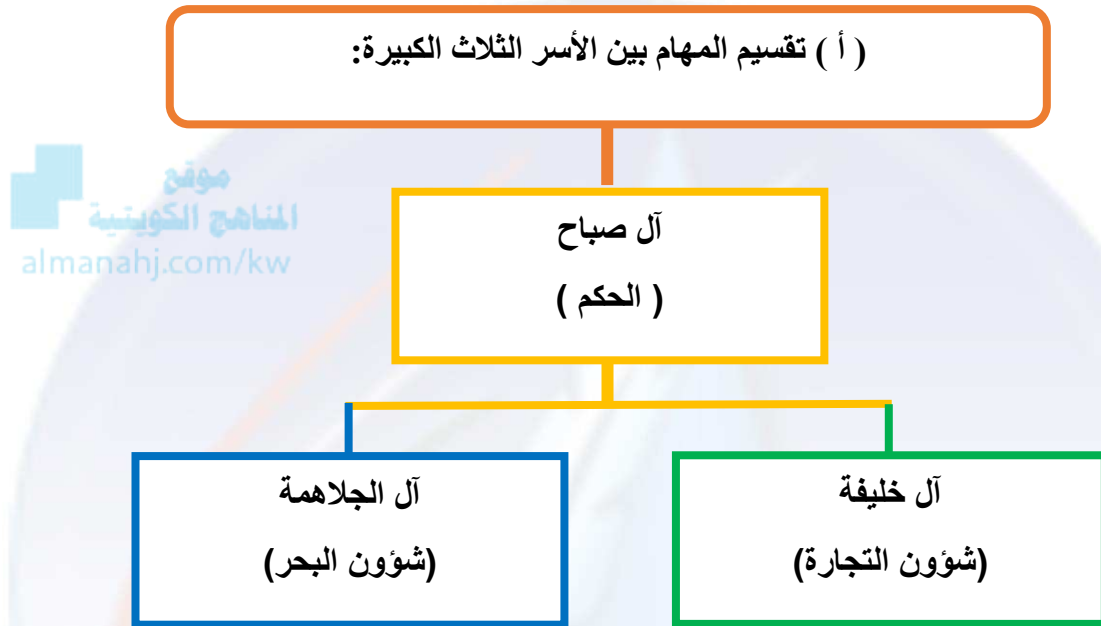




دليل تاريخ دولة الكويت للصف العاشر- الفصل الدراسي الأول

ص ٧١

السؤال السادس: أكمل المخططات السهمية التالية:



ص ٧١

(ب) مراحل تأسيس الكويت :





دليل تاريخ دولة الكويت للفصل العاشر- الفصل الدراسي الأول



وزارة التربية
الإدارة العامة لمنطقة الأحمدية التعليمية
مدرسة أنيسة بنت خبيب الأنصارية
(المرحلة الثانوية)

ص ٧٣-٧٧

السؤال السابع: قارن بين حكام دولة الكويت حسب الجدول التالي:-

ترتيب الحاكم	اسم الحاكم	تاريخ توليه الحكم	سماته الشخصية	اهم الاحداث في عهده	تاريخ نهاية حكمه
الحاكم الاول	الشيخ صباح الأول بن جابر	١٧٥٢م	العدل	ظهور الكويت ككيان سياسي منظم- توطيد الأمن- نشر العدل- ترسيخ أنشطة الكويت التجارية.	١٧٦٣م
الحاكم الثاني	الشيخ عبدالله الأول بن صباح بن جابر	١٧٦٣م	السيرة الحسنة- النباهاة- الحزم- العدل.	معركة الرقة- بناء سور الكويت الأول	١٨١٤م
الحاكم الثالث	الشيخ جابر الأول بن عبدالله الصباح	١٨١٤م	الحكمة- الهدوء- محب لشعب- اشتهر بجابر العيش.	ازدهار بحري للكويت وتطور صناعة السفن- نقل البضائع المختلفة- بناء السور الثاني ١٨١٤م.	١٨٥٩م
الحاكم الرابع	الشيخ صباح الثاني بن جابر	١٨٥٩م	محب لشعبه- العدل.	تقدمت التجارة بشكل كبير- ألغي الرسوم على البضائع- زيارة المعتمد البريطاني لويس بيلي للكويت.	١٨٦٦م
الحاكم الخامس	الشيخ عبدالله بن صباح الثاني	١٨٦٦م	حسن السيرة -دماثة الاخلاق- محبوبا لدى الجميع.	ساعد العثمانيين في حملتهم على الاحساء (حملة مدحت باشا).	١٨٩٢م
الحاكم السادس	الشيخ محمد بن صباح	١٨٩٢م	النزاهة -الوقار - التواضع.	ترحيبه وتسهيله لاستقرار اسرة الأمير عبدالرحمن آل سعود	١٨٩٦م

ص ٧٢

السؤال الثامن: أكتب فيما درست عما يلي:

١- علاقة الكويت ببني خالد.

كان هناك صراع بين قبيلة بني خالد والعثمانيين من ناحية وصراع بين قبيلة بني خالد والسعوديين من ناحية أخرى كل تلك الصراعات شغلت هذي القوى عن الامارة الوليدة (الكويت) وجعلتها تنمو وتزدهر في جو أكثر استقرارا وهودوا وتمتعت الكويت بالأمن والحماية في ظل بني خالد.





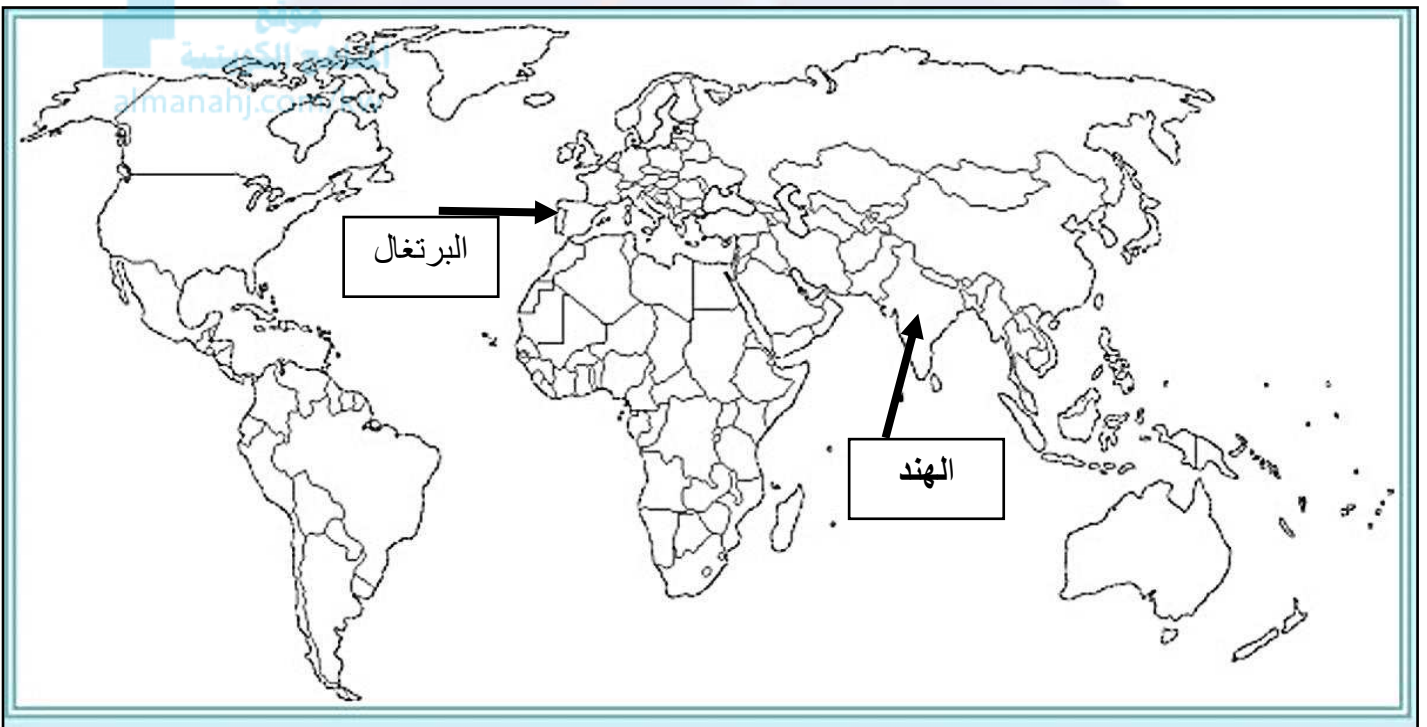
دليل تاريخ دولة الكويت للفصل العاشر- الفصل الدراسي الأول



وزارة التربية
الإدارة العامة لمنطقة الأحمدية التعليمية
مدرسة أنيسة بنت خبيب الأنصارية
(المرحلة الثانوية)

الفصل الثالث: الكويت والتنافس الأوروبي على منطقة الخليج العربي من القرن ١٦م حتى القرن ١٩م

السؤال الأول: لاحظ خريطة العالم القديم وحدد مايلي:



ص ٨٥

(الهند)

١- دولة تعد مركز للتوابل في جنوب شرق آسيا

ص ٨٦

(البرتغال)

٢- أولى الدول الأوروبية في استعمار منطقة الخليج العربي

السؤال الثاني أكمل العبارات التالية:-

ص ٨٦

عمان

١- الدولة الخليجية التي ظهرت فيها قوة اليعاربة تسمى.

ص ٨٧

١٥٩٥م

٢- خرج أول اسطول هولندي إلى آسيا ليبلغ جزر الهند الشرقية في عام.

ص ٨٧

السادس عشر

٣- بدأ الوجود الهولندي في آسيا خصوصا والشرق عموما في أواخر القرن.

ص ٨٨

١٦٠٠م

٤- تأسست شركة الهند الشرقية البريطانية في عام.





دليل تاريخ الكويت للفصل العاشر- الفصل الدراسي الأول

السؤال الثالث: علل لما يلي:

ص ٨٦

١- أهمية اليعاربة في منطقة الخليج العربي في أواخر القرن السادس عشر.
-ساهمت في تصفية الوجود البرتغالي في الخليج وطردهم من المنطقة.

ص ٨٧

٢- انهيار النفوذ الهولندي في منطقة الخليج العربي.

-بسبب التنافس البريطاني الهولندي الذي قضى على آمالهم في النهاية وأخرجهم من المنطقة.

٣- اهتمام بريطانيا بمنطقة الخليج العربي.

-لأنه طريق حيوي لحماية إمبراطوريتهم في الهند والقشرة الواقعة التي تحمي مصالحهم.

ص ٨٨

موقع
المنهج الكويتي
almanahj.com/kw

السؤال الرابع: أكتب فيما درست عما يلي:-

ص ٩٠

- ١- الأسس التي حددها الفرمان العثماني حول علاقة الكويت بالدولة العثمانية.
أ- شيخ الكويت مستقل بشؤونه الداخلية.
ب- منح شيخ الكويت لقب قائم مقام.
ج- أهالي الكويت لا يلتزمون بدفع ضرائب او رسوم للباب العالي.
د- إلزام السفن الكويتية برفع العلم العثماني مع إعفائها من دفع الرسوم.

السؤال الخامس: دلل على صحة العبارات التالية:

ص ٨٦

١- يعتبر الاستعمار البرتغالي من أسوأ النظم الاستعمارية في الخليج العربي.
لممارسة البرتغاليون سيطرتهم القسوى على الخليج العربي والتي لم تكن هادئة

ص ٨٩

٢- أهمية الكويت بالنسبة لبريطانيا في نهاية القرن الثامن عشر.

- أ- أسس البريطانيون مراكز تجارية لهم في الكويت.
ب- أسس البريطانيون مركز للبريد البري المتجه من الهند إلى لندن.
ج- نقل مركز البريد والتجارة من البصرة إلى الكويت.

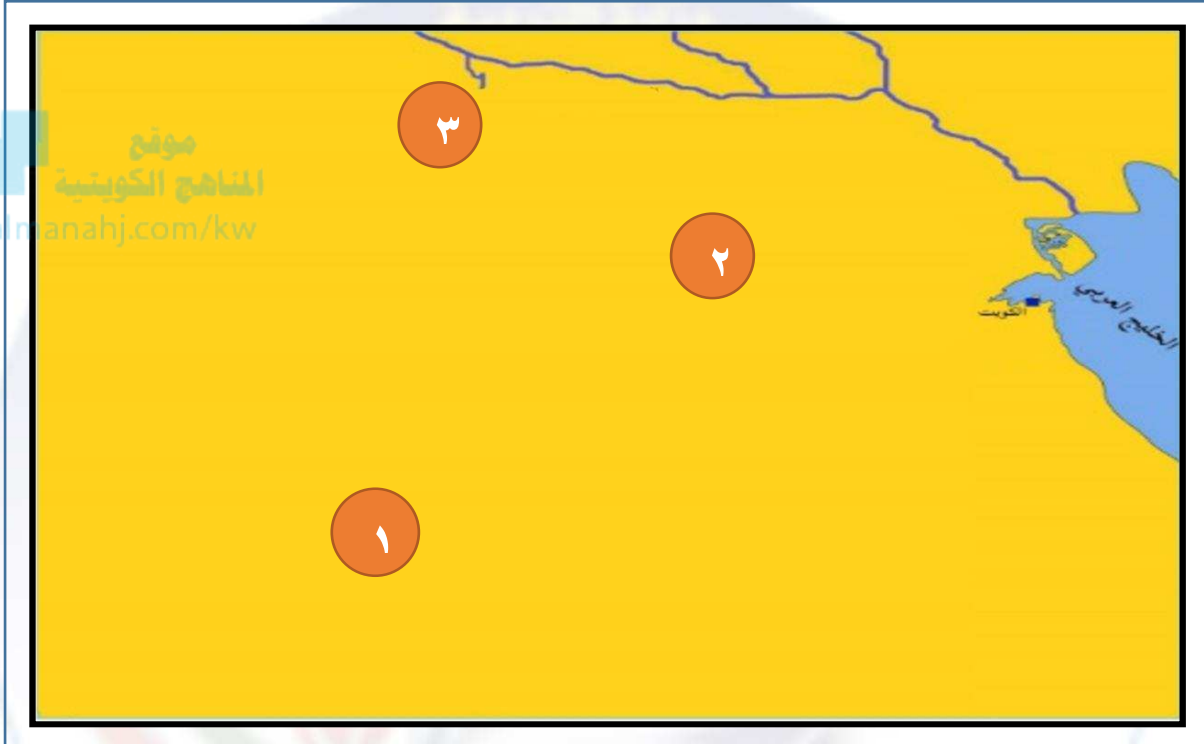




دليل تاريخ دولة الكويت للفصل العاشر- الفصل الدراسي الأول

الفصل الرابع: الحاكم السابع الشيخ مبارك الكبير

السؤال الأول: لاحظ الخريطة التي أمامك ثم اجب عما يلي:



- ١- معركة قادها الشيخ مبارك الصباح في عام ١٩١٠م يمثلها على الخريطة الرقم. (٢) ص ١٠٦
٢- معركة قادها الشيخ مبارك الصباح عام ١٩٠١م يمثلها على الخريطة الرقم. (١) ص ١٠٦

السؤال الثاني: أكمل العبارات التالية:

- ١- العام الذي تولى فيه الشيخ مبارك الكبير الحكم هو. ١٨٩٦م. ص ٩٥
٢- أنشئت المدرسة المباركية في عام. ١٩١١م. ص ٩٦
٣- تأسس المستشفى الأمريكي في عام. ١٩١١م. ص ٩٦
٤- استقبل الشيخ مبارك البعثة الألمانية في عام ١٩٠٠م في منطقة تسمى. الجهراء ص ٩٩
٥- عقد الشيخ مبارك الصباح اتفاقية الحماية مع بريطانيا في عام. ١٨٩٩م. ص ١٠١
٦- بدأت الدولة السعودية الثالثة أولى خطواتها في عام. ١٩٠٢م. ص ١٠٥
٧- المعركة التي قادها الشيخ مبارك الصباح في عام ١٩٠١م تسمى. الصريف ص ١٠٦
٨- قاد الشيخ مبارك الصباح معركة هدية في عام. ١٩١٠م. ص ١٠٦
٩- توفي الشيخ مبارك الصباح في عام. ١٩١٥م. ص ١٠٧





دليل تاريخ دولة الكويت للسف العاشر- الفصل الدراسي الأول

السؤال الثالث: علل لما يلي:

ص ٩٥

١- تعتبر فترة حكم الشيخ مبارك الصباح فترة حاسمة في تاريخ الإمارة.

-كان الشيخ مبارك حاكما مطلقا.

-كان يواجه واقعا دوليا يموج بالتغيرات والخلافات والمطامع والتهديدات التي هددت إمارته ووجودها.

ص ٩٨

٢- رفض الشيخ مبارك الصباح كافة المشاريع الروسية في الإمارة.

-لإدراك الشيخ مبارك بأن الكفة تميل للجانب البريطاني.

ص ٩٨

٣- عدم نجاح المشاريع الروسية في الكويت.

-لأنها كانت ستارا لأهداف سياسية غير معلنة وتعامل مع الشيخ مبارك الصباح بكل حذر من خلال رفضها.

السؤال الرابع: نفذ المطلوب فيما بين القوسين مما يلي:-

ص ١٠٢

(أهميتها بالنسبة للكويت)

١- اتفاقية الحماية عام ١٨٩٩ م .

-استمرت الكويت محافظة على كيانها السياسي في ظل هذه المعاهدة.

- أنها حفظت للكويت حدودها من الأطماع في تلك الفترة.

(أبرز أعماله في مجال حفظ

الامن وتشجيع التجارة)

ص ٩٦

٢- تطور الأوضاع الداخلية والخارجية في الكويت في عهد الشيخ مبارك الصباح.

-إخراج قوات عسكرية لتأمين طرق القوافل التجارية وضمان سلامة الطرق.

-مراقبة الأسواق والنظر في مشاكل الأهالي.

-معاقبة الخارجين عن النظم المتبعة.

-تشجيع تصنيع السفن الكبيرة لنقل البضائع بين الكويت والموانئ المختلفة.

-التوسط لحل المشكلات التي تنشأ بين التجار.






دليل تاريخ دولة الكويت للفصل العاشر- الفصل الدراسي الأول



وزارة التربية
الإدارة العامة لمنطقة الأحمدية التعليمية
مدرسة أنيسة بنت خبيب الأنصارية
(المرحلة الثانوية)



السؤال الخامس: دلي على صحة العبارات التالية:

ص ٩٦

- ١- اهتمام الشيخ مبارك الصباح في مجال الصحة والتعليم في دولة الكويت .
- قام بإنشاء المدرسة المباركية في عام ١٩١١م وتعتبر أول المدارس النظامية الأهلية.
- وافق على تأسيس أول مستشفى في عام ١٩١١م والذي أطلق عليه اسم المستشفى الامريكاني.

ص ١٠٥

- ٢- تأييد الشيخ مبارك الصباح للأمير عبدالعزيز آل سعود .
عندما تجهز الأمير عبدالعزيز آل سعود لمغادرة الكويت قدم له الشيخ مبارك الصباح الأسلحة والمؤن ما يعينه على تحقيق هدفه في استعادة ملك آباه وأجداده بعد استقرار دام تسع سنوات على ارض الكويت.



موقع
المناهج الكويتية
almanahj.com/kw



الفصل الدراسي الثاني



الدليل لا يغني عن الكتاب المدرسي



دليل تاريخ دولة الكويت للفصل العاشر- الفصل الدراسي الثاني

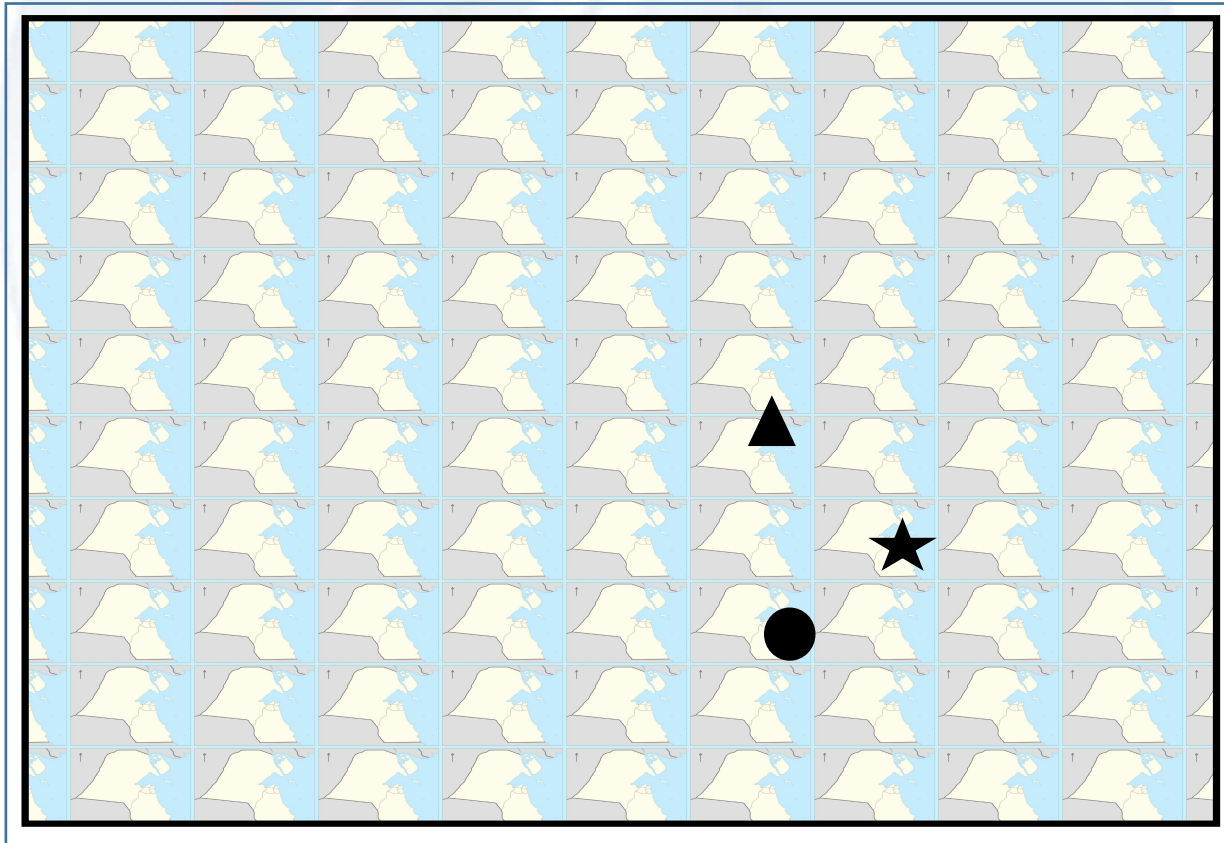


وزارة التربية
الإدارة العامة لمنطقة الأحمدى التعليمية
مدرسة أنيسة بنت خبيب الأنصارية
(المرحلة الثانوية)

الفصل الخامس: الأوضاع الداخلية والخارجية في دولة الكويت (١٩١٥-١٩٥٠م)



السؤال الأول: لاحظ الخريطة التي أمامك ثم اجب عما يلي:



- ١- حقل برقان يمثله على الخريطة الشكل (●) ص ١١٥
٢- ميناء الأحمدى يمثله على الخريطة الشكل (★) ص ١١٥





دليل تاريخ دولة الكويت للفصل العاشر- الفصل الدراسي الثاني

السؤال الثاني: أكمل العبارات التالية:-

- ١- شيخ الكويت الذي قام بإعفاء الكويتيين من ضريبة الثلث على العقارات الشيخ جابر المبارك ص ١١١
- ٢- عقدت بريطانيا مؤتمرا في الكويت بغرض وقوف الدول العربية إلى جانبها ضد الدولة العثمانية في عام ١٩١٦م.
ص ١١١
- ٣- المقيم السياسي البريطاني الذي ترأس المؤتمر البريطاني في الكويت عام ١٩١٦ م يسمى برسي كوكس.
ص ١١١
- ٤- وقعت معركة حمض في عام ١٩٢٠م في عهد الشيخ سالم بن مبارك الصباح.
ص ١١٣
- ٥- عقدت الاتفاقية العثمانية الإنجليزية الخاصة بحدود الكويت في عام ١٩١٣م.
ص ١١٣
- ٦- العام الذي وقعت فيه معركة الجهراء. ١٩٢٠م.
ص ١١٣
- ٧- المجلس الذي تشكل من وجهاء أهل الكويت عام ١٩٢١م لإسداء الرأي والنصح والمشاركة بالقرار يسمى مجلس الشورى.
ص ١١٤
- ٨- تم تشييد المدرسة الأحمدية عام ١٩٢١م في عهد الشيخ أحمد الجابر الصباح.
ص ١١٤
- ٩- المجلس الذي مهمته الإشراف على تأسيس المدارس والإنفاق عليها وتوجيهها يسمى مجلس المعارف.
ص ١١٤
- ١٠- تم تصدير أول شحنة نفط من ميناء الأحمدية في عام ١٩٤٦م.
ص ١١٥
- ١١- أكبر حقل نفطي في الكويت يسمى حقل برقان.
ص ١١٥

السؤال الثالث: علل لما يلي:

- ١- كان الشيخ أحمد الجابر الصباح حذرا في التعامل مع بريطانيا .
ص ١١٣
- لأن بريطانيا لم تنصف الكويت في معاهدة العقير عام ١٩٢٢م.
ص ١١٣
- ٢- بناء السور الثالث للكويت في عهد الشيخ سالم بن مبارك الصباح .
ص ١١٣
- لحماية مدينة الكويت من أي هجوم بري بعد هزيمة الكويتيين في معركة حمض.
ص ١١٤
- ٣- أعيد بناء المدرسة الأحمدية كليا عام ١٩٤٨ م .
ص ١١٤
- لمواجهة الزيادة في عدد الطلاب.





دليل تاريخ دولة الكويت للصف العاشر- الفصل الدراسي الثاني

السؤال الرابع: نفذ المطلوب فيما بين القوسين مما يلي:-

١- واجه الشيخ أحمد الجابر الصباح قضايا وملفات مصيرية في السياسة الخارجية للكويت. (أبرز القضايا التي تعامل معها) ص ١١٣

- مشكلة الحدود والمسابغة مع السعوديين .

- معالجة علاقات الكويت مع العراق.

- الحذر في المعاملة مع بريطانيا حيث لم ينصفوا الكويت في معاهدة العقير عام ١٩٢٢م. موقع المناهج الكويتية almanahj.com/kw

٢- الحاكم التاسع الشيخ سالم بن مبارك الصباح (١٩١٧-١٩٢١م) . (أبرز الأحداث في عهده) ص ١١٢

- معركة حمض مايو ١٩٢٠م.
- معركة الجهراء أكتوبر ١٩٢٠م.
- بناء السور الثالث للكويت ١٩٢٠م.

٣- مؤتمر الكويت عام ١٩١٦م . (السبب المعلن) ص ١١١

- وعود بريطانيا باستقلال الدول العربية والوحدة العربية.

السؤال الخامس: اكتب مما درست حول الآتي:-

١- أبرز أعمال الشيخ سالم بن مبارك الصباح . ص ١١٢

- خفض الرسوم الجمركية .
- إلغاء الضرائب على الصادرات.
- تعيين مختارين في الأحياء.





دليل تاريخ دولة الكويت للفصل العاشر- الفصل الدراسي الثاني



وزارة التربية
الإدارة العامة لمنطقة الأحمدية التعليمية
مدرسة أنيسة بنت خبيب الأنصارية
(المرحلة الثانوية)

السؤال السادس: عرف ما يلي:

١- مجلس المعارف: هو مجلس مهمته الإشراف على تأسيس المدارس والإتفاق عليها وتوجيهها . ص ١١٤

السؤال السابع: قارن بين كل من المجالس التي أنشئت في عهد الشيخ أحمد الجابر الصباح من حيث سنة التأسيس والمهام
ص ١١٤

أوجه الاختلاف	مجلس الشورى	المجلس البلدي	المجلس التشريعي
سنة التأسيس	١٩٢١م	١٩٣٠م	١٩٣٨م
المهام	-إسداء الرأي والنصح والمشاركة بالقرار.	-إدارة أمور التنظيم الداخلي للكويت من أسواق وأمور النظافة العامة.	-إدارة شؤون مدينة الكويت الداخلية بالتعاون مع حاكم الكويت. -إدارة الجمارك والأسواق وحل الصراعات بين التجار. -وضع ميزانية للإمارة.





دليل تاريخ دولة الكويت للفصل العاشر- الفصل الدراسي الثاني



وزارة التربية
الإدارة العامة لمنطقة الأحمدى التعليمية
مدرسة أنيسة بنت خبيب الأنصارية
(المرحلة الثانوية)

الفصل السادس: استقلال الكويت واستكمال أدوات السيادة والتحديث



السؤال الأول: أكمل العبارات التالية بما يناسبها فيما درست:

- ١- جرت أول انتخابات لمجلس الأمة الكويتي في عام .
٢- أسس الصندوق الكويتي للتنمية في عام .
٣- نالت دولة الكويت استقلالها في عام.
٤- استبدلت اتفاقية الحماية عام ١٨٩٩م باتفاقية جديدة سميت باتفاقية.
٥- التحقت دولة الكويت بمنظمة جامعة الدول العربية في عام.
٦- اللقب الذي أطلق على الشيخ عبدالله السالم الصباح.
٧- بلغت عدد مواد الدستور .
٨- أول وزير للخارجية في تاريخ دولة الكويت.
٩- أنشئت جامعة الكويت في عام .
١٠- الأمير الثالث بعد استقلال دولة الكويت .
١١- الشيخ الذي لقب ببطل التعمير والتحرير.
١٢- قام الشيخ صباح الأحمد الصباح برفع علم دولة الكويت كإحدى دول منظمة الأمم المتحدة في عام.
١٣- العام الذي اختير فيه حاكم دولة الكويت الشيخ صباح الأحمد الصباح قائدا للإنسانية. ٢٠١٤م
- ص ١٢١
ص ١٢٢
ص ١١٩
ص ١١٩
ص ١١٩
ص ١١٩
ص ١٢١
ص ١٢٣
ص ١٢٣
ص ١٢٥
ص ١٢٨
ص ١٩٦٣
ص ١٣٢
ص ١٣٣
- ١٩٦٣م
١٩٦١م
١٩٦١م
الصداقة والتشاور
١٩٦١م
أبو الدستور وأبو الإستقلال
١٨٣ مادة
الشيخ صباح السالم الصباح
١٩٦٦م
الشيخ جابر الأحمد الصباح
الشيخ سعد العبدالله السالم الصباح
٢٠١٤م

السؤال الثاني: عرف ما يلي:

ص ١٢٠

١- الدستور: وثيقة لتنظيم العلاقة بين الحاكم والمحكوم .





دليل تاريخ دولة الكويت للصف العاشر- الفصل الدراسي الثاني

السؤال الثالث: علل لما يلي:

ص ١١٩

١- تأخر انضمام دولة الكويت إلى منظمة هيئة الأمم المتحدة إلى عام ١٩٦٣ م .

-بسبب موقف الاتحاد السوفيتي سابقا الداعم لمطالب حاكم العراق آنذاك رئيس الوزراء العراقي عبدالكريم قاسم.

ص ١٢٠

٢- تشكل الدساتير أهمية كبرى في حياة الأوطان .

-بسبب طبيعة المهام التي ينظمها الدستور حيث تحدد المفاصل المهمة في الدولة.

-لأن الدستور يحدد صلاحيات السلطات الثلاث.

ص ١٢٠

٣- لقب الشيخ عبدالله السالم بلقب (أبو الدستور) .

-لأنه دعا إلى انتخاب مجلس تأسيسي لوضع دستور للكويت عام ١٩٦٢م وتمت الموافقة عليه بدون أن يطلب أية تغييرات عليه.

ص ١٢٢

٤- أهمية تأسيس الصندوق الكويتي للتنمية ١٩٦١ م .

-المساهمة في تحقيق الجهود الإنمائية والاقتصادية للدول العربية والدول الأخرى النامية.

-يعد أداة لمد جسر الصداقة والإخاء بين دولة الكويت والدول العربية النامية.

٥- اختيار دولة الكويت مركزا للعمل الإنساني وتسمية صاحب السمو الشيخ صباح الأحمد الصباح قائدا للعمل الإنساني.

-لتتويج وتكريم دولة الكويت وصاحب السمو لما قدمه من جهود متواصلة لخدمة الإنسانية والعمل الإنساني. ص ١٣٣

ص ١٢١

السؤال الرابع: أكمل المخطط السهمي لمواد الدستور:

-المادة الأولى:

أن الكويت دولة عربية ذات سيادة تامة وشعب الكويت جزء من الأمة العربية ولغتها الرسمية هي اللغة العربية

-المادة الثانية:

أن الدين الرسمي للدولة هو الإسلام وأن الشريعة الإسلامية مصدر رئيسي للتشريع

-المادة الثالثة:

إن الكويت إمارة وراثية في ذرية المغفور له الشيخ مبارك الصباح





دليل تاريخ دولة الكويت للصف العاشر- الفصل الدراسي الثاني



السؤال الخامس: نفذ المطلوب فيما بين القوسين ممايلي:-

- ١- دولة الكويت رائدة في مجال المساعدات الإنسانية في عهد الشيخ صباح الأحمد الصباح. (أذكر الدليل)
- سارعت دولة الكويت إلى إغاثة جمهورية بنغلادش التي تعرضت لإعصار سيدر الذي قتل وجرح الآلاف.
- كانت الكويت سابقة في الجهود المقدمة لليابان بعد تسونامي الذي راح ضحيته الكثير من الأبرياء.
- ساهمت في ارسال مساعدات إغاثة إلى الصومال للمساعدة في التخفيف من آثار الجفاف والمجاعة التي تعرضت لها.
- دعمت الكويت تركيا بعد حدوث زلزال (فان).
- قدمت الكويت مساعدات متنوعة إلى دولة الفلبين جراء تضررها من إعصار(هايان).
- تبرعت دولة الكويت لمنظمة الصحة العالمية في إطار جهودها لمحاصرة ومعالجة فيروس (إيبولا).
- انطلقت حملات الإغاثة الإنسانية منذ بداية الأزمة السورية ٢٠١١م حيث ساهمت الجمعيات الكويتية والهيئات الخيرية بإيصال المساعدات.
- إسهام كل من الهلال الأحمر الكويتي والهيئة الخيرية الإسلامية العالمية وغيرها من المؤسسات الإغاثية والخيرية بجهود كبيرة لإغاثة النازحين في دول جوار سوريا.
- استضافة دولة الكويت المؤتمر الدولي للمانحين لدعم الوضع الإنساني في سوريا.
- دعم القضية الفلسطينية.





دليل تاريخ دولة الكويت للفصل العاشر- الفصل الدراسي الثاني



السؤال السادس: فرق بين كل مما يلي:

إنجازات الشيخ جابر الأحمد الصباح ص ١٢٥	إنجازات الشيخ صباح السالم الصباح ص ١٢٣
-إنشاء مؤسسة الكويت للتقدم العلمي. -إنشاء الهيئة العامة لشؤون القصر. -منح المرأة حقوقها السياسية. -إنشاء صندوق احتياطي الأجيال القادمة. -إنشاء صندوق الكويت للتنمية.	المجال الإسكاني: مساكن ذوي الدخل المحدود بإشراف وزارة الأشغال. المجال التعليمي: إنشاء جامعة الكويت ١٩٦٦م. المجال الاقتصادي: تأميم النفط في الخامس من شهر مارس عام ١٩٧٥م. المجال العسكري: استحداث نظام التجنيد الإلزامي.

السؤال السابع: أكتب مما درست حول الآتي:-

ص ١٢٤

١- السياسة الخارجية في عهد الشيخ صباح السالم الصباح .
-حرصت دولة الكويت على دعم العديد من القضايا العربية لاسيما قضية العرب الأولى (فلسطين) حيث شاركت في حرب ١٩٦٧م وحرب ١٩٧٣م لنصرة فلسطين ضد العدوان الصهيوني.

ص ١٢٦

٢- سياسة الشيخ جابر الأحمد الصباح .
-حرص الشيخ جابر الأحمد الصباح على إقامة علاقات الود والتفاهم والمصالح المتبادلة مع أغلب شعوب العالم والتي تجسدت في إنشاء مجلس التعاون الخليجي عام ١٩٨١م كما حرص على تحقيق الوحدة بين اليمن الجنوبي والشمالي.

ص ١٣٠

-حرص على الحد من انتهاء الحرب العراقية الإيرانية التي كانت ما بين (١٩٨٠-١٩٨٨م).
٣- المناصب التي تقلدها الشيخ صباح الأحمد الصباح.
-تم تعيينه عضوا في اللجنة التنفيذية العليا التي عهد إليها تنظيم الدوائر الحكومية ووضع الخطط ومتابعة تنفيذها وهو لم يتجاوز الخامسة والعشرين من عمره.
-تولى منصب رئيس دائرتي المطبوعات والشؤون الاجتماعية.
-تولى منصب رئيس لجنة كتابة تاريخ الكويت ١٩٥٩م.
-تولى منصب وزير الخارجية عام ١٩٦٣م حيث استمر لأكثر من أربعين عاما يشغل هذا المنصب وهو يعد بذلك أقدم وزيرا للخارجية على مستوى العالم العربي فاستحق أن يكون عميدا للدبلوماسيين العرب حيث استطاع خلال تلك السنوات الطويلة التي شغل فيها المنصب ان يوطد علاقات الكويت بغيرها من الدول.
-تولى منصب نائب رئيس مجلس الوزراء ثم منصب رئيس مجلس الوزراء في عام ٢٠٠٣م حيث كان هذا المنصب هو آخر المناصب التي شغلها قبل توليه مقاليد الحكم في ٢٠٠٦م.



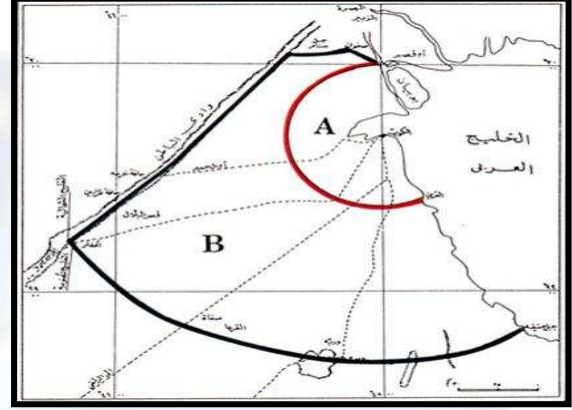


دليل تاريخ دولة الكويت للصف العاشر- الفصل الدراسي الثاني



وزارة التربية
الإدارة العامة لمنطقة الأحمدى التعليمية
مدرسة أنيسة بنت خبيب الأنصارية
(المرحلة الثانوية)

الفصل السابع: العلاقات الكويتية العراقية



السؤال الأول: أكمل العبارات التالية:

- ١- تم اختيار الملك فيصل بن الحسين كأول ملك على مملكة العراق الهاشمية في عام. ١٩٢١م. ص ١٣٨
- ٢- اعترف العراق رسمياً بحدوده مع الكويت في عام. ١٩٣٢ م. ص ١٣٨
- ٣- الإذاعة التي استخدمها الملك غازي بن فيصل لإعلان ادعائه بضم الكويت للعراق عام ١٩٣٨م تسمى قصر الزهور. ص ١٣٨
- ٤- العام الذي انهار فيه الاتحاد الهاشمي وتم فيه إعلان العراق الجمهوري. ١٩٥٨م. ص ١٣٩
- ٥- هاجمت القوات العراقية عام ١٩٧٣م مركز حدودي تابع لدولة الكويت يسمى مركز الصامته. ص ١٤٠
- ٦- المقر المؤقت للحكومة الكويتية خلال الغزو العراقي في مدينة تسمى الطائف. ص ١٤٤
- ٧- العام الذي تم فيه تحرير دولة الكويت من الاحتلال العراقي هو ١٩٩١م. ص ١٤٩
- ٨- أصدر مجلس الأمن الدولي قرار رقم (٨٣٣) بترسيم الحدود بين الكويت والعراق في عام. ١٩٩٣م. ص ١٥١

السؤال الثاني: عرف ما يلي:

- ١- الجوار الجغرافي: المناطق المتقاربة من بعضها بعض ولها خصائص مشتركة حيث يفصل بينهما حدود طبيعية أو سياسية. ص ١٣٧





دليل تاريخ دولة الكويت للفصل العاشر- الفصل الدراسي الثاني

السؤال الثالث: علل لما يلي:

ص ١٣٨

١- مماتلة العراق في ترسيم الحدود مع دولة الكويت على الطبيعة.

-بسبب رغبة العراق في الدخول في عضوية عصبة الأمم المتحدة الأمر الذي يتطلب إبراز حدودها مع جيرانها كدولة مستقلة وهو ما كان يتعارض مع مزاعمه وادعاءاته الباطلة تجاه الكويت.

ص ١٣٩

٢- تفكك الاتحاد الهاشمي بين العراق والأردن .

-بسبب الانقلاب الدموي للضباط الأحرار بقيادة عبدالكريم قاسم عام ١٩٥٨م.

ص ١٤٠

٣-مطالبة رئيس وزراء العراق عبدالكريم قاسم بضم دولة الكويت للعراق عام ١٩٦١م .

-طمع عبدالكريم قاسم في النفط الكويتي حيث كانت الكويت ثالث منتج للنفط في العالم.

-البطالة التي كان يعاني منها الشعب العراقي مع استياء المواطنين العراقيين العارم من السياسات الداخلية للعراق.

-حاجة العراق إلى موانئ بحرية على الخليج العربي.

السؤال الرابع: نفذ المطلوب فيما بين القوسين ممايلي:

١-افتعال النظام العراقي الأزمة السياسية مع دولة الكويت والتصعيد المتعمد في شهر يوليو ١٩٩٠م.

ص ١٤٢

(متطلبات النظام العراقي)

-إلغاء ديون تقدر ب١٢ مليار دولار.

-تعويضها عن البترول الذي تدعي بأنه أخذ من الجزء العراقي من حقل الرميطة الجنوبي بحوالي ٢,٤ بليون دولار.

-تأجير جزيرتي وربة وبوبيان للعراق.

-تقديم مبلغ ضخم غير محدد كنواة لمشروع تنموي كبير للعراق.

ص ١٤٨

(أذكر الدليل)

٢- بدأت الانطلاقة الشعبية لرفض الغزو.

-بدأت اللجان الصحية والاجتماعية واللجان الخاصة بعمليات التنظيف والمساعدة.

-قام الشباب الكويتي بتوفير الرعاية لمن يحتاج إليها.

-قامت المقاومة الكويتية بكتابة الشعارات المعادية والداعية للمقاومة على الجدران والمباني العامة.

-مسح أسماء وأرقام الأحياء والمناطق والشوارع والبيوت لتضليل العراقيين.

-تقديم المساعدة والمساندة للمقاومين وتوفير السلاح لهم وحماية المناطق السكنية.

-بدأت تتشكل لجان مقاومة لرصد أماكن تواجد القوات العراقية.





دليل تاريخ دولة الكويت للفصل العاشر- الفصل الدراسي الثاني



السؤال الخامس: أكتب مما درست حول الآتي:-

- ١-العلاقات الكويتية العراقية قديما .
-بحكم الجوار الجغرافي لم تكن هناك عوائق حدودية تفصل بين الكويت والعراق حيث كانت حركة المرور بينهما سهلة للتنقل والوصول ،كما ارتبطت الكويت والعراق منذ القدم بعلاقات اقتصادية واجتماعية قديمة ،حيث كان الكويتيون يجلبون الماء من شط العرب، إضافة إلى تملكهم أراضي زراعية في العراق هذا إلى جانب علاقات المصاهرة والنسب والروابط الاجتماعية المختلفة.
- ٢-أزمة الصامته عام ١٩٧٣ م .
-هاجمت القوات العراقية مركز الصامته الحدودي التابع لدولة الكويت وتوغلت لمسافة ٣ كيلومترات داخل الأراضي الكويتية واستشهد عدد من العاملين في المركز الكويتيين.
- ٣-موقف المجتمع الدولي من غزو النظام العراقي البائد على دولة الكويت ١٩٩٠ م .
-تحرك المجتمع الدولي سريعا عبر منظمة الأمم المتحدة واستطاع في وقت قصير تكوين تحالف دولي لتحرير الكويت فأصدر مجلس الأمن الدولي قرار ٦٦٠ في نفس يوم الغزو يلزم النظام العراقي البائد بالانسحاب الفوري غير المشروط، كما كان مجلس الأمن في حالة انعقاد دائم طوال فترة الغزو.





دليل تاريخ دولة الكويت للفصل العاشر- الفصل الدراسي الثاني

الفصل الثامن: كويت المستقبل

السؤال الأول: أكمل العبارات التالية :

- 1- خطة التنمية الوطنية منبثقة من تصور حضرة صاحب السمو أمير البلاد الشيخ صباح الأحمد الجابر الصباح لرؤية دولة الكويت بحلول عام ٢٠٣٥م ص ١٥٥
- 2- أكبر مستشفى في الشرق الأوسط حيث يحتل المرتبة السادسة عالمياً من حيث المساحة والطاقة الاستيعابية يسمى مستشفى الشيخ جابر ص ١٦١
- 3- أطول جسر بحري في العالم حيث يبلغ من الطول ٣٧,٥ كيلومتر يسمى جسر الشيخ جابر ص ١٦٥
- 4- أكبر مصفاة في العالم تبنى بمرحلة واحدة وستنتج ٦١٥,٠٠٠ برميل يومياً من الوقود تسمى مصفاة الزور ص ١٦٥
- 1- أول وأكبر مشروع يشيد من قبل القطاع الخاص الكويتي يسمى مدينة صباح الأحمد البحرية ص ١٦٦

السؤال الثاني: عرف مايلي:

- 1- التنمية المستدامة: عملية تطوير الأرض والمدن والمجتمعات والأعمال التجارية لتلبية احتياجات الحاضر دون المساس بقدرة الأجيال القادمة على تلبية حاجاتها. ص ١٥٥
- 2- البيروقراطية: تطبيق القوانين بالقوة في المجتمعات المنظمة حيث تعتمد على الإجراءات الموحدة وتوزيع المسؤوليات بطريقة هرمية. ص ١٥٨
- 3- النفايات الصلبة: مخلفات صلبة وشبه صلبة تنتج من مختلف القطاعات مثل (المواد البلاستيكية والأوراق والزجاج والأخشاب) وهي تعد من أخطر أنواع النفايات على البيئة. ص ١٦٦

السؤال الثالث: علل لما يلي:

- 1- يعتبر مركز الشيخ جابر الأحمد الثقافي مبعثاً للفخر والاعتزاز للكويت دولة وشعباً. ص ١٦٢
- حيث يهدف هذا المركز إلى تسليط الضوء على الفنون المسرحية وإلى خلق عالم مسرحي داخل مساحات خضراء فسحة وجذب الرواد في مختلف الفنون من كل أنحاء العالم.



دليل تاريخ دولة الكويت للفصل العاشر- الفصل الدراسي الثاني

السؤال الرابع: دلي على صحة العبارة التالية:

- ١- حرص دولة الكويت على الارتقاء بالتعليم الجامعي باعتباره محورا أساسيا للتنمية البشرية. ص ١٦٤
- يترجم مشروع مدينة صباح السالم الجامعية (الشدادية) أحد اكبر المشاريع الإنشائية في الشرق الأوسط وأهمها -
- حرص دولة الكويت على الارتقاء بالتعليم الجامعي باعتباره محورا أساسيا للتنمية البشرية. حيث يندرج هذا الصرح التعليمي ضمن خطة المشروعات التنموية التي تتبناها الدولة بهدف تطوير منظومة التعليم في البلاد. ص ١٦٤

٢- ساهم مشروع طريق الجهراء في حل الأزمة المرورية . ص ١٦٨

- يشكل المشروع أحد الحلول المهمة للازدحام المروري حيث يساهم بشكل كبير في الفصل بين حركة المرور العابرة وحركة المرور المحلية ورفع القدرة الاستيعابية لطريق الجهراء مما سيؤدي إلى التقليل من الازدحام المروري وخفض نسبة الحوادث المرورية كما يساهم برفع مستوى الخدمات لمستخدمي الطريق.

السؤال الخامس: نفذ المطلوب فيما بين القوسين ممايلي:-

- ١- حرص صاحب السمو الشيخ صباح الأحمد على توفير بيئة معيشية مستدامة في دولة الكويت. ص ١٦٠ (أهم المشاريع في هذا المجال)
- مشروع جنوب المطلاع.
- معالجة النفايات البلدية الصلبة-موقع كبد.
- مراقبة الملوثات المنبعثة من المصادر (الثابتة والمتحركة) وتطوير برنامج المراقبة وتحسين جودة الهواء.





دليل تاريخ دولة الكويت للفصل العاشر - الفصل الدراسي الثاني

السؤال السادس: أذكر نماذج لبعض المشاريع من الخطة التنموية لمستقبل دولة الكويت الجديدة .

ص ١٦١ - ١٦٩

المشروع	نبذة عن المشروع
مشروع مستشفى الشيخ جابر	- صرح من صروح الكويت صنف كأكبر مستشفى في الشرق الأوسط ويحتل المرتبة السادسة عالميا من حيث المساحة والطاقة الاستيعابية وتبلغ مساحته الإجمالية حوالي ٧٢٠,٠٠٠ متر مربع،
مشروع مركز الشيخ جابر الأحمد الثقافي (دار الأوبرا)	- معلم ثقافي بارز وتحفة معمارية وصرح تنويري فريد من نوعه يقع في قلب مدينة الكويت يهدف إلى تسليط الضوء على الفنون المسرحية وخلق عالم مسرحي وجذب الرواد في مختلف الفنون من كل انحاء العالم
مشروع المطار الجديد	-مشروع لتطوير مطار الكويت الدولي وتوسيعه وتطوير البنية التحتية من مدرجات وممرات وساحات وقوف للطائرات لاستقبال جميع أنواع الطائرات بما فيها الجيل الجديد من الطائرات إلى جانب إنشاء مدرج ثالث بمواصفات عالمية متطورة لاستقبال جميع أنواع الطائرات
مشروع مبادرة الوقود البيني لمؤسسة البترول الكويتية	-مشروع استراتيجي تنموي يهدف إلى تحريك العجلة الاقتصادية في دولة الكويت من خلال توسيع وتطوير مصفاتي ميناء عبدالله وميناء الأحمدى ليكون مجمعا تكريريا متكاملًا بطاقة إجمالية تبلغ ٨٠٠ ألف برميل يوميا.
مشروع مدينة جنوب المطلاع	-أكبر مشروع إسكاني في تاريخ الكويت وأضخم المشاريع الإسكانية المتكاملة للخدمات بطاقة استيعابية تصل إلى ٤٠٠,٠٠٠ نسمة ويضم ١١٦ مدرسة و١٢ مركز صحي.
مشروع مبنى الجامعة الجديد	-أحد أكبر المشاريع الإنشائية في الشرق الأوسط وأهمها حرص دولة الكويت على الارتقاء بالتعليم الجامعي باعتباره محورا أساسيا للتنمية البشرية.
مشروع مصفاة الزور	-أكبر مصفاة في العالم تبنى بمرحلة واحدة وستنتج ٦١٥,٠٠٠ برميل يوميا من الوقود الذي يحتوي على معدل منخفض من الكبريت.
مشروع جسر الشيخ جابر	-أحد اهم المشاريع العملاقة المدرجة ضمن الخطة التنموية للدولة وهو أطول جسر بحري في العالم حيث يبلغ من الطول ٣٧,٥ متر في جون الكويت ويهدف إلى اختصار المسافة بين مدينة الكويت ومدينة الصبية الجديدة.
مشروع معالجة النفايات الصلبة	-يهدف موقع منطقة كبد إلى استغلال أحدث التقنيات في معالجة النفايات الصلبة وحماية البيئة والموارد البرية.
مدينة صباح الأحمد البحرية	-أول وأكبر مشروع يشيد بالكامل من قبل القطاع الخاص الكويتي حيث تقع المدينة في منطقة الخيران وتعد عملا حضاريا متميزا على مستوى العالم.
مشروع ميناء مبارك الكبير	-يعد من أهم مشاريع خطة التنمية التي تقوم بها دولة الكويت ويهدف إلى إنشاء ميناء بحري رئيسي سعة ٦٠ مرسى يكون محورا رئيسيا للنقل يربط الأرض بالبحر بوسائط نقل متعددة.
مشروع طريق الجهراء	-مشروع متكامل يربط بين شرق دولة الكويت (مدينة الكويت) بغربه (مدينة الجهراء) بعد أحد أكبر الطرق متعددة الأدوار في العالم ويساهم في حل الازمة المرورية.
مشروع شبكة السكك الحديدية	-يتكون من شبكة متكاملة تربط بين مدينة الكويت ومطار الكويت الدولي والموانئ البحرية وكذلك بين دول مجلس التعاون الخليجي ويخدم الركاب وعمليات الشحن ويعتبر الحل لتخفيف ازمة الاختناقات المرورية.



وزارة التربية
الإدارة العامة لمنطقة الأحمدى التعليمية
مدرسة أنيسة بنت خبيب الأنصارية
(المرحلة الثانوية)

دليل تاريخ دولة الكويت للفصل العاشر- الفصل الدراسي الثاني

السؤال السابع: عدد ما يلي:

ص ١٧٠

موقع
المناهج الكويتية
almanahj.com/kw

- ١- الأهمية التاريخية للجزر الكويتية .
-محطة أساسية في حركة التجارة من آلاف السنين.
-ارتبطت بأقدم الحضارات التاريخية.
-وجودها وسط أكثر من ١٥٠ مليون نسمة ضمن سوق اقتصادي ضخم جدا.
-موقع جغرافي يتوسط خطوط التجارة بين قارات العالم القديم (آسيا وأوروبا وأفريقيا).



مع تمنياتنا لكم بالتوفيق والنجاح



Onisahighschool@outlok.com



Onysa_school



Onysa_school Secondary