

تم تحميل هذا الملف من موقع المناهج الكويتية



محمد علي

الملف مذكرة عبارة عن تجميع لأسئلة سابقة

[موقع المناهج](#) ← [المناهج الكويتية](#) ← [الصف السادس](#) ← [اجتماعيات](#) ← [الفصل الأول](#)

روابط مواقع التواصل الاجتماعي بحسب الصف السادس



روابط مواد الصف السادس على تلغرام

[الرياضيات](#)

[اللغة الانجليزية](#)

[اللغة العربية](#)

[التربية الاسلامية](#)

المزيد من الملفات بحسب الصف السادس والمادة اجتماعيات في الفصل الأول

نموذج اجابة اختبار لمنطقة مبارك الكبير عام 2016	1
اوراق عمل مهمة في مادة الاجتماعيات	2
بنك اسئلة ممتاز في مادة الاجتماعيات	3
بنك معلومات مهم في مادة الاجتماعيات	4
تلخيص اجتماعيات بشكل مبسط	5

مذكرة اختبارات مستر تاريخ
مادة الاجتماعيات الصف السادس



إعداد أ- محمد علي
مدرس التاريخ والجغرافيا والاجتماعيات
ت / ٥٠٢٤٨٤٨١

وزارة التربية	العام الدراسي : ٢٠١٨ / ٢٠١٩ م
منطقة مبارك الكبير التعليمية	عدد الصفحات ٦
التوجيه الفني للاجتماعيات	الزمن / ساعة و ٤٥ دقيقة

نموذج امتحان الفترة الدراسية الثانية لمقرر الكويت ودول الخليج العربية (الصف السادس)

أجب عن جميع الأسئلة :

السؤال الأول : موضوعي يتكون من (أ ، ب) :

(أ) أكمل العبارات التالية بما يناسبها فيما درست :



٦

١- تم تصدير أول شحنة من النفط الكويتي عام ١٩٤٦ م ص ٩٠

٢- تعد شبه الجزيرة العربية ملتقى الهجرات الخارجية القادمة من آسيا و أفريقيا ص ١٠٧

٣- البعثة التي اكتشفت الأثار الحضارية في منطقة الخليج العربية هي البعثة الدنمركية ص ١٠٥

٤- شهدت دول منطقة الخليج العربية تغيرات كبيرة و سريعة بعد ظهور النفط ص ١٤١

٥- مجموعة من الناس تشترك فيما بينها في الصفات الجسمانية الرئيسية تسمى السلالة ص ١٠٦

٦- ترجع أصول السلالات السكانية في منطقة الخليج العربية الي جنس يسمى البحر المتوسط ص ١٠٥

(ب) اختر الإجابة الصحيحة من بين البدائل التي تلي كل عبارة :

٦

١- ظهرت حضارة أم النار في دولة خليجية تسمى

(قطر ص ١٠٥ - البحرين - الكويت - سلطنة عمان)

٢- بلغ عدد الآبار النفطية الكويتية التي أشعلها النظام العراقي البائد أكثر من بئرا

(٧٢٧ - ٧٣٧ ص ١٣٩ - ٧٤٧ - ٧٥٧)

٣- الصورة المقابلة تمثل أحد أنواع التلوث يسمى



(التلوث المائي - التلوث الهوائي - التلوث الأرضي - التلوث الضوضائي ص ١٣٣)

٤- نجحت السعودية في زراعة و انتاج محصول يسمى

(القمح ص ٩٢ - القطن - الأرز - الذرة)

٥- مقر مكتب التربية العربي في مدينة خليجية أسماها

(الكويت - أبوظبي - المنامة - الرياض ص ١٣٠)

٦- المدينة التي تم فيها الإعلان عن قيام عن قيام السوق الخليجية المشتركة اسمها

(الدوحة ص ١٣٠ - المنامة - أبوظبي - مسقط)

١٢

السؤال الثاني : موضوعي يتكون من (أ ، ب)

أ) صنف الكلمات التالية في الجدول التالي :

(سيارات و طائرات - عواصف ترابية - مبيدات حشرية - الصناعة - براكين - حرق النفايات)

٦

مصادر تلوث الهواء	
طبيعية	غير طبيعية
<u>عواصف ترابية</u> <u>براكين ص ١٣٤</u>	<u>سيارات و طائرات</u> <u>مبيدات حشرية</u> <u>الصناعة</u> <u>حرق النفايات ص ١٣٤</u>

٦

ب) أمامك خريطة شبة الجزيرة العربية الصماء نفذ ما هو مطلوب منك :

- حقل برقان يمثله علي الخريطة الرقم ٣ ص ٩١

- اكبر دولة خليجية من حيث عدد السكان يمثلها علي الخريطة الرقم ١ ص ١١٤

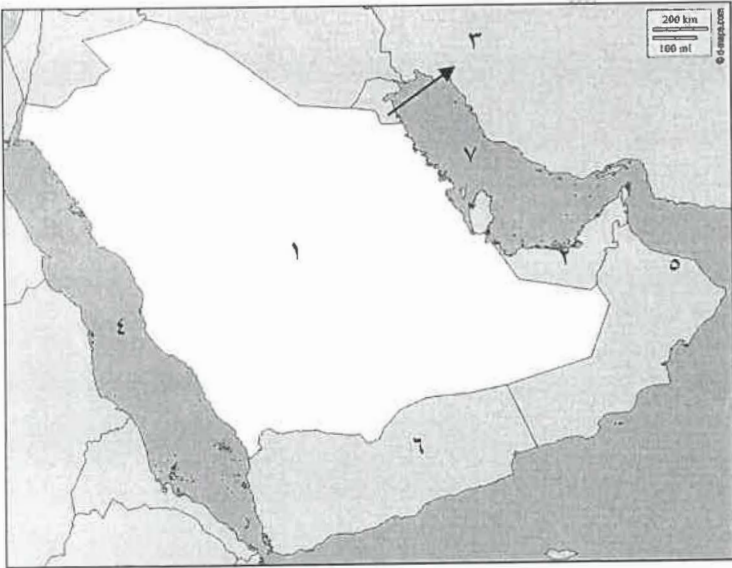
- منطقة سهل الباطنة الزراعية يمثلها علي الخريطة

الرقم ٥ ص ٩٢

- حضارة هيلي يمثلها علي الخريطة الرقم ٢ ص ١٠٥

- البحر الأحمر يمثله علي الخريطة الرقم ٤ ص ٩٢

- الخليج العربي يمثله علي الخريطة الرقم ٧ ص ٩٢





٤

السؤال الثالث : يتكون من (أ ، ب ، ج)

(أ) صحح ما تحته خط و ضعه بين الأقواس :

١- بدأ التنقيب عن النفط في دولة الكويت في حقل يسمى برقان (بحرة ص ٨٧)

٢- أكبر دولة خليجية من حيث الكثافة السكانية تسمى الإمارات (البحرين ص ١١٤)

٣- يجتمع وزراء التربية و التعليم لدول الخليج العربية لوضع السياسات التربوية كل عام (عامين ص ١٣٠)

٤- الدولة التي يوجد فيها مقر قوات درع الجزيرة تسمى الكويت (السعودية ص ١٢٩)

(ب) اكتب المصطلح العلمي المناسب في الفراغات التالية :

١- (طبقة الأوزون ص ١٣٥) درع واق للأحياء ضد خطر الأشعة فوق البنفسجية الضارة .

٢- (ترانزيت ص ٩٩) إعادة تصدير البضائع المستوردة .

٣- (النمو السكاني ص ١١١) : التغيير الذي يحدث لعدد السكان نتيجة الزيادة الطبيعية و غير الطبيعية .

٤- (الثقافة ص ١١٨) مجموعة العادات و التقاليد و القيم في مجتمع من المجتمعات .

(ج) أمامك مجموعة من الصور ضع تحت كل صورة عنوانا مناسباً لها :



بيوت بلاستيكية ص ٩٤



التلوث الهوائي ص ١٣٣



إحراق النظام العراقي البائد أبار النفط في الكويت - تدمير البيئة - تلوث تربة ص ١٣٩



الفرقيعان ص ١١٩



٤

السؤال الرابع : مقالتي يتكون من (أ ، ب) :

(أ) فرق بين كل من مما يلي من حيث التعريف :

التلوث الأرضي	التلوث المائي
<u>دخول مواد غريبة في التربة مما يلحق الضرر في خواصها و مكوناتها ص ١٣٤</u>	<u>هو احداث افساد لنوعية المياه من خلال ادخال مواد ضارة بها من قبل الانسان مما يؤدي الى حدوث خلل في النظام المائي ص ١٣٦</u>

إنتاج النفط	احتياطي النفط
<u>كميات النفط التي يتم استخراجها للاستفادة منها ص ٨٨</u>	<u>كميات النفط المخزونة في باطن الأرض ص ٨٨</u>

٤

(ب) علل لما يأتي اذكر السبب (:

١- استقبلت منطقة الخليج العربية موجات سكانية من كل المناطق المجاورة .

بحكم موقعه الجغرافي المهم بين قارات العالم القديم – الجفاف الصحراوي ص ١٠٨

٢- إقامة العديد من الموانئ النفطية في دول الخليج العربية .

١- نتيجة لتزايد الإنتاج النفطي من الحقول البرية و البحرية ٢- مصدر أساسي للطاقة ص ٩٠

٣- انشاء مجلس التعاون الخليجي قوات درع الجزيرة عام ١٩٨٤ م .

بهدف حماية أو مساندة أي دولة عضو في المجلس تتعرض لعدوان ص ١٢٩

٤- استمرار تزايد عدد السكان في دولة الكويت و دول الخليج العربية .

بسبب الزيادة الطبيعية و الزيادة غير الطبيعية للسكان/الامن والامان/ارتفاع الاجور/السماح للوافدين باصطحاب عائلاتهم/توفر فرص العمل/توفر

الرعاية الصحية/زيادة عدد المواليد ص ١١٠

السؤال الخامس : مقال يتكون من (أ ، ب) :

(أ) اكتب نقطتين فيما يلي :

١- الصناعات القائمة على النفط بدول مجلس التعاون الخليجي .

*- البتروكيماويات

*- الغاز – تكرير النفط ص ٩٦

٢- أسباب التلوث البحري

*- ١- مخلفات النفط ٢- مياه الصرف الصحي غير المعالجة ٣- مياه الصرف الزراعي ٤- النفط و مشتقاته

*- ٥- النفايات الخطرة ٦ – الأمطار الحمضية ص ١٣٦

(ب) أكمل المخططات السهمية التالية :

١- الروابط التي تربط بين أبناء دول الخليج العربية

الدين و اللغة ص ١١٩ –
التاريخ المشترك ص ١٢٠

وحدة الأصل ص ١١٧ –
العادات و التقاليد ص ١١٨

٢- أهم مجالات التعاون بين دول مجلس التعاون الخليجي

التعاون الاقتصادي – التعاون
الثقافي ص ١٢٩

التعاون السياسي – التعاون
العسكري ص ١٢٩



٤

السؤال السادس : مقالتي يتكون من (أ ، ب) :

(أ) اقرأ الفقرة التالية جيدا ثم أجب عن الاسئلة التي تليها :

" يمثل **العنف** في هذا العصر مشكلة واسعة الانتشار في المجتمعات ، و للعنف عند المتعلمين أسباب عديدة منها أسباب أسرية و نفسية و بيئية عامة و يتطلب اصلاح العنف الذي يتعرض له شباننا اليوم و معرفة أسبابه من أجل وضع خطط العلاج المناسبة لها "

١- عرف ما تحته : ذلك السلوك العدوانى الموجه ضد الغير و الذى يتسم بالتخريب سواء كان ذلك السلوك

أقوالا أو أفعالا ص ١٤٤

٢- اذكر اثنين من أسباب العنف عند المتعلمين .

١- أسباب أسرية ٢- أسباب نفسية ٣- أسباب بيئية عامة ص ١٤٩

٣- اقترح حولا لمشكلة العنف :

الاهتمام بالقرآن الكريم و السنة النبوية الشريفة - الاهتمام بالقراءة و المطالعة - القدوة الحسنة من كل المحيطين

بالمتعلمين ص ١٥٠

٤

(ب) لاحظ الرسم البياني التالي ثم أجب عن الأسئلة التالية :

١- أعلى دولة خليجية في نسبة المواطنين

السعودية ٣٦ . ٧٩ % ص ١١٢

٢- أعلى دولة خليجية في نسبة الوافدين

الإمارات ٨٤ . ٦ % ص ١١٢

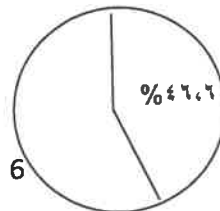
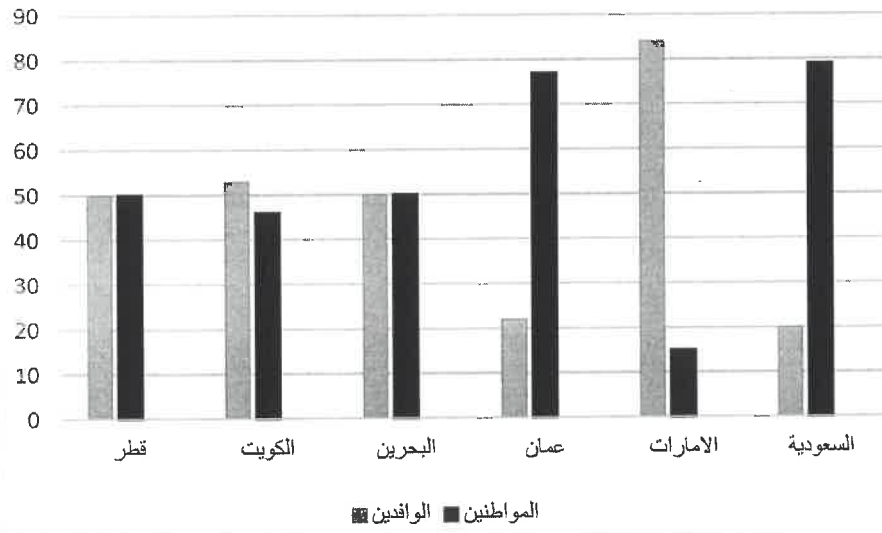
٣- الدولة التي يتساوي فيها نسبة المواطنين

و الوافدين

قطر ٥٠ % - البحرين ٥٠ % ص ١١٢

٤- ارسم في الدائرة البيانية المقابلة نسبة المواطنين

في دولة الكويت ٤٦ . ٦ % ص ١١٢



امتحان نهاية الفترة الدراسية الثانية

وزارة التربية

العام الدراسي : ٢٠١٨ / ٢٠١٩ م

الزمن : ساعة وخمس وأربعون دقيقة

مقرر الكويت ودول الخليج العربية

الإدارة العامة لمنطقة العاصمة التعليمية

عدد الأوراق : (٥) صفحات

لصف السادس المتوسط

التوجيه الفني للاجتماعيات

السؤال الأول (موضوعي) : (أ - ب - ج - د - هـ - و) : (درجة لكل إجابة = ٣٦ درجة)

(أ) اختر الإجابة الصحيحة من بين البدائل التي تلي كل عبارة مما يلي وضع خطأ تحتها :

١- أكبر دولة خليجية عربية من حيث المساحة اسمها : ص ١١٤

أ- السعودية ب- البحرين ج- قطر د- عمان

٢- قام النظام العراقي البائد بغزو دولة الكويت عام : ص ١٣٩

أ- ١٩٨٠ م ب- ١٩٩٠ م ج- ١٩٩٨ م د- ١٩٩٩ م

٣- مجموع الدخول التي تحصل عليها الدولة خلال عام تعرف باسم : ص ٩٥

أ- النمو السكاني ب- السلالة ج- التنقيب د- الدخل القومي

٤- بدأ التنقيب عن النفط في دولة الكويت عام : ص ٨٧

أ- ١٩٣٤ م ب- ١٩٥٠ م ج- ١٩٦٦ م د- ١٩٨٠ م

٥- المدينة الخليجية التي تم فيها الإعلان عن قيام السوق الخليجية المشتركة في يناير ٢٠٠٨ م اسمها : ص ١٣٠

أ- الكويت ب- الدوحة ج- أبوظبي د- الرياض

٦- بلغت عدد آبار النفط التي أحرقها النظام العراقي الغاشم في دولة الكويت أكثر من : ص ١٣٩

أ- ٤٠٠ بئر ب- ٥٦٠ بئر ج- ٦١٢ بئر د- ٧٣٧ بئر

(ب) اختر للمجموعة (أ) ما يناسبها من المجموعة (ب) بوضع الرقم في المكان المناسب : ص ١٠٨

الرقم	المجموعة (أ) الهجرات	الرقم المناسب	المجموعة (ب) مناطق الاستقرار
١-	آل الصباح	(٦)	أبوظبي
٢-	القواسم	(٣)	قطر
٣-	المعاضيد	(١)	الكويت
٤-	آل خليفة	(٥)	عمان
٥-	آل بوسعيد	(٢)	رأس الخيمة
٦-	بني ياس	(-)	السعودية
		(٤)	البحرين

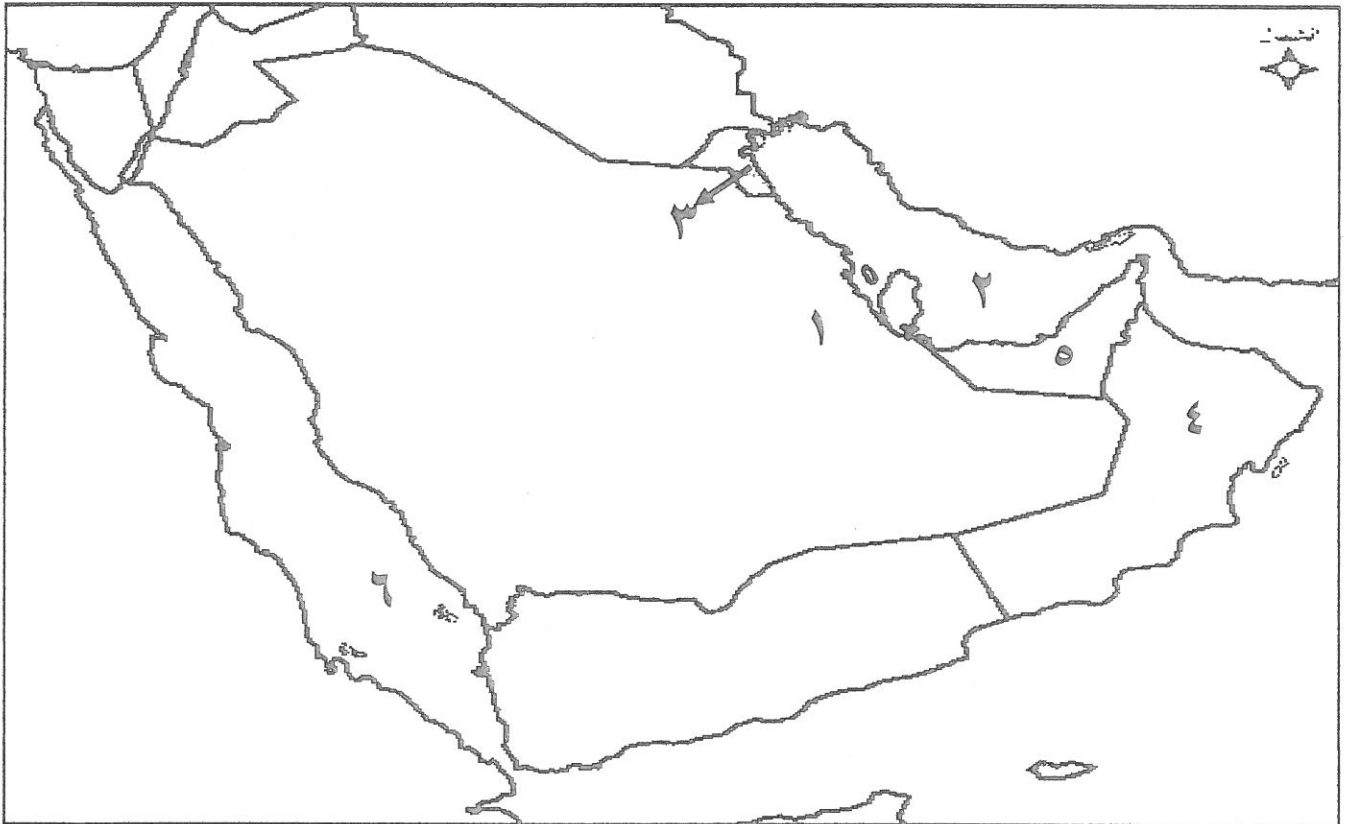


تابع / السؤال الأول ،،،،

(ج) ظلل الحرف (أ) إذا كانت العبارة صحيحة والحرف (ب) إذا كانت العبارة خاطئة لكل مما يلي:

الإجابات		العبارات
أ	ب	١- للمملكة العربية السعودية تجربة رائدة في إنتاج محصول القطن . ص ٩٢
أ	ب	٢- الأسباب النفسية من أسباب مشكلة العنف عند المتطرفين . ص ١٤٩
أ	ب	٣- الزراعة التي تتم في بيئة مائية أو رملية أو حصى أو نشارة الخشب مضاف إليها المحاليل الغذائية تعرف باسم البيوت البلاستيكية . ص ٩٤
أ	ب	٤- التلوث المائي يعد أحد أنواع التلوث . ص ١٣٣
أ	ب	٥-الصناعة من المصادر غير الطبيعية للتلوث الهوائي . ص ١٣٤
أ	ب	٦- تعتبر دلمون من الحضارات القديمة في منطقة الخليج العربي . ص ١٠٥
أ	ب	٧- التلوث الأرضي هو أصوات غير متجانسة تجتاز شدتها المعدل الطبيعي المسموح به للأذن . ص ١٣٤

(د) لاحظ خريطة دول الخليج العربية ثم استعن بالأرقام التي عليها لإكمال العبارات التالية:



- البحر الأحمر يمثله على الخريطة الرقم (٦) . ص ٩٢
- أكبر حقول النفط في المملكة العربية السعودية يمثله على الخريطة الرقم (١) . ص ٩١
- يوجد ميناء الفحل في دولة خليجية يمثله على الخريطة الرقم (٤) . ص ٩٧
- الدولة الخليجية التي تقع فيها حضارة هيلي يمثله على الخريطة الرقم (٥) . ص ١٠٥
- الخليج العربي يمثله على الخريطة الرقم (٢) . ص ٩١
- توجد منطقة الوفرة الزراعية في دولة خليجية يمثله على الخريطة الرقم (٣) . ص ٩٢

تابع / السؤال الأول ،،،

(ه) ضع أرقام العناوين التالية أسفل الشكل المناسب لكل منها :

سهل الباطنة
صور صلالة

..... ٢

الجبيل
الرياض ينبع

..... ٣

بو حصا
مربان العصب

..... ١

١- حقول النفط في دولة الإمارات العربية . ص ٩١

٢- المناطق الزراعية في سلطنة عمان . ص ٩٢


٣- المناطق الصناعية في المملكة العربية السعودية . ص ٩٦

(و) أكمل المخططات السهمية التالية بما يناسبها :

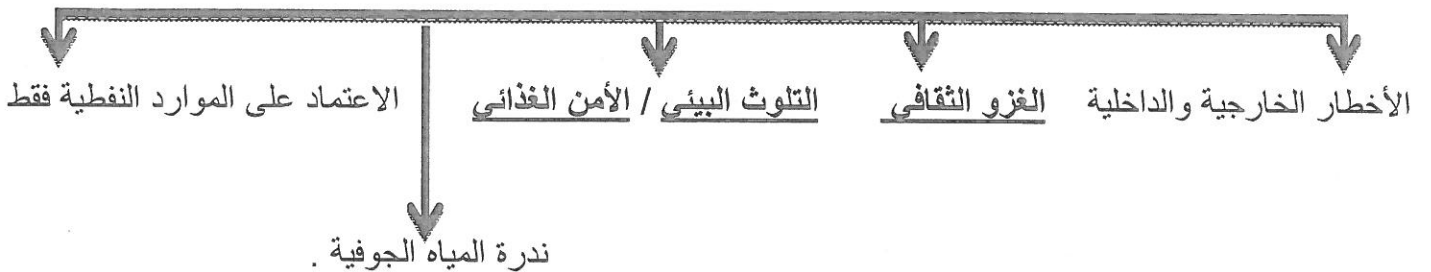
١- أنواع الصناعات القائمة في دول مجلس التعاون الخليجي: ص ٩٧



٢- التشابه الثقافي بين سكان دول الخليج العربية: ص ١١٧ - ١٢٠



٣- التحديات التي تواجهها دول الخليج العربية . ص ١٣٢



السؤال الثاني (مقال) : يتكون من (أ - ب - ج) :

(أ) علل لما يلي : (درجة لكل نقطة = ٦ درجات)

- ١- شهدت منطقة الخليج العربية بعد اكتشاف النفط نمواً سكانياً مضطرباً (فجائياً) . ص ١١٠ - ١١١
 - الأمن والأمان / ارتفاع دخل الفرد - الأجور / السماح للوافدين باصطحاب عائلاتهم
 - توفر الرعاية الصحية / توفر فرص العمل / زيادة عدد المواليد . (يكتفى بنقطتين فقط)
- ٢- ظهرت الحاجة إلى إقامة العديد من الموانئ النفطية في دول الخليج العربية . ص ٩٠ (نقطة واحدة فقط)
 - نتيجة لتزايد الإنتاج النفطي لدول مجلس التعاون من الحقول البرية والبحرية .
 - تزايد الطلب العالمي على النفط كمصدر أساسي للطاقة.
- ٣- أسباب التلوث البحري (المائي) . ص ١٣٦ (يكتفى بثلاث نقاط فقط)
 - مخلفات المصانع / مياه الصرف الصحي غير المعالجة .
 - النفط ومشتقاته / النفايات الخطرة .
 - الأمطار الحمضية / مياه الصرف الزراعي .

(ب) عرف ما يلي : (درجة لكل تعريف = ٤ درجات)

- ١- الصناعة : تحويل المواد الخام إلى مواد يمكن الاستفادة منها . ص ٩٥
- ٢- التلوث : الضرر الذي يصيب عناصر البيئة الأساسية (هواء - ماء - تربة) فتنحول من عناصر مفيدة إلى عناصر ضارة . ص ١٣٣
- ٣- الثقافة : مجموعة من العادات والتقاليد والقيم في مجتمع من المجتمعات . ص ١١٨
- ٤- ترانزيت : إعادة تصدير البضائع المستوردة . ص ٩٩

(ج) اكتب تعليقا مناسباً لكل صورة مما يلي : (لكل إجابة درجة = درجتين)



مشكلة العنف . ص ١٤٥



تصدير أول شحنة نفط كويتية . ص ٩٠

(أو ما يراه المصحح مناسب)

السؤال الثالث (مقالي) : يتكون من (أ - ب - ج) :

(أ) اكتب فيما يلي: (درجة لكل نقطة = ٤ درجات) (يكتفى بنقطتين فقط)

١ - أهم أنواع الصناعات في منطقة الشعبية بدولة الكويت . ص ٩٦

- بتروكيماويات / الغاز .
- تكرير النفط .

٢- حلول لمشكلة العمالة المنزلية . ص ١٥٠

- الاهتمام الجاد بالقرآن الكريم والسنة النبوية . + ما يراه المصحح مناسباً .
- يتحمل كل فرد في الأسرة مسؤوليته والقيام بدوره خير قيام .
- جعل مهمة الخادم مقتصرة على ممارسة دوره الأساسي والمساهمة في تحمل أعباء المنزل لا غير .

(ب) فرق بين كل مما يلي من حيث (التعريف) : (درجة لكل تعريف = ٤ درجات)

الواردات ص ٩٩	الصادرات ص ٩٩
• البضائع والسلع التي تشتريها دولنا من الخارج .	• السلع والمنتجات التي تبيعها دولنا في الخارج .
احتياطي النفط ص ٨٨	إنتاج النفط ص ٨٨
• كميات النفط المخزونة في باطن الأرض .	• كميات النفط التي يتم استخراجها للاستفادة منه .

(ج) عدد اثنين لكل مما يلي : (درجة لكل نقطة = ٤ درجات) (يكتفى بنقطتين فقط)

١- أهم الدول المستوردة للنفط الكويتي . ص ٩٠

* هولندا

* الولايات المتحدة الأمريكية / اليابان

٢- مظاهر التعاون الثقافي لدول مجلس التعاون الخليجي . ص ١٣٠

* توحيد المناهج التعليمية وتطويرها . * إنشاء مكتب التربية العربي ومقره الرياض .

* اجتماع وزراء التربية والتعليم لدول الخليج العربية كل عامين لوضع السياسات التربوية .

انتهت الأسئلة ،،،،



أجب عن جميع الأسئلة التالية :-

لكل نقطة درجة

السؤال الأول ويتكون من (أ - ب - ج - د - هـ - و) :

أ) أكمل العبارات التالية بما يناسبها مما درست :-

- ١- الشيخ الذي تم تصدير أول شحنة من النفط الكويتي في عهده يسمى الشيخ أحمد الجابر. ص
- ٢- الدولة الخليجية التي تحتل المركز الأول في عدد السكان تسمى المملكة العربية السعودية. هـ
- ٣- ترجع أصول السلالات السكانية في منطقة الخليج العربية إلى جنس البحر المتوسط و جنس آخر يسمى شرق أفريقيا. ص ١٠٥

- ٤- المدينة التي تم فيها الإعلان عن قيام السوق الخليجية المشتركة تسمى الدوحة. ص ١٣٠
- ٥- مجموعة من العادات والتقاليد والقيم في مجتمع من المجتمعات تسمى الثقافة. ص ١١٨
- ٦- العام الذي قام فيه النظام العراقي البائد بغزو دولة الكويت ١٩٩٠ م. ص ١٣٩

ب) ضع خطا تحت الخيار الصحيح من بين الخيارات التي تلي كل عبارة :-

- ١- بدأ التنقيب عن النفط في دولة الكويت عام :
أ- ١٩٣٣ م ب- ١٩٣٤ م ج- ١٩٣٥ م د- ١٩٣٦ م
- ٢- الدولة الخليجية التي توجد فيها المنطقة الزراعية سهل الباطنة :
أ- الكويت ب- البحرين ج- قطر د- عمان
- ٣- الدولة الخليجية التي توجد فيها حضارة هيلي :
أ- البحرين ب- قطر ج- الإمارات د- السعودية
- ٤- عدد آبار النفط الكويتية التي دمرها النظام العراقي البائد :
أ- ٧٣٦ بئر ب- ٧٣٧ بئر ج- ٧٣٨ بئر د- ٧٣٩ بئر
- ٥- من أهم الدول المستوردة للنفط الكويتي :
أ- بريطانيا ب- الصين ج- البرتغال د- اليابان
- ٦- الهجرة العربية التي استقرت في دولة قطر :
أ- المعاضيد ب- آل خليفة ج- القواسم د- بني ياس



تابع / السؤال الأول :-

ج (انسب كل من المناطق الصناعية إلى مكانها المناسب في الجدول التالي : ص ٩٦

(الشعبية - الجبيل - شمال سترة - امسيعيد - الرويس - صحار)

الدولة	الكويت	عمان	قطر	البحرين	الإمارات	السعودية
المنطقة الصناعية	الشعبية	صحار	امسيعيد	شمال سترة	الرويس	الجبيل

د (أكتب المفاهيم أو المصطلحات الدالة عليها العبارات التالية :-

١- (صناعة) تحويل المواد الخام إلى مواد يمكن الاستفادة منها . ص ٩٥

٢- (تلوث) ضرر يصيب عناصر البيئة الأساسية (ماء/هواء/تربة) فتتحول من عناصر مفيدة إلى

ص ١٣٣

٣- (عنف) سلوك عدواني موجه ضد الغير يتسم بالتخريب والتدمير سواء كان ذلك السلوك قولاً أو فعلاً . ص ١٤٤

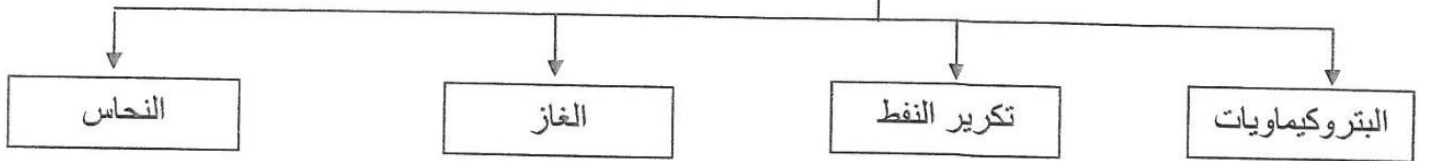
٤- (طبقة الأوزون) درع واق للأحياء ضد خطر الأشعة فوق البنفسجية الضارة . ص ١٣٥

٥- (نمو سكاني) تغير يحدث لعدد السكان نتيجة للزيادة الطبيعية وغير الطبيعية . ص ١١١

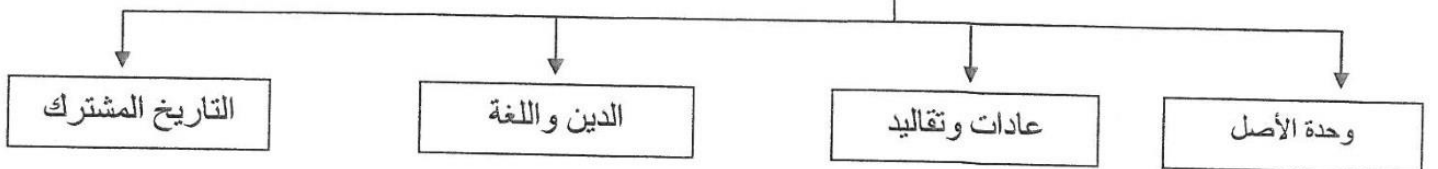
٦- (ترانزيت) إعادة تصدير البضائع المستوردة . ص ٩٩

هـ (أكمل المخططات السهمية التالية :-

١- الصناعات القائمة في دول الخليج العربية : ص ٩٦

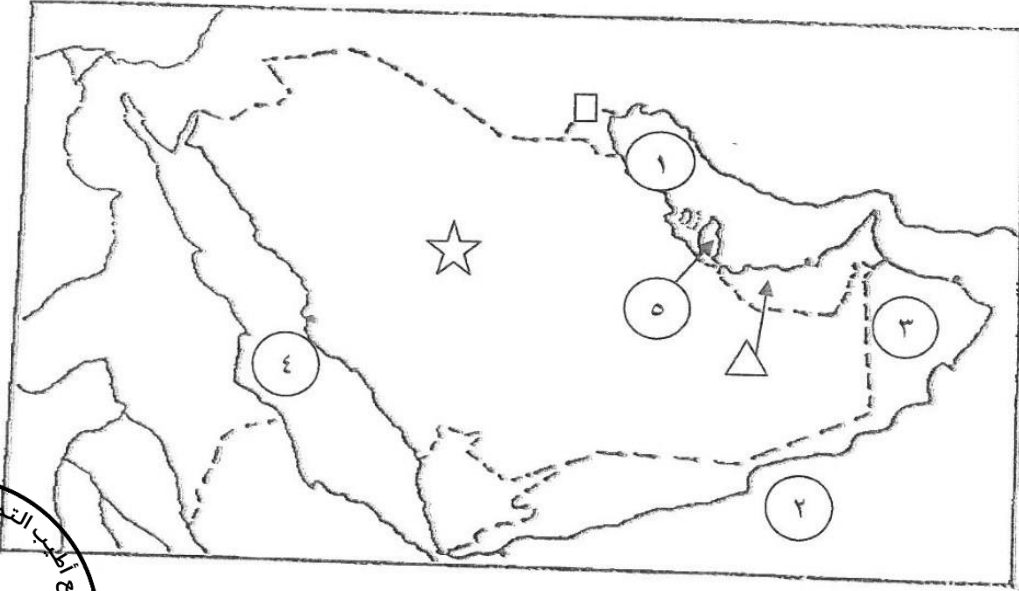


٢- الروابط التي تربط سكان دول الخليج العربية : ص ١١٧ - ص ١٢٠



تابع / السؤال الأول :-

و) أمامك خريطة شبة الجزيرة العربية الصماء نفذ المطلوب عليها :



١- اكتب الرقم الدال على العبارات التالية :

- الخليج العربي يمثله على الخريطة الرقم ١ . ص ٩٢

- هجرة آل بوسعيد واليعاربة يمثلهما على الخريطة الرقم ٣ . ص ١٠٨

- حضارة أم النار يمثلهما على الخريطة الرقم ٥ . ص ١٠٥

٢- حدد كل مما يلي على الخريطة باستخدام الرموز التالية :

- الدولة الخليجية التي لها تجربة رائدة في انتاج محصول القمح باستخدام الرمز ☆ ص ٩٢

- منطقة العبدلي الزراعية باستخدام الرمز □ ص ٩٢

- الدولة الخليجية الأولى في نسبة الوافدين باستخدام الرمز △ ص ١١٢

السؤال الثاني : ويتكون من (أ ، ب ، ج) :-

أ) فرق بين كل مما يلي :- ٤ درجات

إنتاج النفط ص ٨٨	إحتياطي النفط
كميات النفط التي يتم استخراجها للاستفادة منها .	كميات النفط المخزونة في باطن الأرض .
صادرات ص ٩٩	واردات
السلع والمنتجات التي تبيعها دولنا للخارج .	البضائع والسلع التي تشتريها دولنا من الخارج .

ب) علل لما يأتي :- ٤ درجات لكل سؤال درجتان (يكتفي بنقطتين)

- ١- النمو السكاني المفاجيء في منطقة الخليج العربية بعد اكتشاف النفط . ص ١١٠
- ارتفاع دخل الفرد . - توفر الرعاية الصحية . - توفر فرص العمل .
- ٢- حدوث التلوث البحري . ص ١٣٦
- مخلفات المصانع . - النفط ومشتقاته . - النفايات الخطرة .
- مياه الصرف الصحي غير المعالجة . - الأمطار الحمضية . - مياه الصرف الزراعي .

ج) اكتب مما درست حول : ٤ درجات لكل سؤال درجتان (يكتفي بنقطتين)

- ١ - مظاهر التعاون السياسي بين دول الخليج العربية . ص ١٢٩
- ادانة احتلال الجزر الإماراتية الثلاث .
- مناصرة القضايا العادلة مثل قضية الشعب الفلسطيني وحقه في تقرير مصيره .
- توحيد الموقف السياسي الخليجي تجاه عدوان النظام العراقي البائد على دولة الكويت .
- ٢ - النتائج المترتبة على حرق آبار النفط الكويتية . ص ١٣٩
- تكون بحيرات نفطية أحدثت تلوث للتربة وتدمير للحياة الفطرية .
- إشعال الآبار سبب كميات كبيرة من الدخان محدثا تلوثا هوائيا .
- تساقط الرذاذ النفطي على التربة محدثا تلوثا أرضيا حيث تحول لون الرمال من اللون الأصفر إلى الأسود .
- آثار خطيرة على صحة الإنسان والكائنات الحية .

السؤال الثالث : ويتكون من (أ ، ب ، ج) :-



(أ) علل لما يلي :- ٤ درجات لكل سؤال درجتان (يكتفي بنقطتين)

١ - قيام دول الخليج العربية بإقامة العديد من الموانئ النفطية . ص ٩٠
-زيادة إنتاج النفط . -زيادة الطلب العالمي للنفط .

٢ - انخفاض الكثافة السكانية في دول الخليج العربية قديما . ص ١١٣
-الموقع الصحراوي . - الفقر الشديد .

(ب) اكتب مما درست حول :- ٤ درجات لكل سؤال درجتان (يكتفي بنقطتين)

١ - الأضرار الناتجة عن التلوث الأرضي (التربة) . ص ١٣٤
- تلوث الإنتاج الزراعي مما يؤثر على صحة الإنسان .
ضعف قدرتها على الإنتاج الزراعي .

٢ - جهود دول الخليج العربية لحل مشكلة العمالة المنزلية . ص ١٥٠
-الاهتمام الجاد بالقرآن الكريم والسنة النبوية الشريفة .
-يتحمل كل فرد في الأسرة مسؤولية والقيام بدورة خير قيام .
-جعل مهمة الخادم مقتصرة على ممارسة دورة الأساسي في المساهمة في تحمل أعماء المنزل لا غير .

(ج) عرف المفاهيم التالية : ٤ درجات

١ - زراعة بدون تربة : الزراعة التي تتم في بيئة مائية أو مائية أو رملية أو نشارة خشب تضاف إليها المحاليل الغذائية .
ص ٩٤

٢ - سلالة : مجموعة من الناس تشترك فيما بينها في الصفات الجسمانية الرئيسية كلون الجلد وشكل الأنف وشكل الشعر وطول القامة وما إليها وتختلف عن غيرها من السلالات في هذه الصفات . ص ١٠٦

٣ - كثافة سكانية : عدد السكان في الكيلو متر المربع وتقاس بقسمة عدد السكان على مساحة الدولة . ص ١١٤

٤ - تلوث ضوضائي : أصوات غير متجانسة تجتاز شدتها المعدل الطبيعي المسموح به للأذن . ص ١٣٤

انتهت الأسئلة مع تمنياتنا لكم بالتوفيق والنجاح ...



وزارة التربية
الإدارة العامة لمنطقة الفر وانية التعليمية
التوجيه الفني للاجتماعيات
نموذج الإجابة - امتحان الفترة الدراسية الثانية
المجال : الكويت ودول الخليج العربية
للصف السادس
للعام الدراسي ٢٠١٨ / ٢٠١٩ م
الزمن : ساعة ونصف
عدد الأوراق (٥)

أجب عن جميع الأسئلة التالية:

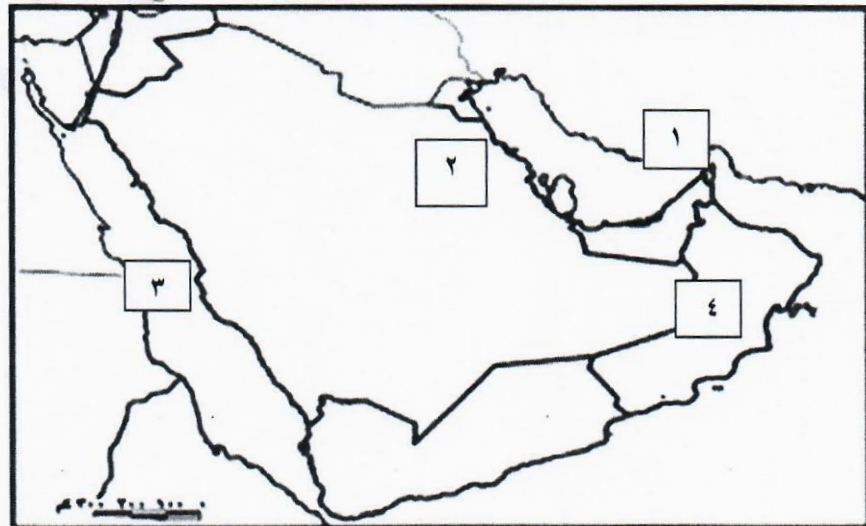
السؤال الأول ويتكون من (أ / ب / ج / د / هـ / و)

أ) أكمل العبارات التالية بما يناسبها فيما درست: - (لكل بند درجة واحدة)

١. نجحت المملكة العربية السعودية في إنتاج محصول يسمى القمح ص ٩٢
٢. العام الذي نشأ فيه مجلس التعاون الخليجي قوات درع الجزيرة عام ١٩٨٤م ص
٣. السلع و المنتجات التي تتبعها دولنا في الخارج تسمى الصادرات ص ٩٩
٤. أعلى دولة خليجية عربية في نسبة الوافدين عام ٢٠٠٦م تسمى الإمارات ص ١١٢
٥. دخول مواد غريبة في التربة مما يلحق الضرر في خواصها ومكوناتها يسمى التلوث الأرضي (التربة) ص ١٣٤
٦. الزيادة المستمرة في عدد السكان بسبب الهجرة تسمى الزيادة غير الطبيعية ص ١١٠

ب) نفذ ما هو مطلوب منك على خريطة شبة الجزيرة العربية: (لكل بند درجة واحدة)

- مضيق هرمز يمثل على الخريطة رقم (١)
- حقل الغوار يمثل على الخريطة رقم (٢)
- البحر الأحمر يمثل على الخريطة رقم (٣)
- سلطنة عمان يمثلها على الخريطة رقم (٤)



تابع: امتحان مادة الصف السادس الكويت ودول الخليج العربية نهاية الفترة الدراسية الثانية العام الدراسي ٢٠١٨/٢٠١٩م

(ج) صنف الكلمات التالية حسب الجدول: -

سهل الباطنة - سهل الإحساء - ليوا - الوفرة - صلالة - ص ٩٢

الإمارات	السعودية	عُمان	الكويت
ليوا	الإحساء	سهل الباطنة - صلالة	الوفرة

آل الصباح - آل الخليفة - المعاضيد - آل بوسعيد - القواسم - بني ياس - ص ١٠٨

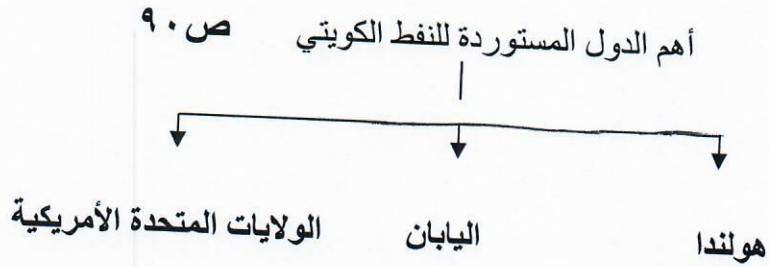
أبوظبي	البحرين	الكويت	رأس الخيمة	عُمان	قطر	منطقة الاستقرار
بني ياس	آل خليفة	آل الصباح	القواسم	آل بوسعيد	المعاضيد	الهجرة

(د) اختر البديل المناسب من بين البدائل التي تلي كل عبارة :-

١. تم تصدير أول شحنة من النفط الكويتي عام (١٩٤٣م - ١٩٤٤م - ١٩٤٥م - ١٩٤٦م) ص ٩٠
٢. مجموع الدخول التي تحصل عليها الدولة خلال عام يسمى (الدخل القومي) - الزراعة - الصناعة - التجارة) ص ٩٥
٣. أكبر دولة خليجية عربية منتجة للنفط عام ٢٠٠٨م تسمى (الكويت - الإمارات - السعودية - قطر) ص ٨٨
٤. أول حقل نفطي في دولة الكويت ثم التنقيب عنه عام ١٩٣٤م (برقان - الروضتين - بحرة - المقوع) ص ٨٧
٥. صدر إعلان بشأن قيام السوق الخليجية المشترك عام ٢٠٠٨م في (مسقط - المنامة - الرياض - الدوحة) ص ١٣٠
٦. تقع قلعة البرتغال في دولة خليجية عربية تسمى (الكويت - البحرين - عمان - الإمارات) ص ١٢٠

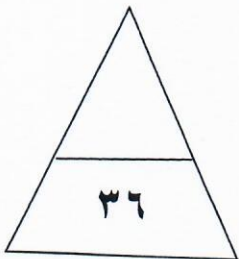
تابع: امتحان مادة الصف السادس الكويت ودول الخليج العربية نهاية الفترة الدراسية الثانية العام الدراسي ٢٠١٨/٢٠١٩م

(هـ) أكمل المخطط السهمي التالي: -



(و) ضع علامه (✓) أمام العبارة الصحيحة وعلامة (X) أمام العبارة الغير صحيحة :-

الرقم	العبارة	✓	X
١	بدأت دولة الكويت البحث عن النفط في الحقول الجنوبية أولاً. ص ٨٧		
٢	يرى العلماء أن العنف مرض اجتماعي وعادة متعلمة. ص ١٤٦		
٣	الزراعة بدون تربة هي التي تتم في بيئة مائية أو رملية أو حصى أو نشارة خشب. ص ٩٤		
٤	من التحديات التي تواجه دول الخليج العربية الهجرة إلى الخارج. ص ١٣٢		
٥	حدث غزو النظام العراقي البائد على دولة الكويت عام ١٩٩٠م. ص ١٣٩		
٦	أصول السلالات السكانية في منطقة الخليج العربية ترجع إلى جنس البحر المتوسط فقط ص ٥		



تابع: امتحان مادة الصف السادس الكويت ودول الخليج العربية نهاية الفترة الدراسية الثانية العام الدراسي ٢٠١٨/٢٠١٩م

السؤال الثاني :- ويتكون من (أ / ب / ج)

أ) عرف المفاهيم و المصطلحات التالية :-

١. طبقة الأوزون : هي درع واق للأحياء ضد خطر الأشعة فوق البنفسجية الضارة . ص ١٣٥
٢. الثقافة: مجموعة من العادات و التقاليد و القيم في مجتمع من المجتمعات . ص ١١٨
٣. السلالة: مجموعة من الناس تشترك فيما بينها في الصفات الجسمانية الرئيسية و لون الجلد و شكل الأنف و شكل الشعر و طول القامة و ما إليها و تختلف عن غيرها من السلالات في هذه الصفات. ص ١٠٦
٤. الترانزيت: إعادة تصدير البضائع المستوردة . ص ٩٩

ب) علل لما يلي :-

١. حدوث مشكلة العنف ص ١٤٦
- أ. تربية الطفل الخاطئة
- ب. الإحباط
٢. تحرك الهجرات من قلب شبه الجزيرة العربية إلي الساحل العربي للخليج العربي ص ١٠٨
- أ. الموقع الجغرافي بين قارات العالم القديم
- ب. ظروف الجفاف الصحراوي

ج) فرق بين كل مما يلي من حيث التعريف في الجدول التالي :- (لكل بند درجة واحدة)

إنتاج النفط (صفحة ٨٨)	احتياطي النفط (صفحة ٨٨)
كميات النفط التي يتم استخراجها للاستفادة منها.	كميات النفط المخزونة في باطن الأرض.
النمو السكاني صفحة (١١١)	الكثافة السكانية صفحة (١١٤)
هو التغير الذي يحدث لعدد السكان نتيجة للزيادة الطبيعية و غير الطبيعية.	عدد السكان في الكيلو متر المربع أر $\frac{\text{عدد السكان}}{\text{مساحة الدولة}}$

تابع: امتحان مادة الصف السادس الكويت ودول الخليج العربية نهاية الفترة الدراسية الثانية العام الدراسي ٢٠١٨/٢٠١٩م

السؤال الثالث ويتكون من (أ / ب)

ص ١٣٣

(درجتان)

أ) حسب الصور التالية ما هي أنواع التلوث؟



تلوث هوائي



تلوث بحري (المائي)

ب) أجب عن الأسئلة التالية :-

١. ما هي الروابط التي تربط بين سكان دول الخليج العربية؟ (أربع درجات لكل بند درجة) ص ١١٧-١٢٠

- وحدة الأصل
- العادات والتقاليد
- الدين واللغة
- التاريخ المشترك

٢. اذكر أنواع الصناعات القائمة على النفط بدول مجلس التعاون الخليجي؟ (ثلاث درجات لكل بند درجة) ص ٩٦

- البتر وكيموايات
- تكرير النفط
- الغاز

٣. اكتب عن أهم الحلول لعلاج مشكلة العمالة المنزلية؟ (ثلاث درجات لكل بند درجة) ص ١٥٠

- الاهتمام الجاد بالقرآن الكريم و السنة النبوية الشريفة. (ما يراه المصحح مناسباً)
- يتحمل كل فرد في الأسرة مسؤوليته والقيام بدوره خير قيام.
- جعل مهمة الخادم مقتصرة على ممارسة دوره الأساسي في المساهمة في تحمل أعباء المنزل
- لا غير.



نموذج الإجابة

أجب عن جميع الأسئلة التالية :

السؤال الأول ويتكون من (أ - ب - ج - د - هـ - و) :

أ) أكمل العبارات التالية بما يناسبها فيما درست:-

- ١- الحقل الذي تم فيه بداية التنقيب عن النفط في دولة الكويت يسمى حقل بحره. ص ٨٧
- ٢- الشيخ الذي تم في عهده تصدير أول شحنة من النفط الكويتي يسمى الشيخ أحمد الجابر الصباح. ص ٩٠
- ٣- الدولة الخليجية الرائدة في إنتاج محصول القمح تسمى المملكة العربية السعودية. ص ٩٢
- ٤- المنطقة التي هاجر إليها (بني ياس) تسمى أبو ظبي. ص ١٠٨
- ٥- القوة المشتركة التي تهدف إلى حماية دول مجلس التعاون الخليجي من أي عدوان تسمى درع الجزيرة. ص ١٢٩
- ٦- العاصمة الخليجية التي أعلن فيها قيام السوق الخليجية المشتركة عام ٢٠٠٨ م تسمى الدوحة. ص ١٣٠

ب) ضع خطأ تحت الخيار الصحيح من بين الخيارات التي تلي كل عبارة:-

- ١- الدولة الخليجية الأعلى إنتاجا للنفط حسب احصائية ٢٠٠٨ م :
أ - الإمارات ب - عمان ج - الكويت د - السعودية ص ٨٨
- ٢- الحقل النفطي التابع لدولة قطر :
أ - عوالي ب - دخان ج - ناطح د - برقان ص ٩١
- ٣- الدولة الخليجية التي توجد فيها منطقة العبدلي الزراعية :
أ - قطر ب - عمان ج - الكويت د - البحرين ص ٩٣
- ٤- الدولة الخليجية الأصغر مساحة :
أ - البحرين ب - قطر ج - الكويت د - الإمارات ص ١١٤
- ٥- مقر مكتب التربية العربي مدينة :
أ - مسقط ب - المنامة ج - الدوحة د - الرياض ص ١٣٠
- ٦- العام الذي تعرضت فيه دولة الكويت للغزو العراقي الغاشم :
أ - ١٩٩٠م ب - ١٩٩١م ج - ١٩٩٢م د - ١٩٩٣م ص ١٣٩



ج) انسب كل من المناطق الصناعية التالية إلى مكانها المناسب في الجدول التالي :

(شمال سترة - امسيعيد - الجبيل - جبل علي - الفحل - الشعبية)

ص ٩٦	عمان	الإمارات	قطر	البحرين	السعودية	الكويت	الدولة
	الفحل	جبل علي	امسيعيد	شمال سترة	الجبيل	الشعبية	المنطقة الصناعية

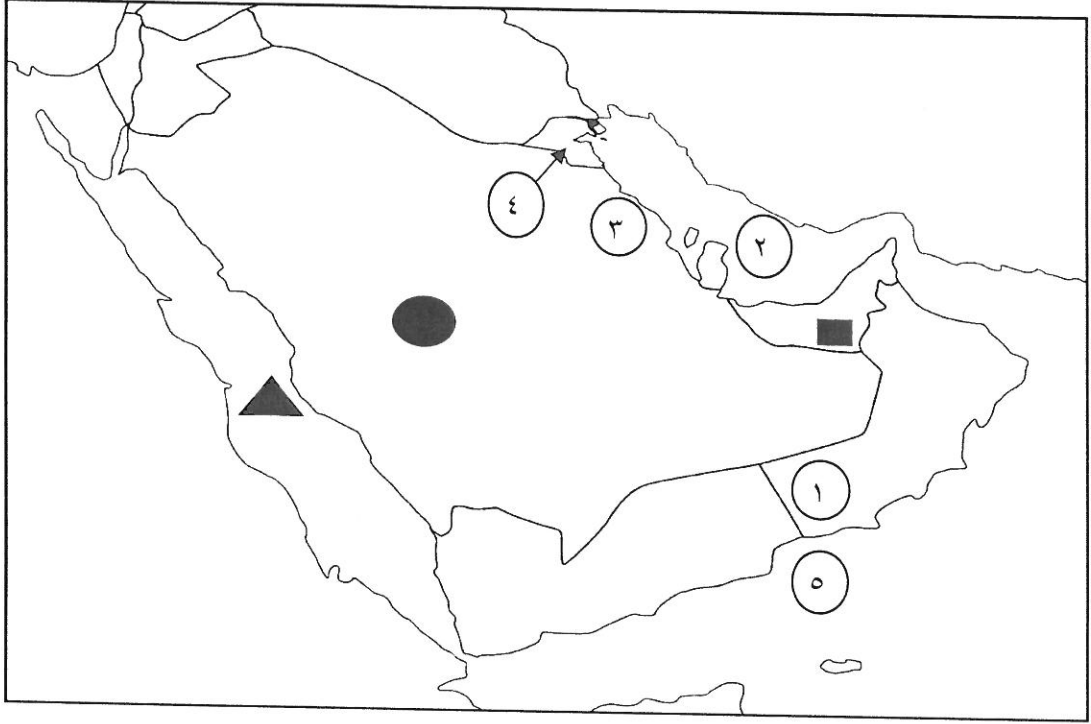
د) أكتب المفاهيم أو المصطلحات الدالة على العبارات التالية :-

م	المفهوم	العبارات
١-	الدخل القومي	مجموع الدخول التي تحصل عليها الدولة خلال عام . ص ٩٥
٢-	السلالة	مجموعة من الناس تشترك فيما بينها في الصفات الجسمانية الرئيسية كلون الجلد وشكل الأنف وشكل الشعر وطول القامة . ص ١٠٦
٣-	النمو السكاني	تغير يحدث لعدد السكان نتيجة للزيادة الطبيعية وغير الطبيعية . ص ١١١
٤-	الثقافة	مجموعة من العادات والتقاليد والقيم في مجتمع من المجتمعات . ص ١١٨
٥-	التلوث الأرضي (التربة)	دخول مواد غريبة في التربة مما يلحق الضرر في خواصها ومكوناتها . ص ١٣٤
٦-	العنف	سلوك عدواني موجة ضد الغير، والذي يتسم بالتخريب والتدمير ، سواء ذلك السلوك أفعالاً أو أفعالا . ص ١٤٤

هـ) اختر للمجموعة (أ) ما يرتبط بها من المجموعة (ب) بوضع الرقم المناسب :

م	المجموعة (أ)	الرقم المناسب	المجموعة (ب)
١	حضارة دبا	٤	السعودية
٢	حضارة أم النار	-	الكويت
٣	حضارة هيلي	٢	قطر
٤	حضارة تاروت	٣	الإمارات
٥	حضارة دلمون	٥	البحرين
		١	عمان

و) أمامك خريطة شبة الجزيرة العربية الصماء نفذ المطلوب :



أولاً : اكتب الرقم الدال على العبارات التالية :

- سهل الإحساء يمثله على الخريطة الرقم .. ٣ ..
- حقل برقان النفطي يقع في الدولة التي تحمل الرقم .. ٤ ..
- منطقة صلالة الزراعية يمثلها على الخريطة الرقم .. ١ ..
- الخليج العربي يمثله على الخريطة الرقم .. ٢ ..

ثانياً : حدد كل مما يلي باستخدام الرموز التالية :

* منطقة ليوا الزراعية باستخدام الرمز ■

* البحر الأحمر باستخدام الرمز ▲

* منطقة نجد باستخدام الرمز ●

ص ٩٢

ص ٩١

ص ٩٢

ص ٩

ص ٩٧

ص ٩٢

ص ١٠٧

السؤال الثاني : ويتكون من (أ ، ب ، ج) :-

٤ درجات (درجة لكل نقطة)

(أ) فرق بين كل مما يلي :-

احتياطي النفط	إنتاج النفط
كميات النفط المخزونة في باطن الأرض .	كميات النفط التي يتم استخراجها للاستفادة منها .
واردات	صادرات
البضائع والسلع التي تشتريها دولنا من الخارج .	السلع والمنتجات التي تبيعها دولنا في الخارج.

٤ درجات لكل سؤال درجتان (يكتفي بنقطتين)

(ب) علل لما يأتي :-

ص ١١٠ + ١١١

- ١- شهدت منطقة الخليج العربية بعد اكتشاف النفط نموا سكانيا مضطردا (فجائيا) .
- ارتفاع دخل الفرد . - الأمن والأمان . - ارتفاع الأجور . - زيادة عدد المواليد .
- توفر الرعاية الصحية . - توفر فرص العمل . - السماح للوافدين باصطحاب عائلاتهم .

ص ١٣٦

- ٢- تلوث مياه البحر (مياه الخليج العربي) .
- مخلفات المصانع . - النفط ومشتقاته . - مياه الصرف الصحي غير المعالجة .
- النفايات الخطرة . - مياه الصرف الزراعي . - الأمطار الحمضية .

٤ درجات لكل سؤال درجتان (يكتفي بنقطتين)

(ج) عدد ما يلي :

ص ١٤٢

- ١ - وظائف العمالة المنزلية .
- طباط . - سائق . - مربية . - خدم .
- ٢ - أهم الدول المستوردة للنفط الكويتي .
- الولايات المتحدة الأمريكية .
- هولندا . - اليابان .

ص ٩٠

السؤال الثالث : ويتكون من (أ ، ب ، ج) :-

(أ) اقرأ الفقرة التالية ثم أجب عما يليها من أسئلة :-

(الكثافة السكانية تبدو منخفضة في منطقة الخليج العربية وليس هذا غريبا في إقليم صحراوي ظل طوال القرون الماضية في فقر شديد ، ولم يصبح منطقة جذب سكاني إلا بعد اكتشاف النفط ، وساهم الموقع الجغرافي في ازدهار نمو صناعة النفط وتسويقه مما ساعد على النمو السكاني في الوقت الحاضر)

١ - ضع عنوانا مناسباً للفقرة السابقة . درجة

(أي عنوان يراه المصحح مناسباً)

٢ - عرف ما تحته خط . درجة

الكثافة السكانية : عدد السكان في الكيلو متر المربع ، وتقاس بقسمة عدد السكان على مساحة الدولة .

٣ - استخرج من الفقرة السابقة عوامل جذب السكان لمنطقة الخليج العربي . درجتان

- اكتشاف النفط . - الموقع الجغرافي .

(ب) اجب عما يلي :- ٦ درجات لكل سؤال درجتان (يكفي بنقطتين)

١ - ما أوجه التشابه الثقافي بين سكان دول الخليج العربية ؟ ص ١١٧ - ١١٩

- وحدة الأصل . - العادات والتقاليد . - الدين واللغة . - التاريخ المشترك .

٢ - عدد الآثار المترتبة على حرق آبار النفط الكويتي . ص ١٣٩

- ضخ النفط في مياه البحر . - تكون بحيرات ساهمت في تلوث التربة وتدمير الحياة الفطرية .

- تسبب في وجود كميات كبيرة من الدخان . - حدوث تلوث هوائي .

- تساقط رذاذ نفطي على التربة محدثاً تلوثاً أرضياً وتحول لون الرمال من اللون الأصفر إلى اللون الأسود .

- الآثار الخطرة على صحة الإنسان والكائنات الحية .

٣ - اذكر حلولاً لعلاج مشكلة العنف . ص ١٥٠

- الاهتمام الجاد بالقرآن الكريم والسنة النبوية الشريفة .

- الاهتمام بالقراءة والمطالعة بدلاً من أصدقاء السوء .

- القدوة الحسنة من كل المحيطين بالشباب (المتعلمين) واتباع أساليب الحوار والتفاهم في علاج المشكلات

والخلافات. (وما يراه المصحح مناسباً)

(ج) عرف المفاهيم والمصطلحات التالية : ٣ درجات

١ - صناعة : تحويل المواد الخام إلى مواد يمكن الاستفادة منها . ص ٩٥

٢ - طبقة الأوزون : درع واق للأحياء ضد خطر الأشعة فوق البنفسجية الضارة . ص ١٣٥

العام الدراسي : ٢٠١٨/٢٠١٩ م
الزمن : ساعة وخمس وأربعون
عدد الأوراق (٦)
نموذج الإجابة

امتحان نهاية الفترة الدراسية الثانية
لمقرر الكويت ودول الخليج العربية
للفصل السادس المتوسط


وزارة التربية
الإدارة العامة لمنطقة حولي التعليميه
التوجيه الفني للإجتماعيات

السؤال الأول: موضوعي ويتكون من (أ - ب - ج - د - هـ - و)

أ- أكمل العبارات التالية بما يناسبها :

١- الدولة الخليجية الأولى في إنتاج النفط عام ٢٠٠٨ م اسمها السعودية ص ٨٨

٢- التغيير الذي يحدث لعدد السكان نتيجة للزيادة الطبيعية وغير الطبيعية يسمى النمو السكاني ص ١١١

٣- الدولة الخليجية التي ظهرت فيها حضارة "هيلي" اسمها الإمارات ص ١٠٥

٤- العام الذي قام النظام العراقي البائد بغزو دولة الكويت ١٩٩٠ م ص ١٣٩

٥- العاصمة الخليجية التي أعلن فيها قيام السوق الخليجية المشتركة تسمى الدوحة / قطر ص ١٣٠

٦- المنطقة الصناعية في مملكة البحرين اسمها شمال سترة ص ٩٦

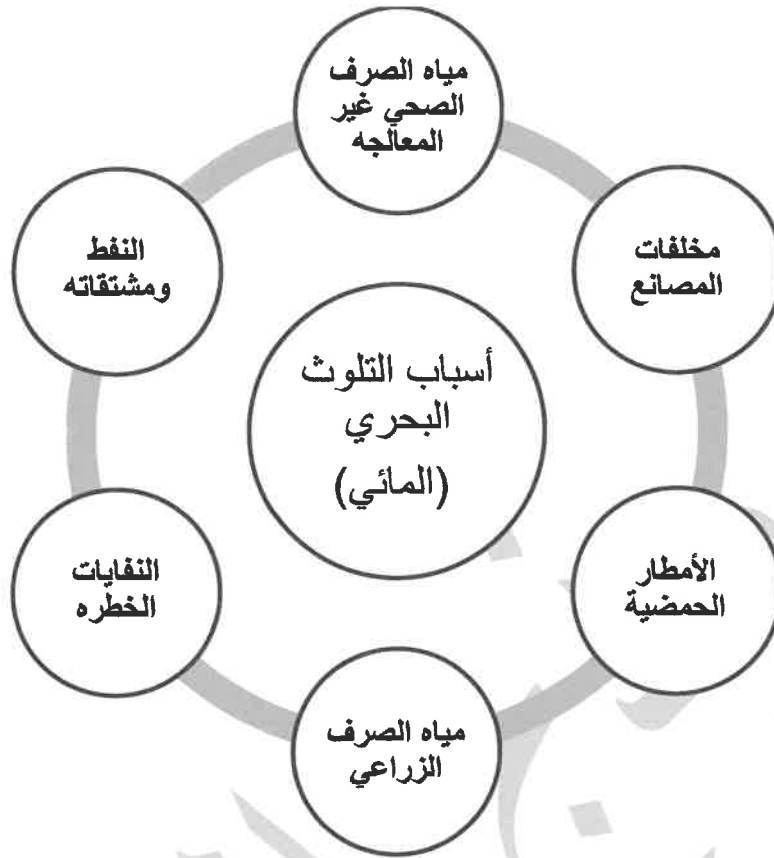


ب - صنف مصادر تلوث الهواء حسب ما يناسبها في الجدول التالي: ص ١٣٤

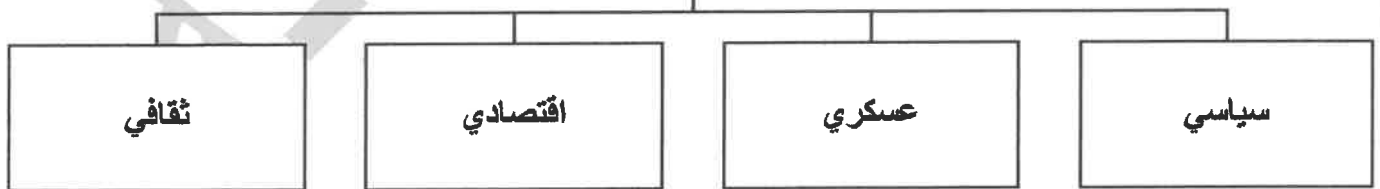
(سيارات وطائرات - براكين - الصناعة - عواصف ترابية - حرق النفايات - مبيدات حشرية)

مصادر تلوث الهواء الطبيعية	مصادر تلوث الهواء غير الطبيعية
براكين / عواصف ترابية	سيارات وطائرات / الصناعة / حرق النفايات/ مبيدات حشرية

ج- أكمل المخططات السهمية التي أمامك : ص ١٣٦



مجالات التعاون بين دول مجلس التعاون
الخليجي ص ١٢٩



د- ظلل الخيار الصحيح من بين الخيارات التي تلي كل عبارة:

١- إعادة تصدير البضائع المستوردة : ص ٩٩

الموارد التجارية	الترانزيت	الواردات	الصادرات
------------------	-----------	----------	----------

٢- عدد الآبار النفطية الكويتية التي فجرها وأحرقها النظام العراقي البائد: ص ١٣٩

٧٣٧	٦٣٦	٥٣٥	٤٣٤
-----	-----	-----	-----

٣- تحويل المواد الخام إلى مواد يمكن الاستفادة منها : ص ٩٥

تكرير النفط	التعدين	الدخل القومي	الصناعة
-------------	---------	--------------	---------

٤- الدولة الخليجية الأولى في الكثافة السكانية: ص ١١٤

قطر	البحرين	السعودية	الإمارات
-----	---------	----------	----------

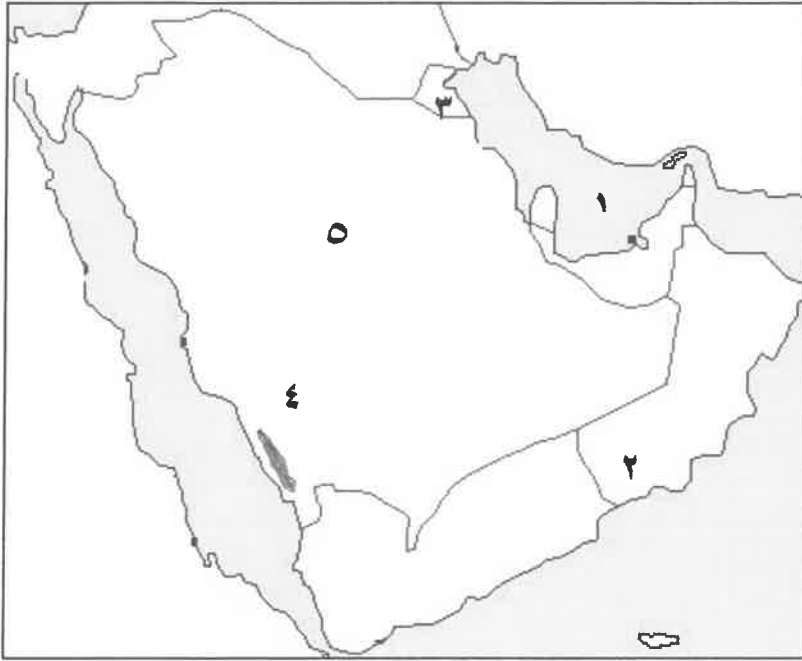
٥- مجموعة من العادات والتقاليد والقيم في مجتمع من المجتمعات: ص ١١٨

اللغة	الدين	الثقافة	التاريخ
-------	-------	---------	---------

٦- السلوك العدواني الموجه ضد الغير والذي يتسم بالتخريب والتدمير سواء كان ذلك السلوك أقوالا أو أفعالا: ص ١٤٤

الإرهاب	الحروب	الشغب	العنف
---------	--------	-------	-------

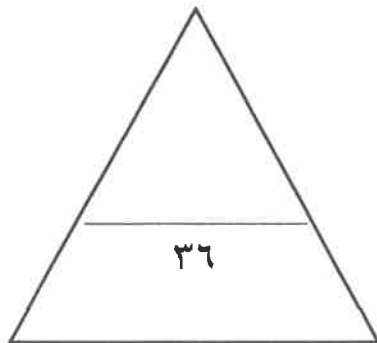
هـ-لاحظ خريطة شبه الجزيرة العربية التي امامك ثم أكتب مدلولات الأرقام التالية :



- سهل تهامة يمثل الرقم (٤) ص٩٢
- منطقة الوفرة يمثلها الرقم (٣) ص٩٧
- حضارة دبا يمثلها الرقم (٢) ص١٠٥
- مسطح مائي يمثل الرقم (١) ص٩١
- اعلى دولة خليجية في نسبة المواطنين يمثلها الرقم (٥) ص١١٢ / ص٩١

و-صوب ماتحته خط في العبارات التالية:

م	العبرة	التصويب
١	درع واقى للأحياء ضد خطر الأشعه فوق البنفسجية الضارة هي <u>التلوث</u> ص ١٣٥	الأوزون
٢	البعثة الأوروبية التي اكتشفت حضارة دول مجلس التعاون الخليجي هي <u>البعثة الألمانية</u> ص١٠٥	الدنماركية
٣	تم تصدير أول شحنة من النفط الكويتي عام <u>١٩٥٦م</u> ص ٩١	١٩٤٦م
٤	تحويل المواد الخام إلي مواد يمكن الإستفاده منها يسمى <u>الزراعة</u> ص ٩٥	الصناعة
٥	يجتمع وزراء التربية والتعليم لدول مجلس التعاون الخليجي كل <u>عام</u> ص.١٣٠	عامين
٦	مجموعة الدخول التي تحصل عليها الدولة خلال عام تسمى <u>بالدخل الفردي</u> ص ٩٥	القومي



مجموع درجات السؤال الأول....

السؤال الثاني: ويتكون من (أ - ب - ج)
أ- فرق بين كل من :

(أربع درجات لكل نقطة درجة)

الزيادة الطبيعية للسكان	الزيادة الطبيعية للسكان ص ١١٠
- بسبب الهجرات	- عدد المواليد - عدد الوفيات
الواردات	الصادرات ص ٩٩
- البضائع والسلع التي تشتريها دولنا من الخارج	- السلع والمنتجات التي تبيعها دولنا للخارج

ب- أكتب عبارة شكر لله عز وجل على امتلاك دولتنا الكويت للثروة النفطية . ص ٨٩

(درجتين)

..... حسب ما يراه المصحح من اجابه مطابقة لما هو مطلوب.....

(لكل نقطة درجة)

ج- اجب عن الأسئلة التالية:

٢- اذكر أهم الروابط الثقافية بين سكان دول الخليج العربية. (يكتفي بنقطتين ص ١١٧-١٢٠)
- وحدة الأصل
- العادات والتقاليد
- الدين واللغة
- التاريخ المشترك

١- عدد أهم أنواع الصناعات في دول مجلس التعاون الخليجي . (يكتفي بنقطتين ص ٩٦)
- بتروكيماويات
- الغاز
- تكرير النفط
- النحاس

(يكتفي بنقطتين ص ١٢٩)

٣- عدد مظاهر التعاون العسكري بين دول الخليج العربية
- المناورات التدريبية العسكرية المختلفة
- إنشاء قوة مشتركة تضم جميع دول مجلس التعاون الخليجي (درع الجزيرة)
- قبول أبناء دول مجلس التعاون في الكليات العسكرية
- المشاركة الفعلية في حرب تحرير دولة الكويت من النظام العراقي البائد.

مجموع درجات السؤال الثاني....

السؤال الثالث: ويتكون من (أ - ب - ج)

أ- فرق بين كل من :

(أربع درجات لكل نقطة درجه)

احتياط النفط	انتاج النفط ص ٨٨
كميات النفط المخزونة في باطن الأرض	كميات النفط التي يتم استخراجها للإستفادة منها
بيوت بلاستيكية	الزراعة بدون تربة ص ٩٤
يزرع فيها الخضراوات في غير مواسمها (أوقاتها) وتقوم بحماية المحاصيل من تقلبات الطقس	هي الزراعة التي تتم في بيئة مائية أو رملية أو حصى أو نشارة خشب تضاف إليها المحاليل الغذائية

ب - علل لما يأتي : (درجتين)

(يكتفي بنقطة ص ٩٠)

١- ظهرت الحاجة الى إقامة العديد من المونى النفطية .
لتزايد الإنتاج النفطي لدول مجلس التعاون / لتزايد الطلب العالمي

(يكتفي بنقطة ص ١٠٨)

٢- استقبلت منطقة الخليج العربية موجات سكانية من كل المناطق المجاوره.
بحكم موقعه الجغرافي المهم بين قارات العالم القديم

(ص ١٣٤ ست درجات)

ج - أقرأ الفقرة التالية ثم اجب عما يلي:

(يعتبر التلوث من المشكلات البيئية التي تصيب مكونات الأرض من ماء وهواء وتربة فتتحول إلى عناصر ضارة)

(لكل نقطة درجة يكتفي ثلاث نقاط)

١- عدد أنواع التلوث.

- مائي

- هوائي

- ارضي (تربة) / - الضوضائي

(لكل نقطة درجة يكتفي بنقطة)

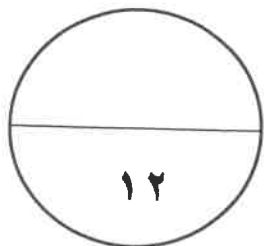
٢- عرف التلوث الأرضي .

- دخول مواد غريبه في التربة مما يلحق الضرر في خواصها ومكوناتها.

(درجتين)

٣- اكتب نصيحة لزملائك تحثهم بالمحافظة علي البيئة بشكل عام.

حسب ما يراه المصحح من اجابه مطابقة لما هو مطلوب



مجموع درجات السؤال الثالث....

انتهت الأسئلة...

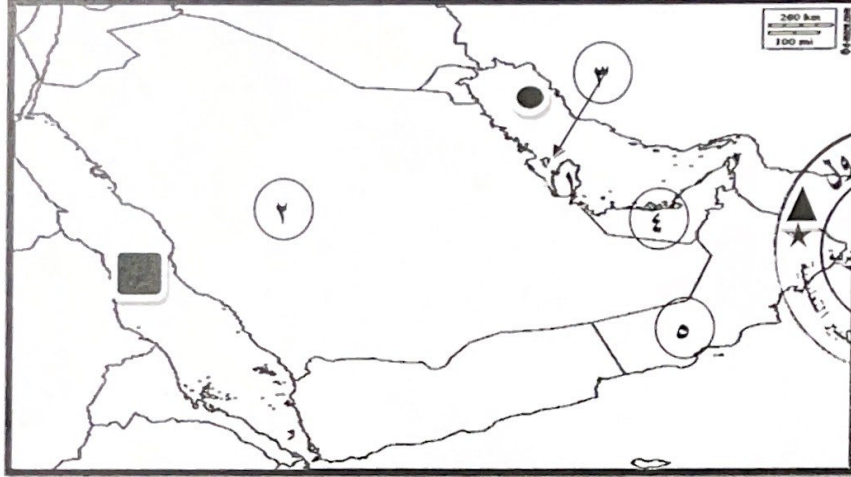


العام الدراسي: ٢٠٢١/٢٠٢٢ م
الزمن : ساعة و ٤٥ دقيقة
عدد الأوراق : ٥

وزارة التربية
الإدارة العامة لمنطقة مبارك الكبير التعليمية
التوجيه الفني للاجتماعيات

نموذج إجابة نهاية الفترة الثانية للصف السادس لمادة الاجتماعيات
(الكويت ودول الخليج العربية)

السؤال الأول موضوعي يتكون من (أ - ب - ج) :
(أ) لاحظ خريطة شبه الجزيرة العربية ثم أجب عن ما يليها من أسئلة :



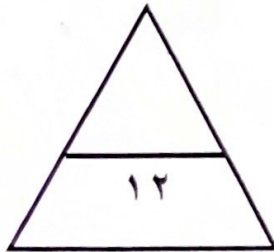
- أقل الدول الخليجية في نسبة المواطنين تحمل على الخريطة الرقم (٤) ص ١١٢
- مقر مكتب التربية العربي يقع في دولة خليجية تحمل على الخريطة الرقم (٢) . ص ١٣٠
- ميناء الفحل يمثله على الخريطة الرمز (▲) ص ٩٧
- قلعة البرتغال توجد في دولة خليجية تحمل على الخريطة الرقم (٣) . ص ١٢٠
- مسطح مائي تطل عليه جميع دول الخليج العربية يمثله على الخريطة الرمز (●) ص ٩١

(ب) اكتب المفاهيم أو المصطلحات الدالة على العبارات التالية:

- ١- (طبقة الأوزن) : درع واق للأحياء من خطر الأشعة فوق البنفسجية الضارة . ص ١٣٥
- ٢- (زراعة بدون تربة) : زراعة تتم في بيئة مائية أو رملية أو حصى أو نشارة خشب وتضاف إليها محاليل غذائية . ص ٩٤
- ٣- (تلوث) : ضرر يصيب عناصر البيئة الأساسية فتتحول من عناصر مفيدة إلى عناصر ضارة . ص ١٣٣
- ٤- (إنتاج النفط) : كميات النفط التي يتم استخراجها للاستفادة منها . ص ٨٨

(ج) صنف المصطلحات التالية الى مكانها المناسب في الجدول الذي يليها :

تلوث هوائي - تلوث جوي - تلوث بحري



تلوث هوائي	تلوث جوي	تلوث بحري
حرق النفايات ص ١٣٤	أعمال نجارة ص ١٣٨	مخلفات المصانع ص ١٣٦

السؤال الثاني (موضوعي) يتكون من (أ - ب) :

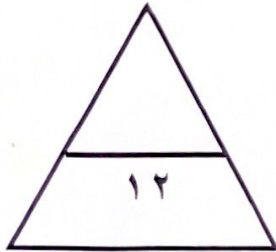
(أ) ضع خطأ تحت الخيار الصحيح من بين الخيارات التي تلي كل عبارة :

- ١- توحيد المناهج التعليمية وتطويرها بين دول مجلس التعاون الخليجي من مظاهر التعاون : ص ١٣٠
أ- العسكري ب- السياسي ج- الاقتصادي د- الثقافي
- ٢- الدولة الخليجية التي لم تتعرض للاستعمار الأجنبي : ص ١٢٠
أ- قطر ب- السعودية ج- الامارات د- الكويت
- ٣- أول حقل نفطي تم اكتشافه في الكويت : ص ٨٧
أ- برقان ب- الوفرة ج- بحرة د- الروضتين
- ٤- تحويل المواد الخام الى مواد يمكن الاستفادة منها : ص ٩٥
أ- صناعة ب- تعدين ج- تصدير د- انتاج
- ٥- إحداث فساد لنوعية المياه من خلال إدخال مواد ضارة بها من الإنسان يسمى تلوث : ص ٣٦
أ- أرضي ب- مائي (بحري) ج- هوائي د- ضوضائي
- ٦- أهم الدول المستوردة للنفط الكويتي : ص ٩٠
أ- هولندا ب- بريطانيا ج- إيطاليا د- روسيا
- ٧- هيئة الشباب والرياضة تمثل أحد مساعي جهود دول الخليج العربية لحل المشكلات : ص ١٥٠
أ- الاقتصادية ب- الثقافية ج- السياسية د- الاجتماعية



(ب) اختر للمجموعة (أ) ما يرتبط بها من المجموعة (ب) بوضع الرقم المناسب :

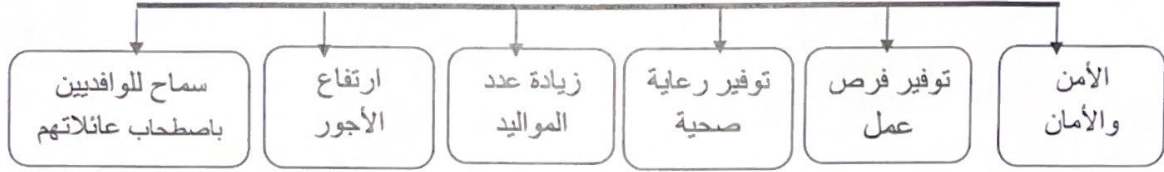
م	المجموعة أ	الرقم المناسب	المجموعة ب
١	دولة خليجية عربية يوجد بها حقل الغوار . ص ١٢٩	-	الامارات
٢	أصغر الدول الخليجية العربية من حيث عدد السكان ص ١١٤	٤	الكويت
٣	سهل الباطنة منطقة زراعية توجد في دولة خليجية . ص ٩٣	٢	البحرين
٤	دولة خليجية تم حرق آبار النفط فيها أثر عدوان عراقي غاشم . ص ١٣٩	٥	قطر
٥	منطقة امسيعد الصناعية توجد في دولة خليجية . ص ٩٦	١	السعودية
		٣	عمان




السؤال الثالث (موضوعي) يتكون من (أ - ب - ج):

(أ) اكتب عنواناً مناسباً للمخططات السهمية التالية:


١- عوامل النمو السكاني ص ١١١



٢- مناطق زراعية ص ٩٣



٣- مصادر تلوث الهواء ص ١٣٤



(ب) صوب ما تحته خط في العبارات التالية:

الرقم	العبارة	التصويب
١	المبيدات الحشرية من مصادر تلوث الهواء الطبيعية . ص ١٣٤	غير الطبيعية
٢	تعرضت الكويت إلى الغزو العراقي الغاشم في سنة ١٩٩١م ص ١٣٩	١٩٩٠م
٣	العمالة المنزلية تمثل أحد مشكلات دول الخليج العربية البيئية . ص ١٤٢	الاجتماعية
٤	قبول أبناء مجلس التعاون في الكليات العسكرية من مظاهر التعاون الثقافي . ص ١٢٩	العسكري
٥	اجتماع وزراء التربية والتعليم لدول الخليج العربية كل عام . ص ١٣٠	عامين

(ج) أكمل العبارات التالية بما يناسبها من كلمات:

١- المملكة العربية السعودية لها تجربة رائدة في إنتاج محصول القمح . ص ٩٢

٢- أحد أسباب مظاهر العنف الناجمة عن التربية الخاطئة للطفل والاحساس بالنقص تسمى أسرية . ص ١٤٩

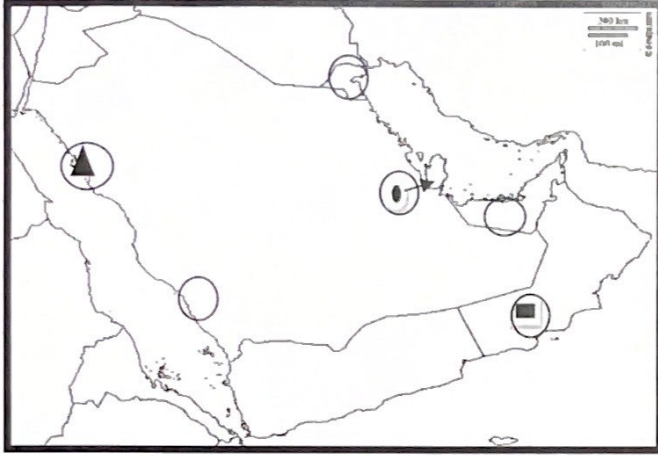
٣- جبل علي من أهم المناطق الصناعية في دولة خليجية تسمى الامارات . ص ٩٦

٤- كميات من النفط المخزونة في باطن الأرض احتياطي النفط ص ٨٨



السؤال الرابع (مقالى) يتكون من (أ - ب - ج) :

(أ) عين المطلوب على خريطة شبه الجزيرة العربية الصماء باستخدام الرموز التالية : ٣ درجات



- ١- مدينة ينبع الصناعية بوضع الرمز ▲ ص ٩٧
- ٢- مدينة صلالة بوضع الرمز ■ ص ٩٢
- ٣- دولة اعلن فيها قيام السوق الخليجية المشتركة بوضع الرمز ● ص ١٣٠

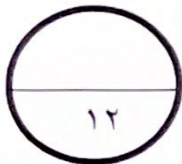
(ب) علل لما يأتي : (٦ درجات)

- ١ - ثقب طبقة الأوزون. ص ١٣٥
- بسبب التلوث الهوائي
- ٢- تحول رمال دولة الكويت من اللون الأصفر الى اللون الأسود. ص ١٣٩
- بسبب تساقط الرذاذ النفطي على التربة محدثا تلوثا أرضيا
- ٣- زيادة عدد السكان في منطقة الخليج العربي. ص ١١٠
- الزيادة الطبيعية
- الزيادة غير الطبيعية
- ٤- قيام دول الخليج العربية بإقامة العديد من الموانئ النفطية. ص ٩٠
- تزايد الطلب على النفط كمصدر للطاقة
- تزايد الإنتاج النفطي لدول الخليج العربية .



(ج) عرف ما يلي : (٣ درجات)

- ١- ترانزيت : إعادة تصدير البضائع المستوردة . ص ٩٩
- ٢- دخل قومي : هو مجموع الدخول التي تحصل عليها الدولة خلال عام. ص ٩٥
- ٣- عنف : السلوك العدواني الموجه ضد الغير و الذي يتسم بالتخريب و التدمير سواء كان السلوك اقوال او افعال . ص ١٤٤



السؤال الخامس (مقالي) يتكون من (أ - ب - ج) :

(أ) فرق بين كل مما يلي : (٤ درجات)

واردات ص ٩٩	صادرات ص ٩٩
البضائع و السلع التي تشتريها الدول من الخارج	السلع والمنتجات التي تبيعها الدول في الخارج
تلوث أرضي (تربة) ١٣٤	تلوث ضوضائي ص ١٣٤
دخول مواد غريبة في التربة مما يلحق الضرر في خواصها ومكوناتها	أصوات غير متجانسة تجتاز شدتها المعدل الطبيعي المسموح به للأذن

(ب) أصدر حكماً على مدى صحة أو خطأ العبارة التالية مع التعليل : درجتان

(إحراق الآبار النفطية الكويتية مصدر للتلوث بأنواعه الثلاث) ص ١٣٩
الحكم : عبارة صحيحة
التعليل (أذكر أنواع التلوث) : تلوث مياه - تلوث تربة - تلوث جوي

(ج) اكتب فيما يلي مما درست : (٦ درجات)

١- شهدت منطقة الخليج العربية بعد اكتشاف النفط نموا سكانيا فجانبا . ص ١١٠

● ارتفاع دخل الفرد

● توفر الرعاية الصحية ● توفر فرص العمل

٢- مجالات التعاون السياسي بين دول مجلس التعاون الخليجي. ص ١٢٩

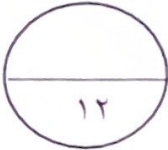
● ادانة احتلال الجزر الإماراتية الثلاث.

● توحيد الموقف السياسي تجاه القضايا (قضية فلسطين).

٣- النتائج المترتبة على تلوث التربة . ص ١٣٤

● ضعف قدرتها على الإنتاج الزراعي.

● تلوث الإنتاج الزراعي مما يؤثر على صحة الإنسان.



انتهت الأسئلة