

تم تحميل هذا الملف من موقع ملفات الكويت التعليمية



[com.kwedufiles.www//:https](https://www.kwedufiles.com)

\*للحصول على أوراق عمل لجميع الصفوف وجميع المواد اضغط هنا

\* للحصول على أوراق عمل لجميع مواد الصف الخامس اضغط هنا

<https://kwedufiles.com/5>

\* للحصول على جميع أوراق الصف الخامس في مادة اجتماعيات ولجميع الفصول, اضغط هنا

<https://kwedufiles.com/5social>

\* للحصول على أوراق عمل لجميع مواد الصف الخامس في مادة اجتماعيات الخاصة بـ الفصل الأول اضغط هنا

<https://www.kwedufiles.com/5social1>

\* لتحميل كتب جميع المواد في جميع الفصول للـ الصف الخامس اضغط هنا

<https://www.kwedufiles.com/grade5>

\* لتحميل جميع ملفات المدرس كويتية الدغيم اضغط هنا

[bot\\_kwlinks/me.t//:https](https://t.me/bot_kwlinks)

\* للحصول على جميع روابط الصفوف على تلغرام وفيسبوك من قنوات وصفحات: اضغط هنا

الروابط التالية هي روابط الصف الخامس على مواقع التواصل الاجتماعي

مجموعة الفيسبوك

صفحة الفيسبوك

مجموعة التلغرام

بوت التلغرام

قناة التلغرام

رياضيات على التلغرام

ملخص دروس الصف الخامس

( الوحدة الأولى + الوحدة الثانية )

“ قل لي، وأنا سأنسى...  
بين لي، وأنا سأذكر...  
أشركني وأنا سأفهم...”

الاستاذة: كويتية الدغيم

## عنوان الدرس : سطح الكرة الارضية

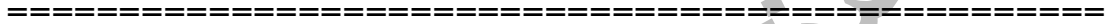


١- عدد مكونات سطح الكرة الأرضية :

ا. يابس      ب. ماء

٢. كم تبلغ نسبة الماء من سطح الكرة الأرضية؟

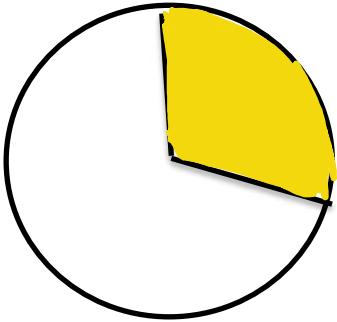
\_\_ حوالي ٧٠٪ من نسبة الكرة الأرضية وتكون على شكل مسطحات مائية.



٣. اكمل البيانات الناقصة من خلال الدائرة البيانية التالية :

ا. لون نسبة اليابس على سطح الكرة الأرضية باللون الاصفر

والتي تبلغ نسبة .. ٣٠٪ ..



٤. اكمل العبارات التالية بما تراه مناسباً :

ا. تتمثل اليابسة على سطح الكرة الأرضية بشكل ... القارات ....

ب. تشكل اليابسة من مساحة للكرة الأرضية نسبة ... ٣٠٪ ..

ج. مساحة الماء على سطح الكرة الأرضية ... اكبر ... من مساحة اليابس

# المسطحات المائية

.1



1- عدد أشكال المسطحات المائية على سطح الكرة الأرضية ؟

ا. المحيطات. ب. بحار. ج. خلجان. د. انهار. هـ. بحيرات. و. مضائق

2- صنف الكلمات التالية في الجدول الذي أمامك بما تراه مناسباً :

محيطات	بحار	خلجان
الهادي - الهندي الاطلسي المتجمد الشمالي المتجمد الجنوبي	بحر العرب البحر المتوسط البحر الأحمر	الخليج العربي خليج عمان

3- عرف:

- **الخليج** هو : بحر ضيق يمتد طولياً بين اليابس .
- **البحر** هو : مسطح مائي أصغر من المحيط يفصل بين القارات.
- **المحيط** هو : مسطح مائي كبير جدا من الماء المالح .

٤. ضع علامة صح أمام العبارة الصحيحة، وعلامة خطأ أمام العبارة الخاطئة :

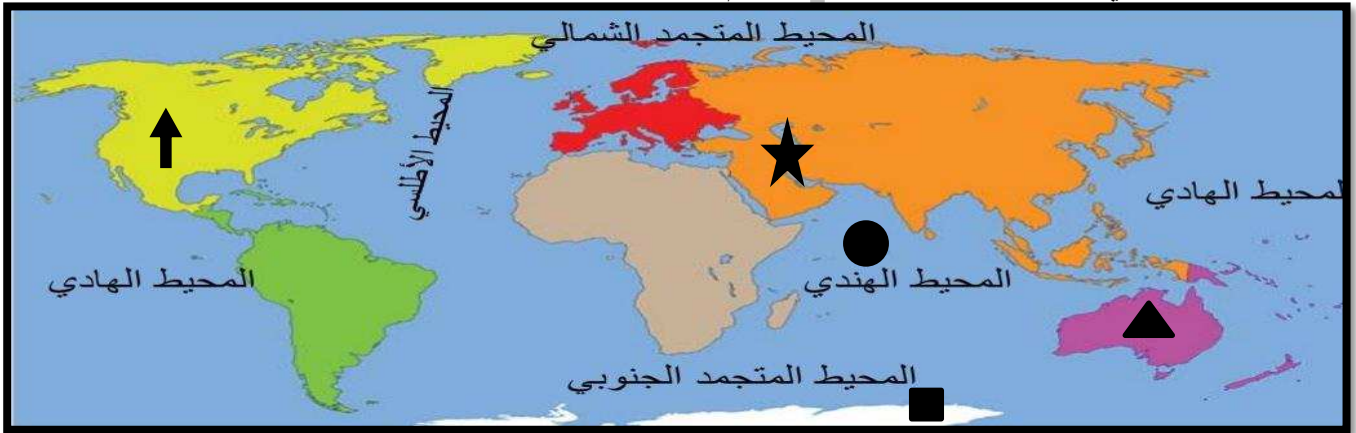
- ا. اكبر المحيطات مساحة هو المحيط الهادي (✓)
- ب. تطل بلاد الكويت على مسطح مائي يسمى بحر العرب (X) الخليج العربي
- ج. مسطح مائي يفصل بين القارات يسمى بحر (✓)
- د. يبلغ عدد المحيطات في العالم سبعة محيطات. (X) خمسة



# ب. القارات



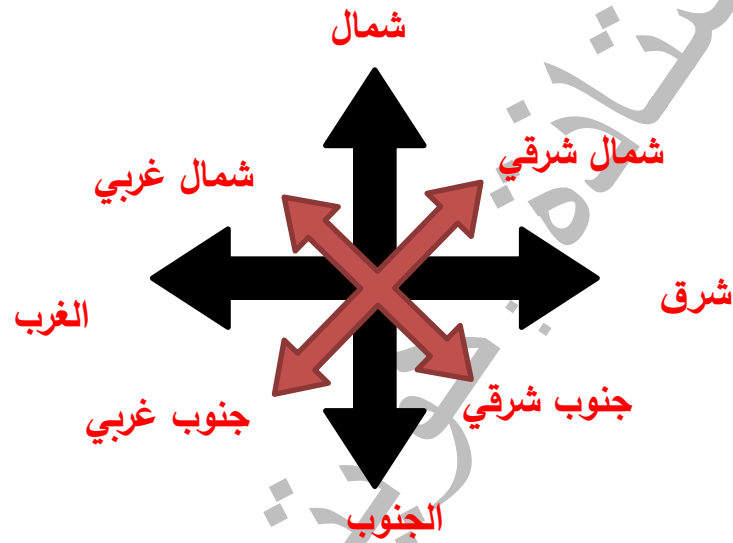
- عرف :  
القارة هي : **مساحة كبيرة من اليابس يحيط بها الماء.**
- ضع علامة صح أمام العبارة الصحيحة ، وعلامة خطأ تمام العبارة الخاطئة :
  1. يتكون العالم بالعدد من القارات عددها ستة قارات (X) سبعة قارات
  2. اكبر القارات العالم مساحة وأكثرها سكاناً هي قارة أفريقيا. (X) قارة اسيا
  3. أصغر قارة من حيث المساحة هي قارة أستراليا. (✓)
  4. تقع دولة الكويت في قارة اسيا. (✓)
  5. القارة الغير مأهولة بالسكان هي القارة القطبية الشمالية. (X) القطبية الجنوبية
- اكمل البيانات التي أمامك من خلال خريطة العالم :



- 1- حدد القارة التي تقع فيها دولة الكويت بالشكل ★ وهي قارة ... **اسيا** ...
- 2- ضع الشكل ▲ في القارة الأصغر مساحة وهي قارة .. **أستراليا** ...
- 3- حدد المحيط الذي تطل عليه شبة الجزيرة العربية بالشكل ● وهو المحيط .. **الهندي** ...
- 4- ضع الشكل ■ في القارة الغير مأهولة بالسكان وهي قارة ... **القطبية الجنوبية** ...
- 5- حدد موقع قارة أمريكا الشمالية باستخدام الشكل ↑



- اكمل المخطط السهمي لتشكّل الاتجاهات الفرعية والرئيسية الناقصة :



- علل : تسمية دول الخليج العربية بهذا الاسم؟

= لأنها تطل على مسطح مائي يسمى الخليج العربي.

- اكمل العبارات التاليه بما تراه مناسباً :

= دول الخليج العربية عددها ... ستة دول..

= تقع جميع الدول الخليجية على الساحل ... الغربي... للخليج العربي.

= تقع دولة الكويت بالنسبة لشبة الجزيرة العربية في جهة.. الشمال الشرقي...

= المسطح المائي الذي تطل عليه جميع دول الخليج العربية يسمى ... الخليج العربي...



1- عرف :

أ- **القناة** : ممر مائي صناعي ضيق يشق للربط بين مسطحين مائيين.

2- اكمل :

أ- يقع الوطن العربي بالنسبة للعالم في ... **الوسط**...ب- يمتد الوطن العربي بين قارتي .. **أفريقيا**... و.. **اسيا**..ت- تقع دولة الكويت بالنسبة للوطن العربي في جهة... **الشرق**..ث- دول الوطن العربي عددها.. **٢٢** دولة.

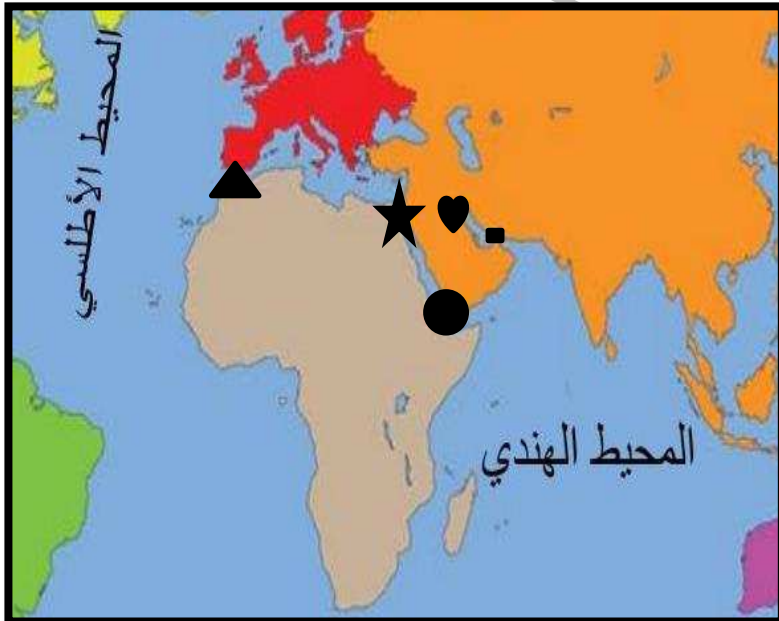
٣- علل :

- أصبح للوطن العربي أهمية كبيرة في الملاحة والتجارة العالمية؟

- **لأنها تطل على العديد من المسطحات المائية والمضائق المائية.**

٤- عدد السمات المشتركة بين دول الوطن العربي؟

١. الدين. ب. اللغة العربية. ج. التراث. و. التاريخ. هـ. الأهداف المشتركة



من خلال الخريطة التي أمامك حدد ما يلي :

١. مضيق هرمز باستخدام الشكل ■

٢. مضيق باب المندب باستخدام الشكل ●

٣. مضيق جبل طارق باستخدام الشكل ▲

٤. قناة السويس باستخدام الشكل ★

٥. موقع دولة الكويت باستخدام الشكل ♥

# بلاد الكويت ودول العالم الإسلامي



## 1- عرف : العالم الإسلامي :

- مجموعة من الدول التي يكون فيها عدد المسلمين ٥٠% فأكثر من مجموع السكان.


## 2- اكمل العبارات التالية بما تراه مناسباً :

- أ- يمتد العالم الإسلامي في أربعة قارات وهي .. اسيا ... و.. أفريقيا .. و.. أوروبا ... و.. أمريكا الجنوبية ...  
 ب- تقع دولة الكويت بالنسبة للعالم الإسلامي في ... الوسط ...  
 ت- يحتل العالم الإسلامي بالنسبة للعالم موقعا .. متوسطا ..

## 3- اختر الإجابة الصحيحة من بين البدائل الموجودة :

١. عدد المسلمين في العالم الإسلامي يحتل من سكان العالم :  
 - ربع - نصف - ٧٠% - ٩٠%

ب. مساحة العالم الإسلامي بالنسبة لمساحة الكرة الأرضية هي :



ج. اقل القارات التي تمتلك دول إسلامية هي قارة :

- أوروبا - اسيا - أفريقيا - أمريكا الجنوبية

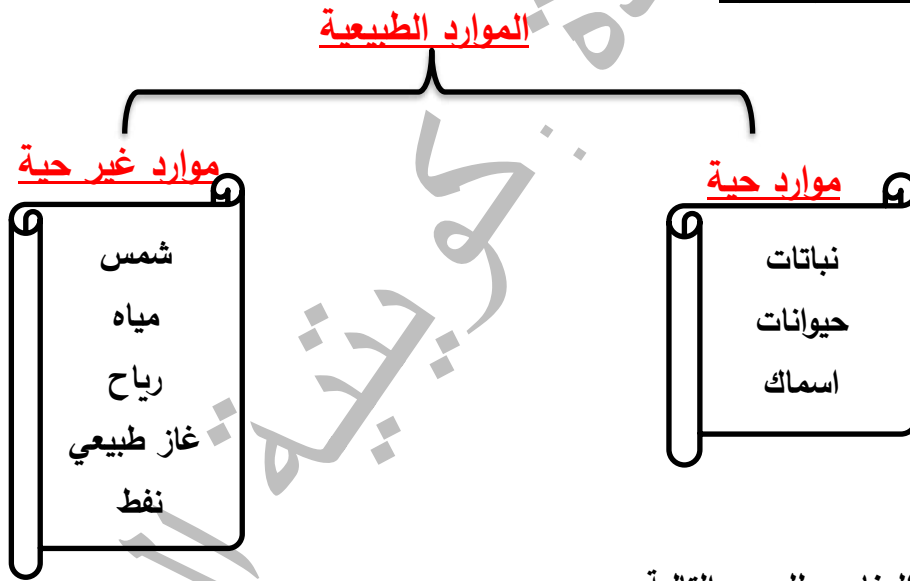
د. عدد البحار التي يطل عليها العالم الإسلامي هي :

- ٦ بحار. - ١٨ بحراً. - بحر واحد. - ٢٠ بحراً



## الوحدة ٢ الموارد الطبيعية في بلادنا

- عرف :  
الموارد الطبيعية : هي كل ما اوجده الله في الطبيعة دون أن يكون للإنسان دخل في وجودها
- عدد انواع الموارد الطبيعية؟  
- موارد حية. - موارد غير حية
- علل : أهمية الموارد الطبيعية؟  
- تلبي احتياجاتنا. - أهمية اقتصادية
- اكمل المخطط السهمي التالي :



- ضع العنوان المناسب للصور التالية :



مورد حي  
نبات

مورد غير حي  
غاز طبيعي



## الوحدة ٢ النبات الطبيعي في بلاد الكويت



- 1- علل :
- أهمية النباتات الطبيعية؟
  - ا. رعي الحيوانات
  - ب. الحصول على الأخشاب والوقود.
  - ج. صناعة الأدوية والصابون
  - المشكلات التي يواجهها النبات الطبيعي في بلاد الكويت؟
  - 1- تلوث التربة.
  - ب. الرعي الجائر.
  - ج. قطع الأشجار والنباتات.
  - د. التوسع في بناء المصانع
  - يسود النبات الصحراوي في بلاد الكويت؟
  - ا. شدة الحرارة.
  - ب. قلة الأمطار.
  - ج. فقر التربة
- 2- عرف :
- 1- النبات الطبيعي : هو النبات الذي ينمو دون تدخل الانسان فيه.
- 3- فرق بين النباتات المعمورة والحوالية من حيث التعريف والامثلة :

المقارنة	النبات الحولي او الموسمي	النبات الدائم او المعمر
التعريف	هي حشائش تنبت بعد سقوط الامطار وتموت بسرعة	نباتات تنمو طوال العام وجذورها عميقة تساعد على الاستفادة من الماء .
مثال	الربلة / الخزامى	العرفج / الرمث

### اكمل :

- 1- مميزات الشتاء في الإقليم الصحراوي انه... ممطر وبارد ...
- 2- تقع دولة الكويت ضمن إقليم مناخي يسمى ... إقليم صحراوي ..
- 3- يعتبر نبات العرفج من النباتات .. المعمرة ...
- 4- معظم النباتات تنمو في فصل... الربيع ...
- 5- اغلب النباتات السائد في دولة الكويت من النوع... الصحراوي ...
- 6- يتميز الإقليم الصحراوي انه في الصيف يصبح .... شديد الحرارة ... و... قليل الامطار...

تابع :النبات الطبيعي في بلادي  
الكويت



- اكتب البيانات الناقصة تحت الصور التالية :



اسم النبات : **الخزامى**  
نوع النبات : **حولي**  
فترة نموه : **بعد سقوط المطر**



اسم النبات : **العرفج**  
نوع النبات : **معمر**  
فترة نموه : **طوال العام**

- عرف :

المحمية الطبيعية : أماكن تخصصها الدولة لحماية الحيوانات والنباتات المهددة بالانقراض.

- عدد :

-الجهود التي تقدمها الدولة في المحافظة على النبات الطبيعي؟

- انشاء محميات طبيعية.
- سن قوانين لمنع إتلاف وتدمير النبات
- تحديد مواسم التخيم في الربيع.

- اختر الإجابة الصحيحة من بين البدائل التالية :

1- تنتمي شجرة السدر والنخيل الي النباتات :

- المعمرة.
- الحولية.
- الفصلية.

٢- تتعدد النباتات الحولية احدهما :

- الرمث.
- العرفج.
- الخزامى.

٣- الهيئة التي تحافظ على النبات الطبيعي هي :

- الهيئة العامة للشباب والرياضة.
- الهيئة العامة للبيئة.
- الهيئة العامة للتجارة