

تم تحميل هذا الملف من موقع ملفات الكويت التعليمية



[com.kwedufiles.www//:https](https://www.kwedufiles.com)

*للحصول على أوراق عمل لجميع الصفوف وجميع المواد اضغط هنا

* للحصول على أوراق عمل لجميع مواد الصف الأول اضغط هنا

<https://kwedufiles.com/1>

* للحصول على جميع أوراق الصف الأول في مادة رياضيات ولجميع الفصول, اضغط هنا

<https://kwedufiles.com/1math>

* للحصول على أوراق عمل لجميع مواد الصف الأول في مادة رياضيات الخاصة بـ الفصل الثاني اضغط هنا

<https://www.kwedufiles.com/1math2>

* لتحميل كتب جميع المواد في جميع الفصول للـ الصف الأول اضغط هنا

<https://www.kwedufiles.com/grade1>

[bot_kwlinks/me.t//:https](https://t.me/bot_kwlinks)

للحصول على جميع روابط الصفوف على تلغرام وفيسبوك من قنوات وصفحات: اضغط هنا

الروابط التالية هي روابط الصف الأول على مواقع التواصل الاجتماعي

مجموعة الفيسبوك

صفحة الفيسبوك

مجموعة التلغرام

بوت التلغرام

قناة التلغرام

رياضيات على التلغرام

ورقة عمل: الطرح الرأسي

الاسم :


الصف : الأول

التاريخ

١٤٤٢ / / هـ


أَضَعُ عَلَامَةَ × عَلَى النِّقَاطِ الْمَطْرُوحَةِ؛ لِأَجِدَ نَاتِجَ الطَّرْحِ رَأْسِيًّا وَأُفْقِيًّا:

٢

$$\begin{array}{r} 9 \\ - 4 \\ \hline \end{array}$$



..... = ٤ - ٩

١

$$\begin{array}{r} 4 \\ - 2 \\ \hline \end{array}$$



..... = ٢ - ٤

٤

$$\begin{array}{r} 7 \\ - 2 \\ \hline \end{array}$$


..... = ٢ - ٧

٣

$$\begin{array}{r} 8 \\ - 3 \\ \hline \end{array}$$


..... = ٣ - ٨

اكتب جمل الطرح التالية، ثم اوجد الحل:

٦ يَقِفُ عَلَى غُصْنِ الشَّجَرَةِ ٩ عَصَافِيرَ، طَارَ ٣ مِنْهَا. كَمْ عَصْفُورًا بَقِيَ عَلَى الْغُصْنِ؟

$$\begin{array}{r} \square \\ \square \\ - \\ \hline \square \end{array}$$

٥ لَدَى رِضْوَانَ ٥ رِيَالَاتٍ، أَعْطَى أَخَاهُ رِيَالَيْنِ. كَمْ بَقِيَ لَدَى رِضْوَانَ؟

$$\begin{array}{r} \square \\ \square \\ - \\ \hline \square \end{array}$$