
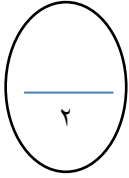


السؤال الأول : اجمع. استخدم  و  :

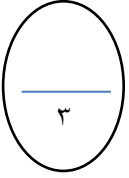


(١)

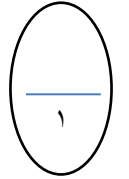


$$\underline{\quad\quad\quad} = 6 - 15$$

السؤال الثاني : رتب الاعداد ( من الاصغر الى الاكبر )



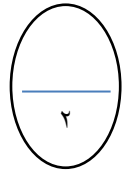
١٩	٨	١٤
----	---	----






السؤال الثالث : اكتب < أو > أو =

$$14 \bigcirc 17 \quad (١)$$

السؤال الرابع : حل



مع خالد ٧   
 محمد ٣   
 سالم  ٤ 

عدد الكل



١١

السؤال الخامس : لون الاجابة الصحيحة

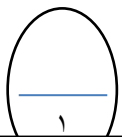
٢ +



١٤

١٣

١٢



( لون السادس )

السؤال السادس : لون لتوضيح الترتيب



مديرة المدرسة : سعاد البيدان

رئيسة القسم: حنان الصراف

قسم الرياضيات