

تم تحميل هذا الملف من موقع المناهج الكويتية



منطقة العاصمة التعليمية

الملف نموذج إجابة اختبار منطقة العاصمة التعليمية

[موقع المناهج](#) ← [المناهج الكويتية](#) ← [الصف السادس](#) ← [اجتماعيات](#) ← [الفصل الثاني](#)

روابط مواقع التواصل الاجتماعي بحسب الصف السادس



روابط مواد الصف السادس على تلغرام

[الرياضيات](#)

[اللغة الانجليزية](#)

[اللغة العربية](#)

[التربية الاسلامية](#)

المزيد من الملفات بحسب الصف السادس والمادة اجتماعيات في الفصل الثاني

<a href="#">مراجعة</a>	1
<a href="#">مراجعة</a>	2
<a href="#">مراجعة</a>	3
<a href="#">مذكرة في مادة الاجتماعيات</a>	4
<a href="#">مراجعة محلولة ومفيدة في مادة الاجتماعيات</a>	5





وزارة التربية  
الإدارة العامة لمنطقة العاصمة التعليمية  
التوجيه الفني للاجتماعيات  
نموذج إجابة امتحان نهاية الفترة الدراسية الثانية العام الدراسي: ٢٠٢٣ / ٢٠٢٤ م  
الزمن: ساعة وخمس وأربعون دقيقة  
للمنصف السادس  
مقرر (الكويت ودول الخليج العربية)  
عدد الأوراق: ٥ أوراق

السؤال الأول (موضوعي): ويتكون من (أ - ب):

(أ) أكمل العبارات التالية بما يناسبها مما درست: (٦ درجات - لكل نقطة درجة)

- ١- الدولة الخليجية الأعلى في نسبة الوافدين تسمى .....الإمارات..... ص ١١٢
- ٢- وحدة قياس شدة الضوضاء التي تتعرض لها الأذن البشرية تسمى ... الديسبل ص ١٣٤
- ٣- كميات النفط المخزونة في باطن الأرض تسمى.....احتياطي النفط..... ص ٨٨
- ٤- المدينة التي يقع فيها مقر مكتب التربية العربي لدول مجلس التعاون الخليجي اسمها...الرياض..... ص ١٣٠
- ٥- العام الذي بدأ فيه التنقيب عن النفط في دولة الكويت .....١٩٣٤م..... ص ٨٧
- ٦- عدد الآبار النفطية الكويتية التي قام العدوان العراقي بإشغالها.....٧٣٧..... ص ١٣٩

(ب) اختر الإجابة الصحيحة من بين البدائل التالية بوضع خط تحتها: (٦ درجات - لكل نقطة درجة)

- ١- المحصول الذي نجحت المملكة العربية السعودية في زراعته: ص ٩٢  
(القطن - الذرة - القمح - الأرز) تم التحميل من شبكة ياكويت التعليمية
- ٢- العمالة المنزلية تمثل أحد مشكلات دول الخليج العربية في المجال: ص ١٤٢  
(السياسي - الاقتصادي - الثقافي - الاجتماعي)
- ٣- مصدر طبيعي لتلوث الهواء: ص ١٣٤  
(حرق النفايات - البراكين - المبيدات الحشرية - الصناعة)
- ٤- درع واق للأحياء ضد خطر الأشعة فوق البنفسجية الضارة: ص ١٣٥  
(الدخان - الضباب - الأوزون - الهواء)
- ٥- تم تصدير أول شحنة من النفط الكويتي في عهد الشيخ: ص ٩٠  
(عبدالله السالم - مبارك الصباح - جابر الأحمد - أحمد الجابر)
- ٦- أصغر دولة خليجية من حيث المساحة: ص ١١٤  
(البحرين - الكويت - قطر - عمان)



**السؤال الثاني (موضوعي): ويتكون من (أ - ب):**

**(أ) صنف الهجرات التالية في مكانها الصحيح حسب الجدول التالي: (٦ درجات - لكل نقطة درجة)**

(القواسم - المعاضيد - آل الصباح - الأزد - بني ياس - آل خليفة) ص ١٠٨

دولة الكويت	البحرين	قطر	أبو ظبي	رأس الخيمة	عُمان
<u>آل الصباح</u>	<u>آل خليفة</u>	<u>المعاضيد</u>	<u>بني ياس</u>	<u>القواسم</u>	<u>الأزد</u>


موقع المنهج الكويتي تم التحميل من شبكة ياكويت التعليمية



(٦ درجات - لكل نقطة درجة)

**(ب) أكمل المخططات السهمية التالية:**

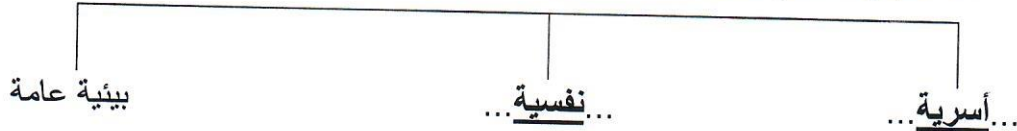
١- الروابط التي تربط سكان دول الخليج العربية ص ١١٧، ١١٨، ١١٩، ١٢٠



٢- أهم أنواع صناعات منطقة الشعبية في دولة الكويت ص ٩٦



٣- أسباب انتشار مشكلة العنف بين المتعلمين ص ١٤٩



السؤال الثالث (موضوعي): ويتكون من (أ - ب - ج): (٤ درجات - لكل نقطة درجة) ص ١٢٩ ، ١٣٠

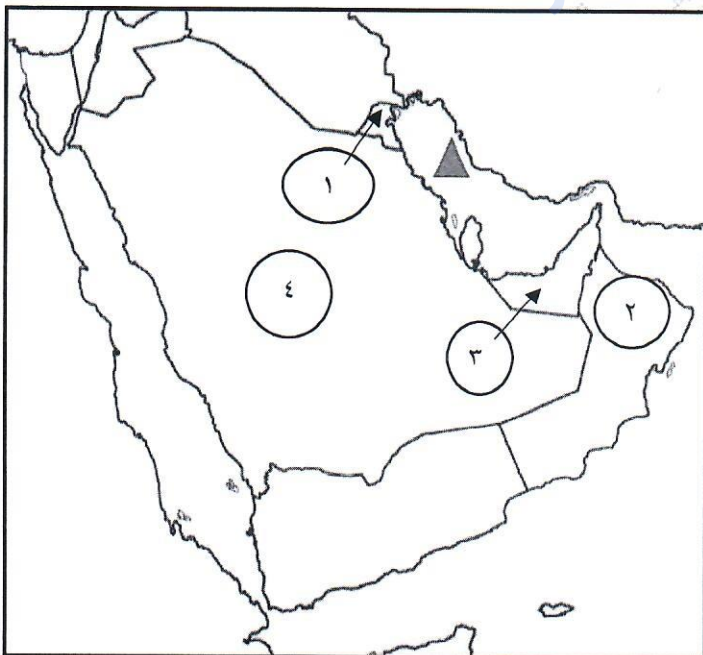
(أ) اختر لعبارات القائمة (ب) ما يناسبها من القائمة (أ) بوضع الرقم الصحيح بين القوسين:

م	القائمة ( أ )	الرقم الصحيح	القائمة ( ب )
١	تعاون سياسي	( ٢ )	المناورات العسكرية المختلفة
٢	تعاون عسكري	( ١ )	مناصرة القضايا العادلة مثل قضية الشعب الفلسطيني
٣	تعاون اقتصادي	( ٤ )	توحيد المناهج التعليمية وتطويرها
٤	تعاون ثقافي	( ٣ )	زيادة التبادل التجاري
		( )	دورة كأس الخليج لكرة القدم

(ب) اكتب المفهوم أو المصطلح الدال على كل من العبارات التالية: (٤ درجات - لكل نقطة درجة)

- ١- (الزراعة بدون تربة) الزراعة التي تتم في بيئة مائية أو رملية أو حصى أو نشارة خشب تضاف إليها المحاليل الغذائية. ص ٩٤
- ٢- (.....السلالة.....) مجموعة من الناس تشترك فيما بينها في الصفات الجسمانية الرئيسية كلون الجلد وشكل الأنف وشكل الشعر وطول القامة. ص ١٠٦
- ٣- (.....التلوث.....) الضرر الذي يصيب عناصر البيئة الأساسية فتتحول من عناصر مفيدة إلى عناصر ضارة. ص ١٣٣
- ٤- (الكثافة السكانية) عدد السكان في الكيلو متر مربع، وتقاس بقسمة عدد السكان على مساحة الدولة. ص ١١٤

(ج) لاحظ خريطة شبه الجزيرة العربية التي أمامك ثم استعن بالمدلولات التي عليها لإكمال العبارات التالية: درجات



- ١- الشكل ▲ يمثل مسطح مائي يسمى الخليج العربي ص ٩١
- ٢- دولة خليجية لم تتعرض للاستعمار الأجنبي يمثلها على الخريطة الرقم ( ٤ ) ص ١٢٠
- ٣- الدولة الخليجية التي يوجد بها حقل برقان يمثلها على الخريطة الرقم ( ١ ) ص ٩١
- ٤- الدولة الخليجية التي يوجد بها سهل الباطنة يمثلها على الخريطة الرقم ( ٢ ) ص ٩٢



**السؤال الرابع (مقالى): ويتكون من (أ - ب - ج):**

**(أ) لاحظ الشكل المقابل ثم أجب عن الأسئلة التالية: (٤ درجات - لكل نقطة درجة)**



١- سجل عنواناً مناسباً للصورة المقابلة. ص ١٤٤ ، ١٤٥

مشكلة العنف (وكل ما يراه المصحح مناسباً).....

٢- عدد أشكال أو صور العنف. (يكتفى بنقطتين)

... (العنف اللفظي - التدمير - التخريب)

٣- اقترح حلولاً لمشكلة العنف. ص ١٥٠ (يكتفى بنقطة واحدة)

..... الاهتمام الجاد بالقرآن الكريم والسنة النبوية - الاهتمام بالقراءة والمطالعة بدلاً من أصدقاء السوء -

القوة الحسنة مع كل المحيطين بالشباب - اتباع أساليب الحوار والتفاهم في علاج المشكلات والخلافات.....

( وما يراه المصحح مناسباً )

**(ب) عرف لكل مما يلي: (٤ درجات - لكل نقطة درجة)**

١- الترانزيت: ..... إعادة تصدير البضائع المستوردة. ص ٩٩

٢- الثقافة: ..... مجموعة من العادات والتقاليد والقيم في مجتمع من المجتمعات. ص ١١٨

٣- إنتاج النفط: ... كميات النفط التي يتم استخراجها للاستفادة منها. ص ٨٨

٤- الزيادة الطبيعية: .... عدد المواليد - عدد الوفيات. ص ١١٠

**(ج) اكتب نقطتين فيما يلي: (٤ درجات - لكل نقطة درجة)**

١- التحديات التي تواجه دول الخليج العربية. ص ١٣٢ (يكتفى بنقطتين - لكل نقطة درجة)

..... الأمن الغذائي - التلوث البيئي - الأخطار الخارجية والداخلية.....

..... ندرة المياه الجوفية - الاعتماد على الموارد النفطية فقط - الغزو الثقافي.....

٢- أهم الدول المستوردة للنفط الكويتي. ص ٩٠ (يكتفى بنقطتين - لكل نقطة درجة)

..... الولايات المتحدة الأمريكية - هولندا.....

..... اليابان.....

**السؤال الخامس (مقالى): ويتكون من (أ - ب - ج):**

(أ) **اقرأ الفقرة التالية ثم أجب عما يليها من أسئلة:** ص ١١٠ ، ١١١ (٤ درجات - لكل نقطة درجة)

شهدت منطقة الخليج العربية بعد اكتشاف النفط نمواً سكانياً مطرداً (فجائياً) نتيجة لأسباب عدة أهمها، ارتفاع دخل الفرد - توفر الرعاية الصحية - توفر فرص العمل، مما شجع على استقطاب الهجرة الداخلية والخارجية.

١- عرف ما تحته خط.

التغيير الذى يحدث لعدد السكان نتيجة للزيادة الطبيعية وغير الطبيعية

٢- استخرج من الفقرة السابقة:

- أسباب النمو السكاني الفجائي في منطقة الخليج العربية بعد اكتشاف النفط. (٢ درجتان)

ارتفاع دخل الفرد

توفر الرعاية الصحية

علل : أسباب الزيادة الغير طبيعية في دول مجلس التعاون الخليجي . من

بسبب الهجرة

(٤ درجات - لكل نقطة درجة)

(ب) **اذكر اثنين لكل مما يلي:**

١- وظائف العمالة المنزلية.

ص ١٤٢

(يكتفى بنقطتين - لكل نقطة درجة)

الطباخين.....الساكنين.....الحراس

المربيات

الخدم

تاروت السعودية

٢- أهم الحضارات التي ظهرت في منطقة الخليج العربي. ص ١٠٥ (يكتفى بنقطتين - لكل نقطة درجة)

دلمون البحرين.....هيلي الامارات.....أم النار قطر

دبا عمان.....تاروت السعودية

(٤ درجات - لكل نقطة درجة)

(ج) **علل لما يلي:**

١- ظهرت الحاجة إلى إقامة العديد من الموانئ النفطية في دول الخليج العربية. ص ٩٠ (يكتفى بنقطتين - لكل نقطة درجة)

- تزايد الإنتاج النفطى لدول مجلس التعاون من الحقول البرية والبحرية

- تزايد الطلب العالمى عليه كمصدر أساسى للطاقة

٢- حدوث التلوث البحري (المائى). ص ١٣٦ (يكتفى بنقطتين - لكل نقطة درجة)

- مخلفات المصانع - مياه الصرف الزراعى - النفط ومشتقاته

- مياه الصرف الصحى غير المعالجة - النفايات الخطرة - الأمطار الحمضية

انتهت الأسئلة