


تم تحميل هذا الملف من موقع المناهج الكويتية



الملف مذكرة إثرائية محلولة من عُلّا

موقع المناهج ← المناهج الكويتية ← الصف العاشر ← تاريخ ← الفصل الثاني

روابط مواقع التواصل الاجتماعي بحسب الصف العاشر




روابط مواد الصف العاشر على تلغرام

الرياضيات	اللغة الانجليزية	اللغة العربية	التربية الاسلامية
---------------------------	----------------------------------	-------------------------------	-----------------------------------

المزيد من الملفات بحسب الصف العاشر والمادة تاريخ في الفصل الثاني

مذكرة فصل ثاني	1
مذكرة شهر زاد تاريخ الكويت	2
حل تقويم لمادة التاريخ	3
اسئلة اختبارات واجوبتها النموذجية	4
اجتماعيات عاشر	5



تاريخ الكويت

الكورس الثاني

10



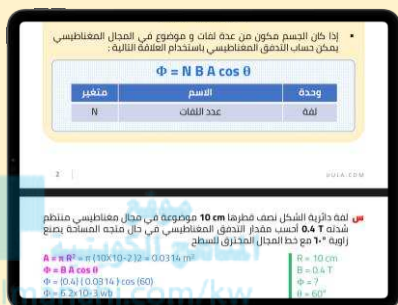
تاريخ الكويت

الكورس الثاني

10

شلون تتفوق بحراستك

طريقة علا المتكاملة للدراسة تشمل الاستفادة من المذكرة و الفيديوهات و الاختبارات



⚠ علا تخلي المذكرة أقوى

تبي أعلى الدرجات؟ لا تعتمد على المذكرة بروحها - ادرس صح من الفيديوهات و الاختبارات

اختبارات ذكية تحريك

حل الاختبارات الالكترونية أول بأول عشان ترفع مستواك



فيديوهات تشرح لك

تابع الفيديوهات و انت تدرس المذكرة عشان تضبط الدرس



اشترك بالمادة

احرص على تفعيل اشتراكك عشان تستفيد كثر ما تقدر



اكتشف عالم التفوق مع باقات علا

ادرس جميع مواد مرحلتك باشتراك واحد بسعر خيالي

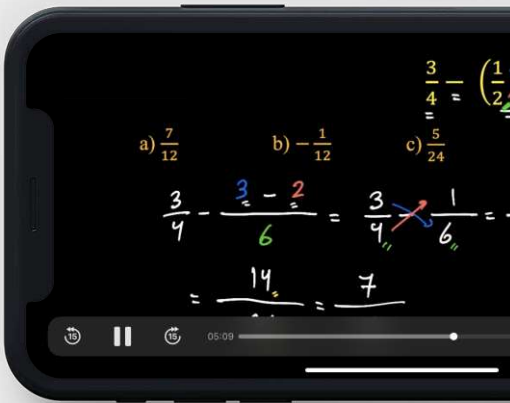
المنقذ

أقوى مذكرة صارت الحين أقوى و أقوى مع خاصية
المنقذ للمساعدة الفورية

شنو المنقذ ؟

امسح الباركود بكاميرا تلفونك
وتعرف على طريقة استخدام المنقذ

 **المنهج الكويتية**
almanahj.com/kw



شنو فائدة هالخاصية ؟

أول ما تحتاج مساعدة بالمادة , المنقذ بينقذك .

امسح الباركود بكاميرا التلفون أو اضغط عليه إذا كنت فاتح
المذكرة من جهازك و يطلع لك فيديو الشرح.

01

الأوضاع الداخلية والخارجية في الكويت

الشيخ جابر بن مبارك الصباح (1915 – 1917 م)	5
الشيخ سالم بن مبارك الصباح (1917 – 1921 م)	8
الشيخ أحمد الجابر الصباح (1921 م – 1950 م)	10

02

استقلال دولة الكويت

الشيخ عبد الله السالم الصباح (1950 – 1965 م)	17
الشيخ صباح السالم الصباح (1965 – 1977 م)	23
الشيخ جابر الأحمد الصباح (1977 – 2006 م)	26
سعد العبد الله السالم الصباح (2006 – 2006 م)	32
الشيخ / صباح الأحمد الصباح (2006 – 2020 م)	34
صاحب السمو أمير دولة الكويت الشيخ / نواف الأحمد الجابر الصباح حفظه الله ورعاه	43

03

العلاقات الكويتية العراقية

نظرة تاريخية على جذور العلاقة الكويتية - العراقية	49
التحرير - ترسيم الحدود الكويتية العراقية	67

04

رؤية الكويت الجديدة

رؤية الكويت الجديدة	71
نماذج لبعض المشاريع من الخطة التنموية لمستقبل دولة الكويت الجديدة	76
مشروع مبادرة الوقود البيئي لمؤسسة البترول الكويتية	79
الكويت الجديدة في 2035م مشروع استغلال الجزر الكويتية	86



الأوضاع الداخلية والخارجية للكويت

الشيخ جابر بن مبارك الصباح (1915 – 1917 م)

أكمل ما يلي:

ممكّن أن يظهر السؤال في صيغة أخرى: اختياري



س حاكم الكويت الثامن هو الشيخ
جابر بن مبارك

س الصورة المقابلة تمثل حاكم دولة الكويت يسمى
الشيخ جابر بن مبارك

س حاكم الكويت الذي اتسم بالطبيعة الهادئة وسلامة
الصدر والحلم يسمى الشيخ جابر بن مبارك

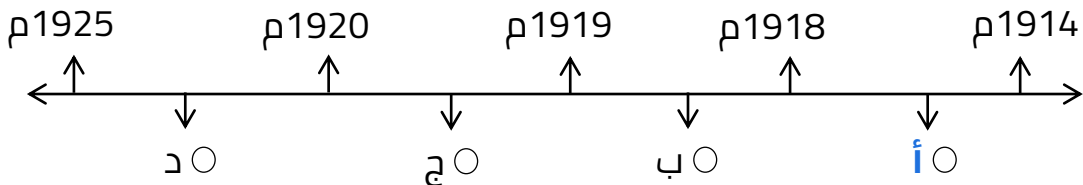
س الفترة الزمنية ما بين عام 1915 م إلى 1917 م تمثل
فترة حكم الشيخ جابر بن مبارك

س الحدث التاريخي الذي شهدته فترة حكم الشيخ جابر
بن مبارك الصباح هو الحرب العالمية الأولى

س حاكم الكويت الذي عاصر الحرب العالمية الأولى
(1914 – 1918 م) هو جابر بن مبارك

س الشيخ الذي اتبع أسلوب أبيه في الحكم هو
جابر بن مبارك

س اختياري الفترة الزمنية التي تمثل الحرب العالمية الأولى يمثلها على المخطط
الزمني الحرف:



س علل تعتبر فترة حكم الشيخ جابر بن مبارك فترة دقيقة ومختلفة الاتجاهات

- لفترة حكمه عاصرت حدث تاريخي مهم وهو الحرب العالمية الأولى
- أي خطوة غير محسوبة في علاقة الكويت بالقوى المجاورة محفوفة بالمخاطر
- أي خطوة غير محسوبة لها تبعاتها لا على الكويت فحسب بل على السلطة ذاتها

س عدد - سمات الشيخ جابر بن مبارك الصباح (جابر المبارك)

- الطبيعة الهادئة
- سلامة الصدر والحلم

س عدد أهم الأعمال التي وقعت في عهد الشيخ جابر بن مبارك

أكمل

اختياري

ممكّن أن يظهر السؤال في صيغة أخرى:
فند " لم يكن للشيخ جابر بن مبارك أي أعمال هامة خلال فترة حكمه "

- إعفاء الكويتيين من ضريبة الثلث على العقارات
- في عهده عقدت بريطانيا مؤتمراً في الكويت عام 1916 م
- بهدف وقوف الدول العربية بجوارها ضد الدولة العثمانية أثناء الحرب العالمية الأولى

س أكمل : حاكم الكويت الذي ألغى ضريبة الثلث على العقارات يسمى الشيخ جابر بن مبارك



تدرب و تفوق
اختبارات الكترونية



س علل عقد بريطانيا مؤتمراً في الكويت عام 1916 م؟

- بهدف وقوف الدول العربية بجوارها ضد الدولة العثمانية أثناء الحرب العالمية الأولى
- وفاء بريطانيا بوعودها في الاستقلال وتحقيق الوحدة العربية

أكمل ما يلي:

ممكّن أن يظهر السؤال في صيغة أخرى: **اختياري**

س العام الميلادي الذي عقدت فيه بريطانيا مؤتمراً في الكويت أثناء الحرب العالمية الأولى 1916 م

س أمير نجد الذي حضر مؤتمر بريطانيا في الكويت عام 1916 م هو عبد العزيز آل سعود.

س أمير الأهواز الذي حضر مؤتمر بريطانيا في الكويت عام 1916 م هو الشيخ خزعل.

س رئيس المؤتمر البريطاني في الكويت عام 1916 م هو برسي كوكس.

س اختر الإجابة الصحيحة - العام الميلادي الذي عقدت فيه بريطانيا مؤتمراً في الكويت أثناء الحرب العالمية الأولى:

☐ 1911 م

☐ 1914 م

☐ 1916 م

☐ 1919 م

اقرأ ثم أجب عما يلي:



" إن جل قصدنا من هذا الاجتماع هو دعم مسائل الأمة العربية "

س من القائل: الشيخ خزعل والشيخ جابر

س لمن وجهت هذه الرسالة: السير (برسي كوكس) - المقيم السياسي البريطاني

" إن اجتماعنا في الكويت كان يهدف إلى دعم مسائل الأمة العربية وصيانة حقوقها "

س فرق بين السبب المعلن والغير معلن لعقد مؤتمر بريطانيا عام 1916 م مع بعض زعماء العرب

وقوف الدول العربية بجوار بريطانيا ضد الدولة العثمانية في الحرب العالمية الأولى مقابل الحصول على الاستقلال وتحقيق الوحدة العربية	السبب المعلن
ترسيخ الوجود البريطاني في منطقة الخليج	السبب الغير معلن



تدرب و تفوق
اختبارات الكترونية



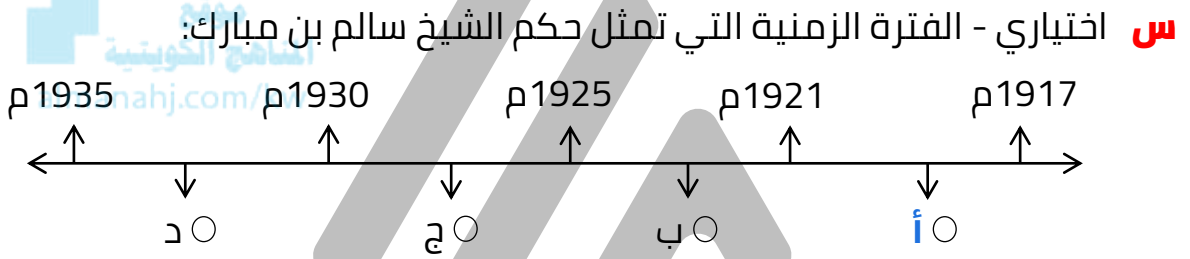
الشيخ سالم بن مبارك الصباح (1917 – 1921 م)

أكمل ما يلي:



س الحاكم التاسع لدولة الكويت هو الشيخ سالم بن مبارك الصباح.

س الفترة الزمنية من عام 1917 إلى 1921 م تمثل فترة حكم الشيخ سالم بن مبارك.



س عدد سمات الشيخ سالم بن مبارك الصباح؟

- الشجاعة
- الإقدام
- الإلمام بالنحو ومطالعة الكتب الأدبية
- حفظ الأشعار العربية وبعض المسائل الدينية

نفذ المطلوب منك مما بين القوسين

س الشيخ سالم بن مبارك : (أعماله)

ممكّن أن يظهر السؤال في صيغة أخرى:
فند " لم يكن للشيخ سالم بن مبارك الصباح أي أعمال هامة خلال فترة حكمه "

- خفض الرسوم الجمركية
- إلغاء الضرائب على الصادرات
- تعيين المختارين في الأحياء

س الشيخ سالم بن مبارك : (اكتب أهم الأحداث الهامة)

- حرب الجبراء في أكتوبر 1920 م
- معركة حمض في مايو 1920 م
- بناء السور الثالث لحماية مدينة الكويت من أي هجوم بري

أكمل العبارات التالية

ممکن أن يظهر السؤال في صيغة أخرى: اختياري

س العام الميلادي الذي وقعت فيه حرب الجبراء 1920 م . . .

س مظهر معماري تم بنائه في عهد الشيخ سالم بن مبارك يسمى الـسور الثالث .

س اختياري - السور الذي تم بناءه في عهد الشيخ سالم بن مبارك الصباح:

○ السور الأول ○ السور الثاني ○ السور الثالث ○ السور الرابع

س علل بناء الشيخ سالم بن مبارك السور الثالث ؟

لحماية مدينة الكويت من أي هجوم بري

أكمل العبارات التالية

س العام الميلادي الذي أكدت فيه الاتفاقية الإنجليزية العثمانية على حدود الكويت 1913 م . . .

س الوكيل السياسي البريطاني في الكويت عام 1920 م اسمه مالكولم . . .

س علل أهمية الاتفاقية الإنجليزية العثمانية عام 1913م؟

لأنها أكدت على حدود دولة الكويت

س فند " لم يحرص الشيخ سالم بن مبارك على تأكيد حدود دولة الكويت "

أرسل الشيخ سالم بن مبارك إلى الوكيل السياسي البريطاني في الكويت : ذكر فيها أن حدود بلاده كما يراها بموجب الاتفاقية العثمانية الإنجليزية عام 1913 م

س علل إرسال رسالة من قبل الشيخ سالم بن مبارك إلى الوكيل السياسي البريطاني في عام 1920 م ؟

بسبب النزاع على الحدود مع ابن سعود



تدرب و تفوق
اختبارات الكترونية



الأوضاع الداخلية والخارجية للكويت

الشيخ أحمد الجابر الصباح

(1921م – 1950م)

أكمل العبارات التالية



س الحاكم العاشر لدولة الكويت هو الشيخ أحمد الجابر الصباح

س الفترة الزمنية ما بين (1921 – 1950 م) تمثل فترة حكم الشيخ أحمد الجابر الصباح

س تولى الشيخ أحمد الجابر حكم دولة الكويت في عام 1921م وذلك بعد وفاة عمه الشيخ سالم بن مبارك

س اختر الإجابة الصحيحة - تولى الشيخ أحمد الجابر حكم دولة الكويت وعمره

○ 35 سنة ○ 36 سنة ○ 37 سنة ○ 38 سنة

س الأمير الذي كان موفداً إليه الشيخ أحمد الجابر عام 1921 م في الرياض يسمى عبد العزيز آل سعود

س دلل تولى الشيخ أحمد الجابر الصباح في فترة عصيبة من فترات السياسة الخارجية

يمكن أن يظهر السؤال في صيغة أخرى:
عدد أبرز القضايا المهمة التي تعامل معها الشيخ أحمد الجابر بعد توليه الحكم

- مشكلة الحدود والمسابقة مع السعوديين
- معالجة علاقات الكويت والعراق
- الحذر في المعاملة مع بريطانيا

عرف

المسابقة

هي حركة التجارة بين حضر الكويت وسكان البادية في الجزيرة العربية

س علل كان الشيخ أحمد الجابر حذراً في التعامل مع بريطانيا؟
لأن بريطانيا لم تنصف الكويت في معاهدة العقير عام 1922م

س أكمل العام الميلادي الذي وقعت فيه معاهدة العقير 1922م



تدرب و تفوق
اختبارات الكترونية



إدارة الشؤون الداخلية في عهد الشيخ أحمد الجابر

موقع
المناهج الكويتية
almanahj.com/

أكمل المخطط السهمي التالي:

س مجالات إدارة الشؤون الداخلية في عهد الشيخ أحمد الجابر



س دلل على صحة العبارة " طراً مع بداية حكم الشيخ أحمد الجابر تغيرات على مستوى المشاركة في القرار والشورى بين الحاكم والمحكوم "

ممكن أن يظهر السؤال في صيغة أخرى:
فند " لم يشهد عهد الشيخ أحمد الجابر أي تغيرات على مستوى المشاركة في القرار بين الحاكم والمحكوم

- إنشاء مجلس الشورى
- إنشاء المجلس البلدي
- إنشاء المجلس التشريعي

أكمل العبارات التالية

ممكن أن يظهر السؤال في صيغة أخرى: عرف

س المجلس الذي تشكل عام 1921 م من وجهاء أهل الكويت في عهد الشيخ أحمد الجابر يسمى **مجلس الشورى**

س العام الميلادي الذي أنشأ فيه أول مجلس بلدي في الكويت 1930م

س العام الميلادي الذي أنشأ فيه أول مجلس تشريعي في الكويت 1938م .

س علل لم يستمر مجلس الشورى طويلاً ؟

ممكن أن يظهر السؤال في صيغة أخرى: (فند) استمر مجلس الشورى طويلاً ؟

لأنه ثل من تلقاء نفسه بعد فترة لا تتعدى الشهرين

س قارن بين كل من:

المجلس	مجلس الشورى	المجلس البلدي	المجلس التشريعي
سنة التأسيس	1921 م	1930 م	1938 م
المهام	<ul style="list-style-type: none">إسداء الرأيالنصحالمشاركة بالقرار	<ul style="list-style-type: none">إدارة أمور التنظيم الداخلي للكويت من أسواقأمور النظافة العامة	<ul style="list-style-type: none">إدارة شؤون مدينة الكويت الداخلية بالتعاون مع حاكم الكويتإدارة الجمارك والأسواق وحل الصراعات بين التجار في الأسواقوضع ميزانية للإمارة

س اختياري : حل الصراعات بين التجار في الأسواق من مهام

○ مجلس الشورى ○ المجلس البلدي ○ المجلس التشريعي



تدرب و تفوق
اختبارات الكترونية



ثانياً: المجال الثقافي والتعليمي

س دلل على صحة العبارة " اهتمام الشيخ أحمد الجابر بالمجال الثقافي والتعليمي؟

- إنشاء المدرسة الأحمدية عام 1921 م
- إنشاء مجلس المعارف عام 1936 م

أكمل العبارات التالية

س العام الميلادي الذي أنشأت فيه المدرسة الأحمدية 1921م .

س الحي الكويتي الذي أنشأ فيه المدرسة الأحمدية عام 1921 م يسمى حي القبلة (الجبلة) .

س المبلغ الذي شيدت به المدرسة الأحمدية عام 1921 م هو 7500 روبية .

س عدد – المساهمين في تشييد بناء المدرسة الأحمدية عام 1921 م

- الأمير
- التجار

س عدد – مكونات المدرسة الأحمدية قبل عام 1943 م

- تكونت المدرسة من بنائين متقابلين يفصلهما شارع
- يتكون البناء الأول المقابل للبحر من ثمان غرف إحداها للناظر
- المبنى الآخر كان أصلاً للجمعية الخيرية

أكمل العبارات التالية

س العام الميلادي الذي أضيف فيه عدد من الغرف للمبنى الأول للمدرسة الأحمدية 1943م .

س العام الميلادي الذي أعيد فيه بناء المدرسة الأحمدية كلياً 1948 م .

س المجلس الذي تم تأسيسه عام 1936 م مهمته الإشراف على تأسيس المدارس والإنفاق عليها يسمى مجلس المعارف .

س العام الميلادي الذي أنشأ فيه مجلس المعارف 1936م .

س أوجد العلاقة بكتابة فقرة مترابطة بالاستعانة بالكلمات التالية:
المدرسة الأحمدية – حي القبلة – 1948م

تم تشييد المدرسة الأحمدية في مايو عام 1921 م في حي القبلة (جبلة)
وتكونت من بنائين متقابلين يفصلهما شارع , وأعيد بناء المدرسة كلياً في عام
1948 م لمواجهة الزيادة في عدد الطلاب.

س علل – إعادة بناء المدرسة الأحمدية كلياً عام 1948 م

لمواجهة الزيادة في عدد الطلاب

مجلس تم تأسيسه في عام 1936 م مهمته الإشراف على تأسيس المدارس والإيفاق عليها

س أكمل عدد الناخبين الذين تم دعوتهم من أهالي الكويت لانتخاب أعضاء مجلس المعارف 50 .



تدرب و تفوق
اختبارات الكترونية



موقع
المنهج الكويتية
almanahj.com/kw

ثالثاً: المجال الاقتصادي

س عدد أهم التغيرات الاقتصادية في عهد الشيخ أحمد الجابر

- تأسيس شركة نفط الكويت
- بداية اكتشاف النفط وتصديره
- انهيار تجارة اللؤلؤ عام 1928م

س عدد أهم الإنجازات في المجال الاقتصادي في عهد الشيخ أحمد الجابر

يمكن أن يظهر السؤال في صيغ أخرى:
فند العبارة " نما الاقتصاد الكويتي في عهد الشيخ أحمد الجابر نتيجة التطور في مجال الزراعة "
دل : اهتمام الشيخ أحمد الجابر بالمجال الاقتصادي

- تأسيس شركة نفط الكويت
- بداية اكتشاف النفط وتصديره

أكمل العبارات التالية

س أول اتفاقية امتياز للنفط في الكويت (بحرة) في عام 1934م .

س بداية حفر النفط في حقل برقان عام 1936 م .

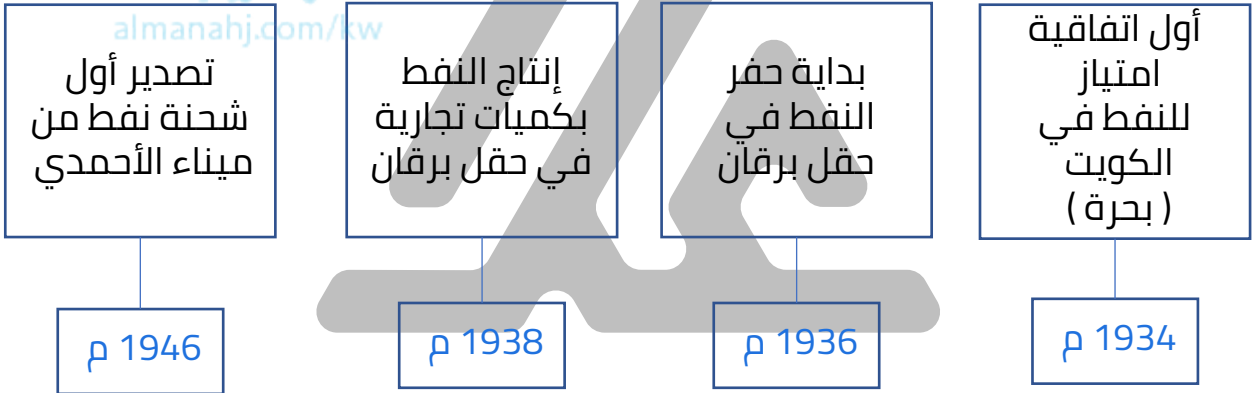
س إنتاج النفط بكميات تجارية في حقل برقان عام 1938م .

س العام الذي تم فيه تصدير أول شحنة نفط من ميناء الأحمدى 1946م .

س اختر من المجموعة (أ) ما يناسبها من المجموعة (ب) بوضع الرقم المناسب:

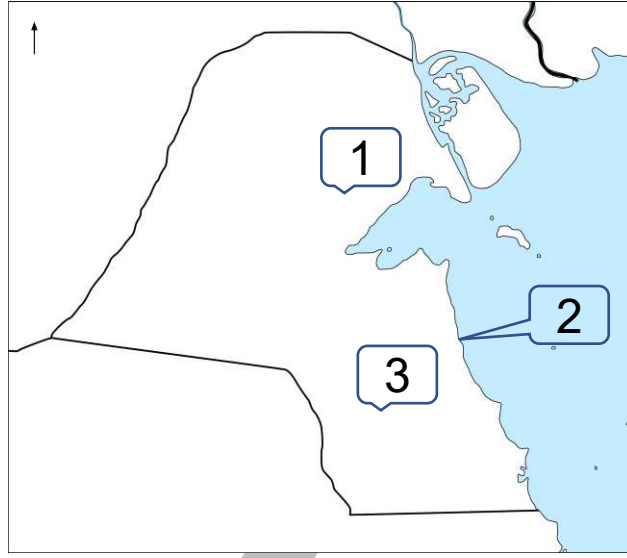
م	(أ)	الرقم المناسب	(ب)
1	تصدير أول شحنة نفط من ميناء الأحمدى	3	1934م
2	بداية حفر النفط في حقل برقان	2	1936م
3	أول اتفاقية امتياز للنفط في الكويت (بحرة)	4	1938م
4	إنتاج النفط بكميات تجارية في حقل برقان	1	1946م
5		-	1921 م

س أكمل المخطط السهمي التالي



U U L A

أمامك خريطة دولة الكويت الصماء - أكتب الرقم الدال على العبارات التالية



موقع
المناهج الكويتية
almanahj.com/kw

س حقل بحرة يمثل على الخريطة الرقم

س بداية حفر النفط في دولة الكويت يمثل على الخريطة الرقم

س ميناء الأحمدى يمثل على الخريطة الرقم



تدرب و تفوق
اختبارات الكترونية

U U L A



الشيخ عبد الله السالم الصباح (1950 – 1965 م)



almanahj.com/kw

أكمل ما يلي:

س الحاكم الحادي عشر للكويت يسمى الشيخ عبد الله السالم الصباح

س النجل الأكبر للشيخ سالم المبارك الصباح هو الشيخ عبدالله السالم الصباح

س الفترة الزمنية بين عام 1950 – 1965 م تمثل فترة حكم الشيخ عبدالله السالم الصباح

س حاكم الكويت الذي تولى شؤون البلاد الإدارية والمالية في عهد الشيخ أحمد الجابر هو الشيخ عبدالله السالم الصباح

س العام الميلادي الذي تولى فيه الشيخ عبد الله السالم إمارة الكويت رسمياً 1950م

س حاكم الكويت الذي أصبحت في عهده دولة مستقلة ذات سيادة تامة يسمى عبدالله السالم الصباح

س حاكم الكويت الذي أصبح في عهده لدولة الكويت نظام دستوري يحكمها يسمى عبدالله السالم الصباح

س عدد الألقاب التي حصل عليها الشيخ عبدالله السالم الصباح

- أبو الدستور
- أبو الاستقلال

س علل - لقب الشيخ عبد الله السالم الصباح بأبو الاستقلال
لأن في عهده أصبحت دولة الكويت دولة مستقلة ذات سيادة



تدرب و تفوق
اختبارات الكترونية



الشيخ عبدالله السالم والاستقلال

س دلل على صحة العبارة التالية " الشيخ عبد الله السالم الصباح له دور في استقلال الكويت "

- تبادل الرسائل بين المقيم البريطاني لإلغاء اتفاقية الحماية البريطانية التي عقدت عام 1899 م واستبدلت باتفاقية الصداقة والتشاور عام 1961 م
- انضمامها إلى جامعة الدول العربية عام 1961 م ومنظمة الأمم المتحدة عام 1963 م

أكمل العبارات التالية:

ممكّن أن يظهر السؤال في صيغة أخرى: اختياري

- س** العام الميلادي الذي حصلت فيه الكويت على استقلالها 1961 م
- س** الاتفاقية التي استبدلت باتفاقية الحماية عام 1899 م تسمى الاتفاقية والتشاور
- س** العام الميلادي الذي انضمت فيه الكويت إلى جامعة الدول العربية 1961 م
- س** حاكم الكويت الذي انضمت في عهده الكويت إلى جامعة الدول العربية ومنظمة الأمم المتحدة هو الشيخ عبدالله السالم
- س** العام الميلادي الذي انضمت فيه الكويت إلى منظمة الأمم المتحدة 1963 م

س علل تأخر انضمام الكويت لمنظمة الأمم المتحدة؟

بسبب موقف الاتحاد السوفيتي سابقاً الداعم لمطالب حاكم العراق عبد الكريم قاسم

لاحظ الصورة المقابلة ثم أجب عن الأسئلة التالية:



س ما اسم حاكم دولة الكويت في الصورة المقابلة؟

الشيخ عبدالله السالم الصباح

س ما اسم الاتفاقية الجديدة التي استبدلت بها اتفاقية الحماية المعقودة عام 1899 م ؟

اتفاقية الصداقة والتشاور

س عرف – اتفاقية الصداقة والتشاور

اتفاقية عقدت بتاريخ 19 يونيو عام 1961 م نالت الكويت على أثرها استقلالها من بريطانيا

الدستور والحياة النيابية:

علل لما يلي:

س تشكل الدساتير أهمية كبرى في حياة الأوطان والأمم ؟

- تحدد المفاصل المهمة في الدولة
- تحدد صلاحيات كل سلطة من السلطات الثلاث

س اهتمام الشيخ عبد الله السالم الصباح بوضع الدستور الكويتي؟

- لأنه الضمان الأكيد لأمة قوية في مواجهة الأزمات
- إيمان الشيخ عبد الله السالم بالشورى والمشاركة الشعبية في الحكم
- استكمال مقومات السيادة والاستقلال

س دعوة الشيخ عبد الله السالم إلى انتخاب مجلس تأسيسي؟

لإقرار دستور دائم لدولة الكويت باعتباره وثيقة تنظم العلاقة بين الحاكم والمحكوم

س دلل الشيخ عبد الله السالم مؤمن بالشورى والمشاركة الشعبية في الحكم ؟

دعوته إلى انتخاب مجلس تأسيسي تكون على عاتقه مهمة اقرار دستور دائم ووثيقة تنظم العلاقة بين الحاكم والمحكوم.

س عرف – الدستور

هو وثيقة تنظم العلاقة بين الحاكم والمحكوم

س إطلاق لقب (أبو الدستور) على الشيخ عبد الله السالم الصباح؟

أنه دعا إلى مجلس تأسيسي لوضع دستور دائم لدولة الكويت الموافقة عليه بتاريخ 11 نوفمبر 1962 م بدون أن يطلب أي تغييرات عليه



تدرب و تفوق

اختبارات الكترونية

أكمل العبارات التالية:

س العام الميلادي الذي تم فيه التصديق على الدستور الكويتي هو... 1962 م.

س عدد مواد الدستور الكويتي 183.

س فرق بين مواد الدستور:

يمكن أن يظهر السؤال في صيغة أخرى: أذكر نص المواد التالية من الدستور الكويتي

المادة الأولى	الكويت دولة عربية ذات سيادة تامة وشعب الكويت جزء من الأمة العربية ولغتها الرسمية هي اللغة العربية
المادة الثانية	الدين الرسمي للدولة هو الإسلام وأن الشريعة الإسلامية مصدر رئيسي للتشريع
المادة الرابعة	الكويت إمارة وراثية في ذرية المغفور له الشيخ مبارك الصباح

صوّب ما تحته خط في العبارات التالية:

س مادة الدستور الكويتي التي تنص على أن الدين الرسمي للدولة هو الإسلام هي المادة الرابعة

المادة الثانية

س مادة الدستور الكويتي التي تنص على أن الكويت دولة عربية ذات سيادة تامة وجزء من الأمة العربية هي المادة الثانية

المادة الأولى

س مادة الدستور الكويتي التي تنص على أن الكويت إمارة وراثية في ذرية المغفور له الشيخ مبارك الصباح هي المادة الأولى

المادة الرابعة

أكمل العبارات التالية:

س العام الميلادي الذي جرت فيه أول انتخابات لمجلس الأمة الكويتي عام 1963 م.

س عدد النواب الذين يمثلون الأمة في عام 1963 م 50 نائب.

س عدد الدوائر في مجلس الأمة الكويتي عام 1963 م 10 دوائر.

س العام الميلادي جرت فيه أول انتخابات لمجلس الأمة الكويتي بنظام العشر دوائر
1963 م



تدرب و تفوق
اختبارات الكترونية



سياسة الشيخ عبدالله السالم الخارجية

س دل " مد الشيخ عبد الله السالم يد التعاون إلى جميع دول العالم العربي "

- تقوية العلاقات على المستوى السياسي والتجاري والثقافي للكويت
- تأسيس الصندوق الكويتي للتنمية في عام 1961 م



أكمل العبارات التالية:

س أول مؤسسة إنمائية في الشرق الأوسط تقوم بالمساهمة في تحقيق الجهود
الإنمائية والاقتصادية للدول العربية والنامية تسمى
الصندوق الكويتي للتنمية

س العام الميلادي الذي تأسس فيه الصندوق الكويتي للتنمية هو 1961 م

س المؤسسة الإنمائية التي تأسست في نفس عام استقلال دولة الكويت تسمى
الصندوق الكويتي للتنمية

س حاكم الكويت الذي تأسس في عهده الصندوق الكويتي للتنمية يسمى الشيخ
عبدالله السالم الصباح

س برهن على صحة العبارة " أهمية الصندوق الكويتي للتنمية "
المساهمة في تحقيق الجهود الإنمائية والاقتصادية بين الدول العربية
والدول النامية
مد جسور الصداقة والإخاء بين دولة الكويت والدول العربية النامية

س فند العبارة " دولة الكويت لا يذكر لها دور في مد يد العون للدول النامية "
إنشاء الصندوق الكويتي للتنمية عام 1961 م للمساهمة في تحقيق الجهود
الإنمائية والاقتصادية في الدول العربية والدول النامية.

س أوجد العلاقة بكتابة فقرة مترابطة بالاستعانة بالكلمات التالية:
الصندوق الكويتي - 1961م- تحقيق الإنماء

تأسس الصندوق الكويتي للتنمية في عام 1961 م , ويعد أول مؤسسة إنمائية في الشرق الأوسط للمساهمة في تحقيق الجهود الإنمائية للدول العربية والنامية ومد جسور الإخاء بين الكويت والدول العربية.



تدرب و تفوق
اختبارات الكترونية

موقع
المناهج الكويتية
almanahj.com/kw



U U L A



الشيخ صباح السالم الصباح (1965 – 1977 م)

أكمل ما يلي:



المنهج التاريخي
almanahj.com/kw

س الحاكم الثاني عشر لدولة الكويت هو الشيخ صباح السالم الصباح

س الفترة الزمنية بين عام 1965 – 1977 م تمثل فترة حكم الشيخ صباح السالم الصباح

س أول ولي للعهد في تاريخ دولة الكويت هو الشيخ صباح السالم الصباح

س العام الميلادي الذي عُين فيه الشيخ صباح السالم كأول ولياً للعهد في تاريخ دولة الكويت 1962م

س الحاكم الثاني بعد استقلال دولة الكويت هو الشيخ صباح السالم الصباح

س أول وزير للخارجية في تاريخ دولة الكويت بالوزارة الأولى في عام 1962 م هو الشيخ صباح السالم الصباح

أولاً: السياسة الداخلية في عهد الشيخ صباح السالم الصباح

س عدد مجالات السياسة الداخلية في عهد الشيخ صباح السالم

المجال الإسكاني المجال التعليمي المجال الاقتصادي المجال العسكري

س عدد أبرز التطورات الداخلية في عهد الشيخ صباح السالم؟

أكمل

دل

يمكن أن يظهر السؤال في صيغ أخرى:

- مجال الاسكان : توزيع مساكن لذوي الدخل المحدود بإشراف وزارة الأشغال
- مجال التعليم : إنشاء جامعة الكويت عام 1966 م
- المجال الاقتصادي : تأميم النفط في 5 مارس عام 1975 م
- المجال العسكري : استحدث نظام التجنيد الإلزامي

س دل - اهتمام الشيخ صباح السالم الصباح بالمجال الإسكاني
توزيع مساكن لذوي الدخل المحدود بإشراف وزارة الأشغال

أكمل :

س الوزارة التي أشرفت على توزيع مساكن لذوي الدخل المحدود في عهد الشيخ صباح السالم هي **وزارة الأشغال**

موقع
المنهاج الكويتية
almanahj.com/kw

س العام الميلادي تم فيه إنشاء جامعة الكويت **1966 م**

س حاكم الكويت الذي أنشأت في عهده جامعة الكويت هو
الشيخ عبد الله السالم الصباح

س العام الميلادي الذي تم فيه تأميم النفط بدولة الكويت هو **1975 م**

س حاكم دولة الكويت الذي استحدث في عهده نظام التجنيد الإلزامي يسمى
الشيخ صباح السالم



تدرب و تفوق
اختبارات الكترونية



ثانياً: السياسة الخارجية في عهد الشيخ صباح السالم الصباح

س فند العبارة التالية " لم تحرص دولة الكويت في عهد الشيخ صباح السالم الصباح على دعم العديد من القضايا العربية »

يمكن أن يظهر السؤال في صيغة أخرى:
دل على صحة العبارة " لدولة الكويت دوراً بارزاً في دعم القضايا العربية "

- بالعكس عملت الكويت على دعم قضية العرب الأولى (فلسطين)
- شاركت في حرب 1967 م وحرب 1973 م ضد العدوان الصهيوني

س وازن بين السياسة الداخلية والخارجية في عهد الشيخ صباح السالم

ممکن أن يظهر السؤال في صيغة أخرى:
"شهدت الكويت في عهد الشيخ صباح السالم تطوراً على الصعيد الداخلي والخارجي" دلل على صحة العبارة

السياسة الخارجية	السياسة الداخلية
<ul style="list-style-type: none"> دعم الكويت قضية العرب الأولى قضية فلسطين المشاركة في حرب 1967 م وحرب 1973 م ضد العدو الصهيوني 	<ul style="list-style-type: none"> إنشاء جامعة الكويت عام 1966 م تأميم النفط في مارس عام 1975 م استحدث نظام التجنيد الإلزامي

س فرق بين كل من الشيخ أحمد الجابر والشيخ صباح السالم من حيث إنجازاتهم في المجال الثقافي والتعليمي

الشيخ صباح السالم	الشيخ أحمد الجابر
<ul style="list-style-type: none"> إنشاء جامعة الكويت عام 1966 م 	<ul style="list-style-type: none"> إنشاء المدرسة الأحمدية عام 1921 م إنشاء مجلس المعارف عام 1936 م



تدرب و تفوق
اختبارات الكترونية

U U L A



الشيخ جابر الأحمد الصباح (1977 – 2006 م)

أكمل ما يلي:



س الحاكم الثالث عشر لدولة الكويت هو الشيخ
جابر الأحمد

س الأمير الثالث بعد استقلال الكويت هو
الشيخ جابر الأحمد

س الفترة الزمنية من عام 1977 م – 2006 م تمثل فترة
حكم الشيخ جابر الأحمد

س حاكم الكويت الذي تميزت شخصيته بحب الخير والعطاء والحكمة يسمى
الشيخ جابر الأحمد

س الشيخ جابر الأحمد دخل الحياة السياسية مبكراً وعمره 21

س العام الميلادي الذي عُين فيه الشيخ جابر الأحمد رئيساً للأمن في
الأحمدي 1949م

س عدد السنوات التي قضاها الشيخ جابر الأحمد في منصب رئيس الأمن في
الأحمدي 10 سنوات

س العام الميلادي الذي تولى فيه الشيخ جابر الأحمد الصباح رئاسة الدائرة المالية
1959م

س العام الميلادي الذي تغيرت فيه الدائرة المالية إلى وزارة المالية
1962م

س أول وزير للمالية والتجارة والصناعة في دولة الكويت يسمى
الشيخ جابر الأحمد الصباح

اختر الإجابة الصحيحة:

س تولى الشيخ جابر الأحمد رئاسة الوزراء عقب وفاة الشيخ عبد الله السالم في 11 / 30:

- 1963 م ○ 1964 م ○ 1965 م ○ 1966 م

س تولى الشيخ جابر الأحمد الصباح مقاليد الحكم في 12 / 31

- 1975 م ○ 1976 م ○ 1977 م ○ 1978 م

س حاكم الكويت الذي شهدت فترة حكمه الغزو العراقي لدولة الكويت هو:

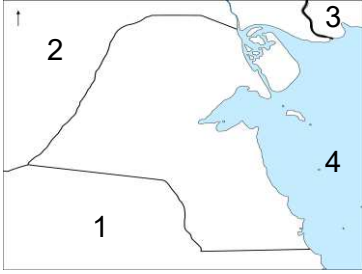
- سعد العبد الله ○ عبد الله السالم
○ أحمد الجابر ○ جابر الأحمد



س تعرضت دولة الكويت للغزو العراقي في 2 / 8 " أغسطس " عام:

- 1989 م ○ 1990 م
○ 1991 م ○ 1992 م

س الدولة التي غزت الكويت عام 1990 م يمثلها على الخريطة الرقم



- 1 ○ 2
○ 3 ○ 4

س العام الميلادي الذي تحررت فيه الكويت من الغزو العراقي

- 1990 م ○ 1991 م
○ 1992 م ○ 1993 م

س لقب أمير القلوب يطلق على الشيخ

- سعد العبد الله ○ عبد الله السالم
○ أحمد الجابر ○ جابر الأحمد

س علل إطلاق لقب " أمير القلوب " على الشيخ جابر الأحمد الصباح؟

- لأنه تفانى في خدمة وطنه
- رعاية مصالح أبناء وطنه
- تطورت دولة الكويت في عهده في جميع الأصعدة



تدرب و تفوق اختبارات الكترونية



س عدد أبرز المناصب التي تقلدها الشيخ جابر الأحمد الصباح قبل توليه مقاليد الحكم

- رئيس للأمن في الأحدي عام 1949 م
- رئيساً لدائرة المالية في عام 1959 م
- أول وزير للمالية والتجارة والصناعة في عام 1962 م
- رئاسة الوزراء عام 1965 م

س عدد النتائج المترتبة على تولي الشيخ جابر الأحمد الصباح رئاسة الدائرة المالية؟

- أعاد تنظيمها على أسس تنظيمية متطورة
- تولي إدارة القطاع النفطي فسعى إلى تعديل الامتيازات المجحفة

amanahj.com/kw

س علل - سعى الشيخ جابر الأحمد إلى تعديل الامتيازات المجحفة للشركات الأجنبية في القطاع النفطي؟

- نصيب الكويت من العائدات النفطية متواضع
- تستحوذ الشركات الأجنبية على الأرباح الطائلة

أولاً: سياسة الشيخ جابر الأحمد الداخلية في شتى المجالات

س عدد إنجازات الشيخ جابر الأحمد الصباح الداخلية في مختلف المجالات؟

ممكّن أن يظهر السؤال في صيغة أخرى: دلل - أولى اهتمامات الشيخ جابر الشؤون الداخلية بدولة الكويت

- مؤسسة الكويت للتقدم العلمي
- الهيئة العامة لشؤون القصر
- حقوق المرأة السياسية
- إنشاء صندوق احتياطي الأجيال القادمة
- صندوق الكويت للتنمية

س ضع عنواناً مناسباً للصور التالية:



د / معصومة المبارك
حقوق المرأة السياسية



الهيئة العامة
لشؤون القصر



مؤسسة الكويت
للتقدم العلمي



تدرب و تفوق
اختبارات الكترونية

موقع
المنهج الكويتية
almanahj.com/kw



ثانياً: سياسة الشيخ جابر الخارجية

س عدد إنجازات الشيخ جابر الأحمد الصباح الخارجية

يمكن أن يظهر السؤال في صيغة أخرى: دلل - حرص الشيخ جابر الأحمد الصباح على إقامة علاقات الود والتفاهم والمصالح المتبادلة مع معظم شعوب العالم

- مجلس التعاون لدول الخليج العربية
- موقف دولة الكويت من الحروب العربية مثل (حرب اليمن - الحرب العراقية والإيرانية)

لاحظ الصورة التي أمامك ثم أجب عن الأسئلة التالية:

س ما اسم المجلس الذي يرمز له الشعار المقابل؟

منظمة مجلس التعاون لدول الخليج العربية

س من صاحب فكرة إنشاء هذا المجلس ؟

الشيخ جابر الأحمد الصباح

س في أي عام تم إنشاء هذا المجلس؟

1981م



س اختياري - صاحب فكرة إنشاء مجلس التعاون الخليجي في عام 1981 م هو:

- الملك فهد
- الشيخ زايد
- السلطان قابوس
- **الشيخ جابر الأحمد**

دلل على صحة العبارات التالية:

س إيجابية مواقف دولة الكويت الخارجية في عهد الشيخ جابر الأحمد

- حرب اليمن : حرص الشيخ جابر على تحقيق الوحدة بين اليمن الشمالي والجنوبي
- تجنب عدم الدخول المباشر في الحرب العراقية الإيرانية من عام 1980 - 1988 م

س تأثر دولة الكويت بالحرب العراقية الإيرانية من عام 1980 - 1988 ؟

ممكن أن يظهر السؤال في صيغة أخرى: عدد النتائج المترتبة على الحرب العراقية الإيرانية

المناهج الكويتية
almanahj.com/kw

تعرض سفن دولة الكويت الحاملة للبترول للعدوان

س فرق بين سياسة الشيخ جابر الأحمد الصباح الداخلية والخارجية:

الخارجية	الداخلية
<ul style="list-style-type: none">▪ صاحب فكرة إنشاء مجلس التعاون لدول الخليج العربية▪ موقف دولة الكويت من الحروب العربية	<ul style="list-style-type: none">▪ مؤسسة الكويت للتقدم العلمي▪ الهيئة العامة لشؤون القصر▪ حقوق المرأة السياسية▪ إنشاء صندوق احتياطي للأجيال القادمة▪ صندوق الكويت للتنمية

س فرق بين كل من

السياسة الخارجية للشيخ جابر الأحمد	السياسة الخارجية للشيخ صباح السالم
<ul style="list-style-type: none">▪ صاحب فكرة إنشاء مجلس التعاون لدول الخليج العربية▪ موقف دولة الكويت من الحروب العربية مثل حرب اليمن والحرب العراقية الإيرانية	<ul style="list-style-type: none">▪ حرصت دولة الكويت على دعم القضايا العربية لا سيما قضية العرب الأولى (فلسطين)▪ شاركت في حرب 1967 م وحرب 1973 م لنصرة فلسطين ضد العدو الصهيوني

س اختر من المجموعة (أ) ما يناسبها من المجموعة (ب) بوضع الرقم المناسب:

م	(أ)	الرقم المناسب	(ب)
1	تغيير اسم الدائرة المالية إلى وزارة المالية	3	31 / 12 / 1977 م
2	تولي الشيخ جابر الأحمد رئاسة الوزراء	4	2 أغسطس 1990 م
3	تقلد الشيخ جابر الأحمد حكم دولة الكويت	1	17 / 1 / 1962 م
4	الغزو العراقي لدولة الكويت	5	26 فبراير 1991 م
5	تحرير دولة الكويت من الغزو العراقي	2	30 / 11 / 1965 م

موقع
المنهج الكويتية
almanahj.com/kw



تدرب و تفوق
اختبارات الكترونية

U U L A



سعد العبد الله السالم الصباح (2006 – 2006 م)

أكمل ما يلي:



س الحاكم الرابع عشر لدولة الكويت هو الشيخ سعد العبد الله السالم.

س لقب يطلق على الشيخ سعد العبد الله السالم الصباح هو الأمير الوالد.

اقرأ الفقرة التالية ثم أجب عما يلي:

موقع
المنهج الكويتية
المناهج الكويتية

" نحن جميعاً في سفينة واحدة نبحر فيها في بحر مملوء بالصخور المرجانية تتصاعد وتتكاثر من حولها الأمواج والعواصف والسحب"

س من القائل:

الشيخ سعد العبد الله السالم الصباح

س علام يدل هذا الخطاب:

تواضعه وإنكاره للذات

س عدد أهم المناصب التي تقلدها الشيخ سعد العبد الله قبل توليه الحكم في عام 2006 م

ممکن أن يظهر السؤال في صيغة أخرى: **أكمل**

- وزيراً للداخلية
- وزيراً للدفاع
- عضو في المجلس التأسيسي عام 1962 م
- ولياً للعهد ورئيساً لمجلس الوزراء عام 1977 م

س عدد الألقاب التي حصل عليها الشيخ سعد العبد الله السالم الصباح؟

بطل التحرير – بطل التعمير – الأمير الوالد

س علل يطلق على الشيخ سعد العبد الله السالم الصباح بطل التحرير والتعمير

ممكن أن يظهر السؤال في صيغة أخرى:
دلل : استحقاق الشيخ سعد العبد الله السالم الصباح لقبى بطل التحرير والتعمير

- بطل التحرير: بسبب دوره في التصدي للغزو العراقي ضد الكويت
- بطل التعمير: بعد تحرير الكويت قام بمتابعة وتعمير البنية التحتية التي دمرها العدوان العراقي

س علل حظي الشيخ سعد العبد الله بلقب الأمير الوالد؟

بسبب العطاء والإنجازات الحافلة التي سجلها له تاريخ الوطن بكل تقدير



س فسر تنازل الشيخ سعد العبد الله السالم الصباح عن الحكم؟

نظراً لحالته الصحية

س أكمل العام الميلادي الذي توفي فيه الشيخ سعد العبد الله السالم الصباح
-----2008م-----



تدرب و تفوق
اختبارات الكترونية

U U L A



الشيخ / صباح الأحمد الصباح (2006 – 2020 م)

أكمل ما يلي:



almanahj.com/kw

س الحاكم الخامس عشر لدولة الكويت هو الشيخ
صباح الأحمد الصباح

س العام الميلادي الذي ولد فيه الشيخ صباح الأحمد
بمدينة الكويت 1929م

س الابن الرابع للشيخ أحمد الجابر الصباح هو
الشيخ صباح الأحمد الصباح

س المدرسة التي تلقى فيها الشيخ صباح الأحمد الصباح تعليمه
تسمى المباركية

س تولى الشيخ صباح الأحمد حكم الكويت بعد تنازل الأمير الراحل الشيخ
سعد العبدالله

س العام الميلادي الذي تولى فيه الشيخ صباح الأحمد حكم الكويت 2006م

س أوجد العلاقة بكتابة فقرة مترابطة بالاستعانة بالكلمات التالية:
الشيخ صباح الأحمد - 1929 م - تنازل الشيخ سعد العبد الله - الشيخ أحمد الجابر

الشيخ صباح الأحمد هو الابن الرابع من أبناء الشيخ أحمد الجابر الصباح ، ولد في
مدينة الكويت عام 1929 م تلقى تعليمه في المدرسة المباركية ، حمل أمانة
ومسؤولية الحكم إثر تنازل الأمير الراحل الشيخ سعد العبد الله عام 2006 م نظراً
لحالته الصحية.

س عدد أبرز المناصب التي تولاها الشيخ صباح الأحمد قبل توليه الحكم

- عضو اللجنة التنفيذية العليا لتنظيم الدوائر الحكومية وهو لم يتجاوز 25 سنة
- رئيس دائرتي المطبوعات والشؤون الاجتماعية
- رئيس لجنة كتابة تاريخ الكويت عام 1959 م
- عضو المجلس التأسيسي عام 1962 م لوضع دستور دولة الكويت
- وزير الخارجية عام 1963 م حيث استمر لأكثر من 40 عام
- نائب رئيس مجلس الوزراء ومنصب رئيس مجلس الوزراء عام 2003 م

س علل تعيين الشيخ صباح الأحمد وزيراً للخارجية

بسبب ما اكتسبه من الدراسة والخبرات والمهارات السياسية نتيجة دراساته في الخارج

أكمل ما يلي:



س أقدم وزير للخارجية على مستوى العالم العربي هو الشيخ صباح الأحمد الصباح

س لقب يطلق على الشيخ صباح الأحمد الصباح هو عميد للدبلوماسيين العرب

س آخر المناصب السياسية التي شغلها الشيخ صباح الأحمد الصباح قبل توليه الحكم هو رئيس مجلس الوزراء

س علل يطلق على الشيخ صباح الأحمد عميد الدبلوماسيين العرب؟

لأنه أقدم وزير خارجية على مستوى الوطن العربي لأكثر من 40 سنة

س عدد النتائج المترتبة على تولي الشيخ صباح الأحمد الصباح منصب وزير الخارجية عام 1963م

- توطيد علاقة الكويت مع غيرها من الدول
- تحقيق إنجازات في حقل السياسة الكويتية والخارجية
- تقديم منح للدول المحتاجة
- حل الكثير من الخلافات العربية



تدرب و تفوق
اختبارات الكترونية



"علينا أن ندرك أن التعاون الإيجابي المثمر بين السلطتين التشريعية والتنفيذية قدر حتمي لتحقيق النقلة النوعية نحو التغيير والإصلاح ودفع مسيرة البناء والتنمية إلى الأمام ، وأن الإرادة الوطنية الواعية سبيلنا إلى الإمساك بكل مقومات النجاح والإبداع والتميز والتحلي بالمزيد من رحابة الصدر وتقبل الرأي الآخر والتزام الموضوعية في مختلف الظروف والأحوال وتغليب الصالح العام ، ونبذ التحزب والأهواء الطائفية والقبلية والفئوية الضيقة ، لتبقى الكويت دائماً هي الرابع الأول والأكبر"

موقع
المناهج الكويتية
almanahj.com/kw

س من القائل:

الشيخ صباح الأحمد الصباح

س المناسبة:

أداء اليمين الدستورية في مجلس الأمة

س العام الميلادي:

2006م

س عدد أهم ما دعا إليه الشيخ صباح الأحمد الكويتيين في مجلس الأمة عام 2006 م

- التعاون والإخاء
- المحبة وتغليب الصالح العام
- نبذ التحزب والأهواء الطائفية والقبلية والفئوية الضيقة
- دعا الجميع إلى العمل من أجل جعل الكويت دولة عصرية حديثة مزودة بالعلم والمعرفة
- يتمتع سكانها بالمساواة في الحقوق والواجبات
- ضرورة المحافظة على الديمقراطية وحرية الرأي والتعبير

أكمل العبارات التالية :



س العام الميلادي الذي رفع فيه الشيخ صباح الأحمد العلم الكويتي في منظمة الأمم المتحدة هو
1963 م

س رفع الشيخ صباح الأحمد الصباح العلم الكويتي في منظمة الأمم المتحدة عام 1963 م في يوم
14 مايو

س رقم عضوية الكويت في هيئة الأمم المتحدة تحمل رقم **111** .

س أكتب مدلول الصورة المقابلة



عضوية الكويت في منظمة هيئة الأمم المتحدة



تدرب و تفوق
اختبارات الكترونية



المساعدات الكويتية في عهد الأمير الشيخ صباح الأحمد بصمة إنسانية وعالمية

المنهج الكويتية
almanahj.com/kw

س دلل: للشيخ صباح الأحمد بصمة إنسانية عالمية

يمكن أن يظهر السؤال في صيغة أخرى:

عدد المساعدات الكويتية في عهد الأمير الشيخ صباح الأحمد

- إغاثة جمهورية بنغلاديش التي تعرضت لإعصار سيدر
- مساعدة اليابان بعد تسونامي
- مساعدة الصومال من آثار الجفاف والمجاعة
- دعمت تركيا بعد حدوث زلزال فان
- مساعدة الفلبين بعد إعصار هايان
- التبرعات لمنظمة الصحة العالمية لمحاصرة ومعالجة فيروس إيبولا
- دعم القضية الفلسطينية
- حملات الإغاثة الإنسانية منذ بداية الأزمة السورية في عام 2011 م



س الدولة التي تعرضت لإعصار سيدر الذي قتل وجرح الآلاف تسمى بنغلاديش.

س الدولة التي قدمت لها الكويت مساعدات بعد تعرضها لتسونامي تسمى اليابان.

س الدولة التي قدمت لها الكويت مساعدات بعد آثار الجفاف والمجاعة التي تعرضت لها تسمى الصومال.

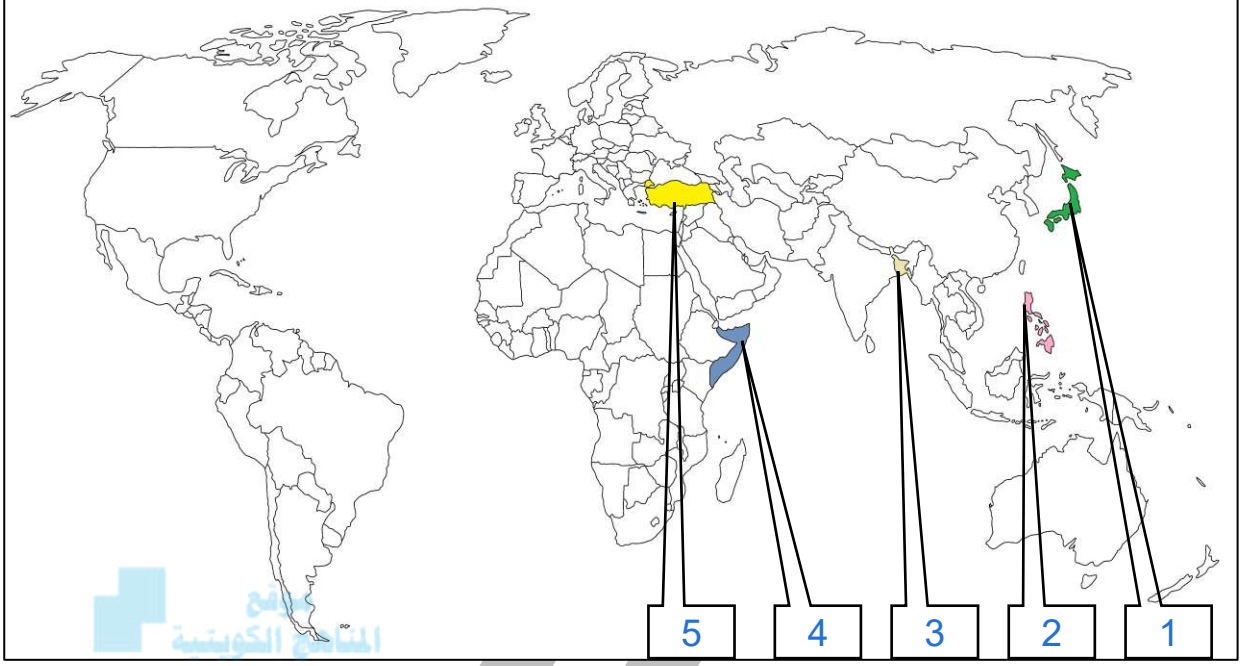
س الدولة التي دعمتها الكويت بعد حدوث زلزال فان هي تركيا.

س الدولة التي قدمت إليها الكويت مساعدات جراء تضررها من إعصار هايان تسمى الفلبين.

س المنظمة التي تبرعت لها دولة الكويت لمحاورة ومعالجة فيروس إيبولا تسمى منظمة الصحة العالمية.



س لاحظ الخريطة التالية ثم نفذ المطلوب منك



س الدولة التي تعرضت لإعصار سيدر الذي قتل وجرح الآلاف تحمل على الخريطة الرقم 3

س الدولة التي قدمت لها الكويت مساعدات بعد تعرضها لتسونامي تحمل على الخريطة الرقم 1

س الدولة التي قدمت لها الكويت مساعدات بعد آثار الجفاف والمجاعة التي تعرضت لها تحمل على الخريطة الرقم 4

س الدولة التي دعمتها الكويت بعد حدوث زلزال فان تحمل على الخريطة الرقم 5

س الدولة التي قدمت إليها الكويت مساعدات جراء تضررها من إعصار هايان تحمل على الخريطة الرقم 2



تدرب و تفوق

اختبارات الكترونية



دليل على صحة العبارات التالية

س " قدمت الكويت الكثير من التبرعات للمنظمات في مجال الصحة
تبرعت دولة الكويت لمنظمة الصحة العالمية في إطار جهودها
لمحاصرة ومعالجة فايروس إيبولا

س " ساهمت الكويت في حملات الإغاثة الإنسانية منذ بداية الأزمة السورية في عام
2011 م

- ساهمت الجمعيات الكويتية والهيئات الخيرية بإيصال المساعدات
- إسهام كل من الهلال الأحمر الكويتي والهيئة الخيرية الإسلامية العالمية
بجهود كبيرة لإغاثة النازحين في دول جوار سوريا

س عدد - الجمعيات والهيئات التي ساهمت في حملات الإغاثة الإنسانية منذ بداية
الأزمة السورية في عام 2011 م



- الهلال الأحمر الكويتي
- الهيئة الخيرية الإسلامية العالمية

س علل - دعم الكويت لأهالي غزة في عام 2014 م
بسبب العدوان الإسرائيلي عليها فانطلقت حملات إغاثة لمساعدة أهالي غزة
المنكوبين



الكويت مركز للإنسانية في عهد الشيخ صباح الأحمد الصباح



س أكمل : العام الميلادي الذي اختير فيه الشيخ صباح الأحمد قائداً للعمل الإنساني - 2014م -

س علل اختيار منظمة الأمم المتحدة دولة الكويت مركزاً للعمل الإنساني

- مساهمتها في مواجهة الأزمات والكوارث الإنسانية
- جهودها في القضاء على الجوع والفقر والأمية
- التصدي للأفراض والأوبئة
- دفع عملية التنمية في البلدان الفقيرة

س دلل اعتراف منظمة الأمم المتحدة بدور الكويت الرائد في العمل الإنساني

- تسمية الكويت مركزاً للإنسانية
- اختيار الشيخ صباح الأحمد قائداً للعمل الإنساني في عام 2014م

س عدد - جهود الشيخ صباح الأحمد على الصعيد العربي

- دفع عجلة التنمية بجوانبها المختلفة
- اهتم بالتنمية البشرية
- المبادرة في المصالحة بين قادة العرب
- قاد العديد من المرات وجهود منفردة عمليات المصالحة
- إعادة العلاقات والتفاهم في العديد من الأزمات

س عدد - جهود الشيخ صباح الأحمد على الصعيد الخليجي

- أدرك سموه أهمية العمل الخليجي المشترك
- واعياً كل الدوافع والأسباب التي تحتم توحيد الكلمة للدول العربية الخليجية

س علل - أهمية توحيد الكلمة بين الدول العربية الخليجية

يمكن أن يظهر السؤال في صيغة اخرى: علل - أهمية العمل الخليجي المشترك

- التكامل في كل المجالات
- دفع عجلة التعاون أمنياً واقتصادياً واجتماعياً لصالح شعوبها

س صنف ألقاب الحكام وفق الجدول التالية:

بطل التحرير – أبو الدستور – أمير القلوب – بطل التعمير – عميد الدبلوماسيين –
أبو الاستقلال – قائد العمل الإنساني- الأمير الوالد

الشيخ	عبد الله السالم	جابر الأحمد	سعد العبد الله	صباح الأحمد
اللقب	<ul style="list-style-type: none"> أبو الدستور أبو الاستقلال 	<ul style="list-style-type: none"> أمير القلوب 	<ul style="list-style-type: none"> بطل التحرير بطل التعمير الأمير الوالد 	<ul style="list-style-type: none"> عميد الدبلوماسيين قائد العمل الإنساني

س اختر من المجموعة (أ) ما يناسبها من المجموعة (ب) بوضع الرقم المناسب:

م	(أ)	الرقم المناسب	(ب)
1	الشيخ سالم بن مبارك الصباح	3	1915 – 1917 م
2	الشيخ عبد الله السالم الصباح	1	1917 – 1921 م
3	الشيخ جابر بن مبارك الصباح	4	1921 – 1950 م
4	الشيخ أحمد الجابر الصباح	2	1950 – 1965 م
5	الشيخ جابر الأحمد الصباح	6	1965 – 1977 م
6	الشيخ صباح السالم الصباح	5	1977 – 2006 م



تدرب و تفوق

اختبارات الكترونية



صاحب السمو أمير دولة الكويت الشيخ / نواف الأحمد الجابر الصباح حفظه الله ورعاه

أكمل ما يلي

ممکن أن يظهر السؤال في صيغة أخرى: اختياري

س حاكم الكويت السادس عشر يسمى الشيخ نواف الأحمد الجابر الصباح

س العام الميلادي الذي توفي فيه الشيخ صباح الأحمد الصباح هو 2020 م

س تولى الشيخ نواف الأحمد مسند الإمارة في 30 سبتمبر عام 2020 م

س صدر مرسوم أميري بتعيين الشيخ نواف الأحمد ولياً للعهد بتاريخ 6 فبراير عام 2006 م

س تمت مبايعة الشيخ نواف الأحمد ولياً للعهد في عام 2006 م يوم 20 فبراير

س ولد الشيخ نواف الأحمد في 25 يونيو عام 1937 م

س دلل - النشأة في بيوت الحكم كان لها أثر إيجابي على الشيخ نواف الأحمد

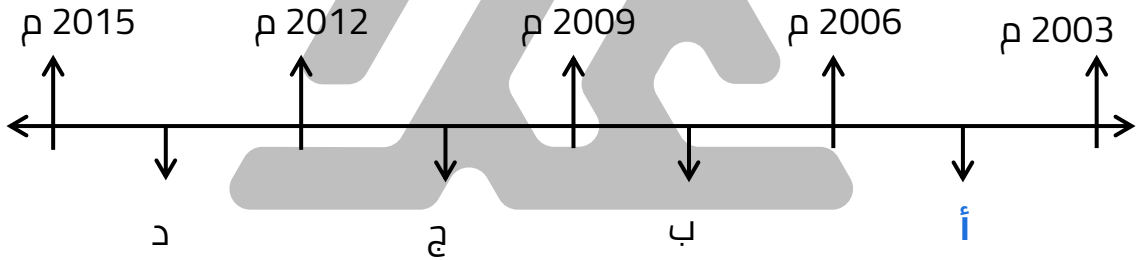
- بيوت مدارس في التربية والتعليم والالتزام والانضباط
- إعداد تهئية حكام المستقبل

س عدد المناصب الرسمية التي تولاها الشيخ نواف الأحمد الجابر الصباح

- النائب الأول لرئيس مجلس الوزراء ووزير الداخلية في 16 أكتوبر 2003 م
- تولى حقيبة وزارة الداخلية في الفترة من 13 يوليو 2003 م إلى فبراير 2006 م
- تولى منصب رئيس الحرس الوطني بدرجة وزير بتاريخ 16 أكتوبر 1994 م
- كُلف بتولي حقيبة وزارة الشؤون الاجتماعية والعمل عند تشكيل أول حكومة كويتية بعد تحرير الكويت وعودة الشرعية في 2 أبريل 1991 م واستمر في هذا المنصب حتى 17 أكتوبر 1992 م
- تولى منصب وزير الدفاع في 26 يناير 1988 م
- تولى حقيبة وزارة الداخلية في الفترة من 19 مارس 1978 م واستمر بها إلى بداية عام 1988 م
- محافظاً لمحافظة حولي بتاريخ 12 فبراير عام 1962 م

اختر الإجابة الصحيحة من بين البدائل التالية

س تولى الشيخ نواف الأحمد حقيبة وزارة الداخلية في الفترة التي يمثلها على المخطط الزمني الحرف



س حقيبة وزارية كُلف بها الشيخ نواف الأحمد عند تشكيل أول حكومة كويتية بعد حرب تحرير الكويت وعودة الشرعية هي

- وزارة الشؤون الاجتماعية والعمل
- وزارة الدفاع
- وزارة الداخلية

س العام الميلادي الذي أصبح فيه الشيخ نواف الأحمد محافظاً لمنطقة حولي

- 1962 م
- 1963 م
- 1964 م
- 1965 م



تدرب و تفوق
اختبارات الكترونية



س عدد - إنجازات الشيخ نواف الأحمد

- تحويل منطقة حولي من قرية إلى مركز حضاري وسكني متميز يعج بالنشاط التجاري والاقتصادي
- المؤسس الحقيقي لوزارة الداخلية بشكلها الحديث ومهندس استراتيجية المنظومة الأمنية المتكاملة لمكافحة الجريمة وحماية أمن الحدود الكويتية
- تطوير العمل في وزارة الدفاع بشقيه المدني والعسكري
- تطوير المنظومة البشرية والعسكرية في الحرس الوطني
- استحداث مستشفى خاص لنزلاء دور الرعاية أثناء تولي سموه حقيبة وزارة الشؤون الاجتماعية والعمل

أكمل ما يلي

ممکن أن يظهر السؤال في صيغة أخرى: **اختياري**

س منطقة تحولت من قرية إلى مركز حضاري وسكني متميز يعج بالنشاط التجاري والاقتصادي تسمى **حولي**

س المؤسس الحقيقي لوزارة الداخلية بشكلها الحديث يسمي **الشيخ نواف الأحمد**

س حاكم الكويت الذي استحدث مستشفى خاص لنزلاء دور الرعاية أثناء توليه حقيبة وزارة الشؤون الاجتماعية والعمل يسمي **الشيخ نواف الأحمد**

س دلل - للشيخ نواف الأحمد إنجاز كبير في منطقة حولي

ممکن أن يظهر السؤال في صيغة أخرى:
(فند لم يكن للشيخ نواف الأحمد أي إنجاز يذكر في منطقة حولي)

- تحويل منطقة حولي من قرية إلى مركز حضاري وسكني متميز
- تعج بالنشاط التجاري والاقتصادي

س علل - الشيخ نواف الأحمد المؤسس الحقيقي لوزارة الداخلية بشكلها الحديث

- مهندس استراتيجية المنظومة الأمنية المتكاملة لمكافحة الجريمة
- مهندس استراتيجية حماية أمن الحدود الكويتية

س دلل - للشيخ نواف بصمة في وزارة الشؤون الاجتماعية عندما تولاها في عام 1991 م

استحداث مستشفى خاصة لنزلاء دور الرعاية

أكمل العبارات التالية

يمكن أن يظهر السؤال في صيغة أخرى: اختياري

س العام الميلادي الذي عقد فيه المؤتمر العربي التاسع للهندسة المالية للمنظمات 2006 م

س المدينة التي عقد فيها المؤتمر العربي التاسع للهندسة المالية للمنظمات 2006 م تسمى **القاهرة**

س الجمعية التي منحت شهادة عضوية الزمالة الفخرية للشيخ نواف الأحمد عام 2006 تسمى **الجمعية المصرية للفكر المحاسبي**



تدرب و تفوق
اختبارات الكترونية



س عدد - الأوسمة المهداة لحضرة صاحب السمو الشيخ نواف الأحمد

- قلادة الكنعانيين الكبرى عام 2018 م
- وسام المحرر الجنرال سان مارتين عام 2011 م
- وسام طوق الاستحقاق المدني عام 2008 م

أكمل العبارات التالية

س القلادة التي منحها رئيس دولة فلسطين للشيخ نواف الأحمد في 13 نوفمبر عام 2018 م تسمى **قلادة الكنعانيين الكبرى**

س الرئيس الفلسطيني الذي منح قلادة الكنعانيين الكبرى للشيخ نواف الأحمد في عام 2018 م يسمى **محمود عباس**

س العام الميلادي الذي قُلد فيه الشيخ نواف الأحمد بقلادة الكنعانيين الكبرى 2018

س الوسام الذي تلقاه الشيخ نواف الأحمد من رئيسة جمهورية الأرجنتين عام 2011 م يسمى **وسام المحرر الجنرال سان مارتين**

س رئيسة جمهورية الأرجنتين التي منحت للشيخ نواف الأحمد وسام المحرر الجنرال سان مارتين في 1 أغسطس عام 2011 م تسمى **الدكتورة كريستينا فرنانديز دي كريتشنر**

س العام الميلادي الذي منح فيه الشيخ نواف الأحمد وسام المحرر الجنرال سان مارتين هو _____ 2011 م _____

س الوسام الذي مُنح للشيخ نواف الأحمد من قبل ملك مملكة إسبانيا يسمى وسام طوق الاستحقاق المدني.

س الملك الإسباني الذي منح وسام طوق الاستحقاق المدني للشيخ نواف الأحمد يسمى خوان كارولوس.

س منح الشيخ نواف الأحمد وسام طوق الاستحقاق المدني من مملكة إسبانيا في 23 مايو من عام _____ 2008 م _____

س الوسام الذي حصل عليه الشيخ نواف الأحمد في 23 مايو 2008 م يسمى وسام طوق الاستحقاق المدني.

س الوطن يستحق والمواطنون يتطلعون إلى إنجاز حقيقي ملموس يلبي طموحاتهم في حاضر آمن ومستقبل واعد من القائل :

صاحب السمو أمير البلاد الشيخ نواف الأحمد

س دل - حرص الشيخ نواف الأحمد على الأمن والسلام المحلي والخليجي والعالمي ترأس صاحب السمو أمير البلاد الشيخ نواف الأحمد عام 2021 م وفد الكويت في اجتماع الدورة 41 لمجلس التعاون الخليجي في محافظة العلا بالسعودية

أكمل العبارات التالية

س العام الميلادي الذي ترأس فيه الشيخ نواف الأحمد وفد دولة الكويت في الدورة 41 للمجلس الأعلى لمجلس التعاون لدول الخليج العربية عام _____ 2021 م _____


س المحافظة التي تم فيها انعقاد الدورة 41 لمجلس التعاون لدول الخليج العربية عام 2021 م تسمى العلا

س الدولة التي عقد بها الدورة 41 لمجلس التعاون لدول الخليج العربية عام 2021 م تسمى المملكة العربية السعودية.




س صنف الشيوخ التالية أسماؤهم كلاً في مكانه حسب الجدول التالي
 (الشيخ عبد الله السالم - الشيخ صباح السالم - الشيخ أحمد الجابر - الشيخ سالم المبارك)

الشيخ سالم المبارك	الشيخ عبد الله السالم	الشيخ أحمد الجابر	الشيخ صباح السالم
1921-1917 م	1950 م - 1965 م	1921 - 1950 م	1965 - 1977 م



تدرب و تفوق
 اختبارات الكترونية



موقع
 المناهج الكويتية
 almanahj.com/kw



U U L A



نظرة تاريخية على جذور العلاقة الكويتية - العراقية

عَرَف

الجوار الجغرافي

المناطق المتقاربة من بعضها بعضاً ولها خصائص مشتركة يفصل بينهما حدود طبيعية أو سياسية

س " لم تكن هناك عوائق حدودية تفصل بين الكويت والعراق قديماً " دلل على صحة العبارة



ممكن أن يظهر السؤال في صيغة أخرى: **فند**

- كانت حركة المرور بينهما سهلة للتنقل والتواصل
- ارتبط الكويت والعراق منذ القدم بعلاقات اقتصادية واجتماعية قديمة

س أكتب عن: العلاقات الاقتصادية والاجتماعية بين الكويت والعراق قديماً

ممكن أن يظهر السؤال في صيغة أخرى:
(ارتبط الكويت والعراق منذ القدم بعلاقات اقتصادية واجتماعية قديمة) دلل على صحة العبارة

- كان الكويتيون يجلبون الماء من شط العرب
- تملك الكويتيون أرض زراعية في العراق
- قام الكويتيون بإحياء أراضي امتدت إلى منطقة الفاو
- علاقات المصاهرة والنسب والروابط الاجتماعية

س عدد مشاكل الحدود الكويتية العراقية ؟

- مشكلة الحدود في عهد العراق العثماني
- مشكلة الحدود في عهد العراق الملكي
- مشكلة الحدود في عهد العراق الجمهوري

مشكلة الحدود في العهد العراقي العثماني

س علل - أهمية قضية الحدود لأي دولة

لأنها مهمة لسيادتها وأمنها وعلاقاتها مع جيرانها

س " نشبت خلافات بشأن الحدود بين الكويت والعراق أيام الدولة العثمانية " دال على صحة العبارة

- عانت الكويت من تهديدات الدولة العثمانية ومحاولة بسط سيطرتها المباشرة على الأراضي الكويتية
- إرسال الموظفين أو حاميات من الجند للكويت

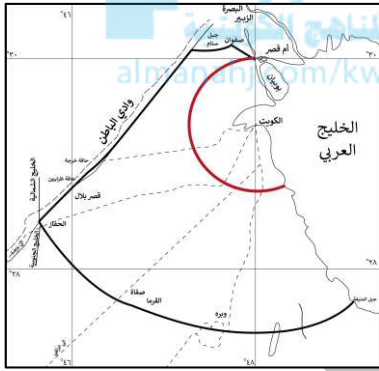
س " عدم تبعية الكويت للعراق والدولة العثمانية قديماً " دال على صحة العبارة

- عقد اتفاقية الحماية عام 1899 م بين الكويت و بريطانيا
- عقد اتفاقية 1913 م التي حددت حدود الكويت بين بريطانيا و الدولة العثمانية

أكمل العبارات التالية:

ممكن أن يظهر السؤال في صيغة أخرى: اختياري

س الخريطة المقابلة تمثل حدود دولة الكويت وفق اتفاقية 1913م

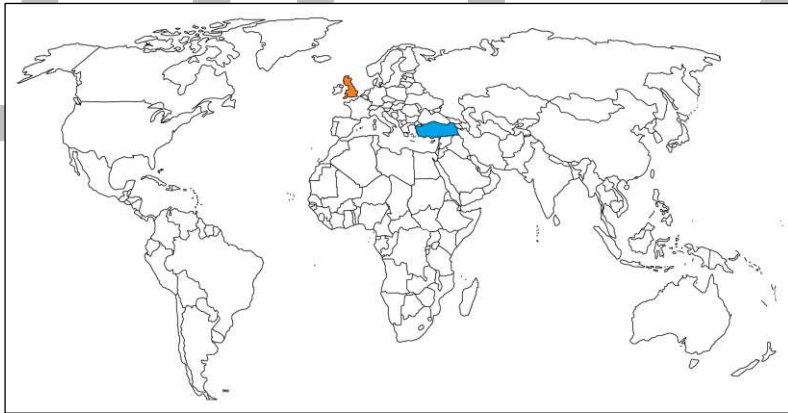


س أطراف اتفاقية حدود الكويت عام 1913 م بين الدولة العثمانية ودولة تسمى بريطانيا

س الاتفاقية التي حدت من المطامع المزعومة في عهد العراق العثماني تسمى اتفاقية الحماية عام 1899م

س اختياري - الدولة التي عقدت معها الكويت اتفاقية الحماية عام 1899م:

- بريطانيا
- فرنسا
- الدولة العثمانية
- البرتغال



تدرب و تفوق
اختبارات الكترونية



مشكلة الحدود في العهد العراقي الملكي

أكمل العبارات التالية:

ممکن أن يظهر السؤال في صيغة أخرى: اختياري

س الملك الأول على مملكة العراق الهاشمية يسمى فيصل بن الحسين .

س العام الميلادي الذي اختير فيه الملك فيصل بن الحسين ملك على مملكة العراق الهاشمية 1921م .

س العام الميلادي الذي حاول العراقيون التحرش بحدود الكويت ومحاولة ضمها لبعض الأحلاف 1932م .



س علل - محاولة العراق الملكي في ضم الكويت لبعض الأحلاف

تمهيداً للتدخل السياسي في شؤونها

أكمل العبارات التالية:

س الشيخ الذي في عهده اعترف العراق رسمياً بحدوده مع الكويت عام 1932م يسمى أحمد الجابر .

س تم تبادل المراسلات بين حاكم الكويت والحكومة العراقية عام 1932م بواسطة المنذوب السامي البريطاني .

س فرق بين كل من الممارسات الكويتية العراقية عام 1932م

السبب المعلن	السبب الغير معلن
اعتراف العراق بحدود الكويت رسمياً	رغبة العراق في عضوية عصبة الأمم المتحدة والذي يتطلب إبراز حدودها كدولة مستقلة

س علل مماطلة العراق في ترسيم الحدود مع الكويت عام 1932 م ؟

- الدافع الحقيقي رغبة العراق في عضوية عصبة الأمم المتحدة وإبراز حدودها كدولة مستقلة
- ترسيم الحدود يتعارض مع مزاعمه الباطلة تجاه الكويت

أكمل العبارات التالية:

س العام الميلادي الذي شهدت الكويت توتر في الخطاب السياسي الموجه نحوها من الملك غازي بن فيصل 1938م

س الإذاعة التي أطلق منها الملك غازي بن فيصل دعوى بضم الكويت للعراق تسمى قصر الزهور

س القصر الذي استخدمه الملك غازي بن فيصل للتحريض ضد الكويت يسمى قصر الزهور

س عدد - الادعاءات التي أطلقها الملك غازي بن فيصل في إذاعة قصر الزهور

- ضم الكويت للعراق
- التحريض ضد الكويت وحكامها
- التشكيك في استقلال الكويت



س علل - تجميد تهديدات الملك غازي بن فيصل للكويت فترة من الوقت بسبب وفاة الملك غازي بن فيصل



تدرب و تفوق
اختبارات الكترونية

أكمل العبارات التالية:



س الدولتان العربيتان اللتان نشأ بينهما الاتحاد الهاشمي هما العراق و دولة تسمى الأردن

س تميزت العلاقات الكويتية - العراقية بالهدوء النسبي في القرن 20 خلال فترة الأربعينات و أوائل الخمسينات



س الدولتان العربيتان اللتان نشأ بينهما الاتحاد الهاشمي هما العراق و دولة تسمى الأردن

س حاكم الكويت الذي رفض طلب اقتراح نوري السعيد بضم الكويت للاتحاد الهاشمي 1958م هو الشيخ عبدالله السالم

الاتحاد الهاشمي

هو تحالف إقليمي بين العراق والأردن

علل لما يلي:

س مطالبة العراق بانضمام الكويت للاتحاد الهاشمي؟

خطوة لفرض سيطرتها على الكويت

س علل - رفض الشيخ عبد الله السالم الانضمام إلى الاتحاد الهاشمي

بسبب عدم رغبة الكويت في الانضمام إلى هذا الاتحاد

س تفكك الاتحاد الهاشمي بين العراق والأردن؟

بسبب انقلاب الضباط الأحرار الدموي بقيادة عبد الكريم قاسم وسقوط الملكية

س ما النتائج المترتبة على: انقلاب الضباط الأحرار في العراق عام 1958م؟

- تفكك الاتحاد الهاشمي
- راح ضحيته الأسرة الهاشمية في العراق
- انتهاء عهد العراق الملكي وبداية العهد الجمهوري

أكمل:

س قائد الانقلاب الدموي في العراق عام 1958م يسمى عبد الكريم قاسم.

س اختياري - أول رئيس للعراق في العهد الجمهوري:

- نوري السعيد
- عبد الكريم قاسم
- فيصل بن الحسين
- غازي بن فيصل



تدرب و تفوق

اختبارات الكترونية



مشكلة الحدود الكويتية - في العهد العراقي الجمهوري

أكمل العبارات التالية:

س أعلنت الكويت استقلالها في 19 يونيو عام **1961م** .

س الولاية العثمانية التي ادعى عبد الكريم قاسم بأن الكويت تابعة لها تسمى **البصرة** .

س رئيس وزراء العراق الذي طالب بتبعية الكويت للعراق عام 1961م يسمى **عبد الكريم قاسم** .

س دل - لم يمهّل عبد الكريم قاسم الشعب الكويتي بالتمتع فرحة الاستقلال

- إرسال رسالة إلى حكومة الكويت خالية من الدبلوماسية واللباقة
- ذكر في الرسالة بأن الكويت تابعة لولاية البصرة العثمانية
- طالب بضم الكويت للعراق

س "عدم اهتمام دولة الكويت بتهديدات رئيس العراق عبد الكريم قاسم" دل على صحة العبارة

لجأت الحكومة الكويتية لتفعيل اتفاقية الصداقة مع بريطانيا وطلب قوات بريطانية
حلت محلها قوات عربية

س علل - مشكلة الحدود الكويتية العراقية في عهد عبد الكريم قاسم ؟

يمكن أن يظهر السؤال في صيغة أخرى:
عدد - أسباب مطالبة الرئيس العراقي عام 1961م بضم الكويت للعراق

- طمع عبد الكريم قاسم بالنفط الكويتي
- البطالة التي كان يعاني منها الشعب العراقي
- حاجة العراق إلى موانئ بحرية رغم امتلاك العراق ست موانئ بحرية

س علل - طمع عبد الكريم قاسم في النفط الكويتي

بسبب تميز الكويت بالإنتاج التجاري للنفط

س " مطالبات العراق عام 1961م منعت دولة الكويت من الانضمام للمنظمات الدولية " فند العبارة

ممکن أن يظهر السؤال في صيغة اخرى: اثبت خطأ العبارة

- انضمام دولة الكويت إلى جامعة الدول العربية عام 1961 م
- انضمام دولة الكويت لعضوية الأمم المتحدة عام 1963 م

س اختياري - العام الميلادي الذي انضمت فيه دولة الكويت لجامعة الدول العربية:

○ 1961م ○ 1962م ○ 1963م ○ 1964م

س " استمر العراق في تهديد دولة الكويت بعد مطالبات عام 1961م " دلل على صحة العبارة

ممکن أن يظهر السؤال في صيغة اخرى: أكتب ما تعرفه عن " أزمة الصامته "



- هاجمت القوات العراقية مركز الصامته الحدودي عام 1973م
- توغلت لمسافة 3 كيلومتر داخل الأراضي الكويتية
- استشهد عدد من العاملين في المركز الكويتي

س عدد النتائج المترتبة على هجوم القوات العراقية على مركز الصامته عام 1973م

- توغلت لمسافة 3 كيلومتر داخل الأراضي الكويتية
- استشهد عدد من العاملين في المركز الكويتي

أكمل العبارات التالية:

س المركز الحدودي لدولة الكويت الذي هاجمته القوات العراقية عام 1973م اسمه الصامته

س حاكم الكويت الذي حدث في عهده أزمة الصامته يسمى الشيخ صباح سالم الصباح

عرّف

الصامته

مهاجمة القوات العراقية مركز الصامته الحدودي عام 1973 م التابع لدولة الكويت

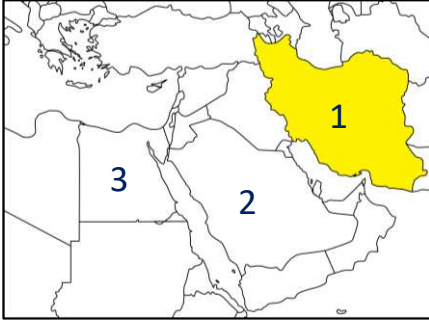


تدرب و تفوق
اختبارات الكترونية



الغزو العراقي البائد لدولة الكويت

أكمل العبارات التالية:



س عدد سنوات الحرب العراقية الإيرانية 8 سنوات.

س الدولة التي خاضت حرب استمرت 8 سنوات مع العراق تحمل على الخريطة المقابلة الرقم 1.

س الرئيس العراقي الذي قام بالتصعيد ضد الكويت في يوليو عام 1990م يسمى صدام حسين.

س عدد أسباب افتعال العراق الأزمة السياسية مع الكويت في يوليو 1990م؟

- خرجت العراق من حرب منهكة مع إيران استمرت لثمانية سنوات
- وجدت الحكومة العراقية نفسها مطالبة بوضع حلول لاقتصادها المنهار
- إعادة بناء البنية التحتية والخدمات المتهاكلة

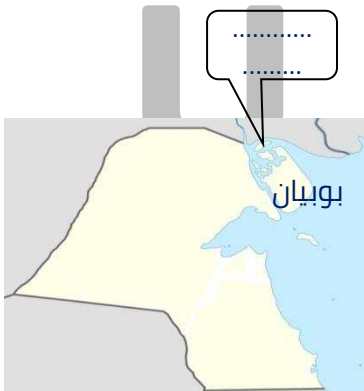
المنهج الكويتي
almanahj.com/kw

س عدد أبرز اتهامات العراق لافتعال أزمة سياسية مع الكويت في يوليو عام 1990م

- اعتداء الكويت على أراضيها الحدودية
- سرقة النفط العراقي خلال الحرب مع إيران
- دولة الكويت وراء انخفاض أسعار النفط

س عدد مطالبات النظام العراقي من الكويت في شهر يوليو 1990م

ممكن أن يظهر السؤال في صيغة أخرى:
علل : فشل المفاوضات في مؤتمر جدة عام 1990م



- إلغاء ديون تقدر بـ 12 مليار دولار
- تعويضها عن البترول الذي تدعي بأنه أخذ من الجزء العراقي من حقل الرميلة الجنوبي بحوالي 2.4 بليون دولار
- تأجير جزيرتي وربة وبوبيان للعراق
- تقديم مبلغ ضخم غير محدد كنواة لمشروع مارشال عربي يخدم العراق

مشروع مارشال

مشروع اقتصادي لإعادة تعمير أوروبا بعد الحرب العالمية الثانية هدفه تشغيل الاقتصاد والمصانع الأوروبية



أكمل العبارات التالية:

س المؤتمر الذي فشل في حل الخلافات بين العراق والكويت عام 1990 م يسمى مؤتمر جدة



almanahj.com/kw

س الصور المقابلة تمثل الغزو العراقي لدولة الكويت

س الغزو العراقي البائد لدولة الكويت فجر يوم 2 أغسطس عام 1990



تدرب و تفوق

اختبارات الكترونية

س فرق بين مراحل الاجتياح الغاشم العراقي للأراضي الكويتية؟

اليوم الأول (الخميس) 2-8-1990م	اليوم الثاني (الجمعة) 3-8-1990م
<ul style="list-style-type: none"> قامت كتيبة مشاة بحرية عراقية بمهاجمة جزيرة بوبيان الهجوم على جزيرة فيلكا إنزال قوات جوية وبحرية على العاصمة (قصر دسمان) معارك الجهراء بين الجيش الكويتي والقوات الغازية سيطرت القوات الغازية على الأراضي الكويتية ما عدا فيلكا 	<ul style="list-style-type: none"> سقطت أغلب مدن ومحافظات الكويت خروج الأمير وولي العهد وأعضاء من الحكومة إلى السعودية

س عدد المعارك التي خاضها الجيش الكويتي مع القوات الغازية في الجبراء؟

- معركة جال الياح
- معركة جال المطلاع
- معركة الجسور
- معركة جال الأطراف

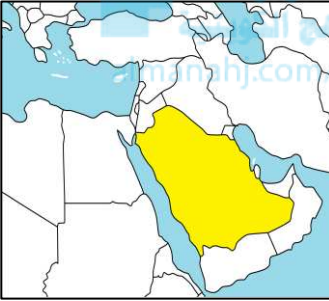
أكمل العبارات التالية:

س القصر الذي استهدفته القوات العراقية في ساعات الغزو الأولى يسمى **قصر دسمان**.



س اليوم الثاني من أغسطس سيطرت القوات العراقية على معظم الأراضي الكويتية عدا جزيرة تسمى **فيلكا**.

س الرئيس العراقي الذي قام بالتصعيد ضد الكويت في يوليو عام 1990 م يسمى **صدام حسين**.



س الدولة التي توجه إليها الأمير الشيخ جابر وولي عهده تسمى **المملكة العربية السعودية**.

س المقر المؤقت للحكومة الكويتية خلال الغزو العراقي في مدينة تسمى **الطائف**.

س علل أهمية دور الحكومة الكويتية المؤقتة في الطائف؟

- حشد المجتمع الدولي والعربي لعودة الشرعية
- النجاح في إدارة الأزمة حتى التحرير



تدرب و تفوق

اختبارات الكترونية



موقف المجتمع الدولي ومؤتمر القمة العربية في القاهرة

س " إدانة المجتمع الدولي للعدوان العراقي على دولة الكويت عام 1990 م " دال على صحة العبارة

- صدر قرار مجلس الأمن رقم 660 في يوم 2 / 8 / 1990 م يدعو للانسحاب الفوري الغير مشروط
- انعقاد مجلس جامعة الدول العربية في 2 / 8 / 1990 م مديناً للغزو العراقي ومطالباً بالانسحاب الفوري الغير مشروط

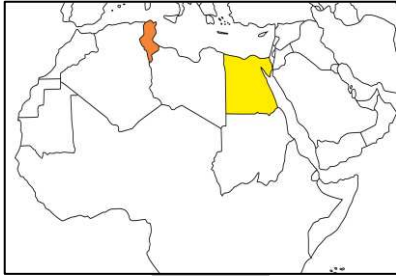
أكمل العبارات التالية:

س أول قرار لمجلس الأمن الدولي والذي ينص على الانسحاب الفوري الغير مشروط للنظام العراقي (صدام حسين) من دولة الكويت يحمل الرقم 660

س الرئيس الذي دعا إلى عقد قمة عربية طارئة في يوم 10 أغسطس 1990 م يسمى حسني مبارك

س س المدينة العربية التي عقدت بها القمة العربية الطارئة بتاريخ 10 أغسطس 1990 م تسمى القاهرة

س عدد الدول المشاركة في القمة العربية الطارئة في 10 أغسطس 1990 م 20 دولة



س الدولة العربية الوحيدة التي غابت عن القمة العربية الطارئة في أغسطس 1990 م تسمى تونس

س عدد الرؤساء والملوك الذين حضروا القمة العربية الطارئة في 10 أغسطس عام 1990 م 14

س عدد البعثات التي حضرت القمة العربية الطارئة في 10 أغسطس عام 1990 م 5

س المنظمة التي حضرت القمة العربية الطارئة في 10 أغسطس عام 1990 م تسمى منظمة التحرير الفلسطينية

س عدد الدول الأعضاء في الجامعة العربية عام 1990 م 21 دولة .

س الدولة التي قدمت مشروع قرار في اجتماع قمة القاهرة 1990 م يدين العدوان العراقي على الكويت تسمى المملكة العربية السعودية .

س عدد بنود مشروع المملكة العربية السعودية في القمة العربية أغسطس 1990 م؟

- التأكيد على إدانة العدوان العراقي على الكويت
- سيادة الكويت واستقلالها
- عودة نظام الحكم الشرعي
- نقل قوات عربية لمساعدة قواتها المسلحة في الدفاع عن أراضيها

س عدد - أحداث الجلسة الصباحية لقمة القاهرة عام 1990 م

- تقدمت المملكة العربية السعودية بمشروع قرار
- تصريح من الوفد العراقي أن غزو الكويت استعادة للحقوق التاريخية العراقية بالكويت
- خلق جو مشحون من التوتر وزاد من انسداد الأفق
- حدث ارتباك بين رؤساء وزعماء وفود الدول المشاركة
- حدث تطاول ومشادات كلامية بين بعض الوفود و تم رفع الجلسة

س علل - خلق جواً مشحوناً من التوتر في الجلسة الصباحية لقمة القاهرة 1990 م بسبب تصريح الوفد العراقي بأن غزو الكويت استعادة للحقوق التاريخية العراقية بالكويت

س علل - رفع الجلسة الصباحية لقمة القاهرة 1990 م

- تصريح الوفد العراقي أن غزو الكويت استعادة للحقوق التاريخية العراقية بالكويت
- خلق جو مشحون من التوتر وزاد من انسداد الأفق
- حدث ارتباك بين رؤساء وزعماء وفود الدول المشاركة
- حدث تطاول ومشادات كلامية بين بعض الوفود و تم رفع الجلسة



تدرب و تفوق
اختبارات الكترونية



س أكمل : عقدت الجلسة المسائية المغلقة لقمة القاهرة في 10 أغسطس عام 1990 م في تمام الساعة السابعة والرابع مساءً

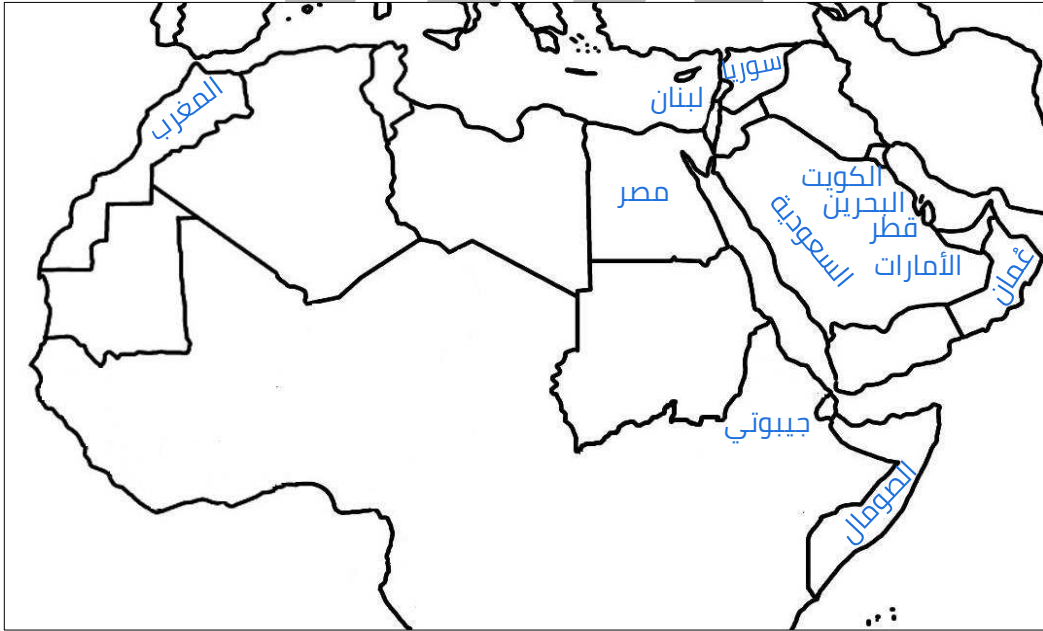
س عدد - أحداث الجلسة المسائية المغلقة لقمة القاهرة عام 1990 م

- بدأ الرئيس المصري أكثر توتراً وقلقاً من فشل القمة دون التوصل لحل
- أشار الرئيس المصري لمشروع القرار السعودي وأنه سوف يقوم بطرحه للتصويت
- طلب من الموافقين على مشروع القرار السعودي رفع أيديهم
- ارتفاع في الأصوات المعارضة والمؤيدة لاقتراح الرئيس المصري
- تم حسم الأمر وعد الأصوات
- وافقت 12 دولة على مشروع القرار السعودي
- تنوعت بقية الأصوات بين رافض للقرار ومتحفظ عليه أو ممتنع عن التصويت
- تم إعلان إنتهاء أعمال القمة بالموافقة على مشروع القرار السعودي ورفع الجلسة

س أكمل عدد الدول العربية التي وافقت على مشروع القرار السعودي 12 دولة .

س عدد - أسماء الدول العربية التي وافقت على قرار القمة العربية 10 أغسطس 1990م

- السعودية ▪ الكويت ▪ الإمارات ▪ قطر ▪ عُمان ▪ البحرين
- المغرب ▪ الصومال ▪ جيبوتي ▪ لبنان ▪ سوريا ▪ مصر



س اختياري - جميع ما يلي الدول العربية التي وافقت على قرار القمة العربية الطارئة أغسطس 1990م ما عدا:

- اليمن
- مصر
- سوريا
- البحرين

س " أزمة الغزو العراقي كشفت عن عمق وتباين الاختلاف العربي - العربي " دلال على صحة العبارة

يمكن أن يظهر السؤال في صيغة أخرى:
دلال على صحة العبارة " أزمة الغزو العراقي كشفت عن فقدان القدرة حول التوحد حول موقف حاسم "

- وافقت فقط 12 دولة عربية على مشروع القرار السعودي
- بقية الأصوات بين رافضين القرار ومتحفظ عليه أو ممتنع عن التصويت
- غياب تونس عن اجتماع القمة العربية



تدرب و تفوق
اختبارات الكترونية



(مؤتمر جدة الشعبي) السلطة الكويتية وإدارة أزمة الغزو العراقي من الخارج



س أكمل : المدينة التي اتخذت منها الحكومة الكويتية مقراً مؤقتاً للإدارة أزمة الغزو من الخارج تسمى **الطائف** .

اقرأ الفقرة التالية ثم أجب عما يليها من أسئلة:

" كان اتصالي مع صاحب السمو في تلك اللحظات المصيرية والاتفاق معه على الخروج من قصر دسمان أفضل وأخطر قرار في حياتي , إنها العناية الإلهية التي أنقذت الشرعية وأنقذت الكويت فقد كان الفارق بين خروجنا من قصر دسمان وبداية هجومهم عليه لا يتجاوز نصف ساعة "

س من قائل هذه العبارة:
الشيخ سعد العبدالله

س المناسبة:

تعليق الشيخ سعد العبدالله على خروج القيادة الكويتية لإدارة الأزمة من الخارج

س عدد - أدوار ومهام حكومة الكويت الشرعية في مدينة الطائف

يمكن أن يظهر السؤال في صيغة أخرى:
دلل - مارست حكومة الكويت الشرعية من الطائف دورها ومهامها بكل وطنية وتحدي

- إدارة شئون الوطن والمواطنين
- حملت لكل الكويتيين صوت الشيخ جابر
- حث المواطنين على بذل الغالي والنفيس في سبيل الوطن
- أكد على روح التحدي وعودة الحق وداعياً للضمود

س أكمل : المشهد التاريخي الجديد للشعب الكويتي بعد أزمة 1961 م يسمى مؤتمر جدة الشعبي

س علل مؤتمر جدة الشعبي جسد متانة العلاقة بين الشعب الكويتي وحكومته؟

- تجديد الشعب الكويتي البيعة للشيخ جابر آل صباح
- أكد للعالم التفاف الشعب حول قيادته الشرعية من آل صباح
- لا بديل عن الشرعية
- استطاع المجتمعون أن يخرجوا برؤية واحدة للكويت ما بعد الغزو
- اتفق على إعادة الحياة النيابية بعد التحرير وتعديل المسار الديمقراطي
- أكدت القيادة الكويتية لن تساوم على شبر من الأراضي الكويتية
- لن تقبل بأي حل سوى التنفيذ الكامل لقرارات القمة العربية الطارئة بالقاهرة
- تنفيذ قرارات مجلس الأمن الدولي الداعي لانسحاب العراق الكامل وغير المشروط



تدرب و تفوق
اختبارات الكترونية



المقاومة الكويتية

س دلل - منذ الساعات الأولى للغزو العراقي كان هناك رفضاً شعبياً واسعاً

- عدم تصديق ما يجري بين كافة فئات وأفراد الشعب الكويتي
- رفض الكويتيين التسليم بالأمر الواقع
- التمسك بالشرعية

س " عاملت القوات العراقية الشعب الكويتي معاملة حسنة في فترة الغزو " فند العبارة

ممكن أن يظهر السؤال في صيغة أخرى:
أكتب ردة فعل العراق من الرفض الشعبي والتمسك بالشرعية الكويتية

- الانتقام من المواطنين
- التخريب الواسع في الممتلكات
- قيام الجنود العراقيين بحمل كل ما تقع عليه أيديهم
- قتل المدنيين

س اكتب فيما يلي - دور المقاومة الكويتية للعدوان الغاشم 1990 م .

ممكن أن يظهر السؤال في صيغة أخرى:
دل على متانة الروابط بين الشعب الكويتي وحكومته عام 1990 م



- تشكيل اللجان الاجتماعية والمالية
- تقديم المساعدات
- قيام اللجان الخاصة بعمليات التنظيف
- قيام الشباب الكويتي بتوفير الرعاية لمن يحتاج
- كتابة الشعارات المعادية على جدران المباني
- مسح أسماء وأرقام الأحياء والبيوت
- توفير السلاح للمقاومين
- حماية المناطق السكنية
- تشكيل لجان مقاومة لرصد القوات العراقية

س علل - قيام المقاومة بمسح أسماء وأرقام الأحياء والبيوت لتضليل العراقيين

أكمل العبارات التالية:

س الموقعة الشهيرة التي وقعت في 24 فبراير عام 1991 م بين المقاومين الكويتيين وبين جنود الغزو العراقي تسمى بيت القرين

س قائد موقعة بيت القرين يسمى سيد هادي محمد علوي

س عدد القتلى من مجموعة بيت القرين في 24 فبراير 1991 م حوالي 12 فرد

س عدد أهم أعمال مجموعة بيت القرين؟

- استنزاف عسكري وتشيت جهود العدو
- استهداف آليات وقنص أفراد منه
- تدمير بعض الناقلات العسكرية
- حماية بعض المناطق والمباني

لاحظ الجدول المقابل ثم اجب عما يلي :

سيد هادي سيد محمد علوي	قائد المجموعة
عامر فرج العنزي	عضو
يوسف خضر يوسف علي	عضو
بدر ناصر عبد الله العيدان	عضو
إبراهيم علي صفر منصور	عضو
عبد الله عبد النبي مندني	عضو
خليل خير الله عبد الكريم البلوشي	عضو
خالد أحمد محمد الكندري	عضو
حسين غلوم رضا	عضو
مبارك علي صفر المنصور	عضو
جاسم محمد علي غلوم	عضو
محمد عثمان علي الشايع	عضو

س ضع عنواناً مناسباً للجدول :

مجموعة بيت القرين


س عدد أعضاء مجموعة بيت القرين

12

س دلل - حادثة بيت القرين ستظل مشهداً تاريخياً يعكس مدى تكاتف ووحدة الكويتيين أثناء الغزو

- تنوع أعضاء جماعة المقاومة
- المجتمع الكويتي بكل أطيافه كان مصمماً على المقاومة ورد العدوان
- أعضاء المجموعة بذلوا أرواحهم مع رفاقهم

س ضع عنواناً مناسباً للصور التالية:



أعمال الكويتيين في الداخل أثناء الغزو



تدرب و تفوق
اختبارات الكترونية

U U L A



التحرير - ترسيم الحدود الكويتية العراقية

أكمل العبارات التالية:



س الصور المقابلة تمثل تحرير دولة الكويت

س عدد الدول التي شكلت ائتلاف عسكري ضد العراق 32 دولة.

س العام الميلادي الذي تشكلت فيه قوات درع الجزيرة عام 1984م.



موقع عاصفة الصحراء

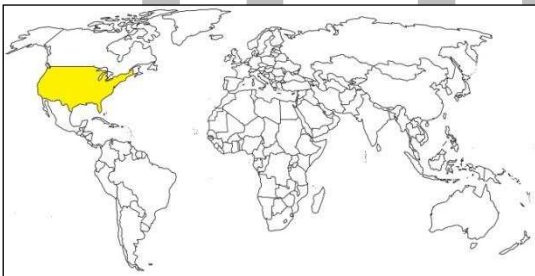
almanahj.com/kw

س بدأت معركة تحرير الكويت أو (عاصفة الصحراء) فجر يوم الخميس الموافق 17 يناير 1991م

س الدولة التي قادت معركة عاصفة الصحراء تسمى الولايات المتحدة الأمريكية

س علل تشكيل ائتلاف عسكري بقيادة الولايات المتحدة ضد العراق؟

- رفض العراق الانقياد للشرعية الدولية
- مواصلة احتلال دولة الكويت
- تحدي الإرادة الدولية



عرّف

عاصفة الصحراء

ائتلاف عسكري مكون من 32 دولة ضد العراق بقيادة الولايات المتحدة الأمريكية

س " الضربات الجوية لقوات الائتلاف مهدت لتحرير دولة الكويت " دلل على صحة العبارة

- إنهاك الجيش العراقي وتحييد دفاعاته
- تدمير قدرته على الاستمرار والبقاء
- جعلت بقاء استمراره مكلفاً بشرياً واقتصادياً

أكمل العبارات التالية:

س بدأت الحرب البرية لتحرير الكويت فجر يوم 24 فبراير 1991.

س عدد مجموعات الجيش البري لتحرير الكويت ثلاث.

س فرق بين مهام مجموعات الجيش البري لتحرير دولة الكويت:

المجموعة الثالثة	المجموعة الثانية	المجموعة الأولى	المهام
<ul style="list-style-type: none"> التحرك في أقصى الغرب وتدخل جنوب الأراضي العراقية (فسر) قطع كافة الإمدادات للجيش العراقي 	<ul style="list-style-type: none"> محاصرة جناح الجيش العراقي في غرب الكويت 	<ul style="list-style-type: none"> تحرير الكويت 	

ضع خطأً تحت الخيار الصحيح:

يمكن أن يظهر السؤال في صيغة أخرى: **أكمل**

س تم تحرير دولة الكويت رسمياً عام 1991 في يوم:

- 20 فبراير ○ 24 فبراير ○ 26 فبراير ○ 28 فبراير

س الفترة الزمنية لاحتلال النظام العراقي البائد لدولة الكويت

- خمسة شهور ○ ستة شهور ○ سبعة شهور ○ ثمانية شهور

س أولى الأراضي الكويتية المحررة من احتلال النظام العراقي البائد:

- فيلكا ○ بوبيان ○ كبر ○ قاروة

س أول القيادات من آل الصباح التي قدمت إلى الكويت بعد التحرير مباشرة الشيخ:

- صباح الأحمد ○ سعد العبدالله ○ جابر الأحمد ○ جابر المبارك

س الشيخ الذي ترأس أول اجتماع لمجلس الوزراء على أرض الكويت بعد التحرير:

- صباح الأحمد ○ سعد العبدالله ○ جابر الأحمد ○ جابر المبارك

س الشيخ الذي تحررت في عهده دولة الكويت من الغزو العراقي الغاشم عام 1991م:

- صباح الأحمد ○ سعد العبدالله ○ جابر الأحمد ○ جابر المبارك



تدرب و تفوق
اختبارات الكترونية



س عدد أشكال الدمار التي خلفها العراق بعد انتهاء الغزو العراقي

- دمر كافة البنى التحتية للكويت ومؤسساتها
- نهب وسرقة كل ما وقعت عليه أيدي الجنود العراقيين
- إحراق ما يزيد عن 7378 بئر نفطي كويتي
- استمر الآبار مشتعلة لمدة تسعة أشهر بعد انتهاء الحرب

اختر الإجابة الصحيحة :

س عدد آبار النفط الكويتية التي احرقها ودمرها النظام العراقي قبل الانسحاب:



○ 777 بئر

○ 773 بئر

○ **737 بئر**

○ 727 بئر

س المدة التي استمرت فيها آبار النفط الكويتية مشتعلة بعد انتهاء الحرب

○ **تسعة شهور**

○ ثمانية شهور

○ سبعة شهور

○ ستة شهور

أكمل العبارات التالية

س رقم القرار الذي أصدره مجلس الأمن الدولي وينص على التزام الدول الأعضاء بسيادة دولة الكويت **687**

س العام الميلادي الذي أصدر فيه مجلس الأمن قرار رقم (687) هو **1991 م**

س عدد أهم بنود قرار مجلس الأمن رقم 687 ؟

- التأكيد على التزام جميع الدول الأعضاء في الأمم المتحدة بسيادة دولة الكويت
- التأكيد على استقلالها السياسي
- تشكيل لجنة لتخطيط الحدود بين الكويت والعراق في مايو 1991م

اختياري:

يمكن أن يظهر السؤال في صيغة اخرى: **أكمل**

س أعلنت لجنة الأمم المتحدة عن انتهائها من تخطيط الحدود بين الكويت والعراق في منتصف إبريل عام:

○ **1992**

○ 1993

○ 1990

○ 1991

س القرار الذي أصدره مجلس الأمن والذي ينص على اعتماد ترسيم الحدود بين الكويت والعراق عام 1993م رقم :

833 ○

660 ○

848 ○

687 ○

س وزير الخارجية الكويتي الذي أرسل خطاب للأمين العام للأمم المتحدة في مايو 1993م معرباً عن تقدير الكويت التاريخي للأمم المتحدة الشيخ:

○ سالم الصباح

○ صباح الأحمد

○ صباح السالم

○ ناصر المحمد

س عدد قرارات الأمم المتحدة ضد العدوان العراقي على دولة الكويت:

- قرار رقم 660 عام 1990م الذي طالب فيه الرئيس العراقي بالانسحاب الفوري غير المشروط
- قرار رقم 687 عام 1991م الذي يؤكد التزام الدول الأعضاء بسيادة دولة الكويت
- قرار رقم 833 عام 1993م ليعتمد الحدود الكويتية العراقية حدوداً مثبتة تحت إشراف الأمم المتحدة

س قارن بين كل من:

السبب الحقيقي للغزو العراقي على دولة الكويت	السبب المعلن للغزو العراقي على دولة الكويت
<ul style="list-style-type: none">▪ تحقيق المطامع التاريخية للعراق بضم دولة الكويت	<ul style="list-style-type: none">▪ اعتداء الكويت على أراضيه الحدودية▪ سرقة النفط العراقي خلال الحرب مع إيران▪ دولة الكويت وراء انخفاض أسعار النفط



تدرب و تفوق

اختبارات الكترونية

رؤية الكويت الجديدة

أكمل العبارات التالية:



س الشعار المقابل يمثل رؤية الكويت الجديدة.

س أمير دولة الكويت صاحب رؤية دولة الكويت بحلول عام 2035 يسمى الشيخ صباح الأحمد.



موقع
المناهج الكويتية
almanahj.com/kw

س عدد أهداف خطة التنمية الوطنية لتحويل دولة الكويت إلى مركز إقليمي (رؤية الكويت 2035 م)

يمكن أن يظهر السؤال في صيغة أخرى:
عدد الملامح الرئيسية لكويت المستقبل بحلول 2035م

- تحويل الكويت لمركز مالي تجاري جاذب
- يقوم القطاع الخاص بمشاركة النشاط الاقتصادي
- تشجيع روح المنافسة ورفع كفاءة الإنتاج
- الحفاظ على الهوية الاجتماعية
- توفير تشريعات مطورة
- تحقيق التنمية البشرية

عرّف

التنمية المستدامة

عملية تطوير الأرض والمدن والمجتمعات والأعمال التجارية لتلبية احتياجات الحاضر دون المساس بقدرة الأجيال القادمة على تلبية حاجاتها



تدرب و تفوق
اختبارات الكترونية



س علل يبدأ مستقبل دولة الكويت برؤية ؟
لأن الرؤية تصبح خطة لتحويل دولة الكويت إلى مركز جذاب للاستثمار

س عدد اتجاهات استراتيجية رؤية الكويت؟

- مشاركة المواطن واحترام القانون
- حكومة فاعلة
- اقتصاد مستدام
- دولة مزدهرة
- مكانة عالمية متميزة

س علل خطة التنمية لمستقبل الكويت تعتمد على ركائز واستراتيجية عمل؟
لأن كل خطة تشتمل على ركائز لتحقيق أكبر أثر تنموي لبلوغ رؤية دولة الكويت الجديدة



س عدد ركائز صناعة مستقبل الكويت الجديدة ؟

- مكانة دولية مميزة
- بنية تحتية متطورة
- رأسمال بشري إبداعي
- إدارة حكومية فاعلة
- رعاية صحية عالية الجودة
- اقتصاد متنوع مستدام
- بيئة معيشية مستدامة

س أكمل - عدد ركائز خطة التنمية وصناعة المستقبل في الكويت الجديدة _7_ .

س أكتب كيفية تحقيق مكانة دولية متميزة لدولة الكويت الجديدة

- تحسين الوجود الإقليمي والعالمي لدولة الكويت في المجالات الدبلوماسية والتجارية والثقافية والأعمال الخيرية
- الموقع الجغرافي المهم لدولة الكويت هو خير انطلاقة لأي خطة تنموية

س علل - مكانة الكويت الدولية محل ثقة من قبل العالم
لأنها تقوم بأعمال إنسانية خلال الكوارث



تدرب و تفوق
اختبارات الكترونية

س " للكويت مكانة متميزة دوليا فيما تقوم به من أعمال إنسانية خلال الكوارث " دال على صحة العبارة

- تكريم الأمم المتحدة للكويت مركز للإنسانية
- حصول صاحب سمو الأمير صباح الأحمد قائد للإنسانية عام 2014 م



س علل اهتمام دولة الكويت بتطوير البنية التحتية ؟

لتحسين جودة الحياة لجميع المواطنين

س عدد أهم المشاريع الرئيسية لتطوير البنية التحتية لدولة الكويت ؟

ممكن أن يظهر السؤال في صيغة أخرى:
دال - اهتمام دولة الكويت بتطوير البنية التحتية



- شبكة السكك الحديد
- جسر الشيخ جابر
- أنظمة النقل السريع - مترو الكويت
- ميناء مبارك الكبير
- الطريق الإقليمي
- مشروع مطار الكويت الجديد

س علل تطوير نظام التعليم في دولة الكويت

- إعداد الشباب بصورة أفضل
- ليصبحوا أعضاء يتمتعون بقدرات تنافسية وإنتاجية لقوة العمل الوطنية

عَرَّف

البيروقراطية

تطبيق القوانين بالقوة في المجتمعات المنظمة حيث تعتمد على الإجراءات الموحدة وتوزيع المسؤوليات بطريقة هرمية

س علل أهمية إصلاح الممارسات الإدارية والبيروقراطية في دولة الكويت ؟

لتعزيز معايير الشفافية والمساءلة القانونية والرقابية وفاعلية الجهاز الحكومي

س اكتب مقترحاتك لتحقيق تعزيز معايير الشفافية والمساءلة القانونية والرقابية وفاعلية الجهاز الحكومي؟

إصلاح الممارسات الإدارية والبيروقراطية



تدرب و تفوق

اختبارات الكترونية



س " اهتمام حكومة الكويت بجودة الخدمات الصحية والرعاية الوقائية " دال على صحة العبارة

يمكن أن يظهر السؤال في صيغة أخرى:
عدد أهم مشاريع دولة الكويت في مجال الرعاية الصحية

- التوسعة الجديدة لمستشفى الأميري
- مستشفى الأمراض السارية الجديد
- مستشفى الصباح الجديد
- تشجيع وتحفيز ممارسة الرياضة في المجتمع
- الوقاية والتصدي للأمراض المزمنة غير السارية



س علل أهمية تطوير وتنوع الاقتصاد الكويتي؟

- للحد من اعتماد الدولة على عائدات صادرات النفط
- تحقيق الاقتصاد المستدام
- لأنه يلامس المواطن بصورة مباشرة في حياته اليومية

س أكتب مقترحاتك لتطوير اقتصاد متنوع مستدام للكويت؟

- تشجيع القطاع الخاص على العمل
- زيادة المشروعات الصغيرة
- جذب الاستثمارات الأجنبية
- استقطاب التقنيات الحديثة إنتاجياً

س عدد - دعائم الاقتصاد المستدام ؟

- تمكين القطاع الخاص
- زيادة المشروعات الصغيرة والمتوسطة
- جذب الاستثمارات الأجنبية

س علل - جذب الاستثمارات الأجنبية دعامة من دعائم الاقتصاد المستدام

لأنها تستقطب التقنيات الحديثة إنتاجياً وإدارياً

أقرأ الفقرة التالية ثم أجب عما يليها من أسئلة:

"أن البلاد تواجه تحدياً يهدد مسيرتها يتمثل في الانخفاض الهائل في إيرادات الدولة جراء انهيار أسعار النفط في العالم، ما أحدث عجزاً كبيراً في الموازنة العامة للدولة"

س من القائل:

الشيخ صباح الأحمد الصباح

س المناسبة:

في افتتاح الدور الانعقاد الأول للفصل التشريعي 15 لمجلس الأمة عام 2016

س دلل على حرص الشيخ صباح الأحمد على إدارة المواطن وإيجاد حلول اقتصادية متنوعة؟

المناهج الكويتية
almanahj.com/kw

- خطابة في الفصل التشريعي 15 لمجلس الأمة 2016م
- شدد على تخفيض الإنفاق العام
- وقف الهدر واستنزاف الموارد
- التخفيف على محدود الدخل
- مراعاة العدالة الاجتماعية
- أن يكون للقطاع الخاص دور حيوي في برنامج الإصلاح الاقتصادي
- تقوم الحكومة بإعداد كافة أدواته وتفصيله والعملية الزمنية
- يعرف فيه المواطن دوره في برنامج الإصلاح الاقتصادي

س عدد أهم المشاريع لتحقيق بيئة معيشية مستدامة في دولة الكويت ؟

يمكن أن يظهر السؤال في صيغة أخرى:
دلل / دولة الكويت تسعى لبيئة معيشية مستدامة

- مشروع جنوب المطلاع
- معالجة النفايات الصلبة - موقع كبد
- مراقبة الملوثات من المصادر الثابتة والمتحركة
- تطوير برنامج المراقبة وتحسين جودة الهواء



تدرب و تفوق
اختبارات الكترونية



نماذج لبعض المشاريع من الخطة التنموية لمستقبل دولة الكويت الجديدة

س عدد مشاريع الخطة التنموية لمستقبل دولة الكويت الجديدة؟

- مستشفى الشيخ جابر
- المطار الجديد
- مدينة جنوب المطلاع
- مصفاة الزور
- معالجة النفايات الصلبة
- ميناء مبارك الكبير
- مركز الشيخ جابر الأحمد الثقافي (دار الأوبرا)
- مبنى الجامعة الجديد
- مبادرة الوقود البيئي
- جسر الشيخ جابر
- مدينة صباح الأحمد البحرية
- طريق الجهراء
- مشروع شبكة السكك الحديدية



س اختياري - ليس من مشاريع الخطة التنموية لمستقبل دولة الكويت الجديدة:

- المطار الجديد
- ميناء مبارك المبارك
- ميناء الأحمدي
- دار الأوبرا

مشروع مستشفى الشيخ جابر

س " مستشفى الشيخ جابر صرح من صروح الكويت " دلل على صحة العبارة

- صُنف كأكبر مستشفى في الشرق الأوسط
- تحتل المرتبة السادسة عالمياً من حيث المساحة
- الطاقة الاستيعابية 1200 سرير
- أول مستشفى في الكويت يخصص فيه قسم للحوادث والكوارث

أكمل العبارات التالية:



س الصورة المقابل تمثل صرح طبي في دولة الكويت اسمه مستشفى الشيخ جابر.

س صرح من صروح الكويت صنف كأكبر مستشفى في الشرق الأوسط يسمى مستشفى الشيخ جابر.

س تبلغ الطاقة الاستيعابية لمستشفى الشيخ جابر الأحمد حوالي 1200 سرير.

س أول مستشفى في الكويت يخصص فيه قسم للحوادث والكوارث يسمى مستشفى الشيخ جابر.

س المرتبة التي تحتلها مستشفى الشيخ جابر من حيث المساحة والطاقة الاستيعابية عالمياً السادسة.

س عدد مصاعد مستشفى الشيخ جابر 150 مصعد.

س عدد المنصات الخاصة لهبوط المروحيات في مستشفى الشيخ جابر ثلاث.

س عدد الأبراج الخاصة بغرف المرضى بمستشفى الشيخ جابر خمسة.

س عدد طوابق أبراج غرف المرضى بمستشفى الشيخ جابر تسعة.

س عدد مداخل مستشفى الشيخ جابر سبعة.

س تبلغ المساحة الاجمالية لمستشفى الشيخ جابر 720,000 متر مربع.

مشروع مركز الشيخ جابر الأحمد الثقافي (دار الأوبرا)

أكمل العبارات التالية:



س معلم ثقافي وتحفة معمارية استغرق تصميمه وإنجازه 22 شهر مستوحاة من العمارة الإسلامية يسمى مركز الشيخ جابر الأحمد الثقافي - دار الأوبرا.

س عدد مباني مركز الشيخ جابر الأحمد الثقافي أربعة.

س الشكل الذي يأخذه مركز الشيخ جابر الأحمد الثقافي _ الجواهر المبعثرة _

س عدد المسارح في المبنى الواحد في دار الأوبرا _ 3 _

س عدد قاعات الحفلات والمؤتمرات والمعارض والوثائق التاريخية في دار الأوبرا _ 3 _

س تقدر مساحة مركز الشيخ جابر الأحمد الثقافي بـ 214 ألف متر مربع _

س عدد أهداف مشروع مركز الشيخ جابر الثقافي؟

يمكن أن يظهر السؤال في صيغة أخرى: دار الأوبرا

- تسليط الضوء على الفنون المسرحية
- خلق عالم مسرحي داخل مساحات خضراء
- جذب الرواد في مختلف الفنون
- ليكون مبعثاً للفخر والاعتزاز للكويت دولة وشعباً

موقع
المنهاج الكويتية
almanahj.com/kw



تدرب و تفوق
اختبارات الكترونية



مشروع المطار الجديد

س عدد مساهمات الإدارة العامة للطيران المدني لتطوير مطار الكويت الدولي؟



- تطوير البنية التحتية من مدرجات وممرات
- إنشاء مدرج ثالث لاستقبال جميع أنواع الطائرات
- زيادة الطاقة الاستيعابية من سبعة ملايين إلى 20 مليون راكب
- انشاء مبنى جديد للركاب

أكمل العبارات التالية:

س يهدف مشروع المطار الجديد زيادة كمية الشحن الجوي من 600 ألف طن في السنة إلى ستة ملايين طن _

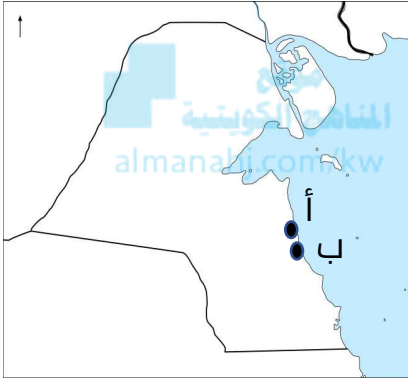
س عدد طائرات الشحن التي يهدف مشروع مطار الكويت الجديد لاستيعابها 70 طائرة _

مشروع مبادرة الوقود البيئي لمؤسسة البترول الكويتية

عَرَّف

مشروع مبادرة الوقود البيئي

مشروع تنموي يهدف إلى تحريك العجلة الاقتصادية في دولة الكويت من خلال توسيع وتطوير مصفاتي ميناء عبدالله وميناء الأحمد في دولة الكويت من خلال



لاحظ الخريطة المقابلة ثم أجب عن الأسئلة التالية:

س مصفاة كانت الطاقة الإنتاجية لها 270 ألف برميل يومياً تحمل على الخريطة الحرف **(ب) ميناء عبدالله**

س مصفاة كانت الطاقة الإنتاجية لها 466 ألف برميل يومياً تحمل على الخريطة الحرف **(أ) ميناء الأحمد**

س علل تطوير دولة الكويت مصفاتي ميناء عبدالله والأحمد؟

- ليكونا مجعاً للتكرير بطاقة 800 ألف برميل يومياً
- تعزيز مكانة الكويت العالمية في صناعة تكرير النفط

مشروع مدينة جنوب المطلاع



س أكمل أكبر مشروع إسكاني في تاريخ دولة الكويت هو مدينة **جنوب المطلاع**

س علل تعتبر مدينة جنوب المطلاع أكبر مشروع إسكاني في تاريخ دولة الكويت ؟

يمكن أن يظهر السؤال في صيغة أخرى:
مشروع مدينة جنوب المطلاع أضخم المشاريع الإسكانية دلل على صحة العبارة

- الطاقة الاستيعابية تصل إلى 400.000 نسمة
- يضم 116 مدرسة
- يضم 12 مركزاً للصحة العامة



مشروع مبنى الجامعة الجديد

أكمل العبارات التالية:



almanahj.com/kw

س أحد أكبر المشاريع الإنشائية في الشرق الأوسط للارتقاء بالتعليم الجامعي في دولة الكويت يسمى مدينة صباح السالم الجامعية

س المنطقة التي تقع فيها مدينة صباح السالم الجامعية تسمى الشدادية

س تبلغ المساحة الاجمالية المقام عليها مدينة صباح السالم الجامعية نحو 6 ملايين م2

س علل - حرص دولة الكويت على الارتقاء بالتعليم الجامعي لأنه محورياً أساسياً للتنمية البشرية

عدد

س أهداف مشروع مدينة صباح السالم الجامعية؟

- تطوير منظومة التعليم في البلاد
- إعداد الكوادر الوطنية المؤهلة على تلبية احتياجات السوق
- المساهمة في بناء الوطن بسواعد أبنائه

س علل - تعد مدينة صباح السالم الجامعية الأكبر في منطقة الشرق الأوسط لأنها مقامة على مساحة 6 ملايين متر مربع

س علل - مدينة صباح السالم الجامعية تمثل طفرة في قطاع التعليم الجامعي في الكويت؟

- بما سوف تزخر به من منشآت ذات تصاميم هندسية متنوعة تجعلها مشروعاً وطنياً
- تساهم في توفير بيئة تعليمية مثالية

مشروع مصفاة الزور

أكمل العبارات التالية:



س أكبر مصفاة في العالم تبنى بمرحلة واحدة تسمى مصفاة الزور

س الطاقة الانتاجية اليومية لمصفاة الزور من الوقود الذي يحتوي على معدل منخفض من الكبريت نحو 615.000 برميل

س تبلغ طاقة التكرير النفط الكويتية يومياً 1.4 مليون برميل

س علل تتمتع مصفاة الزور بمرونة عالية؟

- مصممة لمعالجة أنواع مختلفة من النفط الخام الكويتي بالإضافة للنفط الخام الثقيل
- ستوفر الوقود النظيف لمحطات الطاقة

مشروع جسر الشيخ جابر

أكمل العبارات التالية:



س أطول جسر بحري في العالم يسمى جسر الشيخ جابر الأحمد

س يربط جسر الشيخ جابر مدينة الكويت بمدينة الصبية الجديدة

س " جسر الشيخ جابر أطول جسر بحري في العالم " دلل على صحة العبارة
يبلغ طول جسر الشيخ جابر 37.5 كيلو متر في جون الكويت

س علل / انشاء مشروع جسر الشيخ جابر ؟

يمكن أن يظهر السؤال في صيغة اخرى: أهمية مشروع جسر الشيخ جابر

- اختصار المسافة بين مدينة الكويت ومدينة الصبية الجديدة
- اختصار المسافة 104 كم تقطعها المركبات إلى 37.5 كم
- اختصار الوقت من 90 دقيقة إلى أقل من 30 دقيقة
- ضمان انسيابية حركة المرور اتجاه منطقة الدوحة
- ربط المناطق الشمالية بالجنوبية لاستيعاب الكثافة المرورية المتزايدة



تدرب و تفوق
اختبارات الكترونية



مشروع معالجة النفايات الصلبة

عرّف

النفايات الصلبة



موقع
المناهج الكويتية
almanahj.com/kw

مخلفات صلبة وشبه صلبة تنتج من مختلف القطاعات
مثل الزجاج والأخشاب

س عدد أنواع (أمثلة) النفايات الصلبة؟

- المواد البلاستيكية
- الزجاج
- الأوراق
- الأخشاب

أكمل العبارات التالية:

س المنطقة التي يقع فيها مشروع معالجة النفايات الصلبة تسمى كبد .

س اخطر أنواع النفايات على البيئة تسمى النفايات الصلبة .

س عل انشاء مشروع معالجة النفايات الصلبة بكبد؟

- معالجة النفايات الصلبة
- حماية البيئة والموارد البرية

مدينة صباح الأحمد البحرية

أكمل العبارات التالية:



س أول وأكبر مشروع يشيد بالكامل من قبل القطاع
الخاص في دولة الكويت يسمى مدينة

صباح الأحمد البحرية

س تقع مدينة صباح الأحمد البحرية في منطقة تسمى الخيران .

س علل تعد مدينة صباح الأحمد البحرية عملاً حضارياً مميزاً على مستوى العالم؟

- إنشاء المدينة على أرض كانت سبخة غير صالحة للبناء
- استخدام أحدث ما توصل إليه العلم في إنشاء المدن
- التخطيط والانجاز لكل الخدمات على أعلى مستوى
- تصميم المدينة يوفر عوامل جذب
- قسمت المدينة إلى قطاعات تتخللها ممرات مائية

مشروع ميناء مبارك الكبير

أكمل العبارات التالية:



almanahj.com/kw

س يشكل مشروع ميناء مبارك الكبير البحري خطوة مهمة لإحياء طريق يسمى **الحرير**

س ميناء مبارك الكبير يشكل نقله نوعية في قطاع **الترانزيت** تجارة

س علل مشروع ميناء مبارك الكبير من أهم مشاريع التنمية في دولة الكويت؟

- إنشاء ميناء بحري رئيسي سعة 60 مرسى
- محوراً رئيسياً للنقل يربط الأرض بالبحر
- يعزز مكانة الكويت كمركز مهم للنشاط الاقتصادي
- سيساهم المشروع في انفتاح الكويت على العالم تجارياً واقتصادياً

س عدد - وسائل النقل المساعدة لميناء مبارك الكبير في ربط الأرض بالبحر

- الطرق السريعة
- السكك الحديد

س علل- مشروع ميناء مبارك الكبير سيساهم في انفتاح البلاد على العالم تجارياً واقتصادياً

يمكن أن يظهر السؤال في صيغة أخرى:
علل- مشروع ميناء مبارك الكبير أحد العناصر الأساسية لتحويل دولة الكويت لمركز تجاري ومالي عالمي

- سيشكل ميناء مبارك الكبير نقلة نوعية في قطاع تجارة الترانزيت
- خطوة مهمة في إحياء طريق الحرير من خلال بوابة الكويت من شمال الخليج



تدرب و تفوق
اختبارات الكترونية



مشروع طريق الجهراء

عرّف

مشروع طريق الجهراء



هو جزء من مشروع متكامل يربط شرق الكويت بغربها في منطقة الجهراء

أكمل العبارات التالية:

س مشروع يعد أحد أكبر الطرق متعددة الأدوار في العالم يسمى **مشروع الجهراء**

س يبلغ طول الجسور العلوية في مشروع طريق الجهراء **17.7 كم**

س العام الميلادي الذي بدأ فيه العمل بمشروع طريق الجهراء **2011م**

س العام الميلادي الذي انتهى فيه العمل بمشروع طريق الجهراء **2016م**

س علل أهمية مشروع طريق الجهراء

يمكن أن يظهر السؤال في صيغة أخرى:
عدد النتائج المترتبة على مشروع طريق الجهراء

- أحد الحلول المهمة لتقليل من الازدحام المروري
- رفع القدرة الاستيعابية لطريق الجهراء
- خفض نسبة الحوادث المرورية
- رفع مستوى الخدمات لمستخدمي الطرق
- الفصل بين حركة المرور العابرة وحركة المرور المحلية

مشروع شبكة السكك الحديدية

عرّف

مشروع شبكة السكك الحديدية

شبكة متكاملة تربط بين مدينة الكويت ومطار الكويت الدولي والموانئ البحرية ودول مجلس التعاون الخليجي

س علل أهمية مشروع شبكة السكك الحديدية في دولة الكويت؟



- ربط مدينة الكويت ومطار الكويت والموانئ البحرية
- ربط الكويت بدول مجلس التعاون الخليجي
- يخدم المشروع الركاب وعمليات الشحن
- تخفيف أزمة الاختناقات المرورية

س أكتب المفهوم العلمي الدال على العبارات التالية :

ممكن أن يظهر السؤال في صيغ أخرى: [عرف](#)

المفهوم العلمي	العبارات
مستشفى الشيخ جابر	صرح من صروح الكويت صنف كأكبر مستشفى في الشرق الأوسط
دار الأوبرا	معلم بارز وتحفة معمارية وصرح تنويري فريد من نوعه يقع في قلب مدينة الكويت
مدينة جنوب المطلاع	أكبر مشروع إسكاني في تاريخ دولة الكويت وأضخم المشاريع الإسكانية المتكاملة للخدمات
مدينة صباح السالم الجامعية	أحد أكبر المشاريع الإنشائية في الشرق الأوسط للارتقاء بالتعليم الجامعي في دولة الكويت
مصفاة الزور	أكبر مصفاة في العالم تبنى بمرحلة واحدة وتنتج وقود يحتوي على معدل منخفض من الكبريت
جسر الشيخ جابر	أطول جسر بحري في العالم يبلغ من الطول 37.5 كم في جون الكويت
مدينة صباح الأحمد البحرية	أول وأكبر مشروع يشيد بالكامل من قبل القطاع الخاص في دولة الكويت في منطقة الخيران
ميناء مبارك الكبير	مشروع يهدف لإنشاء ميناء بحري رئيسي للنقل يربط الأرض بالبحر



تدرب و تفوق
اختبارات الكترونية



الكويت الجديدة في 2035م مشروع استغلال الجزر الكويتية

أقرأ الفقرة التالية ثم أجب عما يليها من أسئلة:

" تحويل الكويت إلى مركز مالي يجذب المستثمرين , حيث يقود القطاع الخاص الاقتصاد خالقاً منافسة وتزيد من كفاءة الإنتاج تحت مظلة تأييد المؤسسات الحكومية التي تبرز القيم وتعزز ضمانات الهوية الاجتماعية وتحقق توازناً في تنمية الموارد البشرية إلى جانب توفير البنية التحتية الملائمة والتشريعات المتقدمة وبيئة عمل ملهمة "



س من القائل:

الشيخ صباح الأحمد الصباح

س المناسبة:

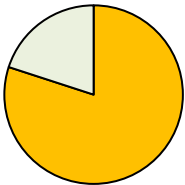
تحويل الكويت لمركز تجاري ومالي عالمي

س اكتب رؤية الشيخ صباح الأحمد لتحقيق التنمية المستدامة في الكويت

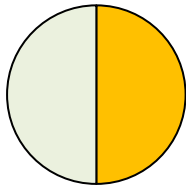
- تحويل الكويت لمركز تجاري ومالي
- خلق بيئة جاذبة لرؤوس الأموال العالمية
- توفير حقل اقتصادي متجدد
- توفير بنية تحتية قادرة على مواكبة التطور

س نسبة جزر الساحل الشرقي من المساحة الكلية لدولة الكويت يمثلها الجزء المظلل في الدائرة البيانية : (5%)

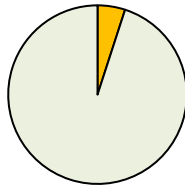
يمكن أن يظهر السؤال في صيغ أخرى: أكمل ارسم دائرة بيانية



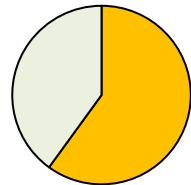
☐



☐



☒



☐

لاحظ الخريطة التالية ثم أجب عما يلي:

س حدد على الخريطة ما يلي:
جزيرة بوبيان - جزيرة فيلكا - جزيرة عوقة - جزيرة مسكان - جزيرة وربة



س عدد الأهمية التاريخية للجزر الكويتية ؟

ممكن أن يظهر السؤال في صيغة أخرى:
" ليس للجزر الكويتية أهمية تاريخية " فند العبارة

- محطة أساسية في حركة التجارة من آلاف السنين
- ارتبطت بأقدم الحضارات القديمة
- وجودها وسط أكثر من 150 مليون نسمة ضمن سوق اقتصادي ضخم
- موقع جغرافي يتوسط خطوط التجارة بين قارات العالم القديم (آسيا - أوروبا - أفريقيا)

س أكمل المعادلة الجغرافية :

قارة آسيا + قارة أوروبا + قارة أفريقيا = **العالم القديم**





س عدد الرؤية المستقبلية للجزر الكويتية:

- إحياء طريق الحرير التاريخي
- لغة العصر والمستقبل بإنشاء منطقة تكنولوجية رقمية
- صناعة السياحة والفندقة بطابع حضاري وتدريب أمماء المتاحف في جزيرة فيلكا
- منطقة حرة ذات تشريعات خاصة تتسم بالمرونة والبعد عن البيروقراطية
- موطن جديد للاستثمار وجذب رؤوس الأموال
- طبيعة جغرافية سانحة لتطبيق قوانين وتشريعات خاصة وإنشاء بنية تحتية على المعايير العالمية
- بوابة ميناء شمال الخليج العربي
- مركز مالي وسياسي وخدمي يتصل بالصين عبر أواسط آسيا
- مركز التجارة العالمي للمال والأعمال
- بيئة مثالية مهيأة للاستثمار الدولي ضمن بورصة عالمية
- منطقة سكنية متكاملة المرافق على أحدث النظم العالمية
- رعاية طبية متكاملة
- مركز للثقافة المحلية من خلال إنشاء مدينة تراثية
- منطقة مراسي عالمية تضم اليخوت والمجمعات التجارية
- موطن للترفيه (حدائق ومتنزهات)
- إنشاء مدينة رياضية تستقطب مختلف البطولات العالمية
- استوديوهات صناعة السينما والأفلام مجهزة بأحدث الخدمات الإنتاجية
- إطلالة ساحرة على ممرات مائية تحاكي مدينة فينيسيا (البندقية الإيطالية)
- بيئة طبيعية تشمل شمال جزيرة بوبيان وهي منطقة مثالية لإنشاء والفنادق بطابع بيئي
- الوجهة السياحية الأمثل في المنطقة وموطن الهدوء في جزيرة عوّه
- جزيرة مسكان المنطقة الأمنية والعين الساهرة على باقي الجزر

موقع
المنهج الكويتية
almanahj.com/jw



تدرب و تفوق

اختبارات الكترونية

أكمل العبارات التالية:

ممكّن أن يظهر السؤال في صيغة أخرى: حدد على الخريطة

س الجزيرة الكويتية التي تتمتع بطابع حضاري تاريخي وعلوم الآثار والتنقيب تسمى فيلكا

س رؤية الكويت المستقبلية للجزر الكويتية تتضمن إطلالة ساحرة على ممرات مائية تحاكي مدينة فينيسيا (البندقية الإيطالية)

س المنطقة المثالية لإنشاء الفنادق السياحية بطابع يخدم الحياة البرية والبحرية شمال جزيرة بوبيان

س الجزيرة التي تمثل الوجهة السياحية الأمثل وموطن الهدوء والاستجمام تسمى عوقة

س المنطقة الأمنية والعين الساهرة على باقي الجزر الكويتية تسمى مسكان

amanahj.com/kw

س عدد - الجزر التي اعتمدت عليها دراسات الرؤية المستقبلية للجزر الكويتية

- سنغافورة
- لكسمبرج
- هونغ كونغ
- جبل طارق

عل:

س سهولة تطبيق نفس الأسلوب للمشاريع الحرة الأجنبية علي الجزر الكويتية؟

ممكّن أن يظهر السؤال في صيغة أخرى:
"صعوبة تطبيق الرؤية المستقبلية للجزر الكويتية " فند العبارة

- لأنها جزر غير مأهولة بالسكان
- سهولة تطبيق القوانين الخاصة بها
- لها بعد تراثي وتاريخي
- أنماط الحياة البيئية المتنوعة بها أكسبها قيمة للابتكار والاستثمار المبدع

س مشروع الجزر الكويتية مشروع فريد له العديد من الفوائد؟

- ستكون معادلة اقتصادية ناجحة
- إنتاجها من الدخل القومي لأكثر من 35 مليار دولار سنوياً
- توفير مئات الآلاف من فرص العمل
- نشاط سياحي جاذب ل 3 ملايين سائح سنوياً
- إضافة الأمان والاستقرار لوضع الدولة الاستراتيجي

س صنف مشاريع التنمية الآتية حسب الجدول الذي أمامك:

جسر الشيخ جابر - مصفاة الزور - المطار الجديد - جنوب المطلاع - مشروع كبد
للنفايات مشروع الجهراء - ميناء مبارك الكبير - الأوبرا - مبنى الجامعة الجديدة
مستشفى الشيخ جابر - مدينة صباح الأحمد البحرية - مشروعات الجزر الكويتية

مشاريع سياحية	مشروع الجزر الكويتية
مشاريع ثقافية	دار الأوبرا
مشاريع صحية	مستشفى الشيخ جابر
مشاريع النقل والمواصلات	جسر جابر الأحمد - المطار الجديد - طريق الجهراء
مشاريع بيئية	مشروع نفايات كبد
مشاريع إسكانية	جنوب المطلاع
مشاريع إنشائية (معمارية)	مدينة صباح الأحمد البحرية
مشاريع تعليمية	مبنى الجامعة الجديد
مشاريع اقتصادية	ميناء مبارك الكبير - مصفاة الزور



تدرب و تفوق
اختبارات الكترونية

U U L A