

تم تحميل هذا الملف من موقع المناهج الكويتية



منطقة مبارك الكبير التعليمية

الملف نموذج إجابة منطقة مبارك الكبير التعليمية

موقع المناهج ← المناهج الكويتية ← الصف السابع ← اجتماعيات ← الفصل الأول

روابط مواقع التواصل الاجتماعي بحسب الصف السابع



روابط مواد الصف السابع على تلغرام

[الرياضيات](#)

[اللغة الانجليزية](#)

[اللغة العربية](#)

[التربية الاسلامية](#)

المزيد من الملفات بحسب الصف السابع والمادة اجتماعيات في الفصل الأول

كتاب الطالب في مادة الاجتماعيات للعام الدراسي 2018	1
حل الوحدة الاولى في مادة الاجتماعيات	2
تلخيص رائع في مادة الاجتماعيات	3
حل الوحدة الثانية في مادة الاجتماعيات	4
تلخيص ممتاز في مادة الاجتماعيات	5



معرض الإجابات

موقع
المعرض الكويتية
almanahj.com.kw

الإدارة العامة لمنطقة مبارك الكبير التعليمية



وزارة التربية

امتحان الفترة الدراسية الأولى

العام الدراسي: ٢٠٢٤/٢٠٢٥ م

الإدارة العامة لمنطقة مبارك الكبير التعليمية لمقرر الكويت ودول الوطن العربي

الزمن: ساعة و ٤٥ دقيقة

للمصف السابع المتوسط

عدد الأوراق: (٦)

التوجيه الفني للاجتماعيات



ص ٢٣

ص ٤٠

ص ٦٠

ص ٨٣

ص ٨٨

موقع
المنهج الكويتية
almanahj.com/kw

السؤال الأول (موضوعي) يتكون من (أ - ب - ج - د - هـ - و)
(أ) أكمل العبارات التالية بما يناسبها مما درست : (١ × ٥ = ٥ درجات)

١ - الدولة العربية التي تقع خارج نطاق موقع الوطن العربي تسمى جزر القمر

٢ - أكثر الأشكال التضاريسية انتشاراً في الوطن العربي تسمى الهضاب

٣ - مسطح مائي تحيط به اليابسة من جميع الاتجاهات يسمى البحيرة

٤ - كتابة اخترعها السومريون وتكتب على ألواح من الطين الطري اسمها المسمارية

٥ - عرفت حضارة دلمون قبل الفتح الإسلامي باسم أوال

(ب) ضع خطأ تحت الخيار الصحيح من بين الخيارات التي تلي كل عبارة : (١ × ٥ = ٥ درجات)

١ - نسبة مساحة الوطن العربي من جملة مساحة العالم :

ص ٢٣

د - ٢٠%

ج - ١٥%

ب - ١٠%

أ - ٥%

ص ٢٨

٢ - مضيق يربط بين البحر المتوسط والمحيط الأطلسي :

د - جبل طارق

ج - السويس

ب - باب المندب

أ - هرمز

ص ٤٤

٣ - وزن الهواء فوق أي مكان :

د - الرياح

ج - الضغط الجوي

ب - الأمطار

أ - الرطوبة

ص ٥٢

٤ - أشجار تستخدم في صناعة الفلين :

د - الماهوجني

ج - الساج

ب - السدر

أ - البلوط

ص ٨٦

٥ - المملكة التي كانت تحكمها الملكة بلقيس :

د - دلمون

ج - معين

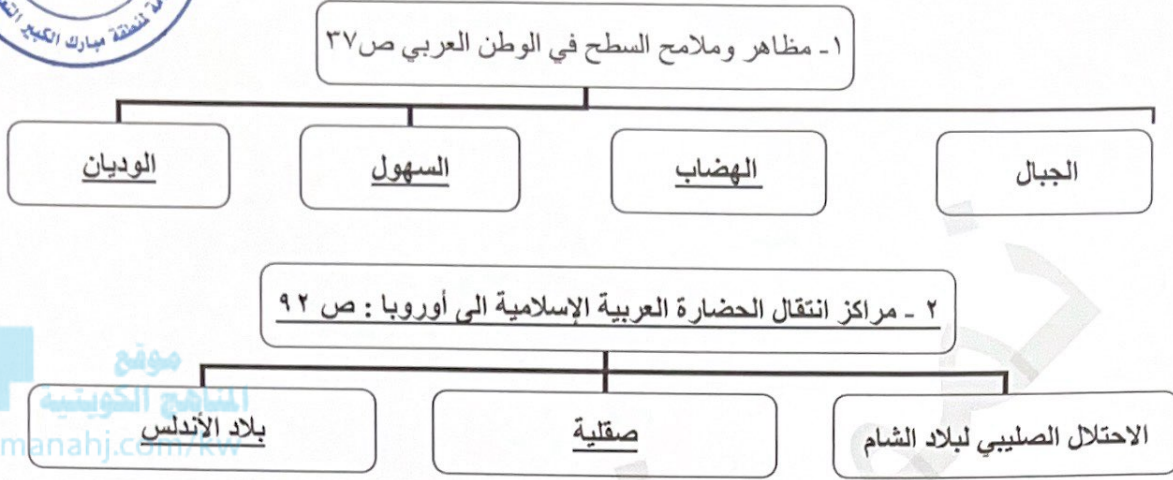
ب - سبأ

أ - حمير



تابع: السؤال الأول (موضوعي) :

(ج) أكمل المخططات السهمية التالية : (١ × ٥ = ٥ درجات)



(د) صنف الحيوانات الصحراوية التالية حسب مكانها الصحيح في الجدول الذي يليها : ص ٥٥
(١ × ٤ = ٤ درجات)

(الحباري - الجراد - الصقور - الأفاعي)

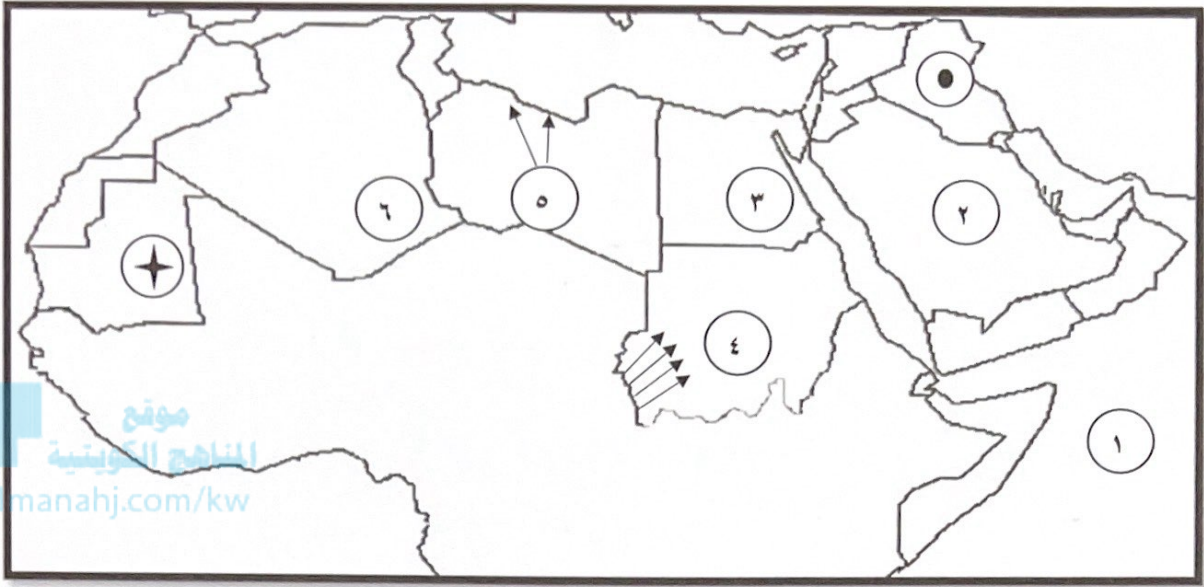
طيور	حشرات	زواحف
- حباري - صقور	- الجراد	- الأفاعي

(هـ) صحح ما تحته خط في العبارات التالية وذلك بكتابة الإجابة الصحيحة في مكانها المناسب حسب

الجدول : (١ × ٥ = ٥ درجات)


م	العبرة	التصويب
١	موقع الدولة بالنسبة لليابس والماء يسمى <u>الموقع الفلكي</u> . ص ٣٣	الموقع النسبي
٢	حالة الجو خلال فترة زمنية طويلة يسمى <u>الطقس</u> . ص ٤٤	المناخ
٣	محطة لتحلية مياه البحر أنشأت في دولة الكويت عام ١٩٥٣ م اسمها <u>الروضتين</u> . ص ٦١	الشويخ
٤	عدد المواد القانونية في شريعة حمورابي <u>٣٨٢</u> مادة . ص ٨٤	٢٨٢
٥	عرف أهل اليمن الأبجدية التي كانت تكتب بالخط <u>الهيروغليفي</u> . ص ٨٧	المسند

(و) - أمامك خريطة الوطن العربي الصماء أكتب مدلولات الأرقام والرموز على العبارات التي تليها :
(١ × ٦ = ٦ درجات)



- رياح الهبوب يمثلها على الخريطة الرقم ٤ ص ٤٨
- المحيط الهندي يمثله على الخريطة الرقم ١ ص ٤٢
- جبال الأحجار يمثلها على الخريطة الرقم ٦ ص ٣٨
- هضبة نجد يمثلها على الخريطة الرقم ٢ ص ٤٠
- نهر النيل يمثله على الخريطة الرقم ٣ ص ٥٨
- حضارة بلاد الرافدين يمثلها على الخريطة الرمز (●) ص ٧٩

السؤال الثاني (مقالى) يتكون من (أ - ب - ج) :
(أ) لاحظ الشكل المقابل ثم أجب عن الأسئلة التالية : (١ × ٤ = ٤ درجات)



١- ما اسم الشكل المقابل ؟ ص ٧٧ (درجة)

- بناء الأهرامات

٢- اذكر اسم الحضارة التي قامت ببنائه. ص ٧٦+٧٧ (درجة)

- الحضارة المصرية القديمة .

٣- عدد العوامل التي ساعدت على قيام هذه الحضارة . ص ٧٥ (درجتان)

(يكتفى بنقطتين)

- تنوع الصخور و المعادن

- امتداد الصحراء

- نهر النيل

- اعتدال المناخ وجفافه

(ب) علل لما يلي : (١ × ٤ = ٤ درجات)

ص ٣٥

١- يتمتع الوطن العربي بأهمية اقتصادية منذ القدم . (يكتفى بنقطتين)

- منطقة عبور لحركة الملاحة والتجارة العالمية . - سكان الوطن العربي الذين يشكلون ٥ % تقريبا من سكان العالم .

- الجسر الذي يربط بين قارات العالم الثلاث (آسيا - أفريقيا - أوروبا) بمواردها الهائلة والضخمة .

- ظهور النفط بكميات كبيرة بمنطقة الخليج العربي وشبه الجزيرة العربية وبعض مناطق شمال أفريقيا .

ص ٨١

٢- ازدهار الزراعة في حضارة بلاد الرافدين . (يكتفى بنقطتين)

- خصوبة تربتها - سعة سهولها

- وفرة مياهها - إقامة السدود وتحفيف المستنقعات واستصلاح الأراضي .

(ج) عرف المفاهيم أو المصطلحات التالية : (١ × ٢ = ٢ درجتان)

ص ٢٨

١- الموقع الاستراتيجي :

- أي موقع ذي مكانة مهمة بين دول العالم .

ص ٧١

٢- الحضارة :

- كل ما يطرأ على المجتمع من تقدم وتطور وراقي في جميع نواحي الحياة الدينية والسياسية والاقتصادية والاجتماعية والفكرية .



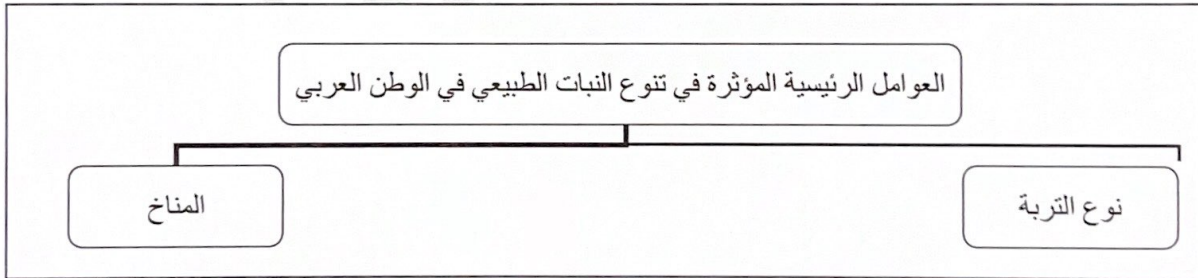
السؤال الثالث المقالى ويتكون من (أ - ب - ج) :
(أ) - فرق بين كل مما يلي من حيث التعريف : (١ × ٤ = ٤ درجات)

القناة ص ٢٨	المضيق ص ٢٨
مجرى مائي صناعي ضيق يشق لأغراض الري أو النقل	ممر مائي ضيق يصل بين بحرين أو محيطين أو أي مساحتين كبيرتين نسبيا من الماء .
الجبل ص ٣٨	السهول ص ٤٢
كل ما ارتفع من الأرض وله قمة لا يقل ارتفاعها عن ١٠٠٠ متر .	مساحة كبيرة من سطح الأرض تتميز باستوائها وقلة ارتفاعها .

(ب) - عدد اثنين لكل مما يلي : (١ × ٤ = ٤ درجات)

- ١ - وسائل مقاومة النباتات الصحراوية للجفاف .
- جذورها طويلة .
- القدرة على خزن المياه . - تحمي نفسها بلحاء سميك وأوراق إبرية .
- ٢ - صفات المطر في الوطن العربي .
- تذبذب كمية الأمطار بين عام وآخر كما انها تسقط في أيام معدودة .
- الأمطار في الوطن العربي تكاد تقتصر على الأطراف الشمالية والأطراف الجنوبية منها .
- تتصف الأمطار بأنها قليلة بصفة عامة .

(ج) - ارسم مخططا سهميا يوضح العوامل الرئيسية في تنوع النبات الطبيعي في الوطن العربي : ص ٥١
(١ × ٢ = ٢ درجتان) (درجة للتصميم ونصف درجة لكل عامل)



السؤال الرابع: (مقالى) يتكون من (أ - ب - ج) :

(أ) أقرأ الفقرة التالية ثم أجب عن ما يليها من أسئلة: (١ × ٣ = ٣ درجات) ص ٢٦
" يتكون الوطن العربي من مجموعة من الدول التي تتكلم لغة واحدة وهي اللغة العربية لغة القرآن الكريم ، والتي ساهمت في امتزاج هذه الدول ثقافيا وحضاريا وتاريخيا، كما كونت شعوب المنطقة وطنا له عاداته و تقاليده وقيمه ، وتربط بين أبنائه وحدة الدين واللغة والتراث والأهداف المشتركة ، وهذه الهوية هي التي أجمعت عليها دول وطننا العربي على امتداده الجغرافي "

١- عرف ما تحته خط .
- مجموعة من الدول العربية التي يجمعها عدد من السمات المشتركة مثل الدين واللغة ويمتد ضمن قارتين من أكبر قارات العالم مساحة. ص ٢٢

٢- عدد اثنين من مقومات الهوية العربية .
- وحدة الدين - اللغة - التراث - الأهداف المشتركة - العادات و التقاليد و القيم . ص ٢٦

(ب) قارن بين كل من حسب المطلوب في الجدول التالي : (نصف × ٦ = ٣ درجات) ص ٩٠

وجه المقارنة	الديانة المسيحية	الديانة الإسلامية	الديانة اليهودية
النبي المرسل	عيسى عليه السلام	محمد ﷺ	موسى عليه السلام
الكتاب المنزل	الانجيل	القرآن الكريم	التوراة

(ج) أذكر اثنين لكل مما يلي : (١ × ٤ = ٤ درجات)

١- العوامل التي تؤثر في مناخ الوطن العربي .
- الموقع بالنسبة لدوائر العرض . - القرب أو البعد عن المسطحات المائية .
- التضاريس . - الرياح .

٢- طرق ترشيد استخدام المياه .
- الحد من التبذير في المنازل .

- الحد من هدر المياه في عمليات الري باستخدام الوسائل الحديثة كالرش بالتنقيط والمحوري .
- تنظيم عملية الاستفادة من المياه الجوفية ومنع تسرب الأملاح الملوثة إليها واستثمارها على الوجه الأمثل .
- تطوير استعمال مياه الصرف الصحي المعالجة في الزراعة .
- إقامة البحيرات والسدود لتجميع المياه الأمطار والسيول للاستفادة منها في فصل الجفاف .
- توقيع اتفاقيات مع الدول المشاركة ودول المنبع لتحقيق مصالح الدول العربية المعنية .

