

تم تحميل هذا الملف من موقع المناهج الكويتية



منطقة حولي التعليمية

الملف نموذج أسئلة منطقة حولي التعليمية

موقع المناهج ← المناهج الكويتية ← الصف السابع ← اجتماعيات ← الفصل الثاني

روابط مواقع التواصل الاجتماعي بحسب الصف السابع



روابط مواد الصف السابع على تلغرام

[الرياضيات](#)

[اللغة الانجليزية](#)

[اللغة العربية](#)

[التربية الاسلامية](#)

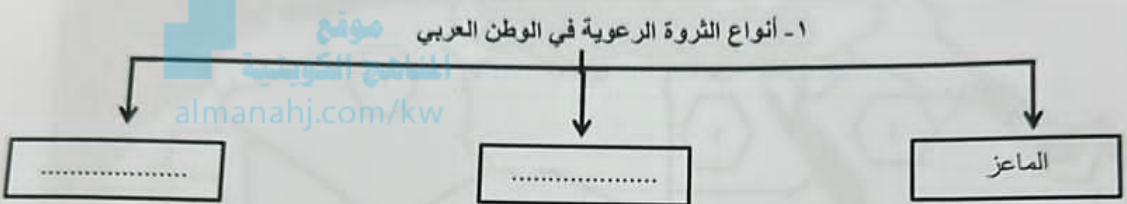
المزيد من الملفات بحسب الصف السابع والمادة اجتماعيات في الفصل الثاني

<a href="#">مذكرة موضوعية محلولة</a>	1
<a href="#">حل الكتاب</a>	2
<a href="#">حل الوحدة الرابعة في مادة الاجتماعيات</a>	3
<a href="#">بنك اسئلة التربية سابع</a>	4
<a href="#">مراجعات الصف السابع</a>	5

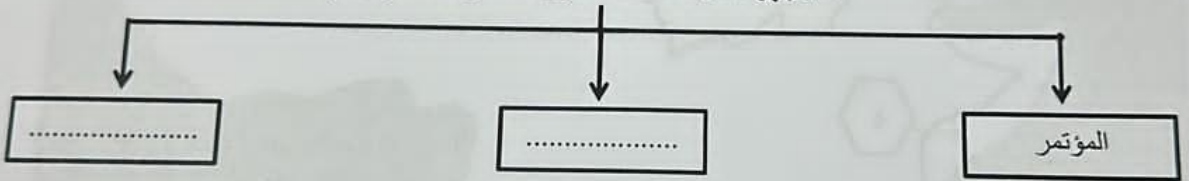
ج) ظلل الحرف ( أ ) إذا كانت العبارة صحيحة أو الحرف ( ب ) إذا كانت العبارة خاطئة :

رقم	العبارة	( أ )	( ب )
١	عقد "مؤتمر قمة الأرض" بمدينة ريو دي جانيرو في البرازيل عام ١٩٩٢ م.		
٢	ترتفع الكثافة السكانية في المناطق الجبلية والصحراوية الجافة.		
٣	ساهم موقع دول الوطن العربي البحري في تنوع الثروة المائية.		
٤	التبادل التجاري هو عمليتا التصدير والاستيراد بين الدول.		
٥	تتركز الحقول النفطية في الوطن العربي في مصر والسودان.		

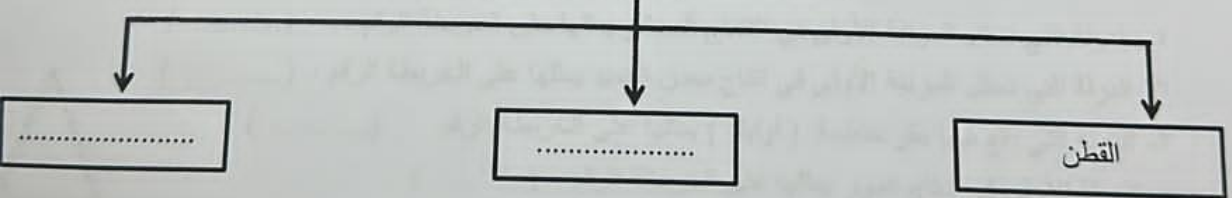
د) أكمل المخططات السهمية التالية بما يناسبها فيما درست :



٢- الأجهزة التابعة لمنظمة الدول المصدرة للنفط (أوبك)



٣- الغلات الصناعية في الوطن العربي

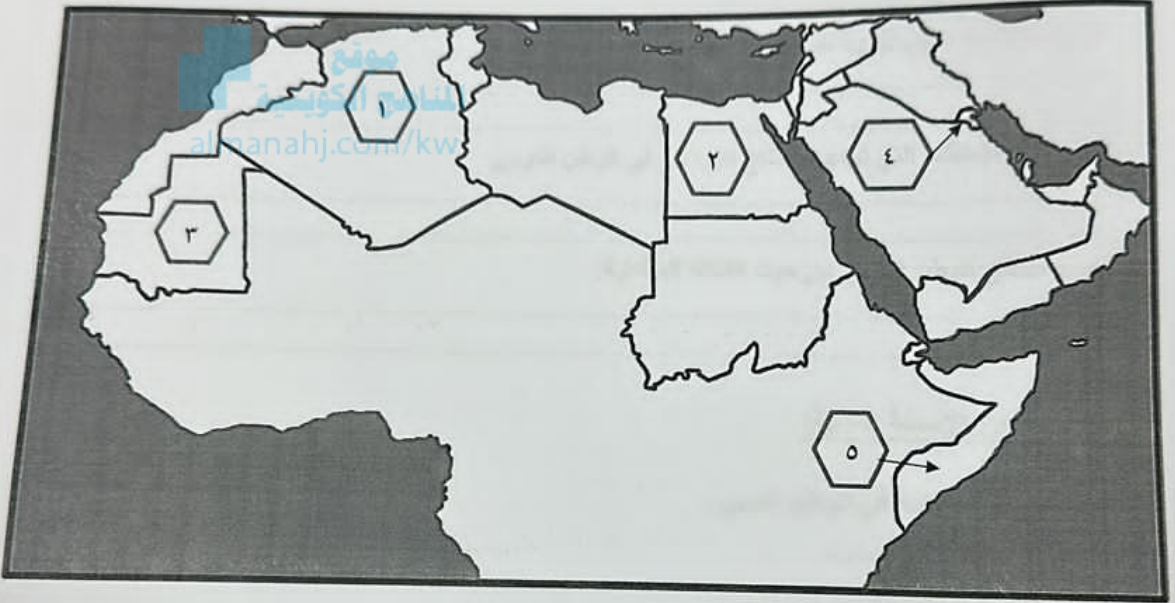


(ج) صنّف الصناعات التالية حسب ماهو مطلوب منك في الجدول :

( النفط - الصناعات الغذائية - الخشب والورق - الفحم - الغاز - المنسوجات )

الصناعات التحويلية	الصناعات الاستخراجية
.....	.....
.....	.....
.....	.....

(و) أمامك خريطة الوطن العربي - اكتب مدلولات الأرقام التي عليها في العبارات التي تليها :



- ١- الدولة التي تحتل المرتبة الأولى في الإنتاج السمكي يمثلها على الخريطة الرقم (.....)
- ٢- الدولة التي تحتل المرتبة الأولى في إنتاج معدن الحديد يمثلها على الخريطة الرقم (.....)
- ٣- الدولة التي يقع فيها مقر منظمة ( أوبك ) يمثلها على الخريطة الرقم (.....)
- ٤- الدولة الأولى في إنتاج الموز يمثلها على الخريطة الرقم (.....)



السؤال الثاني مقالتي ويتكون من ( أ - ب - ج ) :

( أ ) فرق بين كل من :

الموارد الطبيعية	الموارد البشرية
..... ..... .....	..... ..... .....
النفط	الغاز الطبيعي
..... ..... .....	..... ..... .....

( ب ) أذكر نقطتين حول كل مما يلي :

١ - طرق المحافظة على الثروة المائية .

.....  
.....

٢ - العقبات والمشكلات التي تواجه الإنتاج الزراعي في الوطن العربي .

.....  
.....

٣ - تقسيم مناطق الوطن العربي من حيث الكثافة السكانية .

.....  
.....

( ج ) أجب عن الأسئلة التالية:

١ - عدد مقومات الصناعة في الوطن العربي .

.....  
.....

٢ - عرف - التنمية المستدامة .

.....  
.....

٣ - عدد طرق النقل في الوطن العربي .

.....  
.....

السؤال الأول موضوعي ويتكون من ( أ - ب - ج - د - هـ - و ) :

( أ ) ظلل الخيار الصحيح من بين الخيارات التي تلي كل عبارة :

١- تبلغ نسبة احتياطي النفط الخام في دول الجناح الآسيوي :

٦٠%	٧٠%	٨٠%	٩٠%
-----	-----	-----	-----

٢- الشيخ الذي تأسس في عهده الصندوق الكويتي للتنمية الاقتصادية العربية :

عبدالله السالم الصباح	جابر الأحمد الصباح	صباح الأحمد الصباح	نواف الأحمد الصباح
-----------------------	--------------------	--------------------	--------------------

٣- تسجيل المواليد والوفيات وحالات الزواج والطلاق ونحصل على بياناتها من واقع السجلات الرسمية للدولة :

الكثافة السكانية	الإحصاء الحيوي	التعداد السكاني	النمو السكاني
------------------	----------------	-----------------	---------------

٤- المورد الطبيعي الذي يطلق عليه اسم الطاقة النظيفة:

الفحم	النفط	الغاز الطبيعي	المعادن
-------	-------	---------------	---------

٥- أكثر الدول العربية سكاناً في الجناح الأفريقي :

مصر	الجزائر	تونس	المغرب
-----	---------	------	--------

(ب) أكمل العبارات التالية بما يناسبها فيما درست :

١- قوى محركة للألات وعنصر مهم للتقدم والتطور الاقتصادي في جميع المجالات تسمى .....

٢- صناعات تستخدم مواد أولية محلية وتعتمد على المجهود البشري ويتوارث منها الأبناء الخبرة من آباؤهم تسمى .....

٣- تحتل اليمن المركز الأول في إنتاج محصول يسمى .....

٤- الغاز الناتج عن عوادم السيارات ويؤدي إلى ارتفاع متزايد في حرارة الأرض يسمى .....

السؤال الثالث مقالي ويتكون من ( أ - ب - ج ) :

( أ ) اقرأ الفقرة التالية ثم أجب عما يليها من أسئلة :

يحتل القطاع الزراعي في الوطن العربي المرتبة الأولى خاصة في الأقطار غير المنتجة للنفط حيث تتوفر فيها مقومات الإنتاج الزراعي ( بشرية / طبيعية ) ، كما تختلف أنواع هذه المنتجات والمحاصيل من دولة لأخرى ، حيث تنقسم هذه المحاصيل إلى الحبوب الغذائية والفلات الصناعية والتجارية ( النقدية ) وكذلك الفواكه والثمار .

١- استخرج من الفقرة السابقة :

- المحاصيل الزراعية التي تزرع في الوطن العربي .

- مقومات الإنتاج الزراعي .

٢- عرف ما تحته خط .

( ب ) قارن بين كل من :

وجه المقارنة	التصحح	التلوث البيئي
التعريف	.....	.....
الأسباب	.....	.....

( ج ) علل لما يلي :

١- تحتل الأغنام مكاناً مهماً ضمن الثروة الرعوية بالوطن العربي .

٢- ارتفاع النمو السكاني في الوطن العربي .

٣- اختلاف المنتجات الزراعية في الوطن العربي من دولة إلى أخرى .

انتهت الأسئلة مع تمنياتنا لكم بالنجاح والتوفيق