

تم تحميل هذا الملف من موقع ملفات الكويت التعليمية



[com.kwedufiles.www//:https](https://www.kwedufiles.com)

\*للحصول على أوراق عمل لجميع الصفوف وجميع المواد اضغط هنا

\* للحصول على أوراق عمل لجميع مواد الصف الحادي عشر الأدبي اضغط هنا

<https://kwedufiles.com/11>

\* للحصول على جميع أوراق الصف الحادي عشر الأدبي في مادة إحصاء وجميع الفصول, اضغط هنا

<https://kwedufiles.com/11statistics>

\* للحصول على أوراق عمل لجميع مواد الصف الحادي عشر الأدبي في مادة إحصاء الخاصة بـ الفصل الأول اضغط هنا

<https://www.kwedufiles.com/11statistics1>

\* لتحميل كتب جميع المواد في جميع الفصول للـ الصف الحادي عشر الأدبي اضغط هنا

<https://www.kwedufiles.com/grade11>

[bot\\_kwlinks/me.t//:https](https://t.me/bot_kwlinks)

للحصول على جميع روابط الصفوف على تلغرام وفيسبوك من قنوات وصفحات: اضغط هنا

الروابط التالية هي روابط الصف الحادي عشر الأدبي على مواقع التواصل الاجتماعي

مجموعة الفيسبوك

صفحة الفيسبوك

مجموعة التلغرام

بوت التلغرام

قناة التلغرام

رياضيات على التلغرام

المجال الدراسي : الرياضيات  
الزمن : ساعتان وربع  
عدد الصفحات : ( ٥ )

امتحان الفترة الدراسية الأولى  
للسف الحادي عشر أدبي  
العام الدراسي ٢٠٢٠/٢٠١٩ م

دولة الكويت  
وزارة التربية  
التوجيه الفني للرياضيات

تراعى الحلول الأخرى في جميع أسئلة المقال

القسم الأول : ( أسئلة المقال )

نموذج إجابة

٤ درجات

السؤال الأول :- ( ٧ درجات )

( أ ) اختصر  $\frac{\sqrt{2} + \sqrt{3}}{\sqrt{3}}$  بحيث يكون المقام عدداً نسبياً

الإجابة :

$$\frac{\sqrt{2}}{\sqrt{3}} \times \frac{\sqrt{2} + \sqrt{3}}{\sqrt{3}} = \frac{\sqrt{2} + \sqrt{3}}{\sqrt{3}}$$

$$\frac{(\sqrt{2} \times \sqrt{3}) + (\sqrt{3} \times \sqrt{3})}{(\sqrt{3})^2} =$$

$$\frac{\sqrt{6} + 3}{3} =$$

١ + ١

١

٣ درجات

حيث  $s \neq 0, s < 0$

( ب ) بسط ما يلي :  $\frac{s^{\frac{2}{3}} \times s}{\frac{1}{2}s \times \frac{1}{3}s}$

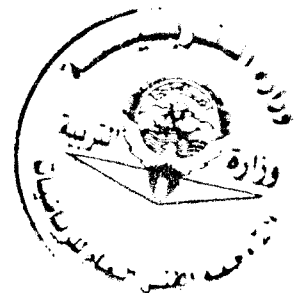
الإجابة :

$$\frac{s^{\frac{2}{3}} \times s}{\frac{1}{2}s \times \frac{1}{3}s} = \frac{s^{\frac{2}{3}} \times s}{\frac{1}{6}s^2}$$

$$\frac{1}{2}s \times \frac{1}{3}s =$$

$$\sqrt[3]{s} \times \sqrt[3]{s} =$$

١ + ١



نموذج إجابة

السؤال الثاني:- (٧ درجات)

٤ درجات

(أ) أوجد الناتج في أبسط صورة:

الإجابة:  $\sqrt{50} + \sqrt{18} \times 3$

$$\frac{1}{2} + \frac{1}{2}$$

$$\frac{1}{2} + \frac{1}{2}$$

$$1$$

$$\frac{1}{2}$$

$$\frac{1}{2}$$

$$\sqrt{50} + \sqrt{18} \times 3$$

$$\sqrt{2 \times 25} + \sqrt{2 \times 9} \times 3 =$$

$$\sqrt{2 \times 5^2} + \sqrt{2 \times 3^2} \times 3 =$$

$$\sqrt{2} \times 5 + \sqrt{2} \times 3 \times 3 =$$

$$\sqrt{2} \times 5 + \sqrt{2} \times 9 =$$

$$\sqrt{2} \times 14 =$$

٣ درجات

(ب) في إحدى المؤسسات التعليمية يوجد ٥٠ طالباً مرقمين من ١ إلى ٥٠ المطلوب سحب عينة عشوائية بسيطة حجمها ٦ طلاب لدراسة بعض الأمور في المؤسسة باستخدام جدول الأعداد العشوائية ابتداءً من الصف الأول والعمود الرابع.

$$\frac{1}{2} \times 6$$

١٠، ٢٤، ٣، ١٥، ٣٨، ٥٠



نموذج إجابة

٣ درجات

السؤال الثالث:-

( ٧ درجات )

( أ ) لدراسة الاداء الوظيفي والكفاءة عند الموظفين في أحد المصارف، تم سحب عينة طبقية مكونة من ٧ أفراد من ٣٥ موظفاً موزعين كما يبين الجدول التالي:

مدرء أقسام	محاسبون ومدققون	عمال ومستخدمون	المجموع
١٠	٢٠	٥	٣٥

أوجد حجم كل عينة عشوائية بسيطة مسحوبة من كل طبقة :  
الإجابة :

$$كسر المعينة = \frac{حجم العينة}{حجم المجتمع الإحصائي} = \frac{٧}{٣٥} = ٠,٢$$

$$حجم عينة المدراء = ١٠ \times ٠,٢ = ٢$$

$$حجم عينة المحاسبون = ٢٠ \times ٠,٢ = ٤$$

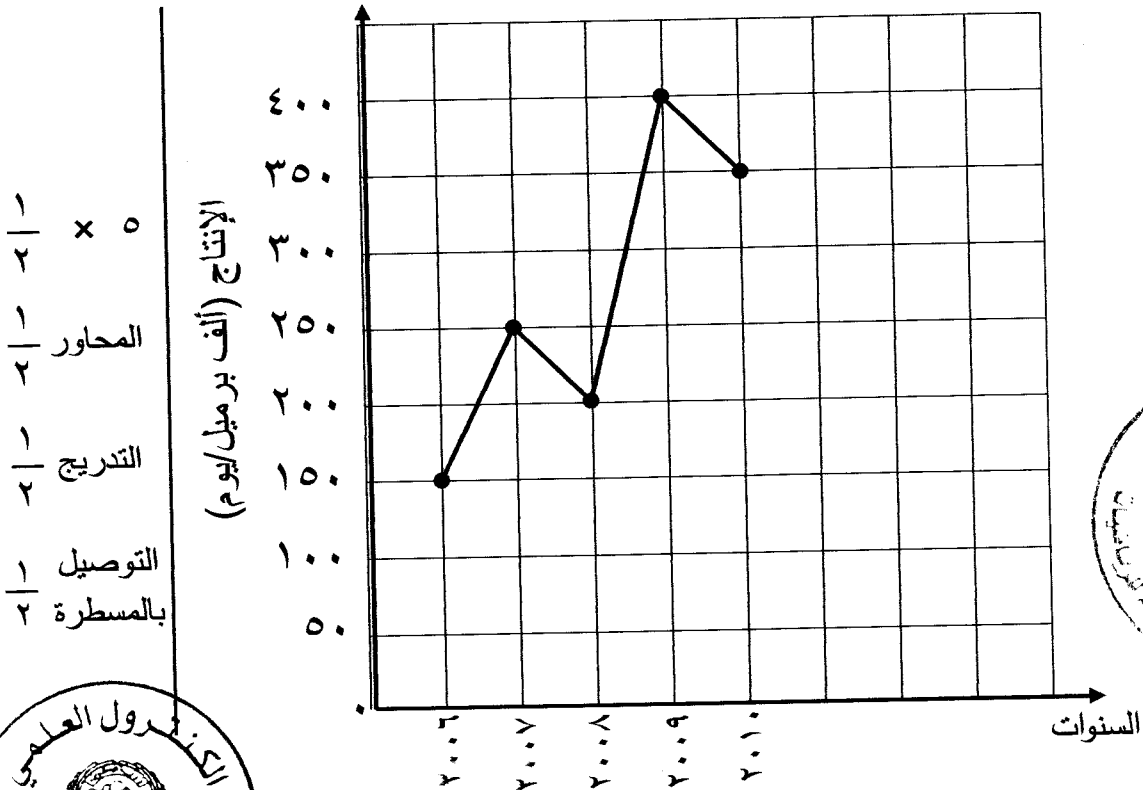
$$حجم عينة العمال = ٥ \times ٠,٢ = ١$$

( ب ) يبين الجدول التالي إنتاج زيت الوقود ( ألف برميل / يوم ) في دولة ما.

٤ درجات

السنة	٢٠٠٦	٢٠٠٧	٢٠٠٨	٢٠٠٩	٢٠١٠
الإنتاج (ألف برميل/يوم)	١٥٠	٢٥٠	٢٠٠	٤٠٠	٣٥٠

مثل هذه البيانات باستخدام الخط المنكسر



نموذج إجابة

القسم الثاني : ( البنود الموضوعية ) ( ٧ درجات )

أولاً: في البنود (١- ٢) عبارات ظلل في جدول الإجابة (أ) إذا كانت العبارة صحيحة، (ب) إذا كانت العبارة خاطئة

(١) إذا كانت  $\sqrt[3]{-7} = \sqrt[3]{7}$  ،  $\frac{1}{3}(49) = \sqrt{3}$  فإن  $\sqrt{3} = \sqrt{3}$  ص -

(٢) المدى للبيانات التالية ١٣٦ ، ١٢٧ ، ١٣٧ ، ١١١ ، ١٣٦ ، ١٥٤ ، ١٥٦ هو ٣٠

ثانياً : في البنود (٣- ٧) لكل بند أربعة اختيارات واحد فقط منها صحيح، ظلل في جدول الإجابة دائرة الرمز الدال على الإجابة الصحيحة.

(٣) العدد  $\sqrt[3]{4}$  مرافق لـ:

- Ⓐ  $\sqrt[3]{4}$       Ⓑ  $\sqrt[3]{4}$       Ⓒ  $\sqrt[3]{2}$       Ⓓ  $\sqrt[3]{4}$

(٤) إذا كان الجدول التالي يبين النسبة المئوية لتكرار القيم ١٠ ، ١٢ ، ١٤ ، ١٦

القيمة	١٠	١٢	١٤	١٦	المجموع
النسبة المئوية لتكرار القيم	١٥%	ك	١٥%	٤٠%	١٠٠%

فإن ك =

- Ⓐ ٢٠%      Ⓑ ٢٥%      Ⓒ ٣٠%      Ⓓ ٣٥%

(٥) الجدول التالي يبين عدد الطلاب الذين نالوا تقييماً في إحدى المسابقات:

التقييم	ممتاز	جيد جداً	جيد	متوسط	مقبول	غير مقبول	المجموع
عدد الطلاب	٤	٤	٦	٤	٥	٢	٢٥

إذا تم تمثيل هذه البيانات بقطاعات دائرية فإن قياس الزاوية الممثلة لقطاع تقدير جيد هو :

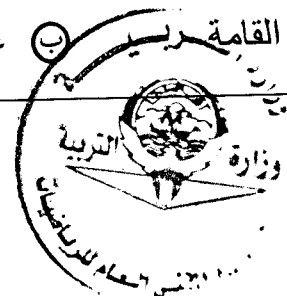
- Ⓐ ٧٢°      Ⓑ ٢٨,٨°      Ⓒ ٥٧,٦°      Ⓓ ٨٦,٤°

(٦) ناتج  $\sqrt[3]{18} \sqrt[3]{18}$  ص  $\sqrt[3]{18}$  هو :

- Ⓐ  $\sqrt[3]{3} \sqrt[3]{3}$  ص  $\sqrt[3]{3}$       Ⓑ  $\sqrt[3]{3}$  ص  $\sqrt[3]{3}$       Ⓒ  $\sqrt[3]{3}$  ص  $\sqrt[3]{3}$       Ⓓ  $\sqrt[3]{3}$  ص  $\sqrt[3]{3}$

(٧) المتغير المتقطع فيما يلي هو :

- Ⓐ طول القامة      Ⓑ عدد الأخوة      Ⓒ وزن الطالب      Ⓓ عمر الطالب

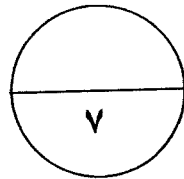


نموذج إجابة

جدول إجابات البنود الموضوعية

رقم البند	الإجابة		
١	د	ج	ب
٢	د	ج	ب
٣	د	ح	ب
٤	د	ح	ب
٥	د	ج	ب
٦	د	ج	ب
٧	د	ج	ب

١ × ٧



الدرجة :

المصحح : .....

المراجع : .....

