


السؤال الثالث: أكمل كل من العبارات التالية بما يناسبها علمياً:

- 1- تمتص الماء من التربة. (الساق - الجذور) 
- 2- أوراق النباتات  (متشابهة - مختلفة)
- 3- يصنع النبات غذاءه في (الأوراق - الأزهار) 
- 4- من النباتات التي تأكل أوراقها (الخس - البنق) 
- 5- النبات الذي تأكل ساقه هو (الذرة - الهليون) 
- 6- تثبت النبات في التربة. (الأوراق - الجذور) 
- 7- يحتاج النبات إلى الماء والهواء و..... كي ينمو. (ضوء الشمس - ضوء القمر) 
- 8- تأكل من الجذر  (الجذور - البذور)
- 9- تكسو الأوراق الخضراء والأزهار شجرة التفاح في فصل (الصيف - الربيع) 
- 10- يوجد داخل الثمرة (بذور - جنور) 
- 11- يحتاج النبات كي يعيش إلى، هواء، ضوء شمس، ماء، عصير 
- 12- التفاح والبرتقال والخوخ (ثمار - جنور) 
- 13- الجزء الذي ينقل الماء من الجذور إلى أجزاء النبات (الساق - الأزهار) 
- 14- سلال القش مصدرها (حيواني - نباتي) 

السؤال الثاني: أكتب بين القوسين كلمة (صحيحة) للعبارة الصحيحة و كلمة (خطأ) للعبارة غير الصحيحة في كل مما يأتي :

- 1- يصنع النبات غذاءه في الأوراق  ()
- 2- تقوم الجذور  بصنع الغذاء للنبات ()
- 3- تتشابه أوراق النباتات في شكلها وحجمها. ()
- 4- عند وضع ساق البقدونس  في ماء ملون فإن لونه يتغير. ()
- 5- يحتاج النبات إلى الماء  والهواء  وضوء الشمس  كي ينمو. ()
- 6- نأكل من نبات البقدونس  ساقه. ()
- 7- من النباتات التي نأكل جذورها  و . ()
- 8- الكتب والجراند  مصدرها نباتي. ()
- 9- يستخدم الناس الأخشاب في صناعة الآلات  ()
- 10- يستخدم الإنسان نبات القطن  في صنع الملابس . ()
- 11- أوراق النباتات  لها نفس الحجم. ()
- 12- الفاصوليا  من النباتات التي نأكل ثمارها. ()
- 13- يوجد داخل التفاحة  بذور. ()
- 14- الخس  من النباتات التي نأكل جذورها. ()
- 15- تنمو الثمرة طوال فصل الصيف. ()
- 16- تنضج الثمار في فصل الخريف. ()

السؤال
ارسم حيوانك المفضل. ثم اكتب اسم غطاء جسمه



السؤال الرابع :

ضع الكلمة المناسبة في المكان المناسب حسب غطاء جسم الحيوان :

(اذرع - قشور - ريش - شعر - حراشف - فرو)



شيء غير حي لا يتحرك ولا يتنفس



يجب علينا أن نعتني بالكائنات الحية من حولنا



كائن حي يحتاج للماء والهواء والطعام

WWW.KweduFiles.Com

الكائنات الحية تتغذى وتشرب وتتنفس

الكائنات حية تنمو وتتشرب وتتنفس



نباتات

تحتاج الكائنات الحية للماء والهواء والغذاء لتبقى حية

من الحيوانات من السه كيات الصحيحة

السؤال الثالث : كون الكلمات المناسبة وأكمل الاسئلة التالية :

ت - س - ب - ح - ت
ط - ت - ق - ف - ز
ي - ش - م - ت - ح
ر - ن - ك - ل - ف

١- الثعبان من الحيوانات التي



WWW.KweduFiles.Com

٢- السمكة من الحيوانات التي في الماء



٣- العصفور من الحيوانات التي بواسطة ريشها




٤- الجمل من الحيوانات التي وله اربعة ارجل .



٥- الضفدع من الحيوانات التي




لاحظ الصورة ثم أجب على الأسئلة أسفله :



اذكر ثلاث من استخدامات الماء:

..... ١-
WWW.KweduFiles.Com ٢-

..... ٣-
٢٠- صل بين الصورة وما يناسبها من الكلمات.





تلوث الماء


تلوث الهواء


تلوث الأرض


السؤال الثاني : ضع علامة (√) أمام العبارة الصحيحة وعلامة (x) أمام العبارة الغير صحيحة:


١-العصفور () يغطي جسمه شعر 

٢-السمكة () يغطي جسمها قشور 

٣-السلحفاة () يغطي جسمها ريش 

٤-الخروف () يغطي جسمه فرو 

٥-الثعبان () يغطي جسمه حراشف 

٦-القطعة () يغطي جسمها شعر 



www.shutterstock.com - 184945037

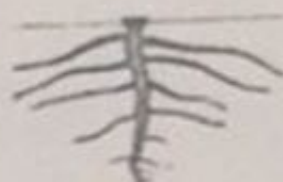
وضع علامة (√) أمام العبارة الصحيحة وعلامة (x) أمام

الغير صحيحة:

ت الجذور النباتات في التربة

()

أعلى سطح التربة



مو الجذور

()

م الجذور بصنع الغذاء للنبات

()

WWW.KweduFiles.Com

ج النبات إلى الهواء والماء و ضوء الشمس لكي ينمو

()

ور تمتص الماء من التربة

()

ت النباتات بدون الجذور ولا يصل لها الماء

)

نبته اذا تعرضت للرياح الشديدة وهي بدون الجذور

)

الدرس الخامس : كيف نحمي أنفسنا من أشعة الشمس ؟

المفاهيم العلمية

١ - يجب أن نتخذ الاحتياطات اللازمة للحماية من أشعة الشمس المباشرة .

السؤال الأول : أكمل الجمل الآتية باختيار الكلمة المناسبة من بين القوسين :-

١ - لحماية أعيننا من أشعة الشمس المباشرة نرتدي

(نظارة شمسية - ملابس ثقيلة)

٢ - ارتداء يحمي رأسنا من أشعة الشمس المباشرة .

(قبعة - كريم حماية)

السؤال الثاني : حوِّط الشيء المناسب للاستخدام للصورة المقابلة لها :-



WWW.KweduFiles.Com


عنوان الدرس : ما الذي يمكن إعادة تدويره ؟

المفاهيم العلمية

١- يمكن إعادة تدوير بعض الأشياء وصنع أشياء جديدة منها .

السؤال الأول

أراد خالد إعادة تدوير بعض المواد ساعده في تصنيف هذه المواد بوضع الرقم المناسب في الجدول .



(٥)



(٤)



(٣)



(٢)



(١)

ورق	بلاستيك	معادن

السؤال الثاني : حوِّط الأشياء التي يمكن إعادة تدويرها حسب الكلمة المطلوبة :-

WWW.KweduFiles.Com



بلاستيك

-١



ورق

-٢

أنا اتعلم كلمات جديدة

إعادة التدوير

عنوان الدرس : كيف نحافظ على نظافة البيئة من حولنا

المفاهيم العنصرية

١- تحافظ على نظافة البيئة برمي النفايات في الأماكن المخصصة لها .

السؤال الأول : ضع الوجه المناسب أما كل صورة . أو



WWW.KweduFiles.Com

السؤال الثاني : اكتب ٣ جمل تعبر عن الصورة :-



- ١-
- ٢-
- ٣-

أنا اتعلم كلمات جديدة

نظافة



بيئة

.....

.....

ضع علامة () أسفل الصورة الدالة على البيئة النظيفة ، و

علامة () أسفل الصورة الدالة على البيئة غير النظيفة :



عنوان الدرس : ما الموارد التي يمكن استخراجها من الأرض ؟

المفاهيم العلمية

- 1- الموارد الطبيعية هي مواد نافعة نستخرجها من الأرض .
- 2- الماء والنفط والفحم الحجري والغاز و الأشجار هي الموارد الطبيعية .
- 3- يستخدم الناس الموارد الطبيعية بطرق مختلفة .

السؤال الأول : حدد الصور الدالة على الاستخدامات المختلفة للماء بوضع علامة دائرة حولها :



السؤال الثاني : ضع علامة (√) أمام العبارة الصحيحة وعلامة (x) أمام العبارة غير الصحيحة فيما يلي :-

WWW.KweduFiles.Com

- 1- الاسراف في قطع الأشجار يزيد من مواردنا الطبيعية .
()
- 2- يجب ان نرشد من استهلاك المياه .
()
- 3- الفحم والنفط موارد ضاره تستخرج من الأرض .
()
- 4- يصنع الورق من أوراق الشجر .
()

تعلم كلمات جديدة

نفط

ماء

اشجار

فحم

موارد طبيعية

.....

السؤال الثالث : أكمل الفراغات بالكلمة العلمية المناسبة من الكلمات اللاتية:


(الموارد الطبيعية – الأشجار - إعادة تدوير)

١. من الموارد الطبيعية الأشجار

٢. هي مواد نافعة نستخرجها من باطن الرض.



٣. يمكن الأشياء لصنع مواد جديدة

السؤال الرابع : حوط الأشياء المصنوعة من الورق .



WWW.KweduFiles.Com

السؤال الثاني :
ذهب علي الي حديقة الحيوان ووجد بها الكثير من الحيوانات .ساعد علي في تصنيف
الحيوانات في الجدول التالي :





WWW.KweduFiles.Com

آكلة عشب

آكلة لحوم

الحيوان التي : ذهب أحمد في رحلة إلى حديقة الحيوانات ليرى الحيوانات التي
تمشي . قم بمساعدته لإيجاد الحيوانات التي تمشي وضع حولها ○ :




ظلل الأدوات اللازمة للحماية من أشعة
الشمس المباشرة :



WWW.KweduFiles.Com

..... من هذه الأشياء يعتبر شئ غير حي




..... الكائنات الحية





WWW.KweduFiles.Com

..... شئ الذي ينمو ويكبر



..... غير حي نراه في الحي السكني

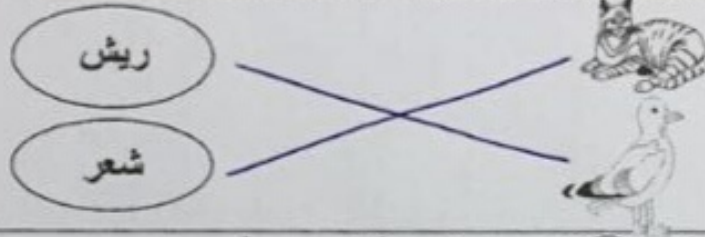




مؤسسة الجهراء الأهلية التعليمية
مدرسة الرفعة النموذجية (ابتدائي - بنون)

المادة : العلوم ورقة عمل اسم الطالب : الصف : المشايخ

السؤال الأول : صل بخط بين صورة الحيوان والكلمة المناسبة لغطاء جسمه :




السؤال الثاني : ضع علامة () حول الإجابة الصحيحة

-الحيوان الذي يطير هو :



- غذاء الأرنب هو :



الولادة

العظام

هيكل عظمي

السؤال الثالث : أكمل الفراغ بالكلمة المناسبة

- معظم الحيوانات لها هيكل عظمي. مثل الاسماك .
- العظام تساعد الجسم على الحركة والوقوف .
- الكثير من الحيوانات تتكاثر بـ الولادة..... مثل القطة .

السؤال الرابع : أكمل السلسلة الغذائية التالية



السؤال الاول : ضع علامة (✓) أمام العبارة الصحيحة وعلامة (✗) أمام العبارة الغير صحيحة:

(✓)

للمماية من ضوء الشمس المباشرة



١- نرتدي نظارة شمسية

(✓)

لصنع اوراق جديدة



٢- يمكن اعادة تدوير ورق الجرائد

(✗)

٣- نجلس في ضوء الشمس المباشر عند الخروج من المدرسة

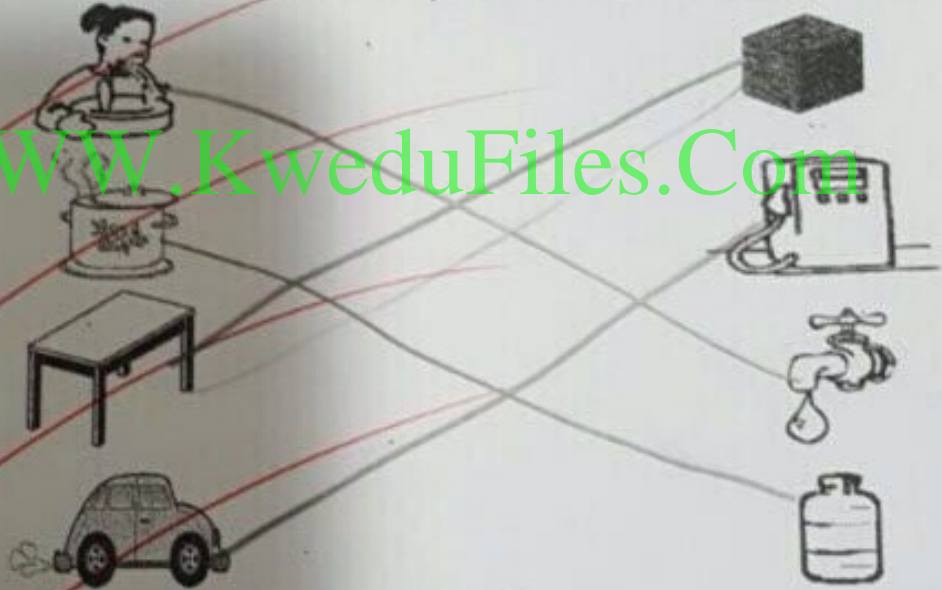
(✗)

القاء القمامة على الارض يحافظ على نظافة البيئة



٤-

السؤال الثاني : صل صورة المورد الطبيعي بالاستخدام المناسب له :



السؤال الثالث : أكمل الجمل التالية باستخدام الكلمات التالية :

(الموارد الطبيعية - اعادة الاستعمال)

- ١- اعادة استخدام الاشياء مرة اخرى تسمى إعادة استعمال
٢- يستخرج الفحم من الارض لانه من الموارد الطبيعية

السؤال الثاني :

ضع علامة (√) أمام العبارة الصحيحة أو علامة (x) أمام العبارة الغير صحيحة

()

٢- القطة من الحيوانات التي تبيض



()

٣- الطيور من الحيوانات التي تلد

()

٤- يجب أن نعتني بالحيوانات ونقدم لها الماء والطعام المناسب

()

٥- السمكة  والسحفاة  من الحيوانات التي تبيض

()



٦- صغار الحيوانات تشبه والديها

()


٧- الحيوانات التي تبيض ترضع صغارها

()

٨- كل الحيوانات تتكاثر بالولادة

()

السؤال الثالث : ارسم في المربع الذي أمامك حيوان يغطي جسمه شعر ويلد :



السؤال الأول: اختر الإجابة الصحيحة علمياً لكل من العبارات التالية بوضع علامة (√) في المربع المقابل لها: -

1- الجزء الذي يثبت النبات في التربة هو :




2- الجزء الذي ينقل الماء من الجذور إلى أجزاء النبات الأخرى:




3- الجزء الذي يصنع الغذاء في النبات هو:




4- الجزء الذي يمتص الماء من التربة هو:




5- النبات الذي نأكل بذوره هو:



6- النباتات التالية نأكل ثمارها ما عدا:



7- النبات الذي نأكل أوراقه هو:



8- نأكل من الفجل :

