

تم تحميل هذا الملف من موقع المناهج الكويتية



الملف نموذج إجابة العاصمة

موقع المناهج ← المناهج الكويتية ← الصف السادس ← علوم ← الفصل الأول

روابط مواقع التواصل الاجتماعي بحسب الصف السادس



روابط مواد الصف السادس على تلغرام

[الرياضيات](#)


[اللغة الانجليزية](#)

[اللغة العربية](#)

[التربية الاسلامية](#)

المزيد من الملفات بحسب الصف السادس والمادة علوم في الفصل الأول

<a href="#">تلخيص مهم للكورس اول في مادة العلوم</a>	1
<a href="#">نموذج اجابة بنك أسئلة وحدة الارض والفضاء في مادة العلوم</a>	2
<a href="#">اجابة بنك اسئلة الروافع في مادة العلوم</a>	3
<a href="#">اجابة بنك اسئلة وحدة التكيف مع الكائنات الحية</a>	4
<a href="#">تلخيص الوحدة الأول(التكيف مع الكائنات الحية) في مادة العلوم معدل</a>	5



موقع  
المناهج الكويتية  
almanahj.com/kw

منطقة العاصمة التعليمية

# التنمؤذبجبية الابجبية

ykwait\_3



## أولاً : الأسئلة الموضوعية (٣٦) درجة

السؤال الأول : اختر الإجابة الصحيحة علمياً لكل من العبارات التالية بوضع علامة ( ✓ ) في المربع المقابل لها : ( ٢×٨ )

١- الحيوان الذي يخزن الدهون في طبقات تحت الجلد هو : ص ٢٩

الدب

الأرنب

الجربوع

الحرياء

٢- أحد الطرق التي تُعرض الكائنات الحية للإنقراض هي: ص ٣٨-٣٩

المحميات الطبيعية

زراعة الأشجار

الصيد الجائر

حدائق الحيوانات

٣- أحد السلوكيات التالية يعتبر سلوكاً مكتسباً هو: ص ٥٨



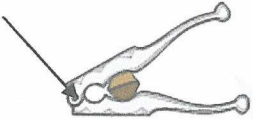
٤- الجزء المشار إليه بالشكل المقابل يمثل : ص ٧٩

المقاومة


القوة

ذراع القوة

محور الارتكاز



٥- رافعة من النوع الثالث يمثلها الشكل : ص ٨١



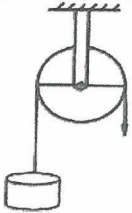
٦- مقدار القوة اللازمة لرفع الثقل في الشكل المقابل هي : ص ١٠٥

(٣٠) نيوتن

(١٥) نيوتن

(٦٠) نيوتن

(٣) نيوتن



٦٠ نيوتن

٧- تصنع مقابض الإناء في الشكل المقابل من مادة : ص ١٣٠

الخشب

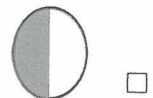
الحديد

الألمنيوم

النحاس




٨- أحد أوجه القمر التالية يمثل بدرراً : ص ١٧١



**السؤال الثاني : أكتب بين القوسين كلمة ( صحيحة ) للعبارة الصحيحة وكلمة ( خطأ ) للعبارة غير الصحيحة علمياً في كل مما يأتي: ( ٢×٤ )**

٨



١. الجزء المشار إليه يساعد نقار الخشب التمسك بالأشجار. (.....صحيحة....) ص ٢٩
٢. عدم استجابة الطيور لمؤثر الفزاعة يعتبر سلوكاً فطرياً. (.....خطأ.....) ص ٥٨
٣. تحدث ظاهرة نسيم البحر نهاراً. (.....صحيحة....) ص ١٣٥
٤. تزداد درجة حرارة الكوكب كلما ابتعد عن الشمس. (...خطأ.....) ص ١٦٩

**السؤال الثالث : في الجدول التالي اختر العبارة أو الشكل من المجموعة (ب)**

**واكتب رقمها أمام ما يناسبها من عبارات المجموعة (أ): ( ٢×٦ )**

١٢

المجموعة (ب)	المجموعة (أ)	الرقم
<div style="display: flex; justify-content: space-around; margin-top: 10px;"> <div style="border: 1px solid black; padding: 2px 10px;">٣</div> <div style="border: 1px solid black; padding: 2px 10px;">٢</div> <div style="border: 1px solid black; padding: 2px 10px;">١</div> </div>	<p>- رافعة من النوع الأول.</p> <p>- رافعة من النوع الثاني .</p> <p>ص ٨١</p>	<p>(..١..)</p> <p>(..٢..)</p>
<div style="display: flex; justify-content: space-around; margin-top: 10px;"> <div style="border: 1px solid black; padding: 2px 10px;">٣</div> <div style="border: 1px solid black; padding: 2px 10px;">٢</div> <div style="border: 1px solid black; padding: 2px 10px;">١</div> </div>	<p>- حيوان يعيش معيشة اجتماعية .</p> <p>ص ٦٠</p> <p>- حيوان يعيش معيشة إنفرادية .</p>	<p>(..١..)</p> <p>(..٣..)</p>
<div style="display: flex; justify-content: space-around; margin-top: 10px;"> <div style="border: 1px solid black; padding: 2px 10px;">٢</div> <div style="border: 1px solid black; padding: 2px 10px;">١</div> <div style="border: 1px solid black; padding: 2px 10px;">٣</div> </div>	<p>- انتقال الحرارة بطريقة التوصيل .</p> <p>- انتقال الحرارة بطريقة الإشعاع.</p> <p>ص ١٢٧</p>	<p>(..٢..)</p> <p>(..٣..)</p>

١٢

ثانياً: الأسئلة المقالية (٢٤) درجة


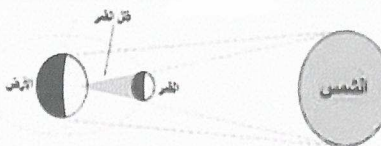


السؤال الرابع ( أ ) : علل لما يأتي تعليلاً علمياً سليماً : ( ٢ × ٢ )

٤

- ١ - يختبئ الجربوع نهاراً وينشط ليلاً . ص ٢٨  
 ..... بحثاً عن الطعام ... / أو أي اجابة علمية صحيحة .....  
 ٢ - تصنع النواظذ الزجاجية من لوحى زجاج بينها مسافة بها هواء . ص ١٣٤  
 ..... لأنه يؤدي إلى عدم تسرب الحرارة من المنزل شتاءً وعدم وصول الحرارة إلى المنزل صيفاً .

٤

السؤال الرابع ( ب ) : قارن بين كلاً مما يلي : ( ٤ × ١ )

 <p>الشمس الارض القمر</p>	 <p>الشمس الارض القمر</p>	<p>وجه المقارنة ص ١٧٥</p>
<p>..... خسوف القمر .....</p>	<p>..... كسوف الشمس .....</p>	<p>اسم الظاهرة</p>
		<p>وجه المقارنة ص ٥٧-٥٨</p>
<p>..... سلوك مكتسب .....</p>	<p>..... سلوك فطري .....</p>	<p>نوع السلوك</p>

٤

السؤال الرابع ( ج ) : صنف مايلي بالجدول حسب نوع البكرة : ( ٤ × ١ ) ص ١٠٥

( القوة = المقاومة ، القوة نصف المقاومة ، لا توفر الجهد ، توفر الجهد )

<p>البكرة المتحركة</p>	<p>البكرة الثابتة</p>
<p>١- ..... القوة نصف المقاومة .....</p>	<p>١- ..... القوة = المقاومة .....</p>
<p>٢- ..... توفر الجهد .....</p>	<p>٢- ..... لا توفر الجهد .....</p>

السؤال الخامس ( أ ) : أي مما يلي لا ينتمي إلى المجموعة مع ذكر السبب: ( ٢ × ٢ )

١٢

١- (الصيد - تلون الحرباء - جري صغير الغزال - النطق عند الحيوانات) (درجة) ص ٥٣-٥٦-٥٧

السبب : لأنه ..... من السلوكيات المكتسبة..... ٢/١..... والباقي ..... من السلوكيات الفطرية..... ٢/١.....

٤

ص ١٣٠

٢- (خشب - بوليسترين - حديد - قماش) (درجة)

السبب : لأنه ... من المواد الموصلة للحرارة..... ٢/١..... والباقي .... من المواد العازلة للحرارة..... ٢/١

السؤال الخامس ( ب ) : اقرأ جيداً ثم أجب عن المطلوب: ( ٢ × ٢ )

ص ٦٢

٢

١- ذهبت فاطمة في رحلة مع صديقاتها إلى شاطئ البحر وقبل خروجها كانت في حيرة من أمرها. أي الحذائين مناسب لترتديه فاطمة؟




- الحذاء المناسب يمثله الرقم :.....(٢.....)

- ماهو سبب الاختيار :.....لأنه لا يغوص في رمال الشاطئ.....

٢- عند وضع ثلاث ملاعق من مواد مختلفة في ماء ساخن كما هو موضح بالشكل المقابل:

ص ١٢٢




- تسقط قطعة الشمع المثبتة على ملعقة....الألمنيوم..... أولاً.

- السبب:.....لأنه موصل للحرارة....

السؤال الخامس ( ج ) : ادرس الرسوم التالية جيداً ثم أجب عن المطلوب: ( ٢ × ٢ )

ص ٢٤



١- الشكل المقابل يوضح الجمل وهو أحد حيوانات البيئة الصحراوية

- التكيف الذي يساعد الجمل على السير فوق الرمال يمثله الرقم: ... (٣.....)

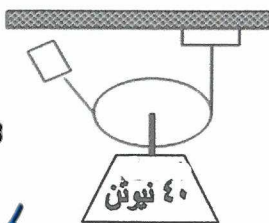
- التكيف الذي يساعد الجمل في تخزين الدهون كغذاء يمثله الرقم :.....(٢.....)

٢- الشكل المقابل يمثل أحد أنواع البكرات :

- نوع البكرة :.....متحركة.....

- ما مقدار القوة المبذولة عند حمل الثقل؟ ..... ٢٠ نيوتن.....

ص ١٠٤



انتهت الأسئلة  
بالنجاح والتوفيق

