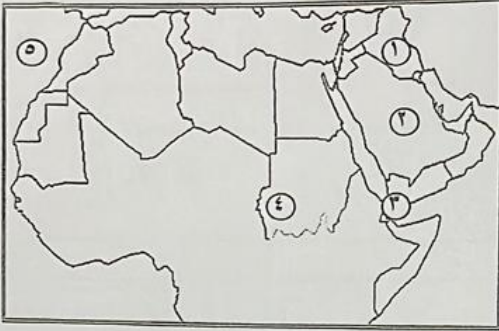


السؤال الثاني : يتكون من (أ - ب - ج)
 (أ) لاحظ خريطة الوطن العربي ثم أكتب الرقم الدال على العبارات التالية :-

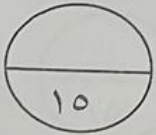
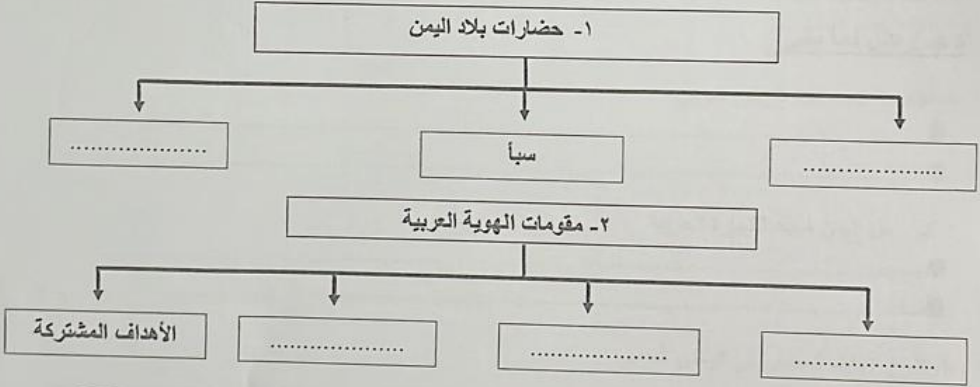


- ١- مضيق باب المندب يمثل على الخريطة الرقم (.....).
- ٢- حضارة بلاد الرافدين يمثلها على الخريطة الرقم (.....).
- ٣- جبل مره يمثلها على الخريطة الرقم (.....).
- ٤- هضبة نجد يمثلها على الخريطة الرقم (.....).
- ٥- المحيط الأطلسي يمثل على الخريطة الرقم (.....).

(ب) ضع علامة (✓) أمام العبارة الصحيحة وعلامة (X) أمام العبارة الخاطئة فيما يلي :

العبارة	العلامة
١- نسبة مساحة الوطن العربي من جملة مساحة العالم تمثل ١٠٪
٢- الحضارة التي عرفت الأحرف الأبجدية هي مصر القديمة
٣- النيل الذي يمر ببحر الميت في الجزائر
٤- الأينوس من أهم أشجار الغابات المدارية الحارة
٥- إجماع في أهم مناطق تحلية المياه في المملكة العربية السعودية

(ج) أكمل المخططات السهمية التالية بما يناسبها:-



يجب : يتكون من (أ - ب - ج)
 حفظ الشكل التالي ثم أجب عن ما يلي:

ما اسم الكتابة ؟

أ	ب	ج	د
ح	ز	س	ش
ط	ث	ع	ث
ذ	ن	غ	د
ر	ق	ظ	ن

- أنكر الحضارة التي تنتمي إليها .

- كم عدد أحرفها ؟

- عدد الأدوات المستخدمة في الكتابة .

١- عدد مصادر المياه في الوطن العربي :

٢- أنكر المقومات الأساسية لقيام الحضارة :

٣- طرق انتقال الحضارة العربية الإسلامية الى قارة أوروبا :

٤- وسائل مقاومة النباتات الصحراوية للجفاف في الوطن العربي :

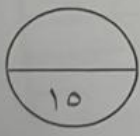
(ج) عرف المفاهيم التالية :

١- النبات الطبيعي :

٢- الحضارة :

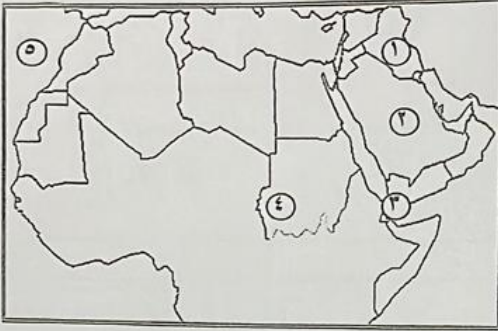
٣- الأفلاج :

((انتهت الأسئلة))



السؤال الثاني : يتكون من (أ - ب - ج)

(أ) لاحظ خريطة الوطن العربي ثم أكتب الرقم الدال على العبارات التالية :-

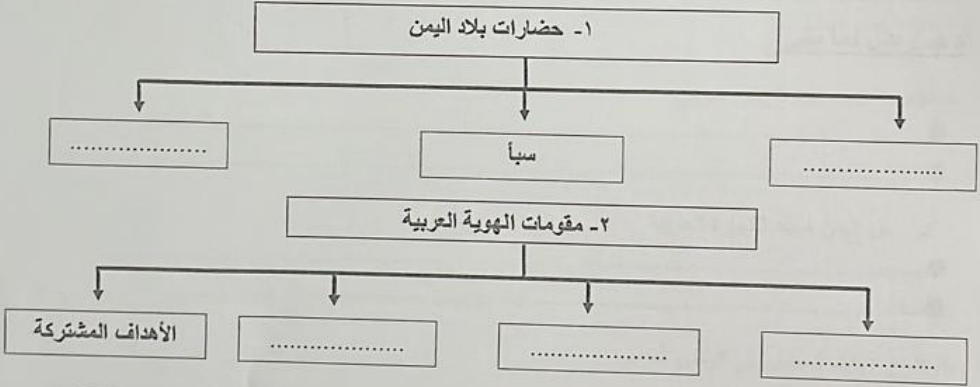


- ١- مضيق باب المندب يمثل على الخريطة الرقم (.....).
- ٢- حضارة بلاد الرافدين يمثلها على الخريطة الرقم (.....).
- ٣- جبل مره يمثلها على الخريطة الرقم (.....).
- ٤- هضبة نجد يمثلها على الخريطة الرقم (.....).
- ٥- المحيط الأطلسي يمثل على الخريطة الرقم (.....).

(ب) ضع علامة (✓) أمام العبارة الصحيحة وعلامة (X) أمام العبارة الخاطئة فيما يلي :

العبارة	العلامة
١- نسبة مساحة الوطن العربي من جملة مساحة العالم تمثل ١٠٪
٢- الحضارة التي عرفت الأحرف الأبجدية هي مصر القديمة
٣- الدولة العربية التي يمر بها نهر النيل هي الجزائر
٤- الأينوس من أهم أشجار الغابات المدارية الحارة.
٥- الإحساء هي أهم مناطق تحلية المياه في المملكة العربية السعودية

(ج) أكمل المخططات السهمية التالية بما يناسبها:-



السؤال الأول : يتكون من (أ - ب - ج)
(أ) ظلل الخيار الصحيح من بين الخيارات التي تلي كل عبارة :

١- الدولة الخليجية التي قامت بها حضارة دلمون :

البحرين	قطر	عمان	الكويت
---------	-----	------	--------

٢- تبلغ مساحة الوطن العربي :

٢ كم ١٠,٥٠٠	٢ كم ١١,٥٠٠	٢ كم ١٢,٥٠٠	٢ كم ١٣,٥٠٠
-------------	-------------	-------------	-------------

٣- الشجرة التي يستخدم لحاؤها في صناعة الفلين :

السدر	البلوط	العرعر	التاك
-------	--------	--------	-------

٤- العام الذي أصبحت تعتمد فيه دولة الكويت على تحلية مياه البحر :

١٩٥٢	١٩٥٣	١٩٥٤	١٩٥٥
------	------	------	------

٥- الصورة التي أمامك تمثل أحد الزواحف السائدة في المنطقة الصحراوية :



الارنب	الحبارى	الضب	العقرب
--------	---------	------	--------

(ب) أكمل العبارات التالية بما يناسبها فيما درست :

١- أشهر ملوك سبأ تسمى

٢- أي موقع ذي مكانة مهمة بين دول العالم يسمى

٣- الديانة التي نزلت على سيدنا عيسى بن مريم وكتابتها الانجيل تسمى

٤- عاصمة جزر القمر تسمى

٥- وزن الهواء فوق أي مكان يسمى

(ج) صنف مظاهر السطح التالية حسب ما هو مطلوب في الجدول :

(نجد - الفيضيه - عسير - الساحلية - الأخضر)

سهول	هضاب	جبال
.....
.....

ما اسم الكتابة ؟
 يتكون من (أ - ب - ج)
 الشكل التالي ثم أجب عن ما يلي:

أ	ب	ج	د
هـ	ز	ح	ط
ث	ث	ث	ث
ث	ث	ث	ث
ث	ث	ث	ث
ث	ث	ث	ث
ث	ث	ث	ث
ث	ث	ث	ث
ث	ث	ث	ث
ث	ث	ث	ث

-
-
-
-
-
-
-
-
-
-

(ب) أجب عن الاسئلة التالية :

- ١- عدد مصادر المياه في الوطن العربي :

- ٢- أنكر المقومات الأساسية لقيام الحضارة :

- ٣- طرق انتقال الحضارة العربية الإسلامية الى قارة أوروبا :

- ٤- وسائل مقاومة النباتات الصحراوية للجفاف في الوطن العربي :

(ج) عرف المفاهيم التالية :

- ١- النبات الطبيعي :
- ٢- الحضارة :
- ٣- الأفلاج :



((انتهت الأسئلة))

سؤال الثالث : يتكون من (أ - ب - ج)
(أ) اكتب فيما يلي :

١- العوامل التي تؤثر في مناخ الوطن العربي :

٢- الصفات التي يتصف بها المطر في الوطن العربي :

٣- العوامل التي ساعدت على قيام الحضارة المصرية القديمة :

(ب) فرق بين كل من في الجدول التالي :

المناخ	النطق
الموقع النسبي	الموقع الفلكي

(ج) علل لما يأتي :

١- الأهمية الجغرافية للوطن العربي .

٢- كان أهل اليمن أسياذ التجارة العربية .

٣- تنوع النبات الطبيعي في الوطن العربي :

