

تم تحميل هذا الملف من موقع المناهج الكويتية



منطقة الجهراء التعليمية

الملف نموذج إجابة منطقة الجهراء

موقع المناهج ← المناهج الكويتية ← الصف السابع ← اجتماعيات ← الفصل الأول

روابط مواقع التواصل الاجتماعي بحسب الصف السابع



روابط مواد الصف السابع على تلغرام

[الرياضيات](#)

[اللغة الانجليزية](#)

[اللغة العربية](#)

[التربية الاسلامية](#)

المزيد من الملفات بحسب الصف السابع والمادة اجتماعيات في الفصل الأول

كتاب الطالب في مادة الاجتماعيات للعام الدراسي 2018	1
حل الوحدة الاولى في مادة الاجتماعيات	2
تلخيص رائع في مادة الاجتماعيات	3
حل الوحدة الثانية في مادة الاجتماعيات	4
تلخيص ممتاز في مادة الاجتماعيات	5



العام الدراسي ٢٠٢٢ - ٢٠٢٣ م

امتحان الفترة الدراسية الأولى

وزارة التربية

الزمن : ساعة ونصف

لمقرر الكويت والوطن العربي

الإدارة العامة لمنطقة الجهراء التعليمية

عدد الصفحات : (٦)

للمصف السابع المتوسط (نموذج الإجابة)

التوجيه الفني للاجتماعيات

درجة لكل نقطة

السؤال الأول (موضوعي) يتكون من (أ - ب - ج - د - هـ)

أ- اكمل العبارات التالية بما يناسبها فيما درست :

١- العام الذي انضمت فيه جمهورية جزر القمر إلى الجامعة العربية هو ١٩٩٣م : ص ٢٣

٢- يمتد الوطن العربي بين اكبر قارتين في العالم مساحة هما قارة آسيا و أفريقيا . ص ٢١

٣- المضيق الذي يصل بين الخليج العربي وخليج عمان يسمى مضيق هرمز . ص ٢٩

المناهج الكويتية

٤- أكثر الأشكال التضاريسية انتشاراً في الوطن العربي تسمى الهضاب . ص ٤٠ almanahj.ku.edu.kw

٥- العام الذي اعتمدت فيه دولة الكويت على تحلية مياه البحر هو ١٩٥٣م . ص ٦١

٦- أهم الشرائع القانونية التي ظهرت في بلاد الرافدين تسمى حمورابي . ص ٨٤

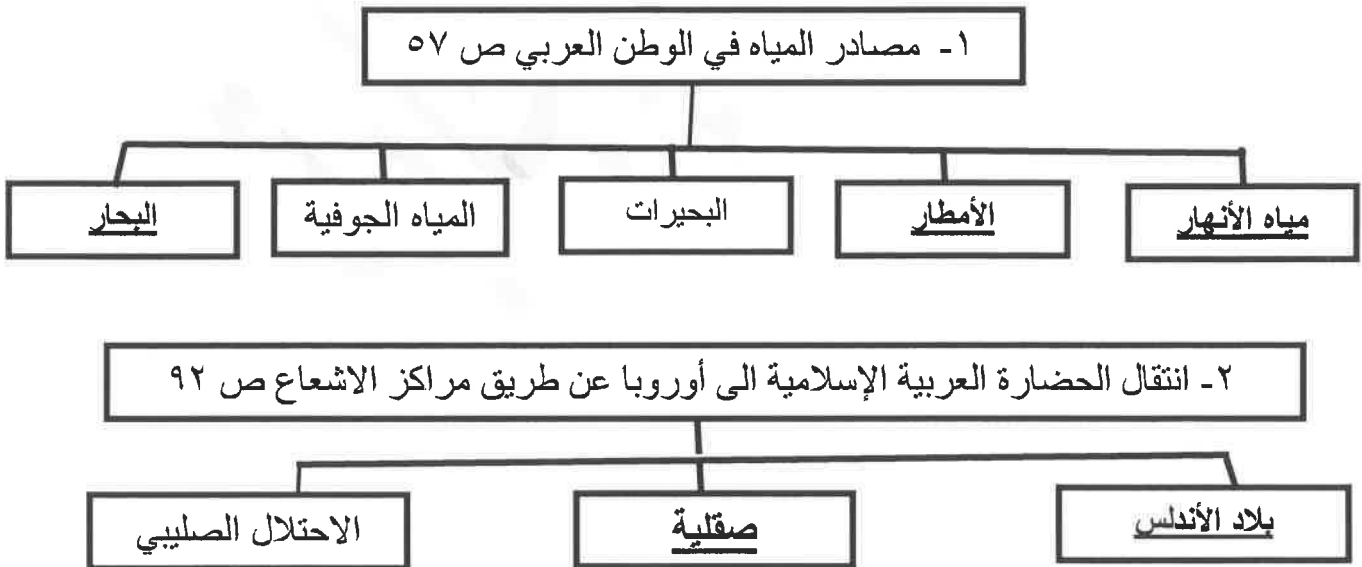
ب - ظلل الحرف (أ) اذا كانت العبارة صحيحة وظلل الحرف (ب) اذا كانت العبارة خاطئة :

ب	أ	العبارة
ص ٧١		١- كل ما يطرأ على المجتمع من تقدم وتطور ورقي هي الحضارة.
	ص ٨٦	٢- المعلم الحضاري سد مأرب تابع لحضارة بلاد الشام .
ص ٢٣		٣- تمثل نسبة مساحة الوطن العربي ١٠% من جملة مساحة العالم .
ص ٢٤		٤- البحر الأحمر يفصل بين الجناح الآسيوي و الجناح الأفريقي.
	ص ٣٥	٥- يشكل سكان الوطن العربي ٧٠% من سكان العالم .
ص ٧٧		٦- عرفت الكتابة عند المصريين القدماء بالكتابة الهيروغليفية .

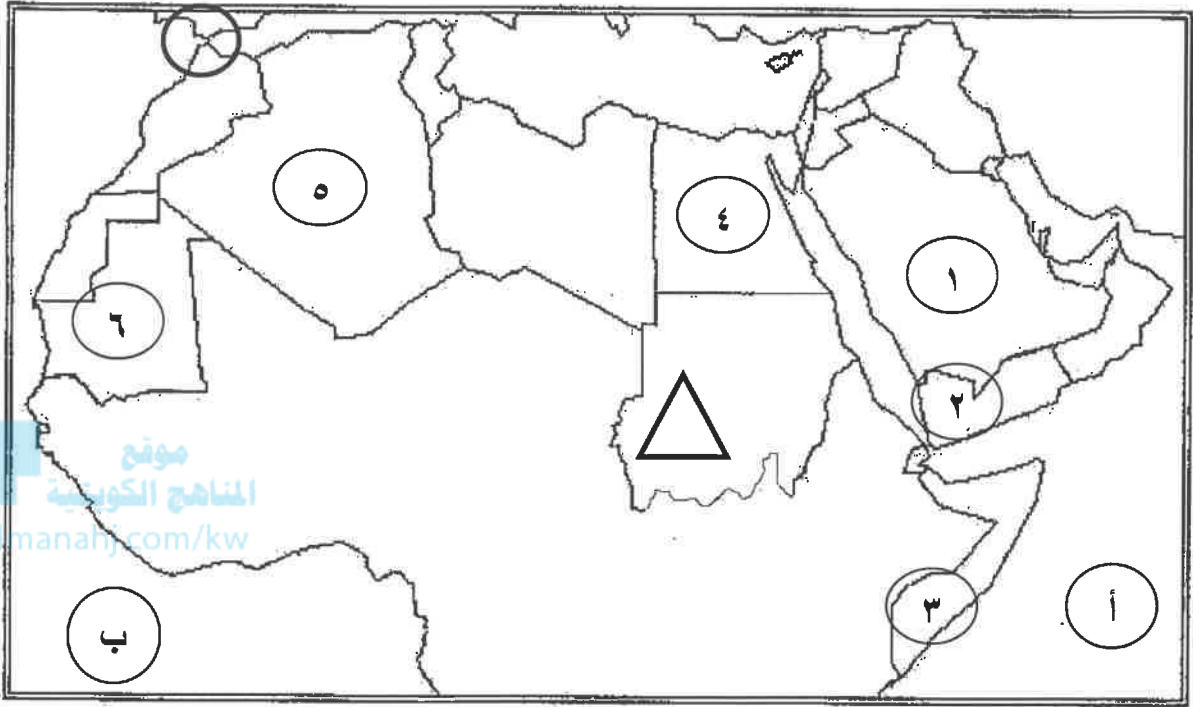
ج - اكتب المفاهيم أو المصطلحات الدالة على العبارات التالية :

المفهوم	العبرة
١ <u>الوطن العربي</u>	مجموعة الدول العربية التي يجمعها عدد من السمات المشتركة (الدين واللغة) ويمتد ضمن قارتين من أكبر قارات العالم مساحة .ص ٢٢
٢ <u>الموقع الاستراتيجي</u>	أي موقع ذي مكانة مهمة بين دول العالم .ص ٢٨
٣ <u>المسطحات المائية</u>	جميع أشكال المياه على سطح الأرض مثل البحار والخلجان والبحيرات ... الخ ص ٢٨
٤ <u>الموقع الفلكي</u>	نقطة من الكرة الأرضية يتحدد موقعها بخطوط الطول ودوائر العرض . ص ٣١
٥ <u>الديانة اليهودية</u>	الديانة التي نزلت على سيدنا موسى عليه السلام وكتابها التوراة . ص ٩٠
٦ <u>بلاد الرافدين</u>	بلاد ما بين النهرين ويطلق عليها حالياً اسم العراق . ص ٧٩

د - أكمل المخططات السهمية التالية : من ص ٥٧ إلى ٩٠




هـ - لاحظ خريطة الوطن العربي ثم نفذ المطلوب :




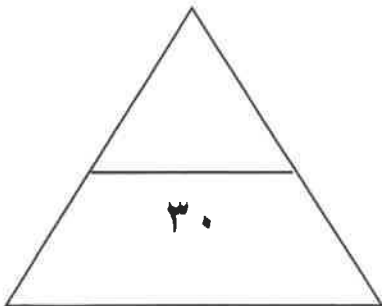
أ. اكتب الحرف والرقم الدال على العبارات التالية :

- ١- المحيط الأطلسي يمثله على الخريطة الحرف ب ص ٢٣
- ٢- حضارة بلاد اليمن يمثّلها على الخريطة الرقم ٢ ص ٧١
- ٣- هضبة الشطوط تقع في الدولة التي يمثّلها على الخريطة الرقم ٥ ص ٤٠
- ٤- الدولة العربية التي يمر بها خط الاستواء يمثّلها على الخريطة الرقم ٣ ص ٤٧
- ٥- رياح الخماسين تهب على الدولة العربية التي يمثّلها على الخريطة الرقم ٤ ص ٤٨

ب. عين على الخريطة باستخدام الرموز التالية :

٦- حدد على الخريطة مضيق جبل طارق بالرمز  ص ٢٨

٧- حدد على الخريطة جبل مره بالرمز  ص ٣٨



الأسئلة المقالية:

السؤال الثاني يتكون من (أ - ب - ج) :

أ- فرق بين كل من مميزات الغابات حسب الجدول التالي :

(درجتان / درجة لكل نقطة) ص ٥٢

أوجه المقارنة	الغابات المدارية الحارة	الغابات المعتدلة
المميزات	<ul style="list-style-type: none">• ضخامة أشجارها وجذوعها• تشابك أغصانها• أوراقها العريضة• ارتفاعها الكبير	<ul style="list-style-type: none">• عدم كثافتها وبعضها يكون دائم الخضرة• بعضها تتساقط أوراقها في فصل الشتاء

ب- عدد ما يلي :

١- مقومات الهوية العربية. ص ٢٦

• وحدة الدين

• اللغة

• التراث

• الأهداف المشتركة

٢- صفات الأمطار في الوطن العربي . ص ٥٩

• تذبذب كمية الأمطار بين عام وآخر كما انها تسقط في أيام معدودة.

• الأمطار تكاد تقتصر على الأطراف الشمالية والجنوبية .

• تتصف الأمطار بأنها قليلة بصفه عامة .

درجتين يكتفي بنقطتين

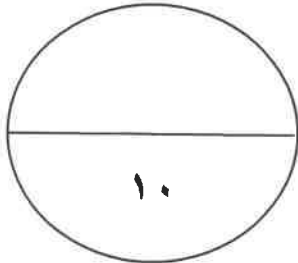
٣ درجات درجة لكل تعريف

ج) عرف المفاهيم التالية :

١- الموقع النسبي : موقع الدولة بالنسبة لليابسة والماء . ص ٣٣

٢- النبات الطبيعي : النبات الذي ينمو تلقائيا عقب سقوط المطر دون تدخل من الإنسان . ص ٥١

٣- البحيرة : مسطح مائي تحيط به اليابسة من جميع الاتجاهات . ص ٦٠



الأسئلة المقالية:

السؤال الثالث يتكون من (أ- ب - ج)

أ- لاحظ الصورة التي أمامك ثم أجب عما يليها من أسئلة:



١- ما اسم الأثر في حضارة دلمون ؟ ص ٨٨

درجة واحدة

رأس الثور

٢- عدد الأنشطة الاقتصادية التي مارسها سكان حضارة دلمون . ص ٨٨

• الزراعة

• صيد الأسماك

• الغوص على اللؤلؤ

• (ب) اذكر ما يلي:

٣- عوامل قيام الحضارة . ص ٧٣

• الموقع الاستراتيجي

• توفر مصادر المياه العذبة

• اعتدال المناخ

• توافر الثروات الطبيعية

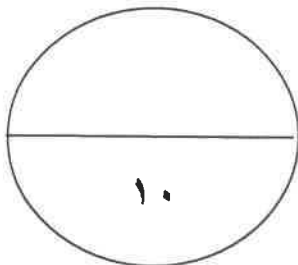
• توافر العنصر البشري.

(ج) فرق بين كل من :

٣ درجات يكتفي بثلاث نقاط

٤ درجات درجة لكل تعريف

الطقس	المناخ
حالة الجو في مكان لمدة قصيرة تتراوح بين يوم أو عدة أيام من حيث درجة الحرارة والرطوبة والأمطار والرياح والضغط الجوي . ص ٤٤	حالة الجو خلال فترة زمنية طويلة من حيث درجة الحرارة والرطوبة والأمطار والرياح . ص ٤٤
السهول الساحلية	السهول الفيضية (النهرية)
هي الأراضي المنبسطة التي تجاور سواحل البحار والمحيطات . ص ٤٢	هي الأراضي المنخفضة التي تكونت من التربة التي حملتها مياه الأنهار. ص ٤٢



السؤال الرابع: يتكون من (أ - ب - ج)

أ- لاحظ الجدول التالي لنسب استخدام المياه المحلاة ثم أجب عن الأسئلة التالية:

النسبة	الدول
٣٨%	قطر
٢٧%	الإمارات
٥٥%	الكويت
٨%	السعودية
٥%	ليبيا
٣١%	البحرين

١- ما اسم أكثر الدول المنتجة للمياه المحلاة؟ نصف درجة ص ٦٢

الكويت

٢- رتب الدول الثلاث الأولى لإنتاج المياه المحلاة ترتيباً تنازلياً.

درجة و نصف / نصف لكل دولة ص ٦٢

١- الكويت ٢- قطر ٣- البحرين

٣- كيف نحافظ على الثروة المائية.

درجتين يكتفى بنقطتين ص ٦٣

* ترشيد استخدام المياه والحد من التبذير في المنازل.

* الحد من هدر المياه في عمليات الري باستخدام الوسائل الحديثة كالرش بالتنقيط والمحوري .

* تنظيم عملية الاستفادة من المياه الجوفية ومنع تسرب الأملاح الملوثة.

* تطوير استعمال مياه الصرف الصحي المعالجة في الزراعة .

* إقامة البحيرات والسدود لتجميع مياه الأمطار والسيول للاستفادة منها في فصل الجفاف .

* توقيع اتفاقيات مع الدول المشاركة ودول المنبع لتحقيق مصالح الدول العربية المعنية.

ب- علل مايلي :

درجتين يكتفى بنقطتين ص ٨١

• عرف سكان بلاد الرافدين الزراعة ؟

❖ خصوبة تربتها .

❖ سعة سهولها .

❖ وفرة مياهها .

• **ج) فرق بين كل من :**

٤ درجات (درجة لكل مفهوم)

الأفلاج	المياه الجوفية
الماء الجاري (وهو مجرى صغير مائي في الأرض) . ص ٦٠	المياه التي توجد في جوف الأرض (باطن الرض) . ص ٦٠
المضيق	القناة
ممر مائي ضيق يصل بين بحرين أو محيطين أو أي مساحتين كبيرتين نسبياً من الماء . ص ٢٨	مجرى مائي صناعي ضيق يشق لأغراض الري أو النقل . ص ٢٨

انتهت

