

تم تحميل هذا الملف من موقع المناهج الكويتية



الملف اختبار تقويمي ثالث

[موقع المناهج](#) ⇐ [المناهج الكويتية](#) ⇐ [الصف الأول](#) ⇐ [رياضيات](#) ⇐ [الفصل الأول](#)

روابط مواقع التواصل الاجتماعي بحسب الصف الأول



روابط مواد الصف الأول على تلغرام

[الرياضيات](#)

[اللغة الانجليزية](#)

[اللغة العربية](#)

[التربية الاسلامية](#)

المزيد من الملفات بحسب الصف الأول والمادة رياضيات في الفصل الأول

[تدريبات على كتابة الاعداد من 1 وحتى 10 في مادة الرياضيات](#)

1

[التصنيف وفق خاصية واحدة في مادة الرياضيات](#)

2

[اوراق عمل في مادة الرياضيات](#)

3

[تحضير درس الانماط في مادة الرياضيات](#)

4

[تحضير درس التطابق في مادة الرياضيات](#)

5

الاختبار التقويمي الثالث للصف الأول


الفصل الدراسي الأول للعام الدراسي 2024-2025

| بنود الاختبار | توزيع درجات الاختبار | | درجة الاختبار | مدة الاختبار | موعد الاختبار |
|---------------|----------------------|--------|---------------|---------------------------------------|-------------------|
| | مقالي | موضوعي | | | |
| (١-٤) | ٣ | ٢ | ٥ درجات | لا تتجاوز ١٥ دقيقة من زمن الحصة | الأسبوع العاشر |
| (٢-٤) | | | | | |
| (٣-٤) | | | | | |
| (٤-٤) | | | | | |
| (٥-٤) | | | | | |

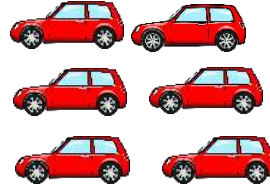
إشراف الموجهة الفنية : أ. ليلي سالم

السؤال الأول :

اشطب لتطرح .



$$\underline{\quad} = 5 - 10$$



$$\underline{\quad} = 2 - 6$$

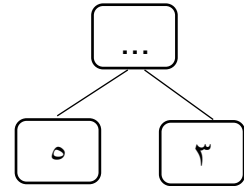


$$\underline{\quad} = 3 - 5$$

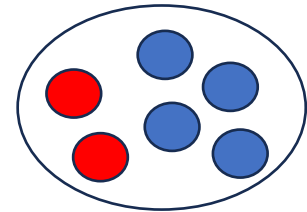
السؤال الثاني :

صل .

٦




٨

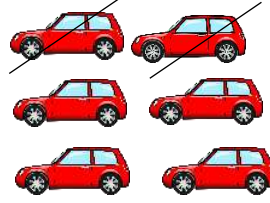


السؤال الأول :


اشطب لتطرح .



$$\underline{\quad 5 \quad} = 5 - 10$$



$$\underline{\quad 4 \quad} = 2 - 6$$



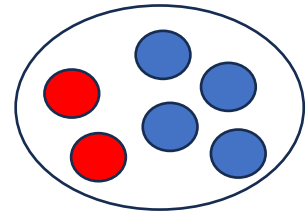
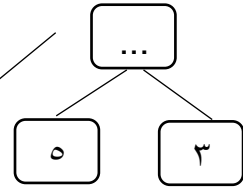
$$\underline{\quad 2 \quad} = 3 - 5$$

السؤال الثاني :

صل .

٦

٨



انتهت الأسئلة،،،،،

السؤال الأول:

استخدم خط الأعداد . اجمع



..... = ٣ + ٩

..... = ١ + ١٠


..... = ١ + ٨

السؤال الثاني:

صل بالعبرة المناسبة

٥ = ٢ + ٣


٨ = ٢ + ٦



انتهت الأسئلة،،،

السؤال الأول :

استخدم خط الأعداد . اجمع



$.. ١٢ ... = ٣ + ٩$

$... ١١ = ١ + ١٠$


$... ٩ ... = ١ + ٨$

السؤال الثاني :

صل بالعبارة المناسبة

$٥ = ٢ + ٣$

$٨ = ٢ + ٦$



انتهت الأسئلة،،،،،