

تم تحميل هذا الملف من موقع المناهج الكويتية



الملف نموذج إجابة منطقة الجهراء

[موقع المناهج](#) ← [المناهج الكويتية](#) ← [الصف السابع](#) ← [اجتماعيات](#) ← [الفصل الأول](#)

روابط مواقع التواصل الاجتماعي بحسب الصف السابع



روابط مواد الصف السابع على تلغرام

[الرياضيات](#)

[اللغة الانجليزية](#)

[اللغة العربية](#)

[التربية الاسلامية](#)

المزيد من الملفات بحسب الصف السابع والمادة اجتماعيات في الفصل الأول

كتاب الطالب في مادة الاجتماعيات للعام الدراسي 2018	1
حل الوحدة الاولى في مادة الاجتماعيات	2
تلخيص رائع في مادة الاجتماعيات	3
حل الوحدة الثانية في مادة الاجتماعيات	4
تلخيص ممتاز في مادة الاجتماعيات	5



العام الدراسي: ٢٠٢١/٢٠٢٢ م
الزمن : ساعة ونصف
عدد الأوراق : ٦

وزارة التربية
الإدارة العامة لمنطقة الجواء التعليمية
التوجيه الفني للاجتماعيات
امتحان نهاية الفترة الدراسية الأولى
لمقرر الكويت والوطن العربي
للفص السابع المتوسط

نموذج الإجابة

أجب عن جميع الأسئلة

السؤال الأول (موضوعي) : يتكون من (أ- ب- ج- د- هـ):

(أ) أكمل العبارات التالية بما يناسبها فيما درست : (٦=٦×١)

- ١- يطلق على موقع الدولة بالنسبة لليابسة والماء اسم الموقع النسبي ص ٣٣
- ٢- القارة المجاورة للوطن العربي من جهة الشمال تسمى أوروبا ص ٢١
- ٣- مساحة كبيرة من سطح الأرض تتميز باستوائها وقلة ارتفاعها تسمى السهول ص ٤٢
- ٤- يطلق على وزن الهواء فوق أي مكان اسم الضغط الجوي ص ٤٤
- ٥- النبات الذي ينمو تلقائياً عقب سقوط المطر دون تدخل من الإنسان يسمى النبات الطبيعي ص ٥١
- ٦- مضيق يصل بين الخليج العربي وخليج عمان يسمى هرمز ص ٢٩

(ب) صنف الكلمات التالية إلى مكانها المناسب في الجدول الذي يليها : (٦=٦×١)

(نجد - الفرات - الشطوط - عسير - مرة - النيل)

هضاب	أنهار	جبال
ص ٤٠	ص ٥٨	ص ٣٨
نجد	الفرات	عسير
الشطوط	النيل	مرة

ج) ضع خطأ تحت الخيار الصحيح من بين الخيارات التي تلي كل عبارة : (٦=٦×١)

١- نسبة مساحة الوطن العربي من جملة مساحة العالم تبلغ : ص ٢٣
(١٠% - ٢٠% - ٣٠% - ٤٠%)

٢- يمتد الوطن العربي بين قارتي : ص ٢١

(آسيا و أوروبا - آسيا وأستراليا - آسيا وأفريقيا - آسيا وأمريكا الشمالية)

٣- العام الذي انضمت فيه جمهورية جزر القمر إلى الجامعة العربية : ص ٢٣
(١٩٩٢م - ١٩٩٣م - ١٩٩٤م - ١٩٩٥م)

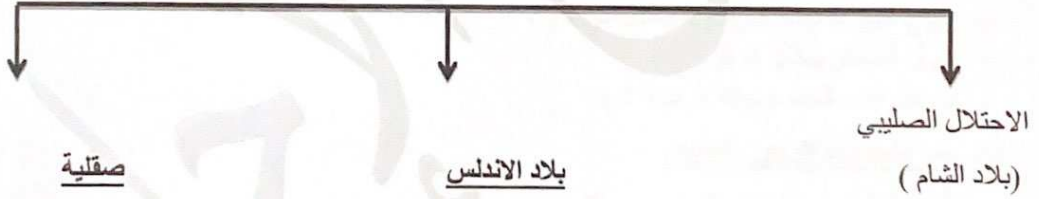
٤- كل ما ارتفع عن الأرض وله قمة لا يقل ارتفاعها عن ١٠٠٠ متر : ص ٣٨
(الهضبة - الوادي - السهل - الجبل)

٥- نزل القرآن الكريم على سيدنا محمد ﷺ عام : ص ٩٠
(٦٠٠م - ٦١٠م - ٦٢٠م - ٦٣٠م)

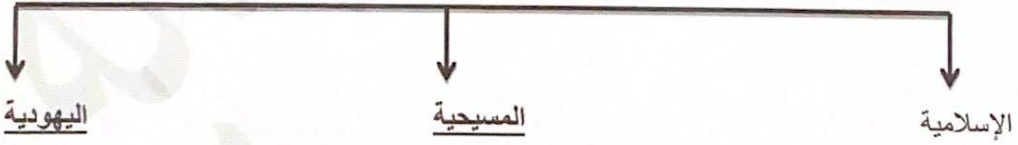
٦- المسطح المائي الذي يحد الوطن العربي من جهة الشمال : ص ٤٧
(بحر العرب - البحر الأحمر - بحر عمان - البحر المتوسط)

د) أكمل المخططات السهمية التالية : (٦=٦×١)

١- انتقلت الحضارة العربية الإسلامية إلى أوروبا عن طريق ص ٩٢



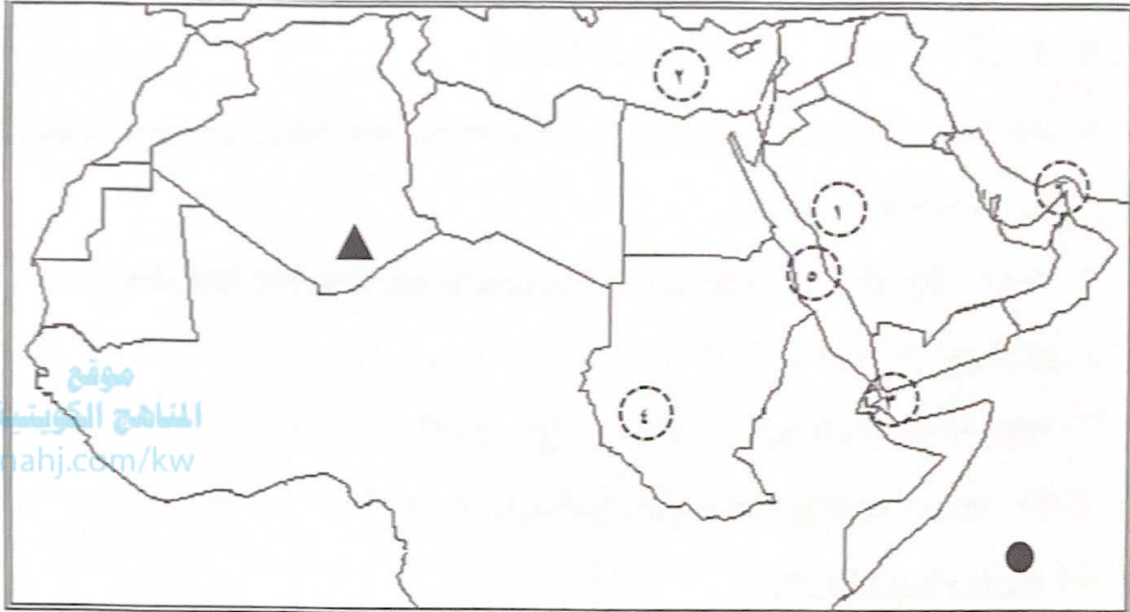
٢- الديانات السماوية في الوطن العربي ص ٩٠



٣- الحياة النباتية في الوطن العربي ص ٥٢



هـ) لاحظ خريطة الوطن العربي الصماء ثم نفذ عليها المطلوب : (٦=٦×١)



أ) أكتب الرقم الصحيح أمام كل عبارة مما يلي:

- المسطح المائي الذي يفصل الجناح الآسيوي عن الجناح الأفريقي يمثل الرقم (٥) ص ٢٤
- رياح الهبوب تهب على دولة يمثلها الرقم (٤) ص ٤٨
- جبال الحجاز يمثلها الرقم (١) ص ٣٨
- مضيق باب المندب يمثل الرقم (٣) ص ٢٨

ب) حدد باستخدام الرموز التالية :

- المحيط الهندي باستخدام الرمز ● ص ٢٨
- جبال الأحجار باستخدام الرمز ▲ ص ٣٨

ثانياً: الأسئلة المقالية :

السؤال الثاني : يتكون من (أ - ب - ج) :

(أ) عرف المفاهيم والمصطلحات التالية : (١ × ٤ = ٤)

١- وطن عربي : هو مجموعة من الدول العربية التي يجمعها عدد من السمات المشتركة ويمتد ضمن قارتين من أكبر

قارات العالم مساحة . ص ٢٢

٢- حضارة : كل ما يطرأ على المجتمع من تقدم وتطور ورفي في جميع نواحي الحياة الدينية والسياسية والاقتصادية

والاجتماعية والفكرية . ص ٧١

٣- موقع استراتيجي : موقع ذي مكانة مهمة بين دول العالم . ص ٢٨

٤- قناة : مجرى مائي صناعي ضيق يشق لأغراض الري أو النقل . ص ٢٨

(ب) علل لما يأتي : (١ × ٤ = ٤)

١- الأهمية الاقتصادية للوطن العربي . درجتان يكتفى بنقطتين ص ٣٥

- منطقة عبور لحركة الملاحة والتجارة العالمية .

- الجسر الذي يربط قارات العالم الثلاث بمواردها الهائلة وال ضخمة .

- أدى ظهور النفط بكميات كبيرة في منطقة الخليج العربي وشبه الجزيرة العربية وبعض مناطق أفريقيا إلى تزايد هذه الأهمية .

٢- قدرة النباتات الصحراوية على تخزين المياه . درجة ويكتفى بنقطة ص ٥٢

- لأنها تمتلك لحاء سميك وأوراق إبرية .

٣- تنوع النبات الطبيعي في الوطن العربي . درجة ويكتفى بنقطة ص ٥١

- لإختلاف نوع التربة .

- لإختلاف المناخ وكمية الأمطار ومواسمها ودرجات الحرارة .

(ج) فرق بين كل من : (١ × ٢ = ٢) ص ٤٤

الطقس	المناخ
هو حالة الجو في مكان لمدة قصيرة تتراوح بين يوم أو عدة أيام من حيث درجة الحرارة والرطوبة والأمطار والرياح والضغط الجوي (درجة)	هو حالة الجو خلال فترة زمنية طويلة من حيث درجة الحرارة والرطوبة والأمطار (درجة)

السؤال الثالث : يتكون من (أ- ب) :

(أ) قارن بين كل من الغابات المدارية الحارة والغابات المعتدلة حسب الجدول التالي: (١×٤=٤)

ص ٥٢

أوجه المقارنة	الغابات المدارية الحارة	الغابات المعتدلة
مميزاتها	تمتاز بضخامة أشجارها وجذوعها وتشابك أغصانها وأوراقها العريضة وارتفاعها	تتسم بعدم كثافتها وبعضها يكون دائم الخضرة وبعضها الآخر تتساقط أوراقه في فصل الشتاء
أهم أشجارها	الساج والماهوجني والتاك والأبنوس والسدر والأثل والسنط	الأرز والعرعر والصنوبر الحلبي والبلوط والسنديان وأشجار الزيتون والتفاح والحمضيات والفواكة

(ب) اكتب فيما يلي : (١×٦=٦)

١) عوامل قيام الحضارة . (درجتان يكتفى بنقطتين) ص ٧٣

- الموقع الاستراتيجي - توافر المياه العذبة - اعتدال المناخ

- توافر الثروات الطبيعية - توافر العنصر البشري

٢) العوامل التي تؤثر في مناخ الوطن العربي . (درجتان يكتفى بنقطتين) ص ٤٦

- الموقع بالنسبة لدوائر العرض - القرب أو البعد عن المسطحات المائية - التضاريس - الرياح

٣) صفات المطر في الوطن العربي . (درجتان يكتفى بنقطتين) ص ٥٩

- تنذب كمية الأمطار بين عام وآخر .

- تتصف بأنها قليلة بصفة عامة .

- الأمطار في الوطن العربي تكاد تقتصر على الأطراف الشمالية والأطراف الجنوبية منها .

السؤال الرابع : يتكون من (أ- ب) :

(أ) لاحظ الجدول الذي أمامك ثم أجب عما يلي : ص ٦٢

الإمارات	٢٧٪
الكويت	٥٥٪
السعودية	٨٪
قطر	٣٨٪
ليبيا	٥٪
البحرين	٣١٪
نسبة استخدام المياه المحلاة	

(١) استخرج من الجدول أقل دول الوطن العربي استخداما للمياه المحلاة .

ليبيا (نصف درجة)

(٢) رتب الدول الثلاث الأولى تنازليا حسب نسبة استخدام المياه المحلاة .

(درجة ونصف)

١-الكويت	٢-قطر	٣-البحرين
----------	-------	-----------

(ب) عدد ما يلي : (٨ = ٨ × ١)

(١) أهم الحضارات التي قامت في الوطن العربي . (درجتان يكتفى بنقطتين) ص ٧١

- الحضارة المصرية القديمة
- حضارة بلاد الرافدين
- بلاد اليمن
- حضارة دلمون (البحرين)
- بلاد الشام

(٢) مقومات الهوية العربية . (درجتان يكتفى بنقطتين) ص ٢٦

- وحدة الدين
- وحدة اللغة
- وحدة التراث
- الأهداف المشتركة

(٣) مصادر المياه في الوطن العربي . (درجتان يكتفى بنقطتين) ص ٥٧

- مياه الأنهار
- الأمطار
- البحيرات
- المياه الجوفية
- مياه البحار

(٤) عناصر المناخ . (درجتان يكتفى بنقطتين) ص ٤٤

- درجة الحرارة
- الرطوبة
- الأمطار
- الرياح
- الضغط الجوي .