

تم تحميل هذا الملف من موقع المناهج الكويتية



هالة لبيب

الملف أوراق عمل اختبار تحصيلي أول

موقع المناهج ← المناهج الكويتية ← الصف الثالث ← رياضيات ← الفصل الأول

روابط مواقع التواصل الاجتماعي بحسب الصف الثالث



روابط مواد الصف الثالث على تلغرام

[الرياضيات](#)

[اللغة الانجليزية](#)

[اللغة العربية](#)

[التربية الاسلامية](#)

المزيد من الملفات بحسب الصف الثالث والمادة رياضيات في الفصل الأول

ورقة عمل حول الترتيب التنازلي والتصاعدي	1
ورقة عمل الوحدة الرابعة	2
نموذج اختبار تحصيلي (1)	3
اوراق عمل مهمة في مادة الرياضيات	4
مذكرة ممتازة في مادة الرياضيات	5



أوراق عمل الاختبار التحصيلي الأول

الصف الثالث الابتدائي

الإجابات فقط :-

هالة لبیب

H.O.



أوجد ناتج ما يلي

①
2 3 8
1 3 6 +
3 7 4



①
4 1 5
3 7 +
8 0 2



5 0 2
1 3 4 +
6 3 6



①
4 5 2
4 9 2 +
9 4 4



①
3 6 7
2 8 0 +
6 4 7



①
4 5 2
1 5 2 +
6 0 4



2 3
1 4 9 -
1 1 4



6 8
4 2 -
6 3 8




9 6 7
1 2 5 -
8 4 2



7 10
7 5 6
4 9 6 -
2 6 0



9
8 0
5 4 6 -
3 0 4




1 12
4 4 8
1 7 1 -
0 7 7



H.L.



أوراق عمل (الاختبار التحصيلي الأول)



الصف الثالث الابتدائي

أوجد الناتج باستخدام الحساب الذهني



$$1000 = 1000 + 0$$



$$700 = 500 + 200$$



$$90 = 50 + 40$$



$$500 = 500 - 0$$



$$200 = 400 - 200$$



$$60 = 20 - 140$$

أوجد العدد المجهول مستخدما العملية العكسية

$$\begin{array}{r} 20 \\ - 10 \\ \hline \end{array}$$



$$20 = \boxed{10} + 10$$

$$\begin{array}{r} 90 \\ - 72 \\ \hline 18 \end{array}$$



$$90 = \boxed{18} + 72$$

$$\begin{array}{r} 69 \\ - 24 \\ \hline 45 \end{array}$$



$$69 = \boxed{45} + 24$$

$$\begin{array}{r} 80 \\ - 53 \\ \hline 27 \end{array}$$



$$80 = \boxed{27} + 53$$

إعداد المعلمة : إيمان علي



أوراق عمل الاختبار التحصيلي الأول

الصف الثالث الابتدائي

H.O.

استطلع المعلم آراء المتعلمين البالغ عددهم ٣٠ لتحديد الأماكن الأكثر تفضيلاً لديهم وسجل البيانات كالتالي
أكمل الجدول ثم أجب عن الأسئلة التالية

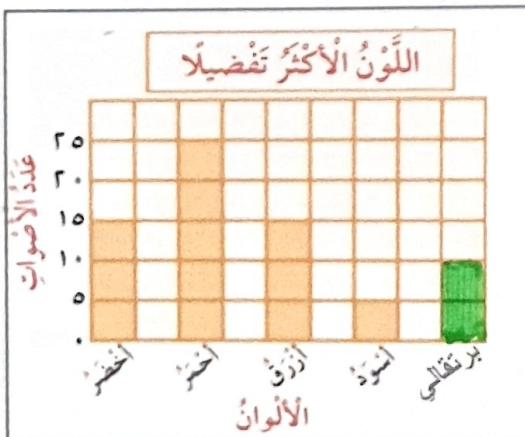
المكان	علامات العد	العدد
المدينة الترفيهية	///	٣
المركز العلمي	///	٥
أبراج الكويت	///	٧
حديقة الحيوانات	//// //	١٤
المتحف الوطني	/	١

كم عدد المتعلمين الذين يفضلون زيارة أبراج الكويت؟ **٧ زائر**

بكم يزيد عدد الذين يفضلون حديقة الحيوانات عن الذين يفضلون زيارة المركز العلمي؟ **٩ زائر** $14 - 5 = 9$

كم عدد المتعلمين الذين يفضلون زيارة أبراج الكويت والمدينة الترفيهية معا؟ **١٠ زائر** $7 + 3 = 10$

التمثيل البياني الذي أمامك يوضح الألوان الأكثر تفضيلاً لدى المتعلمين
أجب عن الأسئلة التالية :



ما هو اللون الأقل تفضيلاً؟ **الأسود**

كم عدد المتعلمين الذين يفضلون اللون الأحمر والأزرق معا؟ **٣٥** $20 + 15 = 35$

إذا كان عدد المتعلمين الذين يفضلون اللون البرتقالي ١٠ لون ما يدل ما يدل على ذلك؟

إعداد المعلمة : إيمان علي



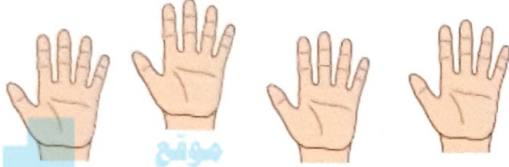
أوراق عمل الاختبار التحصيلي الأول

الصف الثالث الابتدائي



H.O.


اكتب عبارة الضرب المناسبة




20 = 5 × 4



6 = 3 × 2



8 = 4 × 2



18 = 3 × 6



6 = 2 × 3



15 = 5 × 3

أكمل


10 = 5 × 2
ضعف العدد 5

6 = 3 × 2
ضعف العدد 3

16 = 8 × 2
ضعف العدد 8

14 = 7 × 2
ضعف العدد 7

إعداد المعلمة : إيمان علي



H.I.



أوراق عمل الاختبار التحصيلي الأول



الصف الثالث الابتدائي



أكمل

أضرب في ٣

١٤	٤
١٥	٥
١٨	٦
٢١	٧

مُخرَجاتٌ مُدخِلاتٌ

أضرب في ٥

٢٠	٤
١٥	٣
٢٥	٥
٤٥	٩

مُخرَجاتٌ مُدخِلاتٌ

أكمل

مضاعفات العدد ٢ أحادها ٠ أو ٢ أو ٤ أو ٦ أو ٨



مضاعفات العدد ٥ أحادها ٠ أو ٥



مضاعفات كلا العددين ٢ و ٥ معا أحادها ٠



حوظ الإجابة الصحيحة

من مضاعفات العدد ٢



٧٣

١٥

١٢

من مضاعفات ٥، ٢ معا



١٠

١٤

٢٥

إعداد المعلمة : إيمان على





H.O.

أوراق عمل (الاختبار التحصيلي الأول)
الصف الثالث الابتدائي

أوجد ناتج الضرب



$$\underline{\quad\quad} = 8 \times 3$$



$$\underline{\quad\quad} = 10 \times 1$$



$$\underline{\quad\quad} = 2 \times 5$$



$$\underline{\quad\quad} = 1 \times 7$$



$$\underline{\quad\quad} = 0 \times 12$$



$$\underline{57} = 9 \times 3$$



$$\begin{array}{r} 8 \\ 5 \times \\ \hline \end{array}$$



$$\begin{array}{r} 6 \\ 2 \times \\ \hline \end{array}$$



$$\begin{array}{r} 4 \\ 3 \times \\ \hline \end{array}$$



$$\begin{array}{r} 3 \\ 5 \times \\ \hline \end{array}$$



$$\begin{array}{r} 6 \\ 3 \times \\ \hline \end{array}$$



$$\begin{array}{r} 9 \\ \cdot \times \\ \hline \end{array}$$



مبروك يا بطل لقد حصلت على النجمة الذهبية

إعداد المعلمة : إيمان علي

